



2024 北京海淀高二（上）期末

历史

学校_____ 班级_____ 姓名_____

考 生 须 知	<p>1. 本试卷共 8 页，共两部分，27 道小题。满分 100 分。考试时间 90 分钟。</p> <p>2. 在试卷和答题纸上准确填写学校名称、班级名称、姓名。</p> <p>3. 答案一律填涂或书写在答题纸上，在试卷上作答无效。</p> <p>4. 在答题纸上，选择题用 2B 铅笔作答，其余题用黑色字迹签字笔作答。</p> <p>5. 考试结束，请将本试卷和答题纸一并交回。</p>
------------------	--

第一部分

本部分共 22 题，每题 2 分，共 44 分。每题列出的四个选项中，选出最符合题目要求的一项。

1. 考古人员在内蒙兴隆洼遗址清理出距今 8000 多年前的 170 余座半地穴式房址，这些房址排布均匀，遗址外围以围壕环绕。考古人员在遗址内筛选出 1500 多粒碳化粟和黍的种子，还发现了许多石铲、石磨盘、石磨棒、陶器等器物。据此可知当时（ ）

- A. 原始人群采集狩猎迁徙不定
- B. 聚落之间军事冲突频繁
- C. 居民已定居并从事农业生产
- D. 阶级分化贫富差别明显

2. 岳麓书院藏秦简《尉卒律》记载：“里自卅户以上置典、老各一人。不盈卅户以下，便利，令与其旁里共典、老”。岳麓秦简也记“一里过百（户）而可隔垣益为门者，分以为里。”由此可知秦朝（ ）

- ①县以下官员由皇帝任命
- ②用法律方式规范基层治理
- ③地方已实现了基层自治
- ④对普通民众实行有效管理

- A. ①②
- B. ②③
- C. ①③
- D. ②④

3. 公元 313-314 年间，一位驻扎在甘肃的粟特人那耐·万达克向家乡撒马尔罕寄了一封信（部分内容见下），该信件可用于研究（ ）

最后一位皇帝从洛阳逃走。由于饥荒，城市和宫廷遭到火灾……这些所谓的匈奴人，昨天还受制于君王！

从敦煌一直到金城（兰州）……亚麻布销路很好。

居住在从金城到敦煌地区的我们，没有亲属，年老而且面临死亡。

- ①西晋末期的政治局势
- ②丝绸之路的商业活动
- ③江南地区的经济开发
- ④粟特商人群体的境遇

- A. ①②③
- B. ①②④
- C. ①③④
- D. ②③④

4. 隋朝建立后，命州县官“大索貌阅”，将人口体貌与户籍登记相比较，重新核定户籍，严防不实，然后



“输籍定样”，登记各户具体情况，确定各户等级纳税标准。以上举措（ ）

- A. 有利于增加财政收入，加强中央集权 B. 查清隐匿人口，消除社会矛盾
C. 将丁银平推到田赋中，稳定社会秩序 D. 打击豪强地主，促进人口流动

5. 1998年，考古人员在印尼海域发现的唐朝时期古沉船“黑石号”中载有约5万件长沙窑瓷器。在“黑石号”沉船出水文物中，有一件题为“湖南道草市石渚孟子有明樊家记”的长沙窑瓷碗（见下图）。以上考古成果说明唐朝（ ）



- ①海上对外贸易已经十分发达 ②石渚草市的瓷器已远销海外
③已注重宣传商品的品牌价值 ④长沙窑瓷器只面向国内市场
A. ①②③ B. ①②④ C. ①③④ D. ②③④

6. 乌青镇地处江南水乡，与京杭大运河、太湖相通，“四方宾客及商贾，凡有事于浙者，率取径道，舳舻相望”。明成化、弘治年间，该镇“里人贾鬻他方，四时往来不绝”。康熙时乌青镇所产蚕丝，远销国内外，“财赋所出甲于一郡”。乌青镇的发展（ ）

- ①得益于发达的水运交通 ②体现了江南工商业市镇的繁盛
③增加了政府的财政收入 ④表明朝廷已放弃重农抑商政策
A. ①②③ B. ①②④ C. ①③④ D. ②③④

7. 下列材料与结论对应正确的是（ ）

序号	材料	结论
①	今台阁选举，涂塞耳目，九品访人，惟问中正。故据上品者，非公侯之子，则当涂之弟也	魏晋南北朝门阀士族势力强大
②	隋唐以前中央只任命郡县的主要官员，属官则由长官自己选用，隋唐以后，九品以上官员均由中央任命	地方割据威胁中央集权
③	明朝司法特别重视实践中“例”，《问刑条例》多次修订，最终采取“律为正文、例为附注”的形式	明朝法律体现了律例合编的特点
④	清朝乡约宣讲内容多为康熙“圣谕十六条”、雍正《圣谕广训》，并常常援引《大清律例》	乡约为政府利用、与法律合流

- A. ①②③ B. ①②④ C. ①③④ D. ②③④

8. 中国古代王朝十分重视监察官员的作风和考核官员的业绩。若为此观点提供证据，可以选择的史实有（ ）

- ①秦汉推行上计制度 ②隋唐以御史台为监察机构



③宋朝取士不问家世

④明朝设立了督察院和六科

A. ①②③

B. ①②④

C. ①③④

D. ②③④

9. 当铺在魏晋南北朝时期兴起，唐朝时期取得了合法地位。清朝时期，钱庄大量出现，庄票普遍流行。从当铺到钱庄的发展表明（ ）

A. 社会救助机构不断完善

B. 信贷业务不断发展

C. 商业契约意识开始形成

D. 对外贸易逐渐繁盛

10. 若查找中国古代王朝优抚救济弱势群体的历史材料，应选择（ ）

A. 四境之内，丈夫、女好皆有名于上，生者著，死者削

B. 凡丁，岁役二旬。若不役，则收其庸，每日三尺

C. 凡鳏寡孤独，每月官给粮米三斗，每岁给帛布一疋（音 pǐ，量词），务在存恤

D. 凡甲内有盗窃、邪教、赌博聚会等事，及面生可疑、形迹诡秘之徒，责令专司查报

11. 1870 年清政府设立南洋通商大臣之后，又设立北洋大臣，管理直隶、山东、奉天三省通商、洋务，办理有关外交、海防、关税及官办军事工业等事宜。以上做法（ ）

A. 表明清朝丧失了关税自主权

B. 促进了洋务运动的开展

C. 为维新变法奠定了阶级基础

D. 扫除了民主革命的障碍

12. “中华苏维埃政权所建设的是工人和农民的民主专政的国家。苏维埃政权是属于工人、农民、红军兵士及一切劳苦民众的。在苏维埃政权下，所有工人、农民、红军兵士及一切劳苦民众都有权选派代表掌握政权的管理”。以上规定（ ）

A. 调动了人民群众对北伐战争的支持

B. 说明了红色革命根据地政权的性质

C. 支援了国民党统治区抗日反蒋运动

D. 鼓舞了中国社会各阶层的抗日热情

13. 1949 年 8 月至 12 月，毛泽东以中央或个人名义发出多份电报，督促各地尽快召开各界人民代表会议并向中央报告开会情况；他还批复和批转不少地区关于召开各界人民代表会议的报告，推广开会经验。以上做法（ ）

A. 推动了新型人民民主政权的建立与发展

B. 保证了人民解放战争战略反攻取得胜利

C. 奠定了建立新型人民共和国的理论基础

D. 标志着全国人民代表大会制度正式确立

14. 1951 年，政务院颁布《中华人民共和国劳动保险条例》，1952 年 11 月底，2860 家企业、320 万职工享受到条例所规定的保险待遇。到 1956 年，享受劳保条例的职工合计 2300 多万，占国营、公私合营、私营企业企业职工总数的 94%。以上做法（ ）

A. 维护了企业中广大普通劳动者的利益

B. 结束了多年物价连续上涨的局面

C. 标志着对生产资料私有制改造的完成



D. 促进了经济体制改革顺利地展开

15. 2015年12月，中国发起的亚洲基础设施投资银行正式成立，“银行的成立将有助于从亚洲域内及域外动员更多的亟需资金，缓解亚洲经济体面临的融资瓶颈，与现有多边开发银行形成互补，推进亚洲实现持续稳定增长”。亚洲基础设施投资银行的成立与发展（ ）

- ①表明中国正在以自己的发展惠及世界
- ②推动了区域互联互通和区域一体化发展
- ③确立了更具活力和永久性的多边国际贸易体制
- ④促进了亚洲经济发展为 global 经济发展提供新动力

A. ①②③ B. ②③④ C. ①②④ D. ①③④

16. 汉谟拉比法典的下列法律条文表明（ ）

第七条 自由民从自由民之子或自由民之奴隶买得或为之保管银或金，或奴隶，或女奴，或牛，或羊，或驴，或不不论何物，而无证人与契约者，是为窃贼，应处死。

- ①法典维护奴隶制度 ②自由民与奴隶身份日趋平等
- ③法典保护私有财产 ④古巴比伦人已具有契约意识

A. ①②③ B. ①②④ C. ①③④ D. ②③④

17. 1490年，法王查理八世颁布了《穆兰法令》，开始限制拉丁语的使用，强制要求地方司法审讯和诉讼笔录必须使用法语或地方语言（俗语）。1510年，法王路易十二颁布法令，要求地方所有司法文件都要使用俗语，禁用拉丁语。1539年8月，法王弗朗索瓦一世规定法语正式取代拉丁语成为官方语言。以上法王的做法（ ）

- A. 推动了封君封臣制度的形成 B. 导致了马丁·路德的宗教改革
- C. 拉开了欧洲文艺复兴的序幕 D. 增强了法兰西人民的民族意识

18. 对下列图画出现的共同原因，解释合理的是（ ）

16世纪德国学者绘制的番茄植株和果实图	清朝吴其濬绘制的玉米图	16世纪英国人绘制的马铃薯图

- A. 原产古代亚欧大陆农作物的传播交流
- B. 丝绸之路开辟带来农作物传播与交流
- C. 原产非洲大陆的农作物的传播与交流
- D. 新航路开辟后原产美洲农作物的外传



19. 随着对外扩张，拿破仑曾在荷兰、意大利、西班牙、葡萄牙等国家和地区强制推行《法国民法典》。1815年拿破仑战争失败后，这些欧洲国家发现消除《法国民法典》的影响是不可能完成的任务，于是只好沿用。这说明（ ）

- ①拿破仑战争沉重打击了欧洲的封建势力
- ②欧洲各国对拿破仑战争的危害缺乏认识
- ③拿破仑战争传播了《法国民法典》的理念
- ④拿破仑战争引发了当地民众的强烈反抗





A. ①② B. ③④ C. ①③ D. ②④

20. 1869年苏伊士运河通航，英法等国争夺苏伊士运河的控制权，埃及人民为收回苏伊士运河不断进行斗争。1914年巴拿马运河通航，美国长期控制巴拿马运河地区，巴拿马人民为收回主权持续抗争。苏伊士运河和巴拿马运河的开通（ ）

- ①动摇了以欧洲为中心的世界格局
- ②损害了埃及、巴拿马的国家主权
- ③缩短了洲际之间远洋航行的距离
- ④加强了世界各地区间的经济联系

A. ①②③ B. ①②④ C. ①③④ D. ②③④

21. 下列生产方式按其出现先后顺序排列正确的是（ ）

			
①机器旁劳作的工人	②欧洲作坊里的印刷工人	③智能无人车间	④流水线上的工人

A. ①②③④ B. ②①④③ C. ③②①④ D. ④①②③

22. 20世纪70年代，联合国教科文组织提出“生态城市”概念，其特征有生态性、和谐性、理想性、可持续性。2007年欧盟《欧盟智慧城市报告》提出基于云计算、社交网络等信息技术工具，让城市更加智能、科技、环保、低碳。2012年6月，中国有320多个城市借助物联网、传感网等信息技术工具积极开展“智慧城市”建设。这说明（ ）

- A. 世界各大洲城市化发展十分均衡
- B. 欧盟提出的城市发展理念凸显地域特色
- C. 世界城市化以教科文组织为主导
- D. 第三次科技革命影响着城市的发展方向

第二部分

本部分共5题，共56分。

23. (12分) 民族交融·民族认同

材料一 在古代历史中，“中国”一词常指居于中原地区的汉族政权，往往成为长城以南中原王朝政权的代称，如汉司马迁“自三代以来，匈奴常为中国患害”。辽宋夏金政权并立时期，随着辽金等政权的发展，这些少数民族统治者多以“中国之主”自居，辽金王朝内部的汉族知识分子多以本朝为“中国”，如



辽代的刘辉就在其奏折中以辽为“中国”，称“西边诸蕃为患，士卒远戍，中国之民疲于飞挽”。金代的统治者更是频频以“中国”自居。金海陵王时，太后就曾以“兴兵涉江、淮伐宋，疲弊中国”为由劝谏海陵王停止征战。辽金王朝的统治者自称“中国”，将传统意义上的“中国”扩大到辽金统治之下的东北和西北地区，汉族与契丹、女真、蒙古等诸多民族生活在一起。“中国”一词成为少数民族与汉族共有的政治符号，成为统一多民族国家的代名词。

——摘编自郑炜、崔明德《辽金时期民族关系思想的发展与中华民族多元一体格局的形成》

(1) 与前代相比，辽金时期“中国”一词的内涵发生了怎样变化？结合所学知识分析这种变化产生的影响。(6分)

材料二

<p>①(北魏孝文)帝雅好读书，手不释卷。《五经》之义，览之便讲，学不师受，探其精奥。善谈《左》《老》，尤精释义。诗赋铭颂，任兴而作。有大文笔，马上口授，及其成也，不改一字。</p> <p style="text-align: right;">——摘自《魏书·高祖纪》</p>
<p>②(唐太宗认为)自古皆贵中华，贱夷、狄，朕独爱之如一，故其种落皆依朕如父母。</p> <p style="text-align: right;">——摘自《资治通鉴》</p>
<p>③康熙二十二年(1683年)在对喀尔喀土谢图汗、车臣汗的诏书中称：“朕视天下为一体，率土之人，靡不抚恤。”1685年，在对议政王大臣的诏书中称：“今海内一统，寰宇宁谧，满汉人民，俱同一体。”1704年，在对大学士的上谕中称：“朕于满洲、蒙古、汉军、汉人，视同一体。”“顾念长治久安，务在因俗宜民。”</p> <p style="text-align: right;">——摘自《清实录·圣祖仁皇帝实录》</p>

(2) 从上表所列三位历史人物中任选其一，依据材料二并结合所学的具体史实，围绕“民族认同与中华民族共同体”这一主题说明他作出的贡献。(6分)

24. (14分) 法制建设

材料一 20世纪初，清王朝在新政上谕中说“通商惠工，为古今经国之要政。自积习相沿，视工商为末务，国计民生，日益贫弱，未始不因乎此，亟应变通尽利，加意讲求”“近来地利日兴，商务日广，如矿律路律、商律等类，皆应妥议专条”。

参照各国通例，1903年《重订铁路简明章程》24条颁行，1904年《商标注册暂拟章程》《商会简明章程》《矿务章程》《钦定大清商律》颁行。《钦定大清商律》分为《商人通例》《公司律》两部分，《商人通例》规定了商人、商号、商业帐簿以及妇女经商等，《公司律》则规定了公司的设立、种类、组织、权利义务等。作为中国历史上第一部独立的商法典，《钦定大清商律》颁行后一直沿用到民国初年，直到北京政府颁布新的《商人通例》和《公司律》后才告废止。

——摘编自代巧丽《论晚清经济立法》

(1) 依据材料一并结合所学，阐释晚清时期的经济立法。(6分)

材料二 改革开放后，全国人大经济立法工作走上快车道。继1979年《中华人民共和国中外合资经营企业法》颁布之后，80、90年代经济立法成就(部分)如下：

年代	重要事件
----	------



1981	《中华人民共和国合同法》颁布
1982	《中华人民共和国商标法》颁布
1985	《中华人民共和国涉外经济合同法》颁布
1986	《中华人民共和国外资企业法》颁布
1993	《中华人民共和国公司法》《中华人民共和国产品质量法》《中华人民共和国反不正当竞争法》 《中华人民共和国消费者权益保护法》等颁布
1995	《中华人民共和国担保法》《中华人民共和国票据法》《中华人民共和国保险法》等颁布
1997	《中华人民共和国合伙企业法》颁布
1998	《中华人民共和国证券法》颁布
1999	《中华人民共和国个人独资企业法》颁布

(3) 依据材料分别概括 20 世纪 80、90 年代我国经济立法的特点，结合所学分析这两个阶段经济立法的意义。(8 分)

25. (8 分) 豆选

材料一



版画：《豆选》

说明：作者彦涵，创作于 1948 年，作品描绘了河北省获鹿县大河村用豆子选举村干部的情况。

材料二 当年（1948 年）土改运动时，父亲担任土改工作组组长，组织当地农民选村长，很多农民并不识字，所以就采取投豆子的方法进行选举。在一个大院子里摆了很多桌子，上面放很多碗，老百姓依次通过进行豆选。选举之前，原村干部找到我父亲，说：“走个过场得了，就别选了吧。”父亲说：“这是不可以的，这是你们的权利，你们必须自己选，因为这是一个民主制度的开始。”选举的时候，农民非常认真，他们注重选出代表他们利益的村长，这出乎我父亲意料。有的老人投豆子时怕投错了人，还专门转到这个人前面，看准了之后才投下这个豆子，他们还是真正想选出自己的代表人。所以父亲在这幅画里，不仅刻出了选举的场面，还在背景加了一条标语“中国共产党万岁”。

——版画作者彦涵之子彦东的回忆（2021 年）

指出材料一、材料二的史料类型。依据材料结合所学谈谈版画《豆选》的史料价值。（8 分）

26. (8 分) 人物评价



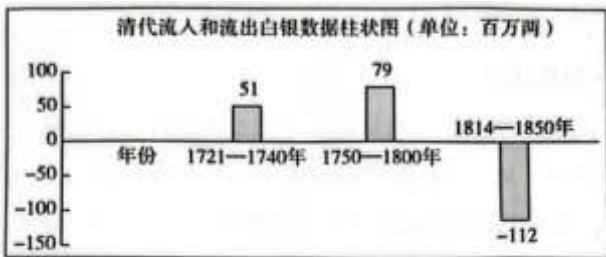
19 世纪人才辈出，选出 19 世纪变化的主要推动者，十分困难。在我看来，卡尔·马克思是影响 19 世纪变革的最重要人物……马克思把工人阶级看作是推动历史前进的重要力量，并促进了一场大规模的工人阶级解放运动，而这场运动主导了 19 世纪下半叶的政治形势。马克思的思想推动了劳动者政治组织的建立，也促进了政府进行社会福利立法以缓和社会矛盾。他的另外一个观点，历史是所有经济力量的总和，很有说服力。我们在社会和经济上都受到与社会本身一样古老的规则制约。这种观点对人们如何看待社会和社会改变的方式产生了重大的影响。

——摘编自伊恩·莫蒂默著《欧罗巴一千年——打破边界的历史》

依据材料结合所学说明卡尔·马克思是影响 19 世纪变革的最重要人物。（8 分）

27.（14 分）白银流动·国际金融中心

材料一



清代流入和流出白银数据柱状图 (单位: 百万两)

来源地	年	数量
日本	1648-1708	38
拉丁美洲经菲律宾	1645-1820	93
拉丁美洲经欧美	1752-1800	75

——依据庞浩等《中国贸易盈余与外汇储备的长期考察：1636-2018》编制

材料二 据载“1820 年以前东印度公司每年以中国输出的棉布都在 20 万匹以上，其中贩运到英国本土的紫花布在 2 万匹左右，当时英国士绅的时髦服装是中国杭绸所制的衬衫，苏州所产紫花布缝制的裤子。”

——摘自黄锡之《从〈盛世滋生图〉看乾隆时期苏州对江南社会经济的影响》

(1) 依据材料一、二并结合所学，分析清代白银流动的变化。（6 分）

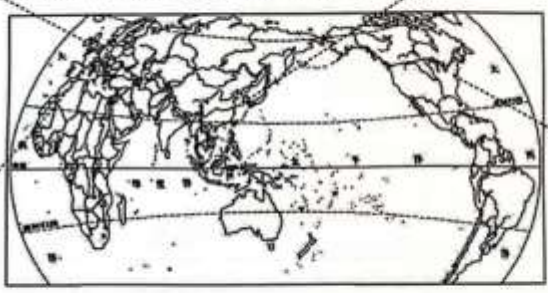
材料三

18 世纪至今国际金融中心的发展演变示意图



①18世纪英国通过殖民战争打败荷兰、法国，拥有了最广大的殖民地。到19世纪上半期，英国既成为世界工厂，也扮演着世界银行家角色。1816年英国率先实行金本位制，其它国家纷纷响应，形成了以英镑为中心的国际金本位制度，伦敦成为世界最大的金融中心。1929年，随着世界经济危机爆发，国际金本位制度崩溃。

③1992年我国提出把上海尽快建成国际经济金融贸易中心。经发展，上海国际金融中心的全球排名指数从2007年的第35名提升到2019年的第3名，仅次于纽约和东京。2022年上海证券市场首发募资金额全球第一，现货黄金交易量、原油期货市场规模均据世界第三。上海正成为有竞争力的国际金融中心



②1700年，荷兰的人均收入超过了位列第二的英国的人均收入50%之多。阿姆斯特丹成为当时世界最大的贸易中心。阿姆斯特丹通过发行外债等方式成为世界金融中心。1800年，有14个国家发行的70种债券在阿姆斯特丹的交易所里交易。拿破仑战争中法国占领阿姆斯特丹之后，阿姆斯特丹的国际金融中心逐步走向衰落。

④1914年纽约作为世界金融中心开始冲击伦敦之时，美国的GDP已是英国的25倍，人均GDP比英国高了20%。1944年布雷顿森林体系确立了以美元为中心的国际货币体系。1945年，美国的GDP是英国的6倍，人均GDP则为2.5倍，纽约取代伦敦成为世界金融的主导者。20世纪70年代，美国政府宣布停止黄金兑换美元，布雷顿森林体系瓦解。

- (2) 阅读材料三，将上述国际金融中心按形成时间的先后顺序排序。(1分，只写序号即可)
- (3) 任选两个年代相近的国际金融中心，依据材料结合所学知识评述其演变。(7分)



参考答案

第一部分

本部分共 22 题，每题 2 分，共 44 分。

题号	1	2	3	4	5	6	7	8	9	10	11
答案	C	D	B	A	A	A	C	B	B	C	B
题号	12	13	14	15	16	17	18	19	20	21	22
答案	B	A	A	C	C	D	D	C	D	B	D

第二部分

本部分共 5 题，共 56 分。

23. (12 分) (1) (6 分) 变化：辽金时期，“中国”一词不再仅仅指位于宋朝等汉族政权，辽金等少数民族政权也以“中国”自居，“中国”一词的地域空间较以前有所扩大，中国已成为统一多民族国家的代名词。(2 分)

影响：稳定了辽金的统治秩序，促进了各民族之间的经济文化联系，加强了对统一多民族国家的认同，在一定程度上改变了对中国一词的狭隘认识，为元明清时期空前的大一统做了思想准备，也证明了中国的历史是由汉族与少数民族共同创造的。(4 分)

(2) (6 分) ①魏孝文帝虽然是少数民族政治家，但他有深厚的汉文化修养。(2 分) 在其祖母冯太后的支持下实行俸禄制，推行三长制、均田制等，促进了北方社会经济发展。(2 分) 亲政后，又采取迁都洛阳、易服装、改汉姓、说汉话、通婚姻等措施，加快了北方各族人民的交融，为中国统一多民族国家的发展作出了重要贡献。(2 分)

②唐太宗改变了传统的“华夷有别”的观念，实行相对开明的民族政策。(2 分) 唐太宗打败西突厥之后，在其旧地设都督府，任命当地贵族管辖。唐太宗时期在西域设立安西都护府，加强了对西域地区的管辖。(2 分) 北方草原各族共同尊奉唐太宗为天可汗。唐太宗将文成公主吐蕃赞普松赞干布，促进了汉藏的友好关系和经济文化交流。(2 分)

③康熙帝继承了天下一体的传统观念，在民族关系和国家治理上注意到不同地区的民族与文化差异，实行“因俗宜民”的政策。(2 分) 康熙帝对分裂国家的行为，坚决打击，粉碎了蒙古贵族噶尔丹的叛乱。

(1 分) 在台湾设置台湾府，巩固了东南海疆。(1 分) 册封西藏宗教领袖五世班禅为“班禅额尔德尼”，加强了西藏和内地的联系。康熙是统一的多民族国家的捍卫者。(2 分)

24. (14 分) (1) (6 分) 20 世纪初，中国的民族资本主义得到初步发展，列强入侵造成民族危机的加深，社会矛盾激化，为挽救统治危机，清王朝推行新政。(2 分) 晚清立法参照西方的法律体系，制定并颁布了铁路简明章程、商标注册、商律、商会、矿务等一系列法律章程。(2 分) 晚清法律的修订和颁布，改变了传统的重农抑商观念，这些做法虽没有挽救危机，但客观上有利于中国民族主义的进一步发展，为民国以后法律的制定提供了可参考的样本。(2 分)

(2) (8 分) 20 世纪 80 年代我国的经济立法注重为经济体制改革开展商品经济和中外经济合作的提供法律保障。(2 分) 这一阶段的经济立法促进了经济体制改革的开展和对外开放的实施，推动了经济发展。

(2 分)



20 世纪 90 年代我国的经济立法在八十年代立法的基础上立法数量增多、经济立法的范围更加广泛。

(2 分) 这一阶段的经济立法推动了社会主义市场经济的建立与完善, 丰富了中国特色社会主义法律体系的内容。(2 分)

25. (8 分) 史料类型: 材料一为图像史料, 材料二口述史料或文献史料。(2 分)

史料价值: 《豆选》用版画形式反映了解放区人民当家作主的场景, 有利于人们了解解放区土地改革中推行民主政治的生动实践, 加深对人民解放战争的理解和认识;(4 分)《豆选》豆选之所以成为艺术经典, 因为其真实地反映社会现实, 与作者积极投身革命实践的生活积累密切相关。(2 分)

26. (8 分) 马克思之所以是影响 19 世纪变革的重要人物, 是因为马克思创立了科学社会主义理论; 马克思肯定了工人阶级的历史作用, 推动了国际共产主义运动的发展; 马克思主义的理论也影响了资本主义政府的福利改革; 马克思主义的唯物史观及分析问题的方法改变了人们看待社会和社会变革的方式。(8 分)

27. (14 分) (1) (6 分) 参考答案略

角度 1: 可结合清朝前期商品经济发展的角度分析白银大量流入中国的原因及对中国和世界所产生影响。(2 分); 角度 2: 可结合清朝前期统治危机及世界历史的发展分析大量白银流出中国的原因及所产生的影响。(2 分); 角度 3: 可结合世界历史新航路开辟后殖民扩张相关史实分析白银因何从拉丁美洲经菲律宾地区流向中国。(2 分); 角度 4: 可结合新航路开辟后欧美资本主义经济发展相关史实分析白银因何从拉丁美洲经欧美流向中国。(2 分)

4 个角度选 3 个角度分析即可满分, 其它角度言之成理亦可得分。

(2) (1 分) 顺序: ②——①——④——③

(3) (7 分) 从②到①的演变: 17 世纪以来荷兰利用欧洲贸易中心转移的有利时机和海上交通优势, 积极参与对外贸易和殖民扩张, 积累大量财富, 阿姆斯特丹通过建立交易所和银行等方式大量发行外债, 吸引了大量资金, 形成了世界金融中心。英国为维护自己经济利益通过战争打败荷兰, 殖民扩张也使英国拥有了世界最广大的殖民地, 工业革命提升了英国的生产能力, 大量财富流向英国为金本位制度的实施奠定了基础。因拿破仑战争的影响, 阿姆斯特丹逐渐走向衰落, 伦敦成为新金融中心。(6 分)

从②到①的演变是世界经济发展不平衡的结果。以上变化说明国际金融中心的演变是建立在国家综合实力特别是经济实力基础之上的。(1 分)

从①到④的演变: 第一次世界大战和战后殖民地民族解放运动削弱了英国的世界地位, 第二次工业革命中抢的先机的美国经济迅速发展, 世界经济危机造成国际金本位制度瓦解后, 世界金融秩序动荡。罗斯福新政缓解了美国经济危机, 美国远离两次世界大战的主战场并在战争中赢得主动, 经济实力超过英国。以美元为中心的布雷顿森林体系取代了国际金本位制度, 布雷顿森林体系的建立, 确立了美元作为国际货币地位, 稳定了当时的国际货币体系, 巩固了美国的资本主义世界的霸主地位, 也促进了世界经济的发展。(6 分)

从①到④的演变是世界经济发展不平衡的结果。以上变化说明国际金融中心的演变是建立在国家综合实力特别是经济实力基础之上的。(1 分)

从④到③的演变: 二战后期重建金融秩序成为各国的共同愿望, 1944 年 7 月在美国新罕布什尔州的布雷顿森林召开有 44 国参加的国际货币金融会议, 建立起一个以美元为中心的国际货币体系。战后西欧



和日本经济的快速发展提升了欧洲和日本的经济实力，欧元、日元开始挑战美元霸权，随着自身经济实力的相对下降，美国为维护自己的利益不得不宣布放弃美元双挂钩的政策，美元独大的布雷顿森林体系被国际货币多元化的牙买加体系取代；改革开放后，中国经济迅速发展综合国力提升，中国加入世界贸易组织后，对外经济合作步伐加快，人民币地位有所提升，也推动了国际货币多元化的发展，上海的发展、浦东的开放与开发提升了上海的经济实力，为上海成为国际金融中心提供了条件。（6分）

从④到③的演变是世界经济发展不平衡的结果。以上变化说明国际金融中心的演变是建立在国家综合实力特别是经济实力基础之上的。（1分）