

2018 北京大兴区初三（上）期末

地 理



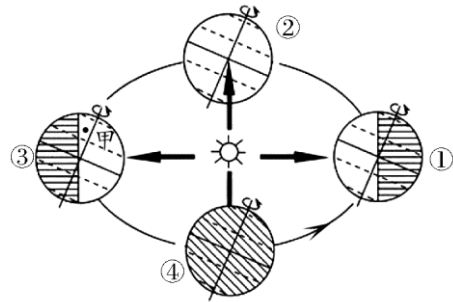
第一部分 选择题（共 40 分）

本部分共 40 小题，每小题 1 分，共 40 分。在每小题列出的四个选项中，选出最符合 题目要求的一项。

“日北至，日长之至，日影短至，故曰夏至。日南至，日短之至，日影长至”（选自

《恪遵宪度抄本》）。结合图 1 “地球公转示意图”完成 1—3 题。

- “日北至”时，太阳光线直射 A. 北极圈 B. 南极圈
C. 北回归线 D. 南回归线
- 北半球“日短之至”时，地球公转到图 1 中的
A. ① B. ② C. ③ D. ④
- 图 1 中甲地
A. 昼长夜短 B. 夜幕沉沉
C. 日影长至 D. 极昼之时



小红与家人暑期一起游览了位于济南的千佛山。读图 2 “千佛山公园地形简图”，完成 4—6 题。

- 由图推断千佛山最高峰海拔是
A. 270 米 B. 285 米 C. 330 米 D. 350 米
- 游览途中，小红站在某景点，对眼前景象描述到“向上望去，山势峭拔，山石险峻。”她所在景点可能是
A. 万佛洞 B. 三清观 C. 慈云坊 D. 兴国禅寺
- 如果小红一家想沿着溪流游览，最佳的路线是
A. ① B. ② C. ③ D. ④

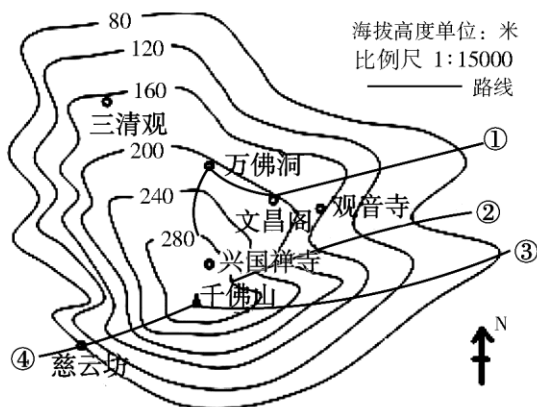


图 2

结合资料，完成 7—8 题。

资料：予奉使河北，遵太行而北，山崖之间往往衔螺蚌壳及石子如鸟卵者，横亘石壁 如带。此乃昔之海滨，今东距海已近千里。今关陕以西，水行地中，不减百余尺，其泥岁 东流，皆为大陆之土，此理必然。（选自《沈括·梦溪笔谈·杂志一》）

- 该资料说明地球表面



- A. 海洋占 71%，陆地占 29%
- B. 海洋连在一起，陆地被海洋分割
- C. 海陆处在不断运动和变化之中
- D. 海洋面积大于陆地面积

8. 下列地形区的形成，可以用“关、陕以西，水行地中不减百余尺，其泥岁东流，皆为大陆之土”解释的是
- A. 华北平原 B. 黄土高原 C. 青藏高原 D. 长江中下游平原

2017 年第 14 届国际地理奥林匹克竞赛在欧洲东部的塞尔维亚贝尔格莱德举行，中国合肥一中选手获得银牌第一名。完成 9—11 题。

9. 合肥一中所在的省份是
- A. 京 B. 皖 C. 青 D. 赣
10. 本次赛事印刷材料最有可能使用的语言是
- A. 汉语 B. 日语 C. 英语 D. 阿拉伯语
11. 比赛期间，选手见到的当地居民主要是
- A. 白色人种 B. 黑色人种 C. 黄色人种 D. 印第安人

2017 年 10 月 8 日至 10 日，北京城区普降大雨，延庆松山景区、门头沟灵山、房山百花山等高海拔山区出现降雪。结合图 3 “某网友朋友圈截图”，完成 12—15 题。

12. 2017 年 10 月 8 日至 10 日期间，延庆松山景区的天气预报中，最有可能出现的天气符号是



13. 北京市城区普降大雨，而西北部的松山景区出现降雪，造成这种差异的主要因素是
- A. 纬度位置 B. 海陆分布 C. 地形 D. 植被

14. 这期间，北京可见的景观是
- A. 早莺争暖 B. 菊有黄华 C. 荷叶田田 D. 千里冰封

15. 发朋友圈时该网友可能在
- A. 福州 B. 拉萨 C. 石家庄 D. 乌鲁木齐



亚洲地域十分辽阔，大河众多。读图 4 “亚洲水系”完成 16—18 图 3 题。

16. 关于亚洲河流，下列叙述正确的是
- A. 多发源于大洲中部，呈放射状流向四周
 - B. 多发源于大洲内部，因为内陆降水多
 - C. 亚洲大河皆向东流，最终注入太平洋
 - D. 亚洲大河支流稀少，因为亚洲气候干旱

17. 陈毅元帅在《赠缅甸友人》一诗中写到“山山皆北向，条条南流水”。下列河流的流向符合该描述的是

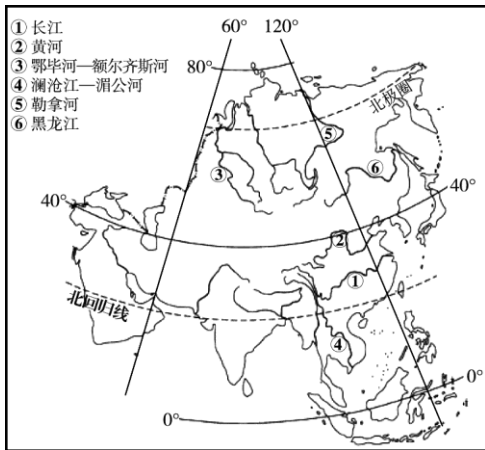
- A. ① B. ⑤ C. ⑥ D. ④

18. 下列叙述，最能体现亚洲地域辽阔的是

- A. 有世界上海拔最高的高原 B. 跨经度约 165° ，跨纬度约 92° C. 亚洲季风气候显著 D. 四周均



被大洋包围



读图 5 “全国油菜花开花时间等值线图”，

完成 19—21 题。

19. 小明的父母春节期间想带他去看油菜花，他们应该选择的省级行政区是

- A. 吉林省 B. 河南省
- C. 青海省 D. 广东省

20. 江西婺源油菜花名闻遐迩，去欣赏油菜花时 我们应该

- A. 走入油菜花田深处拍照
- B. 折下油菜花做帽子
- C. 在油菜花田里搭帐篷
- D. 沿景区规定路线行走

21. 塔里木盆地边缘地区能够种植油菜花，主要的影响因素是

- A. 水源 B. 地形 C. 纬度 D. 土壤

读图 6，完成 22—23 题。

22. 关于图 6 中的漫画内容，下列说法正确的是

- A. 苹果属于热带水果 B. 橘子属于亚热带水果
- C. 橘子在我国南北方广泛种植 D. 苹果更适合生长在南方地区

23. 关于秦岭—淮河一线，叙述正确的是

- ①是我国湿润地区和半湿润地区的分界线
 - ②与我国 800 毫米等降水量线东段基本一致
 - ③与我国 7 月 24℃等温线东段基本一致
 - ④是我国亚热带季风气候和温带季风气候的分界线
- A. ①②③ B. ②③④ C. ①②④ D. ①③④

读图 7 “某地区人口年龄结构示意图”，图中三条曲线分别表示 1930 年、1970 年、2010 年的人口年龄结构状况。完成 24—25 题。


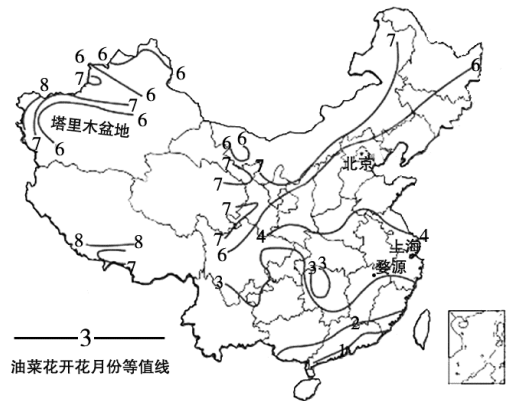


图 6

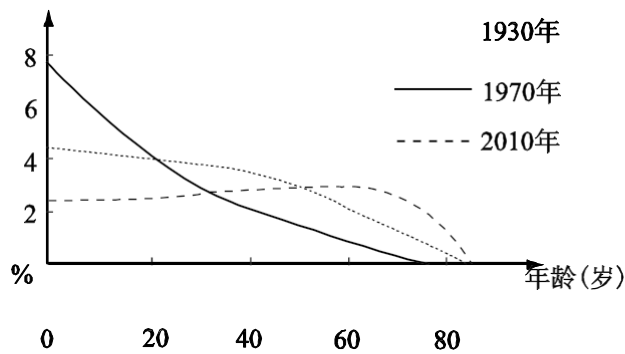


图 7

24. 该地区人口变化趋势为

- A. 年轻劳动力过剩
- B. 人口老龄化加剧
- C. 自然增长率上升
- D. 人口出生率提高

25. 该地区人口变化带来的主要问题是

- A. 城市交通拥堵严重
- B. 城市化发展速度过慢
- C. 社会保障负担加重
- D. 环境承载力受到挑战

内蒙古自治区地势较高、平均海拔约 1000 米。结合图 8“内蒙古自治区”，完成 26—27 题。

26. 内蒙古自治区自东向西的景观分别是

- A. 森林—荒漠—草原
- B. 草原—森林—荒漠
- C. 荒漠—草原—森林
- D. 森林—草原—荒漠

27. 影响该地区东西景观差异的主要因素是

- A. 纬度
- B. 降水
- C. 气温
- D. 水源

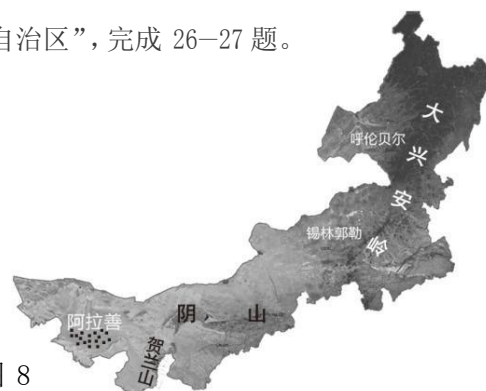


图 8

阅读资料和图 9“北京城建城与发展的地理条件”，完成 28—30 题。

资料 1: 三千年前, 在北京的众多原始居民点中, 北京出现了第一个古城——蓟。

资料 2: 中国共产党第十九次全国代表大会(简称党的十九大)于 2017 年 10 月 18 日至 10 月 24 日在北京召开。

28. 下列关于北京市地形特征说法正确的是

- A. 以山地、丘陵为主
- B. 以平原、盆地为主
- C. 由西北向东南倾斜
- D. 有东北向西南倾斜

29. 三千年前蓟城建城与发展的有利条件是

- ①地势平坦
 - ②交通便利
 - ③森林茂密
 - ④地处热带
 - ⑤水源充足
- A. ①②③
 - B. ②③④
 - C. ①②⑤
 - D. ③④⑤

30. 资料 2 说明北京是我国的

- A. 交通中心
- B. 政治中心
- C. 工业中心
- D. 文化中心

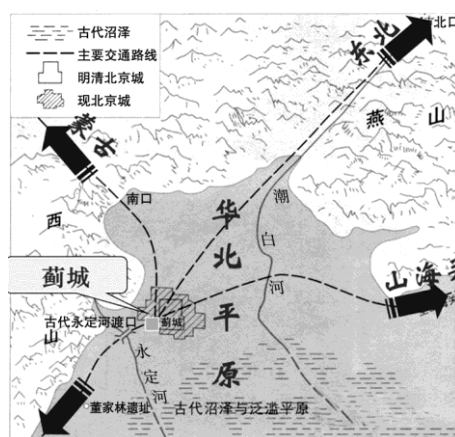


图 9

阅读资料和图 10“中巴铁路模拟路线图”完成 31—33 题。

资料: 2016 年 11 月 13 日, 巴基斯坦中资港口瓜达尔港正式开航, 瓜达尔港作为中巴经济走廊巴方起点以及丝绸之路经济带和 21 世纪海上丝绸之路的交会点既关乎“一带一路”建设全局, 也承载了当地人们对发展的期



盼。

31. 中国通过瓜达尔港从波斯湾沿岸国家进口的资源主要是

- A. 铁矿石
- B. 煤炭
- C. 木材
- D. 石油

32. 目前, 中国从瓜达尔港进口资源主要的运输方式是

- A. 铁路运输
- B. 公路运输
- C. 海洋运输
- D. 航空运输

33. 中国与巴基斯坦目前正在讨论修建连接新疆和巴基斯坦的“中巴铁路”, 修建该铁路 的意义是

- ①有利于加强中国同西亚的联系与合作
- ②为中国从东南亚进口资源提供便利条件
- ③有利于保障我国的能源战略安全
- ④促进了中国与巴基斯坦的能源合作

- A. ①②③
- B. ②③④
- C. ①②④
- D. ①③④

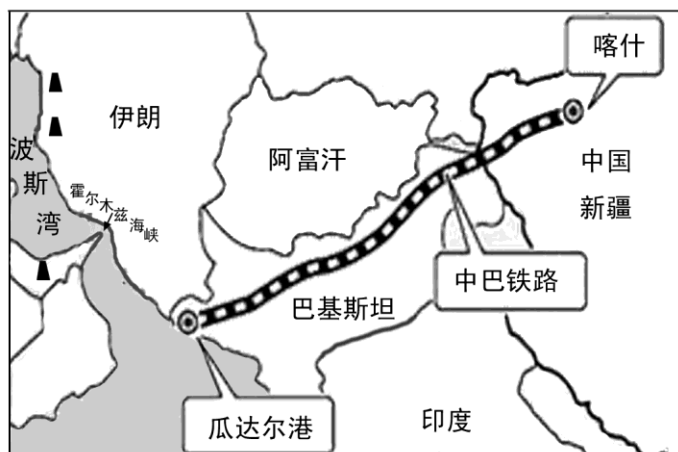


图 10

2016 年 7 月 25 日晚, 九寨沟县普降暴雨, 其中双河乡甘沟村发生特大泥石流, 造成 8 户农房被毁, 双河乡 190 余人紧急疏散。结合资料和图 11, 完成 34—35 题。

34. 此次泥石流灾害属于

- A. 气象灾害
- B. 地质灾害
- C. 生化灾害
- D. 海洋灾害

35. 面对泥石流灾害, 下列做法**错误**的是

- A. 朝与泥石流垂直方向跑
- B. 躲在结实的障碍物下
- C. 抱住身边的树木等固定物体
- D. 立即返回屋里抢救物资



图 11

图 12 为德国 Leaf Republic (树叶共和国) 公司研发的树叶餐盘, 用来制作餐盘的叶

子, 一年可以再生三次, 而且用完后可以随意丢弃在自然环境中, 因为只需 28 天它就能完全降解, 变成其他植物的肥料, 而普通的塑料盘子则需要将近 730,000 天才能被分解。完 成 36—37 题。

36. 制作餐盘的叶子按属性属于

- A. 生物资源
- B. 矿产资源
- C. 水资源
- D. 气候资源

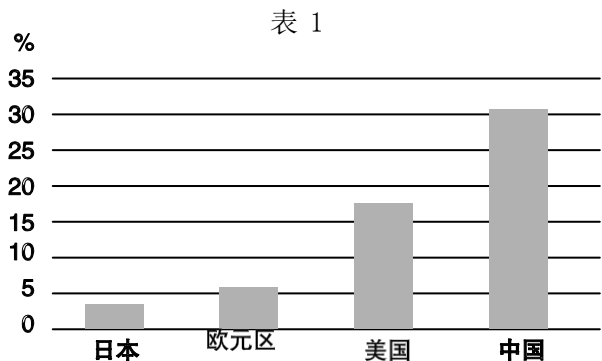
37. 有关树叶餐盘的特点, 下列描述**正确**的是

- ① 降解速度快
 - ② 制作材料可再生
 - ③ 制作材料环保
 - ④ 科技含量低
- A. ①②④
 - B. ①②③
 - C. ②③④
 - D. ①③④



图 12

“砥砺奋进的五年”大型成就展是在北京展览馆举办的我国十八大以来,以习近平同志为核心的党中央团结带领全党全国各族人民取得辉煌成就的大型成就展。结合表 1, 完成 38—39 题。



38. 此次大型成就展集中展示我国前沿科技进展的情况, 下列研究成果不属于高新技术产业的是

- A. 港珠澳大桥 B. 科学实验卫星“墨子号”
C. 载人潜水器“蛟龙号” D. “神威·太湖之光”超级计算机

39. 展馆中展示了表 1 “2012-2016 年主要经济体对世界经济增长的年均贡献率”, 该数据说明

- A. 中国是推动世界经济增长的关键力量 B. 中国的经济超越了美国和欧盟
C. 中国已经成为发达国家 D. 中国的经济水平排在世界第一位

40. 读图 13 “某河历年径流量变化图”(此河以雨水补给为主), 该河流域内的气候类型可能是

- A. 热带沙漠气候
B. 地中海气候
C. 热带雨林气候
D. 热带季风气候

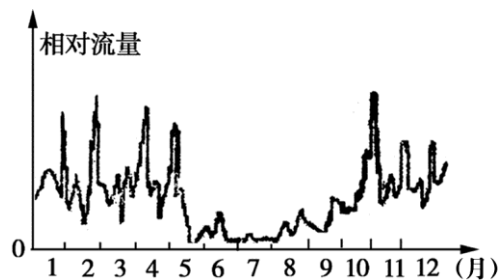


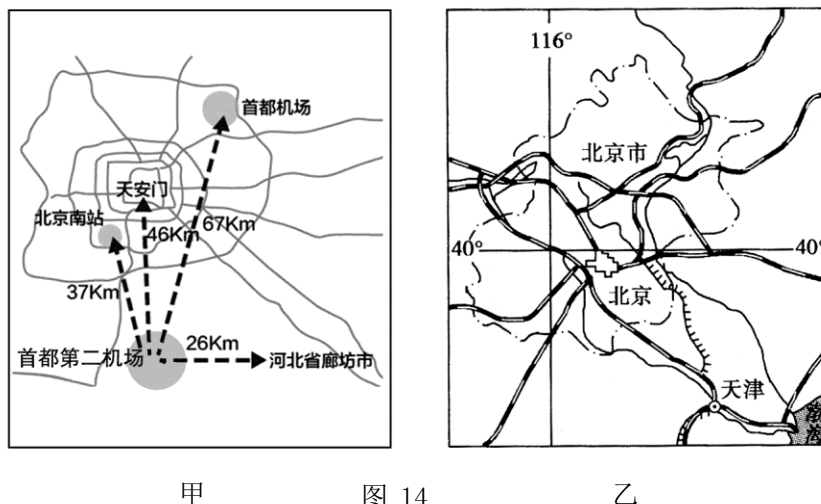
图 13

第二部分 非选择题 (本部分 5 道题, 共 50 分)

41. 根据资料和图 14, 回答下列问题。(本小题共 8 分)

资料: 北京大兴国际机场又称首都第二机场(暂未正式命名)位于永定河北岸, 北京市大兴区榆垓、礼贤和河北省廊坊广阳区之间。





甲 图 14 乙

- (1) 甲图中首都第二机场位于天安门的_____方位判断方向的方法是_____。
- (2) 量得甲图中天安门到首都第二机场的图上直线距离是 2.3 厘米, 该图的的比例尺是_____。甲、乙两图的图幅大小相同, 比例尺较大的是_____。
- (3) 首都第二机场定位为大型国际航空枢纽, 航空运输的主要特点是_____、_____等。
- (4) 请列举两条该机场的建设对当地生产、生活的影响。(2 分)

42. 阅读图 15 “中亚政区”和图 16 “中国疆域”, 回答下列问题。(本小题共 12 分)

2017 年 5 月 14 日至 15 日“一带一路”国际合作高峰论坛在北京举行, 哈萨克斯坦、 菲律宾等 29 个国家元首和政府首脑出席了论坛。

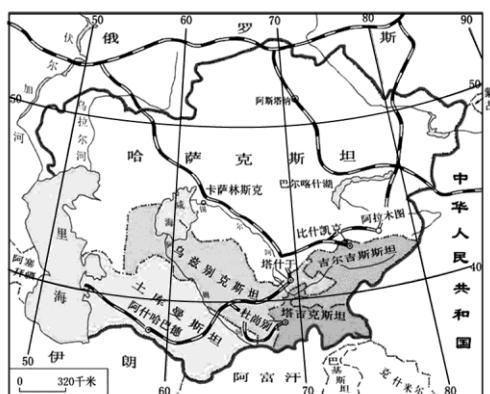


图 15



图 16

- (1) 比较的方法是认识区域差异的重要方法, 请比较中国、哈萨克斯坦和菲律宾的地理位置差异。



国家	中国	哈萨克斯坦	菲律宾
地理位置			
半球位置			北半球、东半球
纬度位置	大部分国土位于北温带， 一小部分国土位于热带		
海陆位置		深居内陆	

(2) 与哈萨克斯坦和菲律宾相比，说明我国地理位置的优越性。(4 分)

(3) 下图中属于哈萨克斯坦宗教建筑的是 _____ (选择填空)



A

B

C

(4) 古代从中国通往中亚的丝绸之路上主要的交通运输工具是骆驼，而今天新丝绸之路上的交通工具主要是_____。

43. 《非洲三万里》是作家毕淑敏乘坐蒸汽机车“非洲之傲”从南非的开普敦一直走到坦桑尼亚的达累斯萨拉姆后写下的旅行心得。读图 17 “非洲气候类型”回答下列问题。(本 小题共 11 分)

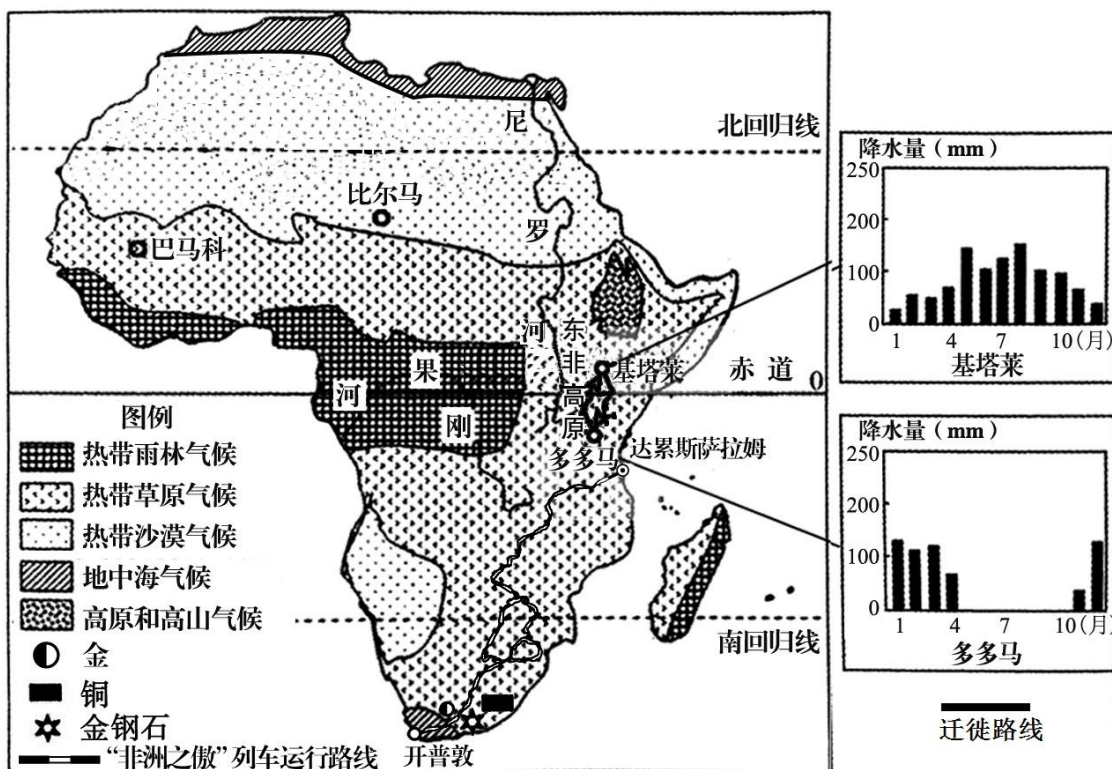


图 17

(1) 开普敦位于_____（南/北）半球，地处_____洋和_____洋的交汇处。

(2) 作者乘坐“非洲之傲”沿途可能看到的景观有_____（选择填空）

- A. 遮天蔽日的热带雨林 B. 草原上悠闲漫步的长劲鹿 C. 一望无际的沙漠 D. 高原上飞快奔跑的藏羚羊
- 书中有一段毕淑敏和导游的对话：毕老师：“面对干季刚刚过去雨季尚未来临的干瘪草原，实在难以想象它如何养活庞大的

动物群” 导游：“你想的很有道理，但请不要忘了，动物是活的，它们会迁徙”

(3) 结合坦桑尼亚多多马的降水量柱状图判断毕老师此时旅行的月份可能是_____

（选择填空）

- A. 1月 B. 4月 C. 7月 D. 10月

(4) 野生动物在坦桑尼亚的多多马与肯尼亚的基塔莱之间迁徙请解释动物大迁徙的原因。（4分）

(5) 书中提到“尼罗河虽然是非洲第一长河，却不是流量最大的河，刚果河才是非洲流量最大的河”请说明刚果河流量大的原因。

(6) 书中写到“当地人把非洲比作一只长长的象牙，它的尖端（南非）一点儿都不穷，真正穷苦的地方多集中在非洲中部”南非经济发达的原因是_____（选择填空）

- A. 地理位置优越 B. 矿产资源丰富
C. 产业结构单一 D. 热带作物丰富

44. 阅读资料和图 18 “黄河流域” 回答下列问题。（本小题共 11 分）

资料 1：2017 年 10 月 18 日，习近平同志在十九大报告中指出坚持人与自然和谐共生，必须树立和践行绿水青山就是金山银山的理念，坚持节约资源和保护环境的基本国策。

资料 2：距今五六千年前，黄河中游地区气候适宜，植被繁茂，土壤肥沃。我们的祖先就在这里聚居生活，从事农耕。

资料 3：黄河中游穿行于晋陕峡谷。由于降雨多以暴雨出现，加上人为因素，植被遭到严重破坏，高原上的黄土大量进入黄河。黄河携带的泥沙约有 1/4 沉积在下游河床，使河床平均每年增高 10 厘米。为了防止黄河泛滥，人们不得不修筑堤防，最终形成了“地上

河” 黄河自然断流始于 1972 年，主要发生在山东河段，给沿黄地区的工农业生产造成了重大损失，严重影响了居民的生活；凌汛，是冰凌对水流产生阻力而引起的江河水位明显上涨的水文现象，黄河上游和下游的部分河段容易发生凌汛。

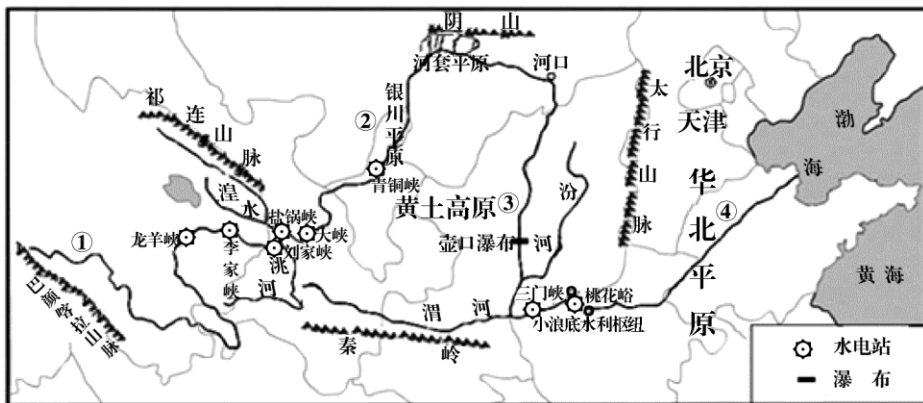


图 18

(1) 黄河发源于_____山脉，向东注入到_____海。



(2) 黄河中游穿行于“晋陕峡谷”，其中晋是指_____省。中游地区汇入的两条支流是_____和_____。

(3) 黄河小浪底水利枢纽位于我国地势第二、三级阶梯交界地带，在这里选址的优势是_____。

(4) 结合资料 3，在开发利用黄河过程中遇到的主要问题有_____、_____等，黄河凌汛主要发生在_____段（填序号）

(5) 为了让子孙后代永享绿水青山，请在保护和治理黄河方面提出两条合理建议。

45. 结合图 19“四川省地形”图 20“中国气候类型”图 21“中国四大地理区域”图 22，回答下列问题。(本小题共 8 分)

- (1) 四川省地跨我国四大区域中的_____地区和_____地区。
(2) 请参考所给地图和资料，比较四川省东部和西部的地理差异。(6 分)




图 19

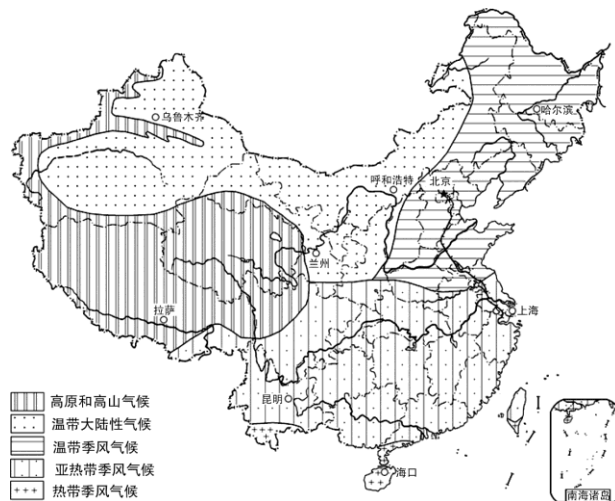


图 20



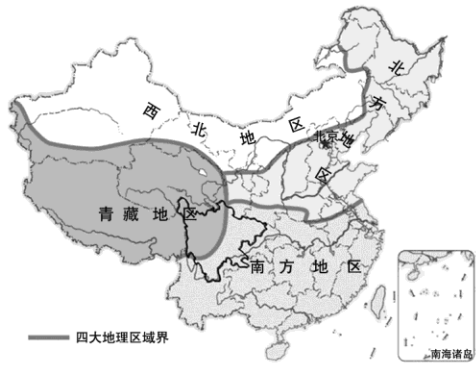


图 21



图 22



地理试题答案



第一部分 选择题 (共 40 分)

1	2	3	4	5	6	7	8	9	10
C	A	A	B	C	B	C	A	B	C
11	12	13	14	15	16	17	18	19	20
A	D	C	B	A	A	D	B	D	D
21	22	23	24	25	26	27	28	29	30
A	B	C	B	C	D	B	C	C	B
31	32	33	34	35	36	37	38	39	40
D	C	D	B	D	A	B	A	A	B

第二部分 非选择题 (本部分 5 道题, 共 50 分)

41. 根据资料和图 14, 回答下列问题。(本小题共 8 分)

- (1) 南 (正南或东南) 上北下南、左西右东 (一般地图方法)
- (2) 1:2000000 甲
- (3) 速度快 运费高 机动性强 受天气影响大 运输量小 受机场限制大 (答出任意两点即可)
- (4) 改善了基础设施建设、带动周边经济发展、提高居民收入、交通便利、噪音污染等环境问题, 答案合理即可。(2 分, 每条 1 分)

42. 阅读资料和图 15、图 16, 回答下列问题。(本小题共 12 分)

国家	中国	哈萨克斯坦	菲律宾
地理位置			
半球位置	北半球、东半球	北半球、东半球	北半球、东半球
纬度位置	大部分国土位于北温带, 一小部分国土位于热带	地处北温带	地处热带
海陆位置	亚洲东部, 东临太平洋 (亚欧大陆东岸, 太平洋西岸)	深居内陆	群岛国家

(1)

(2) 中国既是陆地大国也是海洋大国, 海陆兼备, 便于发展海洋事业; 能从陆、海与世界各国进行贸易往来; 南北跨纬度大, 气候差异大, 为发展多种经济提供有利条件; 东部降水丰沛, 有利于发展农业。(4 分, 答出任意一点给 2 分)

- (3) B (4) 火车

43. 读资料和图 17, 回答下列问题 (本小题共 11 分)

- (1) 南 大西洋 印度洋
(2) B (3) D

(4) 动物生活在东非高原的热带草原气候区, 有明显的干湿季;(2 分) 多多马和基塔莱位于赤道 南北两侧, 当多多马为干季时, 基塔莱处于湿季, 两城市干湿季相反, 动物要逐水草而生, 因此 出现大迁徙现象。(2 分)

(5) 该河流域地处热带雨林气候区

(6) AB

44. 阅读资料和图 18, 回答下列问题。(本小题共 11 分)

(1) 巴颜喀拉山脉 渤海

(2) 山西 汾河 渭河

(3) 阶梯交界处, 河流落差大、水流急, 流量大, 水能蕴藏丰富

(4) 断流 凌汛 (含沙量大等) ②④

(5) 做好水土保持工作、科学合理用水 (答案合理即可)(共 2 分, 每条 1 分)

45. 结合图 19、图 20、图 21、图 22, 回答下列问题。(本小题共 8 分)

(1) 南方 青藏

(2) 可以从位置、地形、气候、生产、生活等任选三方面进行对比。

差异	四川省东部	四川省西部
地形类型	盆地	高原
气候类型	亚热带季风气候	高原和高山气候
农业类型	种植业	畜牧业
饮食	①	②
...