



2023 北京大兴初一（上）期末

历史

第一部分选择题（共 50 分）

本部分共 25 小题，每小题 2 分，共 50 分。在每小题列出的四个选项中选出最符合题目要求的一项。

1. 1959 年，中国古人类学家吴汝康、王存义共同塑造了北京人复原头像（见下图），他们的主要依据是（ ）



- A. 北京人遗址中发现的石器
- B. 北京人遗址中发现的烧骨
- C. 北京人用火场景想象图
- D. 北京人头盖骨化石

2. 距今 1 万年前后的北京东胡林遗址中发现有打制石器、磨制石器、谷物加工工具、陶器等文化遗物及比较丰富的动植物遗存，包括炭化粟和黍。这些发现可以用于研究（ ）

- A. 原始农业的兴起与发展
- B. 贫富分化现象
- C. 早期人类的商品交换
- D. 私有财产的出现

3. 据统计，当今中国流行的前 200 个姓氏中，出自炎帝姜姓系统的姓氏约占 10%，出自黄帝姬姓系统的姓氏约占 89%。这表明（ ）

- A. 百家姓氏都源自炎帝和黄帝
- B. 炎帝和黄帝因治理水患得到尊崇
- C. 炎帝和黄帝为中华民族的人文初祖
- D. 传说中炎帝和黄帝的发明完全真实

4. 1986 年，北京市房山区琉璃河遗址 1193 号大墓出土青铜器克盃（如下图）。其上所刻铭文大意为：“我大封给你土地，供你享用，命克去燕为侯。再把羌、页……划归燕国管理。”克盃铭文反映的政治制度是（ ）



- A. 禅让制
- B. 分封制
- C. 郡县制
- D. 行省制

5. 西周对青铜器的使用规格有着严格的制度规定，如天子为九鼎八簋，诸侯为七鼎六簋，卿大夫为五鼎四簋等。但春秋时，郑庄公却享用九鼎，以后一些诸侯竞相效仿。这种情况反映了（ ）

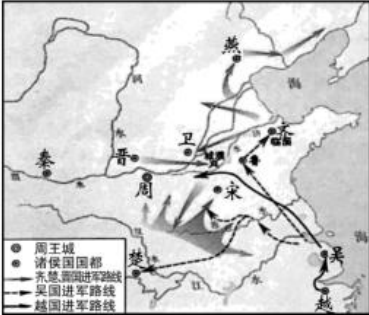
- A. 民族交融
- B. 王室衰微
- C. 国家产生
- D. 经济发展



6. “甲骨文已经具备了汉字的基本结构，很多字体至今仍在使用，是汉字形成与发展的重要阶段。”这段文字所表达的是（ ）

- A. 甲骨文的发现过程
- B. 甲骨文的造字特点
- C. 甲骨文的记载内容
- D. 甲骨文的历史地位

7. 识读地图是学习历史的重要内容之一。下图所示历史时期是（ ）



- A. 春秋时期
- B. 秦朝时期
- C. 西汉时期
- D. 三国时期

8. 都江堰建成之初，灌溉面积五六万亩。后来逐渐伸展到 13 个县，支流和渠道有 500 多条，灌溉面积 300 多万亩。材料表明（ ）

- A. 都江堰分为鱼嘴、宝瓶口和飞沙堰三个主体工程
- B. 都江堰是一座综合性水利枢纽
- C. 都江堰的建成促使成都平原成为“天府之国”
- D. 都江堰由蜀郡郡守李冰主持修建

9. 春秋时期，他创办私学，打破了贵族和王室垄断教育的局面，主张“有教无类”，先后培养三千弟子。他是（ ）

- A. 老子
- B. 孔子
- C. 墨子
- D. 韩非子

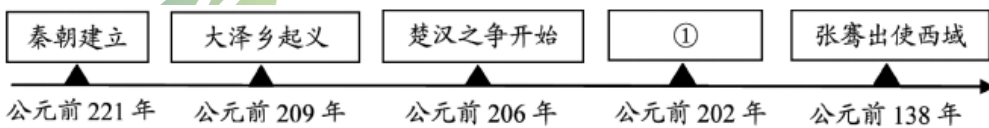
10. “秦王扫六合，虎视何雄哉！挥剑决浮云，诸侯尽西来。”该诗句描述的历史事件是（ ）

- A. 秦王嬴政灭六国、统一全国
- B. 秦始皇派大将蒙恬北击匈奴
- C. 秦征服南方越族地区
- D. 春秋时期诸侯争霸

11. 历史解释是对史实的分析或评判。下列选项中属于历史解释的是（ ）

- A. 公元前 209 年陈胜、吴广发动大泽乡起义
- B. 攻占陈县后，陈胜称王，建立“张楚”政权
- C. 秦的暴政是导致陈胜、吴广起义的根本原因
- D. 陈胜、吴广起义在秦军的攻势下失败

12. 以下示意图呈现了秦汉时期的部分历史，其中①处应为



- A. 秦朝灭亡
- B. 西汉建立
- C. 东汉建立
- D. 光武中兴

13. 《汉书·食货志》记载：“汉兴……民失作业而大饥馑。凡米石五千，人相食，死者过半。”为此，统



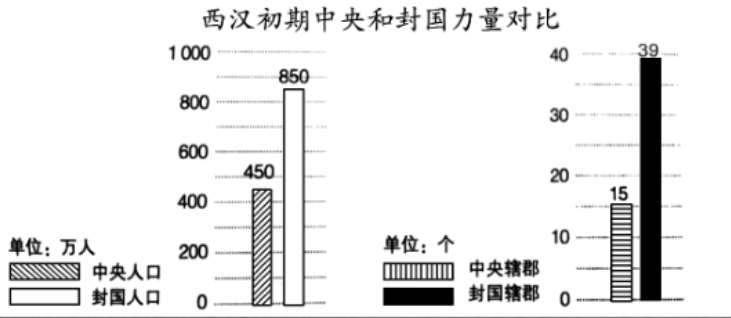
治者采取的措施是（ ）

- A. 实行休养生息政策
- B. 实行郡县制
- C. 加强军事训练
- D. 推崇佛教

14. “至今上（汉武帝）即位岁……京师之钱累巨万，贯朽而不可校。太仓之粟陈陈相因，充溢露积于外，至腐败不可食。”为这一局面出现奠定基础的是（ ）

- A. 大禹治水
- B. 商鞅变法
- C. 楚汉之争
- D. 文景之治

15. 为解决下图所示问题，汉武帝采取的措施是（ ）



- A. 盐铁专卖
- B. 实施推恩令
- C. 建立刺史制度
- D. 大举反击匈奴

16. 东汉初期，社会出现比较安定的局面，经济得到恢复和发展，史称（ ）

- A. 始皇盛世
- B. 汉武盛世
- C. 光武中兴
- D. 王莽改制

17. 某中学开展“图说历史”系列活动，下列组图可以用来说明（ ）



图1 展现生活闲适的宅院画像砖



图2 说唱陶俑



图3 显示社会动乱的陶院落(模型)

- A. 东汉的强大
- B. 东汉的灭亡
- C. 东汉的社会生活
- D. 东汉的建筑

18. 被鲁迅称为“史家之绝唱，无韵之《离骚》”的著作是（ ）

- A. 《论语》
- B. 《水经注》
- C. 《神灭论》
- D. 《史记》

19. 下面是汉代某项工艺的流程图中，该工艺是（ ）



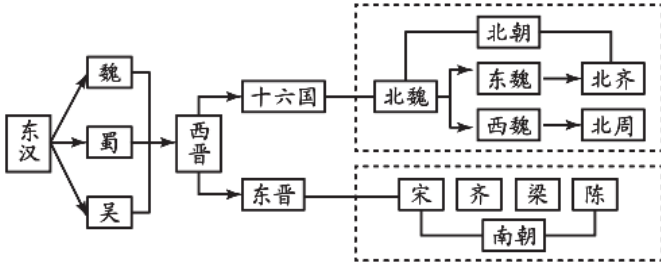
- A. 造纸术
- B. 印刷术
- C. 制药术
- D. 制瓷工艺

20. 明朝人罗贯中写的小说《三国演义》，在描写赤壁之战时有“蒋干盗书”“孔明草船借箭”“周瑜打黄盖”“诸葛亮借东风”等情节。但这些脍炙人口的故事却不见于史书记载。对此解释合理的是（ ）



- A. 《三国演义》是一部历史题材小说，内容纯属虚构，完全不可信
- B. 《三国演义》是一部历史题材小说，内容来源于真实历史，完全可信
- C. 《三国演义》是一部历史题材小说，全面反映了真实的历史
- D. 《三国演义》是一部历史题材小说，为增强趣味性适当进行了文学创作

21. 下列图示反映该历史时期的时代特征是（ ）



- A. 文明起源
- B. 社会变革
- C. 国家统一
- D. 政权分立

22. 下图是甘肃嘉峪关新城魏晋墓群五号墓《采桑图》，图中描绘了两位着装打扮为少数民族的女子采摘桑叶的场景。该图反映出三国两晋南北朝时期（ ）



- A. 民族交融趋势加强
- B. 缫丝技术不断进步
- C. 等级观念逐渐严重
- D. 商业贸易繁荣发展


23. 《史记·货殖列传》记载：“楚越之地，地广人稀。”而《晋书·食货志》记载东晋后期南方的情形是：“天下无事，时和年丰，百姓乐业，谷帛殷阜，几乎家给人足矣。”这一变化表明（ ）

- A. 统一多民族国家建立
- B. 北方少数民族内迁
- C. 江南地区得到开发
- D. 南方地区战乱不休

24. 在“割圆术”的基础上，南北朝的一位科学家将圆周率精确到了小数点以后的第七位，比西方早了一千一百多年。这位科学家是（ ）

- A. 华佗
- B. 祖冲之
- C. 顾恺之
- D. 郦道元

25. 东汉以后，书法逐渐发展为一门艺术。下列书法作品属于东汉以后的是（ ）



①王羲之《兰亭集序》 ②钟繇楷书《宣示表》 ③里耶秦简部分文字 ④魏碑《比丘道匠造像题记》(拓片)

- A. ①②③
- B. ①②④
- C. ①③④
- D. ②③④



第二部分非选择题（50分）

26. 历史学的研究方法。

【考古发现与历史研究】

材料一：良渚古城距今 5300-4300 年，下表为良渚遗址的考古发现与相应的结论：

良渚遗址的考古发现	从中可以得出的结论
良渚古城由宫殿区、内城和外城组成。内城长 1900 米，宽 1700 米，面积约 300 万平方米。外城面积约 630 万平方米。据估算，古城和水利系统的工程总量，超过 1000 万立方米。	从良渚古城内外城的面积、工程总量和分布情况，可以看出其规模宏大、分区明确，见证了该地社会经济的发展水平和统治者较强的调动、组织能力。
城内外祭坛上权贵们的墓地里，随葬着数十件至数百件数量不等、制作精美的玉器，包括祭祀神灵用的玉器和象征军事指挥权的玉钱。而其他区域普通墓葬内随葬品较少。	①

(1) 依据材料一：得出结论，将①补充完成。

材料二：中华五千年文明曾长期遭到西方史学界的质疑与否认，他们认为中华文明始于有甲骨文证实的商朝时期，而商朝之前的历史只存在于古籍记载中，并且这些古籍记载充斥大量的神话传说，并不可信。

良渚古城的考古发现证实，距今约 5000 年左右，长江下游地区已经出现早期国家，进入了文明社会，实证了中华文明五千年。2019 年 7 月，良渚古城遗址成功列入《世界文化遗产名录》，标志着我国五千多年文明史获得了国际社会的广泛认同。

(2) 依据材料一和材料二，说出良渚遗址考古发现的价值。

材料三：

序号	考古发现	文献记载
①		《尚书·牧誓》中记载武王伐纣：“时甲子日昧爽，王至于商郊牧野。”
②		《管子》一书记载：“春秋之期，民用铁器耕作。”



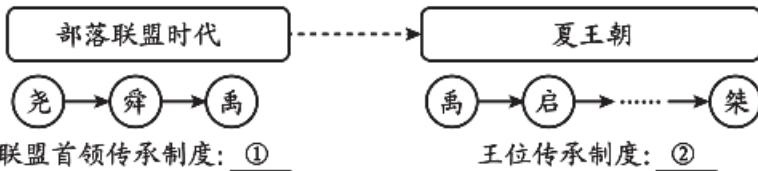
(3) 上述两项考古发现可以分别用于研究当时__方面的情况。(从政治、经济、文化、外交中选一项填入横线处) 依据材料三, 说出考古发现与文献记载的关系。

【历史人物的评价】

材料四: 对秦始皇的功过如何评价, 自古以来众说纷纭。迄今为止, 主要有以下三种: 第一种意见认为秦始皇功大于过; 第二种意见是过大于功; 第三种意见认为秦始皇是一个有大功也有大过的历史人物。

(4) 依据材料四并结合所学, 选择一种你认同的观点, 并写出理由。说出评价历史人物应遵循的原则。
27. 中国古代文明源远流长且自成一脉。

材料一: 从部落联盟时代到夏王朝的制度演变



(1) 结合所学, 将材料一中①②处填写完整。

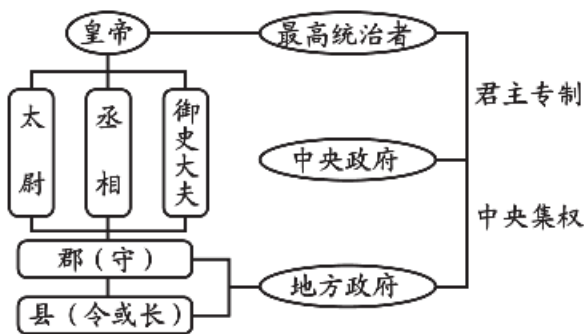
材料二: 西周的分封并不只是周人殖民队伍分别占有一片东方的土地, 而是人口的再编组……新封的封国, 因其与原居民的糅合, 而成为地缘性的政治单位……周人的政治权力, 铸铸(即铸造)了一个文化的共同体。



——摘编自许倬云《西周史》

(2) 依据材料二并结合所学, 概括西周分封制的特点和意义。

材料三:



(3) 结合所学, 说出材料三: 所示行政制度开创的朝代名称。说出这一朝代地方制度的名称, 并谈谈你



对该制度的认识。

材料四：《春秋》推崇统一，这是天地永恒的原则，是古今共通的道理……臣认为凡是不属于六艺的科目和孔子学术的学说都一律禁止，不许它们同样发展。邪僻的学说消失，然后学术的系统可以统一，法令制度都可以明白，人们也知道服从的对象了。

——译编自《汉书·董仲舒传》

(4) 依据材料四：，概括董仲舒 主要主张。结合所学，说出该主张被采纳后对当时和后世产生的影响。

28. 民族交往交流交融与对外交往。

材料一：西周时中原主体居民总称华夏，四部的夷、蛮、戎、狄等民族被华夏族概称为“夷”。到春秋时期，四夷的势力进一步向中原地区发展。华夏和夷狄虽有冲突，但双方通婚的材料见于史载者颇多，如晋文公之母为戎女，其妻亦为狄女。在长期杂居、部居的过程中，发达的华文明对戎狄蛮夷产生了很大影响，戎狄蛮夷的文化也进一步丰富了华夏文明。

——摘编自张帆《中国古代简史》

(1) 依据材料一，说出春秋战国时期民族交往的方式。结合所学，举例说出这些方式在秦汉时期的具体体现。

材料二：

①魏晋墓砖画：描绘了北方民族的游牧生活	②魏晋墓砖画：少数民族耕作图
	
③魏晋墓砖画：汉族士大夫食用烧烤	④北魏帝王出御图中身着汉服的皇帝与随从
	
⑤孔子讲学图中席地而坐的古人	⑥敦煌莫高窟壁画：魏晋时引入内地的家具
	

(2) 依据材料二：，任选两幅图片，提炼主题并加以说明。（仿照示例完成）



示例：

图片	主题	说明
①②	少数民族生产方式的变化	①描绘了少数民族放牧的场景，而②中少数民族开始使用汉族的牛耕，表明少数民族受到汉族的影响，逐渐开始从事农业生产。

材料三：古丝绸之路不仅是一条通商易货之道，更是一条知识交流之路。沿着古丝绸之路，中国将丝绸、瓷器、漆器、铁器传到西方，也为中国带来了胡椒、亚麻、香料、葡萄、石榴。沿着古丝绸之路，佛教、伊斯兰教及阿拉伯的天文、历法、医药传入中国，中国的四大发明、养蚕技术也由此传向世界。更为重要的是，商品和知识交流带来了观念创新。比如，佛教源自印度，在中国发扬光大，在东南亚得到传承。儒家文化起源中国，受到欧洲莱布尼茨、伏尔泰等思想家的推崇。这是交流的魅力、互鉴的成果。

——习近平在“一带一路”高峰论坛开幕式上的主旨演讲

(3) 依据材料三，仿照示例将古代丝绸之路上传输的文明成果进行分类。(分类、举例与示例相同不得分) 结合所学，概括古代丝绸之路的作用。

示例：

分类一	举例	分类二	举例
传入中国的文明成果	佛教	物质成果	丝绸
	胡椒		葡萄

(4) 依据以上材料，谈谈你对处理民族关系和对外交往的认识。

29. 中国古代创造了辉煌的科技与文化成果。

材料一：



①刻有文字的甲骨



②居延汉简



③纸本地图

(1) 依据材料一：，说出中国古代书写材料的变化。结合所学，说出书写材料变化产生的影响。

材料二：我国发行的邮票

①	②	③	④
---	---	---	---



 <p>张仲景</p>	 <p>蔡伦</p>	 <p>刘徽</p>	 <p>贾思勰</p>
<p>朝代：A</p>		<p>朝代：B</p>	

(2) 将材料二中的科学家所属的朝代补充完整。任选一位科学家，进行介绍。(示例除外)
 示例：③；刘徽是我国伟大的数学家，他最早提出具有“极限”思维的圆周率的正确计算方法在中国数学史上作出重大贡献。

材料三：

思想家	思想主张
A. 老子	①仁者爱人；己所不欲，勿施于人
B. 孔子	②无为而治；弱之胜强，柔之胜刚
C. 墨子	③事在四方，要在中央；法不阿贵，绳不挠曲
D. 韩非子	④夫尚贤者，政之本也；俭节则昌，淫佚则亡

(3) 结合所学，将材料三中思想家与思想主张一一对应，将序号填写 横线处。
 A. 老子——② B. 孔子——_____ C. 墨子——④ D. 韩非子——_____

材料四：要认真汲取中华优秀传统文化的思想精华和道德精髓，大力弘扬以爱国主义为核心的民族精神和以改革创新为核心的时代精神，深入挖掘和阐发中华优秀传统文化，讲仁爱、重民本、守诚信、崇正义、尚和合、求大同的时代价值，使中华优秀传统文化成为涵养社会主义核心价值观的重要源泉。要处理好继承和创造性发展的关系，重点做好创造性转化和创新性发展。

——习近平在中共中央政治局第十三次集体学习时的讲话

(4) 依据材料四，谈谈你对弘扬民族文化、提升文化自信的建议。





参考答案

第一部分选择题（共 50 分）

本部分共 25 小题，每小题 2 分，共 50 分。在每小题列出的四个选项中选出最符合题目要求的一项。

1. 【答案】D

【解析】

【详解】结合所学可知，北京人复原头像是根据北京人头盖骨化石进行复原的，D 项正确；北京人遗址中发现的石器、北京人遗址中发现的烧骨、北京人用火场景想象图与北京人的相貌无关，排除 ABC 项。故选 D 项。

2. 【答案】A

【解析】

【详解】根据题干中“打制石器、磨制石器、谷物加工工具、陶器等文化遗物及比较丰富的动植物遗存，包括炭化粟和黍。”可知，北京东胡林遗址可用于研究原始农业兴起的与发展，A 项正确；贫富分化现象、早期人类的商品交换、私有财产的出现都无法从题干中得出，排除 BCD 项。故选 A 项。

3. 【答案】C

【解析】

【详解】根据题干材料“当今中国流行的前 200 个姓氏中，出自炎帝姜姓系统的姓氏约占 10%，出自黄帝姬姓系统的姓氏约占 89%。”可知，炎帝和黄帝为中华民族的人文初祖，C 项正确；炎帝姜姓系统和黄帝姬姓系统占 99%，排除 A 项；治理水患的是大禹，排除 B 项；传说中炎帝和黄帝的发明完全真实，表述错误，排除 D 项。故选 C 项。

4. 【答案】B

【解析】

【详解】根据“我大封给你土地，供你享用，命克去燕为侯。再把羌、页……划归燕国管理。”可知，材料反映的是分封制，为了巩固周初政治形势，西周实行分封制，B 项正确；禅让制是选拔部落首领的制度，材料没有涉及，排除 A 项；郡县制是秦朝时期在地方推行的制度，材料没有涉及，排除 C 项；行省制是元朝时期实行的制度，材料没有涉及，排除 D 项。故选 B 项。

5. 【答案】B

【解析】

【详解】根据题干材料“西周对青铜器的使用规格有着严格的制度规定，如天子为九鼎八簋，诸侯为七鼎六簋，卿大夫为五鼎四簋等。但春秋时，郑庄公却享用九鼎，以后一些诸侯竞相效仿。”可知，到了春秋时期，诸侯享用九鼎，说明王室衰微，B 项正确；民族交融与题干内容无关，排除 A 项；西周时期国家早已产生，排除 C 项；经济发展，题干未涉及，排除 D 项。故选 B 项。

6. 【答案】D

【解析】



【详解】根据“甲骨文已经具备了汉字的基本结构，很多字体至今仍在使⽤，是汉字形成与发展的重要阶段。”可知，材料反映的是甲骨文的历史地位，D项正确；ABC项材料没有涉及，排除ABC项。故选D项。

7. 【答案】A

【解析】

【详解】结合所学可知，周王室，秦、晋、宋、燕、吴等诸侯国存在的时期是春秋时期，A项正确；秦朝、西汉时期实现了统一，与图片所示明显不符，排除BC项；三国指的是魏、蜀、吴，与图片内容不符，排除D项。故选A项。

8. 【答案】C

【解析】

【详解】根据“灌溉面积五六十万亩。后来逐渐伸展到13个县，支流和渠道有500多条，灌溉面积300多万亩”可知，材料反映的是都江堰的作用，都江堰是闻名世界的防洪灌溉工程，它消除了岷江水患、灌溉了大片农田，使成都平原获得了“天府之国”的美称，C项正确；ABD项与都江堰相关，但材料没有体现，排除ABD项。故选C项。

9. 【答案】B

【解析】

【详解】结合所学知识可知，孔子是一位大教育家，他兴办私学，广收门徒，主张有教无类，B项正确；老子是道家学派的创始人，材料没有涉及，排除A项；墨子、韩非子生活在战国时期，排除CD项。故选B项。

10. 【答案】A

【解析】

【详解】“秦王扫六合，虎视何雄哉！挥剑决浮云，诸侯尽西来。”诗句描述的历史事件是秦始皇统一全国。公元前221年嬴政（秦始皇）灭掉东方六国，统一全国，建立起我国历史上第一个统一的多民族的封建国家-秦朝，定都咸阳，A项正确；BCD项材料没有涉及，排除BCD项。故选A项。

11. 【答案】C

【解析】

【详解】根据“历史解释是对史实的分析或评判”结合所学知识可知，秦的暴政是导致陈胜、吴广起义的根本原因是对陈胜吴广起义的原因进行分析，属于历史解释，C项正确；ABD项是对历史事件进行客观叙述，属于历史史实，排除ABD项。故选C项。

12. 【答案】B

【解析】

【详解】依据所学可知，公元前202年刘邦建立西汉，定都长安，故B符合题意；公元前206年秦朝灭亡、公元25年刘秀建立东汉，故AC排除；光武中兴是刘秀统治时期的盛世局面，故D排除。故此题选B。

13. 【答案】A

【解析】



【详解】据“汉兴……民失作业而大饥馑。凡米石五千，人相食，死者过半。”可知，为此西汉政府采取的相应措施是休养生息政策。西汉建立初年，由于长期战争破坏，经济萧条，百姓流离失所，西汉统治者吸取秦亡的教训，在充分认识到“先富民，再强国”的道理后，采取休养生息政策，使经济得到恢复和发展，A项正确；秦朝在地方推行郡县制，排除B项；加强军事训练不是应对材料反映的经济萧条的措施，排除C项；汉初没有推崇佛教，排除D项。故选A项。

14. 【答案】D

【解析】

【详解】“至今上（汉武帝）即位岁数……京师之钱累巨万，贯朽而不可校。太仓之粟陈陈相因，充溢露积于外，至腐败不可食。”为这一局面出现奠定基础的是文景之治，汉文帝和汉景帝统治时期，政治清明，社会安定，经济得到恢复和发展，人民生活安定。这一时期的统治出现治世局面，历史上称之为“文景之治”，为西汉鼎盛局面的到来奠定了基础，D项正确；大禹治水在材料中没有涉及，排除A项；商鞅变法增强了秦国的实力，排除B项；楚汉之争发生在秦朝灭亡后，排除C项。故选D项。

15. 【答案】B

【解析】

【详解】结合所学可知，为了解决王国问题，汉武帝采纳主父偃的建议，实行推恩令，下诏允许诸侯王除嫡长子继承王位外，可将封地再次分封给其他子弟作为侯国，由皇帝制定封号；武帝又找各种借口削爵、夺地甚至除国，严厉镇压他们的叛乱。B项正确；盐铁专卖是经济措施，排除A项；建立刺史制度，加强了对地方的监督，与题干内容无关，排除C项；大举反击匈奴属于军事措施，排除D项。故选B项。

16. 【答案】C

【解析】

【详解】公元25年，皇族刘秀称帝，定都洛阳，史称东汉。刘秀就是光武帝。光武帝末年，社会安定，经济状况明显好转，史称这个时期的统治为“光武中兴”，C项正确；始皇盛世出现在秦朝，排除A项；汉武盛世出现在西汉时期，排除B项；王莽改制在材料中没有涉及，排除D项。故选C项。

17. 【答案】C

【解析】

【详解】根据“展现生活闲适的宅院画像砖”“说唱陶俑”“显示社会动乱的陶院落”可知，材料反映的是东汉的社会生活，C项正确；“显示社会动乱的陶院落”反映的是东汉的衰落，排除A项；“说唱俑”没有体现东汉的灭亡，排除B项；“说唱俑”没有体现东汉的建筑，排除D项。故选C项。

18. 【答案】D

【解析】

【详解】结合所学可知，《史记》是我国第一部纪传体通史，作者是西汉的司马迁，文笔简洁，语言生动，刻画人物形象生动，在文学史上也有崇高的地位。记述了从传说中的黄帝到汉武帝时约3000年的史事。鲁迅对《史记》的评价：“史家之绝唱，无韵之《离骚》”。D项正确；《论语》记录了孔子的言论，排除A项；《水经注》是郦道元的地理学著作，排除B项；《神灭论》是“无神论”者范缜的著作，排除C



项。故选 D 项。

19. 【答案】A

【解析】

【详解】根据图片结合所学知识可知，图片反映的是造纸术，有切麻、洗涤、浸灰水、蒸煮、舂捣、打浆、抄纸、晒纸、揭纸等环节，A 项正确；图片没有涉及印刷术，排除 B 项；图片没有涉及制药术、制瓷工艺，排除 CD 项。故选 A 项。

20. 【答案】D

【解析】

【详解】根据题干“小说《三国演义》，在描写赤壁之战时有‘蒋干盗书’‘孔明草船借箭’‘周瑜打黄盖’‘诸葛亮借东风’等情节。但这些脍炙人口的故事却不见于史书记载。”结合所学可知，《三国演义》是一部历史题材小说，为增强趣味性适当进行了文学创作，与真实的历史是有差别的，D 项正确；《三国演义》是历史小说，内容不全是虚构的，排除 A 项；《三国演义》是历史小说，内容不全是真实的，还有虚构的成分，排除 BC 项。故选 D 项。

21. 【答案】D

【解析】

【详解】结合所学可知，图片反映的是三国两晋南北朝的历史，这一时期是民族政权并立的时期，D 项正确；文明起源开始于原始农业的兴起，排除 A 项；社会变革是春秋战国时期的特征，排除 B 项；国家统一开始于秦朝，与题干内容明显不符，排除 C 项。故选 D 项。

22. 【答案】A

【解析】

【详解】根据“两位着装打扮为少数民族的女子采摘桑叶的场景”可知，材料反映的是民族交融趋势加强，A 项正确；材料没有强调缫丝技术不断进步，排除 B 项；材料没有体现等级观念逐渐严重，排除 C 项；材料没有体现商业贸易繁荣发展，排除 D 项。故选 A 项。

23. 【答案】C

【解析】

【详解】根据材料可知，汉朝时期，“楚越之地，地广人稀”；到了魏晋时期，南方的情形是：“天下无事，时和年丰，百姓乐业，谷帛殷阜，几乎家给人足矣。”这说明南方地区得到了开发，C 项正确；统一多民族国家建立、北方少数民族内迁从题干材料无法得出，排除 AB 项；南方地区战乱不休与题干“天下无事，时和年丰，百姓乐业”不符，排除 D 项。故选 C 项。

24. 【答案】B

【解析】

【详解】南北朝时期，有位科学家把圆周率精确到了小数点以后的第七位，这项成果领先世界近千年。这位科学家是祖冲之。南朝祖冲之利用并发展前人创造的“割圆术”，在世界上第一次把圆周率的数值精确到小数点后第七位数字（3.1415926-3.1415927 之间），这项成果领先世界近一千年，B 项正确；华佗是东汉名医，排除 A 项；顾恺之是画家，排除 C 项；郦道元是地理学家，排除 D 项。故选 B 项。



25. 【答案】B

【解析】

【详解】根据题干“东汉以后”结合所学可知，①王羲之是东晋时期的人物、②钟繇是曹魏时期的书法家、④魏碑是北魏时期的碑刻书体，都在东汉之后，①②④符合题意，B项正确；里耶秦简是秦朝的作品，在东汉之前，③不符合题意，排除含③的ACD项。故选B项。

第二部分非选择题（50分）

26. 【答案】(1) 从城内外祭坛上权贵们墓地里随葬品的数量多，种类丰富；其他区域普通墓葬内随葬品较少，可以看出良渚古城中已经出现阶级分化。

(2) 印证良渚古城出现阶级分化，进入了文明社会，实证了中华文明五千年。

(3) 政治、经济；关系：文献记载为考古发掘提供了线索，而考古发掘又进一步印证了文献记载内容。

(4) 认可第一种意见，因为他重用人才、统一六国、南征越族、北击匈奴，结束了长期诸侯割据的分裂局面，建立我国历史上第一个统一的多民族的封建国家，顺应了历史的潮流，符合各族人民的共同愿望。他采取的一系列加强中央集权的政策措施，维护了封建国家的统一，有利于封建经济文化的进一步发展，对后世有深远的影响。虽然他刚愎自用、拒谏饰非。修建豪华的宫殿、陵墓和万里长城，耗费了巨大的财力和物力，加深了人民的苦难。但总体来说，秦始皇的功大于过。原则：坚持一分为二的辩证法观点评价历史人物；坚持史论结合、论从史出；把历史人物放在当时特定的时代大背景下分析。

【解析】

【详解】(1) 根据材料一“城内外祭坛上权贵们的墓地里，随葬着数十件至数百件数量不等、制作精美的玉器，包括祭祀神灵用的玉器和象征军事指挥权的玉钱。而其他区域普通墓葬内随葬品较少。”中可以得出的结论是：从城内外祭坛上权贵们墓地里随葬品的数量多，种类丰富；其他区域普通墓葬内随葬品较少，可以看出良渚古城中已经出现阶级分化。

(2) 根据材料一、材料二结合所学可知，良渚遗址考古发现印证良渚古城出现阶级分化，进入了文明社会，实证了中华文明五千年。

(3) 根据材料三结合所学可知，利簋反映的是武王伐纣的史实，属于政治方面；春秋时期的铁器反映的是农业生产，属于经济方面。结合所学知识可知，考古发现与文献记载的关系是文献记载为考古发掘提供了线索，而考古发掘又进一步印证了文献记载内容。

(4) 结合所学可知，认可第一种意见，因为秦始皇重用人才、统一六国、南征越族、北击匈奴，结束了长期诸侯割据的分裂局面，建立我国历史上第一个统一的多民族的封建国家，顺应了历史的潮流，符合各族人民的共同愿望。他采取的一系列加强中央集权的政策措施，维护了封建国家的统一，有利于封建经济文化的进一步发展，对后世有深远的影响。虽然他刚愎自用、拒谏饰非。修建豪华的宫殿、陵墓和万里长城，耗费了巨大的财力和物力，加深了人民的苦难。但总体来说，秦始皇的功大于过。结合所学可知，对于历史人物的评价要坚持一分为二的辩证法观点；坚持史论结合、论从史出；把历史人物放在当时特定的时代大背景下分析。

27. 【答案】(1) ①禅让制；②世袭制。

(2) 特点：形成地缘性的政治单位；铸造了一个文化的共同体；影响：保证周王朝对地方的控制，同时稳



定政局，扩大统治范围。

(3) 中央集权制度；郡县制；开创了我国历代王朝地方行政的基本模式。

(4) 罢黜百家，独尊儒术；使儒家思想成为封建正统思想，为历代王朝所推崇，影响深远。

【解析】

【小问 1 详解】

据图片并结合所学知识可知，继黄帝之后，我国黄河流域杰出的部落联盟首领还有尧、舜、禹。尧生活俭朴、克己爱民；舜宽厚待人、以身作则；禹，领导人民治理洪水，与群众同甘共苦，三次路过家门而不入。尧在年老时推举舜为继承人，舜年老后采用同样的办法把位置让给治水有功的禹，尧舜禹之间采用推举部落联盟首领的办法，历史上叫做“禅让制”。约公元前 2070 年，禹建立我国历史上第一个王朝—夏朝，禹死后，启继承父位。从此，“王位世袭制”代替“禅让制”，“公天下”变成了“家天下”，我国漫长的原始社会到此结束，奴隶社会开始了。

【小问 2 详解】

根据材料二“新封的封国，因其与原居民的糅合，而成为地缘性的政治单位……周人的政治权力，转铸（即铸造）了一个文化的共同体”结合所学知识可知，分封制的特点是形成地缘性的政治单位；铸造了一个文化的共同体。分封制的影响是保证周王朝对地方的控制，同时稳定政局，扩大统治范围。

【小问 3 详解】

根据材料三结合所学知识可知，秦朝开创了专制主义中央集权制度，这一套制度包括皇帝制度、三公九卿制度和郡县制度；秦朝郡县制实行，开创了我国历代王朝地方行政的基本模式。

小问 4 详解】

根据材料四“臣认为凡是不属于六艺的科目和孔子学术的学说都一律禁止，不许它们同样发展”可归纳出主张是“罢黜百家，独尊儒术”。汉武帝接受董仲舒“罢黜百家，独尊儒术”的建议，使儒家思想成为封建正统思想，为历代王朝所推崇，影响深远。

28. **【答案】**(1) 方式：战争、和亲；

体现：秦朝北逐匈奴，修筑长城；南抚夷、越，设郡、桂林郡、象郡。汉初，对匈奴采取和亲政策。汉武帝时期三次攻打匈奴，此后南匈奴逐渐汉化。东汉初，北匈奴数败后，远迁西方。

(2) 符合题意，言之有理即可，如：

图片	主题	说明
③④	民族交融	③反映了汉族学习了少数民族的饮食，而④反映了少数民族学习汉族的服饰，表明此时民族间相互学习、相互影响。

分类一	举例	分类二	举例
(3) 中国传出的文明成果	四大发明	中国传出的物质成果	瓷器
	儒家文化		漆器

作用：推动东西方文化交流，促进文化创新发展；有利于沿线地区经济交流和发展。

(4) 坚持民族平等、民族团结、各民族共同繁荣的基本原则；民族间应友好交往，共同发展；对外交往、对外经济文化交流才能促进社会进步；中国的经济、文化对世界文明进程产生过重要影响。（言之成理即可）



【解析】

【小问 1 详解】

根据材料“华夏和夷狄虽有冲突，但双方通婚的材料见于史载者颇多，如晋文公之母为戎女，其妻亦为狄女”可知，春秋战国时期民族交往的方式有战争、和亲；结合所学知识可知，秦朝北逐匈奴，修筑长城；南抚夷、越，设郡、桂林郡、象郡。汉初，对匈奴采取和亲政策。汉武帝时期三次攻打匈奴，此后南匈奴逐渐汉化。东汉初，北匈奴数败后，远迁西方。

小问 2 详解】

开放性设问，结合上述材料及所学知识，选择两图确定主题，并进行说明，言之成理即可。如：根据材料“③魏晋墓砖画：汉族士大夫食用烧烤”“④北魏帝王出御图中身着汉服的皇帝与随从”，结合所学知识可知，③反映了汉族学习了少数民族的饮食，而④反映了少数民族学习汉族的服饰，表明此时民族得到交融。

【小问 3 详解】

根据材料“沿着古丝绸之路，中国将丝绸、瓷器、漆器、铁器传到西方……中国的四大发明、养蚕技术也由此传向世界……儒家文化起源中国，受到欧洲莱布尼茨、伏尔泰等思想家的推崇”可知，中国通过古代丝绸之路传出的文明成果有四大发明、养蚕技术、儒家文化等，中国通过古代丝绸之路传出的物质成果有丝绸、瓷器、漆器、铁器等；根据材料“古丝绸之路不仅是一条通商易货之道，更是一条知识交流之路……”可知，丝绸之路推动东西方文化交流；根据材料“更为重要的是，商品和知识交流带来了观念创新。。比如，佛教源自印度，在中国发扬光大，在东南亚得到传承。儒家文化起源中国，受到欧洲莱布尼茨、伏尔泰等思想家的推崇。这是交流的魅力、互鉴的成果。”，结合所学知识可知，丝绸之路促进文化创新发展；根据材料“沿着古丝绸之路，中国将丝绸、瓷器、漆器、铁器传到西方，也为中国带来了胡椒、亚麻、香料、葡萄、石榴。沿着古丝绸之路，佛教、伊斯兰教及阿拉伯的天文、历法、医药传入中国，中国的四大发明、养蚕技术也由此传向世界”，结合所学知识可知，丝绸之路有利于沿线地区经济交流和发展。

【小问 4 详解】

开放性设问，结合上述材料及所学知识，围绕“如何处理民族关系和对外交往”谈认识，言之成理即可。如：坚持民族平等、民族团结、各民族共同繁荣的基本原则；民族间应友好交往，共同发展；对外交往、对外经济文化交流才能促进社会进步；中国的经济、文化对世界文明进程产生过重要影响。

29. 【答案】(1) 变化：从龟甲、兽骨到竹简，再到纸。影响：有利于促进人类文化的转播，能够记录历史信息，推动人类文明的发展。

(2) A: 东汉；B: 魏晋南北朝。介绍：张仲景：东汉末年杰出的医学家，他著有《伤寒杂病论》一书，他在书中全面阐述了中医的理论和治病原则，奠定了中医治疗学的基础，还提出了“治未病”的理念。后世尊称他为“医圣”。蔡伦：东汉时期的人物，改进了造纸术，用树皮、破布、麻头和旧鱼网为原料，制成“蔡侯纸”，不仅降低了造纸成本，而且提高了纸的产量和质量。贾思勰：贾思勰著有《齐民要术》，是我国现存最早的一部完整的农书。这部农书对后世的发展有深远的影响，在世界农学史上占有重要地位。（任选一人）

(3) B: ①；C: ④；D: ③。



(4) 我们应该批判地继承传统文化；取其精华，去其糟粕；认真汲取中华优秀传统文化的思想精髓和道德精髓等。

【解析】

【详解】(1) 根据材料一可知，古代书写材料的变化是从龟甲、兽骨到竹简，再到纸。结合所学可知，书写材料的变化是文化史上的伟大革命，有利于促进人类文化的传播，使得人类历史以及文学史料能够被记录下来，推动了人类文明的发展。

(2) 结合所学可知，张仲景、蔡伦是东汉时期的人物；刘徽是三国时期魏国数学家，贾思勰是北朝农学家，二者属于魏晋南北朝时期的人物。结合所学可知，张仲景：东汉末年杰出的医学家，他著有《伤寒杂病论》一书，他在书中全面阐述了中医的理论和治病原则，奠定了中医治疗学的基础，还提出了“治未病”的理念。后世尊称他为“医圣”。蔡伦：东汉时期的人物，改进了造纸术，用树皮、破布、麻头和旧鱼网为原料，制成“蔡侯纸”，不仅降低了造纸成本，而且提高了纸的产量和质量。贾思勰：贾思勰著有《齐民要术》，是我国现存最早的一部完整的农书。这部农书对后世的发展有深远的影响，在世界农学史上占有重要地位。(任选一人)

(3) 结合所学可知，①仁者爱人；己所不欲，勿施于是孔子主张；③事在四方，要在中央；法不阿贵，绳不挠曲是韩非的主张；④夫尚贤者，政之本也；俭节则昌，淫佚则亡是墨子的主张。

(4) 根据材料四“深入挖掘和阐发中华优秀传统文化讲仁爱、重民本、守诚信、崇正义、尚和合、求大同的时代价值”可知，对传统文化要批判地继承传统文化；取其精华，去其糟粕；认真汲取中华优秀传统文化的思想精髓和道德精髓等。



北京中考在线
微信号：BJ_zkao