

## 七年级历史试卷(选用)

2022. 12

(考试时间 60 分钟 满分 100 分)

学校\_\_\_\_\_ 班级\_\_\_\_\_ 姓名\_\_\_\_\_ 考号\_\_\_\_\_

- 考生须知
1. 本试卷共 7 页。在试卷和答题卡上准确填写学校名称、班级、姓名和考号。
  2. 试题答案一律填涂或书写在答题卡上,在试卷上作答无效。
  3. 在答题卡上,选择题用 2B 铅笔作答,其他试题用黑色字迹签字笔作答。
  4. 考试结束,将本试卷和答题卡一并交回。



## 第一部分 选择题(共 50 分)

本部分共 25 小题,每小题 2 分,共 50 分。在每小题列出的四个选项中,选出最符合题目要求的一项。

1. 右图是北京人遗址出土的石器。据此可知北京人

- A. 是我国境内最早的古人类
- B. 已经能够制造和使用工具
- C. 会使用火并会保存火种
- D. 掌握了磨制和钻孔技术

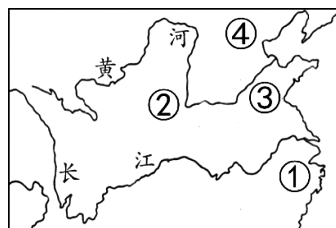


2. 考古工作者在重庆市巫山县发掘出人类下颌骨、牙齿等化石,经研究这些遗物代表了一种直立人的新亚种,一般称之为“巫山人”。这反映出

- A. 自然环境对古人类有重要影响
- B. 化石是研究古人类的重要证据
- C. 巫山人可以制作兽骨等艺术品
- D. 我国农业生产具有悠久的历史

3. 右侧是《中国原始农耕时代重要遗址分布示意图》(局部),其中主要种植水稻的地区是

- A. ①
- B. ②
- C. ③
- D. ④



4. 右侧是《史记》本纪目录(部分),其中卷二应包括的人物传记是

- A. 黄帝、尧
- B. 禹、启
- C. 汤、盘庚
- D. 周文王姬昌、周武王姬发

卷一 五帝本纪第一  
卷二 夏本纪第二  
卷三 殷本纪第三  
卷四 周本纪第四

5. 东周初期,都城发生饥荒,周王室向鲁国求助;鲁国粮食有限,只得又向宋、卫等国请求代买粮食。周襄王死后,周王室大臣请求诸侯给予丧葬费用。材料反映出当时
- A. 周王室管辖范围大大缩小
  - B. 初步确立严格的社会等级制度
  - C. 鲁国成为中原地区的霸主
  - D. 周王室依赖诸侯国的经济支持

6. 下表是一位同学整理的战国时期社会变化的笔记,①处应填写

生产力发展	①
社会(生产)关系变化	允许土地买卖,新兴地主阶级势力增强

- A. 铁制工具和牛耕的使用进一步推广
- B. 战争规模逐渐扩大
- C. 各诸侯国统治者开始实行变法改革
- D. 商业活动逐渐活跃



7. 以下是东周时期诸侯国数量的变化。这反映出当时

时期	春秋初期	战国初期	战国中期
诸侯国数量	140 多个	10 多个	7 个

- A. 出现统一趋势
- B. 秦国对东方六国构成威胁
- C. 朝代更迭频繁
- D. 齐、楚等国先后成为霸主

8. 右侧资料卡中的措施产生的影响是

- A. 废除了贵族世袭特权
- B. 确立了新的政治秩序
- C. 改革了户籍制度
- D. 增强了秦国国力

《史记》记载：商鞅颁布法令，尽力于农业生产，收获粮食、布匹多的，免除其徭役和赋税。因经商和懒惰而穷困的，拘执他们的家室作为奴隶。

9. 以下关于孔子思想的内容反映出

孔子的主张	现代人才培养
有教无类	以人为本
君子应当博学多识,具有多方面才干	培养复合型、创造性的人才

- A. 孔子在政治上推崇西周政治制度
- B. 春秋时期注重教育
- C. 孔子的教育思想对后世影响深远
- D. 儒家主张实行德政

10. 战国时期,齐国创建稷下学宫,诸子百家的学者都在此自由发表学术见解,不少人被“受上大夫之禄”。各家学者纷纷聚众讲学,著书立说。由此可见战国时期

- A. 私学开始兴起
- B. 各家学派治国主张接近
- C. 思想学术繁荣
- D. 法家思想受到国君重视


11. 以下一组文物图片的主题应为,秦朝



秦石权



秦半两钱



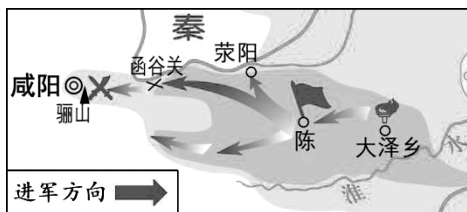
始皇诏方升



- A. 巩固统一的措施
- B. 青铜工艺的进步
- C. 推行统一的货币
- D. 道路交通的发展

12. 右侧地图表现的史实是

- A. 秦灭六国
- B. 陈胜、吴广起义
- C. 楚汉之争
- D. 西汉的建立



13. 《史记》记载,汉文帝认为没必要用很多士兵保卫安全,于是撤销了警卫部队;削减了宫廷所用的马匹;在位 23 年没有再建宫殿、园林。材料反映出汉文帝

- A. 鼓励开荒
- B. 减轻刑罚
- C. 减免赋税
- D. 提倡节俭

14. 西汉前期,富商大贾蓄积财物,冶铸煮盐,家财积累到万金,却不帮助解决国家急难,百姓陷于重困之中。为此,汉武帝采取的措施是

- A. 休养生息
- B. 盐铁专卖
- C. 平定叛乱
- D. 合并郡县

15. 以下汉武帝采取的措施产生的影响是

中央	在长安兴办太学,以《诗》《书》《春秋》等作为教材
地方	“天下郡国皆立学校”,学习经过孔子整理的先秦古籍

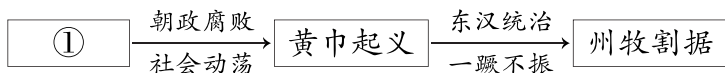
- A. 打破官府垄断教育
- B. 诸子百家学说兴起
- C. 儒学居于主导地位
- D. 文学艺术繁荣发展

16. 以下是秦汉时期实行的措施,其共同作用是

秦朝	西汉
在各郡设立监察御史,监察郡内官员。在县设置郡监,监察各县官员。郡县官员每年要把辖区内人口数量、生产状况向上级汇报。	建立刺史制度,刺史代表朝廷监督州部的官吏。在郡设置督邮,负责监督所属县的官吏违法行为,查清罪状,上报郡守。

- A. 完善了官员选拔制度
- B. 彻底打击了豪强势力
- C. 促进各地经济的交流
- D. 有利于加强中央集权

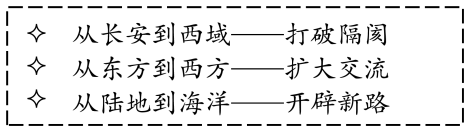
17. 以下示意图中①处应为



- A. 卫青率军反击匈奴  
B. 东汉建立光武中兴  
C. 外戚宦官交替专权  
D. 曹操统一北方地区

18. 一位同学进行“两汉时期的中外交往”专题学习,以下是研究报告目录。其中为“打破隔阂”做出直接贡献的历史人物是

- A. 汉景帝  
B. 董仲舒  
C. 张骞  
D. 华佗



19. 甘肃旱滩坡东汉末年的古墓(等级规格不高)中出土了牛车模型,车厢裱有三层纸,纸面平整,经过了洗涤、蒸煮、打浆、抄纸等工序。考古发现反映出

- A. 东汉时期纸的价格昂贵  
B. 纸完全取代简帛成为书写材料  
C. 造纸术辗转流传到西方  
D. 造纸术的改进推广了纸的使用

20. 诸葛亮曾建议刘备占据荆州、益州,与曹操、孙权三分天下。为“三分天下”奠定基础的是

- A. 长平之战  
B. 官渡之战  
C. 赤壁之战  
D. 淝水之战

21. 《中国人口史》一书认为,东汉末年人口数量的谷底大致在 2224 万—2361 万之间,而到三国末期达到 3000 万人。这说明三国时期

- A. 经济有所恢复  
B. 魏蜀吴形成对峙  
C. 魏国实力最强  
D. 东吴造船业发达



22. 秦和西晋两个朝代的共同之处是

- ①结束分裂完成了统一  
②大封同姓诸王导致发生战乱  
③王朝存在的时间短暂  
④小篆作为通用文字颁行全国  
A. ①②  
B. ①③  
C. ①④  
D. ②④

23. 据西晋史料记载,内迁的少数民族,如鲜卑说自己是黄帝之子的后裔,匈奴的铁弗部自称是大禹的后代。这反映出内迁民族

- A. 认同中原地区的文化  
B. 反抗西晋的腐朽统治  
C. 结束了政权分立局面  
D. 人口快速增长并迁徙

24. 一位同学进行主题学习,搜集了东晋后期北民南迁的数据、南朝青瓷莲花尊图片、南朝时水稻种植开始育秧移栽的文献材料等。他研究的主题应为

- A. 东晋政权的兴亡  
B. 南朝政权的更迭  
C. 海外交流的兴盛  
D. 江南地区的开发

25. 下表中①处应为




朝代	东汉	魏	南朝
人物	张衡	刘徽	①
计算数值	3. 16	3. 1416	3. 1415926 <math>\pi</math> 3. 1415927

- A. 张仲景  
B. 贾思勰  
C. 祖冲之  
D. 顾恺之

## 第二部分 材料分析题 (共 50 分)

### 26. (16 分) 中国古代治水活动

#### 材料一

①	②	③
		
距今约 5000 年的良渚古城防洪堤坝系统遗址。	表现大禹改堵为疏, 引流入海的绘画作品。	战国时期, 秦国的灌溉工程郑国渠遗址。

(1) 有学者指出, 史前时期我国先民已经开始治理水患。材料一中能证明这一观点的材料是 \_\_\_\_\_, (2 分, 写序号) 并说明理由。(2 分)

**材料二** 都江堰和灵渠是秦人修建的两大重要水利工程。都江堰采用无坝引水形式建设, 既实现有效泄洪, 又保证农业灌溉, 使成都平原成为沃野, 为秦军征战提供了必要的粮草保障。灵渠是世界上最古老的运河之一, 沟通了湘江与漓江。灵渠穿越丘陵地带, 坡大水急, 不利于行船, 为此灵渠修得弯弯曲曲, 使水流平缓, 保障了秦军南征的粮食和物资供应, 此后一直是岭南与中原往来的交通要道。

——摘编自乔向军《地理视角下的中国古代水利工程》

(2) 依据材料二并结合所学, 分别指出都江堰和灵渠在秦的发展过程中所起的历史作用。(4 分)



#### 材料三 中国古代(部分时期)主要治水次数

历史时期	春秋	战国	秦	汉	三国	晋	南北朝
次数	6	8	1	56	24	16	20

——整理自冀朝鼎《中国治水活动的历史发展与地理分布的统计表》

(3) 依据材料三, 指出治水次数最多的历史时期。(2 分) 结合所学, 分析其次数多的原因。(4 分)

**材料四** 大禹改“堵”为“疏”, 体现了先民的智慧。他“居外十三年, 过家门不敢入”“身执耒耜, 以为民先”。李冰创新了前人的治水方法, 在岷江江心“壅江作栅(指鱼嘴)”, 并创造性地“凿离堆(指宝瓶口)”, 使水利工程发挥了综合作用。

——摘编自马富兰《都江堰水文化建设的辩证思考》

(4) 综合以上材料, 谈谈你对中华民族治水的认识。(2 分)

## 27. (18分) 社会制度的产生与发展

材料一 陕西榆林的石峁遗址距今约4000多年,面积逾400万平方米,以石砌的内城和外城拱卫着一块有护墙的台地,这是石峁城址的核心区域,已具备了早期“宫城”的性质。石砌的墙垣不仅是防御设施,还具有神权或王权的象征意义。这里还发现了玉器、壁画等象征身份等级的物品,以及铸铜、制骨等早期“核心技术”的生产遗存。遗址中的墓葬分四类,墓葬规模由大到小,随葬品由多到少,四类墓葬极可能代表了四个不同阶层的人群。



石峁玉头像

——摘编自孙周勇等《石峁遗址的考古发现与研究综述》

(1) 写出与石峁古城年代最接近的王朝。(2分) 中华文明探源工程提出进入文明社会的标准:生产发展,出现城市;阶层分化,出现阶级;出现王权和国家。依据材料一,说明石峁古城符合文明社会标准的理由。(4分)

材料二 周朝建立后逐渐形成了“天下—国—家”的权力配置结构。天子统领天下,天下之内有诸国,诸国之内又有家,国与家都采取世袭制。起初这种治理结构有利于保证地方政权的建立和稳固,从而推进了中央统一和地方稳定。秦统一后,新的权力配置促成了新的社会统一和整合,各级政府官员基本都由中央统一任命,从而对国家统一和地方社会稳定做出贡献。

——摘编自刘凤雪《国家权力的纵向配置对社会稳定的影响》

(2) 依据材料二,分别写出西周和秦朝实行的政治制度。(4分) 说出这两种制度的共同作用。(2分)

材料三 刘邦建立汉家帝业,一方面要继承秦的制度,另一方面实行一千余年的旧制度具有强大的惯性,尊重这种传统才能取得楚、齐等地贵族民众的支持,因此西汉初期建立诸侯国,推行郡国并行制。这种做法在汉初有利于政治秩序的稳定,但也带来一系列问题。汉武帝以后,诸侯王占地不过一郡,他们失去直接治民统兵的权力,已经无法与朝廷抗衡了。




——摘编自孟祥才《先秦秦汉史论》等

(3) 依据材料三并结合所学,说明刘邦推行郡国并行制的原因及其带来的问题。(4分) 指出汉武帝解决这一问题的措施。(2分)



28. (16分) 遗址、遗迹是认识历史的重要依据

材料一 以下是殷墟出土的文物

①	②	③
		
<p>刻辞卜甲,刻辞内容主要包括祭祀、祈雨等贵族的占卜记录。</p>	<p>车马坑,葬1车、2马、1人,呈现了车辆的大体结构及部分构件的尺寸。</p>	<p>“后母辛”青铜方鼎,高80.1厘米,长64厘米,四面及转角饰兽面纹,雷纹作底。</p>

(1) 材料一中的考古成果反映了\_\_\_\_\_朝的历史。(2分) 任选一项考古成果,仿照示例说明这一时期的发展状况。(4分,示例除外)

示例:②;反映了当时畜力车技术,说明这一时期交通工具的发展。



材料二 秦始皇陵

<p>文献史料</p>	<p>文献一:以水银为百川江河大海,机相灌输(做机关使之互相流通),上具天文,下具地理。 ——《史记·秦始皇本纪》</p> <p>文献二:秦始皇帝葬于骊山之阿,下锢三泉(用熔化的金属堵塞地下水),上崇三坟,其高五十余丈(约今115米),周回五里(约今2070米)有余。 ——《汉书·刘向传》</p>
<p>考古发现</p>	<p>考古发现①:在陵墓周围发现了由夯土层、阻水渠、青膏泥(隔水性强的材料)构成地下阻、排水系统。</p> <p>考古发现②:在秦始皇陵封土堆发现了汞(水银)含量异常现象,其中封土堆东南部汞异常强。</p>

(2) 依据材料二,指出与文献一直接相关的考古发现是\_\_\_\_\_。(2分,写序号)与文献二直接相关的考古发现是\_\_\_\_\_。(2分,写序号)结合所学,分析秦朝灭亡的原因。(2分)

材料三 北魏在旧都平城(今山西大同)开凿云冈石窟,造像粗犷、丰满,早期造像的部分衣服多短且窄,具有游牧民族的特点。北魏太和年间,在新都洛阳营造龙门石窟,摒弃了云冈石窟的部分特点,造像变得清秀、优美,可谓“秀骨清像”;服装则多为“褒衣博带”(宽松的袍服,系阔带)。两大石窟均为世界文化遗产,是保存至今已逾千年的艺术瑰宝。

——摘编自周苏《北魏中晚期云冈、龙门石窟的比较研究及其文化融合》

(3) 依据材料三,比较从云冈石窟到龙门石窟造像的变化。(2分)结合所学,分析发生变化的历史背景。(2分)