

学校_____ 班级_____ 姓名_____ 考号_____

考生须知

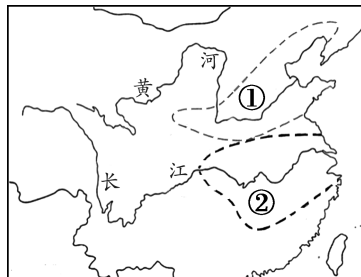
1. 本试卷共 8 页,共两部分。满分 70 分。考试时间 70 分钟。
2. 在试卷和答题卡上准确填写学校名称、班级、姓名和考号。
3. 试题答案一律填涂或书写在答题卡上,在试卷上作答无效。
4. 在答题卡上,选择题用 2B 铅笔作答,其他试题用黑色字迹签字笔作答。
5. 考试结束,请将本试卷和答题卡一并交回。

第一部分 选择题(共 30 分)

本部分共 20 小题,每小题 1.5 分,共 30 分。在每小题列出的四个选项中,选出最符合题目要求的一项。

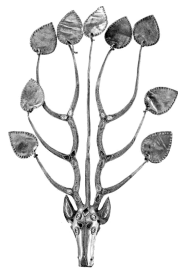
1. 右侧是《公元前 7000-公元前 5000 年中国两大农业区图》,其中①区域主要种植的粮食作物是

- A. 粟
- B. 稻
- C. 小麦
- D. 玉米



2. 战国时期,生产力水平不断提高,推动社会结构发生重大变化;同时,兼并战争日益激烈,要求各国实行君主集权,建立更严密的管理体制。以上内容说明的是
- A. 铁器牛耕推广的原因
 - B. 商鞅变法的背景
 - C. 秦国完成统一的过程
 - D. 百家争鸣的影响
3. 汉初,各地诸侯国以各自诸侯王在位的时间纪年。公元前 110 年,汉武帝创制“元封”年号,规定全国统一使用皇帝的年号纪年。这一作法
- A. 改善了国家的财政状况
 - B. 废除了汉初分封的诸侯国
 - C. 有利于巩固大一统王朝
 - D. 将儒家学说立为正统思想

4. “步摇”是古人的头饰,从汉代到魏晋南北朝逐渐流行,最初以中原地区的凤鸟、花枝等造型为主。右侧这件南北朝时期鲜卑族的金步摇,融入了游牧生活常见的马、鹿等造型。这件文物可用于研究



马头鹿角金步摇

- A. 汉代手工业技术的成熟
- B. 南北朝时期的民族交融
- C. 北魏时期农业技术进步
- D. 书法、绘画艺术的发展

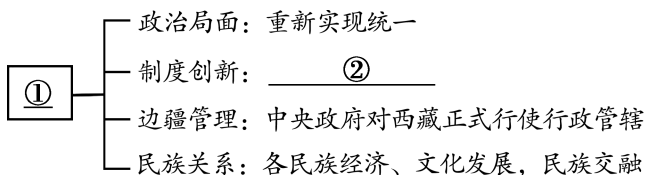
5. 唐代音乐、舞蹈、雕塑吸收了波斯、天竺等外来艺术精华;人们的衣食住行、娱乐活动等也多受西北少数民族习俗影响。这些反映了当时

- A. 北方游牧民族文化成为主流
- B. 繁荣的海外贸易和商品经济
- C. 唐朝文化对周边国家的影响
- D. 开放的社会风气和文化自信

6. 从 750 年(安史之乱前)到 1200 年,长江下游的人口增长了 643%,长江中游增长率为 483%,闽浙地区高达 695%;而华北人口在这一时期的增长只有 52%。这种变化产生的影响是

- A. 南朝时期江南地区得到了开发
- B. 这一时期中央集权不断加强
- C. 辽宋夏金时期多民族政权并立
- D. 这一时期经济重心逐渐南移

7. 以下示意图表现了某一朝代在中国历史上的贡献。其中①②处分别应为



- A. 北魏、魏孝文帝改革
- B. 隋朝、开凿大运河
- C. 元朝、创立行省制度
- D. 清朝、设立军机处

8. 右侧两幅绘画作品反映的共同主题是

- A. 统一多民族国家的巩固和发展
- B. 清朝前期社会经济的发展
- C. 清朝君主专制的强化
- D. 清朝前期的文学艺术



顺治皇帝会晤五世达赖图



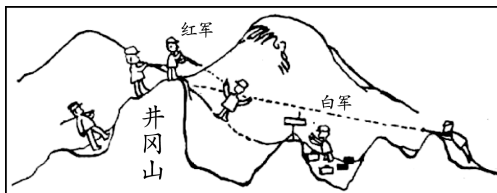
清军平定大、小和卓叛乱图

9. “从甲午中日战争后仿效日本,改革制度;到 20 世纪初仿效美国,追求共和,这些都是近代历史上先进中国人的艰辛探索。”材料中的两次“仿效”是指

- A. 太平天国运动、洋务运动
- B. 洋务运动、戊戌变法
- C. 戊戌变法、辛亥革命
- D. 辛亥革命、新文化运动

10. 右侧是 1928 年红军战士用土制画笔,蘸上锅底灰调制的颜料绘制的壁画。作品反映了

- A. 北伐的胜利进军
- B. 农村革命根据地的创建
- C. 红军长征的胜利
- D. 敌后抗日根据地的发展



工农红军井冈山三团十一连战士绘(局部)

11. 军事历史学家富勒指出：日本既没有足够兵力控制印度洋的战略要点，也没有足够兵力在太平洋上拼死一战，这是由于中国抗战给整个二战进程和结局带来重大影响的结果。他意在强调

- A. 日本帝国主义侵略不断加剧
- B. 反法西斯同盟国的相互配合
- C. 抗日战争得到了世界上爱好和平与正义的国家的支持
- D. 中国战场对世界反法西斯战争的胜利作出了巨大贡献



12. 以下是一位同学分项整理的共和国英模人物。其中①处应为

“最可爱的人”	①	航天英雄
黄继光、邱少云	焦裕禄、王进喜	杨利伟、翟志刚

- A. 社会主义建设的楷模
- B. 取得杰出贡献的科学家
- C. 改革开放事业的先锋
- D. 推动文化繁荣的艺术家

13. 一位学者说：1980年中国打开了第一扇窗，开启了融入世界的进程，最鲜明的特点是从沿海到沿江、沿边，从东部到中西部，大门毅然决然地打开了。材料描述的是我国

- A. 农村生产力的解放
- B. 全方位对外开放格局的形成
- C. 城市改革全面展开
- D. 社会主义市场经济体制建立

14. 15世纪，意大利的一些画家重视现实世界的写实，甚至宗教绘画中的人物也有穿当时服装的，有时还将买画的人的形象嵌入宗教画中。这反映出

- A. 宗教题材绘画彻底消失
- B. 意大利画家的技艺不断提高
- C. 资产阶级赞助画家创作
- D. 人文主义思潮逐渐影响绘画

15. 一位同学进行单元主题学习，综合分析了《权利法案》《独立宣言》《人权宣言》《拿破仑法典》四部文献。他学习的主题应是

- A. 走向近代
- B. 资本主义制度的初步确立
- C. 资本主义制度的扩展
- D. 第二次工业革命和近代科学文化

16. 1850-1914年间，欧洲工人阶级中的很多人要通过“无产阶级专政”实现阶级目标，这是对20世纪产生深刻影响的运动。推动这一运动的是

- A. 工场手工业的出现与发展
- B. 英国爆发“光荣革命”
- C. 马克思主义的诞生与传播
- D. 殖民地人民的反抗斗争

17. 1921年，列宁意识到农民们陷入了危机，他们把余粮交给政府而换回的只是没有价值的纸币。列宁决定“把时间往回拨一下”，于是农民受到激励，种植更多的谷物并在市场上出售。其中“把时间往回拨”是指

- A. 领导十月革命
- B. 实行战时共产主义政策
- C. 实施新经济政策
- D. 完成两个五年计划

材料二 19 世纪末 20 世纪初以来,欧洲和北美地区越来越多的妇女成为劳动者。两次世界大战期间,众多青年男子应征入伍,这意味着需要更多女性来填补他们在工厂的岗位,而妇女角色的变化也体现在了冬奥会赛场上。

女运动员参加冬奥会情况(部分)

冬奥会	女运动员人数	女运动员所占比例	女运动员参与项目情况
1924 年	13	5.0%	花样滑冰是当时女性唯一能参加的项目
1948 年	77	11.5%	女运动员还可以参加滑雪等竞技项目
1998 年	787	36.2%	新增加女子冰球作为冬奥会正式比赛项目
2022 年	1314	45.4%	增加女子单人雪车、女子自由式滑雪大跳台项目

(2) 依据材料二,说出冬奥会女运动员参赛情况的发展趋势。(2 分)结合所学,分析出现这些趋势的原因。(1 分)

材料三 最初的几届冬奥会,观众只能现场观看。1956 年冬奥会第一次用电视进行了转播。2002 年冬奥会开始尝试网络直播。2022 年北京冬奥会,依托我国的 5G 等专利技术和来自多个国家的设备支持,同时借助跨国企业、新数字媒体等,形成了全球传播网络。

——摘编自刘兴华《“数字冬奥”掀开数字全球化的新篇章》

(3) 依据材料三,指出冬奥会观赛方式的两次变化。(2 分)结合所学,分析 21 世纪以来冬奥会进一步广泛传播的原因。(2 分)



22. (11分)21世纪是海洋的世纪,海洋秩序在国际关系中的分量更加凸显。

材料一 15世纪以前,中国处于亚洲海洋秩序的中心,扮演了主导角色。我国古代大规模的航海活动大都是在政府支持下进行的。秦汉时期,我国造船业就很先进。隋唐以后,航海走向全面繁荣。两宋时期,我国取得了以罗盘导航为标志的航海技术重大突破;当时中国的GDP约占全球的50%,海上贸易更是远航至西亚等地。明朝前期,中国主导亚洲海洋秩序的能力达到了顶峰。

——李亚敏等《国际海洋秩序演进中的中国》

(1)依据材料一,概括15世纪以前中国主导亚洲海洋秩序的原因。(2分)列举中国古代依托稳定的海洋秩序进行中外交往的史实。(2分)

材料二 15、16世纪以后,世界进入了海权时代。西方主要殖民国家先后成为海上强国,依托经济和军事实力,在海洋秩序中占有绝对优势地位。

海军军力高度集中的年份和国家

海军军力集中率达到或超过50%以上的年份(部分)	海军军力超过50%以上的国家
1502-1544	葡萄牙
1594-1597	西班牙
1608-1619,1624	荷兰
1809-1812,1814-1834,1854-1857,1861,1868-1869	①
1944-1991	美国

——摘编自王雷等《试论以权益为中心的海洋秩序》

(2)依据材料二并结合所学,指出世界进入海权时代的历史背景。(1分)指出材料二中①代表的国家并结合史实说明判断理由。(3分)

材料三 我国是陆海兼备的濒海大国。当前我国对外贸易量的90%通过海上运输完成,多数原油进口依赖海运;我国在海洋渔业、海运业以及造船业等领域位居世界第一。中国积极参与全球海洋治理体系,例如:中国海军进行多批次亚丁湾反海盗护航行动。中国还推动开放包容的全球海洋秩序,“海洋命运共同体”等理念代表着人类共同利益,得到了国际社会的积极回应。

——摘编自刘笑阳《海洋强国战略研究——理论探索、历史逻辑和中国路径》

(3)依据材料三并结合所学,分析和平稳定的海洋秩序对我国的意义。(2分)概括中国在全球海洋秩序中发挥的作用。(1分)



23. (9分) 在中国共产党的百年历史中,先后形成了三个历史决议。

材料一

历史决议	时间	背景及意义
《关于若干历史问题的决议》	1945年 4月	在争取抗战最后胜利的关头,中华民族由衰败走向复兴的转折点上,“统一了全党的认识,加强了全党的团结”,为党的七大成功召开做了重要准备。
《关于建国以来党的若干历史问题的决议》	1981年 6月	在党的十一届三中全会后,决定当代中国前途命运的历史转折时期,激发起全党“团结一致向前看”,全心全意推进社会主义现代化建设的信心和动力。
《中共中央关于党的百年奋斗重大成就和历史经验的决议》	2021年 11月	在“两个一百年”奋斗目标的历史交汇时期,进一步加强了全党的团结统一,为建设社会主义现代化强国和实现中华民族伟大复兴汇聚了磅礴精神力量。

——整理自肖贵清《整体性视域下中国共产党百年党史的三个〈历史决议〉》

(1) 依据材料一,分别写出1945年、1981年两个历史决议形成的背景。(2分)从背景、意义等方面概括三个历史决议的共同特点。(2分)

材料二 《中共中央关于党的百年奋斗重大成就和历史经验的决议》将党的百年历史分为四个历史时期

历史时期	伟大成就
新民主主义革命时期	①
社会主义革命和建设时期	②
改革开放和社会主义现代化建设新时期	③
中国特色社会主义新时代	中华民族迎来了从站起来、富起来到强起来的伟大飞跃。

(2) 将以下伟大成就填入材料二中相应位置。(3分,写字母)

- A. 成立中华人民共和国,实现了中国从几千年封建专制政治向人民民主的伟大飞跃。
- B. 推进了中华民族从站起来到富起来的伟大飞跃。
- C. 实现了一穷二白、人口众多的东方大国大步迈进社会主义社会的伟大飞跃。

(3) 从材料二的四个历史时期中任选一个时期,用史实说明其伟大成就。(2分)



24. (9分)北京道路交通的历史与现实。

材料一

燕蓟地区是秦汉帝国通往东北道路的中枢，主要服务于军事活动。以交通为基础，燕蓟地区商贸活跃，进一步巩固了其北方军事重镇的地位。

金朝定都中都后，以其为中心修整北方主干道。金中都作为当时北方的统治中心，城市人口日益增多，为满足中都对粮食的需要，金朝开始建设漕运。

元大都作为统一王朝的都城，由以前的区域交通枢纽上升为全国交通中心。每年有数百万石粮食和物资通过漕运从江南运抵大都，运河成为维系都城政治稳定和经济繁荣的大动脉。

秦汉时期——燕蓟地区

金代——金中都

元代——元大都

(1) 依据材料一并结合所学，填写以下北京城市地位变化示意图。(2分) 说明北京城市发展与交通之间的关系。(1分)

秦汉时期：北方军事重镇

金代：①

元代：②

材料二 1865年，英国人最先在宣武门附近修建了一条500米长的铁路。后来，李鸿章等官员多次提出在北京修建铁路的重要性。清末，京奉、京汉、京张铁路先后通车，形成了以北京为中心的铁路网。以前从北京至汉口走驿路要27天，铁路建成后，从北京至汉口乘火车只需两天半。铁路还逐渐成为南北运输的主力，改变了此前主要靠河运和海运的局面。1915年，为通行便利，北京修建环城铁路。



从朝阳门城楼和箭楼间穿过的铁路

——摘编自陈双辰《古都之承》

(2) 依据材料二并结合所学，说出近代北京铁路建设的背景。(1分) 概括近代北京铁路建设的影响。(2分)



材料三 北京市居民出行方式(部分)比例统计

年份	公共电汽车	地铁	小汽车	出租车	自行车
1986	29.3%		5.2%	0.4%	65.1%
2000	27.3%		24.0%	9.0%	39.7%
2006	24.4%	5.8%	31.6%	8.1%	27.7%

近年来，北京城市交通拥堵的原因之一是公共交通分担率不高，作为应对措施，北京近年来大力发展轨道交通等公共交通，到2021年底，北京城市轨道交通运营里程已达783公里，到2025年预计达1600公里。

——摘编自毛保华等《北京城市交通发展的历史思考》等

(3) 依据材料三，说出1986-2006年北京市居民出行方式的主要变化。(2分) 结合自己的生活或城市发展，对居民的出行方式提出建议。(1分)