



# 大兴区 2020-2021 学年第一学期期末考试

## 初三历史试卷

2021.1

### 第一部分 选择题

本部分共 20 小题，每小题 1.5 分，共 30 分。在每小题列出的四个选项中选出最符合题目要求的一项。

1. 下列出土的考古发现说明我国



玉蟾岩遗址出土的稻谷

(距今约 12000 多年至 10000 年)



河姆渡遗址出土的稻谷

(距今约 7000 年)

- A. 人工栽培水稻历史悠久
- B. 原始农耕遗址分布广泛
- C. 原始农业生产工具进步
- D. 家畜驯化饲养种类丰富

2. 下面是某班同学编写的话剧剧本提纲(部分)，这部话剧的题目应是

……  
第四幕 舌战群儒：治世不一道，便国不法古  
第五幕 立木取信，法不阿贵，理性变法  
……  
第八幕 身虽死，法犹存，大秦帝国正崛起

- A. 商鞅变法
- B. 百家争鸣
- C. 贞观之治
- D. 戊戌变法

3. 太学，始创于西汉武帝时期，鼎盛于东汉，对后世国家教育产生了深远的影响。下列与兴办太学有关的历史事件是

- A. 盐铁专卖
- B. “推恩令”
- C. “独尊儒术”
- D. 北击匈奴

4. 以下材料的共同作用是：

苻坚任用汉人王猛为丞相，整顿吏治，厉行法治，加强集权，招抚流民，减赋禁奢，兴办学校，提倡

北魏孝文帝迁都洛阳，规定官员在朝廷中必须使用汉语，以汉服代替鲜卑服，改鲜卑姓为汉姓，鼓励

|    |             |
|----|-------------|
| 儒学 | 鲜卑贵族与汉人贵族联姻 |
|----|-------------|

- A. 巩固了边疆统治  
B. 加强了中外交往  
C. 促进了经济发展  
D. 有利于民族交融

5. 下面材料共同说明了唐代

|   |
|---|
| 北方和西北地区的各族首领尊奉太宗为“天可汗”<br>641年文成公主入藏嫁给吐蕃的松赞干布<br>唐玄宗封渤海国首领为渤海郡王 |
|---|

- A. 社会风气开放      B. 对外交往活跃      C. 经济生产繁荣      D. 民族关系和睦

6. 下表《北宋前四朝宰相人数统计表》，可用于说明宋代

| 时期  | 宰相人数 |
|-----|------|
| 太祖朝 | 6    |
| 太宗朝 | 9    |
| 真宗朝 | 11   |
| 仁宗朝 | 23   |

- A. 市民文化丰富      B. 海外贸易发展  
C. 民族关系融洽      D. 宰相权力削弱

7. 某历史公众号准备推送一期专题——古代中外交往。下列各项可以放进专题资源包的是

- ①地图：《玄奘西行与回国路线图》②图片：《日本奈良唐招提寺内的鉴真像》  
③论文：《关于曹雪芹<红楼梦>评价历史人物曹操的思考》④纪录片：《郑和下西洋》

- A. ①②④      B. ①②③      C. ②③④      D. ①③④

8. 以下机构设置的共同作用是

|      |     |       |     |
|------|-----|-------|-----|
| 西域都护 | 宣政院 | 澎湖巡检司 | 台湾府 |
|------|-----|-------|-----|

- A. 促进农业生产的发展      B. 加强宗教事务的管理  
C. 促进对外贸易的活跃      D. 加强边疆地区的管辖

9. 鸦片战争是中国近代史的开端。以下能够说明这一观点的是

- ①中国丧失了完整独立的主权②中国的社会性质发生改变  
③中国社会的自然经济遭到破坏④中国民族资产阶级得到发展



A. ①②④

B. ①③④

C. ①②③

D. ②③④

10. 对以下材料理解正确的是

①1895年春，清政府与日本签订了中日《马关条约》，允许日本在通商口岸开设工厂

②《辛丑条约》的签订标志清政府沦为帝国主义列强统治中国的工具

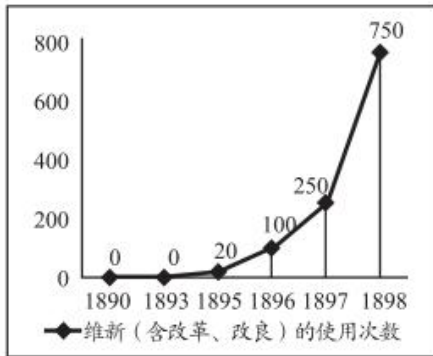
A. ①属于结论

B. ①说明《马关条约》破坏了中国的领土主权

C. ②属于史实

D. ②说明《辛丑条约》使中国完全沦为半殖民地半封建社会

11. 下表是清末维新（含改革、改良）这一词语的使用次数统计，可用于说明



A. 洋务运动一定程度上抵制了外国资本的入侵

B. 维新思想得到广泛的传播并产生持久的影响

C. 戊戌变法改变了清王朝旧有的君主专制统治

D. 义和团运动沉重打击了列强瓜分中国的野心

12. 下列图片反映出的中国近代史的历史发展线索是



江南制造总局制炮厂

孙中山就任中华民国临时大总统

《青年杂志》

A. 逐步沦为半殖民地半封建社会

B. 对外反抗帝国主义侵略

C. 逐步由表及里学习西方近代化

D. 对内反对封建专制统治

13. 下侧漫画①处应填写的内容是





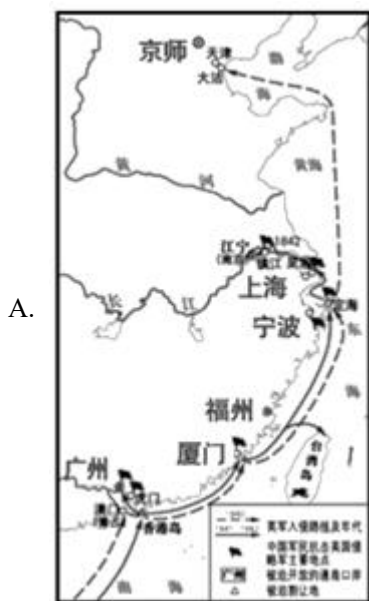
- A. 新文化运动      B. 五四运动      C. 京汉铁路大罢工      D. 一二·九运动

14. 中国共产党的诞生，是中国历史上开天辟地的大事。自从有了中国共产党，中国革命的面貌就焕然一新了！得出这一结论的依据有

- ①中国革命有了新的领导力量      ②新三民主义是新的奋斗方向  
 ③社会主义、共产主义成为革命的奋斗目标      ④马克思主义成为中国革命的指导思想

- A. ①③④      B. ①②④      C. ①②③      D. ②③④

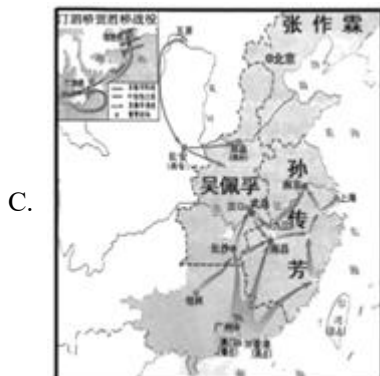
15. 要了解北伐战争的历史，可以查阅的地图是



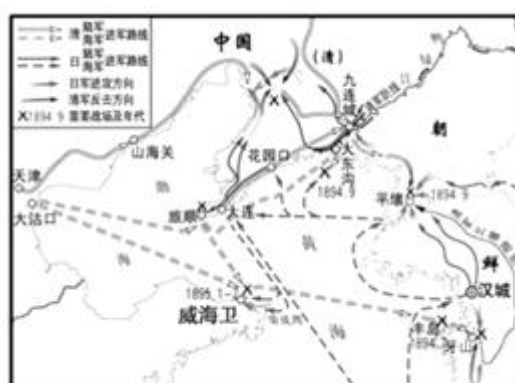
A.



B.



C.



D.

16. 毛泽东是伟大的革命家政治家、军事家、思想家，同时又是独领风骚的诗词巨匠。下列毛泽东诗词作品按时序排列正确的是





21. 创新·发展·合作

材料一①兼制天下，立七十一国，姬姓独居五十三人，而天下不称偏焉。

②裂都会而为之郡邑，废侯卫而为之守宰……摄制四海，适于掌握之内。

③命克（召公长子）做奭（燕，即北京）的诸侯，管理和使用羌族……馭族、微族。

④行中书省，凡十一，秩从一品，掌国庶务，统郡县，镇边鄙，与都省为表里。

⑤南取百越之地，以为桂林、象郡；百越之君，俯首系颈，委命下吏。

（1）用材料一的史实，说明以下观点。（填序号，每空多选、少选、错选均不）

分封诸侯，有利于加强周王朝对地方的控制，巩固疆土：\_\_\_\_\_

中央直接管辖地方，有利于防止地方割据分裂，维护秦朝的统一：\_\_\_\_\_

地方长官作为中央的派出机构，有利于加强元朝的中央集权管理：\_\_\_\_\_

材料二 1894年，张謇开始创办大生纱厂。到了20世纪的一二十年代，大生纱厂已成为亚洲最大一家纺织企业。此外，张謇还在南通兴建了师范学校、博物院、育婴堂、养老院，甚至还有教戏曲的伶工学社等等。一份1920年出版的世界地图上，没有上海，没有杭州，没有南京，南通却被醒目地标出来。

——摘编自《著名状元实业家——张謇》

（2）依据材料二并结合所学，概括张謇创办大生纱厂等实业的影响。

材料三 美国在十九世纪迅速向西扩张，形成所谓西进运动，开始修建横跨大陆的铁路干线。到第一次世界大战开始时，美国的铁路总长相当于世界铁路总长度的三分之一。内战让科学技术是第一生产力的观念深入人心。十九世纪晚期，内燃机被广泛用作农业机器的发动机，美国人在发明和运用农业机器方面走在世界各国的前列……在十九世纪的最后三十年，美国在生产总量方面赶上并超过了英国。

——摘编自《西欧北美工业革命》等

（3）依据材料三，指出美国“十九世纪的最后三十年，在生产总量方面赶上并超过了英国”的原因。

材料四

| 联合国大事年表（部分） |  |
|-------------|--|
| 1956年       | 第二次中东战争爆发后，联合国向埃及的西奈半岛派遣了联合国紧急部队，成为联合国第一支维和部队        |
| 1971年       | 联合国通过了77国集团起草的《关于建立国际经济新秩序的宣言》和《行动纲领》等文件，推动众多国际问题的解决 |
| 2002年       | 联合国设立千年发展目标非洲指导小组，旨在加强非洲保健、教育、农业和粮食保障、基              |

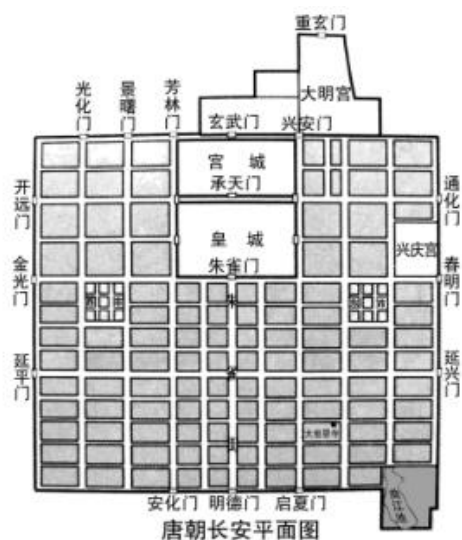


|        |   |
|--------|---|
|        | 基础设施和统计系统等 5 个领域的国际实施机制   |
| 2013 年 | 联合国马里多层面综合稳定特派团有中国维和部队，包括 1 支 155 人工兵分队、1 支 170 人警卫分队和 1 支 70 人医疗分队 |

(4) 依据材料四，概括联合国成立 75 年来的作用。

## 22. 城市是凝固的历史记忆。

材料一



长安是汉、唐两朝的政治、经济和文化中心，在唐代达到其全盛时期：周围约 35 公里，人口约 100 万，市坊整齐，店肆林立。西域人和北方民族大量移居长安，使长安的市面也变得国际化。

——摘编自刘迎胜《丝绸之路》

(1) 依据材料一，概括唐朝时长安城的特点。

材料二 武汉是一座英雄的城市。某班同学进行相关研究，查阅到以下考察地点：

|   |  |  |
|---|--|--|
| <p>①辛亥革命博物馆</p> <p>作为辛亥首义之地，展览设计中侧重表现辛亥革命在武汉发生的历史机遇与必然</p>                | <p>②两湖书院旧址</p> <p>1890 年创建，开设兵法、天文、数学、测量、化学、博物等科目，分期派遣留学生到日本、法国等国学习</p>        | <p>③中共中央组织部遗迹</p> <p>随着武汉成为大革命的中心，中共中央也陆续将机关迁至武汉。1926 年底武汉三镇工人达 20 万人。武汉党组织壮大了队伍</p> |
| <p>④汉口“八七会议”会址纪念馆</p> <p>一间 10 余平方米的小屋便是八七会议召开处，毛泽东首次提出“枪杆子里面出政权”著名论断</p> | <p>⑤张之洞与武汉博物馆</p> <p>馆内收藏了汉阳造枪支弹药、汉阳铁厂界碑和汉阳铁厂投产纪念碑等，展示了张之洞兴实业、练新军、修铁路等主要业绩</p> | <p>⑥武昌起义纪念馆</p> <p>湖北军政府旧址上修建而成，因旧址红墙红瓦，武汉人称之为“红楼”。武昌起义成功后，革命党人进驻这里，“红楼”也被尊崇为“民</p>  |

|  |  |      |
|--|--|------|
|  |  | 国之门” |
|--|--|------|

(2) 从材料二中任意选取两个相关考察地点，概括考察主题并分别说明考察地点与主题的关系。(填写序号即可)

### 材料三

|  |   |   |   |
|--|---|---|---|
| 中国·沈阳  | 美国·华盛顿  | 苏联·斯大林格勒  | 中国·南京   |
|  |  |  |  |
| 图 1.1931 年 9 月   | 图 2.1942 年 1 月  | 图 3.1942 年 7 月~1943 年 2 月   | 图 4.1945 年 9 月  |

(3) 从材料三中任选一幅图片，说出相关史实并说明其与第二次世界大战的关系。

示例：图 4：中国战区受降仪式。中国抗日战争为世界反法西斯战争的胜利作出贡献。

材料四 第三届中国国际进口博览会于 2020 年 11 月 10 日在上海闭幕。本届的主题是“共天地，同风雨，聚进博，享机遇”，共吸引来自 124 个国家的企业参展，其中来自 G20 国家的企业约 1400 家、“一带一路”国家的企业 500 多家。中国国际进口博览局副局长孙成海介绍，虽然目前全球疫情仍在持续蔓延，但各方合作意向热度不减，按一年计，累计意向成交 726.2 亿美元，比上届增长 2.1%。

——摘编自中央广播电视总台中国之声《新闻和报纸摘要》

(4) 依据材料四并结合所学，谈谈对第三届中国国际进口博览会成功举办的认识。

### 23. 江河血脉造就文明古国，在长江中打捞民族记忆。

#### 材料一

| 文明成果   | 时期 | 人物 | 地点 | 成果影响                                     |
|--------|----|----|----|--|
| ①      | 春秋 | 老子 | 楚国 | 中国古代最为重要的原生态思想，为此后长江流域文化的发达提供了独特而深厚的哲学基础 |
| ②      | 战国 | 李冰 | 成都 | 开成都两江，造兴田万顷以上，始皇得其利，以并天下                 |
| 《兰亭集序》 | 东晋 | ③  | 南京 | 被称为“天下第一行书”，成为学习行书的经典                    |
| 活字印刷术  | 北宋 | ④  | 杭州 | 印刷技术的一次革命性进步。传入西方世界，促进了西方文明的进步           |

(1) 从以下文明成果中选取正确内容填入到材料一相应的位置。

- A. 毕昇                      B. 道家学派                      C. 都江堰                      D. 王羲之





材料二 隋朝统一天下后，统治者开挖南北大运河，构建了以大运河为纵轴、长江为横轴联通整个国土的水运系统。到唐代中叶，“安史之乱”导致黄河中下游地区一片荒凉，广大人民无家可依。由此推动了第二次北方人口大量南下长江流域，进一步加强了南方的劳动力人口和生产技术。从此，长江流域经济地位超过黄河流域的格局便大体定型。

——摘编自贺云翱《长江文化，中华文明的壮丽篇章》

(2) 依据材料二，分析长江流域经济地位超过黄河流域的原因。

材料三 明清时代，长江流域已经是人才渊薮（sǒu 人或事物聚集的地方）。美国学者马麦可认为，15至18世纪，苏州儒、商结合的社会精英分子有雄厚的经济实力和文化上的独特创造能力，他们能通过诗礼传家、科举考试等途径，一代一代形成良性循环，从而影响整个江南乃至明代中国。

——摘编自贺云翱《长江文化，中华文明的壮丽篇章》

(3) 依据材料三，概括美国学者的观点并分析得出此结论的依据。

材料四



(4) 近代史上若干重大的里程碑事件都发生在长江一线。请从材料四中任选一座纪念碑，仿照示例，为其撰写介绍词。（示例除外）

示例：渡江胜利纪念碑

1949年4月，人民解放军百万雄师兵分三路横渡长江，占领南京，结束了国民党在大陆的统治。

24. 云实践——探寻“万园之园”的前世今生。

[探源·网络搜索]

材料一 康熙末年，国家基本上完成了统一，呈现兴盛景象。明末清初，大批造园能匠涌入北方，以其精湛技艺进行皇家园林的营造。同时，诸多造园理论书籍的问世，为清代大规模园林建设提供系统的理论指导。康雍乾三帝努力学习汉族文化和政治制度，个人具有良好的文化艺术修养和鉴赏能力，崇尚园林艺术与造园文化。在这样的条件下，成就了这座一代名园。

——摘编自姜贝《圆明园规划布局及其结构研究》

(1) 依据材料一，概括圆明园修建的背景和条件。

[寻踪·研究探析]



材料二 圆明园是清代的一座“离宫型皇家园林”，既有轴线对称、规则整齐的宫殿式布局，也有原始粗犷、建筑疏朗的园林化风景布局。在清中期以后，一些大朝与大宴的典礼与活动，移至圆明园，圆明园实际上是一座园林紫禁城，同是大清王朝的统治中心。

——摘编自何瑜《清代圆明园与紫禁城关系考辨》等

(2) 依据材料二，概括圆明园建筑特点。

[今世·浏览新闻]

材料三 2020年12月1日，圆明园马首铜像在被劫掠160年后正式回家！自圆明园罹难至今，马首先后有过6位藏主。2007年，马首突然现身香港拍卖行图册。国家文物局第一时间表达了终止公开拍卖的坚定立场和促成文物回归的意愿。同年，澳门爱国企业家何鸿燊购得该铜像。并于2019年将马首铜像正式捐赠给国家文物局、划拨原属地圆明园管理处收藏。

——摘编自圆明园遗址公园官网

(3) 依据材料三，指出导致马首铜像流失海外的历史事件。概括马首铜像回归的原因。

[展望·思考感悟]

材料四 马首回家后的存放位置让圆明园管理处犯了愁。在圆明园的最西部，露天存放着大量回归的条石、灰砖。散落在世界各地的圆明园文物也存在保护不力的情况。同时，圆明园内现存的56处建筑遗址、21处叠石遗址、9处夯土遗址，都不同程度地需要经常性的保护，就连人们熟知的大水法，也面临同样的问题。

——摘编自中央电视台《新闻调查 守卫圆明园》

(4) 依据材料四，为圆明园文物和遗址的保护提出可行性建议。





# 参考答案

## 第一部分 选择题

本部分共 20 小题，每小题 1.5 分，共 30 分。在每小题列出的四个选项中选出最符合题目要求的一项。

1. 【答案】A
2. 【答案】A
3. 【答案】C
4. 【答案】D
5. 【答案】D
6. 【答案】D
7. 【答案】A
8. 【答案】D
9. 【答案】C
10. 【答案】D
11. 【答案】B
12. 【答案】C
13. 【答案】B
14. 【答案】A
15. 【答案】C
16. 【答案】C
17. 【答案】B
18. 【答案】A
19. 【答案】B
20. 【答案】B
21. 【答案】(1) ①③ ②⑤ ④ (多选错选不得分)

(2) 促进南通经济实业发展；提升了南通的知名度；促进了我国近代民族工业的兴起和教育事业的发展。（任意两点即可）

(3) 西进运动带来的机遇；交通运输业的快速发展；新的发明创造领先世界；把新技术快速应用到生产中（把新技术转化为生产力）；美国内战结束，促进生产力的发展。（任意三点即可）

(4) 维护世界和平；推进国际合作；促进地区发展。（任意两点即可）

22. 【答案】 (1) 政治经济文化中心；规模大；人口多；布局严整、市坊分开；国际化。（任意三点即可）

(2)

| 主题 1     | 考察地点 | 关系说明                         |
|----------|------|------------------------------|
| 见证中共发展历程 | ③    | 国民大革命在武汉蓬勃发展，推动了工人力量的壮大。     |
|          | ④    | 八七会议在此召开，作出了武装反抗国民党反动统治的总方针。 |
| 主题 2     | 考察地点 | 关系说明                         |
| 引领辛亥革命   | ①    | 这里的文物是辛亥革命的历史见证。             |
|          | ⑥    | 湖北军政府建立，武昌起义取得了胜利。           |
| 主题 3     | 考察地点 | 关系说明                         |
| 兴办洋务运动   | ②    | 两湖书院培养了新式人才，是洋务派创办的主要教育活动之一。 |
|          | ⑤    | 张之洞创办近代军事工业和民用企业，是洋务运动的主要内容。 |

(其他主题与史实关系正确也可)

(3) 史实正确，写出与二战关系，参照答案图 1。

图 1：九一八事变。揭开了世界反法西斯战争的序幕。

(4) 中国坚持改革开放取得巨大成就；主动向世界开放市场；与世界各国合作共赢；经济全球化；经济全球化是世界发展趋势；加强国际合作是多数国家的共识；改革开放后的中国国家实力增强等。（写出 2 点言之成理即可）

23. 【答案】 (1) ①B②C③D④A

(2) 南方自身的发展；大运河的修建沟通南北；安史之乱对北方经济的破坏；北方人口南迁对南方的推动。

(3) 观点：苏州的社会精英分子影响了江南和明代中国的发展。

原因：江南经济发展带动教育促进人才增多。科举考试为江南人才提供参与政治统治的渠道。传统文化的传承对江南精英分子的影响。（任意两点即可）

(4) 红军长征纪念碑碑园：1934 年—1936 年，红军长征并取得胜利。从而粉碎了国民党反动派消灭红军的企图，保存了党和红军的基干力量，使中国革命转危为安。

抗战胜利纪念碑：1931 年—1945 年的抗日战争是中国近代以来反抗外敌入侵第一次取得完全胜利的民族解放战争。它促进了中华民族的觉醒，为中国共产党带领中国人民实现彻底的民族独立和人民解放奠定了重要基础。

中国战场是世界反法西斯战争的东方主战场，对世界反法西斯战争的胜利、维护世界和平作出了巨大贡献。中国的国际地位得到提高。（表述正确、逻辑合理即可）

24. 【答案】（1）背景：国家统一、国力强盛。条件：江南地区的工匠来到北方；造园理论书籍提供了系统指导；统治者个人的文化艺术修养。（任意两点即可）

（2）布局上兼有宫殿和园林的特色；功能上具有政治统治中心的地位。

（3）事件：第二次鸦片战争或火烧圆明园。原因：企业家的爱国行为；我国政府的努力；国家实力的提升。（任意两点即可）

（4）言之成理即可。如政府要完善保护设施，加大投入，加大宣传力度，力争做到家喻户晓等。

