



怀柔区 2021—2022 学年度第一学期期末质量检测

九年级道德与法治

2022.01

第一部分 选择题 (共 30 分)

本部分共 15 小题，每小题 2 分，共 30 分。在每小题列出的四个选项中，选出最符合题目要求的一项。

1. 2021 年 10 月 14 日在太原卫星发射中心，中国首颗太阳探测科学技术试验卫星_____搭载长征二号丁运载火箭成功升空，开启了我国自主的太阳探测之路。

- A. 祝融号 B. 羲和号 C. 玉兔号 D. 悟空号

2. 现阶段，我国社会的主要矛盾是

- A. 人口增长与资源环境紧张之间的矛盾
B. 经济高速增长和高质量发展之间的矛盾
C. 经济区域发展不平衡、城乡发展不平衡不协调的矛盾
D. 人民日益增长的美好生活需要和不平衡不充分的发展之间的矛盾

3. 宪法的核心内容是

- A. 总纲 B. 国家机构
C. 公民的基本权利和义务 D. 国旗、国歌、国徽、首都

4. 小明在 12 月 4 日宪法日这一天的道德与法治课上做宪法宣传，以下是他拟定的发言提纲，正确的有

- ①宪法是其他法律的总和
②宪法是党的主张和人民意志的统一
③宪法是国家的根本法，具有最高的法律效力
④规范公民权利运行以保障国家权力是我国宪法的核心价值追求

- A. ①② B. ①④ C. ②③ D. ③④

5. 共同富裕是社会主义的本质要求，是中国式现代化的重要特征。以下对共同富裕理解正确的是

- A. 共同富裕是指全体人民物质生活富裕
B. 共同富裕不是少数人的富裕，是平均主义
C. 共同富裕是不分阶段、不分地区的同步富裕



D. 共同富裕要靠勤劳智慧创造，不能坐享其成

6. 我国社会主义民主是一种新型民主，具有强大的生命力。下列关于我国民主认识正确的是

A. 人民当家作主是社会主义民主政治的本质特征

B. 选举民主是我国社会主义民主政治的特有形式和独特优势

C. 民族区域自治制度强调充分协商，求同存异，找到最大公约数，画出最大同心圆

D. 基层群众自治制度是人民掌握国家政权、行使权力的根本途径

7. 中国共产党人精神谱系第一批伟大精神于 2021 年 9 月 29 日正式发布。包括：建党精神、井冈山精神、抗美援朝精神、载人航天精神、脱贫攻坚精神、抗疫精神等 46 种伟大精神。这些精神的核心是

A. 团结统一和爱好和平

B. 勤劳勇敢和自强不息

C. 爱国、诚信、敬业、友善

D. 爱国主义和改革创新

8. 2021 年 5 月 11 日，国家统计局在国新办发布会上发布了第七次全国人口普查关键数据。

全国人口共 141178 万人，比 2010 年第六次人口普查增加 7206 万人，年平均增长率为 0.53%。

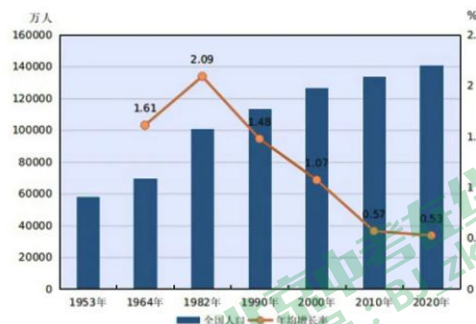
这些数据反映出我国人口的特点是

A. 人口基数大，人口增速趋缓

B. 人口基数大，人口素质偏低

C. 人口增速趋缓，老龄化加剧

D. 人口流动性大，人口素质偏低



9. 2021 年 8 月 20 日，十三届全国人大常委会第三十次会议表决通过了关于修改人口与计划生育法的决定。修改后的人口与计划生育法规定，国家提倡适龄婚育、优生优育，一对夫妻可以生育三个子女。这表明

① 计划生育基本国策不再施行

② 计划生育基本国策必须长期坚持

③ 全国人民代表大会具有监督权

④ 全国人民代表大会行使国家立法权

A. ①②

B. ①③

C. ②④

D. ③④

10. 2021 年 9 月 5 日《横琴粤澳深度合作区建设总体方案》发布。建设横琴粤澳深度合作区是深入实施《粤港澳大湾区发展规划纲要》的重点举措，是丰富“一国两制”实践的重大部署，有利于推动澳门长期繁荣稳定和融入国家发展大局。“一国两制”

A. 是实现民族平等的基本政治制度

B. 不利于维护国家主权、安全和利益

C. 有利于港澳更好地实行社会主义制度



北京中考在线
微信号: BJ_zkao

北京中考在线
微信号: BJ_zkao

D. 有利于港澳与祖国内地优势互补、共同发展

11. 2021年11月5日怀柔区21.9万登记选民依照选举程序，投票选举产生了202名区人大代表和775名乡镇人大代表，将分别组成区和乡镇两级人民代表大会，并在此基础上依法产生新一届区和乡镇两级国家机关领导人员。这说明

A. 选举民主是我国独有的民主形式

B. 在我国，民主选举是全体公民的一项基本权利

C. 人民行使国家权力的机关是地方各级人民代表大会

D. 怀柔区国家机关领导人员由怀柔区人民代表大会产生，对其负责，受其监督

12. 2021年12月3日，国家医保局公布7种罕见病用药进入医保目录中。在治疗脊髓性肌萎缩症的药物谈判时，国家医保局谈判代表张劲妮表示：“今年的中国医保基金因新冠肺炎前期的减征缓征、疫苗费用支出等原因异常困难；希望企业拿出更有诚意的报价，每一个小群体都不该被放弃。”国家医保局在异常艰难的情况下仍拿出勇气开展医保谈判工作体现了

①国家尊重和保障人权

②公民享有人身自由权

③党和政府以人民为中心，共享发展成果

④我国的社会保障体系已十分完善

A. ①②

B. ①③

C. ②④

D. ③④

13. 2022年1月1日起，北京全市646所学校、33万余名学生将免费享受在线辅导。在线辅导项目是促进教育均衡发展的有力手段，是构建高质量教育体系的重要组成部分；教师通过“走网”实现优质服务属性的再分配，是提升人民群众教育满意度特别是学生实际获得感的重要举措。这一举措

①有利于公民受教育权的实现

②有利于教育公平，提升教育质量

③不利于减轻学生的课业负担

④不利于实现学生的终身学习

A. ①②

B. ①③

C. ②④

D. ③④

14. 今年是西藏和平解放70周年。70年来，石榴花开，籽籽同心。从和平解放、民主改革，到民族区域自治、对口援藏，再到治边稳藏、脱贫攻坚……一次次重大决策，使自然条件严酷的西藏经过短短几十年就和全国一道全面建成小康社会并将翻开长治久安和高质量发展的新篇章。维护民族团结和祖国统一是

①中华民族的最高利益

②我国的一项基本政治制度

③我国处理民族关系的基本原则

④每个公民的神圣职责和光荣义务

A. ①②

B. ①④

C. ②③

D. ③④



北京中考在线
微信号: BJ_zkao

15. 怀柔公安分局交通支队拓展新思路，优化交通难点和堵点，努力为市民提供更加畅通、安全、有序的出行环境，2021年10月18日起，在青春路万达十字路口设置了怀柔区首个“全向十字路口”。相比于传统的过街方式，该种过街方式可以大大缩短过街等待时间，提高过街安全保障。这一设置体现



- ①政府要科学立法
- ②创新让生活更美好
- ③政府的宗旨是全心全意为人民服务
- ④创新是民族振兴，社会进步的基石

A. ①② B. ①④ C. ②③ D. ③④

第二部分 非选择题（共40分）

本部分共5题，共40分。



16. (7分) 2021年6月5日是第50个世界环境日。以下是某校同学制作的宣传展板节选。

主题：_____

今年3月，5只“怀柔籍”小黑天鹅破壳而出的视频，刷爆了怀柔市民的朋友圈。在怀河的芦苇岸边，2只成年黑天鹅40多天陆续孵出了5只小宝宝。而去年冬天，一共有60多只黑天鹅在怀柔过冬。

恢复岸坡植被、拆除节流坝……怀沙怀九河（位于怀柔西北部）地表水质量始终达标II类水体标准。2020年实地调查记录到14种野生鱼类，保护区共有4种北京市II级保护鱼类，特别是记录到了中华多刺鱼，表明该区域水质清洁、生物恢复、生态向好，生态环境质量明显改善。

PM_{2.5}年均浓度从61微克/立方米下降至29微克/立方米，怀柔区空气质量率先达到国家二级标准。怀柔的蓝天是一微克一微克抠出来的。首创扬尘综合指数排名机制，在排名后6位属地召开现场会，区政府主管领导现场督查督办；启动扬尘污染夜间专项检查，建立生态环境局领导带队夜查制度……

近年来，怀柔绿色“版图”不断扩大。林木绿化率、森林覆盖率分别达到85.02%和77.38%，均排名全市第一。怀柔雁栖湖生态发展示范区21平方公里面积中，乔灌木和花草种类达到180余种，堪比一座大型植物园；怀柔城市森林公园80多公顷的园区植被丰富，堪称天然氧吧；庙城镇计划新增15处“口袋公园”，这些小微绿地，增添百姓的幸福感……

(1) 请你为这一部分展板补充主题。(1分)

(2) 如何才能让怀柔的水更清，天更蓝？(6分)

17. (7分) “从0到1”的突破。

材料一 2021年,我国涌现出了多项重大科技成果,在多领域实现了“从0到1”的突破。10月19日,我国首个通用云芯片“倚天710”发布,这是中国企业在芯片领域自主创新的新进展;10月25日“祖冲之二号”和“九章二号”两项科研成果同时发表在国际学术期刊《物理评论快报》上,我国成为目前世界上唯一在两种物理体系达到“量子计算优越性”里程碑的国家;10月30日,中国农业科学院饲料研究所宣布,全球首次实现从一氧化碳到蛋白质的合成,并已形成万吨级工业产能;我国科技实力正在从量的积累迈向质的飞跃、从点的突破迈向系统能力提升。

材料二 我国产业中存在一些“卡脖子”的技术问题,特别是芯片、发动机、材料、数控机床、工业软件等领域存在短板,一些关键零部件、关键装备依赖国外。别人一制裁我们,我们国民经济中的一些关键部分就会受到重大影响。

(1) 甲乙两名同学对上述材料产生了不同的看法,请你任选一个观点进行评析。(3分)

甲：“我国已跻身世界科技强国行列,我感到十分自豪。”

乙：“我国科技水平还很薄弱,科技创新之路任重道远。”

(2) 我国科技创新如何才能实现更多的“从0到1”的突破(4分)。



18. (6分) 谁的信息谁做主。

大数据的发展为生活带来便利,也滋生了种种乱象。手机APP过度索权、商业信息非法推送、“大数据杀熟”以及敏感个人信息的非法处理等问题也日益凸显,不仅涉及个人的名誉,而且扰乱了人民群众正常的生产生活秩序,垃圾短信、骚扰电话、精准诈骗日益威胁着人们的隐私、财产甚至生命安全,更给社会带来安全隐患。



循“迹”而至

新华社发 徐骏 作

谁的信息谁做主,未经授权不能用。2021年11月1日,《中华人民共和国个人信息保护法》实施。在国家层面建立了个人信息保护制度,其核心就是“规范个人信息处理活动”,而个人信息处理规则体系最重要的一条就是“告知-知情-同意”。这意味着,企业不能再偷

偷偷摸摸地收集个人信息，不仅要履行告知义务，而且要在用户知情而且是在自愿、明确的前提下同意了，企业才能处理个人信息。

法律链接：《中华人民共和国个人信息保护法》

第二十三条 个人信息处理者向其他个人信息处理者提供其处理的个人信息的，应当向个人告知接收方的名称或者姓名、联系方式、处理目的、处理方式和个人信息的种类，并取得个人的单独同意。接收方变更原先的处理目的、处理方式的，应当依照本法规定重新取得个人同意。

运用厉行法治的相关知识，说明如何才能实现“谁的信息谁做主”。（6分）

19.（9分）2021年10月26日，北京2022年冬奥会和冬残奥会奖牌“同心”发布。冬奥会奖牌详解如下：

冬奥会奖牌详解



北京2022年
冬奥会奖牌
正面

直径8.7厘米

正面

圆环加圆心构成牌体
共设五环

表达
“天地合·人心同”的
中华文化内涵

也象征
奥林匹克精神
将世界人民
聚集在一起

形象来源于
中国古代同心圆玉璧

广州南越王墓
同心圆纹玉璧
西汉

延续2008年“金镶玉”
对“玉”元素的使用
用在中国最高级的玉
来礼赞运动员和
奥林匹克精神



背面

中心
奥林匹克五环标志

周围
北京2022年
冬奥会
英文全称字样

周围纹样部分
雕刻深度0.2毫米

冰雪纹 源自冰梅纹
表现冬奥会的特征

祥云纹 传达吉祥的寓意
延续奥运遗产

圆环做打凹处理
取意传统弦纹玉璧
浅刻中国传统装饰纹样

中间主体标志
雕刻深度0.3毫米

让图案图形层次分明

中心 北京冬奥会会徽

周围 北京2022年
冬奥会中文全称字样



最外环 镌刻获奖运动员的比赛项目名称

圆环上刻有24个点及运动弧线
取意古代天文图中日月星辰的运行
象征着星空、人与自然的和谐
也象征第24届冬奥会上运动员如群星璀璨



北京中考

奖牌挂带采用传统桑蚕丝织造工艺，还做了内衬和加厚以保证承重和承力状态；比赛临近春节，因此挂带颜色选用红色，表达对运动员的节日祝福。奖牌盒以大漆（见注释）和竹子为主要材料制作，充分体现北京冬奥会的理念与愿景。

（注释：大漆又称“国漆”，它是从漆树上采割的一种乳白色纯天然液体涂料，接触空气后逐步转为褐色，4小时左右表面干涸硬化而生成漆膜）

（1）北京冬奥会奖牌“同心”的设计灵感来源何处？体现了我国举办冬奥会的哪些理念？（3分）

（2）结合冬奥会奖牌“同心”的设计和制作谈一谈坚定文化自信的意义和途径。（6分）

20.（11分）中国共产党立志于中华民族千秋伟业，百年恰是风华正茂。

【赶考永远在路上】

从1921年到2021年，中国共产党走过了整整一百年的历程。过去一百年，党向人民、向历史交出了一份优异的答卷。

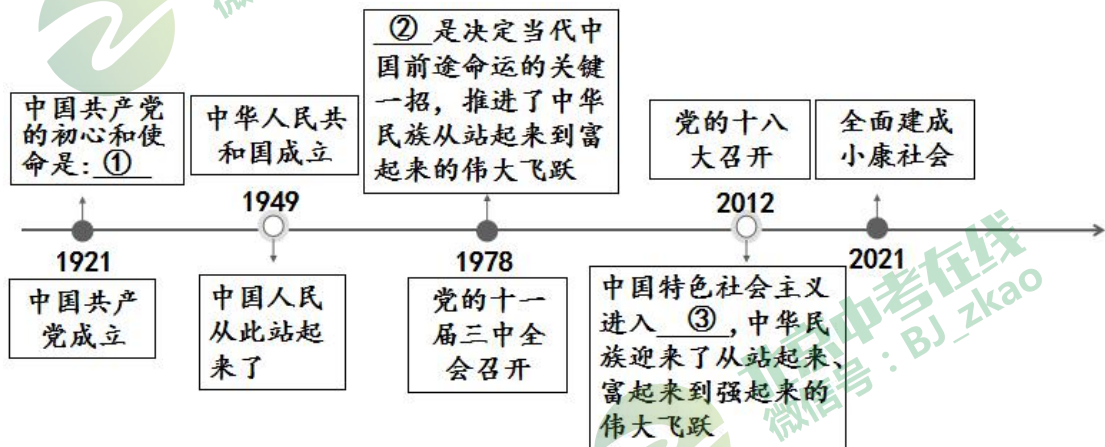


图1 百年大党 铸就辉煌

初心如磐，使命在肩，百年大党再出发，团结带领中国人民又踏上了实现第二个百年奋斗目标新的赶考之路。

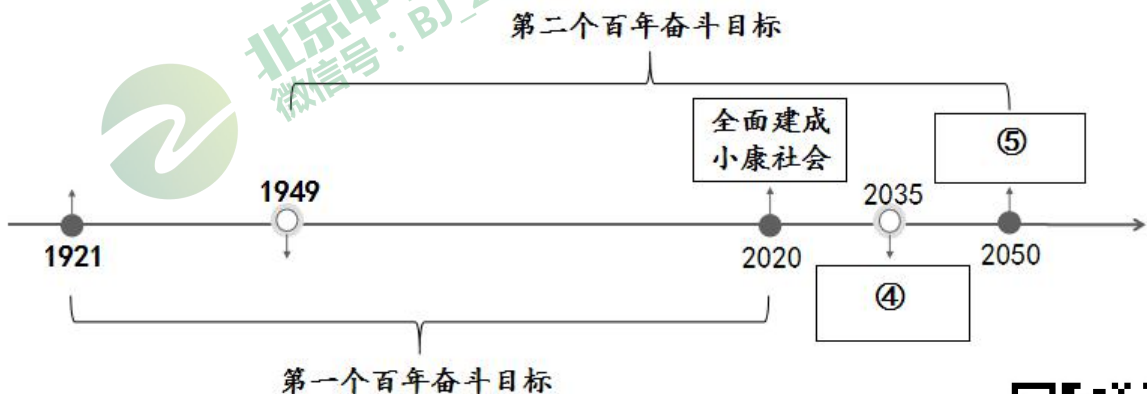


图2 两个一百年奋斗目标



(1) 请你把图 1 和图 2 中的①②③④⑤补充完整（在答题卡上作答）。（5 分）

【探寻制胜密码】

中国共产党以“时代是出卷人，我们是答卷人，人民是阅卷人”的历史自觉，不断交出无愧于历史和人民的答卷。作为阅卷人的我们有理由坚信，在过去一百年赢得了伟大胜利和荣光的中国共产党和中国人民，必将在新时代新征程上赢得更加伟大的胜利和荣光！

(2) 新时代新征程上赢得更加伟大的胜利和荣光的制胜密码是什么？（6 分）

