



2021 北京海淀初一（上）期末

地 理

2021.1

学校_____ 班级_____ 姓名_____ 成绩_____

注意事项:

1. 本调研卷共 8 页，共两部分，29 道小题，满分 100 分，考试时间 60 分钟。
2. 在调研卷和答题纸上准确填写学校名称、班级名称和姓名。
3. 调研卷答案一律填涂或书写在答题纸上，在调研卷上作答无效。
4. 在答题纸上，选择题用 2B 铅笔作答，其他题用黑色字迹签字笔作答。

第一部分

本部分共 25 题，每题 2 分，共 50 分。在每题列出的四个选项中，选出最符合题目要求的一项。

同学们计划去什刹海开展地理实践活动，图 1 为小明绘制的什刹海平面图。读图，完成 1~4 题。

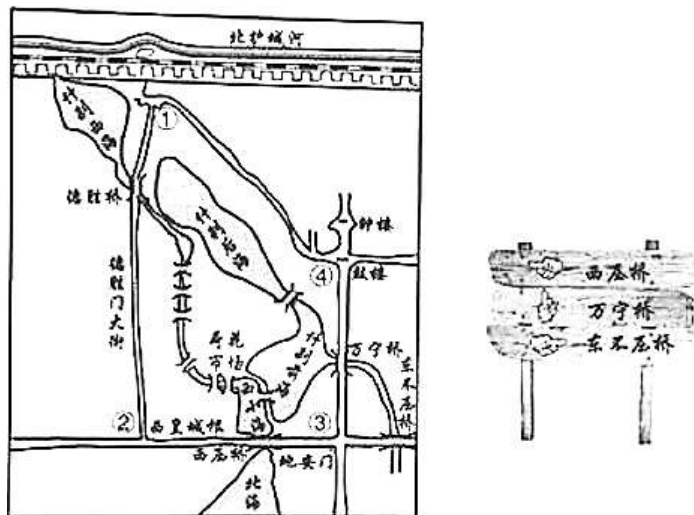


图 1 什刹海手绘平面图

1. 出发前需要利用地图查询去什刹海的交通路线，你建议选择
A. 北京市行政区划图 B. 北京市交通图 C. 北京市地形图 D. 什刹海景区游览图
2. 已知地安门十字路口与鼓楼的实地距离约 700 米，则图 1 的比例尺为
A. 1 : 350 B. 1 : 3500 C. 1 : 35000 D. 1 : 350000
3. 据图判断，路标应放置在图中的
A. ① B. ② C. ③ D. ④
4. 使用手机地图游览什刹海，
A. 放大地图时，可以看到什刹海更大的范围

- B. 放大地图时，可以查阅客流量的实时变化
- C. 缩小地图时，发现地图下方线段比例尺变小
- D. 缩小地图时，比例尺、图幅和方向都会变化

北京某学校组织学生到天安门广场观看升国旗仪式，表 1 为 2021 年 3 月 1 日-5 日天安门广场的升降国旗时间（升、降旗时间即为当天日出、日落时间）。读表 1，完成 5~7 题。

表 1 2021 年 3 月 1 日-5 日天安门升降国旗时间

日期	3 月 1 日	3 月 2 日	3 月 3 日	3 月 4 日	3 月 5 日
升旗时间	06:48	06:47	06:45	06:44	06:42
降旗时间	18:05	18:06	18:07	18:08	18:10

5. 表 1 显示每天升、降国旗的时间不同，其原因是
- A. 太阳的位置在不断变化
 - B. 地球的形状是球体
 - C. 地球的自转运动
 - D. 地球的公转运动
6. 该时段，天安门广场上旗杆正午影子长度最长的日期是
- A. 3 月 1 日
 - B. 3 月 2 日
 - C. 3 月 4 日
 - D. 3 月 5 日
7. 该时段，下列地理现象可能出现的是
- A. 北极圈有极昼现象
 - B. 南极圈有极夜现象
 - C. 南半球的巴西昼短夜长
 - D. 北京市昼变长夜变短

海洋是人类未来发展的前景，中国对海洋事业的发展非常重视。2020 年 11 月 10 日，中国“奋斗号”载人潜水器在马里亚纳海沟（海平面以下 11034 米）成功坐底，创造了中国载人深潜的新纪录。图 2 为板块分布示意图。读图，完成 8~10 题。

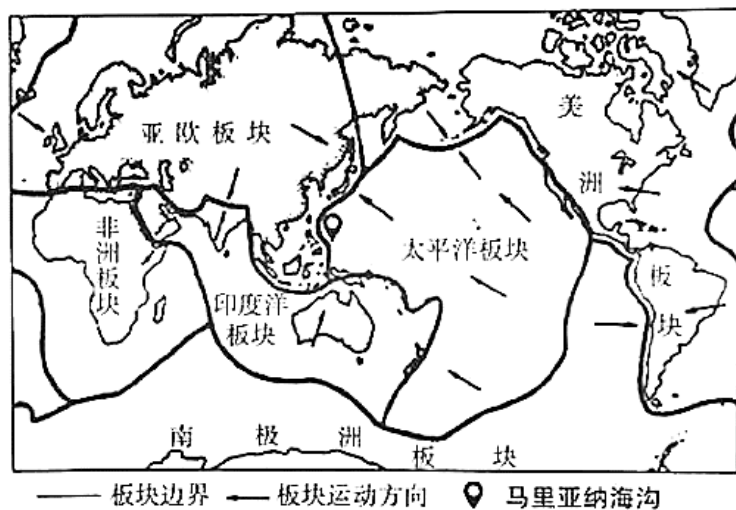


图 2 板块分布示意图

8. 地球表面海洋所占比例是
- A. 61%
 - B. 71%
 - C. 39%
 - D. 29%



9. 马里亚纳海沟的深度大致相当于地球半径的

- A. 1/6 B. 1/60 C. 1/600 D. 1/6000

10. 马里亚纳海沟位于

- A. 亚欧板块和印度洋板块交界处 B. 亚欧板块和太平洋板块交界处
C. 印度洋板块和太平洋板块交界处 D. 太平洋板块和美洲板块交界处

小明周末到北海公园游玩，图3是小明当天中午拍摄的照片。读图，完成11、12题。




图3 北海公园

11. 据图判断当天的天气是

- A. $-7^{\circ}\text{C}\sim 3^{\circ}\text{C}$ ☀️ B. $23^{\circ}\text{C}\sim 35^{\circ}\text{C}$ 🌧️
C. $-3^{\circ}\text{C}\sim 7^{\circ}\text{C}$ ☁️ D. $19^{\circ}\text{C}\sim 26^{\circ}\text{C}$ 🌤️

12. 图中可以用来推断天气的依据有

- ①天空乌云密布 ②游人衣着厚重
③树枝随风摇曳 ④正午人影朝北

- A. ①② B. ①③ C. ②④ D. ③④

图4是北京市2020年10月份空气质量指数变化趋势。读图，完成13、14题。

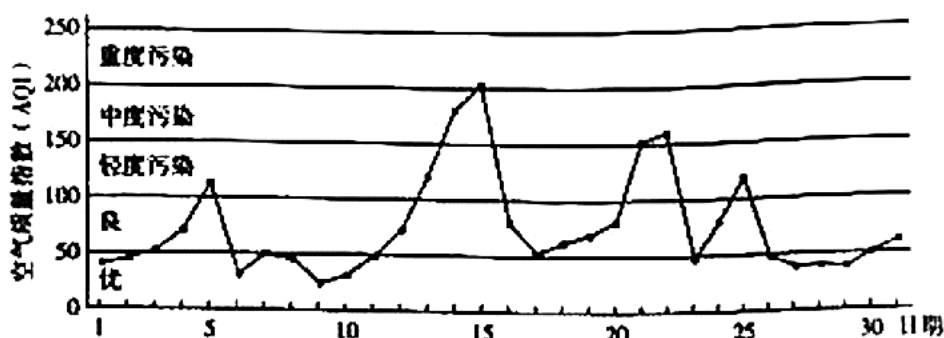


图4

13. 该月空气质量属于轻度污染的天数有

- A. 3天 B. 6天 C. 12天 D. 24天

14. 10月14、15日下列做法应该提倡的是

- A. 学校暂停举办运动会 B. 尽量乘私家车出行



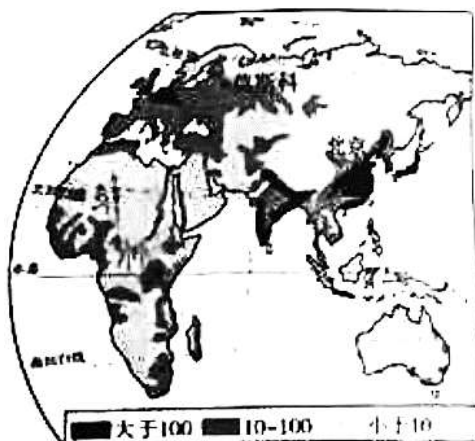


图8

19. 图例中“10-100”表示的意思是
- A. 每平方千米人口数量大于 100 人 B. 每平方千米人口数量介于 10-100 之间
- C. 每平方米人口数量小于 10 人 D. 每平方米人口数量介于 10-100 之间
20. 图中反映出
- A. 干旱的沙漠地区人口密度小 B. 严寒的高纬度地区人口密度大
- C. 湿热的热带雨林地区人口密度大 D. 莫斯科的人口密度大于北京

图9为“世界人口变化情况统计图”。读图，完成21、22题。

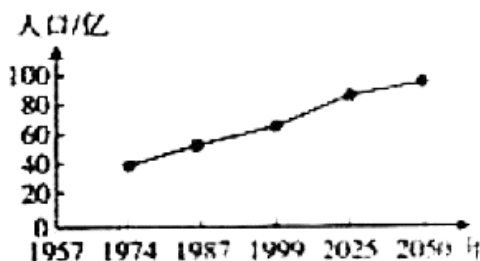
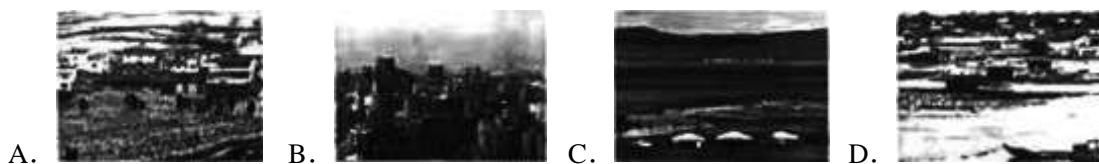


图9

21. 世界的人口
- A. 总数持续减少 B. 增长速度越来越慢 C. 总数持续增长 D. 增长速度越来越快
22. 人口数量过多或增长过快产生的问题有
- A. 资源消耗更多 B. 劳动力短缺 C. 养老负担加重 D. 国防兵源不足
23. 聚落既是人们居住生活的场所，也是人们进行生产的场所。图中能够反映人类生产方式以工业和服务业为主的是



“干栏式木楼”集中分布在我国西南少数民族地区，多依山傍水，沿山坡密集聚合。木楼底部架空两至三层，木楼上层住人，下层圈养牲畜或堆放杂物等。图10为干栏式木楼景观图。读图，完成24、25题。



图 10

24. 干栏式木楼

- A. 建筑材料以砖瓦为主，就地取材 B. 墙体比较厚，利于冬季防风保暖
C. 屋顶坡度大，因为当地降水较多 D. 底部架空，是为了增加建筑面积

25. 远观木楼参差错落，主要影响因素是

- A. 气候 B. 地形 C. 交通 D. 河流

第二部分

本部分共 4 题，共 50 分。

26. (13 分) 霜降后的香山红叶是最好看的，同学们来到香山公园观赏红叶。图 11 为香山局部地区等高线地形图。读图，回答下列问题。

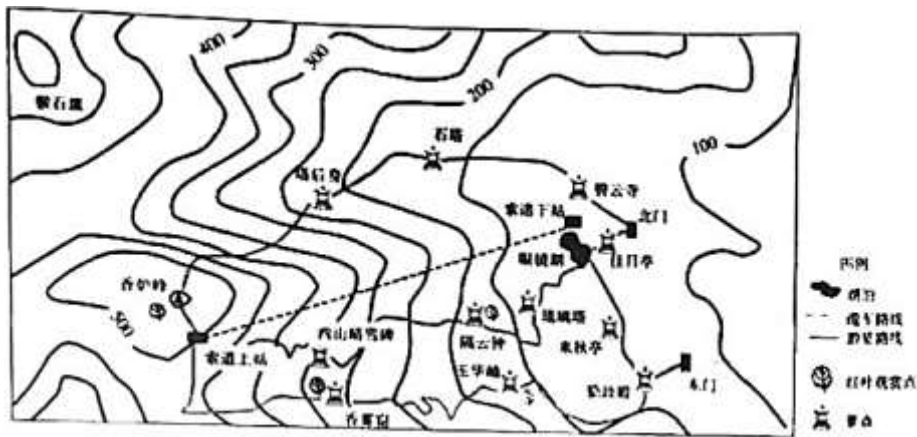


图 11

攻略

(1) 香山局部地区等高线地形图的等高距为_____。浏览路线沿途有 4 个红叶观赏点，其中距离东门最近的是_____；可鸟瞰香山全景，饱览“层林尽染”美景的是_____；图中索道下站在北门的_____方向，索道上站的海拔高度是_____米，索道上站与索道下站的相对高度约_____（选择填空）。

- A. 300 米 B. 350 米 C. 370 米 D. 410 米

游览



(2) 同学们进入东门后，途径_____（景点）到玉华岫观赏红叶。之后，一鼓作气登顶香炉峰，同学们发现香炉峰的红叶比玉华岫的更红，是因为这里_____，气温_____，香炉峰与东门的温差大约是_____（选择填空）。

- A. 0°C B. 2.5°C C. 5°C D. 7.5°C

(3) 同学们意犹未尽，继续领略山后风光，来到位于_____（山体部位）的塔后身，身在此处同学们_____（能/不能）看见著名的“西山晴雪碑”。与上山路线相比，返程路线的坡度比较_____。

27. （12分）2020年11月24日4时30分，我国在海南文昌航天发射场用长征五号遥五运载火箭成功发射探月工程嫦娥五号探测器，开启我国首次地外天体采样返回之旅。图12为我国四大卫星发射中心位置分布示意图，图13为地球公转运动示意图。阅读图文资料，回答下列问题。

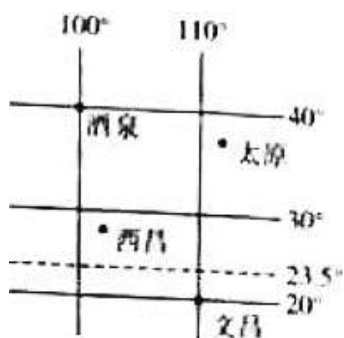


图12

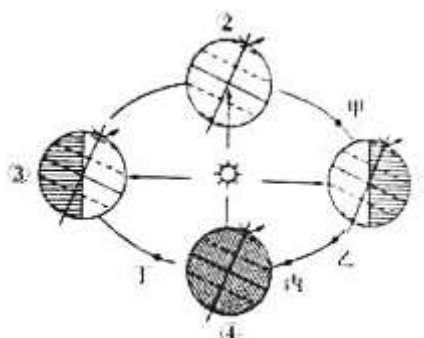


图13

(1) 文昌的经纬度是_____，所在半球位置是_____（选择填空）。

- A. 北半球、西半球 B. 北半球、东半球 C. 南半球、西半球 D. 南半球、东半球

(2) 我国四大卫星发射中心中，有太阳直射现象的是_____，位于低纬度地区且同时位于北温带的是_____。

(3) 卫星发射当天，文昌的昼夜长短状况是_____，此时，地球运动到图13中的_____处。卫星发射时，西昌_____（选择填空）。

- A. 黑夜沉沉 B. 朝霞满天 C. 艳阳高照 D. 夕阳西下

(4) 元旦至春节期间，酒泉的白昼将越来越_____（长/短），获得的太阳光热也将逐渐_____（增加/减少），此时地球运行在图13中的_____（选择填空）。

- A. ①—②之间 B. ②—③之间 C. ③—④之间 D. ④—①之间

(5) 一年中，太原正午太阳升得最高、白昼时间最长时，地球运动到图13中的_____（填数字），此时是_____（节气）。

28. （15分）北京某中学的地理课堂以“发现世界”为主题开展学习活动。阅读图文资料，回答下列问题。





图 14 世界气候类型分布图

小组一：发现气候分布规律

(1) 同学们发现，南、北回归线之间主要分布有_____气候、热带沙漠气候、_____气候和热带季风气候四种热带气候类型，它们共同的特点是_____，主要影响因素是_____。

小组二：文学之旅

资料 1：对于一个在北平住惯的人，像我，冬天要是不刮风，便觉得是奇迹；济南的冬天是没有风声的。对于一个刚由伦敦回来的人，像我，冬天要能看得见日光，便觉得是怪事。

——老舍《济南的冬天》

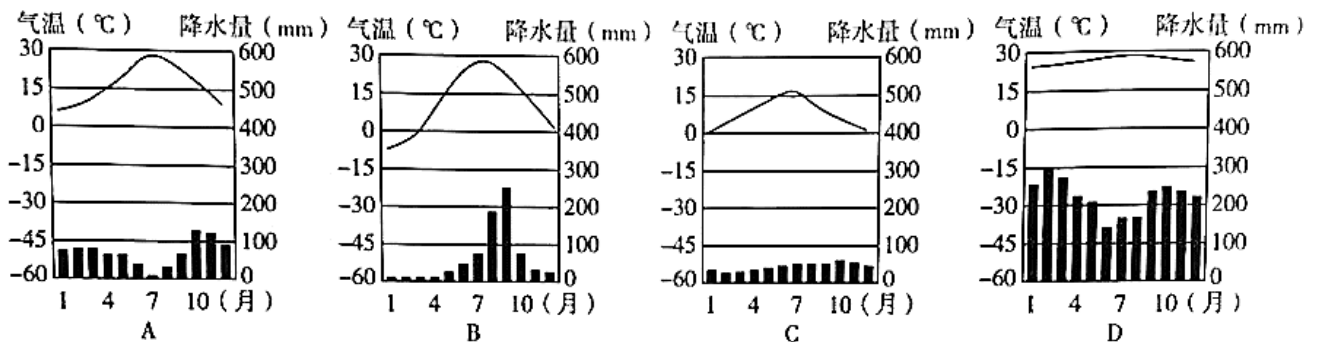


图 15

(2) 济南的气候类型是_____气候。图 15 中能反映该气候类型的是_____（填字母），其气候特征是_____。

(3) 阅读资料 1 和“伦敦气温曲线和降水量柱状图”（图 15 中 C）。老舍先生觉得“冬天要能看得见日光，便觉得是怪事”。这是因为伦敦_____。

小组三：古城之旅

月份	1	2	3	4	5	6	7	8	9	10	11	12

气温/°C	7.6	8.2	12.2	14.8	18.8	21.1	23.1	23.9	20.8	16.8	14.4	13.5
降水/mm	81	95	80	62	51	20	2	18	63	85	105	99

(4) 小兰收集了欧洲意大利罗马多年平均气温和降水量的数据(表2), 将其绘制成气温曲线和降水量柱状图, 请将图16补充完整。在查阅资料时, 一则意大利罗马冬季发生洪水灾害的报道引起了她的注意, 你认为这一报道可信吗? _____, 理由是_____。

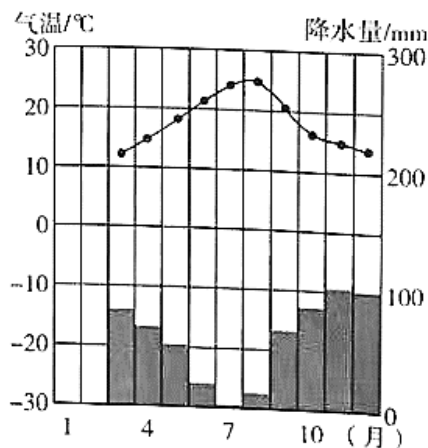


图16

小组四: 环保之旅

小明查阅了北美洲多个城市关于空气质量的相关资料。20世纪50年代, 美国发生多次严重空气污染事件, 造成大量人员伤亡, 让美国政府意识到空气污染对人体的伤害很大。为了解决污染问题, 1970年联邦政府首次颁布了《清洁空气法》, 对每一种空气污染物都规定了最高限度。最明显的变化出现在洛杉矶的公路管理要求上, 污染排放较大的汽车被要求过滤汽车尾气, 不符合环保要求的汽车被处以很重的罚款。同时, 利用技术手段减少企业污染物的排放数量, 鼓励清洁能源和可再生能源的开发和利用。

(5) 阅读资料, 归纳该地治理空气污染的主要措施。(至少两条)

29. (10分) 中国国际进口博览会旨在坚定支持贸易自由化和经济全球化、主动向世界开放市场, 首届中国国际进口博览会于2018年11月在上海举行, 图17为参加“进博会”主宾国分布示意图。阅读图文资料, 回答下列各题。

表3 部分主宾国的特色展馆一览表

国家	主要展品
英国	生命科学、金融、人工智能等
印度尼西亚	咖啡、山竹、凤梨、香蕉等
越南	腰果、鱼类、大米、鞋类等
德国	人工智能、制造业、汽车等
巴西	甘蔗酒、特色咖啡、鞋类等
俄罗斯	农产品、高科技设备、医疗设备等



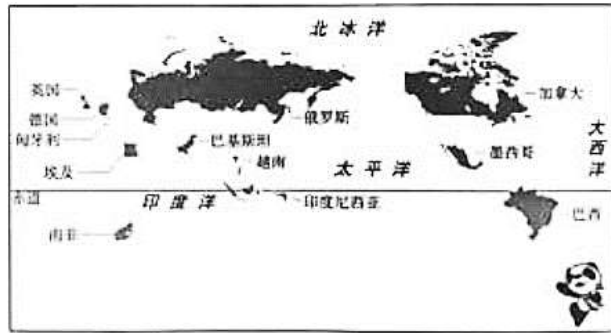


图 17 主宾国分布示意图

(1) 主宾国_____ (两项选择)。

- | | |
|-------------|---------------|
| A. 大部分位于北半球 | B. 均属于人口高增长地区 |
| C. 大部分濒临海洋 | D. 是黄色人种主要分布区 |

(2) 主宾国中的印度尼西亚属于_____ (发达/发展中) 国家。该国展品以农产品为主, 属于_____ (初级产品/高科技产品), 这类产品的价格_____ (高/低), 赚到的利润_____ (多/少), 在经济贸易中处于_____ (有利/不利) 地位。该国与英国、德国等国家的政治、经济商谈称为“_____”。

(3) 用你学到的地理知识为印度尼西亚的经济贸易发展提出建议。



2021 北京海淀初一（上）期末地理



参考答案

第一部分

题号	1	2	3	4	5	6	7	8	9	10
答案	B	C	C	C	D	A	D	B	C	B
题号	11	12	13	14	15	16	17	18	19	20
答案	A	C	A	A	B	C	A	D	B	A
题号	21	22	23	24	25					
答案	C	A	B	C	B					

第二部分

26. (13分, 每空1分)

(1) 50m 米 玉华岫 香炉峰 正西 500 米 C

(2) 勤政殿 海拔高 低 B

(3) 山谷 不能 陡(大)

27. (12分, 每空1分)

(1) (20°N, 110°E) B

(2) 文昌 西昌

(3) 昼短夜长 乙 A

(4) 长 增加 A

(5) ③ 夏至

28. (15分, 每空1分)

(1) 热带雨林 热带草原 全年高温\炎热 纬度位置

(2) 温带季风 B

夏季高温(炎热)多雨、冬季寒冷干燥(降水少)

(3) 冬季降水较多(阴雨天多)

(4) 气温曲线和降水柱状描绘完整准确 (2分) 可信 罗马冬季降水多

(5) 制定法律法规、治理汽车尾气、鼓励清洁能源开发和使用等, 合理即可 (2分)

29. (10分, 每空1分)

(1) AC (2分) (写出3个及以上答案, 本小题不得分)

(2) 发展中 初级产品 低 少 不利 南北对话

(3) 略, 合理即可 (2分)

