

# 门头沟区 2018—2019 学年度第一学期期末调研试卷



## 九年级道德与法治

考生须知	<ol style="list-style-type: none"><li>1. 试卷共 10 页，分选择题和非选择题两种题型，30 道小题，满分为 100 分。</li><li>2. 请将条形码粘贴在答题卡相应位置处。</li><li>3. 试卷所有答案必须填涂或书写在答题卡上，在试卷上作答无效。请使用 2B 铅笔填涂，用黑色签字笔或钢笔作答。</li><li>4. 本次考试采取闭卷方式，考试时间为 90 分钟。</li></ol>
------	---

### 一、选择题（在每小题的四个选项中，选出最符合题目要求的一项。每小题 2 分，共 48 分）

1. 保护环境是我国的基本国策，下列观点符合这一国策的是
  - A. 发展经济就会破坏环境，等经济发展了，再治理污染
  - B. 保护环境只利于当代人
  - C. 保护环境就不能利用和开发资源
  - D. 绿水青山就是金山银山
2. 一方面，企业为找不到掌握熟练技术的员工而着急，另一方面，大量的务工人员为找不到工作而担忧，这在某种程度上反映了我国
  - A. 人口素质偏低，给社会就业带来压力
  - B. 人口众多，已成为一个人力资源大国
  - C. 经济发展速度快，能满足人们就业需要
  - D. 实行计划生育，新增人口多
3. 2016 年 3 月 19 日晚 8 点 30 分，由世界自然基金会举办的以“为蓝生活”为主题的地球一小时熄灯大型环保活动在北京国子监举行，本活动的目的在于倡导践行蓝色消费，以守护生生不息的地球家园。下列做法不符合这一主题的是
  - A. 实施可持续发展战略
  - B. 坚持节约资源，保护环境
  - C. 停止生产，保护环境，杜绝污染
  - D. 提高群众节能环保意识
4. 我国 13 亿人口日的到来比预计时间整整推迟了 4 年，其主要原因是我国
  - A. 实施了人才强国战略
  - B. 人口基数大，增长快
  - C. 坚持实行计划生育的基本国策
  - D. 人口增长超过了经济和环境的承受能力
5. 2017 年 1 月，国务院印发的《国家教育事业发展“十三五”规划》提出，要把教育摆在优先发展的战略地位，注重人力资源开发，推进科技创新。下列选项中，对“科技、教育、人才”三者关系认识正确的是



- A. 高素质人才是一个国家最重要的资源
- B. 科技的发展关键在人才，人才的培养靠教育
- C. 科技创新，人才为本
- D. 教育水平的高低决定着人才培养的数量和质量
6. 在第 49 个世界地球日来临之际，某中学开展“绿色·低碳·环保”为主题的宣传教育活动，下列做法与该主题相符的是
- A. 不使用一次性筷子
- B. 节假日送纸质贺卡
- C. 用完水后不关水龙头
- D. 校园内随手扔垃圾
7. 习近平指出：“基础教育在国民教育体系中处于基础性、先导性地位，必须把握好定位，从多方面采取措施，努力把我国基础教育越办越好。”“在我国发展新的历史起点上，把科技创新摆在更加重要位置，吹响能够建设世界科技强国的号角。”从国家发展战略的角度看，下列关键词中，最能全面概括上述材料主旨的是
- A. 教育优先
- B. 科技创新
- C. 改革开放
- D. 科教兴国
8. 《中华人民共和国国民经济和社会发展第十三个五年规划纲要》提出了创新、协调、绿色、开放、共享的五大发展理念。下列属于践行共享发展理念的是
- A. 坚决打好蓝天保卫战，对污染企业进行全面整治
- B. 发展网络经济，实施国家大数据战略
- C. 加强国际交流与合作，培育竞争新优势
- D. 坚决打赢脱贫攻坚战，让人民群众分享改革与发展红利
9. 按照党中央决策部署，2018 年要积极适应经济发展新常态，对此，下列做法正确的是
- ①转变发展方式 ②实现绿色低碳循环发展，建设生态文明 ③依赖国外的技术和资金 ④深化供给侧结构性改革
- A. ①②③
- B. ①②④
- C. ①③④
- D. ②③④
10. 2018 年 4 月 13 日，习近平总书记在庆祝海南建省办经济特区 30 周年大会上的讲话中指出，改革开放是决定当代中国命运的关键抉择，是当代中国发展进步的活力之源，是党和人民事业大踏步赶上时代的重要法宝。对此，下列对改革开放理解正确的有
- ①改革开放使中国发生了天翻地覆的变化
- ②改革开放使中国发展成为超级大国



③改革开放的道路是正确的

④改革开放使百姓生活节节攀升

A. ①②③

B. ①②④

C. ①③④

D. ②③④

11. “只有绿水青山，才有金山银山”是我们从过去“只顾金山银山，忽视绿水青山”的惨痛教训中得出的认识。它告诉我们

①必须坚持保护环境的基本国策

②不能以牺牲环境为代价谋求经济的一时发展

③正确处理长远利益和眼前利益的关系

④保护环境必然阻碍经济的发展

A. ①②③

B. ①②④

C. ①③④

D. ②③④

12. “全球第一家无人零售店亮相杭州，实现了人脸、语音识别和自动扣款一气呵成；在北京，有些超市投用导购机器人，可以引路、推荐产品，顾客线上支付即可走人，半小时内免费送货上门；在山东寿光，西红柿采摘机器人和草莓机器人组团亮相，它们能够轻松完成生产、管理、采摘的全部流程……”如果为以上新闻写一个标题，最合适的是

A. 自主创新 惠及全球

B. 科技创新 点亮生活

C. 科技发展 经济提速

D. 技术为本 科技强国


13. 仔细观察下图《愚公难移之“山”》。你认为在现阶段，要搬掉这“三座大山”关键是

A. 把教育放在优先发展的战略地位

B. 实施可持续发展战略

C. 加快改革开放的步伐

D. 以经济建设为中心，大力发展生产力





14. 据国家统计局发布的信息显示, 2017 年, 我国全年出生 1723 万人。这主要反映了我国人口的基本特点是

- A. 人口基数大
- B. 新增人口绝对数量多
- C. 人口老龄化速度加快
- D. 人口素质偏低

15. 在中美贸易摩擦中, 中国因缺“芯”(芯片)受制于人, 要改变科技落后的状况, 我们必须

- A. 立足于引进外国技术, 消化吸收
- B. 坚持自力更生, 拒绝引进外国技术
- C. 把科技创新作为当前工作的中心
- D. 努力提高自主创新能力

16. 新修订的《环境保护法》增加了雾霾治理、污染排放“按日计罚”、明确生态保护红线等内容。落实这些环保“新规”, 我们应该

- A. 尊重自然、顺应自然, 不开发自然资源
- B. 形成节约资源和保护环境的生活方式和生产方式
- C. 加快资源利用, 提升经济发展速度
- D. 始终把环境保护放在优先发展的战略地位

17. 在某学校 9 年级开展的一次综合实践活动中, 同学们自制宣传牌, 倡导节约粮食、远离浪费, 他们说: “就是有钱了也不能任性”。“有钱了也不能任性”的理由是

- ①节约资源是每个公民的责任
- ②勤俭节约是中华民族的传统美德
- ③我国总体上自然资源紧缺
- ④我国处于社会主义初级阶段, 仍然是一个贫穷落后的国家

- A. ①②③
- B. ①②④
- C. ①③④
- D. ②③④

18. 据国家电力部门消息, 今后普通用户不但能用太阳能、风能等新能源发电装置给自己家供电, 还可以将用不完的电卖给国家电网。这种新举措

- ①有利于保护生态环境
- ②有利于缓解资源压力
- ③符合可持续发展战略
- ④会改变国有经济地位

- A. ①②③
- B. ①②④
- C. ①③④
- D. ②③④

19. 谋小康之业、扬改革之帆、行法治之道、筑执政之基, “四个全面”战略思想和战略布局是统领中国发展的总纲。“四个全面”即: 全面建成小康社会、全面深化改革、全面依法治国、全



面从严治党。下列情形不符合“四个全面”要求的有

- A. 坚持反腐倡廉，加强党风廉政建设
- B. “一带一路”战略逐步实施
- C. 我国适时建立推行宪法宣誓制度
- D. 某市领导利用职务便利，为亲属承接工程谋取利益

20. 教育是国家发展的基石，要坚持把教育放在优先发展的战略地位，加快各级各类教育发展。

这体现了

- A. 我国高度重视教育事业的发展
- B. 我国的教育发展水平还很落后
- C. 科学技术是第一生产力
- D. 发展教育是我们一切工作的中心

21. 在 2018 年全国两会上，贴在水瓶身上的标签成为“网红”。这个标签用来给自己的水瓶做记号，可以写上自己的名字，也可以用指甲画出标记，在这个绿色标签上，印有中英文的“给水瓶做记号，并请喝完”，喝不完的还鼓励带走。这一举措

- ①有利于倡导勤俭节约的良好风尚
- ②能够解决我国的大气污染问题
- ③是落实可持续发展战略的体现
- ④有利于资源节约型社会的建设

- A. ①②③
- B. ①②④
- C. ①③④
- D. ②③④

22. 2016 年是中国“十三五”规划开局之年，也是中国经济进入“新常态”后深度调整和转型的关键之年。在这样的经济态势中，对我国经济发展目标阐述正确的是

- ①目标的制定必须从我国国情出发，经过长期有步骤分阶段的努力才能实现
- ②目前我国已经实现了经济社会发展目标的第一、第二步
- ③到建党一百年，建成惠及十几亿人口的更高水平的小康社会
- ④到建国一百年，人均国内生产总值达到发达国家水平，基本实现现代化

- A. ①②③
- B. ①②④
- C. ①③④
- D. ②③④

23. 我国高铁国产化率超过 90%，且拥有完全自主知识产权，回望过去，从“衬衫换飞机”到“高铁换大米”，“中国制造”正向“中国创造”高速前进。这说明了

- A. 创新是我国一切工作的中心
- B. 创新是我国的政治基石
- C. 创新是推动经济发展的唯一因素
- D. 创新是一个国家兴旺发达的不竭源泉

24. 政府的权力是人民赋予的，必须用之于民。政府在行使权力的过程中要坚持法治原则，严格依法行政，政府的各项权力都在法治轨道上运行。下列对权力的理解正确的有



①权力是把“双刃剑”

②权力必须接受人民监督

③权力必然滋生腐败

④权力需要关在制度的笼子里

A. ①②③

B. ①②④

C. ①③④

D. ②③④

## 二、非选择题（请认真阅读材料，并运用所学知识回答问题，共 52 分）

25. (10 分) 小赵是我区某中学的一名初中生，他认为“政治生活与我们每个人的生活密切相关”，初中生也应积极参与政治生活。

在今年“两会”期间，新华网、人民网等媒体开通“两会微博”，并邀请人大代表进行网上访谈。小赵同学便积极参与了此项活动，在与代表在线交流时，就“农民工子女在城市上学问题”向人大代表提出了合理的建议。

(1) 小赵“政治生活与我们每个人的生活密切相关”的观点对吗？为什么？（5 分）

(2) 请列举一个你参与政治生活实践的具体实例，并谈谈参与政治生活实践有何重要意义？

(5 分)

26. (8 分) 阅读材料，运用所学知识回答下面的问题：

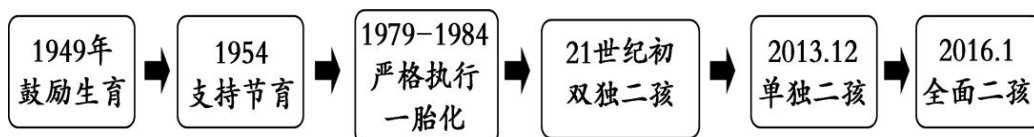
材料一：根据国家统计局发布的数据，2016 年我国 60 周岁及以上人口 23086 万人，约占总人口的 16.7%，65 周岁及以上人口 15003 万人，约占总人口的 10.8%，均高出 2013 年约 1.8 个百分点。

材料二：

近年来北京市常住人口年龄结构对比表

年份	年龄段人口占总人口比重 (%)			
	0-14 岁	15-59 岁	60 岁及以上	65 岁及以上
2013 年	9.5	76.6	13.9	9.2
2016 年	10.3	73.7	16	10.6

材料三：以下是老师在道德与法治课上出示的我国人口政策演变历程图：





(1) 材料一和材料二中的数据**共同**反映了我国人口现状的什么特点？（2分）

(2) 小李同学认为“全面二孩”政策的实施表明计划生育已不再是我国的基本国策。你同意小李的观点吗？为什么？（6分）

27. (8分) 2018年5月29日上午，北京市委书记蔡奇在门头沟区调查研究。他强调，要深入学习贯彻习近平生态文明思想，坚持人与自然和谐共生、绿水青山就是金山银山的理念，把良好生态环境作为最普惠的民生福祉，用最严格制度最严密法治保护生态环境，全力推进首都生态文明建设。要把生态环境建设放在首要位置，作为生态涵养区的重要组成部分，门头沟区不是不要发展，而是要绿色发展，要努力在绿色发展方面立标杆、作表率。践行绿色发展，门头沟区已经展示了朝气蓬勃的新气象。

门头沟区是北京市唯一的纯山区，山地面积占98.5%，有着以“三山两寺”为代表的自然人文景观。门头沟的山、门头沟的传统村落、门头沟的“美丽乡村”建设、门头沟的中关村科技园，人与自然、传统与现代、生态与科技，在绿色发展中，紧密相融。只要坚持生态优先、绿色发展，生态环境定会回馈门头沟美丽的高质量发展。

(1) 材料中多次提到了“绿色发展”，请问“绿色发展”符合我国的什么国策和战略？（2分）

(2) 我们提倡“绿色发展”的依据是什么？（答出一条即可）（2分）

(3) 请你运用所学教材知识谈谈如何建设社会主义生态文明？（请至少从两个主体作答，4分）

28. (10分) 2017年，我国取得了一系列科技成就：首艘国产航母在大连正式下水；新一代喷气式大型客机C919在上海浦东机场成功起飞；具有完全自主知识产权的中国高铁列车“复兴号”服役；世界上第一台超越早期经典计算机的光量子计算机诞生……

从1978年我国实行对内改革，对外在经济、政治、文化等方面加强了与各国的交流沟通以来，我们书写了精彩的“中国故事”，创造了发展的“中国奇迹”，塑造了崭新的“中国形象”。

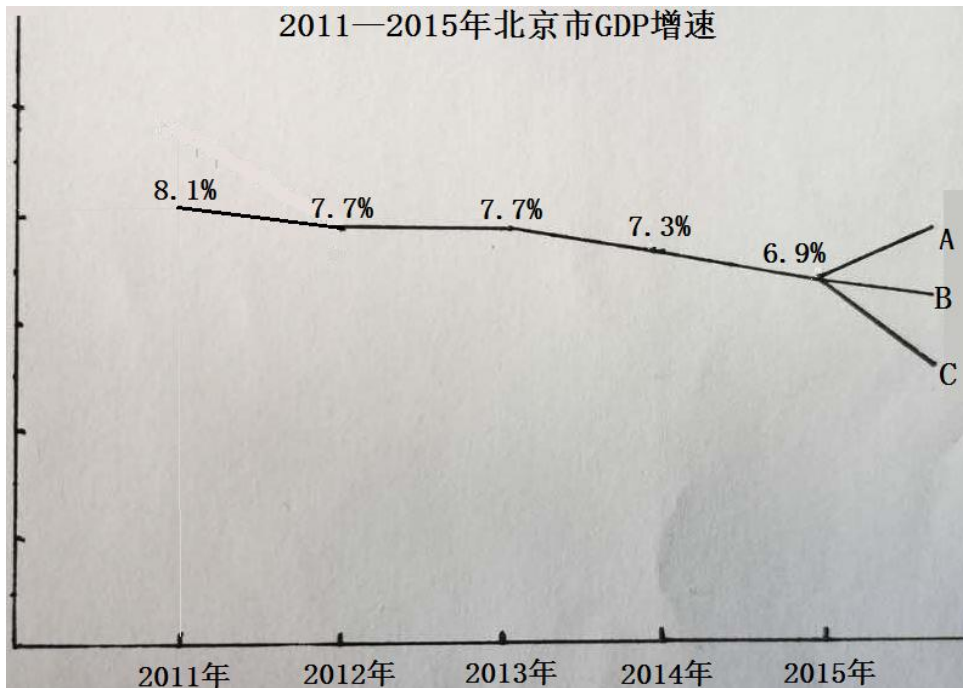
(1) 材料中划线部分体现了教材的哪些主要观点？（4分）

(2) 为了创造更多的“中国奇迹”，中学生应该怎样做？（6分）



29. (7分) 阅读材料，运用所学知识回答下面的问题：

材料一：2011—2015年北京市GDP增速。



材料二：2014年5月，习近平总书记在河南考察时强调，我国经济发展进入“新常态”。旧常态侧重经济发展的速度和总量，新常态则强调发展的效益和质量。新常态下中国经济发展的特征之一就是：从要素驱动、投资驱动转向创新驱动。所以，经济新常态被称为更高层次的改革开放，它要破茧成蝶，除了靠制度设计，更要靠科技创新。

(1) 材料一中的图表反映出我国经济新常态的什么特点？(2分)

(2) 根据材料一所反映的经济现象，你认为2015年以后的GDP增速方向应以A、B、C所代表的哪条线为宜？(2分)

(3) 结合材料二，说说我国经济发展进入新常态之后，如何才能更好地实现“创新驱动”？(3分)

30. (9分) 阅读材料，运用所学知识回答下面的问题：

材料一：根据教育部的数据，2016年我国教育经费投入占GDP的比例约为4%。“教育经费占GDP比例”是世界通行的衡量一个国家教育水平的基础线。据统计，在国家财政性教育投入上，

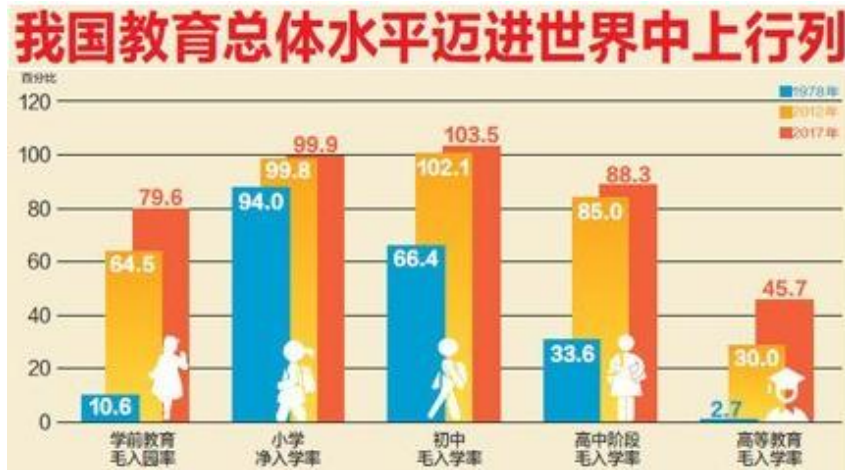




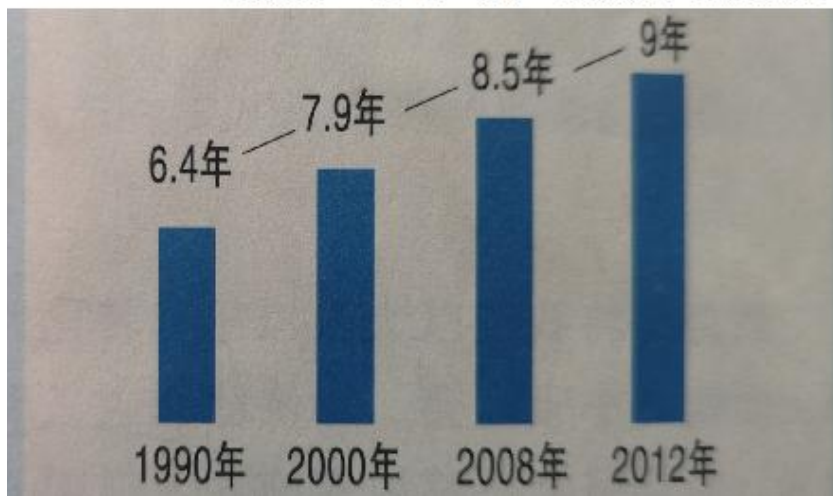
目前世界平均水平为 7%左右，其中发达国家达到 9%左右。我国义务教育不均衡情况依旧严重，公共财政支出生均教育经费，最高为北京 28822.01 元，最低为贵州 5403.22 元，相差五倍。

2015 年，我国文盲率为 4.3%，而发达国家的文盲率长期保持在 2%以下。

材料二：改革开放 40 年来成就显著的中国教育：



1990-2012年我国15岁以上人口受教育年限变化



(1) 结合材料一和材料二，谈谈你对我国教育发展现状的认识。(4分)

(2) 围绕我国在教育方面的发展，有的同学表达了如下两种观点，请你**任选其中一个观点**，运用所学知识予以评析。(5分)

甲：当今时代，上完大学也不一定能找到工作，接受教育没多大作用。

乙：我们国家还存在贫困、环境污染等社会问题，发展教育投入那么大，不值得。