

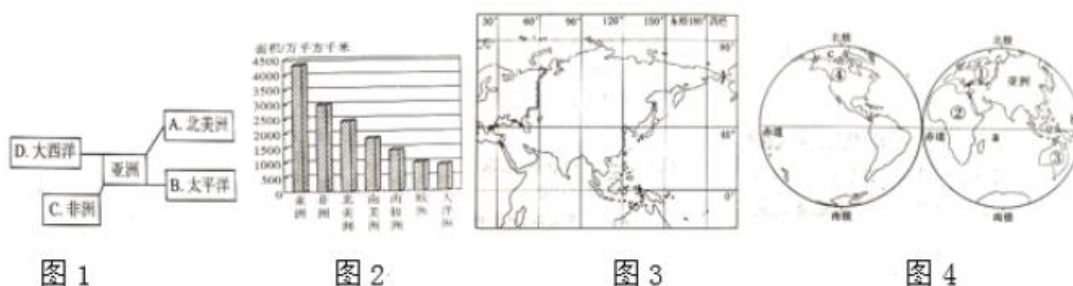
# 2022 北京中关村中学初一（下）期中

## 地 理

### 第一部分

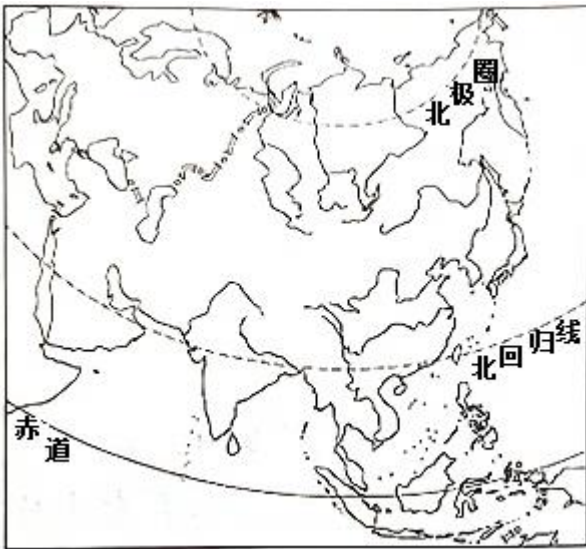
一、选择题，本题共 30 题，每题 2 分，共 60 分。在每题列出的四个选项中，选出最符合题目要求的一项。

读图 1“亚洲左邻右舍示意图”、图 2“七大洲面积排名图”、图 3“亚洲轮廓图”、图 4“东西半球图”，完成下面小题。



1. 描述亚洲“左邻右舍”错误的是（ ）  
A. A                      B. B                      C. C                      D. D
2. 世界面积最大的大洲是（ ）  
A. 北美洲                  B. 亚洲                  C. 非洲                  D. 南美洲
3. 下面说法错误的是（ ）  
A. 亚洲是东西距离最长的大洲                      B. 亚洲是南北距离最长的大洲  
C. 亚洲是跨纬度最广的大洲                          D. 亚洲是跨经度最广的大洲
4. 关于亚洲下面说法正确的是（ ）  
①大部分位于北半球②地跨东西半球③地跨热带、北温带和北寒带④东临大西洋  
A. ①②③                  B. ②③④                  C. ①③④                  D. ①②④
5. 下面说法错误的是（ ）  
A. 马六甲海峡是沟通 a、b 两大洋的重要海上通道  
B. 亚洲与④大洲的分界线是白令海峡  
C. 亚洲北临 c 北冰洋  
D. 亚洲与②大洲分界线是巴拿马运河

读“亚洲水系示意图”，完成下面小题。



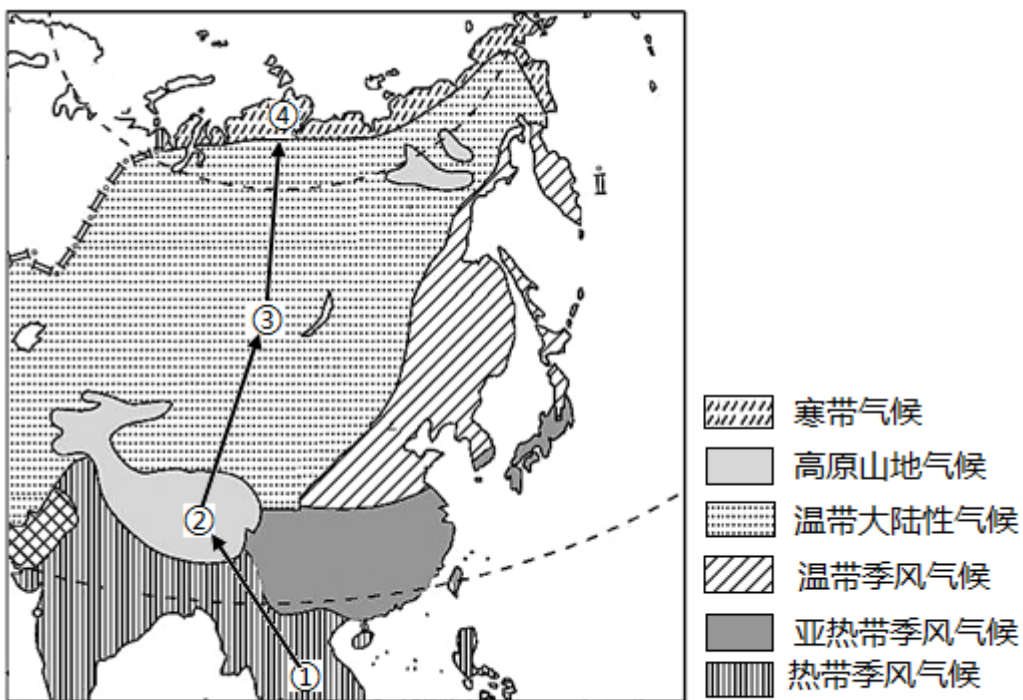
6. 关于亚洲河流流向说法正确的是 ( )

- A. 呈“S”状                      B. 呈半环状                      C. 呈放射状                      D. 自西向东

7. 根据河流流向与地势的关系, 可知亚洲地势特点 ( )

- A. 西高东低                      B. 南高北低  
C. 中部低、四周高              D. 中部高、四周低

读“亚洲气候类型示意图”, 完成下面小题。



8. 关于亚洲气候特点说法错误的是 ( )

- A. 复杂多样                      B. 季风气候显著                      C. 大陆性气候分布广                      D. 温带海洋性气候显著

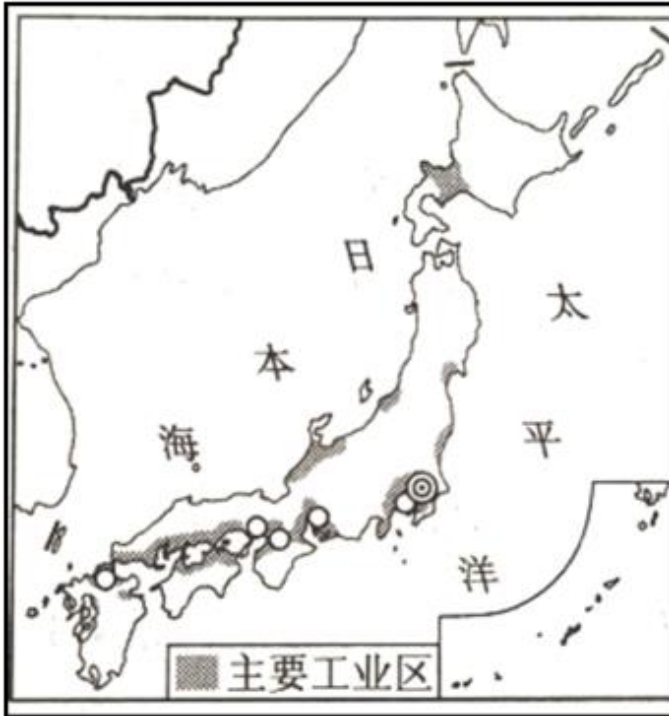
9. 形成气候类型②的主要影响因素 ( )

- A. 纬度位置                      B. 海陆位置                      C. 地形                      D. 人类活动

10. 造成①气候与④气候类型差异的主要因素是 ( )

- A. 纬度位置                      B. 海陆位置                      C. 地形                      D. 人类活动

读“日本工业分布示意图”，完成下面小题。



11. 日本发展工业的有利条件是 ( )

- A. 地域狭小                      B. 资源贫乏                      C. 海岸线曲折                      D. 多火山、地震

12. 不属于日本工业特点的是 ( )

- A. 进口原料燃料                      B. 出口工业制成品                      C. 自给自足                      D. 与世界联系密切

13. 关于日本说法错误的是 ( )

- A. 位于太平洋西北部                      B. 多火山地震的岛国  
C. 东西兼容的文化                      D. 工业区主要分布在日本海沿岸

春天去日本，其中一项就是赏樱花。下图为日本樱花开放时间示意图。读图，完成下面小题。



14. 关于日本叙述正确的是（ ）

- A. 日本领土只包括北海道、本州、四国、九州四大岛
- B. 日本大部分位于北温带，季风气候显著
- C. 日本位于东南亚地区，暖湿是典型的气候特征
- D. 日本多地震，主要是受太平洋暖湿气流影响

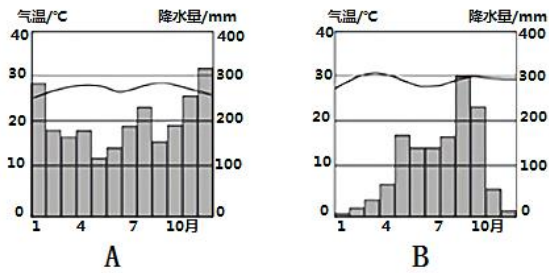
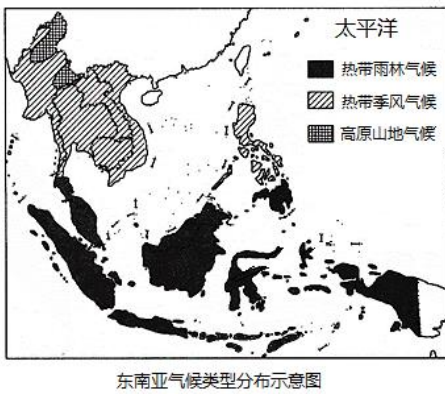
15. 4月初前往日本旅游，其中一项就是赏樱，应选择（ ）

- A. 本州岛
- B. 北海道岛
- C. 九州岛
- D. 四国岛

16. 樱花开放时间不同的主要原因是（ ）

- A. 纬度位置
- B. 海陆位置
- C. 地形类型
- D. 种植品种

读“东南亚气候分布示意图”，完成下面小题。



17. 东南亚主要气候类型是（ ）

- A. 热带雨林气候和热带草原气候
- B. 热带雨林气候和热带季风气候
- C. 热带草原气候和热带沙漠气候
- D. 亚热带季风气候和高原山地气候

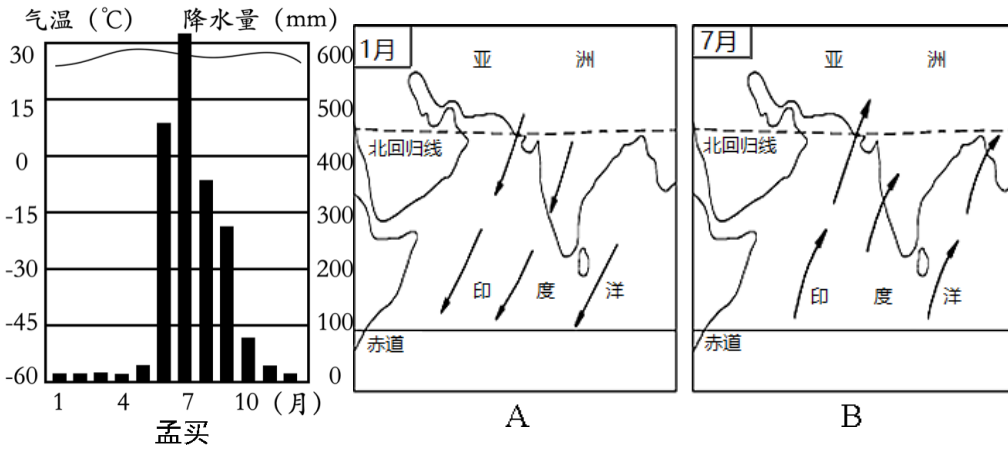
18. 东南亚主要粮食作物是（ ）

- A. 水稻
- B. 小麦
- C. 蕉麻
- D. 油棕

19. 关于东南亚说法不正确的是（ ）

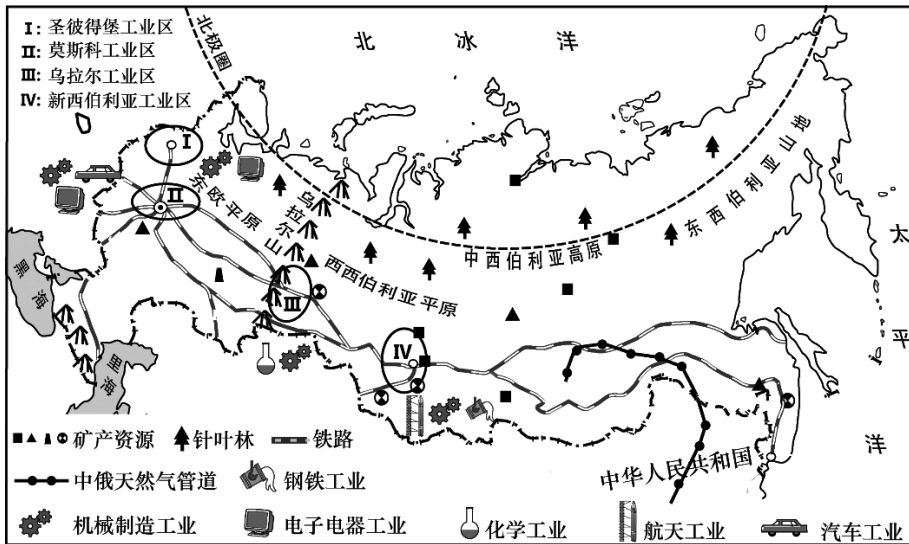
- A. 华人华侨最集中的地区
- B. 中南半岛山河相间、纵列分布
- C. 各国历史悠久，文化多元
- D. 主体位于北温带，是著名的旅游胜地

读“印度孟买多年平均各月气温和降水量、南亚每年1月、7月盛行风向示意图”，完成下面小题。



20. 印度主要气候类型是 ( )
- A. 热带草原气候      B. 热带雨林气候      C. 热带沙漠气候      D. 热带季风气候
21. 印度7月盛行风向是 ( )
- A. 西北      B. 西南      C. 东北      D. 东南
22. 关于印度说法不正确的是 ( )
- A. 世界第一人口大国      B. 水旱灾害频繁
- C. 主要粮食作物是水稻和小麦      D. 服务外包产业发展迅速

读“俄罗斯交通分布示意图”，完成下面小题。



23. 关于俄罗斯说法正确的是 ( )
- A. 地跨高、中、低纬度地区      B. 东临大西洋
- C. 横跨亚欧大陆北部      D. 北回归线穿过该国
24. 关于俄罗斯交通运输，正确的是 ( )
- A. 交通运输线分布均衡      B. 莫斯科铁路网呈放射状

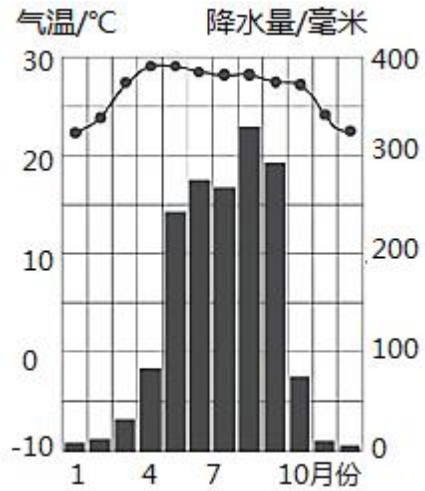
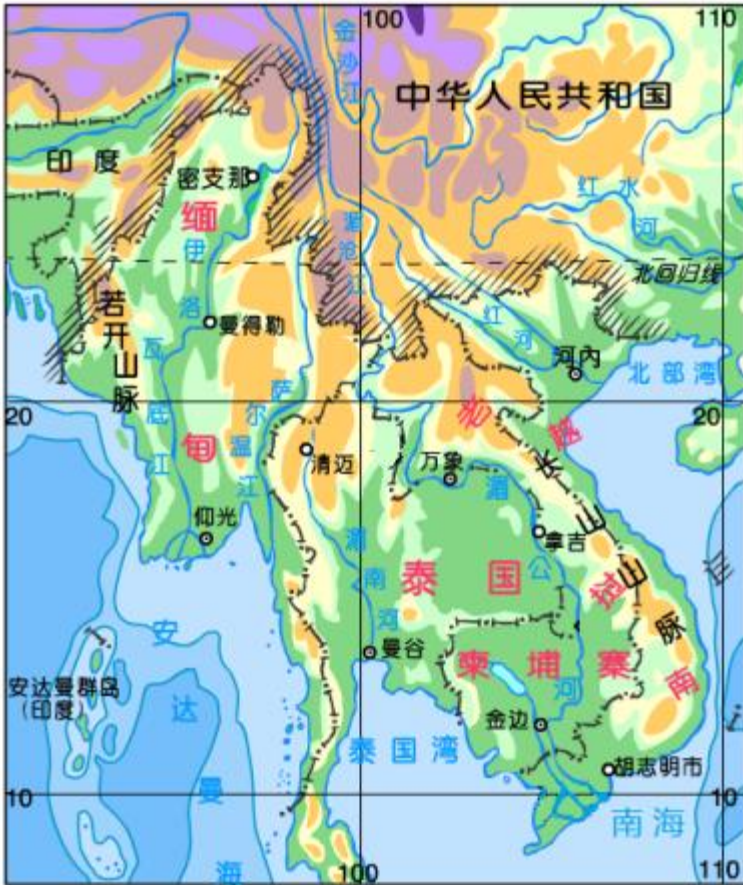
- C. 货运以铁路和公路为主  
D. 交通部门齐全，但均不发达
25. 西伯利亚大铁路沿南部山区修建，其原因不包括（ ）
- A. 南部纬度低，气候优于北部  
B. 南部矿产丰富，利于资源开发  
C. 南部人口城市密集，利于加强区际联系  
D. 南部多山地，建设成本高
26. 俄罗斯的工业区多分布在（ ）
- A. 低纬度地区  
B. 沿海地区  
C. 矿产资源附近  
D. 河流下游平原
27. 俄罗斯和中国有密切的贸易往来，俄罗斯出口到中国的商品最有可能是（ ）
- A. 天然气  
B. 稻米  
C. 服装  
D. 玩具
28. 中东地区是全世界关注的热点地区，原因有（ ）
- ①是东西方交通枢纽，战略位置重要②有丰富的铁矿，各国争夺铁矿资源  
③水资源匮乏，在各国分配上有矛盾④宗教文化存在差异，引发冲突危机
- A. ①②③  
B. ②③④  
C. ①③④  
D. ①②④
29. 下列关于中东地区居民与宗教信仰的叙述，正确的是（ ）
- A. 居民多为白种人，多信奉伊斯兰教  
B. 居民全部是阿拉伯人，这里 国家统称为阿拉伯国家  
C. 沙特阿拉伯的麦加被伊斯兰教、基督教、犹太教视为圣城  
D. 传统民居屋顶大多是斜的
30. 在电视新闻节目中，我们见到沙特阿拉伯国家领导人，往往头上围着围巾，身着白色宽大长袍，你认为这种服装可以起到的作用是（ ）
- A. 遮风挡雨  
B. 遮阳挡风沙  
C. 美观休闲能保暖  
D. 地形崎岖易行走

## 第二部分

### 二、综合题，本题共 3 小题，共 40 分。

31. 我国在中国东盟领导人会议上提议建立澜沧江—湄公河合作（简称“澜湄合作”）机制，泰国、缅甸、越南、老挝、柬埔寨五国积极参与。“澜湄合作”的宗旨是六国共建澜湄国家命运共同体。下图为中南半岛示意图，和万象多年平均气温和降水量图。阅读图文资料，回答下面问题。





**【山水相连】**

(1) 与中国合作的国家分布在亚洲\_\_\_\_\_部的中南半岛上，其中与中国接壤的国家有越南、老挝、\_\_\_\_\_。

**【共同合作】**

我国为澜沧江下游国家多次提供应急补水，并于 2020 年 11 月率先开通澜湄水资源合作信息共享平台，共享澜沧江水文信息。

(2) 湄公河是中南半岛上流经国家最多的河流，上游是我国的澜沧江，河流最终注入\_\_\_\_\_海。湄公河\_\_\_\_\_（单项选择）。

- A. 自南向北流吗
- B. 有明显汛期
- C. 结冰期较长
- D. 全程流速慢

(3) 图示地区人口稠密，城市众多，其中大城市主要沿\_\_\_\_\_分布，主要原因是：\_\_\_\_\_（请写出两点）。

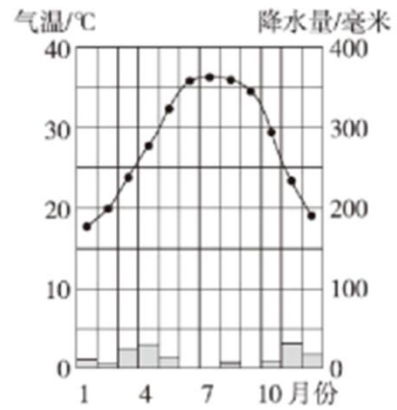
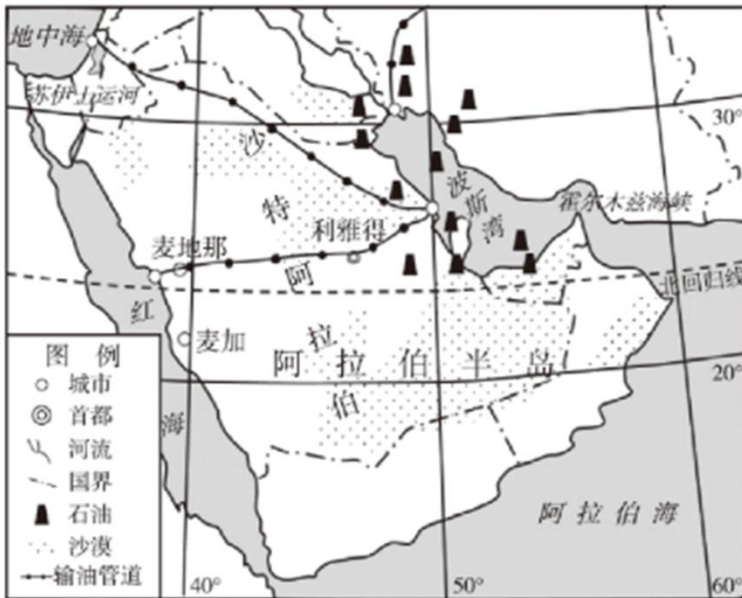
**【共同富裕】**

贸易畅通是“澜湄合作”的重要内容。东南亚国家生产的汽车轮胎、白咖啡、棕榈油、大米等产品在中国市场广受好评。

(4) 在贸易合作中，我国进口的热带经济作物产品有\_\_\_\_\_和\_\_\_\_\_等，这些国家的主要粮食作物是

\_\_\_\_\_，其种植的有利自然条件是\_\_\_\_\_。中国与湄公河沿岸国家之间的经济合作称为\_\_\_\_\_（南北对话/南南合作）。

32. 下图为“沙特阿拉伯示意图”和“麦地那多年平均气温和降水量图”阅读图文资料，回答下列问题。



(1) 沙特阿拉伯的首都是\_\_\_\_\_。从纬度位置看，\_\_\_\_\_（纬线名称）穿过该国中部，地跨五带中的\_\_\_\_\_带和北温带。从海陆位置看，西临\_\_\_\_\_海，东临波斯湾，位于\_\_\_\_\_半岛，是一个\_\_\_\_\_（岛国/内陆国/海陆兼备的国家）。

(2) 沙特阿拉伯主要的气候类型是\_\_\_\_\_，其气候特征为\_\_\_\_\_，境内沙漠广布，河流\_\_\_\_\_（稀少/众多），发展种植业的限制条件是\_\_\_\_\_，因此推广滴灌、喷灌，发展节水农业。

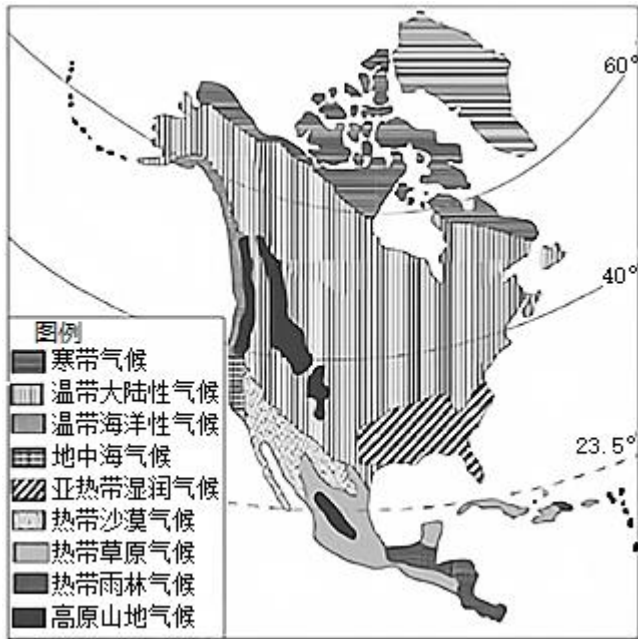
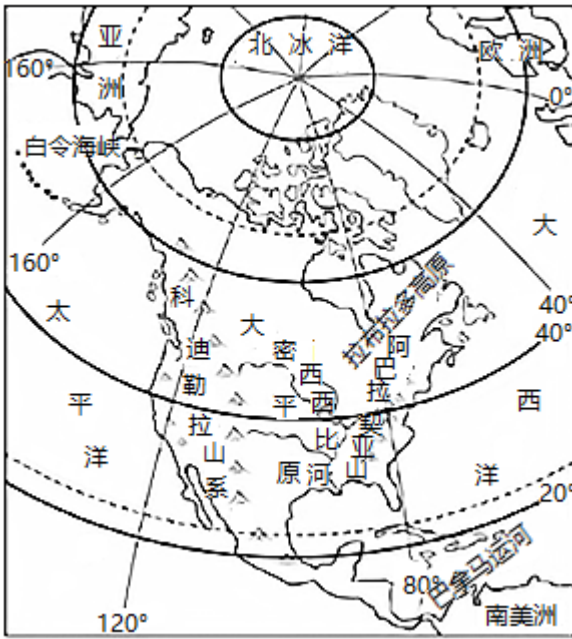
(3) 沙特阿拉伯被称为“石油王国”，该国石油资源集中分布在\_\_\_\_\_及其沿岸地区，石油外运以海洋运输为主，油轮经过\_\_\_\_\_海峡运往世界各地。

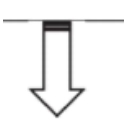
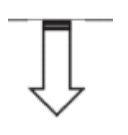
(4) 以下最有可能出现在该国的生活场景的是\_\_\_\_\_（单项选择），请你从衣、住、行任选一方面说明沙特阿拉伯居民的生活习俗及其与自然环境的关系\_\_\_\_\_。



33. 确定某大洲的地理位置，归纳地形、气候和河流的特点，并分析其相互关系是学习大洲自然特征的一种方法。下图为“北美洲位置和地形示意图”和“北美洲气候类型分布图”。读图，回答下列问题。





<p>(1) 从地理位置来看:大部分位于西半球,全部位于_____半球;三面临海,东临大西洋,_____临北冰洋,西临太平洋,隔_____海峡与亚洲相望,_____运河 南北美洲分界线。</p>	
 <b>看地形</b>	 <b>识气候</b>
<p>(2) 北美洲西部位于板块交界处,地壳运动活跃,形成高大的科迪勒拉山系,其走向大致是_____ ;中部是广阔的_____ (地形区)东部为低缓的山地和高原。因此北美洲地势特征是_____。</p>	<p>(3) 北美洲气候类型复杂多样,分布最广的是_____。西部的气候类型在太平洋沿岸呈南北狭长分布,主要是受到_____ (地形/纬度位置/海陆位置)的影响。</p>
<div style="border: 1px solid black; width: 50%; margin: 0 auto; height: 20px; margin-bottom: 5px;"></div> <hr style="width: 50%; margin: 0 auto;"/> <b>析河流</b>	
<p>(4) 受气候影响北美洲中部的密西西比河在_____ (夏/冬)季水量大。受_____影响,该河流支流大都从_____ (东、西/南、北)方向汇入干流。</p>	

# 参考答案

## 第一部分

一、选择题，本题共 30 题，每题 2 分，共 60 分。在每题列出的四个选项中，选出最符合题目要求的一项。

【答案】1. D 2. B 3. D 4. A 5. D

【解析】

【1 题详解】

亚洲与北美洲隔太平洋相望，A 正确；亚洲东临太平洋，B 正确；亚洲西南与非洲相接，C 正确；亚洲西北部与欧洲相接，D 错误。故选 D。

【2 题详解】

世界面积最大的大洲是亚洲，面积约 4400 万平方千米。故选 B。

【3 题详解】

亚洲是东西距离最长的大洲、东西距离最长的大洲和跨纬度最广的大洲，A、B、C 正确；跨经度最广的大洲是南极洲，D 错误。故选 D。

【4 题详解】

亚洲大部分位于北半球，①正确；亚洲地跨东西半球，俄罗斯东西伯利亚山地的东部属于西半球，②正确；亚洲地跨热带、北温带和北寒带，③正确；亚洲东临太平洋，④错误。故选 A。

5 题详解】

马六甲海峡是沟通印度洋、太平洋的重要海上通道，A 正确；亚洲与北美洲的分界线是白令海峡，B 正确；亚洲北临北冰洋，C 正确；亚洲与非洲的分界线是苏伊士运河，D 错误。故选 D。

【点睛】世界面积最大的大洲是亚洲；跨经度最广的大洲是南极洲；亚洲东临太平洋；亚洲与非洲的分界线是苏伊士运河。

【答案】6. C 7. D

【解析】

【6 题详解】

从图中亚洲河流的流向看，亚洲河流大多发源于中部地区，呈放射状流向周边的海洋。故 C 正确，ABD 不正确。根据题意选 C。

【7 题详解】

河流总是从高处流向低处，亚洲河流呈放射状流向周边的海洋，由此可判断亚洲的地势中不高，四周低。故 D 正确，ABC 不正确。根据题意选 D。

【点睛】亚洲是世界第一大洲，是世界上面积最大、跨纬度最广，东西距离最长的大洲。读图分析解答即可。

【答案】8. D 9. C 10. A

【解析】

【8 题详解】

读图分析，亚洲地跨热带、温带和寒带，东、北、南三面濒临大洋，中西部深居亚欧大陆腹地，受纬度位置、海陆位置和地形的综合影响，亚洲气候具有复杂多样、大陆性气候分布广和季风气候显著的特点。亚洲没有温带海洋性气候，故选 D，ABC 错误。

【9 题详解】

读图分析，气候类型②为高原山地气候，高原山地气候形成地区为亚洲中部的青藏高原和一些高山地区。这些地区海拔高，气温低，形成高原山地气候。所以形成气候类型②的主要影响因素是地形。故选 C，ABD 错误。

【10 题详解】

读图分析，①气候为热带季风气候，④气候为寒带气候。①气候与④气候类型分布区纬度差别很大。纬度越高，气温越低。①气候纬度低，形成热带气候，④气候纬度高，形成寒带气候，造成①气候与④气候类型差异的主要因素是纬度位置。故选 A，BCD 错误。

【点睛】亚洲是七大洲中面积最大，人口最多的一个洲。亚洲地处世界最大大陆的东部，濒临世界最大的海洋，海陆差异特别显著。在世界各大洲中，亚洲东部和南部的季风最强盛，最典型，影响范围也最广。

【答案】11. C 12. C 13. D

【解析】

【11 题详解】

日本是发达的资本主义国家，日本地域狭小、资源贫乏、对外依赖性强，多火山地震，是工业发展的不利条件，但是日本充分利用海岸线曲折，多样优良港湾、技术先进的优势，发展了进口-加工-出口型经济。故 C 符合题意，ABD 不符合题意。故选 C。

【12 题详解】

日本是一个岛国，海岸线曲折，多优良港湾，但是日本资源缺乏，技术先进，所以日本进口原料和燃料，出口工业制成品，对外依赖性强，与世界的联系密切。故 ABD 正确，C 不正确。根据题意选 C。

【13 题详解】

日本位于亚洲东部、太平洋西北部，A 正确，日本位于板块交界处，多火山地震，故 B 正确；日本文化具有东方文化，也有西方文化，故 C 正确；日本工业主要分布在太平洋沿岸和濑户内海沿岸地区，故 D 不正确。根据题意选 D。

【点睛】日本是亚洲东部的岛国，海岸线曲折，多优良港湾，日本地形以山地丘陵为主，地域狭小，资源贫乏，日本利用有利条件发展进口-加工-出口形经济。

【答案】14. B 15. A 16. A

【解析】

【分析】日本位于东亚，领土由北海道、本州、四国、九州四个大岛及 6800 多个小岛组成，总面积 37.8 万平方公里。日本属温带海洋性季风气候，终年温和湿润。6 月多梅雨，夏秋季多台风。全国跨纬度达 25°，南北气温差异十分显著，绝大部分地区属于四季分明的温带气候。

【14 题详解】

日本由北海道、本州、四国、九州 4 个大岛和数千个小岛及附近的海域组成，故 A 错误；日本大部分位于北温带，季风气候显著，主要是温带季风气候和亚热带季风气候，带有明显的海洋性特点，故 B 正确；日本位于东亚地区，气候暖湿，故 C 错误；日本处于环太平洋火山地震带上，多火山地震，故 D 错误。故选：B。

【15 题详解】

据图可知，本州岛樱花开放的时间是在 3 月 25 日至 4 月 20 日之间，北海道是在 4 月 30 日后开放，九州和四国的开放时间是在 3 月下旬，如果 4 月初去日本赏樱花，应该去本州岛。故选：A。

【16 题详解】

日本跨纬度达 25°，受纬度因素的影响，各地气温差异较大，受气温的影响，从 3 月初到 5 月底，樱花依次从南向北开放。故选：A。

【点睛】本题主要考查日本的自然环境，理解解答即可。

【答案】17. B 18. A 19. D

【解析】

【17 题详解】

读东南亚气候分布示意图可知，东南亚北赤道穿过，大部分位于赤道和北回归线之间，主要气候类型是热带雨林气候和热带季风气候，赤道附近地区的马来群岛大部分属于热带雨林气候，全年高温多雨，中南半岛和菲律宾群岛北部属于热带季风气候。全年高温，一年分旱雨两季。故根据题意选 B。

【18 题详解】

东南亚以热带雨林和热带季风气候为主，气候湿热，水热充足，适合水稻的生长，小麦是主要分布在温带的粮食作物，蕉麻和油棕是经济作物，故根据题意选 A。

【19 题详解】

东南亚是山介绍华侨和华人最多的地区，东南亚中南半岛与中国山水相连，呈现出山河相间，纵列分布的特点，东南亚各国历史悠久，文化多样化，故 ABC 正确；东南亚北赤道穿过，大部分位于北回归线以

南，大部分位于五带中的热带，故的 B 不正确，根据题意选 D。

【点睛】东南亚位于亚洲东南部，包括马来群岛和中南半岛两部分，绝大部分位于热带，气候以热带雨林气候和热带季风气候为主，是世界上天然橡胶、油棕、椰子和蕉麻的最大产地，也是世界上华侨和华人最多的地区。

【答案】20. D 21. B 22. A

【解析】

【20 题详解】

读孟买的气温和降水图可知，该地全年高温，一年分旱雨两季，属于热带季风气候。故 D 正确，ABC 不正确。根据题意选 D。

【21 题详解】

读图 B 可知，印度 7 月份风从印度洋吹来，风向是西南，温暖湿润，给印度带来大量的降水。故根据题意选 B。

【22 题详解】

印度人口居世界第二位，仅次于中国，A 不正确；印度季风气候显著，降水季节变化大，水旱灾害频繁，B 正确；主要粮食作物 水稻和小麦，C 正确；印度服务外包产业发达，被称为“世界办公室”。D 正确。根据题意选 A。

【点睛】印度位于亚洲南部，是南亚面积最大，人口最多的国家，印度热带季风气候显著，水旱灾害频繁，服务外包产业发达，是世界第二人口大国。

【答案】23. C 24. B 25. D 26. C 27. A

【解析】

【23 题详解】

读图分析可知，俄罗斯地跨中高纬度，没有低纬度，故 A 不正确；东临太平洋，B 不正确；俄罗斯面积广大，横跨亚欧大陆北部，C 正确；被北极圈穿过，不被北回归线穿过，故 D 不正确，根据题意选 C。

【24 题详解】

读图可知，俄罗斯交通运输线分布很不均衡，欧洲部分以莫斯科为中心，呈放射状铁路网，货运以铁路和管道为主，客运以铁路和公路为主，交通部门齐全，都很发达。故 B 正确，ACD 不正确，根据题意选 B。

【25 题详解】

西伯利亚大铁路沿南部山区修建，主要原因是南部纬度低，气候优于北部，没有多年冻土，南部矿产丰富，利于资源开发，南部人口城市密集，利于加强区际联系。不是因为建设成本高。故根据题意选 D。

【26 题详解】



读图可知，俄罗斯矿产资源丰富，重工业发达，为了节约运输成本，俄罗斯的工业区主要集中分布在矿产资源产地附近地区。故 C 正确，ABD 不正确。根据题意选 C。

**【27 题详解】**

俄罗斯矿产资源丰富重工业发达，轻工业发展缓慢，所以俄罗斯需要进口轻工业产品，出口矿产和重工业产品。故天然气是其主要出口商品，稻米、服装和玩具不是是俄罗斯的出口商品。故根据题意选 A。

**【点睛】**俄罗斯是地跨亚欧两洲的欧洲国家，是世界上面积最大的国家，俄罗斯地跨中高纬度，纬度较高，夏季温暖短促，冬季漫长寒冷，地形以平原为主，农业和人口集中分布在欧洲部分，资源丰富，重工业发达，轻工业发展缓慢。

28. **【答案】** C

**【解析】**

**【详解】**中东地区位于五海三洲之地，是东西方交通枢纽，战略位置重要，①正确；有丰富的石油资源，各国石油资源，古②不正确；水资源匮乏，在各国分配上有矛盾也是热点之一，故③正确；宗教文化存在差异，引发冲突危机，④正确，根据题意选 C。

29. **【答案】** A

**【解析】**

**【详解】**中东地区以白色人种为主，多数是阿拉伯人，多信仰伊斯兰教，故 A 正确；居民不全是阿拉伯人，故 B 不正确；沙特阿拉伯的麦加被伊斯兰教视为圣城，耶路撒冷被伊斯兰教、基督教、犹太教视为圣城，故 C 不正确；该地区以热带沙漠气候为主，传统民居多平顶房。故 D 不正确。根据题意选 A。

30. **【答案】** B

**【解析】**

**【详解】**阿拉伯人主要分布在西亚地区，在这里以热带沙漠气候为主，全年炎热干燥，沙漠广布，围着头巾穿长袍可以防太阳辐射和遮阳挡风沙，白色可以最大限度的反射阳光，是为了适应当地的自然环境。故 B 正确，ACD 不正确。根据题意选 B。

## 第二部分

### 二、综合题，本题共 3 小题，共 40 分。

31. **【答案】**(1) ①. 东南 ②. 缅甸

(2) ①. 南 ②. B

(3) ①. 河流、河口三角洲 ②. 地形平坦，交通便利

(4) ①. 咖啡 ②. 橡胶 ③. 水稻 ④. 夏季高温多雨（或雨热同期） ⑤. 南南合作

**【解析】**

**【分析】**本题以“澜湄合作”为切入点，涉及东南亚的国家、河流、气候等知识，考查学生的区域认知、综

合思维等地理核心素养。

**【小问 1 详解】**

亚洲主要分为东南、南亚、东南亚、北亚、西亚、中亚等六个分区，中南半岛属于东南亚地区，东南亚地区中，与中国陆上相邻的国家有越南、老挝、缅甸等国。

**【小问 2 详解】**

湄公河是亚洲流经国家最多的河流，上游在我国境内，我国称其为澜沧江，河流自北向南流，最终注入南海，以热带季风气候为主，夏季多雨，有明显的汛期，没有结冰期，上游流速快，下游流速慢，故选 B。

**【小问 3 详解】**

中南半岛的大城市主要沿河流、河口三角洲分布，主要原因是以上地区地形以平原为主，地形平坦，靠近河流，水源充足，交通便利，有利于农业的发展，城市规模的扩大。

**【小问 4 详解】**

东南亚地区以热带气候为主，气候湿热，适宜热带经济作物的种植，由材料可知，在贸易合作中，我国进口的热带经济作物产品有咖啡、橡胶等，东南亚地区的粮食作物主要是水稻，水稻种植的有利条件是以热带季风气候为主，夏季高温多雨，雨热同期，降水丰富。中国与湄公河沿岸国家都是发展中国家，他们之间的经济合作称为南南合作。

**【点睛】**

32. **【答案】** ①. 利雅得 ②. 北回归线 ③. 热带 ④. 红 ⑤. 阿拉伯 ⑥. 海陆兼备  
⑦. 热带沙漠气候 ⑧. 全年炎热少雨 ⑨. 稀少 ⑩. 水源 ⑪. 波斯湾 ⑫. 霍尔木兹  
⑬. A ⑭. 衣：沙特以热带沙漠气候为主，全年炎热，居民多穿白色的宽大的长袍，有利于防晒散热；  
住：热带沙漠气候为主，降水稀少，昼夜温差大，民居特征是平顶、墙厚等；行：骆驼是基本的交通工具，热带沙漠气候，炎热干旱，骆驼耐干旱。

**【解析】**

**【分析】**本题以沙特阿拉伯为切入点，涉及沙特的地理位置，气候，民居等知识，考查学生的区域认知、综合思维、人地关系等地理核心素养。

**【详解】**(1) 利雅得是沙特阿拉伯的首都，位于阿拉伯半岛中部的哈尼法谷地的平原。由图可知，北回归线穿过沙特阿拉伯的中部地区，地跨热带和北温带，东临波斯湾，西临红海，位于世界最大的半岛阿拉伯半岛，是一个海陆兼备的国家。

(2) 沙特阿拉伯的气候主要以热带沙漠气候为主，其气候特征是全年高温少雨，由于降水极少，沙特的境内沙漠广布，河流稀少，水资源短缺，水源称为该地区农业发展的限制性条件，由于该地区技术条件好，因此推广滴灌、喷灌，发展节水农业。

(3) 沙特阿拉伯、伊朗、科威特、伊拉克、阿拉伯联合酋长国等是西亚重要的产油国，沙特阿拉伯被称

为石油王国”，该国石油资源集中分布在波斯湾及其沿岸地区，石油外运以海洋运输为主，油轮经过霍尔木兹海峡运往欧洲、亚洲、美洲等世界各地。

(4) 由图可知，A 图有骆驼等事物，可以判断是沙漠地区的场景，B 图河网密布，属于我国南方地区的场景，C 图狗拉雪橇，属于高纬度寒冷地区的场景，故选 A。沙特阿拉伯地区以热带沙漠气候为主，全年降水稀少，河流稀少，昼夜温差大等特征，使到其居民多穿白色的宽大长袍，头戴头巾等，民居多是平顶的房屋，墙壁较厚，窗户较小；由于干旱缺水，沙漠广布，难以修建公路等原因，骆驼是该地区的传统交通工具，被称为沙漠之舟。

**【点睛】**

33. **【答案】** ①. 北半球 ②. 北 ③. 白令 ④. 巴拿马 ⑤. 南北走向 ⑥. 中部大平原  
⑦. 东部西部高，中间低 ⑧. 温带大陆性气候 ⑨. 地形 ⑩. 夏 ⑪. 地形 ⑫. 东、西

**【解析】**

**【分析】** 本题以“北美洲位置和地形示意图”和“北美洲气候类型分布图”为背景材料，涉及北美的地形、气候等知识，考查学生的区域认知、综合思维等地理核心素养。

**【详解】** (1) 由图可知，北美洲大致位于  $160^{\circ}\text{W}$ - $40^{\circ}\text{W}$  之间， $9^{\circ}\text{N}$  以北地区，全部位于北半球，北邻北冰洋，西临太平洋，东临大西洋，隔白令海峡与亚洲相望。巴拿马运河是南北美洲分界线。

(2) 由图可知，科迪勒拉山系大致呈南北走向，科迪勒拉山系是世界上最长的褶皱山系，纵贯南北美洲大陆西部。北美洲中部是广阔的中部大平原，东部是阿巴拉契亚山脉，地势东西高，中部低。

(3) 北美洲气候类型复杂多样，有地中海气候，温带海洋性气候，亚热带季风性湿润气候，高原山地气候，温带大陆性气候，其中温带大陆性气候分布最广。北美洲西部的气候呈南北的狭长分布，主要是受高大的山脉的阻挡，使太平洋的暖湿气流不能影响中东部地区。

(4) 北美洲的密西西比河流域以温带大陆性气候、亚热带季风性湿润气候为主，夏季降水较多，河流流量较大。由于北美洲的地形东部、西部高，中部低，受地形的影响，密西西比河的支流大多从东、西方向汇入干流。