

石景山区 2018 年初三统一练习

历史

学校 _____ 姓名 _____ 准考证号 _____

考 生 须 知	<p>1. 本试卷共 12 页，共 34 道小题，满分 90 分。考试时间 90 分钟。</p> <p>2. 请在试卷和答题卡上准确填写学校名称、姓名和准考证号。</p> <p>3. 试题答案一律填涂或书写在答题卡上，选择题用 2B 铅笔作答，其他试题用黑色字迹签字笔作答，在试卷上作答无效。</p> <p>4. 考试结束，请将答题卡交回。</p>
----------------------------	--

第 I 卷 选择题（共 45 分）


本大题共 30 小题，每小题 1.5 分，共计 45 分。每题只有一个正确选项。

- 若以“我国境内著名的原始人类”为题开展研究性学习，主要的证据来源应该是

A. 神话传说 B. 史书记载 C. 学者推断 D. 考古发掘
- 右图是北京西周燕都遗址博物馆中青铜器克罍（léi）的铭文拓片，其大意为：周王对太保说，我非常满意你的供奉，命你的儿子克做燕地的君侯。该铭文拓片可直接用于研究

A. 禅让制 B. 郡县制

C. 分封制 D. 世袭制


- 许多成语来源于历史。一位同学搜集了如下的成语：退避三舍、卧薪尝胆、围魏救赵和纸上谈兵，从这些成语可以看出春秋战国时期的特点之一是

A. 经济快速发展 B. 国家实现统一

C. 学术思想活跃 D. 军事战争不断
- 小明的考试成绩不理想，家长安慰他说：“这次考差了不全是坏事，你能认真反思，及时发现问题，找到解决问题的对策，坏事就可能变成好事。”小明家长的这种思想与下列哪位思想家的主张相似

A. 老子 B. 孔子 C. 墨子 D. 韩非子
- 秦孝公即位时，秦国“兵弱”，而商鞅变法后，秦人“勇于公战”。这是因为变法

A. 奖励耕织 B. 推行县制

C. 奖励军功 D. 允许土地自由买卖

6. 识读历史地图是学习和研究历史事件的重要方法。结合所学，下图反映的是



- A. 张骞出使西域
- B. 汉代丝绸之路
- C. 玄奘西行
- D. 郑和下西洋

7. 东汉初期，经过刘秀的励精图治，出现了政治清明、经济发展、社会安定的治世局面，史称

- A. 文景之治
- B. 光武中兴
- C. 贞观之治
- D. 开元盛世

8. 2018年2月27日，《天路文华——西藏历史文化展》在首都博物馆开展，《步辇图》是其中最著名的一件展品。关于《步辇图》，下列说法错误的是



- A. 《步辇图》描绘了吐蕃使者朝见唐玄宗，请求和亲的情景
- B. 《步辇图》是唐朝时期著名宫廷画家阎立本的代表作
- C. 《步辇图》体现了唐朝开明的民族政策
- D. 《步辇图》是汉藏两族友好的历史见证

9. 我国古代有许多杰出帝王，其中与“黄袍加身”“杯酒释兵权”有关的是

- A. 唐太宗
- B. 宋太祖
- C. 元世祖
- D. 明太祖

10. 历史学家张岂之曾说：“南宋凭半壁江山，外有强敌压境，内有庞大的国家机器需要支援，竟然也能维持一个半世纪之久，其原因之一，可能就是有如此巨额的外贸收入在支撑着它。”南宋政府外贸收入大量增加的原因有

- ①社会相对安定，生产技术先进
- ②经济重心南移，江南经济发展
- ③国家采取严格的重农抑商政策
- ④海上交通发达，海外贸易兴盛

- A. ①③④
- B. ①②③
- C. ①②④
- D. ②③④

11. 右图所示是《梦溪笔谈》中对我国古代一项发明的描述，与该项发明直接相关的历史人物是

若止印三二本，未为简易；若印数十百千本，则极为神速。常作二铁板，一板印刷，一板已自布字。此印者才毕，则第二板已具。更互用之，瞬息可就。

- A. 蔡伦
- B. 张衡
- C. 毕昇
- D. 宋应星

12. 右图是某朝疆域图残片，依据图片信息，这应该是

- A. 唐朝疆域图
- B. 北宋疆域图
- C. 元朝疆域图
- D. 清朝疆域图



13. 15 世纪初我国有一位著名航海家率领其船队进行了七次远洋航行，最远到达了非洲东海岸和红海沿岸。这位航海家是

- A. 鉴真
- B. 郑和
- C. 戚继光
- D. 郑成功

14. 明朝时期，很多读书人只钻研四书五经，对国计民生毫不关心，这是因为明朝政府

- A. 实行八股取士
- B. 废除丞相
- C. 大兴文字狱
- D. 设立锦衣卫

15. 小明同学在学习完某历史内容后，制作了一张学习卡片。他所学习的内容是

- A. 清代边疆管理的加强
- B. 八股取士制度
- C. 清代君主权力的加强
- D. 闭关锁国政策

目的：维护清朝统治
表现：严格限制对外贸易；
只许广州一地对外通商。
影响：阻碍了中国社会的进步

16. 归纳历史发展的阶段特征是学习历史的重要方法之一。下列对中国古代历史发展的阶段及其特征的描述，正确的是

- A. 秦汉时期——中华文明的勃兴
- B. 隋唐时期——繁荣与开放的社会
- C. 宋元时期——大一统局面的开创
- D. 明清时期——政权分立与民族融合

17. 对下面图示解读准确的是




- A. 中国逐步沦为半殖民地半封建社会的过程
- B. 中国人民反帝反封建的斗争过程
- C. 中国民族工业的曲折发展历程
- D. 中国新民主主义革命的发展历程

18. 近代中国在向西方学习的时候出版过很多刊物，下列出版物中率先高举“民主”“科学”大旗，提出要学习西方思想文化的是



A



B



C



D

19. 召开于长征途中，被称为中国共产党历史上“生死攸关的转折点”的会议是
A. 中共一大 B. 遵义会议 C. 中共七大 D. 中共七届二中全会

20. 新中国不同时期的农业政策反映了不同的时代背景，也对社会产生了深远影响。对于右图描述正确的是



- A. 图中文件的颁布标志着封建土地所有制的废除
B. 图片内容反映了农民积极加入生产合作社
C. 图片内容反映了农业“大跃进”成果卓著
D. 图中文件的颁布标志在农村推行家庭联产承包责任制
21. 2017年5月14日，习近平总书记在“一带一路”国际合作高峰论坛上指出：古丝绸之路跨越尼罗河流域、两河流域、印度河和恒河流域、黄河和长江流域……。古丝绸之路跨越的“尼罗河流域”诞生了

- A. 古印度文明 B. 古埃及文明 C. 古巴比伦文明 D. 古希腊文明
22. 伯里克利任职期间，雅典民主政治达到极盛。下列情景可能出现在他统治时期的是
①公民甲按时参加城邦活动，获得了补贴 ②某女子在公民大会上进行演讲
③公民乙通过抽签的方式担任了国家公职 ④公民丙因被认为危害城邦而遭放逐

- A. ①②③ B. ①②④ C. ②③④ D. ①③④
23. 历史课上，老师安排同学们收集日本大化改新、伊斯兰教的传播、法兰克王国、西欧中世纪的城市等相关资料，作为下节活动课讨论的主要内容。该活动课的主题应该是

- A. 人类文明的开端 B. 改革促进社会进步
C. 城市，让生活更美好 D. 亚欧封建社会
24. 下列关于“三角贸易”路线和内容的表述，正确的是
A. 欧洲（廉价商品）→非洲（黑人）→美洲（金银、原料）→欧洲
B. 欧洲（金银、原料）→非洲（黑人）→美洲（廉价商品）→欧洲
C. 非洲（黑人）→欧洲（廉价商品）→美洲（金银、原料）→欧洲
D. 非洲（黑人）→美洲（金银、原料）→欧洲（廉价商品）→非洲

25. 文艺复兴时期的圣母像与中世纪时的圣母像有很大不同，这主要是因为



中世纪圣母像



文艺复兴时期圣母像

- A. 画家的绘画技法有了很大提高 B. “人”的觉醒
C. 但丁、达·芬奇等人的积极倡导 D. 教会的要求
26. 右图所示法律条文出自以下哪部法律文献？
- A. 《独立宣言》
B. 《人权宣言》
C. 《权利法案》
D. 《民法典》
- 凡未经议会同意，以国王权威停止法律或停止法律实施之僭越权力，为非法权力。凡未经议会准许，借口国王特权，为国王而征收，或供国王使用而征收金钱，超出议会准许之时限或方式者，皆为非法。议会之选举应是自由的。
27. 下列各项中，史实与结论对应关系不正确的是
- A. 新航路的开辟——世界开始联为一个整体
B. “三角贸易”——促进了欧洲资本主义的发展
C. 萨拉托加大捷——美国独立战争结束
D. 巴黎人民攻占巴士底狱——法国大革命开始
28. 1860年林肯代表美国共和党参加总统竞选，主题是“联邦必须而且将会得到保留”。这表明林肯
- A. 维护国家统一的决心 B. 主张与南方黑人奴隶主妥协
C. 主张废除黑人奴隶制 D. 抗击英国殖民统治的决心
29. 《世界文明史》中写道“如果人们把整个人类社会的演进用12个小时来表示，那么现代工业时代只代表最后5分钟，而不是更多。英国是最先发生这个5分钟事件的地方……”此句中的“5分钟事件”是指
- A. 工业革命 B. 第二次工业革命
C. 英国资产阶级革命 D. 处死查理一世
30. 1848年，由马克思和恩格斯共同发表，标志马克思主义诞生的著作是
- A. 《人权宣言》 B. 《资本论》 C. 《人民宪章》 D. 《共产党宣言》

材料二



世界人口数量统计图



地球村



2014年APEC杭州峰会



关于石油的漫画



水污染



因战乱逃往欧洲的叙利亚难民

(3) 依据材料二，结合所学，说明当代中国提出构建人类命运共同体的原因。(3分)

材料三

科技创新、重大工程建设捷报频传。“慧眼”卫星遨游太空，C919大型客机飞上蓝天，量子计算机研制成功，海水稻进行测产，首艘国产航母下水，“海翼”号深海滑翔机完成深海观测，首次海域可燃冰试采成功……

我们在国内主办了几场多边外交活动，包括首届“一带一路”国际合作高峰论坛、金砖国家领导人厦门会晤、中国共产党与世界政党高层对话会等会议。我还参加了一些世界上的重要多边会议。今年年初，我出席达沃斯世界经济论坛年会，并在联合国日内瓦总部作了讲话，后来又出席了二十国集团领导人峰会、亚太经合组织领导人非正式会议等……

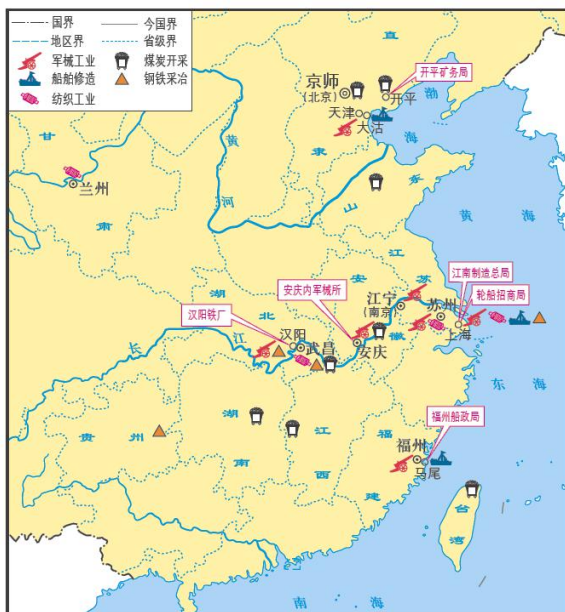
到2020年我国现行标准下农村贫困人口实现脱贫，是我们的庄严承诺。一诺千金。到2020年只有3年的时间，全社会要行动起来，尽锐出战，精准施策，不断夺取新胜利。

——节选自国家主席习近平二〇一八年新年贺词

(4) 依据材料三，结合所学，说说为推动人类命运共同体的构建，中国做出了哪些努力？(3分)

32. (10分) 2017年12月,招商局迎来了第145个生日。作为中国最古老的企业,它不仅开创了中国现代工商业和金融业,亦与国家命运休戚相关,是近现代中国曲折前行的缩影。阅读材料,结合所学,回答问题。

材料一



洋务企业分布示意图

(1) 列举除轮船招商局外由洋务派创办的旨在“求富”的两个企业。(2分)

材料二

轮船招商局大事年表

1872年12月	轮船招商局成立。
1873年	创造性地向民间发行股票,成为中国第一家股份制企业。
1874年	创办中国第一家船舶修理厂——同茂铁厂。
1875年	组建保险招商局,成为中国人自办保险业之始。 当年盈利15万余两。
1876年	当年盈利34万余两。
1877年	收购美资旗昌轮船公司,开中国企业收购外国企业之先河。 同英资太古、怡和签订第一次齐价合同(中外公司在各条航线上共同议定统一的价格,确定收入和货源分配方案)。
1878年	参与创办中国近代第一家机器纺织企业——上海机器织布局。
1879年	架设中国人自己铺设的第一条电话专线线路。 当年盈利超过76万两。
1896年	投资创设中国近代第一家银行——中国通商银行。 投资创设南洋公学(今上海交通大学前身)。

(2) 依据材料二并结合所学，对以下表述做出判断：正确的在括号内划“√”；错误的在括号内划“×”。(4分)

- ① 轮船招商局是洋务派创办的第一个民用企业。 ()
- ② 轮船招商局是由清政府全部出资并实际控制的。 ()
- ③ 轮船招商局的经营范围涉及到多个领域。 ()
- ④ 轮船招商局在一定程度上起到了抵制西方经济侵略的作用。 ()

材料三



招商局创立140周年特种
邮票之二——蛇口开发

1979年，招商局开始独资开发新中国第一个对外的工业区——位于深圳的蛇口工业区。招商局提出了“时间就是金钱，效率就是生命”等口号；最早成功地建立全新的劳动用工制、干部聘用制、薪酬分配制、超产奖励制、住房制度、社会保险制、工程招标制及企业股份制。与社会主义市场经济相适应的新观念，从招商局走向全国。

材料四



“一带一路”上的招商局

招商局的港口网络分布于五大洲的20个国家和地区，50个港口大多位于“一带一路”沿线国家和重要点位。吉布提港口项目让总统盖莱动容：“西方人来了100多年，我们国家还这么穷，招商局才来3年，就发生了这么大的变化，让我们看到了希望。”招商集团旗下港口集装箱吞吐量居中国第一、全球第二。此外，招商局正在白俄罗斯打造商贸物流园，将在“津新欧”（天津——新疆——欧洲）物流大通道上实现建立“丝路经济带供应链平台”的战略构想。

(3) 依据材料三、四，说一说招商局在现代化建设中所起的作用。(2分)

材料五

145年来，每一代招商人都肩负着“以商业成功推动时代进步”的使命。从1872年资助清朝最早一批留美幼童，到1912年抵押局产，支持孙中山继续革命；从1937年江海沉船，抵制日军侵略，到1949年举旗起义，率先回归祖国……一部招商局史，就是一部中国近现代史，一部“与祖国共命运，同时代共发展”的爱国史。

——《写给145周年》

(4) 依据材料五，结合所学，谈谈你对家国情怀的理解。(2分)

33. (9分) 国庆是国家的重大节日，也是国家记忆的浓缩。阅读材料，结合所学，回答问题。

材料一



《人民日报》国庆头版

(1) 判断这张报纸发行的时间，并说明理由。(2分)

材料二

国庆群众游行中的标语和口号



图一：为生产1070万吨钢而奋斗
(1958年国庆)



图二：人民公社好
(1959年国庆)

(2) 写出图一和图二所反映的历史事件，结合所学分析其留下的历史教训。(3分)

材料三

1949年开国大典阅兵式受阅的武器装备包括各种火炮119门,坦克和装甲车152辆,汽车222辆,军马2344匹,螺旋桨飞机17架。据统计,这些武器装备有110多种,80多种型号,来自24个国家的98家工厂。人们形象地把开国大典阅兵式说成是“万国牌武器展览会”。

2009年国庆60周年大阅兵有徒步方队14个、武器装备方队30个,空中梯队12个,受阅的武器装备是历次阅兵中最多的,这些装备都是中国自主研发的,其中大多是新型主战装备,技术战术性能先进,有的已经达到世界先进水平。

——摘编自北京版《中国历史》八年级下册

(3) 与开国大典阅兵相比,国庆60周年阅兵式受阅武器有哪些特点?(2分)

材料四

65年来,中国由新民主主义走向社会主义,开创和拓展中国特色社会主义道路……这不仅为中华民族实现伟大复兴提供了重要制度保障,而且为人类社会走向美好未来提供了具有充分说服力的道路和制度选择。

65年来,中国的社会生产力、综合国力实现了历史性跨越,人民生活实现了从贫困到温饱再到总体小康的历史性跨越。这不仅使中国彻底抛掉了“东亚病夫”的帽子,而且为人类战胜贫困、为发展中国家寻找发展道路提供了成功的实例。

65年来,中国奉行独立自主的和平外交政策,坚持和平共处五项原则,秉持公道,伸张正义,始终站在广大发展中国家一边,身体力行维护世界和平、促进共同发展。这不仅极大提高了中国的国际地位,而且为推动世界多极化、经济全球化、国际关系民主化,为促进世界力量平衡作出了重大贡献。

历史,往往需要经过岁月的风雨才能看得更清楚。回首往事,我们更加清晰地感到,中华人民共和国的成立,不仅是中华民族发展史上的一个伟大事件,也是人类发展史上的一个伟大事件。

——节选自习近平“在庆祝中华人民共和国成立65周年招待会上的讲话”

(4) 结合所学,谈谈你对划线句子的理解。(2分)

34. (13分) 改革是一个国家发展的不竭动力。阅读材料,结合所学,回答问题。

材料一

俄国1861年农奴制改革后,农民缴纳的巨额赎金为发展大工业增添了新的资金来源;获得解放的2000多万农奴为大工厂提供了充足的自由劳动力;农村自然经济的进一步瓦解扩大了国内市场。

——摘编自《世界通史》

(1) 俄国1861年改革为本国资本主义的发展提供了哪些条件?(3分)

材料二

1868年后，日本“废藩置县”，府县知事由中央任命。政府引进西方技术，殖产兴业，鼓励发展近代工业，大力兴办企业；1870年设工部省，聘请大批外国专家和技师，引进先进设备和管理方法……；政府解除禁止买卖土地的法令，实行土地私有制。政府效法西方军事制度，实行征兵制，建立常备军。政府提倡文明开化，强调学习西方科技、思想、文化及生活方式，实行强制性义务教育，建立了小学、中学和大学。

——《世界历史》九年级上册

(2) 结合所学，完成下表（4分）

改革措施	作用
①	加强了中央集权，保证改革推行
殖产兴业	③
军事改革	④
②	学习西方思想文化与生活方式，推动国家近代化

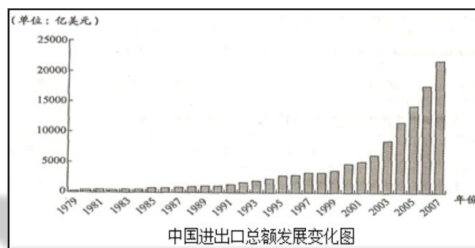
材料三

东西各国之强，皆以立宪法开国会之故。国会者，为国民共议一国之政法也。人君与千百万之国民，合为一体，国安得不强？吾国行专制政体，一君与大臣数人共治其国，国安得不弱？……今变行新法，固为治强之计。

——康有为《请定立宪开国会折》（1898.6）

(3) 依据材料三，康有为认为中国国弱的原因是什么？解决办法是什么？（2分）

材料四



(4) 结合所学，说明我国对外贸易发展的总体趋势，以及与之密切相关的政策或事件。（2分）

(5) 依据上述材料并结合所学，请你为我国今后的社会主义现代化建设提出两条合理化的建议。（2分）

石景山区 2018 年初三统一练习

历史试卷答案及评分参考

I、选择题（每小题 1.5 分，共 45 分）

题号	1	2	3	4	5	6	7	8	9	10
答案	D	C	D	A	C	B	B	A	B	C
题号	11	12	13	14	15	16	17	18	19	20
答案	C	C	B	A	D	B	A	D	B	A
题号	21	22	23	24	25	26	27	28	29	30
答案	B	D	D	A	B	C	C	A	A	D

II、非选择题（共 45 分）

31. (13 分)

(1) ②④③①（每个 1 分，共 4 分）

(2)（以下四点任意答出三点即可得分）（每点 1 分，共 3 分。）

充分吸取前人治水经验；

工程设计巧妙，布局合理；

功能多样，既可防洪，又可航运和灌溉；

因地制宜，选址恰当。

(3) 随着科技进步，人与人之间、国与国之间的联系越来越紧密。（1 分）

当今世界人类面临着人口过度膨胀、资源短缺、生态环境恶化、战争冲突等多方面的威胁。（1 分）

当今世界的很多问题很难通过单个国家解决，更不该通过战争、恶性竞争等手段解决。人类应携手共同面对这些问题，即“构建人类命运共同体”。（1 分）

(4)（以下答出任意三点即可得分，其他回答言之成理也可得分。）（每点 1 分，共 3 分）

重视科技创新，用科技推动全球发展。

推进国防建设，维护世界安定与和平。

积极投身国际合作，承担大国责任。

参与联合国活动，促进世界的和平与发展。

推进“一带一路”建设，带动区域经济发展。

解决本国贫困问题，为世界脱贫与发展出力。

32. (10分)

(1) 开平矿务局、汉阳铁厂 (每个1分, 共2分)

(2) ①√ ②× ③√ ④√ (每个1分, 共4分)

(3) (以下答出任意两点即可得分) (每点1分, 共2分)

招商局在中国改革开放进程中提出了新的观念、创立了新的制度, 起到了引领和示范作用;

在“一带一路”战略构想实践过程中起到了重要的推动作用;

帮助和促进了相对落后的国家和地区的发展。

(4) 结合材料分析 (1分)

从个体与国家的关系、个体的责任担当等角度论述, 观点正确, 言之成理即可得分 (1分)

33. (9分)

(1) 1949年10月1日 (1分);

从“中央人民政府成立典礼今日在首都隆重举行”判断时间是1949年10月1日 (1分)

(2) 大跃进运动或大跃进 (1分); 人民公社化运动 (1分)

经济建设要遵循客观规律, 立足国情, 一切从实际出发, 实事求是。(1分)

(3) 全部国产; 科技含量高; 达到了世界先进水平。

(答出其中任意两项即可得分。每点1分, 共2分。)

(4) 中华人民共和国的成立实现了民族独立和人民解放, 开创了中国历史的新纪元, 为实现国家的繁荣富强奠定了基础 (1分)

新中国取得的巨大成就影响并惠及了世界 (1分)。

34. (13分)

(1) 资金、劳动力、市场 (每个1分, 共3分)

(2) (每个1分, 共4分)

①废藩置县 ②文明开化 ③促进资本主义工商业发展 ④提高军事力量

(3) 中国实行专制政体 (或政治制度落后) (1分)

实行君主立宪制 (或开设国会或实行变法) (1分)

(4) 对外贸易持续增长 (1分)

改革开放的政策 (或建立经济特区, 或中国加入WTO) (1分)

(5) (以下任意两点即可得分, 其他回答言之成理也可得分。每点1分, 共2分。)

继续深化改革；以经济建设为中心，提高综合国力；改革要符合国情；继续对外开放；加大科技创新等。