

通州区 2022—2023 学年第一学期八年级期末质量检测

历史试卷

2022 年 12 月

学校 _____ 班级 _____ 姓名 _____

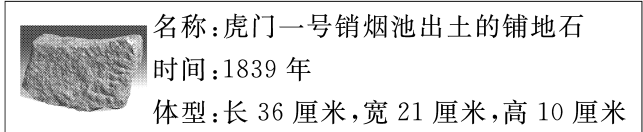
考生须知	<p>1. 本试卷共 8 页,共两部分,24 题。满分为 70 分。考试时长为 70 分钟。</p> <p>2. 请在试卷和答题卡(纸)上准确填写学校、班级、姓名。</p> <p>3. 试题答案一律书写在答题卡(纸)上,在试卷上作答无效。</p> <p>4. 在答题卡上,选择题用 2B 铅笔作答,其他试题用黑色字迹签字笔作答。</p> <p>5. 考试结束后,请将答题卡交回。</p>
-------------	---

第一部分 选择题(共 30 分)

本部分共 20 小题,每小题 1.5 分,共 30 分。在每小题列出的四个选项中,选出最符合题目要求的一项。

1. 右图文物见证了

- A. 近代中国人民反侵略斗争的伟大起点
- B. 广州三元里人民英勇抗击英国侵略者
- C. 陈化成拼死抵抗英军侵略者保卫吴淞
- D. 李秀成率太平军击毙洋枪队首领华尔



2. _____ 签订后,左宗棠极其郁闷,在家书中感慨:“英人犯浙,又掠吴淞,直抵江宁,而五口通商之和议成矣。”空白处应填的是

- A.《南京条约》
- B.《北京条约》
- C.《马关条约》
- D.《辛丑条约》

3. 这是一场从广西金田村率先发起的反对清朝封建统治和外国资本主义侵略的农民起义战争,这场战争是

- A. 鸦片战争
- B. 太平天国运动
- C. 甲午战争
- D. 义和团运动

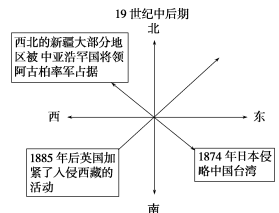
4. 以下表格内容反映了洋务运动

时间	名称	课程内容
1862 年	北京同文馆	设有英文、法文、俄文等班,改变了传统教学内容
1866 年	福州船政学堂	设有船体制造、蒸汽机制造、航海理论学等课程
1879 年	天津电报学堂	设有电报制度、电磁学、陆上电线与水下电线等课程

- A. 开启了近代工业化历程
- B. 促使民族意识空前觉醒
- C. 推动了教育文化的发展
- D. 促进民族资产阶级产生

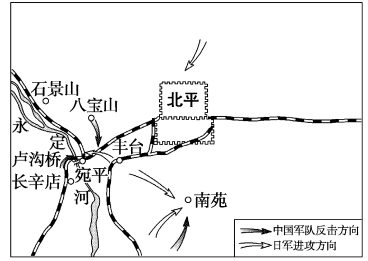
5. 右侧示意图的主题是

- A. 内忧外患
- B. 边疆危机
- C. 救亡图存
- D. 反抗侵略



13. 右侧地图反映的历史事件的影响是

- A. 揭开世界反法西斯战争的序幕
- B. 抗日民族统一战线的初步形成
- C. 促进抗日救亡运动高潮的到来
- D. 标志着中国全民族抗战的开始



14. 下面抗战时期创作的漫画，旨在

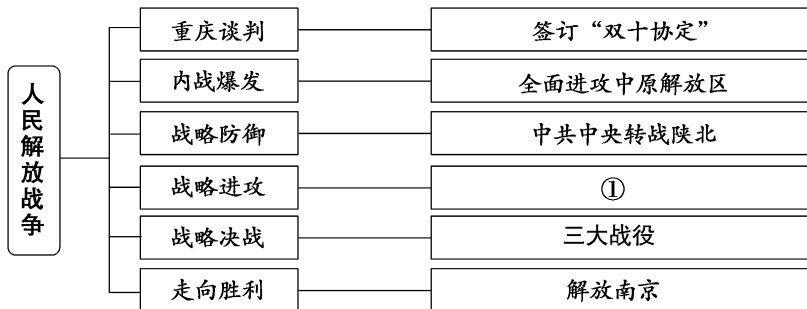
时间	名称	内容
1937年9月	《收复失土》	描绘的是巨人般的士兵跨过残破的长城。
1938年2月	《用我们的血肉，做成我们新的长城》	表现的是一排排战士紧密站立在一起，构成一堵连续的人墙。

- A. 推动国共两党合作的实现
- B. 凝聚民心激发抗日的意志
- C. 讽刺蒋介石的不抵抗政策
- D. 赞扬地道战等战法的威力

15. 新民主主义革命时期我们党召开了很多重要会议。下列属于中共七大的内容是

- A. 领导和组织工人运动
- B. 正式决定同国民党合作
- C. 停止内战，一致抗日
- D. 把毛泽东思想写入党章

16. 以下是人民解放战争进程示意图，①处应该填写



- A. 孟良崮战役
- B. 千里挺进大别山
- C. 淮海战役
- D. 渡江战役

17. 右图新闻报道中事件的意义是

- A. 攻克沈阳，解放了东北全境
- B. 解放了长江中下游广大地区
- C. 国民党军队的主力基本被消灭
- D. 彻底消灭蒋介石，解放全中国



18. 右边是某位同学整理的课堂笔记，据此判断他学习的是


- A. 南昌起义胜利的原因
- B. 北伐战争胜利的原因
- C. 抗日战争胜利的原因
- D. 解放战争胜利的原因

- ① 中国共产党的正确领导
- ② 人民解放军的英勇作战
- ③ 广大人民群众的支持
- ④ 国民党腐败统治不得民心


19. 1922年,北京、上海报纸举办民意测验,张謇以最高票当选为民众“最敬仰之人物”,其主要原因是
- A. 主张兴办军事工业
B. 倡导实业救国道路
C. 宣传民主革命思想
D. 研制出优质的纯碱
20. 以下文物按时间先后排序正确的是



①黄埔军校第一期毕业生毕业证



②晋冀鲁豫边区民兵制造的地雷



③淮海战役中董历生支前用的独轮车






④武昌起义军颁发出入城门证

- A. ④①②③
B. ②③④①
C. ②①④③
D. ①②④③

第二部分 材料分析题(共40分)

21. (8分)历史发展与社会变革

材料一

		
①现代油画曾国藩与安庆内军械所	②福建船政局生产的立式蒸汽机小样机	③李鸿章《设局招商试办轮船分运江浙漕粮由》的奏折

- (1)从材料一中选出研究洋务运动可信的两则史料_____ (写序号,2分),其中反映洋务派发展近代民用工业的是:_____。(写序号,1分)



材料二 大事年表

1895年2月	孙中山等人成立兴中会
1903年5月	邹容发表《革命军》
1905年8月	孙中山在日本东京成立了中国同盟会
1910年4月	黄花岗起义
1911年10月	武昌城内革命党人进攻总督衙门
1912年1月	中华民国临时政府成立
1912年2月	宣统帝下诏退位
1912年3月	《中华民国临时约法》颁布

(2)选择材料中相互关联的事件,结合所学自定一个你想论述的观点,加以说明。(要求:观点正确,史论结合,条理清楚,3分。)

示例:

观点:辛亥革命的爆发与革命党人的政治组织、思想宣传是密不可分的。

选择的史事:邹容发表《革命军》、孙中山等人成立兴中会,中国同盟会

论述:邹容发表《革命军》号召人们起来推翻清政府的统治,为资产阶级民主革命吹响了号角;兴中会是中国第一个资产阶级革命团体。中国同盟会是中国第一个统一的资产阶级革命政党,它的成立,使全国资产阶级革命派有了一个统一的领导和明确的奋斗目标,大大推动了全国革命运动的发展。由此可见,革命党人的努力推动革命快速突进。

材料三 新文化运动期间发表的作品(部分)

1915年	陈独秀在《青年杂志》上发表《敬告青年》一文,认定:只有“德先生”和“赛先生”,可以救治中国政治上道德上学术上思想上的一切黑暗。
1917年	胡适在《新青年》发表《文学改良刍议》一文,主张文学革命,强调写文章“须言之有物”“不摹仿古人”。
1918年	鲁迅在《新青年》上发表《狂人日记》,号召人民起来推翻“黑漆漆的”吃人社会。
1919年	李大钊在《新青年》上发表《我的马克思主义观》,对马克思主义作了较为系统的介绍。

(3)依据材料三并结合所学,概括新文化运动的内容。(2分)



22. (10分)近代中国的交通变迁

材料一 1905年,为摆脱英俄争抢京张铁路的筑路权,清政府决定自主修建京张铁路,任命詹天佑为总工程师。詹天佑毕业于美国耶鲁大学铁路工程专业,在修建京张铁路时,他精心勘测、设计,与中国工人,用自己的技术力量,独立自主地建成了中国第一条铁路干线,打破了外国人垄断修建中国铁路的局面。詹天佑被誉为“中国铁路之父”,1909年被美国土木工程学会选为正式会员。

——摘编自郭芝教《詹天佑中国铁路之父》

(1)依据材料一并结合所学,从个人和社会的角度分析京张铁路修筑的原因及作用。(4分)

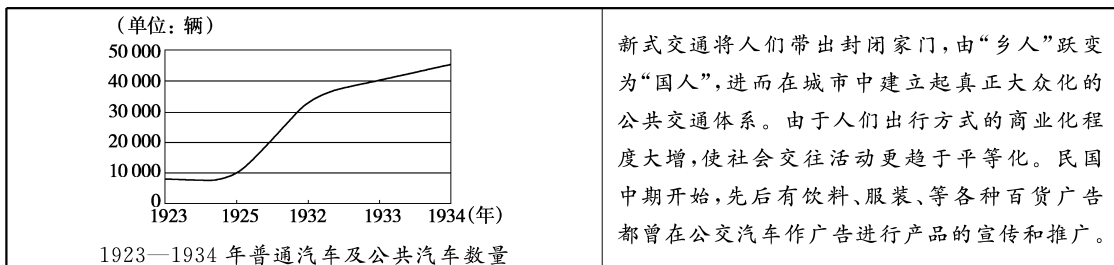
材料二 1911—1921年,中国国内资本对航运业的投资达到9 000万元,是1900年的9.6倍。中国自办轮船公司如下:

万吨以上大企业	资本(万元)		轮船(只数)		吨数(万吨)	
	1911年	1921年	1911年	1921年	1911年	1921年
	658.4	3997.2	53	140	6.8	22.7

——樊百川《中国轮船航运业的兴起》

(2) 依材料二, 说出 1911 年后中国航运业发生的变化。(2 分) 结合所学, 分析发生变化的原因。(1 分)

材料三



(3) 依据材料三, 说出 1923 后普通汽车及公共汽车发展趋势。(1 分) 结合所学分析其作用。(2 分)

23. (11 分) 中国共产党是全民族抗战的中流砥柱

材料一 九一八事变后, 中共中央发表《为日本帝国主义强暴占领东三省事件宣言》揭露日本侵略罪行, 号召全民族抗战。中共满洲省委派杨靖宇等人到东北各地指导创建游击队, 支援和联合各抗日组织和军队共同抗日, 建立东北抗日联军, 牵制了大量日、伪军, 有力地打击了日本在中国东北的殖民统治, 支援和鼓舞了全国抗日救亡运动。

——中共中央党史研究室《中国共产党是全民族抗战的中流砥柱》

(1) 依据材料一, 列举中国共产党为抗日所做的努力。(2 分) 结合所学分析其作用。(2 分)

材料二

<p>1937 年 5 月, 毛泽东作的《为争取千百万群众进入抗日民族统一战线而斗争》的手稿</p>	<p>全中国的同胞们! 平津危急! 华北危急! 中华民族危急! 只有全民族实行抗战, 才是我们的出路!</p> <p>——《中国共产党为日军进攻卢沟桥通电》(1937 年 7 月 8 日)</p>
<p>1938 年 5 月毛泽东发表了《论持久战》指出战争的伟力之最深厚的根源, 存在于民众之中, 抗日战争是持久战, 最后胜利是中国的。</p>	<p>1938 年 5 月, 毛泽东发表了抗日游击战争的战略问题一文。论述了抗日游击战争的地位、作用等内容。</p>

(2) 依据材料二, 说出中国共产党在抗战中形成的科学理论。(2 分)



材料三

战役名称	领导人	战役介绍
平型关大捷	林彪	1937年八路军在平型关,冒雨伏击,浴血奋战,对日军进行的一次成功伏击战,粉碎了日军“不可战胜”的神话,极大的鼓舞了中华民族的斗争勇气和作战士气。
齐会战斗	贺龙	1939年八路军不惧敌人燃烧弹、毒气弹等卑劣手段,制定了“白天围困,夜晚总攻”的计划,歼灭侵华日军“精锐之旅”,极大地鼓舞了冀中根据地人民的抗战热情。
①	彭德怀	1940年八路军组织一百多个团,对日军发动了一场大规模进攻,打击了日军侵略气焰,提高了共产党和八路军的威望,振奋了全国军民争取抗战胜利的信心。

(3)依据材料三并结合所学写出①战役的名称。(1分)概括三次战役的共同点。(2分)

材料四

中国共产党人勇敢战斗在抗日战争最前线,支撑起中华民族救亡图存的希望,成为全民族抗战的中流砥柱!

——习近平《在纪念中国人民抗日战争暨世界反法西斯战争胜利75周年座谈会上的讲话》

(4)结合史实,谈谈对“中国共产党是全民族抗战的中流砥柱”的认识。(2分)



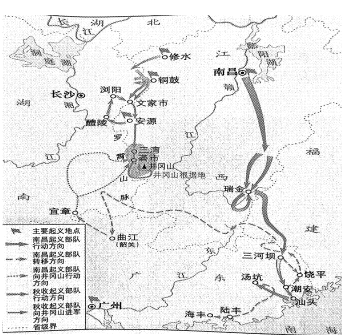
24. (11分)某年级以“学党史、守初心”为主题开展以下实践活动

材料一

第一组:启航	
历史组	地理组
<p>中共一大的13个代表,平均年龄28岁,参加会议的这些代表都是社会上还不知名的“小人物”。这些年轻人以改天换地的豪迈气概,一心要在中国这块古老的国土上创立一个崭新的合理的社会。28年后,革命在全国范围内取得胜利。</p>	<p>中国共产党第一次全国代表大会会址</p> <p>中国共产党第一次全国代表大会会址位于原望志路106号(今兴业路76号)。</p>
语文组	
	<p>目录:(部分)</p> <p>第二章:理想似铁 信仰如钢</p> <p>第二节“人生最高之理想,在求达于真理”</p> <p>第三节 信仰的力量大,真理的味道甜</p> <p>第八章:初心如初,使命弥坚</p>

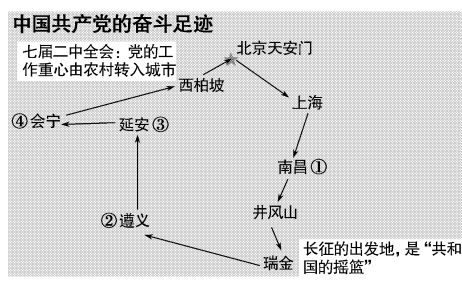
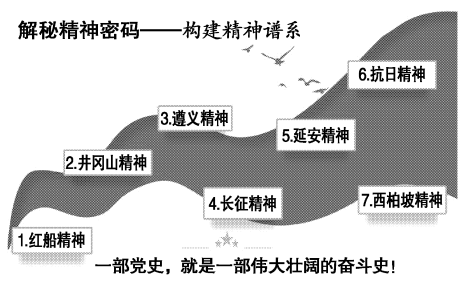
- (1) 依据材料一并结合所学,说出中国共产党第一次全国代表大会会址所在的城市。(1分)谈谈对伟大建党精神的理解。(2分)

材料二

第二组: 开创	
历史组	地理组
<p>1927年在攻打中心城市长沙受挫后,毛泽东果断改变计划,率部队退到浏阳文家市集中,主持召开前委会议,决定到敌人统治力量薄弱的农村山区寻找落脚点。从进攻大城市转到向农村进军,这是中国人民革命发展史上具有决定意义的新起点。</p>	 <p>井冈山地处湘赣边界罗霄山脉中段,远离长沙等大城市。山高林密,地势险要,易守难攻,便于屯兵,有利于开展游击战。这里的土地肥沃、物产丰富,能够给部队提供充足给养。</p> <p style="text-align: center;">南昌起义、秋收起义、井冈山会师示意图</p>

- (2) 依据材料二并结合所学,概括毛泽东选择井冈山作为根据地的原因。(2分)写出从“新起点”出发,中国共产党开辟的革命道路。(2分)

材料三

第三组: 奋斗	
地理组	历史组
<p style="text-align: center;">中国共产党的奋斗足迹</p>  <p>七届二中全会: 党的工作重心由农村转入城市</p> <p>④会宁 ← 延安 ③</p> <p>②遵义</p> <p>①南昌</p> <p>北京天安门</p> <p>西柏坡</p> <p>上海</p> <p>井冈山</p> <p>瑞金 长征的出发地,是“共和国的摇篮”</p>	<p style="text-align: center;">揭秘精神密码——构建精神谱系</p>  <p>6. 抗日精神</p> <p>5. 延安精神</p> <p>4. 长征精神</p> <p>3. 遵义精神</p> <p>2. 井冈山精神</p> <p>1. 红船精神</p> <p>7. 西柏坡精神</p> <p style="text-align: center;">一部党史, 就是一部伟大壮阔的奋斗史!</p>

- (3) 依据材料三从地理组**中国共产党的奋斗足迹**序号中选一个地点,结合相关史事说明其承载的历史记忆。(2分)

- (4) 综合以上材料,谈谈你从中国共产党人探索中国革命道路的历程中得到怎样的启示。(2分)

