

北京市西城区 2017 — 2018 学年度第二学期期末试卷

八年级历史

2018.7

试卷满分：100 分

考试时间：60 分钟

题号	1—25	26	27	28	29	总分
分数						

一、选择题（下列各题的四个选项中，只有一项符合题意。每小题 2 分，共 50 分）

1. 1949 年 9 月中国人民政治协商会议第一届全体会议通过了《中国人民政治协商会议共同纲领》。这份文献的历史地位是

- A. 确定了国旗国歌
- B. 起临时宪法作用
- C. 具有民法的性质
- D. 代行全国人大职权

2. 祖国大陆获得统一，各族人民实现了大团结的标志性事件是

- A. 1945 年抗日战争胜利
- B. 1949 年中华人民共和国成立
- C. 1951 年西藏和平解放
- D. 1952 年大陆土地改革基本完成

3. 2018 年通过的《中华人民共和国英雄烈士保护法》将每年 9 月 30 日定为烈士纪念日，并在人民英雄纪念碑前举行纪念仪式，缅怀英烈。以下英雄人物牺牲于抗美援朝战争中的是

- ①杨靖宇 ②黄继光 ③邱少云 ④王进喜
- A. ①② B. ①③ C. ②③ D. ③④

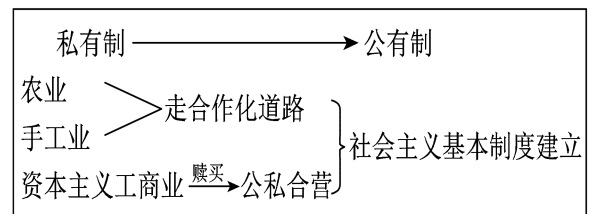
4. 下图是中华人民共和国成立以来制定的部分法律文件。以下机构有权制定并通过这些法律文件的是



- A. 中华人民共和国全国人民代表大会
- B. 中国共产党全国代表大会
- C. 中国人民政治协商会议全国委员会
- D. 中国共产党中央委员会

5. 右图是某同学的历史课堂笔记。其内容所反映的现象发生在

- A. 1950~1952 年
- B. 1953~1956 年
- C. 1956~1966 年
- D. 1966~1976 年



6. 1956 年召开的中共八大正确分析了国内的主要矛盾，指出党和人民的主要任务是集中力量把我国从落后的农业国变为先进的工业国。这一认识的提出主要是基于

- A. 社会主义制度基本建立
- B. 一五计划已经超额完成

学号

姓名

班级

学校

题

答

要

不

内

线

封

密

C. 国民经济调整任务完成

D. 人民建设国家热情高涨

7. 右图是1958年《人民日报》上的系列专题报道，它反映了

- A. 经济建设取得重大成就
- B. 农业科技取得突出进步
- C. 农业合作化取得大进展
- D. 农业生产中的虚报浮夸



8. 下列建设成就中，属于我国社会主义建设探索时期取得的是

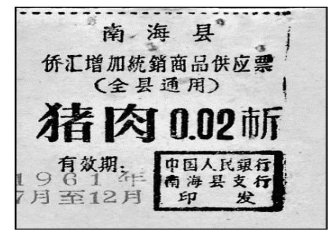
- ①建成鞍山钢铁公司无缝钢管厂
- ②人工合成结晶牛胰岛素
- ③实现原油和石油产品全部自给
- ④青藏铁路全线通车

A. ①② B. ②③ C. ①③ D. ②④

9. 票证是鲜活的历史记忆。右图能反映出当时中国

- ①日用物资比较匮乏
- ②社会上崇尚勤俭节约
- ③生活必需品定量供给
- ④实行计划经济体制

A. ①②③ B. ②③④  
C. ①②④ D. ①③④



10. 2016年4月25日，习近平总书记来到安徽小岗村。他感慨道：“当年贴着身家性命干的事，变成中国改革的一声惊雷。”1978年小岗村“贴着身家性命干的事”是指

- A. 实行分田包产到户
- B. 建立小岗经济特区
- C. 建立农村乡镇企业
- D. 实行土地私有制度

11. 某历史小组进行“国有企业改革”的课题研究，以下搜集的资料反映该主题的是

- A. “优先发展重工业”“培养建设人才”“五年计划”
- B. “大包干”“自负盈亏”“家庭联产承包责任制”
- C. “政企分开”“增强企业活力”“股份制改革”
- D. “按劳分配”“上海浦东开发区”“经济特区”

12. 我国全方位对外开放格局形成的过程是

- A. 沿海开放城市—沿海经济开放区—经济特区—内地
- B. 沿海经济开放区—经济特区—内地—沿海开放城市
- C. 经济特区—沿海开放城市—沿海经济开放区—内地
- D. 内地—沿海开放城市—沿海经济开放区—经济特区

13. 人民币是我国现行流通货币。从1962年发行的第三套人民币开始，票面上一直采用汉、蒙、藏、维、壮五种民族文字。透过人民币票面的文字，我们可以获得的历史信息是

- ①民族平等原则
- ②党和政府尊重少数民族文化
- ③少数民族进入了社会主义

A. ①② B. ①③ C. ②③ D. ①②③



第三套人民币五圆券正面

14. 博物馆举办“国防军队建设成就”图片展，请依据以下图片



核潜艇



歼-20 战机

“辽宁舰”

为展览选择一个最恰当的题目

- A. 天地英雄气，千秋尚凛然 B. 听党指挥是灵魂，能打胜仗是核心  
C. 披荆斩棘，本色不改为国为民 D. 创新驱动发展，科技强军换新颜



战略导弹

15. 尼克松在回忆 1972 年访华时说：“走完旋梯时决心伸出我的手，当我们的手相握时，一个时代结束了，另一个时代开始了。”尼克松访华后“开始的时期”是指

- A. 中美关系开始走向正常化  
B. 中美正式建立外交关系  
C. “乒乓外交”轰动世界  
D. 中国开始实行对外开放



16. 中国航天科技在 21 世纪取得的重要成就是

- A. 第一颗原子弹爆炸成功 B. 第一颗氢弹试爆成功  
C. 人造卫星“东方红一号”发射成功 D. “神舟五号”载人飞船发射成功

17. “感动中国年度人物”的颁奖词中写道：“当他名满天下的时候，却仍然只是专注于田畴。淡泊名利，一介农夫，撒播智慧，收获富足。他毕生的梦想，就是让所有人远离饥饿。”这里提到的“他”是

- A. 钱学森 B. 袁隆平 C. 王淦昌 D. 李四光

18. 下列党和国家的思想方针及执政理念出现的先后顺序是

- ①“百花齐放，百家争鸣” ②实现中国梦的“两个一百年”奋斗目标  
③“科学发展观” ④“解放思想，实事求是，团结一致向前看”

- A. ①②③④ B. ①④③② C. ②③④① D. ④①②③

19. 某校今年歌咏比赛的主题是“改革开放四十年”，为此应选择的歌曲是

- A. “雄赳赳，气昂昂，跨过鸭绿江，保和平，为祖国，就是保家乡……”  
B. “学习雷锋好榜样，忠于革命忠于党，爱憎分明不忘本，立场坚定斗志强……”  
C. “1979 年，那是一个春天，有一位老人在中国的南海边画了一个圈……”  
D. “东方红，太阳升，中国出了个毛泽东，他为人民谋幸福，他是人民大救星……”

20. 流行词语反映了时代的变迁。下列流行语与时代对应正确的是

- A. 义务教育、希望工程——中华人民共和国成立初期  
B. 上山下乡、样板戏——“大跃进”时期  
C. 放卫星、赶英超美——“文化大革命”时期  
D. 互联网+、微信——改革开放新时期

21. 右图展示的是法国卢浮宫内珍藏的一块黑色石柱，上面用楔形文字刻着

一部古代法律文献。该文物属于以下哪一文明的重要成果

- A. 古埃及文明 B. 古印度文明  
C. 古希腊文明 D. 古巴比伦文明



22. 古代印度有一套严格的社会等级制度，不同等级在地位、权利以及义务等方面有着严格的规定。这种制度被称为

- A. 种姓制度      B. 世袭制      C. 分封制      D. 中央集权制
23. 某兴趣小组排演历史剧《光荣属于希腊》，以下剧本内容不符合史实的是

- A. 希腊半岛港湾众多，海外贸易繁荣  
B. 希腊城邦的突出特点是“小国寡民”  
C. 雅典的全体居民都有机会参加公民大会  
D. 伯里克利时期雅典民主政治发展到高峰
24. 历史叙述和历史评价是历史学的基本要素。下列表述属于历史评价的是

- A. 公元前 450 年左右，罗马颁布《十二铜表法》  
B. 斯巴达克起义沉重打击了罗马共和国的统治  
C. 公元前 27 年，罗马帝国建立  
D. 476 年，西罗马帝国灭亡

25. 创立了逻辑学科，而且被称为“百科全书式的学者”的是
- A. 德谟克里特      B. 苏格拉底      C. 凯撒      D. 亚里士多德

## 二、综合题（26 题 11 分、27 题 13 分、28 题 12 分、29 题 14 分，共 50 分）

26. （11 分）坚持和发展中国特色社会主义才能实现中华民族伟大复兴。

材料一



图1 第一届全国人民代表大会基层选举纪念邮票



图2 西藏自治区成立大会上农奴选举自己的“当家人”




图3 中国人民政治协商会议第十三届全国委员会委员证

（1）以上图片材料体现了中国特色社会主义民主政治制度。结合所学，将图片序号填写在横线上。

- ① 标志我国根本政治制度确立的是。（1分）
- ② 体现中国共产党领导的多党合作和政治协商制度的是。（1分）
- ③ 反映国家尊重和保障各少数民族管理本民族内部事务权力的是。（1分）

（2）任选以上一个政治制度，写出制度名称并简述其在社会主义民主建设中的作用。（2分）

材料二 某学习小组为撰写历史小论文搜集了如下资料：

①	1980年，兴办4个经济特区，实行特殊的经济政策和管理体制
②	1987年，中国共产党第十三次全国代表大会阐明社会主义初级阶段理论
③	1992年，提出建立社会主义市场经济体制的目标
④	2001年，中国成为世界贸易组织的成员
⑤	2007年，我国人均禽蛋和禽肉消费量在过去10年里分别增长了51%和60%
⑥	2014年，全球首个由中国倡议设立的多边金融机构——亚洲基础设施投资银行成立
⑦	2015年，中国出境旅游达1.17亿人次
⑧	2017年，中国共产党第十九次全国代表大会提出新时代我国社会主要矛盾是人民日益增长的美好生活需要和不平衡不充分的发展之间的矛盾

(3) 以上资料围绕着“中国特色社会主义建设”可以提炼出多个主题。阅读材料，完成表格。(6分)

资料序号	提炼的主题
②、⑧	主题一：中国特色社会主义理论的发展完善
③、④	主题二：中国特色社会主义经济建设的探索
⑤、⑦	主题三：
⑥	主题四：中国积极参与国际经济合作

27. (13分) 新中国外交经历了近70年的风雨历程，取得了辉煌的成就。

#### 20世纪50年代

新中国成立以后，奉行独立自主的和平外交政策。“……凡愿遵守平等、互利及互相尊重领土主权等项原则的任何外国政府，本政府均愿与之建立外交关系。”

1953年底，周恩来在接见印度代表团时，首次提出和平共处五项原则，作为处理两国关系的原则。第二年，中国分别与印度、缅甸发表联合声明，双方一致同意以和平共处五项原则作为指导中印、中缅关系的基本原则。

1955年，中国参加了印度尼西亚万隆召开的亚非会议。针对帝国主义破坏会议的阴谋和各国间的分歧，周恩来提出“求同存异”的方针，促进会议取得成功。

(1) 依据上述材料，对以下表述做出判断：符合材料所表达意思的，在括号内划“√”；违背材料所表达意思的，在括号内划“×”；材料没有涉及的，在括号内划“○”。(4分)

- ① 新中国成立以后奉行独立自主的和平外交政策，不与任何国家建交。( )
- ② 和平共处五项原则被一些国家接受，成为处理国与国之间关系的基本准则。( )
- ③ 周恩来在万隆会议上提出“求同存异”的方针，扭转了会议的航向。( )
- ④ 中华人民共和国第一次以五大国之一的身份参加了日内瓦国际会议。( )

#### 20世纪70年代

当提案通过时，会场一片沸腾，一些非洲国家代表在过道上兴奋起舞，还有人振臂高呼；而一些西方国家代表却在一起交头接耳，有的愁眉苦脸，有的强打精神，有的故作镇静。美国代表也被迫承认：“这是联合国历史上的转折点，反西方国家在美国威信动摇时第一次击败了美国。”



(2) 指出上述图文材料所反映的外交成果。  
(2分) 结合材料和所学, 分析取得这一成果的影响。(3分)

北京中考在线  
微信号: BJ\_zkao

改革开放以后



图①

2014年5月, “亚洲相互协作与信任措施会议”第四次峰会在上海举行, 峰会的主题是“加强对话、信任与协作, 共建和平、稳定与合作的亚洲”。中方担任2014年至2016年亚信主席国。



图②

2016年9月, 二十国集团领导人第十一次峰会在中国杭州举行。此次峰会的主题是“构建创新、活力、联动、包容的世界经济”。



图③

2008年经联合国安理会授权, 中国海军派出首批舰艇编队, 赴亚丁湾、索马里海域执行护航任务。截至2017年7月, 中国海军先后派出了26批护航编队, 为中外6400余艘船只提供护航。

(3) 依据材料和所学, 概括中国特色大国外交的特点。(2分) 从以上图文材料中任选其一, 谈谈当今中国在世界舞台发挥的作用。(史论结合, 2分)

北京中考在线  
微信号: BJ\_zkao

28. (12分) 桥梁是跨越阻隔的沟通, “桥梁”也是精神心灵的沟通。

材料一 2009年中国工程人员开始修建连接香港、珠海、澳门的世界最长跨海大桥——港珠澳大桥。它集桥、岛、隧道于一体, 全长55公里, 包括22.9公里主体桥梁, 4个人工岛和6.7公里的世界最长最深海底沉管隧道, 隧道埋设在海平面以下40多米深处。大桥必须能抵御16级台风和8级地震, 使用寿命120年。港珠澳大桥预计近期正式通车。



(1) 依据材料一，概括建造港珠澳大桥面临的困难。(4分) 结合所学，指出港珠澳大桥修建的前提和条件。(4分)

材料二

葬我于高山之上兮，望我大陆；  
大陆不可见兮，只有痛哭！  
葬我于高山之上兮，望我故乡；  
故乡不可见兮，永不能忘！  
天苍苍，野茫茫，山之上，国有殇！  
——于右任《望大陆》



1988年第一个台湾返乡团抵达北京  
他们在长城上高呼：“到家了！”

(2) 结合所学，谈谈你认为海峡两岸关系发展的基础有哪些？(4分)

29. (14分) 口述史是以搜集和使用口头史料来研究历史的一种方法。

(1) 请你结合亲历者的口述和所学知识，完成以下表格。(6分)

亲历者的口述	反映的历史事件	时间	历史意义
谢邦定：“国旗升到杆顶的那一刻，广场上30万群众再一次沸腾了，震撼人心的呐喊声甚至盖过了隆隆的礼炮声。紧接着毛主席宣读了中央人民政府文告，全场又是雷鸣般的欢呼声！”		1949年 10月1日	
马国范：“我开了几十年的车，以前开的都是外国车，想不到能开上我们自己造的汽车！昨晚一宿都没睡好觉，就盼着这一天哪！”		1953~1957年	开始改变工业落后的面貌，向社会主义工业化迈进。
邓稼先的夫人许鹿希：“中国人民可以放心了，没有人再会来轰炸我们了，我们可以和平地生活、学习、建设。中国是世界几大核工业国之一。”		20世纪60年代	振奋了民族精神，打破了核垄断，增强了国防实力，大大提高

			了国际地位。
张丽华：“直到单位传达精神时，我才知道十一届三中全会在中国历史上的意义。后来老师听说我曾为十一届三中全会做过服务工作，激动地拉住我的手说：‘你太幸福了！’这种幸福感，让我兴奋了很长时间。”	十一届三中全会		

材料一至今，76岁的樟木村村民莫荣樟对1951年秋末分田地的情形记忆犹新：“村上地主、富农的田地和房屋都分给没有田地的贫下中农了。”“打土豪，分田地，那些分到田地的村民个个脸上乐开了花。共产党是咱老百姓的大救星呀！”

——《土地改革：农民翻身做了土地的主人》

材料二第二章土地的没收和征收

第二条 没收地主的土地、耕畜、农具、多余的粮食及其在农村中多余的房屋。但地主的其他财产不予没收。

……

第六条 保护富农所有自耕和雇人耕种的土地及其他财产，不得侵犯。

——1950年《中华人民共和国土地改革法》

(2) 对比材料一、二，指出在土地改革的政策上，口述历史与文献记载的不同。(4分)  
你认为应该如何使用口述史料研究历史问题？(2分)

材料三 “当年，全世界都面临着这样一个重大课题，必须要有新的抗疟新药来解决老药的抗药性问题，国内外做了大量工作都没有满意成果。”回忆与青蒿素的第一次接触，屠呦呦语气中不乏兴奋和自豪：“那时科研攻关的难度相当高……后来通过系统查阅古代文献，发现了重新提取青蒿素的办法。”

(3) 口述史料，是记录历史事件当事人或者目击者的回忆而保存的口述凭证。依据材料三的内容，请你以访问者的身份提出一个采访问题。(2分)

问题：



北京中考在线  
微信号：BJ\_zkao



北京市西城区2017—2018学年度第二学期期末试卷

八年级历史参考答案及评分标准2018.7

一、选择题（每小题2分，共50分）

1	2	3	4	5	6	7	8	9	10
B	C	C	A	B	A	D	B	D	A
11	12	13	14	15	16	17	18	19	20
C	C	A	D	A	D	B	B	C	D
21	22	23	24	25					
D	A	C	B	D					

二、综合题（26题11分、27题13分、28题12分、29题14分，共50分）

26. 答案要点

(1) ①图 1②图 3③图 2 （每空1分）

(2) 人民代表大会制度：保证人民当家作主的地位和权利。

中国共产党领导的多党合作和政治协商制度：民主党派、爱国人士参政议政，组成最广泛的爱国统一战线。

民族区域自治制度：少数民族当家作主，维护民族团结，巩固祖国统一。

（制度名称1分，作用1分）

(3) （序号每空1分，主题2分）

资料序号	提炼的主题
①、③	主题二：中国特色社会主义经济建设的探索
⑤、⑦	主题三：改革开放以来人民生活水平迅速提高
④、⑥	主题四：中国积极参与国际经济合作

27. 答案要点

(1) ①× ②√ ③√ ④○ （每空1分）

(2) 外交成果：1971年，恢复中华人民共和国在联合国的合法席位。（2分）

影响：中国外交的重大胜利，提高了国际地位，有利于中国在国际事务中发挥重要作用，有利于维护世界和平与发展。（言之成理，即给3分）

(3) 特点：全方位、多层次、立体化的外交。（2分）

作用：答案示例：

图①：中国积极维护亚洲地区安全、扩大区域合作，为促进亚洲的稳定与发展作出贡献。

图②：中国积极参与国际经济合作，共同商讨世界经济发展中的问题，并制定解决策略，推动世界经济稳步发展。

图③：中国积极支持联合国，履行国际责任和义务，参与索马里护航行动，维护世界和

平与安全。

评分标准：

0分：未回答，或回答错误。

1分：只说明材料，或脱离材料内容回答作用。

2分：用图文材料，说明中国在当今世界的作用。

## 28. 答案要点

(1) 困难：跨海建设；桥梁长度长；铺设海底隧道难度大；需要抵抗台风、地震等自然灾害。（答出两点即给4分）

前提和条件：改革开放的需要（经济建设发展的需要）；香港、澳门回归祖国；中国综合国力的强大；科技水平的提高等。（答出两点即给4分）

(2) 基础：坚持一个中国的基本原则（“九二共识”）；坚持“和平统一，一国两制”的基本方针；海峡两岸血浓于水的亲缘关系；一脉相承的文化传统；两岸同胞和中华儿女的共同努力等。（政治、文化亲缘的角度各2分）

## 29. 答案要点

(1)（每空1分）

反映的历史事件	时间	历史意义
开国大典		推翻了帝国主义、封建主义和官僚资本主义的统治，开辟了中国历史的新纪元。
一五计划		
“原子弹”爆炸成功		
	1978年	新中国成立以来党的历史上具有深远意义的伟大转折，开启了改革开放历史新时期。

(2) 不同：口述人认为地主和富农的全部财产都被没收，（2分）而文献记载的是地主部分资产被没收，富农的财产不得侵犯。（2分）

研究方法：口述史料在一定程度上可以作为史学研究的史料来对待，但要谨慎使用。在使用时，应与其他历史文献进行比对，让历史更加接近真实。（2分）

(3) 答案示例：（言之成理，即给2分）

您为什么选择寻找治疗疟疾的新型药物这一课题进行研究？

您是怎么发现青蒿素的？



北京中考在线  
微信号：BJ\_zkao



北京中考在线  
微信号：BJ\_zkao



北京中考在线  
微信号：BJ\_zkao



北京中考在线  
微信号：BJ\_zkao