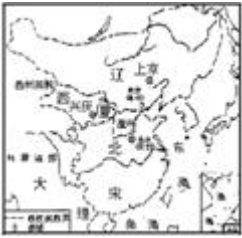




2015 房山区初一（下）期中历史

一、选择题（每小题 2 分，共 60 分）下列各题均有四个选项，其中只有一项符合题目要求。请将正确选项前的字母填在答题纸上表格中的相应位置。

1.（2 分）历史地图是从历史事件发生的空间关系理解和表达历史现象的最好手段。如图反映的是（ ）



- A. 三国鼎立形势
- B. 南北朝对峙形势
- C. 辽、北宋、西夏并立
- D. 宋、金对峙形势

2.（2 分）“惜秦皇汉武，略输文采；唐宗宋祖，稍逊风骚”。毛泽东诗词中提及到的中国古代多位杰出帝王。属于宋太祖采取的措施是（ ）



- A. 创立中央集权制，实现了国家统一。
- B. 采取“强干弱枝”政策，加强皇帝和中央权力
- C. 颁布“推恩令”
- D. 实行“轻徭薄赋”政策，大量裁减官吏

3.（2 分）“山外青山楼外楼，西湖歌舞几时休？暖风熏得游人醉，直把杭州当汴州。”请根据诗歌的内容，判断出诗歌作者生活的历史时期是（ ）

- A. 南北朝
- B. 唐朝
- C. 北宋
- D. 南宋

4.（2 分）如图人物是我国南宋著名的抗金将领，他“精忠报国”的故事世代流传。他是（ ）



- A. 文天祥
- B. 戚继光
- C. 郑成功
- D. 岳飞

5.（2 分）南宋时期，从越南引进的，在南方普遍种植的农作物是（ ）

- A. 烟草
- B. 占城稻
- C. 番薯
- D. 玉米

6.（2 分）中国是瓷器的故乡，我国瓷器史上的辉煌时代是（ ）

- A. 汉朝
- B. 唐朝
- C. 两宋
- D. 明朝

7. (2分) 两宋时期海外贸易空前发展。东南沿海出现了广州、泉州、明州三大对外贸易港口，在那里设立的专门管理外贸的机构是 ()
- A. 市舶司 B. 宣政院 C. 理藩院 D. 鸿胪寺
8. (2分) 宋朝的商业繁荣与进步，促进了城市格局的变化，丰富了人们的生活。当时出现的专门娱乐的场所是 ()
- A. 瓦子 B. 交子 C. 会子 D. 鸿胪寺
9. (2分) 走进《清明上河图》，我们可以感受到北宋城市市民真实的日常生活，下列哪些是宋朝城市生活的写照 ()
- ①普通百姓穿着短衣在街上走
②大街上店铺林立，可以随意吃到各种风味的小吃
③城市平民都住着高大宽敞的瓦顶平房
④士大夫出行一般都骑马
⑤人们可以边喝茶边在瓦舍里看杂技表演。
- A. ①②③④⑤ B. ①③④ C. ①②⑤ D. ②③⑤
10. (2分) “爆竹声中一岁除，春风送暖入屠苏。千门万户曈曈日，总把新桃换旧符。”王安石的这首诗描写的是宋朝人过元旦的情景。宋朝的元旦，今天称作 ()
- A. 元宵节 B. 中秋节 C. 端午节 D. 春节
11. (2分) 费正清、赖肖尔在《中国的传统与变革》一书中认为，宋代经济的大发展，特别是商业方面的发展，或许可以恰当的称之为中国的“商业革命”。下面最能够论证这一观点的史实是 ()
- A. 都城长安成为国际性的大都市 B. 出现了世界上最早的纸币——交子
C. 郑和下西洋 D. 在广州设立十三行
12. (2分) 世人瞩目的“南海一号”南宋沉船被打捞出水，这艘船能够远洋航行，主要依靠中国四大发明中的 ()
- A. 火药 B. 印刷术 C. 指南针 D. 造纸术
13. (2分) 编年体是我国传统史书的一种体裁，特点是按年、月、日编排史实，记述历史。下列属于这种体裁的史学著作是 ()
- A. 《史记》 B. 《离骚》 C. 《资治通鉴》 D. 《红楼梦》
14. (2分) 请阅读下面句子：“大江东去，浪淘尽，千古风流人物”、“会挽雕弓如满月，西北望，射天狼”、“莫道不消魂，帘卷西风，人比黄花瘦”、“七八个星天外，两三点雨山前，旧时茅店社林边”、“知否？知否？应是绿肥红瘦”这些句子应属于 ()
- A. 唐诗 B. 词 C. 曲 D. 明清小说
15. (2分) 明太祖改革中央机构加强君主权力的举措是 ()
- A. 设立三公九卿 B. 实行三省六部制 C. 颁布“推恩令” D. 废除丞相，六部分理朝政
16. (2分) 下列内容不属于明清八股取士规定的是 ()
- A. 科举考试只能在四书五经范围内命题 B. 考生的答卷不允许有个人见解

C. 文体死板分成八个部分 D. 考生可以针对时弊谈古论今

17. (2分) “三百年来，我华夏威风久歇。有几个，如公成就，丰功伟绩。拔剑光寒倭寇胆”词中赞扬的是那位英雄人物 ()



A. 郑和 B. 岳飞 C. 文天祥 D. 戚继光

18. (2分) 一首《七子之歌·澳门》唱出了澳门人民渴望回归祖国的强烈愿望。历史上，霸占我国澳门三百多年的殖民国家是 ()

A. 英国 B. 美国 C. 葡萄牙 D. 荷兰

19. (2分) “台湾者，中国之土地也，久为贵国所踞（盘踞），今余既来索，则地当归我...”对殖民者提出这一正义要求的民族英雄是 ()

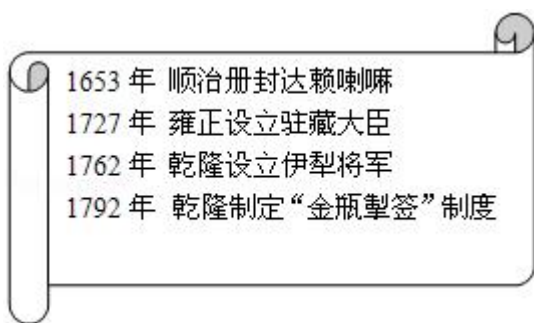
A. 戚继光 B. 郑成功 C. 林则徐 D. 邓世昌

20. (2分) 某中学历史研究型学习小组选题《中国封建王朝落日辉煌的实践》，请问以下哪位人物可以作为研究对象 ()



A. B. C. D.

21. (2分) 如图是某同学整理的大事表，这组大事集中说明了这一时期 ()



A. 经济发展重心南移 B. 盛世局面下危机四伏
C. 抗击外国侵略战绩卓著 D. 统一多民族国家巩固

22. (2分) 著名史学家陈旭麓指出：“这场战争，自西方人 1514 年到中国起，是他们积 325 年窥探之后的一逞。对于中国人来说，这场战争是一块界碑。”这场战争是 ()

A. 雅克萨之战 B. 鸦片战争
C. 甲午中日战争 D. 八国联军侵华战争



23. (2分) 在《天朝的崩溃——鸦片战争再研究》一书中有这样的表述：“它是我见到的中国近代史上最要命的外交文件。”这句话中“最要命的外交文件”应该是 ()

- A. 《北京条约》 B. 《南京条约》 C. 《辛丑条约》 D. 《马关条约》

24. (2分) 每年的6月26日是“世界禁毒日”。历史上英国曾以向中国倾销禁品——鸦片为直接原因发动了侵华战争，这场战争给中国带来的巨大影响是 ()

- A. 中国大量白银流入英国 B. 一批中国人毁于鸦片
C. 开放通商口岸 D. 中国开始沦为半殖民地半封建社会

25. (2分) 马克思说：“俄国不花费一文钱，不出动一兵一卒，而能比任何一个参战国（从中国）”得到更多的好处。这句话指的是俄国在第二次鸦片战争期间 ()

- A. 取得协定关税特权 B. 掠夺圆明园大量珍宝
C. 获取中国大量赔款 D. 割占中国大片领土

26. (2分) 曾经是中国至宝的圆明园十二兽大量流散国外，目前已经有7个回归中国，不过龙首、蛇首、鸡首、狗首、羊首下落不明。导致这些国宝被迫离开故土的事件是 ()

- A. 第一次鸦片战争 B. 第二次鸦片战争 C. 甲午中日战争 D. 八国联军侵华战争

27. (2分) 19世纪70年代，率领清军收复新疆的爱国将领是 ()

- A. 李鸿章 B. 张之洞 C. 左宗棠 D. 曾国藩

28. (2分) “此日漫挥天下泪，有公足壮海军威。”这副挽联悼念的民族英雄是 ()

- A. 林则徐 B. 邓世昌 C. 丁汝昌 D. 关天培

29. (2分) 《辛丑条约》签订后，居住在北京东交民巷的刘家被迫举家搬迁。其主要原因是帝国主义国家要在此 ()

- A. 开商埠 B. 建教堂 C. 办工厂 D. 设使馆

30. (2分) 中国近代的一本启蒙读物中写道：“这朝廷，原是个，名存实亡！替洋人，做一个，守土官长...”结合所学的知识，你认为这是哪个条约签订之后的状况？ ()

- A. 《南京条约》 B. 《天津条约》 C. 《马关条约》 D. 《辛丑条约》

二、综合题（第1题6分，第2题8分，第3题6分，第4题各6分，第5题4分，第6题10分，共40分）

31. (6分) 创新与开放，促进发展和进步，保守与封闭，导致停滞和落后。

制度创新请你结合所学知识，回答下列问题。元朝在全国实行行省制度，对广袤的疆土实施有效统治。

(1) 元朝政府在中央设_____，总理全国政务，并直辖大都周边“腹地”；在地方设_____，执掌地方政务，这是我国设“省”的开始。

(2) 元朝在中央还设置_____，管理全国的宗教和吐蕃地区事务；在浙江行省设立了_____，管辖澎湖列岛和台湾。

(3) 明朝人方孝孺曾言：“在宋之时，见胡服、闻胡语者犹以为怪，.....至于元，百年之间，四海之内，起居、饮食、

声音、器用，皆化而同之。”这个材料反映了元朝时期的_____历史现象，这一时期产生了一个新民族叫_____。



32. (8分) 经贸繁荣

宋元时期，我国多民族国家得到了继续发展。请你结合所学知识，阅读材料并回答下列问题。

材料一：《中国历史纪年表》(部分)

(1) 图①中政权的名称_____； 图②政权的名称_____；从如图中可以看出宋元时期的时代特征是_____。

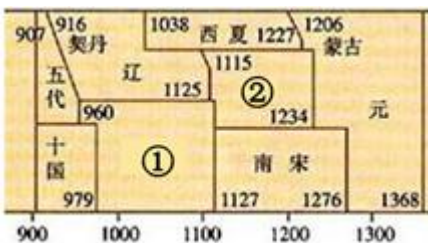
材料二：

朝代	南方		北方	
	人口(户)	占全国户口数比例	人口(户)	占全国户口数比例
西汉	2470685	19.8%	9985785	80.2%
唐代	3920415	43.2%	5148529	56.8%
北宋	11224760	62.9%	6624296	37.1%

材料三：两宋时期，“国家的财政收入约80%来自淮河以南地区”，“丝、棉纺织业造纸业中心及对外贸易港口多集中在南方”，“苏湖熟，天下足”。

材料四：国家根本，仰给东南。——《宋史》

- (2) 材料二反映了怎样的历史现象？
- (3) 材料三、四说明我国古代经济发展出现了什么重大变化？
- (4) 元世祖认识到农业对稳定社会、维护统治的重要性，设置了_____，负责掌管全国的农桑水利，考察地方农业实绩。棉花的种植得到推广，_____成为元朝手工业重要的部门。
- (5) 在清朝的康熙到乾隆年间，社会稳定，经济发展，人口激增，史称_____。



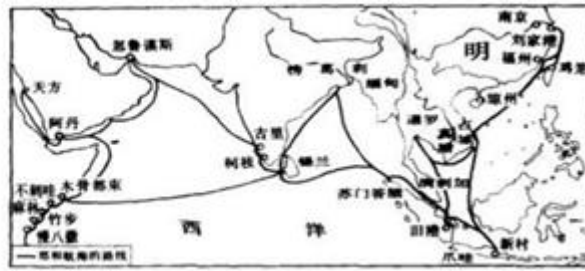
33. (6分) 航海壮举

时间转回宋代，.....那些满载着中国瓷器和丝绸的商船，从广州或泉州出发后，经南海海域，运送到菲律宾、占城、波斯湾等地，再由波斯商人把这些中国商品销往西亚各地甚至欧洲。

宋朝时期值得注意的是，发生了一场名副其实的商业革命，对整个欧亚大陆有重大的意义。.....宋朝时期的中国正

朝着成为一个海上强国的方向发展。

- - (美) 斯塔夫里阿诺斯《全球通史》



材料一：明初，由明成祖朱棣实行对外开放政策，海上丝绸之路得以空前繁荣，其中最为壮观的，要数 15 世纪初的郑和下西洋。.....从 1405 年到 1433 年的 28 年间，郑和连续 7 次统率百艘巨舰，27000 多名官兵，渡南洋，过印度洋，达红海，航程总计 16 万海里，历经东南亚（又称南洋）、南亚、西亚和东非的 30 多个国家和地区。

- - 摘自王介南著《中外文化交流史》

材料二：郑和七下西洋，海上丝绸之路盛极一时。他每到一地，都以中国的丝绸和瓷器换取当地的特产或馈赠当地的国王，与当地居民公平交易，互通有无。不占别国一寸土地，未掠他人一分财富。

- - 《郑和下西洋 - - 伟大的和平使者》

材料三：600 多年前，明朝皇帝派出一支大型商船队，探索与世界其他地方的贸易。这些远征.....更重要的是，它们给到访过的那些国留下了持久的影响。

- - (新加坡) 李光耀

结合上述材料，请你回答下列问题。

- (1) 郑和下西洋最远到达的地区？
- (2) 郑和与海外各国交往有什么特点？
- (3) 郑和下西洋产生了什么积极影响？

34. (6 分) 文化璀璨

明清时期，由于封建经济继续发展，特别是一些地区的商品经济发达。这一时期，文化继续发展，学术巨匠辈出，传统文化呈现辉煌。请你结合所学知识，完成下面连线内容。

- 《本草纲目》 浪漫主义长篇神话小说
- 《天工开物》 我国第一部长篇历史小说
- 《西游记》 以北宋末年宋江起义创作而成的一部章回体小说
- 《三国演义》 我国古典小说的巅峰
- 《水浒传》 被誉为“东方医学巨典”
- 《红楼梦》 被誉为“17 世纪中国工艺百科全书”

35. (4分) 封闭落后

阅读下列材料:

材料一: 乾隆二十二年(1757年), 清朝乾隆皇帝诏告天下, 规定只开广州一处对外通商, 封闭其它港口, 并规定由政府特许的广州“十三行”统一经营管理和对外贸易。

材料二: 1793年, 英国国王乔治三世派遣使团来华, 拜见乾隆皇帝, 要求通商。双方互赠礼物。英国赠给中国的礼物有太阳系天体运行仪、航海望远镜、战舰模型等; 中国回赠的礼物有丝绸、宣纸、各种工艺品等。

结合上述材料, 请你回答下列问题。

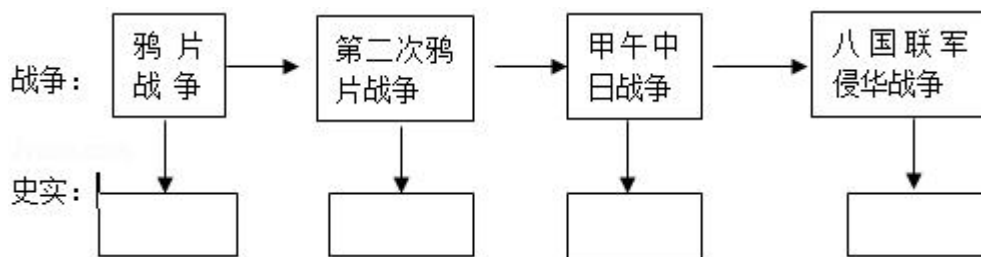
- (1) 从材料一中总结清朝统治者实行怎样的对外政策?
- (2) 从材料二中总结这一政策对中国社会产生的影响是什么?

36. (10分) 落后挨打

归纳整理下列史料, 回答下面问题。

- ①允许日本在通商口岸开设工厂
- ②中国的主权和领土完整开始遭到破坏
- ③慈禧太后带着光绪帝仓皇逃离北京
- ④俄国趁火打劫, 割占了中国东北和西北的大片领土

(1) 上面这组资料均与列强在 19 世纪中期到 20 世纪初发动的侵华战争有关。请你按“战争与史实”的对应关系填全下面的空格。



- (2) 甲午中日战争签订了哪一条约, 该条约给中国社会带来了什么样的影响?
- (3) 上述史实中, 你认为清政府是什么样的。



参考答案与试题解析

一、选择题（每小题 2 分，共 60 分）下列各题均有四个选项，其中只有一项符合题目要求。请将正确选项前的字母填在答题纸上表格中的相应位置。

1. 【解答】960 年，后周大将赵匡胤建立宋朝，定都汴京，历史上成为北宋。916 年，阿保机称皇帝，建立契丹政权，定都上京。阿保机就是辽太祖。后来，契丹改国号为辽。1038 年党项族首领元昊称大夏国皇帝，定都兴庆。夏位于宋的西北，历史上称为西夏。故选 C。

2. 【解答】根据所学知识可知：A 是秦始皇的功绩，B 是宋太祖的措施，C 是汉武帝的措施，D 是唐太宗的措施。故选 B。

3. 【解答】诗中的“汴州”在当时的名称应是临安，是南宋的都城，所以诗歌作者生活的历史时期是南宋。故选 D。

4. 【解答】A. 文天祥是南宋的抗元将领。

B. 戚继光是明朝的抗击倭寇英雄。

C. 郑成功是明朝收复台湾的英雄。

D. 岳飞是南宋著名的抗金将领，精忠报国的事迹激励着后人。

故选 D。

5. 【解答】根据所学知识可知：为了提高粮食产量，宋代从越南引进优良品种占城稻，并在江南地区得到推广。

故选 B。

6. 【解答】根据所学知识可知：中国素有“瓷器之国”之称，宋朝是我国瓷器史上的辉煌时代，宋代浙江哥窑烧制的冰裂纹瓷器，给人别样的美感，北宋兴起的景德镇，后来发展成著名的瓷都。故选 C。

7. 【解答】根据所学知识可知：宋朝政府积极鼓励海外贸易，在广州、杭州等地设置市舶机构，管理海外贸易。

故选 A。

8. 【解答】随着城市的繁荣，宋代的市民阶层不断壮大，市民文化生活也丰富起来。东京城内有许多娱乐兼营商业的场所“瓦子”。故选 A。

9. 【解答】③城市平民都住着高大宽敞的瓦顶平房，不正确，城市平民的住房，平面多为长方形，屋顶以草或瓦覆

盖；④士大夫出行一般都骑马，不正确，宋朝缺马，士大夫一般骑驴、骡。故选 C。

10. 【解答】今天的传统节日春节、元宵节、端午节、中秋节等在宋代都有了，宋代称春节为元旦，最受重视。故选 D。

11. 【解答】A 项发生在唐朝；C 项是明朝明成祖在位时期；D 项属于清朝实行“海禁”政策。纸币的出现是商品经济发展的表现，反过来也有利于商业的发展。故选 B。

12. 【解答】北宋制成指南针并开始用于航海，南宋指南针广泛用于航海。故选 C。

13. 【解答】依据题干信息“编年体”，结合所学知识：司马光主持编写的《资治通鉴》，是一部编年体的通史巨著，它按年代顺序，叙述了从战国到五代的历史。故选 C。

14. 【解答】不同时期文学的表现形式不同，宋代主要是词，词是一种新题诗歌，句子有长有段，便于歌唱。宋代著名的词人有苏轼、辛弃疾、李清照等。题目中的句子都是“词”。故选 B。

15. 【解答】根据所学可知，明太祖即位后，改革中央机构，加强君主权力，在中央，罢中书省，废宰相制，由六部分理朝政，直接对皇帝负责。故选 D。

16. 【解答】明朝沿用隋唐创立的科举考试的办法选拔官吏。但国家规定，科举考试只能在“四书”“五经”范围内命题，重点考查考生对儒家经典的理解、掌握和运用，应考者不能自由发挥。参加科举考试生员的答卷，其行文格式有严格的规定，就是通常所说的“八股文”。“八股文”形式死板，内容空洞，陈陈相因，千篇一律。为了在科举考试中获得好成绩，学生从小死背经书，练习八股文的写作，完全脱离现实生活，无法培养实际能力。”可知，ABC 选项都属于明清八股取士的规定。D 选项不符合明清八股取士的作用。故选 D。

17. 【解答】题干中的关键信息“拔剑光寒倭寇胆”。明朝中期以后，海防松弛，倭患严重，明政府派遣戚继光等抗倭。戚继光组建了一支作战勇敢，纪律严明的“戚家军”，1561 年在台州地区九战九捷，迅速荡平浙江境内的倭寇；此后又率军开赴福建和广东，到 1565 年，东南沿海的倭寇基本肃清。故选 D。

18. 【解答】根据所学可知，1553 年，葡萄牙殖民者攫取了在我国广东澳门的居住权，一直到 1999 年 12 月 20 日，我国政府才从葡萄牙手中收回澳门。故选 C。

19. 【解答】题干材料中特别强调的地区是“台湾”在题目给出的四个选项中只有郑成功打败荷兰殖民者收复台湾与这个地区有关，戚继光抗倭，林则徐虎门销烟，邓世昌黄海海战壮烈牺牲。故选 B。
20. 【解答】注意抓住题干中的关键信息“中国封建王朝落日辉煌”，联系所学可知，明清时期是我国封建王朝走向衰落的时期，这一时期出现的康乾盛世，就是中国封建王朝走向衰落中的一次盛世。A 是秦始皇，B 是唐太宗，C 是明太祖朱元璋，D 是康熙帝。故与题意有关的只能是 D。故选 D。
21. 【解答】题目给出顺治帝册封达赖喇嘛，雍正帝设立驻藏大臣，乾隆设立伊犁将军和乾隆制定“金瓶掣签”制度中都反映了清朝时对西藏和新疆地区的管辖，说明了当时统一多民族国家巩固；ABC 三个选项主题与这些内容无关。故选 D。
22. 【解答】1840 年 6 月 - 1842 年 8 月，英国发动鸦片战争，中国战败。鸦片战争以后，中国开始从封建社会沦为半殖民地半封建社会，鸦片战争是中国近代史的开端。故选 B。
23. 【解答】根据题干中“鸦片战争再研究、近代史、要命的外交文件”等关键词，可以看出是鸦片战争中国战败后的影响，中英签订了近代第一个不平等条约《南京条约》；《北京条约》是第二次鸦片战争中清政府同英俄等签订的不平等条约；《辛丑条约》是八国联军侵华战争后签订的不平等条约；《马关条约》是甲午中日战争后签订的不平等条约。故选 B。
24. 【解答】英国工业革命完成后，资本主义迅速发展急需广阔的市场和廉价的原料和劳动力，为了满足这些要求，英国就以中国的禁烟运动为借口，发动了对中国的侵略战争，最终强迫清政府签订了《南京条约》，《南京条约》改变了中国社会的性质，中国开始了半殖民地半封建社会的历程，A 项是鸦片战争的背景，B 项是鸦片给中国带来的危害，C 项是中英《南京条约》的内容。故选 D。
25. 【解答】根据已学知识可知：俄国在第二次鸦片战争期间趁火打劫，通过签订一系列不平等条约，共割占中国西北和东北领土达 150 多万平方千米。从而证明了“俄国不花费一文钱，不出动一兵一卒，而能比任何一个参战国（从中国）得到更多的好处”。故选 D。
26. 【解答】根据题干给出的圆明园可知导致这些国宝被迫离开故土的事件是第二次鸦片战争期间，英法联军火烧圆明园。1860 年 10 月英法联军攻入北京，闯进圆明园，疯狂抢掠园中珍宝，为了掩人耳目，又放火焚毁了这座著名的皇家园林。故选 B。

27. 【解答】1876年，左宗棠率清军分三路进军，采取“先北后南，缓进急战”的策略，先收复了乌鲁木齐及其附近地区，后攻占吐鲁番，挺进南疆，在新疆各族人民的支持下，收复喀什噶尔。1878年，除伊犁以外的新疆重新回到祖国怀抱。故选C。

28. 【解答】1894年9月，清政府北洋舰队在黄海大东沟海域，遭到日本舰队袭击，致远舰管带邓世昌率舰冲锋向前，激战中，致远舰多处中弹，邓世昌下令，开足马力，直冲敌舰，日舰躲避，同时施放鱼雷，击中致远舰，邓世昌与全舰官兵壮烈牺牲。故选B。

29. 【解答】1901年，清政府被迫同英、美、俄、日等国签订了丧权辱国的《辛丑条约》。《辛丑条约》中规定划定北京东交民巷为使馆界，允许各国驻兵保护，不准中国人居住。故选D。

30. 【解答】1901年，清政府同列强签订了丧权辱国的《辛丑条约》，清廷统治受到严重削弱，名存实亡。条约规定清廷严禁人民参加反帝活动，这表明其已完全沦为帝国主义统治中国的工具，符合题干中说的“这朝廷，原是个，名存实亡！替洋人，做一个，守土长官”。故选D。

二、综合题（第1题6分，第2题8分，第3题6分，第4题各6分，第5题4分，第6题10分，共40分）

31. 【解答】（1）由于元朝疆域广大，为了有效实行控制地方，除河北、山西、山东由中书省直接管理外，元统治者在地方设置行中书省，简称行省或者省，由中央委派官员管理，元朝的行省制度，对后世有着深远影响。我国省级行政单位就是从元朝开始的。

（2）元政府加强对西藏的管辖，在中央设置宣政院，管理全国的宗教和吐蕃地区事务。这标志着元朝时西藏正式成为我国的行政区划；元朝时，政府设立澎湖巡检司管理澎湖列岛和台湾。

（3）根据材料“在宋之时，见胡服、闻胡语者犹以为怪，…至于元，百年之间，四海之内，起居、饮食、声音、器用，皆化而同之。”这个材料反映了元朝时期的民族融合；元朝时期，许多汉族人来到边疆，为那里的开发作出了贡献。边疆各族包括蒙古族，大量迁入中原和江南，同汉族杂居相处。原先进入黄河流域的契丹、女真等族，经过长期共同生活，已同汉人没有什么区别。唐朝以来，不少定居中国的波斯人、阿拉伯人，他们同汉、藏、畏吾儿等族，长期杂居相处，互通婚姻，逐渐融合，到元朝时期开始形成一个新的民族——回族。

故答案为：（1）中书省；行中书省。（2）宣政院；澎湖巡检司。（3）民族融合；回族。

32. 【解答】（1）根据材料一中图①“960”可知，这是960年赵匡胤建立的北宋政权；根据图②“1115”可知，这是1115年阿骨打建立的金政权；从图中可以看出，元朝建立之前，民族政权并立，元朝建立，统一了全国，宋元时期的时代特征是从民族政权并立到完成统一。

（2）根据材料二的图表可知，到了北宋，南方的人口逐渐超过了北方。

(3) 根据材料三“两宋时期，‘国家的财政收入约 80%来自淮河以南地区’，‘丝、棉纺织业造纸业中心及对外贸易港口多集中在南方’，‘苏湖熟，天下足’。”和材料四“国家根本，仰给东南。”经济重心南移。

(4) 元世祖认识到农业对稳定社会、维护统治的重要性，设置了专门管理农业的机构劝农司，负责掌管全国的农桑水利，规定以“户口增”“田野辟”“赋税平”作为衡量官吏好坏的标准。元朝时期，棉花的种植得到推广，棉纺织业成为元朝手工业重要的部门，棉布逐渐取代丝麻成为广大民众普遍使用的衣被原料。

(5) 在清朝的康熙到乾隆年间，社会稳定，经济发展，人口激增，史称康乾盛世。

故答案为：(1) 图①北宋；图②金；从民族政权并立到完成统一。

(2) 到了北宋，南方的人口逐渐超过了北方。

(3) 经济重心南移。

(4) 劝农司；棉纺织业。

(5) 康乾盛世。

33. 【解答】(1) 根据郑和下西洋的航行路线图和“过印度洋，达红海，航程总计 16 万海里，历经东南亚（又称南洋）、南亚、西亚和东非的 30 多个国家和地区。”可知，郑和下西洋最远到达的地区是非洲东海岸。

(2) 根据材料二“他每到一地，都以中国的丝绸和瓷器换取当地的特产或馈赠当地的国王，与当地居民公平交易，互通有无。不占别国一寸土地，未掠他人一分财富。”可知，郑和与海外各国交往和平交往，公平交易。

(3) 根据材料一“从 1405 年到 1433 年的 28 年间，郑和连续 7 次统率百艘巨舰，27000 多名官兵，渡南洋，过印度洋，达红海，航程总计 16 万海里，历经东南亚（又称南洋）、南亚、西亚和东非的 30 多个国家和地区。”和材料三“600 多年前，明朝皇帝派出一支大型商船队，探索与世界其他地方的贸易。这些远征...更重要的是，它们给到访过的那些国留下了持久的影响。”可知，郑和下西洋连通了从中国到东非的航路，加强了明朝与亚非各国的友好往来。

故答案为：(1) 非洲东海岸。

(2) 和平交往，公平交易。

(3) 郑和下西洋连通了从中国到东非的航路，加强了明朝与亚非各国的友好往来。

34. 【解答】《本草纲目》是明代杰出的医药学家和药物学物李时珍所著的医学巨著，全书共收 1892 种药物，附药方 11000 多则，插图 1160 幅，被誉为“东方医学巨典”；《天工开物》是明代著名科学家宋应星所著的科学巨著，全书详细记载了各种农作物和手工业原料的各类、产地、种植加工以及手工业生产技术，提供了大量确切数据，被誉为“17 世纪中国工艺百科全书”；《西游记》是我国四大古典小说之一，由明代文学家吴承恩所著，是一部浪漫主义长篇神话小说；《三国演义》是我国四大古典小说之一，由明代文学家罗贯中所著，是我国第一部长篇历史小说；《水浒传》是我国四大古典小说之一，由明代文学家施耐庵所著，是根据北宋末年宋江起义的题材创作而成的一部章回体小说；《红楼梦》是我国四大古典小说之一，由明代文学家曹雪芹所著，是我国古典小说的巅峰。

故答案为：《本草纲目》 - - 被誉为“东方医学巨典”。《天工开物》 - - 被誉为“17 世纪中国工艺百科全书”。《西游

记》 - - 浪漫主义长篇神话小说.《三国演义》 - - 我国第一部长篇历史小说.《水浒传》 - - 以北宋末年宋江起义创作而成的一部章回体小说.《红楼梦》 - - 我国古典小说的巅峰.

35. 【解答】(1) 根据材料一“规定只开广州一处对外通商, 封闭其它港口, 并规定由政府特许的广州“十三行”统一经营管理和对外贸易.”可知, 这是清朝统治者实行的闭关锁国政策.

(2) 根据材料二“1793年, 英国国王乔治三世派遣使团来华, 拜见乾隆皇帝, 要求通商.”“双方互赠礼物. 英国赠给中国的礼物有太阳系天体运行仪、航海望远镜、战舰模型等; 中国回赠的礼物有丝绸、宣纸、各种工艺品等.”可知, 闭关政策使中国远离世界发展的潮流, 落后于世界进步步伐, 社会危机日益严重.

故答案为: (1) 实行闭关锁国政策.

(2) 使中国远离世界发展的潮流, 落后于世界进步步伐, 社会危机日益严重.

36. 【解答】(1) 1840年6月, 英国舰队侵入中国广东海面, 鸦片战争正式爆发. 1842年8月, 英国舰队沿长江而上, 直逼南京城下, 用武力强迫清政府签订了近代史上第一个不平等条约 - - 《南京条约》.《南京条约》的签订, 使中国的国家主权和领土完整遭到破坏, 丧失了独立自主的地位, 古老的中国开始被卷进世界资本主义的漩涡, 开始沦为半封建半殖民地社会; 俄国在第二次鸦片战争前后, 趁火打劫, 通过一系列不平等条约, 共割占中国东北、西北 150 多万平方千米的领土; 1894 年中国和日本爆发的甲午中日战争, 清政府战败后被迫与侵略者签订了《马关条约》, 规定清政府割辽东半岛、台湾、澎湖列岛给日本, 赔偿日本军费白银 2 亿两, 开放沙市、重庆、苏州、杭州为通商口岸, 允许日本在通商口岸开设工厂等.《马关条约》大大加深了中国的半殖民地化程度; 1900 年春, 义和团运动发展到京津地区, 义和团运动的斗争矛头直指帝国主义侵略势力, 为镇压义和团的反帝爱国运动, 1900 年 6 月, 英美俄日等八国组成八国联军, 发动了侵华战争, 在北京城烧杀抢掠, 1900 年 8 月中旬, 八国联军攻占北京, 慈禧太后带领光绪帝仓皇出逃离北京, 1901 年清政府被迫签订了《辛丑条约》, 中国完全陷入了半殖民地半封建社会的深渊.

(2) 1894 年中国和日本爆发了甲午中日战争, 清政府战败后被迫与日本签订了《马关条约》,《马关条约》的签订, 刺激了列强瓜分中国的野心, 大大加深了半殖民地化的程度, 加深了中国的民族危机.

(3) 通过对以上列强对中国的侵略可知, 中国近代史是一部列强的侵华史, 清政府在这一系列战争中战败, 充分说明了清政府的腐朽没落.

故答案为: (1) ②; ④; ①; ③.

(2) 《马关条约》; 大大加深了半殖民地化的程度.

(3) 清政府腐朽没落.

