

地 理

考 生 须 知	1. 本试卷共 10 页,共两部分,29 道题。满分 70 分。考试时间 70 分钟。 2. 在试卷和答题卡上准确填写学校名称、班级、姓名和准考证号。 3. 试题答案一律填涂或书写在答题卡上,在试卷上作答无效。 4. 在答题卡上,选择题用 2B 铅笔作答,其他试题用黑色字迹签字笔作答。
------------------	----------------------------------------------------------------------------------------------------------------------------------------------------------

第一部分 选择题(共 25 分)

本部分共 25 道题,每题 1 分,共 25 分。下列各题均有四个选项,其中只有一个选项是最符合题意要求的,请将所选答案前的字母涂在答题卡相应位置中。

图 1 为小明自制地球仪模型演示地球运动示意图。读图,完成 1-3 题。

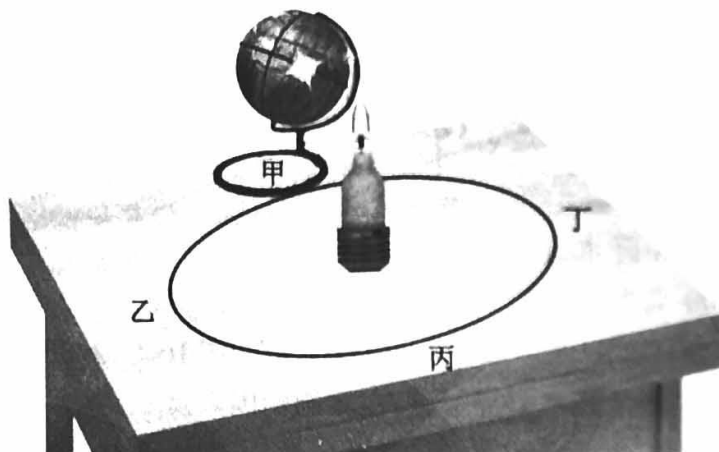


图 1

- 图 1 中穿过球体的铁丝代表
 - 纬线
 - 经线
 - 赤道
 - 地轴
- 小明制作地球仪时
 - 地轴与桌面应该始终保持垂直
 - 绘制的经线为圆圈,长度相同
 - 地轴与球体交点是北极和南极
 - 绘制的纬线为半圆,长度不同
- 用地球仪演示地球公转时,应做到
 - 移动地球仪,随时变换地轴的方向
 - 按照甲-乙-丙-丁的顺序沿着轨道移动
 - 演示公转的同时保持地球仪自东向西自转
 - 地球仪球心尽量与光源保持在同一水平面
 - ①②
 - ①③
 - ②④
 - ③④

大兴区某中学组织八年级同学乘车前往国家博物馆开展实践活动。图2为电子导航示意图。读图,完成4-6题。

4. 从始发地到中国国家博物馆的图上距离大约是6.2厘米,推断图2的比例尺为

A. 1:4000

B. $\frac{1}{40000}$

C.  4千米

D. 图上1厘米代表实地距离400千米

5. 车辆在“京开高速”段的大致行驶方向是

A. 自南向北

B. 自北向南

C. 先向西再向北

D. 先向北再向西

6. 电子地图与纸质地图相比,主要优点有

①图幅较大 ②便于携带 ③更新速度快

④比例尺固定不变 ⑤信息容量大

A. ①②③

B. ②③④

C. ②③⑤

D. ③④⑤

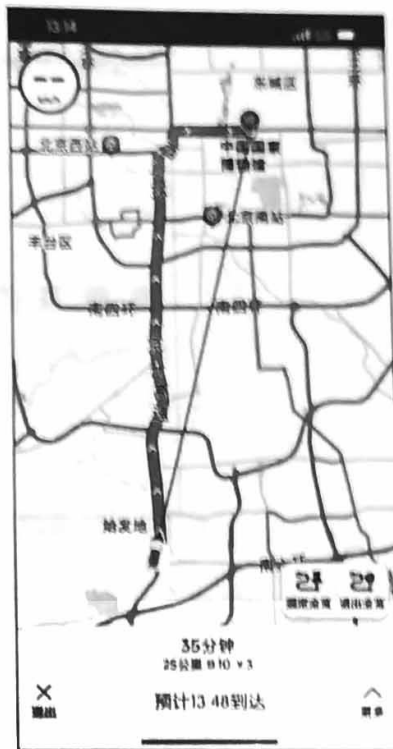


图2

图3为2010-2020年中国人口年龄结构示意图。读图,完成7-9题。




图3

7. 2010-2020年我国

A. 0-14岁人口数量逐年减少

B. 15-64岁人口所占比重逐年增加

C. 人口年龄结构趋向合理

D. 65岁及以上人口比重逐年增加

8. 图3中数据说明我国的人口问题是

A. 就业压力增大

B. 养老负担加重

C. 人口分布不均

D. 性别比例失衡

9. 为应对我国现阶段面临的主要人口问题,可以

①实施计划生育政策

②完善养老保障体系

③提高婚育年龄限制

④鼓励发展养老产业

A. ①②③

B. ①②④

C. ①③④

D. ②③④

《中华人民共和国黄河保护法》于2023年4月1日起施行。图4为黄河流域简图。读图,完成10、11题。

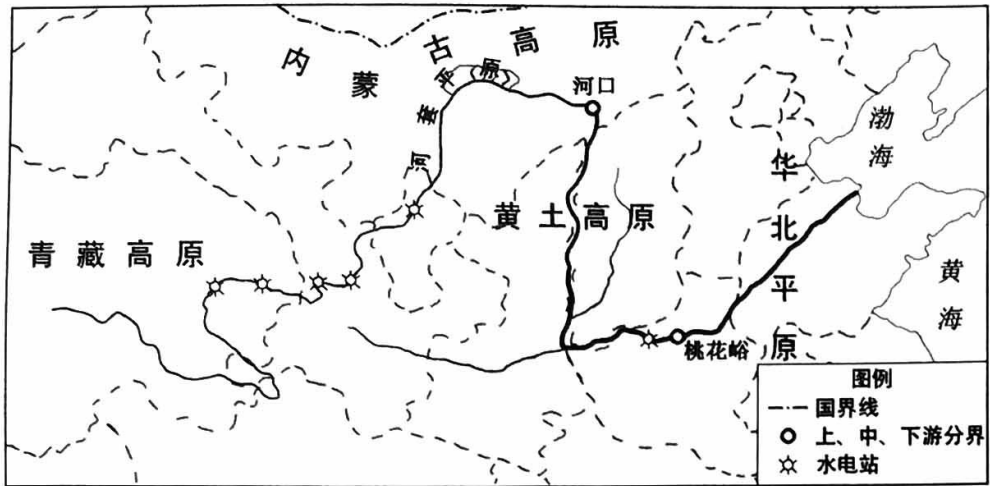


图4

10. 黄河

- A. 发源于西藏自治区
- B. 中游主要流经内蒙古高原
- C. 自西向东注入渤海
- D. 共流经 11 个省级行政区

11. 以下做法落实黄河保护法的是

- A. 上游大力发展种植业保持水土
- B. 中上游地区扩建化工园区
- C. 中游地区加强水土流失的防治
- D. 下游地区兴修大型水电站

图5为陕西省地图。读图,完成12-14题。

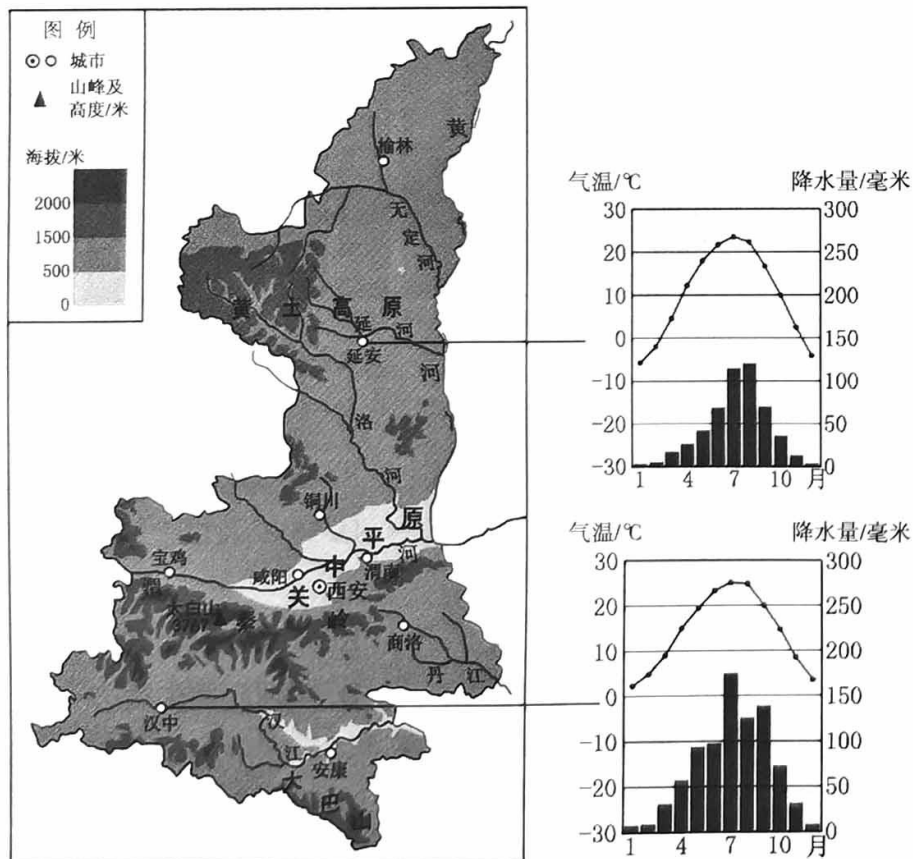


图5

12. 陕西省

- A. 行政中心是延安
- B. 城市多沿河流分布
- C. 地形以平原为主
- D. 传统民居是吊脚楼

13. 延安和汉中虽然都位于陕西省,但自然环境差异显著,主要体现在

- A. 延安比汉中年降水量大
- B. 延安比汉中年温差大
- C. 汉江比延河的结冰期长
- D. 汉江比延河含沙量大

14. 横亘于陕西省中南部的秦岭作为我国重要的生态安全屏障可以

- ①保护当地生物多样性
- ②调节气候、净化空气
- ③涵养汉江、延河水源
- ④提供木材、兴建别墅

- A. ①②
- B. ①③
- C. ②④
- D. ③④

图6为南半球年降水量分布图。读图,完成15、16题。

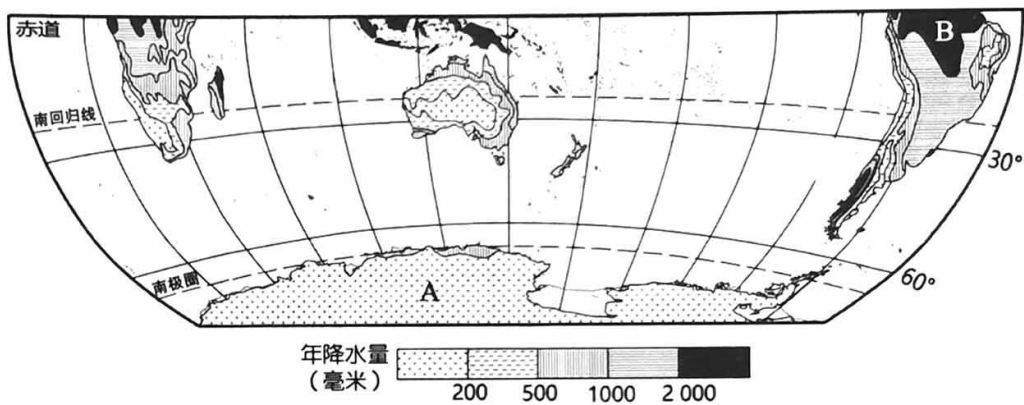


图6

15. 图6中A地年降水量

- A. 小于200毫米
- B. 在500-1000毫米之间
- C. 大于2000毫米
- D. 在1000-2000毫米之间

16. 图6中A、B两地降水差异显著,主要影响因素是

- A. 纬度位置
- B. 海陆分布
- C. 地形
- D. 人类活动

图7为甲、乙两地景观图。读图,完成17-19题。




图7

17. 与甲地相比,乙地

- A. 建筑密度小
- B. 自然景观保护程度更高
- C. 交通线密集
- D. 服务设施数量少且简易

18. 甲、乙两地所属的聚落类型及判断理由为

- A. 甲地为乡村,以农业生产为主 B. 乙地为乡村,沿河流分布
C. 甲地为城市,以工业生产为主 D. 乙地为城市,地势平坦开阔

19. 与乙地相比甲地聚落规模小,主要影响因素是

- A. 气候 B. 水源 C. 植被 D. 地形

2023年4月6日,中国第39次南极考察圆满完成。本次考察开展了中山站到南极冰穹所有站点的冰雪环境检测等重要科研活动。图8为南极地区示意图。读图,完成20-22题。

20. 中山站

- A. 位于 $69^{\circ}22'N, 76^{\circ}22'E$
B. 位于东半球、南寒带
C. 濒临太平洋,较温暖
D. 位于泰山站的正南方

21. 南极地区

- A. 海拔低,光照强
B. 纬度高,冰面广
C. 海域大,降水足
D. 陆地广,植物多

22. 在南极地区建立科学考察站是为了

- A. 体验南极地区酷寒的气候特点
B. 开发世界独特的旅游观光资源
C. 利用南极地区丰富的淡水资源
D. 开展特殊自然地理环境的研究

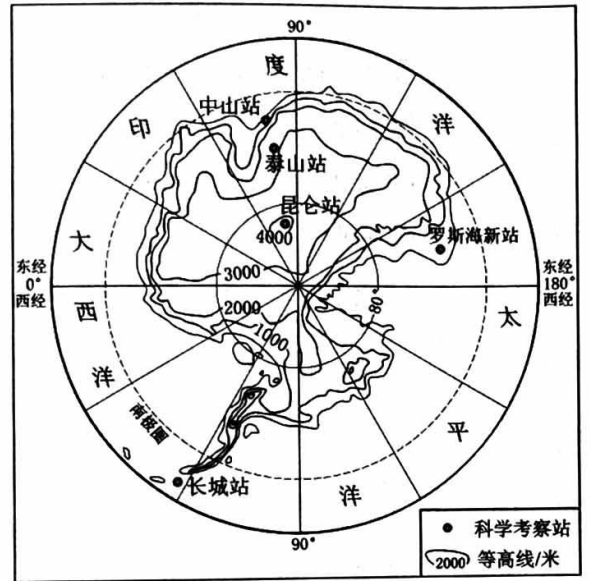


图8

奥地利有着“森林王国”、“滑雪胜地”等诸多美称。图9为奥地利简图及因斯布鲁克气候资料。读图,完成23-25题。

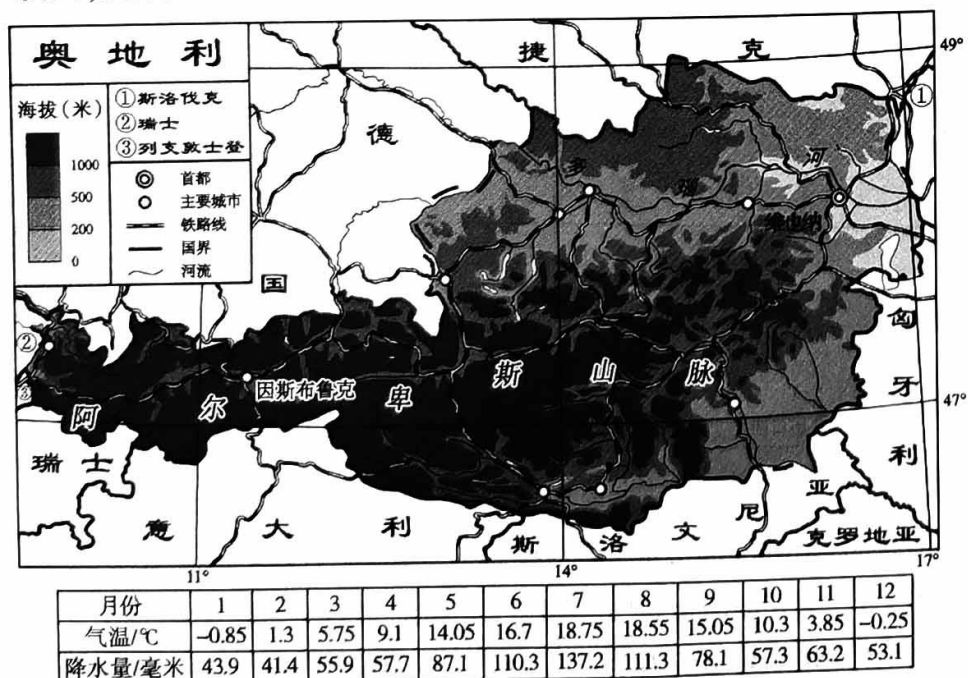


图9

23. 奥地利

- A. 属于岛国,首都是维也纳
- C. 纬度高,夏季适宜看极光

- B. 南邻德国、瑞士等国家
- D. 铁路线密集,交通便利

24. 流经奥地利的多瑙河

- A. 干流流向为自东向西
- C. 流量大且航运价值高

- B. 无支流汇入
- D. 结冰期较长

25. 奥地利成为“滑雪圣地”的自然原因有

- ①多山地,地势起伏大
- ③河湖众多,利于结冰

- ②冬季寒冷,降雪丰富
- ④植被茂盛,利于积雪

A. ①②

B. ①③

C. ②③

D. ③④

第二部分 非选择题(本部分共 4 道题,共 45 分)

26. 京杭运河是世界上最长的人工运河。图 10 为京杭运河流经城市示意图。读图,回答下列问题。(12 分)

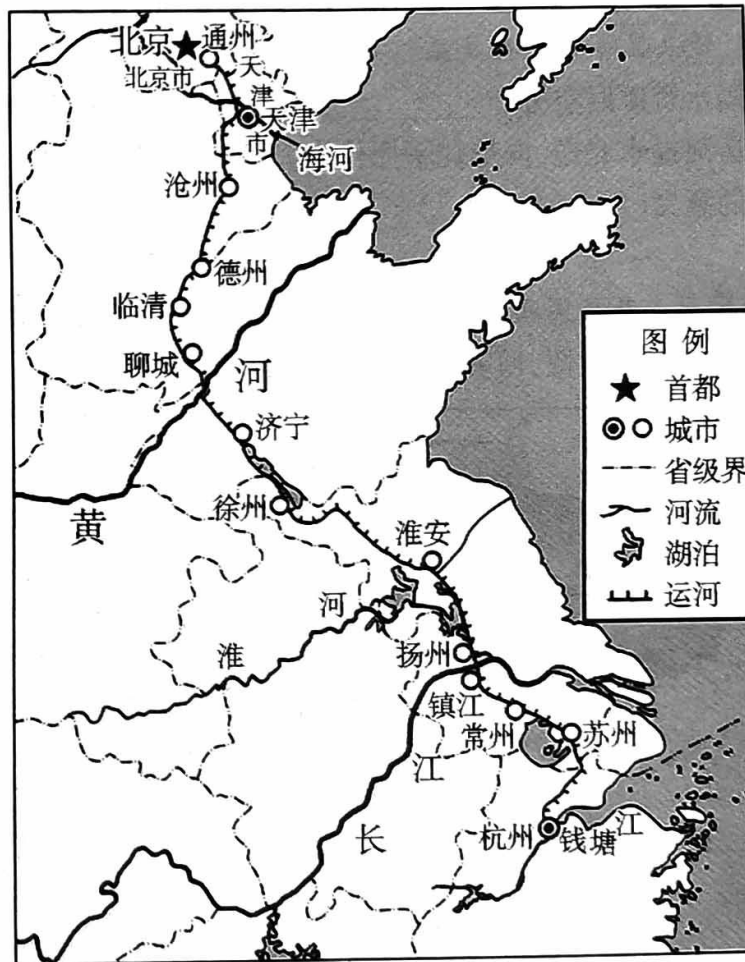


图 10

千年运河,历久弥新

(1)京杭运河北起涿郡,今北京市,南至余杭,今_____省杭州市,从南到北依次连接五大水系,钱塘江、长江、_____、黄河、海河,沟通了我国北方地区和南方地区。

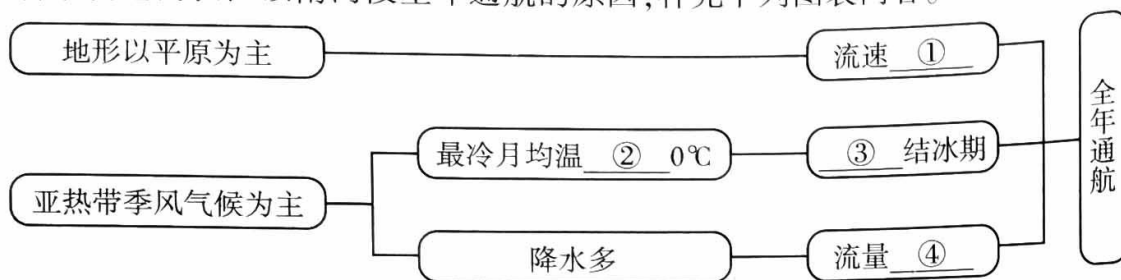
(2)京杭运河传承着中华民族的悠久历史和文明。下列诗句描写京杭运河的是_____ (单项选择题)。

- A. 窗含西岭千秋雪,门泊东吴万里船 B. 江南北国脉相牵,隋代千年水潏潏
C. 晴川历历汉阳树,芳草萋萋鹦鹉洲 D. 黄河之水天上来,奔流到海不复回

因运而生,因运而盛

(3)历史上京杭运河上的船只络绎不绝,以“漕运”著名。当时从杭州进京的漕船上运载的物品最有可能是_____ (小麦/稻米),采用水路运输的优势有_____。

(4)分析京杭运河长江以南河段全年通航的原因,补充下列图表内容。



古运河,新使命

流动的水,是京杭运河的生命所在。2023年4月4日,京杭运河再次实现全线水流贯通,带来显著的生态效益。

(5)我国水资源时空分布_____,夏汛冬枯、北缺南丰。南水北调东线工程利用京杭运河提水北送,向华北平原供水。简要说明对华北平原而言,京杭运河全线通水的意义(至少答出两点)。

27. 河西走廊历来是我国西北地区的重要“粮仓”,也是古丝绸之路的枢纽路段。图11为甘肃省示意图。读图,回答下列问题。(11分)

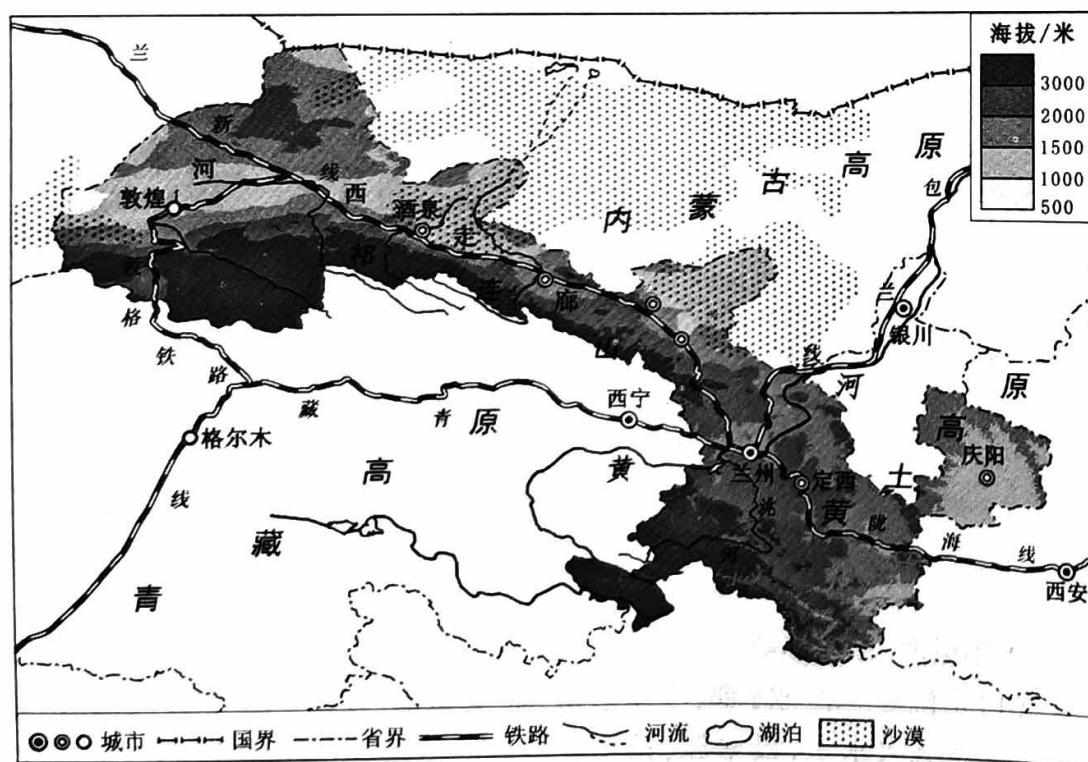
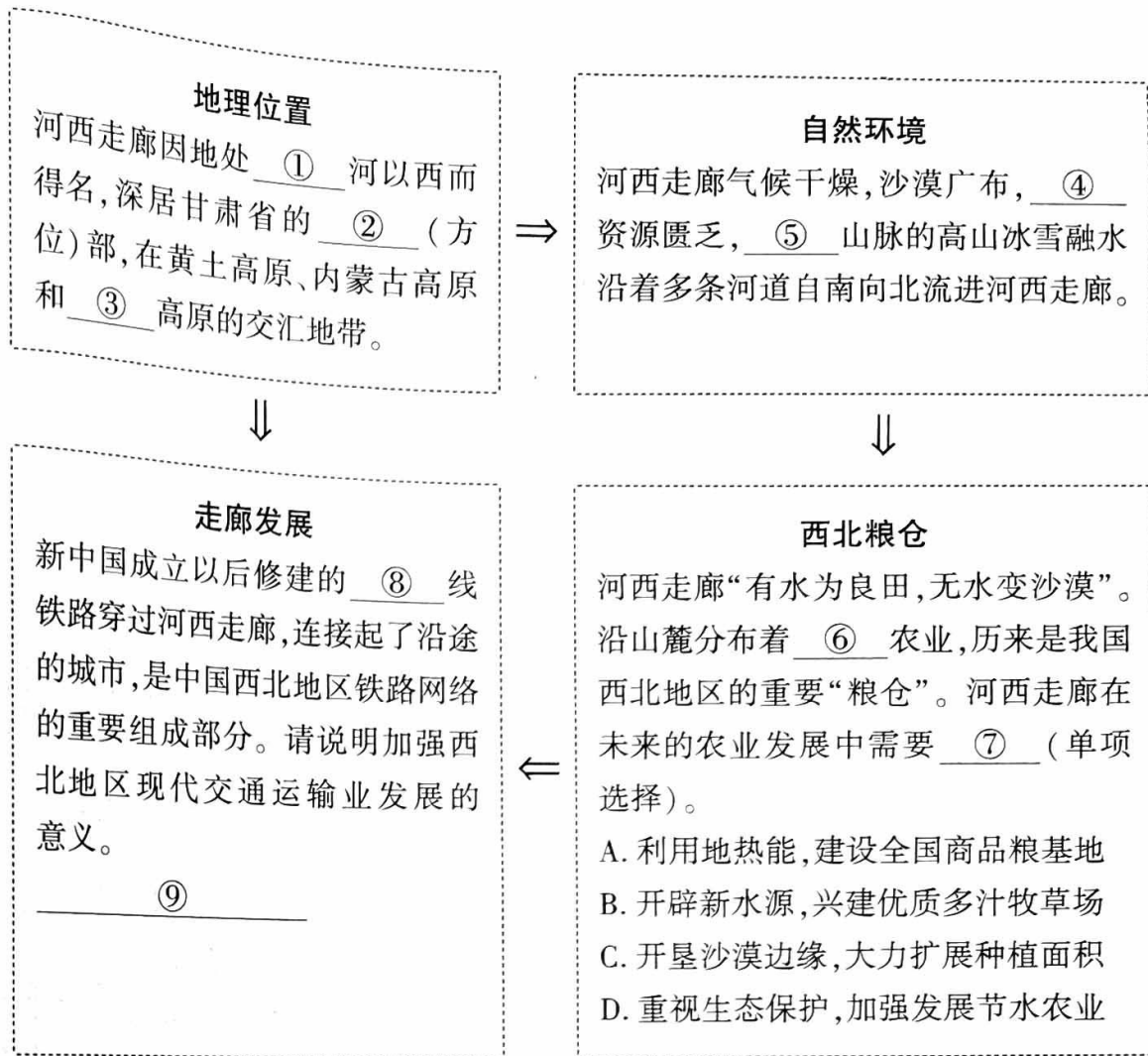


图 11



28. 近年来肯尼亚、坦桑尼亚、哥伦比亚等国大力发展花卉种植业。图 12 为花卉主要出口国示意图。读图文资料,回答下列问题。(10 分)

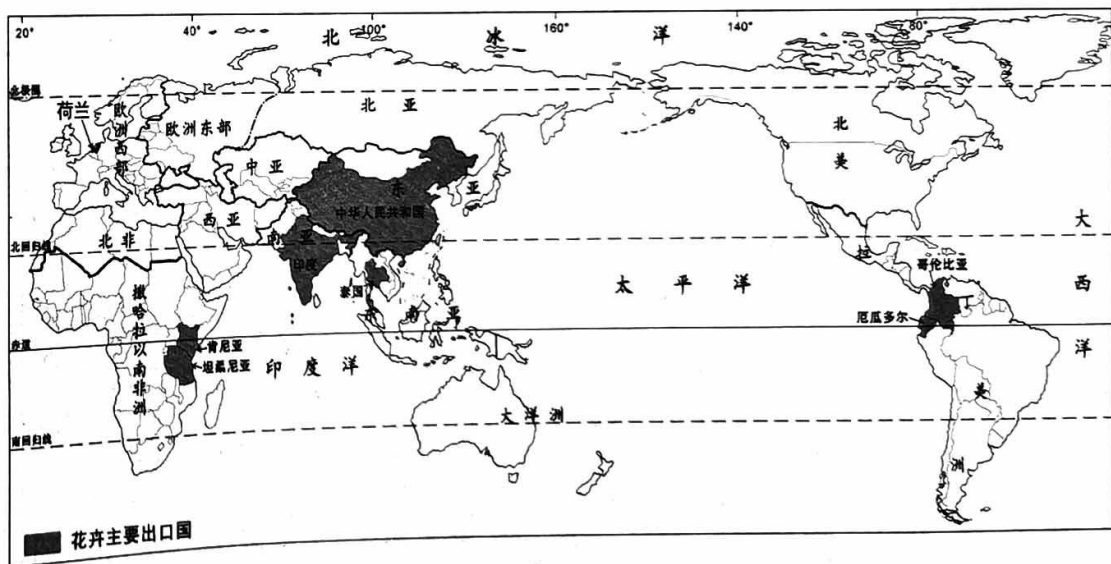
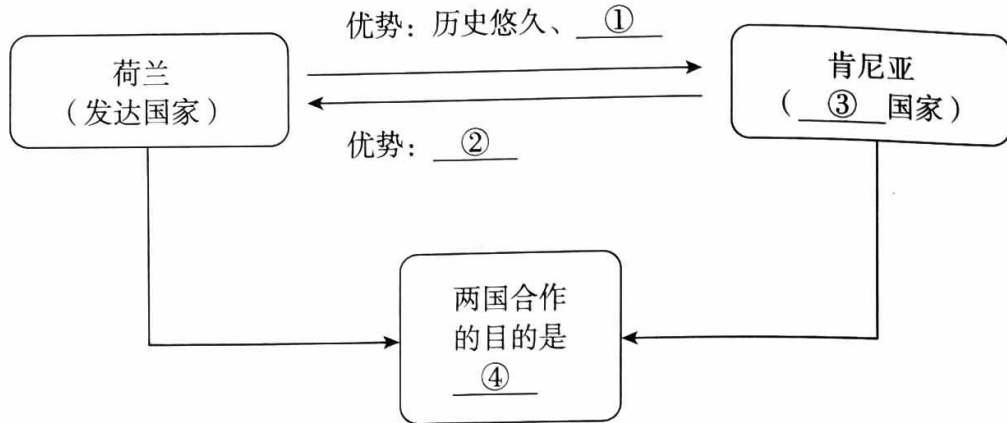


图 12

- 花卉主要出口国分布在亚洲、_____、_____等大洲,从纬度位置看,多分布在在_____ (中高/中低) 纬度,从海陆位置看,多分布在_____ 地区。
- 哥伦比亚地处五带中的_____,全年气温_____ (高/低),花期长,满足了欧洲西部和北美地区冬季鲜花消费需求。

荷兰号称“世界花卉王国”，具有悠久的历史、先进的花卉栽培技术、完善的花卉销售和流通系统，成为全球最大的花卉生产国和出口国。但是，近年来玫瑰种植大量转移到劳动力、土地价格低廉的肯尼亚等地。一支早上7点采摘的玫瑰，次日早晨就能抵达荷兰，再由荷兰的拍卖市场销往世界各地。

(3) 结合资料，完成下表。



29. 在学习“认识国家”时，小华收集了关于印度的相关资料。图13为印度地图，图14为孟买气温曲线和降水量柱状图。读图文资料，回答下列问题。(12分)

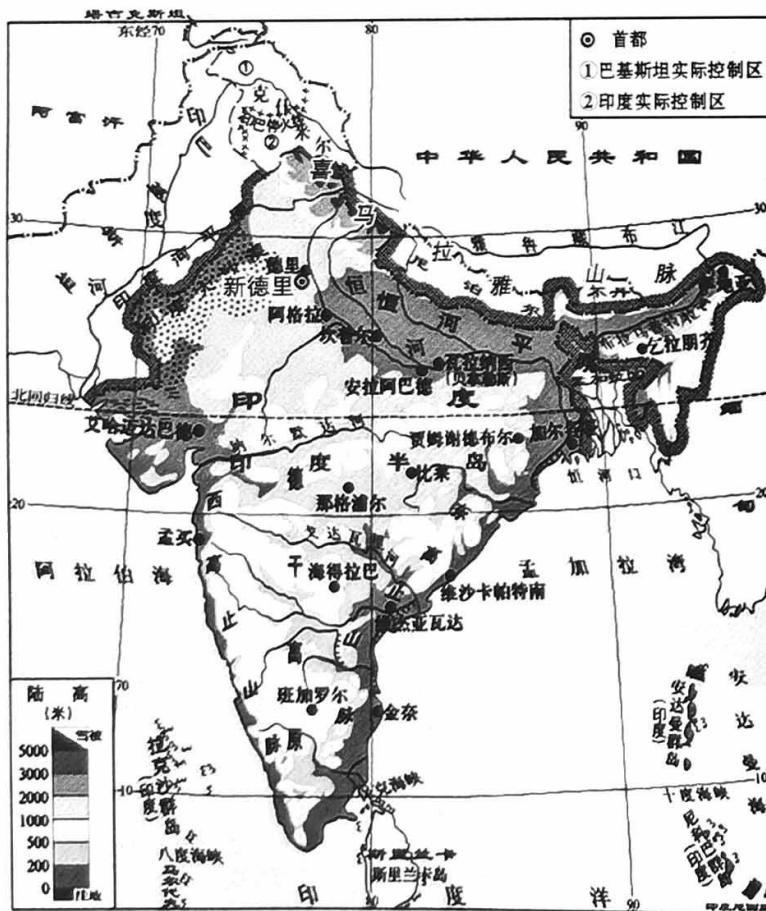


图13

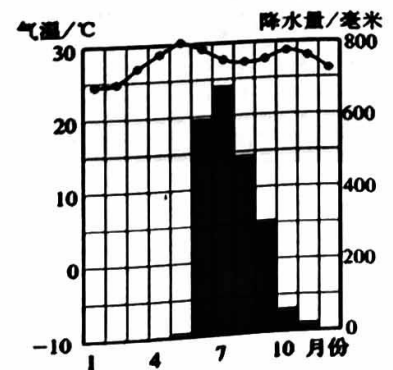


图14

活动一：制作国家名片

(1) 请帮助小华同学完善印度的“国家名片”。

印 度

地理位置：位于北半球和东半球；大部分位于 $10^{\circ}\text{N}\sim 30^{\circ}\text{N}$ 之间，_____从其中部穿过，地跨热带和北温带；位于亚洲的南部，东临_____，西临阿拉伯海，_____（海陆兼备/岛国/内陆国）。

首都：_____。


人口：超过13.8亿（2020年）。

地形特征：最北部是_____山脉，南部以高原为主。

气候特征：大部分位于热带季风气候区，其气候特征是_____，因此，_____和干旱灾害频发。

活动二：寻找特色美食

印度美食：咖喱



小知识：

咖喱起源于印度，由多种香料混合调配而成。有增加胃肠蠕动，增进食欲，促进血液循环，人体发汗，降低体温、消毒、灭菌等作用。

咖喱鸡菠菜饭

(2) 印度居民喜食咖喱的原因是_____（双项选择）。

- A. 气候湿热，病菌易发
- B. 天气炎热，食欲不振
- C. 海拔较高，空气稀薄
- D. 纬度较高，资源贫乏

活动三：探究经济发展



资料：印度信息技术产业的迅速发展主要有四方面原因：一是政府在20世纪80年代就提出“用电子革命把印度带入21世纪”；二是国际市场对软件和软件工程师的需求急剧增长；三是有世界第二大能够熟练使用英语的信息技术人才库；四是信息技术产业具有优质的管理和低廉的成本等优势。

(3) 高新技术产业是印度的优势产业，该产业在印度迅速发展的有利条件有_____、_____等。

大兴区八年级第二学期期末练习

地理参考答案及评分标准

2023.05

第一部分 选择题（共 25 分）

1	2	3	4	5	6	7	8	9	10
D	C	C	C	A	C	D	B	B	C
11	12	13	14	15	16	17	18	19	20
C	B	B	A	A	A	C	A	D	B
21	22	23	24	25					
B	D	D	C	A					

第二部分 非选择题（本部分 4 道题，共 45 分）

26. (12 分)

(1) 浙江 淮河

(2) B

(3) 稻米 运量大

(4) ①缓慢 ②大于 ③无 ④大

(5) 不均 缓解华北平原水资源紧张；地下水位回升（改善河湖景观等，合理即可）

27. (11 分)

①黄 ②西北 ③青藏 ④水 ⑤祁连 ⑥灌溉 ⑦D ⑧兰新

⑨

分值	赋分标准
3 分	有清晰的地理视角，多角度分析区域差异和区域联系对经济社会发展的意义，并且逻辑完整，表述清晰
2 分	能从两个角度分析区域联系的意义，逻辑关系比较完整，表述比较清晰
1 分	从单一角度分析区域联系的意义，逻辑关系不完整或不清晰
0 分	未作答或答案与设问不符

答案示例：有利于东西部地区物资运输，人员往来，促进民族间交往；固边兴边富民，助推西部大开发新格局，促进共同富裕；促进文化交流，推进与周边国家“一带一路”交通互联互通等

28. (10 分)

(1) 非洲 南美洲（欧洲） 中低 沿海

(2) 热带 高

(3) ①栽培技术先进（市场广阔） ②劳动力廉价（土地价格低廉） ③发展中 ④互利共赢，推动两国经济发展（提升市场竞争力）

29. (12 分)

(1) 北回归线 孟加拉湾 海陆兼备 新德里 喜马拉雅

全年高温，降水分旱季和雨季（2 分） 洪涝

(2) AB

(3) 政府政策支持 市场需求量大 (人才众多、劳动力成本低等, 合理即可)