



历史试卷

2019. 05

考生须知

1. 本试卷共 10 页，共两部分，34 道题，满分 90 分。考试时间 90 分钟。
2. 在试卷和答题卡上认真填写学校名称、姓名和考场号。
3. 试题答案一律填涂或书写在答题卡上，在试卷上作答无效。
4. 在答题卡上，选择题用 2B 铅笔作答，其它试题用黑色字迹签字笔作答。
5. 考试结束，将本试卷和答题卡一并交回。

第一部分 选择题 (共 45 分)

本部分共 30 小题，每小题 1.5 分，共 45 分。在每小题列出的四个选项中，选出最符合题目要求的一项。

1. 史料是历史研究的重要素材，按表现形式分为文献史料、实物史料、口述史料等。下列属于实物史料的是



①河南安阳出土甲骨文 ②司马迁《史记》 ③河姆渡遗址出土骨耜 ④《本草纲目》药物图谱

- A. ①② B. ①③ C. ②③ D. ②④
2. 西周时期，为了稳定被征服的地区，实行“封建亲戚，以藩屏周”的制度。这一制度是
- A. 分封制 B. 禅让制 C. 郡县制 D. 行省制
3. 春秋战国是社会大变革时期。下列属于政治领域变革的是
- A. 造纸术的发明 B. 铁器牛耕出现
C. 思想文化繁荣 D. 诸侯争霸称雄
4. 战国时期，秦国蜀守李冰主持修建的水利工程，将岷江分为内江和外江，外江泄洪，内江灌溉。这项水利工程是
- A. 郑国渠 B. 都江堰 C. 灵渠 D. 大运河
5. 某部史书中有这样的记载：“革衣服之制”“诏改姓为元氏”“文武尽迁洛阳”“不得以北俗之语言于朝廷”。这部史书记载的历史事件是
- A. 商鞅变法 B. 光武中兴 C. 孝文帝改革 D. 贞观之治

6. 连环画以连续的图画叙述故事、刻画人物。下列连环画中，属于中国历史上第一次大规模农民起义的是



- A. 大泽乡起义 B. 黄巾起义 C. 李自成起义 D. 金田起义
7. 东晋时期，有位书法家被后人誉为“书圣”，其书法为古今之冠，笔势“飘若浮云，矫若惊龙”。这位书法家是
- A. 王羲之 B. 钟繇 C. 顾恺之 D. 苏轼
8. 唐朝诗人皮日休曾经这样评价一项水利工程：“北通涿郡之渔商，南运江都之转输，其为利也博哉！”这项水利工程的作用是
- A. 发挥防洪、灌溉、排沙等作用 B. 沟通湘江和漓江，方便运输
C. 形成完整坚固的军事防御体系 D. 沟通南北，促进经济交流
9. 唐朝中外文化交流频繁。下列为唐朝中外文化交流做出贡献的人物是
- ①张骞 ②鉴真 ③玄奘 ④郑和
- A. ①② B. ①③ C. ②③ D. ②④
10. 以下示意图呈现了中国古代某一阶段的政权更替，与①相关的史实是



- A. 陈桥兵变，杯酒释兵权 B. 岳飞抗金，经济重心南移
C. 灭辽和北宋，迁都中都 D. 统一全国，建立行省制度
11. 明朝废除长期存在的中书省和丞相制度，分相权于吏、户、礼、兵、刑、工六部，其目的是
- A. 提高办事效率 B. 控制思想
C. 扩大统治基础 D. 强化皇权
12. 1790 年乾隆帝八十寿辰时，徽商组织四大徽班进京献艺。后来，以徽剧、汉调为基础，融合吸收其他剧种，形成新的剧种。这个剧种是
- A. 昆曲 B. 秦腔 C. 京剧 D. 元曲
13. 一位同学的历史笔记：林则徐虎门销烟、邓世昌血战黄海、义和团运动。根据笔记内容，判断其学习的主题是
- A. 列强侵略 B. 民族抗争 C. 近代探索 D. 民族崛起
14. 梁启超在《五十年中国进化概论》中说：“近五十年来，中国人渐渐知道自己的不足……第一期先从机器上感觉不足……第二期是从制度上感觉不足……第三期便是从文化根本上感觉不足。”与第一期相关的重大历史事件的影响是
- A. 是一场深刻的思想解放运动 B. 是一次爱国救亡运动
C. 使中国迈出了近代化的第一步 D. 使民主共和观念深入人心

15. 下列两幅漫画与某次侵华战争有关，这次战争签订的条约及其影响是



《八国之辱》



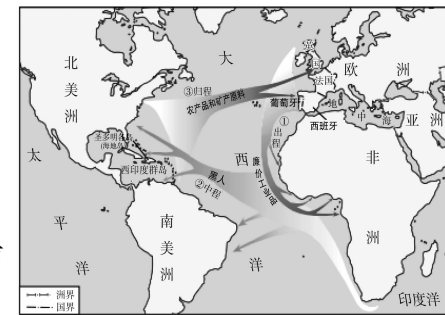
《洋人的玩偶》

- A. 《南京条约》——中国开始沦为半殖民地半封建社会
 B. 《北京条约》——中国丧失了更多的领土和主权
 C. 《马关条约》——大大加深了中国半殖民地化程度
 D. 《辛丑条约》——清政府沦为帝国主义列强统治中国的工具
16. 20世纪20年代，中国共产党开创了“农村包围城市的革命道路”。这一道路的开端是
 A. 中共一大召开
 B. 国民大革命的开展
 C. 南昌起义爆发
 D. 井冈山革命根据地的创建
17. 冼星海创作的《黄河大合唱》以黄河为背景，控诉了敌寇的入侵给黄河两岸人民造成的深重灾难，赞颂了中华民族不屈不挠、战胜艰难险阻的坚强意志和斗争精神。《黄河大合唱》创作于
 A. 五四运动时期
 B. 抗日战争时期
 C. 解放战争时期
 D. 抗美援朝时期
18. 下表呈现了新中国成立初期取得的工业建设成就。其作用是

- ◇ 长春第一汽车制造厂建成投产
- ◇ 第一座制造机床的沈阳第一机床厂建成投产
- ◇ 第一座大批量生产电子管的北京电子管厂建成投产
- ◇ 沈阳飞机制造厂成功试制了第一架喷气式飞机
- ◇ 1957年武汉长江大桥通车，从此铁路贯通中国南北
- ◇ 青藏、康藏、新藏公路先后建成通车

- A. 完成社会主义改造
 B. 实现国防和军队的现代化
 C. 初步奠定社会主义工业化基础
 D. 开辟中国特色社会主义道路
19. 右图是1978年小岗村18户村民签定的包干契约，这张契约现在已经成为国家级文物。它适用于研究
 A. 中共十一届三中全会后农村改革
 B. 中共十一届三中全会后对外开放
 C. 中共十一届三中全会后思想解放
 D. 中共十一届三中全会后法制建设
20. 下列对“一国两制”构想理解不恰当的是
 A. 邓小平首先提出
 B. “一个国家，两种制度”
 C. 针对澳门问题提出
 D. 成功应用于解决香港问题
21. 1689年，英国议会通过法案限制王权，保证议会立法、财政等权利，确立议会高于王权、司法独立于王权的原则。这项法案是
 A. 《权利法案》
 B. 《人权宣言》
 C. 《独立宣言》
 D. 《1787年宪法》

22. 右图所示三角贸易对欧洲的影响是



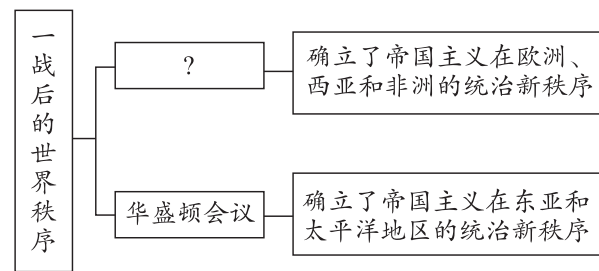
- A. 丧失了大量劳动力
 B. 开阔了人类的眼界
 C. 开始把世界联成一个整体
 D. 促进西欧资本主义发展
23. 工业革命不仅是一场技术革命，还是一场空前的社会革命。对“社会革命”理解正确的是
 A. 生产力飞速发展
 B. 工人生活全面改善
 C. 两大对立阶级形成
 D. 社会财富迅速增长
24. 《全球通史》写道：“它不是作为资产阶级革命开始于1789年，而是作为贵族革命开始于1787年。然后，它通过资产阶级阶段和群众性阶段而向左转，直到发生一个使拿破仑执掌政权的反应为止。”这场革命是
 A. 英国资产阶级革命
 B. 法国大革命
 C. 美国独立战争
 D. 美国内战
25. 17世纪以后，俄国为改变社会的落后状况进行了两次改革。_____开启了俄国现代化进程，加强了沙皇专制统治，强化了农奴制。横线处应该是
 A. 彼得一世改革
 B. 亚历山大二世改革
 C. 十月革命
 D. 农业集体化运动
26. 某班同学正在准备举办一场关于第一次世界大战的展览。以下照片符合展览主题的是



①塞尔维亚青年普林西普被逮捕
 ②被轰炸后的凡尔登满目疮痍
 ③日本代表在美国军舰上签署投降书
 ④华工在西线战场为协约国挖战壕

A. ①②③④
 B. ①②④
 C. ②③④
 D. ①②③

27. 制作知识结构图是学习历史的方法之一。右图中“?”处应补充的内容是



- A. 巴黎和会
 B. 《九国公约》
 C. 《联合国宣言》
 D. 雅尔塔会议
28. 20世纪50年代中期以后的20年间，日本经济保持高速发展，成为资本主义世界的工业化强国。其主要原因是
 A. 杜鲁门主义的影响
 B. 建立社会保障制度
 C. 接受马歇尔计划
 D. 接受大量军需订单



密封线内不要答题



29. 冷战结束后，美国试图建立“单极世界”，俄罗斯和欧洲在世界政治中发挥重要作用，日本谋求政治大国地位，中国综合国力不断上升。上述现象反映了
- A. 政治多极化趋势 B. 全球经济迅速发展
C. 殖民体系的崩溃 D. 欧洲的联合和发展
30. 2014年12月，一个国际科研小组发表报告指出，全球海洋表面漂浮着超过5万亿件塑料垃圾，总重量近27万吨，还不包括海岸线、海底、悬浮在海水中和被海洋动物吃掉的塑料垃圾。这表明人类社会在发展中面临的挑战是
- A. 人口问题 B. 环境恶化 C. 粮食问题 D. 海洋问题

第二部分 非选择题（共45分）

31. (12分) 实现中华民族的伟大复兴是中国人民的不懈追求。

材料一

①两次雅克萨之战，打败俄军。1689年签订第一个中俄边界条约《尼布楚条约》

②1662年，郑成功收复台湾。1684年清政府设置台湾府，隶属福建省

③先后平定准噶尔叛乱和大小和卓叛乱。设置伊犁将军，总理南北疆军政事务

④清初先后册封藏传佛教首领“达赖喇嘛”和“班禅额尔德尼”称号。1727年，雍正帝设置驻藏大臣

- (1) 依据材料一，概括清朝巩固国家统一的方式。(3分)

材料二 五四运动大事记（部分）

- ① 5月4日，3000多名大专学生在北京游行示威，32名学生被捕
- ② 5月5日，“北京中等以上学生联合会成立”，要求力争青岛问题，诛杀卖国贼曹汝霖、章宗祥、陆宗舆
- ③ 5月14日，政府命令军队镇压学生运动
- ④ 5月19日，北京学生总罢课，提出拒签和约、惩办卖国贼等六点要求
- ⑤ 6月1日，北京大规模逮捕1150名学生
- ⑥ 6月5日，上海开始罢市、罢工，支持学生活动
- ⑦ 6月6日，罢市、罢工波及其他城市
- ⑧ 6月8日，北京被捕学生走出监禁地
- ⑨ 6月10日，曹汝霖、章宗祥、陆宗舆获准辞职
- ⑩ 6月28日，出席巴黎和会的中国代表拒绝签署对德和约

- (2) 依据材料二，将五四运动大事记进行阶段划分，(2分)并说明分段理由。(1分)

材料三 “中华民族抗战”关键词简表

华侨抗日救亡团体成立	抗日民族统一战线形成	敌后抗日根据地开辟
各界救国联合会成立	台儿庄战役	平型关战役

- (3) 依据上述关键词，简述中华民族是如何进行抗战的。(3分)

材料四 开国大典场景



- (4) 请结合相关史实，为开国大典撰写解说词。(3分)

要求：史实准确，逻辑清晰，表述简练。

32. (13分) 教育·改革·发展

材料一 汉武帝时期，国家经济发展、政治安定统一，具备了创办学校的条件。汉武帝采纳了董仲舒的建议，兴建太学，培养人才，并以此教化天下、提高吏治水平。此后，一般官员及平民子弟入仕的主要途径就是入读太学，逐渐形成“学而优则仕”的风气。太学学习的主要内容就是儒家的五经，所谓“通经”是为了“致用”，当时实行养士与选才相结合的管理措施，将学生的考试成绩直接与仕途挂钩，定期举行考试，随时选拔优秀人才。

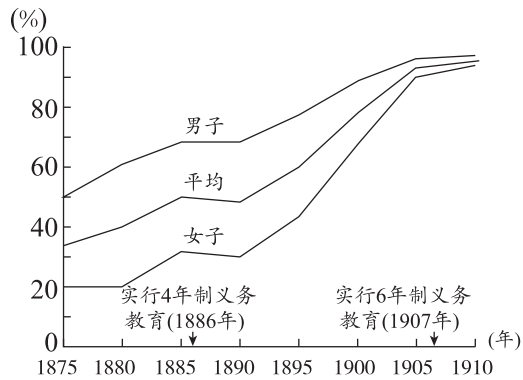
- (1) 依据材料一，对以下表述做出判断：直接从材料得出的，在括号内划“√”；违背材料所表达意思的，在括号内划“×”；材料没有涉及的，在括号内划“○”。(4分)
- ① 太学的兴办带动了民间积极向学的风气。 ()
 - ② 太学为封建统治者培养了大批具有儒家思想和修养的人才。 ()
 - ③ 西汉初年诸子百家学说在社会上流行。 ()
 - ④ 汉代教育的发展与国力的强盛没有任何关系。 ()



材料二 洋务运动期间，新式的语言和技术学校不断出现，但新式的学校管理体制却并未建立。随着西方教育理念的不断传入，有识之士开始仿效西方教育体制，百日维新期间颁布了一系列教育改革方案，如筹办京师大学堂；改造旧书院，建立包括大、中、小学及各类专业学堂的教育体系。随着新式学堂的发展，科举制成了教育改革的障碍，一些官吏开始联名上书奏请立停科举，光绪帝于1905年废除科举制度。

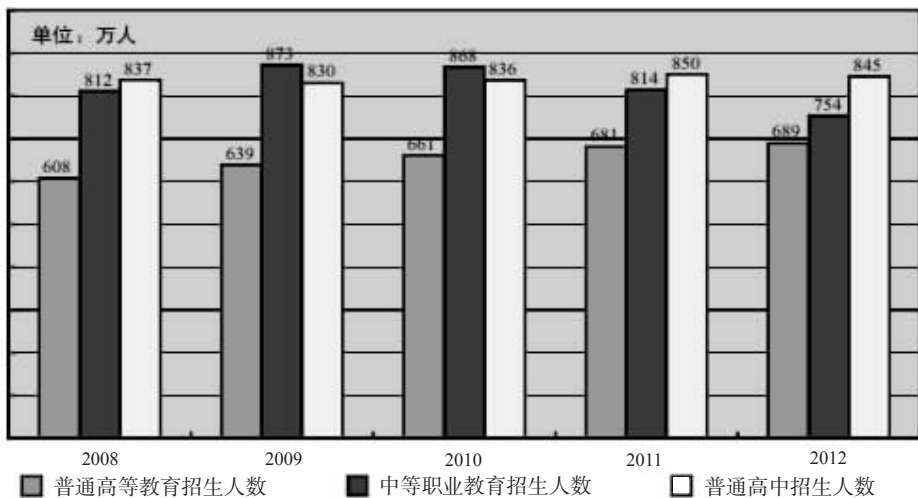
(2) 根据材料二，说出中国近代教育改革的历程，(3分) 并归纳这一历程呈现出的特点。(1分)

材料三 文部省“学制百年史”



(3) 观察材料三的折线图，指出1875至1910年日本教育的变化。(2分) 这一变化与哪一历史事件直接相关。(1分)

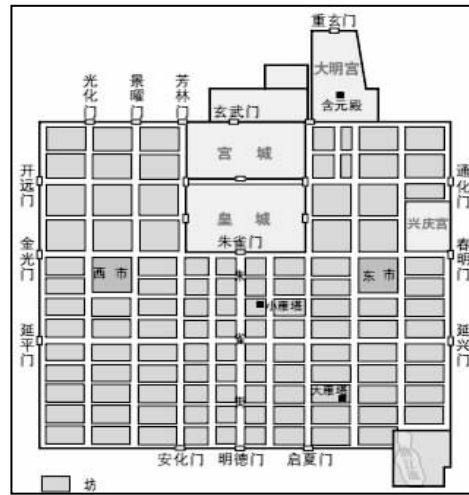
材料四 2012年，中国小学的净入学率为99.9%，初中阶段的毛入学率为98.3%，基本普及了九年义务教育。



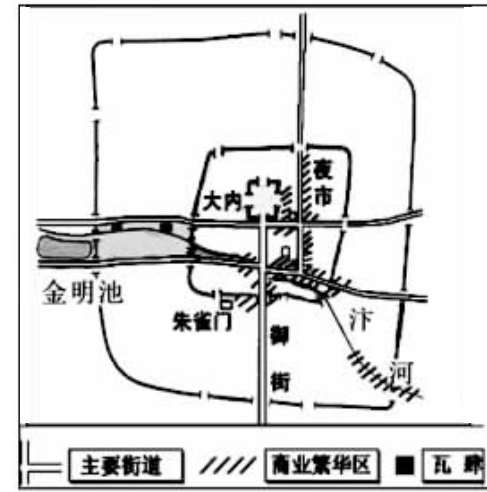
(4) 依据材料四，概括新中国教育取得的成就。(2分)

33. (10分) 古今中外城市的发展与时代密切相关。

材料一



唐朝长安城示意图



北宋东京城示意图

(1) 对比材料一中的两幅地图，东京城发生了哪些变化?(3分)

材料二 整个19世纪，英国超过10万人的城市由2座增至46座，城市人口约占总人口的20%。同一时期，欧洲超过10万人的城市从23座增至135座，城市人口由550万增至4600万，占欧洲总人口的10%。

(2) 依据材料二，指出19世纪英国和欧洲城市的变化。(2分) 结合所学，分析导致这种变化的相关因素。(2分)

材料三 1984年，邓小平视察深圳、珠海两个经济特区后，在北京的一次谈话中说：“特区是个窗口，是技术的窗口、管理的窗口、知识的窗口，也是对外政策的窗口。”

(3) 结合所学，你如何理解材料三中邓小平对特区的评价?(3分)



34. (10分) 北京有众多的历史遗迹, 某历史社团分成“古代组”和“近代组”开展考察活动。

【行前准备】

材料一 了解历史遗迹



①北京大学红楼 ②北京国子监 ③北京孔庙 ④鲁迅故居

(1) 从上述历史遗迹中为两个小组选择合适的考察地点, 将序号填写在横线上。(2分)


材料二 考察之前搜集的资料

组别	研究主题	搜集的资料
古代组	?	① 东周时期, 孔子提出“仁”的思想 ② 西汉时期, “罢黜百家, 独尊儒术” ③ 隋朝时期, 儒家经典是重要考试内容 ④ 明清时期, 尊孔崇儒, 考试题目来自“四书”“五经”
近代组	?	① 1916年, 蔡元培出任北京大学校长, 提出“兼容并包”“思想自由”的办学原则 ② 1917年, 胡适发表《文学改良刍议》, 主张以白话文作为新文学的语言 ③ 1918年, 鲁迅在《新青年》上发表第一篇白话小说《狂人日记》, 揭露了封建礼教的吃人本质

(2) 依据两个小组搜集的资料, 指出两个小组本次活动的研究主题。(2分)

【实地考察】

材料二 古代组考察记录



北京孔庙大成殿

北京孔庙是元、明、清三代祭祀孔子的地方。其主体建筑大成殿, 黄色琉璃瓦覆顶、金砖铺地, 采用中国封建社会最高建筑等级, 可与故宫太和殿媲美。孔庙西侧就是国家最高学府, 自汉武帝以来, 儒学就成为学校教育的必修内容, 孔庙与学校合建在一起成为一大特色。

(3) 依据考察记录, 概括北京孔庙的建筑特色。(2分)

材料三 近代组考察记录



红楼内陈独秀展览陈列

近代欧洲之所以优越他族者, 科学之兴, 其功不在人权说下, 若舟车之有轮焉……国人而欲脱蒙昧时代, 羞为浅化之民也, 则急起直追, 当以科学与人权并重。

(4) 依据考察记录, 推断陈独秀主张的影响。(2分)

【成果汇报】

(5) 考察结束后, 历史社团举办成果汇报。两个小组为上述四个历史遗迹设计纪念邮票, 请你任选一项完成, 并对设计进行简要说明。(2分)

设计要求: 主题突出、图文结合。