

# 2022 北京朝阳初二（下）期末 历史（选用）



2022.7

考生须知

1. 本试卷共 8 页。满分 100 分，考试时间 60 分钟。
2. 在试卷和答题卡上准确填写学校名称、班级、姓名和考号。
3. 试题答案一律填涂或书写在答题卡上，在试卷上作答无效。
4. 在答题卡上，选择题用 2B 铅笔作答，其他试题用黑色字迹签字笔作答。
5. 考试结束，请将本试卷和答题卡一并交回。

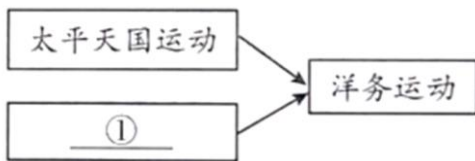
## 第一部分 选择题

本部分共 25 小题，每小题 2 分，共 50 分。在每小题列出的四个选项中，选出最符合题目要求的一项。

1. 该条约破坏了中国领土、关税、司法等主权，列强开始用条约形式劫掠中国，从此列强打开了中国的门户。该条约是（ ）

- A. 《南京条约》      B. 《北京条约》      C. 《马关条约》      D. 《辛丑条约》

2. 下图中①处应填（ ）



- A. 虎门销烟      B. 第二次鸦片战争      C. 甲午中日战争      D. 义和团运动

3. 有革命者说，孙中山是“近今谈革命者之初祖，实行革命者之北辰”。下列史实能说明这一观点的是，孙中山（ ）

- ①发动“公车上书”      ②提出“三民主义”  
③成立中国同盟会      ④发动广州“黄花岗起义”

- A. ①②③      B. ②③④      C. ①②④      D. ①③④

4. 他帮助北京《良报》副刊开辟了《马克思主义研究》专栏，编辑《新青年》时将其第六卷第五号编为马克思主义研究专号。材料中的“他”是（ ）

- A. 李鸿章      B. 康有为      C. 蔡元培      D. 李大钊

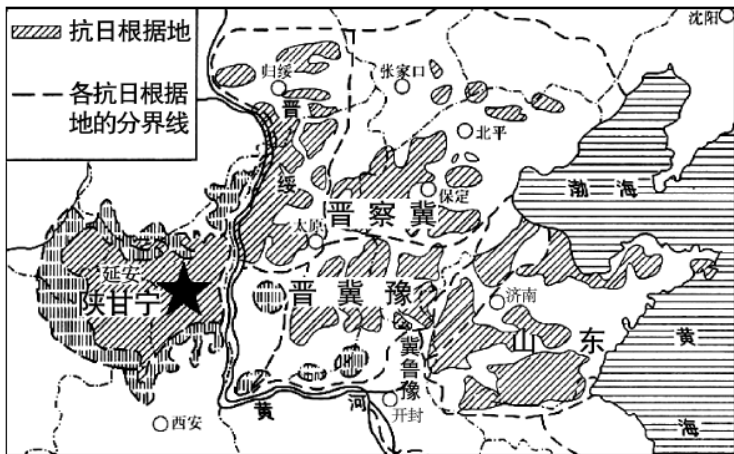
5. 一位同学通过梳理教材进行主题学习，找到了国民党一大、黄埔军校、北伐战争、抗日民族统一战线正式建立等史实。他学习的主题应是（ ）

- A. 民族危机的加剧      B. 新民主主义革命开始  
C. 国共两党的合作      D. 人民解放战争的胜利

6. 刘伯承在《回顾长征》中写道：这次会议之后，我军一反以前的情况，好像忽然获得了新的生命，处处主动，左右敌人。这次会议是（ ）

- A. 八七会议      B. 古田会议      C. 遵义会议      D. 中共七大

7. 以下战役地点位于下侧地图范围的是



北京中考在线  
微信号: BJ\_zkao

- A. 淞沪会战                      B. 百团大战                      C. 第三次长沙会战                      D. 中国远征军入缅作战

8. 下面是一位同学分类梳理 近代历史人物，其中①处可填（ ）

一、孙中山 章炳麟 黄兴  
二、杨靖宇 张自忠 左权  
三、齐白石 ① 聂耳

北京中考在线  
微信号: BJ\_zkao

- A. 曾国藩                      B. 梁启超                      C. 张部                      D. 徐悲鸿

9. 1949年9月28日《人民日报》刊登新闻：会议通过下列重要议案（部分）。该会议是（ ）

(三)全体一致通过中华人民共和国的国都定于北平,自即日起改名北平为北京;  
(四)全体一致通过中华人民共和国的纪年采用公元,今年为一九四九年;  
(五)通过在中华人民共和国的国歌未正式制定前,以义勇军进行曲为国歌;  
(六)通过中华人民共和国的国旗为五星红旗,象征中国革命人民大团结。

北京中考在线  
微信号: BJ\_zkao

- A. 中国人民政治协商会议第一届全体会议                      B. 第一届全国人民代表大会  
C. 中共八大                      D. 中共十一届三中全会

10. 在新中国成立前，武汉市喻桥乡贫农陈有汉家里的土地很少，没有耕牛、农具，每年只收 350 千克谷。1953 年，他家有田地 15 亩多，农具齐全，收谷 1600 千克。这种变化的主要原因是（ ）

- A. 粮食产量的提高                      B. 农业机械在全国普遍使用  
C. 土地改革的完成                      D. 我国社会主义改造的完成

11. 下面是 1951 年我国的宣传画《蔑视美国》。它创作的历史背景是（ ）



- A. 抗日战争胜利                      B. 政协会议召开  
C. 西藏和平解放                      D. 抗美援朝战争



12. 下表是 1953-1957 年我国国民经济各部门建设投资分配情况。由此可知当时我国 ( )

项目	工业	农林水利	运输邮电	文教卫生	城市建设	其他
比重%	58.2	7.6	19.2	7.2	3.7	4.1

- A. 经济建设的重点是工业  
 B. 民主政治建设正在加紧进行  
 C. 社会主义制度初步建立  
 D. 经济建设在探索中曲折前进

13. 1956 年, 社会主义公有制经济已成为国家主体经济成分, 社会主义基本制度已在中国建立。这标志着 ( )

- A. 新民主主义革命取得了初步胜利  
 B. 中国真正成为独立自主的国家, 中国人从此站起来了  
 C. 我国从此进入社会主义初级阶段  
 D. 我国开启了改革开放和社会主义现代化建设新时期

14. 下面材料反映出我国实行的是

中华人民共和国各民族一律平等.....各少数民族聚居的地方实行区域自治, 设立自治机关, 行使自治权。各民族自治地方都是中华人民共和国不可分离的部分。

——《中华人民共和国宪法》

- A. 生产资料的社会主义公有制  
 B. 人民代表大会制度  
 C. 中国共产党领导的多党合作和政治协商制度  
 D. 民族区域自治制度

15. 1958 年有人提出: “地的产量是由人的胆量决定的, 人有多大胆, 地有多大产。”这反映出当时存在着忽视客观经济规律的问题。与此直接相关的是 ( )

- A. 解放区土地改革  
 B. 三大改造  
 C. 第一个五年计划  
 D. “大跃进”

16. 兰考县委书记焦裕禄深入开展调研工作, 得知自己患癌症后仍顽强坚持工作。王进喜和钻井队员用人拉肩扛的办法安装钻机, 当井喷发生时, 用身体搅拌泥浆制服井喷。他们身上体现的时代精神是 ( )

- A. 救亡图存, 勇于斗争  
 B. 精益求精, 追求卓越  
 C. 开拓进取, 改革创新  
 D. 艰苦奋斗, 无私奉献


17. 一位学者说: 1980 年中国打开了第一扇窗, 开启了融入世界的进程, 最鲜明的特点是从沿海到沿江、沿边, 从东部到中西部, 大门毅然决然地打开了。材料描述的是我国 ( )

- A. 农村生产力的解放  
 B. 全方位对外开放格局的形成  
 C. 城市改革全面展开  
 D. 社会主义市场经济体制建立

18. 1978 年, 安徽省凤阳县小岗村 18 户农民立下了一份将田地包干到户 契约。随后, 全国范围内就此开展了一场大讨论, 最后认为这种做法是一条“阳光路”。这条“阳光路”是 ( )

- A. 农业合作化运动  
 B. 实行家庭联产承包责任制  
 C. 建立经济特区  
 D. 建立社会主义市场经济体制

19. 下面是某单元中各课课题。这一单元是



- 第 7 课伟大的历史转折
- 第 8 课经济体制改革
- 第 9 课对外开放
- 第 10 课建设中国特色社会主义
- 第 11 课为实现中国梦而努力奋斗

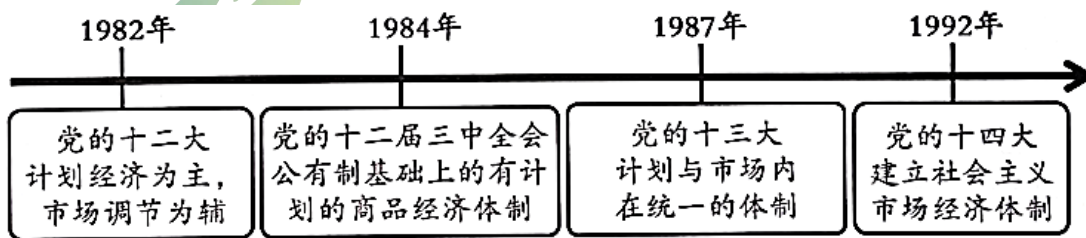
- A. 中华人民共和国的成立和巩固
- B. 社会主义制度的建立与社会主义建设的探索
- C. 中国特色社会主义道路
- D. 民族团结与祖国统一

20. 位于朝阳区化工路的北京焦化厂建成于 1958 年，曾经是首都主要能源供给基地。随着产业结构调整，该厂 2006 年停产，未来将成为北京东部工业遗址文化园区。以下适合研究这段历史的材料是（ ）

- ①关于开始公私合营的新闻报道
- ②保留的原厂房和炼焦炉
- ③关于北京焦化厂停产转型的文件
- ④电视剧《钢铁年代》

- A. ①②
- B. ②③
- C. ③④
- D. ①④

21. 以下示意图反映的是（ ）



- A. 工业生产技术水平提高
- B. 我国经济体制改革不断深化
- C. 对外开放范围逐渐扩大
- D. 农村乡镇企业的出现与发展

22. 1999 年澳门的经济总量为 518.7 亿澳门元，到 2018 年达到 4447 亿澳门元。这反映出（ ）


- A. “一国两制”伟大构想的成功实践
- B. 企业生产经营自主权扩大
- C. 国外先进技术和经验的引进
- D. 和平共处五项原则的提出

23. 以下一组图片反映出（ ）



20 世纪 50 年代仿制高亚音速战斗机歼 5 并装备空军    20 世纪 80 年代自主研发超音速战斗机歼 8 并装备空军    21 世纪初新型隐形战斗机歼 20 试飞成功并装备空军

- A. 国防建设快速发展
- B. 航天科技进步明显
- C. 高新技术领先世界
- D. 军队组织架构重塑



24. 某班同学在线上分组学习新中国科技成就，第三组应了解的史实是（ ）

主题	第一组:漫步太空	第二组:粮食安全	第三组:人类健康
史实	神舟五号载人飞船升入太空	袁隆平培育出籼型杂交水稻	

- A. 我国第一颗原子弹爆炸成功
- B. 东方红一号人造地球卫星发射成功
- C. 屠呦呦领导科研团队发现了青蒿素
- D. 举办“一带一路”国际合作高峰论坛

25. 下面表格内容反映了（ ）

年份	人均可支配收入(元)	私人汽车数量(万辆)
1984年	424	28.49
1996年	2814	289.67
2008年	9957	3501.39
2020年	32189	24394

- A. 人民生活水平提高
- B. 文化事业成果丰富
- C. 交通出行方式多样
- D. 居住环境明显改善

第二部分 材料分析题

26. 中国近现代电力工业与通讯的发展。

材料一 19世纪70年代初，英国等国在中国架设了海底电报线。1881年，李鸿章修建了从天津到上海的有线电报，主要用于军务和政务，后来也办理民用业务。到20世纪初，大多数城市已开办民用电报，1922年发报250万件。1899年广州部分要塞架设无线电台，其后北京、武昌、广州等地成立无线电报局，收发官报和商报。

——摘编自朱汉国等《中华民国史》

(1) 依据材料一并结合所学，说出中国近代通讯发展的背景。分析近代通讯发展的作用。


材料二 1890年，中国第一家民族资本电厂建成。此后各地共开办了40多家，但因资金不足，缺乏技术人才等原因，大多亏损，到1911年只有18家开工。当时，大型发电机几乎全部依赖进口，价格很高，且订购后超过两年才能交货。有些地方政府还强行将民营电厂收归己有。到1936年，民族资本电厂在全国发电容量中的占比由45.5%下降到35%。

——摘编自朱汉国等《中华民国史》

(2) 依据材料二，概括中国民族资本电厂的发展状况。分析造成这种状况的原因。

材料三 1949-2020年中国电力工业发展情况（部分）

项目	1949年	1978年	2012年	2020年
人均用电量(单位:千瓦时)	8	267	3683	5365



火电发电量(煤、天然气等)(单位:亿千瓦时)	36	9267	38928	51770
核能发电量(单位:亿千瓦时)			983	3662
可再生能源发电量(水力、风力、太阳能等)(单位:亿千瓦时)		1989	9792	22154

——整理自白玫《百年中国电力工业发展：回顾、经验与展望》

(3) 依据材料三，说出中国电力工业的发展趋势。结合所学，分析出现这些趋势的原因。

## 27. 新中国外交的光辉历程。

材料一 第五十四条 中华人民共和国外交政策的原则，为保障本国独立、自由和领土主权的完整，拥护国际的持久和平和各国人民间的友好合作，反对帝国主义的侵略政策和战争政策。

……

第五十六条 凡与国民党反动派断绝关系、并对中华人民共和国采取友好态度的外国政府，中华人民共和国中央人民政府可在平等、互利及互相尊重领土主权的基础上，与之谈判，建立外交关系。

——《中国人民政治协商会议共同纲领》

(1) 依据材料一，概括新中国建立初期的外交政策。

材料二 20 世纪 50-70 年代中国外交大事记（部分）

序号	事件
①	1954 年,周恩来访问印度,受到印度总理尼赫鲁的热烈欢迎+装出
②	1955 年,中国参加万隆会议,这是第一次没有西方殖民主义国家参加的亚非会议
③	1961 年,第 16 届联大总务委员会通过了讨论中国在联合国席位问题的议题
④	1964 年,中日两国签订互设办事处和互相派驻记者的协定
⑤	1971 年,第 26 届联合国大会通过决议,恢复中华人民共和国在联合国的一切合法权利
⑥	1972 年,美国总统尼克松访问中国
⑦	1972 年,日本首相田中角荣访华,两国政府首脑签署了中日两国政府联合声明
⑧	1979 年,邓小平副总理访问美国

(2) 仿照示例，在材料二中选取两件史事并概括属于新中国外交成就的一个主题。

示例 史事：④⑦；主题：中日两国关系正常化

材料三 中国特色大国外交全面推进

★2012 年以来，中国举办了二十国集团峰会、金砖国家领导人会晤、亚太经合组织领导人非正式会议等国际会议。

★2013 至 2017 年间，国家主席习近平与美国总统在双边和多边场合会晤 12 次。

★中国在 2015 至 2019 年间向拉美和加勒比国家共同体成员国提供 6000 个政府奖学金名额、6000 个赴华培训名额及 400 个在职硕士名额。





★2016年，中国对欧洲投资流量为99.9亿美元，同比增长82.4%，截至2017年，欧盟对华直接投资项目44638个。



(3) 依据材料三并结合所学，指出中国特色大国外交布局。说明中国外交活动的影响。

28. 北京的历史遗存见证了近现代中国社会的变迁。

材料一

①	②	③
		
故宫养心殿 宣统皇帝在此下诏退位	东交民巷西口 1919年5月4日 学生游行所经地点	箭杆胡同20号(今) (《新青年》编辑部旧址)

(1) 依据材料一并结合所学，任选两幅图片(写序号)，分别指出其反映的史实，并说明两件史实之间的联系。

①	②	③	④
			
北京师范大学旧址 一二·九运动爆发地之一	丰台区卢沟桥和宛平城	门头沟区马栏村八路军冀热察挺进军司令部旧址	顺义区焦庄户村地道战遗址

(2) 依据材料二并结合所学，说出与图②相关的历史事件。结合史实，说明中国共产党在全民族团结抗战中发挥的作用

材料三 1957年，石景山钢铁厂(首都钢铁公司前身)提前1年4个月完成计划规定的任务，有8项技术经济指标达到国内先进水平。1979年首钢率先实行承包制，创造了利润连续10年递增20%的奇迹，首钢一家企业的利税额度曾占全北京市的1/4。

进入21世纪后，首钢从石景山迁出。按照新的规划，首钢成为了可持续发展的城市综合功能区及和谐生态示范区等，“北京市新首钢城市更新改造项目”获中国人居环境奖。昔日的厂房变身为北京冬奥组委办公地，首钢滑雪大跳台实现了竞赛场馆与工业遗产再利用、城市更新的完整结合。



(3) 依据材料三，分别说出 1957 年和 1979 年首钢发展的背景。概括进入新世纪新首钢发展的特点。





# 参考答案

## 第一部分 选择题

本部分共 25 小题，每小题 2 分，共 50 分。在每小题列出的四个选项中，选出最符合题目要求的一项。

1. 该条约破坏了中国领土、关税、司法等主权，列强开始用条约形式劫掠中国，从此列强打开了中国的门户。该条约是（ ）

- A. 《南京条约》                  B. 《北京条约》                  C. 《马关条约》                  D. 《辛丑条约》

【答案】A

【解析】

【详解】根据“该条约破坏了中国领土、关税、司法等主权，列强开始用条约形式劫掠中国，从此列强打开了中国的门户”结合所学知识可知，材料反映的是《南京条约》，1840 年英国对华发动鸦片战争，1842 年签订《南京条约》，1840-1842 年，英国发动鸦片战争。中国战败，1842 年中国被迫在南京签订中英《南京条约》。《南京条约》规定：割香港岛给英国，赔款 2100 万银元，开放广州、厦门、福州、宁波、上海五处为通商口岸。英商进出口货物应纳税，必须经过双方协议。《南京条约》的签订使中国开始沦为半殖民地半封建社会，鸦片战争是中国近代史的开端，A 项正确；BCD 项条约都是在“列强打开了中国的门户”后签订，排除 BCD 项。故选 A 项。

2. 下图中①处应填（ ）



- A. 虎门销烟                  B. 第二次鸦片战争                  C. 甲午中日战争                  D. 义和团运动

【答案】B

【解析】

【详解】根据图示结合所学知识可知，面对内忧外患的情况，地主阶级洋务派在 19 世纪 60-90 年代掀起洋务运动，其中内忧是太平天国运动，外患是西方列强发动的第二次鸦片战争，B 项正确；虎门销烟与洋务运动的爆发没有直接关系，排除 A 项；甲午中日战争爆发之前洋务运动已经开始，排除 C 项；义和团运动发生在洋务运动破产后，排除 D 项。故选 B 项。

3. 有革命者说，孙中山是“近今谈革命者之初祖，实行革命者之北辰”。下列史实能说明这一观点的是，孙中山（ ）

- ①发动“公车上书”                  ②提出“三民主义”  
③成立中国同盟会                  ④发动广州“黄花岗起义”

- A. ①②③                  B. ②③④                  C. ①②④                  D. ①③④

【答案】B

【解析】

【详解】依据题干和所学知识，孙中山是近代民主革命的先行者，他于 1905 年创立资产阶级革命政党中国同盟会，并将同盟会的纲领阐发为民族、民权、民生三大主义，即三民主义，1911 年孙中山又策划发动广州“黄花岗起



义”，②③④正确；1895年，康有为、梁启超等资产阶级维新派发动“公车上书”，①错误。B项正确，排除ACD项。故选B项。

4. 他帮助北京《良报》副刊开辟了《马克思主义研究》专栏，编辑《新青年》时将其第六卷第五号编为马克思主义研究专号。材料中的“他”是（ ）

- A. 李鸿章                      B. 康有为                      C. 蔡元培                      D. 李大钊

【答案】D

【解析】

【详解】根据材料并结合所学知识可知，在中国早期的马克思主义思想运动中，李大钊起着主要作用。1919年，他将《新青年》第六卷第五号编为“马克思主义研究”专号，帮助北京《晨报》副刊开辟了“马克思研究”专栏。1919年，《新青年》出版“马克思主义研究专号”，刊载了李大钊的文章《我的马克思主义观》，对马克思主义作了较为系统的介绍，D项正确；李鸿章并未宣传马克思主义，排除A项；康有为领导了百日维新，排除B项；帮助北京《良报》副刊开辟了《马克思主义研究》专栏与蔡元培无关，排除C项。故选D项。

5. 一位同学通过梳理教材进行主题学习，找到了国民党一大、黄埔军校、北伐战争、抗日民族统一战线正式建立等史实。他学习的主题应是（ ）

- A. 民族危机的加剧                      B. 新民主主义革命开始  
C. 国共两党的合作                      D. 人民解放战争的胜利

【答案】C

【解析】

【详解】根据“国民党一大、黄埔军校、北伐战争、抗日民族统一战线正式建立”可知，题干反映的是国共两次合作，C项正确；国民党一大的召开没有体现民族危机的加剧，排除A项；1919年爆发的五四运动是新民主主义革命开始的标志，排除B项；人民解放战争的胜利在题干中没有涉及，排除D项。故选C项。

6. 刘伯承在《回顾长征》中写道：这次会议之后，我军一反以前的情况，好像忽然获得了新的生命，处处主动，左右敌人。这次会议是（ ）

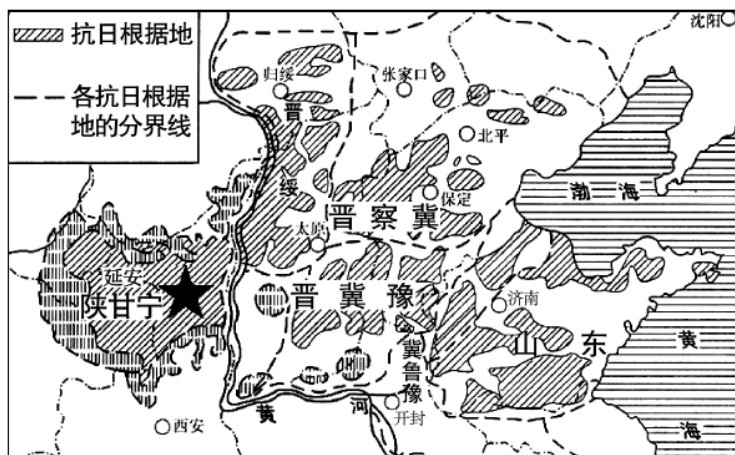
- A. 八七会议                      B. 古田会议                      C. 遵义会议                      D. 中共七大

【答案】C

【解析】

【详解】根据材料“《回顾长征》、好像忽然获得了新的生命，处处主动，左右敌人”可知，是发生于红军长征期间的史实。红军长征是1934年10月到1936年10月，1935年1月召开的遵义会议，会议开始确立以毛泽东为主要代表的马克思主义正确路线在中共中央的领导地位，在极其危急的情况下，挽救了党，挽救了红军，挽救了中国革命，是中国共产党历史上一个生死攸关的转折点。这次会议是中国共产党从幼年走向成熟的标志，C项正确；八七会议是1927年8月7日在汉口召开的紧急会议，排除A项；古田会议是1929年12月28日至29日，在福建省上杭县古田村召开的第九次党的代表大会，排除B项；中共七大是1945年抗日战争即将结束之时召开的，排除D项。故选C项。

7. 以下战役地点位于下侧地图范围的是



- A. 淞沪会战                      B. 百团大战                      C. 第三次长沙会战                      D. 中国远征军入缅作战

【答案】B

【解析】

【详解】根据题干图片，“抗日根据地”可知是抗日战争时期，中国共产党在敌后战场开辟抗日根据地；“晋察冀”“晋冀豫”可知是中国共产党领导百团大战，B项正确；沪会战、第三次长沙会战、中国远征军入缅作战都是国民党正面战场的战役，排除ACD项。故选B项。

8. 下面是一位同学分类梳理的近代历史人物，其中①处可填（ ）

- 一、孙中山 章炳麟 黄兴  
二、杨靖宇 张自忠 左权  
三、齐白石 ① 聂耳

- A. 曾国藩                      B. 梁启超                      C. 张部                      D. 徐悲鸿

【答案】D

【解析】

【详解】“齐白石、聂耳”结合所学知识可知，齐白石是近代著名画家，聂耳是著名音乐家，属于文艺方面的人物，徐悲鸿是著名画家，D项正确；曾国藩是洋务运动的代表人物，排除A项；梁启超是戊戌变法的代表人物，排除B项；张部不是文艺方面的代表人物，排除C项。故选D项。

9. 1949年9月28日《人民日报》刊登新闻：会议通过下列重要议案（部分）。该会议是（ ）

- (三)全体一致通过中华人民共和国的都定于北平,自即日起改名北平为北京;  
(四)全体一致通过中华人民共和国的纪年采用公元,今年为一九四九年;  
(五)通过在中华人民共和国的国歌未正式制定前,以义勇军进行曲为国歌;  
(六)通过中华人民共和国的国旗为五星红旗,象征中国革命人民大团结。

- A. 中国人民政治协商会议第一届全体会议                      B. 第一届全国人民代表大会  
C. 中共八大                      D. 中共十一届三中全会

【答案】A



【解析】

【详解】依据题干时间“1949年9月”及会议内容等信息可知，这次会议是中国人民政治协商会议第一届全体会议。1949年9月，中国人民政治协商会议第一届全体会议在北平召开，主题是筹建新中国，会议确立了中华人民共和国的国都、代国歌、国旗，并决定采用公元纪年法等，A项正确；1954年第一届全国人民代表大会在北京召开，通过了《中华人民共和国宪法》，排除B项；1956年中共八大召开，是探索社会主义的良好开端，排除C项；1978年中共十一届三中全会在北京召开，开启了改革开放的新时期，排除D项。故选A项。

10. 在新中国成立前，武汉市喻桥乡贫农陈有汉家里的土地很少，没有耕牛、农具，每年只收350千克谷。1953年， he 家有田地15亩多，农具齐全，收谷1600千克。这种变化的主要原因是（ ）
- A. 粮食产量的提高
  - B. 农业机械在全国普遍使用
  - C. 土地改革完成
  - D. 我国社会主义改造的完成

【答案】C

【解析】

【详解】据材料“……土地很少…… he 家有田地15亩多，农具齐全……”可知，材料反映的是土地改革后农民的变化，其主要原因是土地改革彻底废除了在我国延续了两千多年的封建土地制度，消灭了地主阶级；农民成为土地的主人，获得了土地所有权，C项正确；粮食产量的提高不是出现材料现象的主要原因，排除A项；当时农业机械没有在全国普遍使用，排除B项；1956年我国社会主义改造的完成，排除D项。故选C项。

11. 下面是1951年我国的宣传画《蔑视美国》。它创作的历史背景是（ ）



- A. 抗日战争胜利
- B. 政协会议召开
- C. 西藏和平解放
- D. 抗美援朝战争

【答案】D

【解析】

【详解】根据“蔑视美国”“1951年”结合所学知识可知，它创作的历史背景是抗美援朝战争，1950年抗美援朝战争爆发，D项正确；1945年抗日战争胜利，排除A项；政协会议召开是在1949年，排除B项；1951年西藏和平解放，与“蔑视美国”无关，排除C项。故选D项。

12. 下表是1953-1957年我国国民经济各部门建设投资分配情况。由此可知当时我国（ ）

项目	工业	农林水利	运输邮电	文教卫生	城市建设	其他
比重%	58.2	7.6	19.2	7.2	3.7	4.1

- A. 经济建设的重点是工业
- B. 民主政治建设正在加紧进行
- C. 社会主义制度初步建立
- D. 经济建设在探索中曲折前进

【答案】A



**【解析】**

**【详解】**根据题意“1953-1957年我国国民经济各部门建设投资分配”的投资比例来看，工业所占的比例最大，由此可知我国当时经济建设的重点是工业，A项正确；表格内容没有涉及民主政治建设，排除B项；表格内容没有体现社会主义制度初步建立，排除C项；表格内容没有体现经济建设在探索中曲折前进，排除D项。故选A项。

13. 1956年，社会主义公有制经济已成为国家主体经济成分，社会主义基本制度已在中国建立。这标志着（ ）

- A. 新民主主义革命取得了初步胜利
- B. 中国真正成为独立自主的国家，中国人从此站起来了
- C. 我国从此进入社会主义初级阶段
- D. 我国开启了改革开放和社会主义现代化建设新时期

**【答案】**C

**【解析】**

**【详解】**依据题干和所学，1956年底三大改造基本完成，实现了生产资料私有制向社会主义公有制的变革，社会主义公有制经济已成为国家主体经济成分，这标志社会主义基本制度已在中国建立，也标志着中国从此进入社会主义初级阶段，C项正确；三大改造属于社会主义革命性质，排除A项；1949年新中国成立，结束了半殖民地半封建社会的屈辱历史，实现了国家独立自主，中国人民从此站起来了，排除B项；1978年十一届三中全会开启了改革开放和社会主义现代化建设新时期，排除D项。故选C项。

14. 下面材料反映出我国实行的是

中华人民共和国各民族一律平等……各少数民族聚居的地方实行区域自治，设立自治机关，行使自治权。各民族自治地方都是中华人民共和国不可分离的部分。

——《中华人民共和国宪法》

- A. 生产资料的社会主义公有制
- B. 人民代表大会制度
- C. 中国共产党领导的多党合作和政治协商制度
- D. 民族区域自治制度

**【答案】**D

**【解析】**

**【详解】**根据材料“各少数民族聚居的地方实行区域自治，设立自治机关，行使自治权”可知，材料反映的是民族区域自治制度，D项正确；材料没有涉及生产资料的社会主义公有制，排除A项；我国的根本政治制度是人民代表大会制度，材料没有涉及，排除B项；中国共产党领导的多党合作和政治协商制度在材料没有涉及，排除C项。故选D项。

15. 1958年有人提出：“地的产量是由人的胆量决定的，人有多大胆，地有多大产。”这反映出当时存在着忽视客观经济规律的问题。与此直接相关的是（ ）

- A. 解放区土地改革
- B. 三大改造
- C. 第一个五年计划
- D. “大跃进”

**【答案】**D

**【解析】**



【详解】根据“地的产量是由人的胆量决定的，人有多大胆，地有多大产。”结合所学知识可知，材料反映的是“大跃进”时期的浮夸风，D项正确；解放区土地改革是在1947年开始进行，排除A项；三大改造发生在1953-1956年，排除B项；第一个五年计划发生在1953-1957年，排除C项。故选D项。

16. 兰考县委书记焦裕禄深入开展调研工作，得知自己患癌症后仍顽强坚持工作。王进喜和钻井队员用人拉肩扛的办法安装钻机，当井喷发生时，用身体搅拌泥浆制服井喷。他们身上体现的时代精神是（ ）

- A. 救亡图存，勇于斗争
- B. 精益求精，追求卓越
- C. 开拓进取，改革创新
- D. 艰苦奋斗，无私奉献

【答案】D

【解析】

【详解】探索建设社会主义时期涌现出的模范人物主要有“两弹元勋”邓稼先，“铁人”王进喜，“党的好干部”焦裕禄，全心全意为人民服务的楷模雷锋等，他们身上都具有艰苦创业和全心全意为人民服务的精神。在我国社会主义建设过程中，涌现出王进喜，焦裕禄，邓稼先等许多英雄模范人物。他们身上共同体现出的时代精神是艰苦创业、无私奉献精神，D项正确；材料没有体现救亡图存，勇于斗争，排除A项；材料没有体现精益求精，追求卓越，排除B项；“兰考县委书记焦裕禄深入开展调研工作”没有体现改革创新，排除C项。故选D项。

17. 一位学者说：1980年中国打开了第一扇窗，开启了融入世界的进程，最鲜明的特点是从沿海到沿江、沿边，从东部到中西部，大门毅然决然地打开了。材料描述的是我国（ ）

- A. 农村生产力的解放
- B. 全方位对外开放格局的形成
- C. 城市改革全面展开
- D. 社会主义市场经济体制建立

【答案】B

【解析】

【详解】根据所学知识可知，1980年我国设立了四个经济特区，打开了对外开放的大门。而后逐渐发展为沿海经济开放城市、沿海经济开放区，最后纵深发展到沿边、沿江、省会城市等。材料体现了我国全方位对外开放格局的形成。B项正确；材料体现的是对外开放历程而非农村或城市经济体制改革。排除AC项；1992年，中国共产党第十四次全国代表大会明确提出要建立社会主义市场经济体制。与题不符。排除D项。故选B项。

18. 1978年，安徽省凤阳县小岗村18户农民立下了一份将田地包干到户的契约。随后，全国范围内就此开展了一场大讨论，最后认为这种做法是一条“阳光路”。这条“阳光路”是（ ）

- A. 农业合作化运动
- B. 实行家庭联产承包责任制
- C. 建立经济特区
- D. 建立社会主义市场经济体制

【答案】B

【解析】

【详解】根据材料“1978年，安徽省凤阳县小岗村18户农民立下了一份将田地包干到户的契约”结合所学知识可知，材料反映的是实行家庭联产承包责任制，1978年十一届三中全会作出了改革开放的历史性决策，改革先从农村开始，在安徽凤阳小岗村率先实行家庭联产承包责任制，分田包产到户，自负盈亏，B项正确；农业合作化运动是在1953-1957年实行，排除A项；1980年建立经济特区，排除C项；1992年中共十四大确立建立社会主义市场经济体制的目标，排除D项。故选B项。

19. 下面是某单元中各课课题。这一单元是



- 第 7 课伟大的历史转折
- 第 8 课经济体制改革
- 第 9 课对外开放
- 第 10 课建设中国特色社会主义
- 第 11 课为实现中国梦而努力奋斗

北京中考在线  
微信号：BJ\_zkao

- A. 中华人民共和国的成立和巩固
- B. 社会主义制度的建立与社会主义建设的探索
- C. 中国特色社会主义道路
- D. 民族团结与祖国统一

【答案】C

【解析】

【详解】“伟大的历史转折”指 1978 年召开的十一届三中全会，结合所学可知，十一届三中全会作出把工作重心转移到经济建设上来和改革开放的伟大决策，标志着我国进入中国特色社会主义道路建设新时期，C 项正确；题干没有涉及中华人民共和国的成立，排除 A 项；1956 年三大改造完成，标志着我国社会主义制度的建立，1956-1966 年是我国社会主义建设的探索时期，排除 B 项；题干没有涉及民族团结与祖国统一，排除 D 项。故选 C 项。

20. 位于朝阳区化工路的北京焦化厂建成于 1958 年，曾经是首都主要能源供给基地。随着产业结构调整，该厂 2006 年停产，未来将成为北京东部工业遗址文化园区。以下适合研究这段历史的材料是（ ）

- ①关于开始公私合营的新闻报道
- ②保留的原厂房和炼焦炉
- ③关于北京焦化厂停产转型的文件
- ④电视剧《钢铁年代》

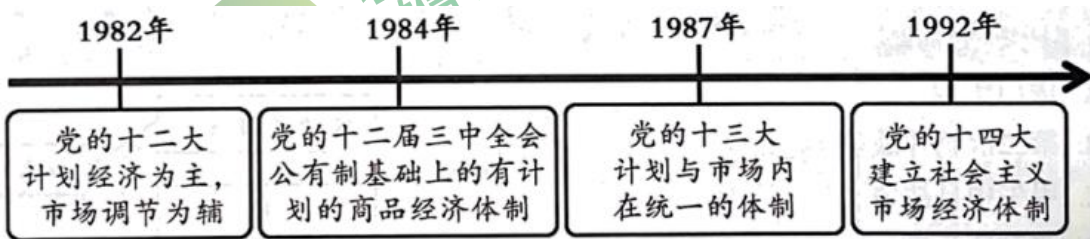
- A. ①②
- B. ②③
- C. ③④
- D. ①④

【答案】B

【解析】

【详解】根据材料“北京焦化厂建成于 1958 年、随着产业结构调整，该厂 2006 年停产，未来将成为北京东部工业遗址文化园区”并结合所学知识可知，关于开始公私合营的新闻报道是 1953-1956 年底对资本主义工商业的改造，北京焦化厂建成于 1958 年，①错误；②保留的原厂房和炼焦炉属于原始史料，②正确；③关于北京焦化厂停产转型的文件，属于第一手史料，③正确；④电视剧《钢铁年代》属于影视作品，史料的真实性有待考证，④错误，由此可知，B 项正确；ACD 项错误，排除。故选 B 项。

21. 以下示意图反映的是（ ）



- A. 工业生产技术水平提高
- B. 我国经济体制改革不断深化
- C. 对外开放范围逐渐扩大
- D. 农村乡镇企业的出现与发展

【答案】B



【解析】

【详解】根据“党的十二大计划经济为主，市场调节为辅”“党的十四大建立社会主义市场经济体制”等结合所学知识可知，材料反映的是我国经济体制改革不断深化，B项正确；示意图没有体现工业生产技术水平提高，排除A项；图示没有涉及对外开放范围逐渐扩大，排除C项；图示没有体现农村乡镇企业的出现与发展，排除D项。故选B项。

22. 1999年澳门 经济总量为 518.7 亿澳门元，到 2018 年达到 4447 亿澳门元。这反映出（ ）

- A. “一国两制”伟大构想的成功实践
- B. 企业生产经营自主权扩大
- C. 国外先进技术和和管理经验的引进
- D. 和平共处五项原则的提出

【答案】A

【解析】

【详解】依据题干和所学知识，我国依据“一国两制”方针解决澳门回归问题，而澳门回归后经济的繁荣发展也证明了“一国两制”伟大构想的正确，因此题干所述现象反映出“一国两制”伟大构想的成功实践，A项正确；扩大企业生产经营自主权是 20 世纪 80 年代城市经济体制改革的主要内容，与澳门回归无关，排除 B 项；1980 年我国设立经济特区，迈出对外开放的步伐，积极引进国外先进技术和和管理经验，与澳门回归无关，排除 C 项；1953 年周恩来提出和平共处五项原则，成为处理国与国之间关系的基本准则，与澳门回归无关，排除 D 项。故选 A 项。

23. 以下一组图片反映出（ ）



20 世纪 50 年代仿制高亚音速战斗机歼 5 并装备空军      20 世纪 80 年代自主研发超音速战斗机歼 8 并装备空军      21 世纪初新型隐形战斗机歼 20 试飞成功并装备空军

- A. 国防建设快速发展
- B. 航天科技进步明显
- C. 高新技术领先世界
- D. 军队组织架构重塑

【答案】A

【解析】

【详解】根据“仿制高亚音速战斗机歼 5 并装备空军”“自主研发……并装备空军”“新型隐形战斗机……”可知，图片反映的是国防建设快速发展，A 项正确；图片没有强调航天科技进步明显，排除 B 项；图片没有体现高新技术领先世界，排除 C 项；图片没有体现军队组织架构重塑，排除 D 项。故选 A 项。

24. 某班同学在线上分组学习新中国科技成就，第三组应了解的史实是（ ）

主题	第一组:漫步太空	第二组:粮食安全	第三组:人类健康
史实	神舟五号载人飞船升入太空	袁隆平培育出籼型杂交水稻	





- A. 我国第一颗原子弹爆炸成功
- B. 东方红一号人造地球卫星发射成功
- C. 屠呦呦领导科研团队发现了青蒿素
- D. 举办“一带一路”国际合作高峰论坛

【答案】C

【解析】

【详解】根据“人类健康”结合所学知识可知，20世纪60年代，为寻找治疗疟疾的新型有效药物，许多国家组织科研力量展开研究。中国药学家屠呦呦领导科研团队，从中医药古典文献中获得灵感，在极为艰苦的科研条件下，经过数百次实验，终于在70年代初发现了能够有效抵抗疟疾的青蒿素，开创了治疗疟疾的新方法。青蒿素类药物对疟疾的治愈率很高，得到世界卫生组织的认可和大力推广，使全球数亿人受益。由于对人类生命健康事业作出了巨大贡献，屠呦呦获得2015年诺贝尔生理学或医学奖，C项正确；我国第一颗原子弹爆炸成功打破了帝国主义国家的核垄断，排除A项；东方红一号人造地球卫星发射成功不属于“人类健康”方面的成就，排除B项；举办“一带一路”国际合作高峰论坛反映的是外交方面的，排除D项。故选C项。

25. 下面表格内容反映了（ ）

年份	人均可支配收入(元)	私人汽车数量(万辆)
1984年	424	28.49
1996年	2814	289.67
2008年	9957	3501.39
2020年	32189	24394

- A. 人民生活水平提高
- B. 文化事业成果丰富
- C. 交通出行方式多样
- D. 居住环境明显改善

【答案】A

【解析】

【详解】表格内容反映1984-2020年人均可支配收入不断上升，私人汽车数量不断上升，体现人民生活水平提高，A项正确；材料没有涉及文化事业成果丰富，排除B项；材料没有体现交通出行方式多样，排除C项；表格内容没有涉及居住环境方面的状况，排除D项。故选A项。

### 第二部分 材料分析题

26. 中国近现代电力工业与通讯的发展。

材料一 19世纪70年代初，英国等国在中国架设了海底电报线。1881年，李鸿章修建了从天津到上海的有线电报，主要用于军务和政务，后来也办理民用业务。到20世纪初，大多数城市已开办民用电报，1922年发报250万件。1899年广州部分要塞架设无线电台，其后北京、武昌、广州等地成立无线电报局，收发官报和商报。

——摘编自朱汉国等《中华民国史》

(1) 依据材料一并结合所学，说出中国近代通讯发展的背景。分析近代通讯发展的作用。



材料二 1890年，中国第一家民族资本电厂建成。此后各地共开办了40多家，但因资金不足，缺乏技术人才等原因，大多亏损，到1911年只有18家开工。当时，大型发电机几乎全部依赖进口，价格很高，且订购后超过两年才能交货。有些地方还强行将民营电厂收归己有。到1936年，民族资本电厂在全国发电容量中的占比由45.5%下降到35%。

——摘编自朱汉国等《中华民国史》

(2) 依据材料二，概括中国民族资本电厂的发展状况。分析造成这种状况的原因。

材料三 1949-2020年中国电力工业发展情况（部分）

项目	1949年	1978年	2012年	2020年
人均用电量(单位:千瓦时)	8	267	3683	5365
火电发电量(煤、天然气等)(单位:亿千瓦时)	36	9267	38928	51770
核能发电量(单位:亿千瓦时)			983	3662
可再生能源发电量(水力、风力、太阳能等)(单位:亿千瓦时)		1989	9792	22154

——整理自白玫《百年中国电力工业发展：回顾、经验与展望》

(3) 依据材料三，说出中国电力工业的发展趋势。结合所学，分析出现这些趋势的原因。

**【答案】** (1) 背景：西方列强的建设；洋务运动的进行；影响：有利于加快信息传播，密切了人们交往；有利于促进经济文化交流。

(2) 状况：资金不足，缺乏技术人才，大多亏损；大型发电机依赖进口；被政府强行收归己有；发电容量所占比例下降。原因：受帝官封三座大山压迫、在夹缝中生存，发展不充分等。

(3) 不断发展上升趋势；改革开放的实行并不断深入发展

**【解析】**

**【小问1详解】**

背景：根据“19世纪70年代初，英国等国在中国架设了海底电报线。”可归纳出西方列强的建设；根据“1881年，李鸿章修建了从天津到上海的有线电报，主要用于军务和政务，后来也办理民用业务”可归纳出洋务运动的进行。影响：结合所学知识可知，近代通讯发展有利于加快信息传播，密切了人们交往；有利于促进经济文化交流。

**【小问2详解】**

状况：根据“因资金不足，缺乏技术人才等原因，大多亏损”可归纳出资金不足，缺乏技术人才，大多亏损；根据“大型发电机几乎全部依赖进口，价格很高，且订购后超过两年才能交货”可归纳出大型发电机依赖进口；根据“有些地方还强行将民营电厂收归己有”可归纳出被政府强行收归己有；根据“到1936年，民族资本电厂在全国发电容量中的占比由45.5%下降到35%。”可归纳出发电容量所占比例下降。原因：结合所学知识可归纳出受帝官封三座大山压迫、在夹缝中生存，发展不充分等。

**【小问3详解】**



根据材料三“1949-2020年中国电力工业发展情况”数据可归纳出人均用电量，火电发电量(煤、天然气等)不断上升；核能发电量，可再生能源发电量从无到有，呈现上升趋势。原因：结合所学知识可归纳出：改革开放的实行并不断深入发展。

27. 新中国外交的光辉历程。

材料一 第五十四条 中华人民共和国外交政策的原则，为保障本国独立、自由和领土主权的完整，拥护国际的持久和平和各国人民间的友好合作，反对帝国主义的侵略政策和战争政策。

……

第五十六条 凡与国民党反动派断绝关系、并对中华人民共和国采取友好态度的外国政府，中华人民共和国中央人民政府可在平等、互利及互相尊重领土主权的基础上，与之谈判，建立外交关系。

——《中国人民政治协商会议共同纲领》

(1) 依据材料一，概括新中国建立初期的外交政策。

材料二 20世纪50-70年代中国外交大事记(部分)

序号	事件
①	1954年,周恩来访问印度,受到印度总理尼赫鲁的热烈欢迎+装出
②	1955年,中国参加万隆会议,这是第一次没有西方殖民主义国家参加的亚非会议
③	1961年,第16届联大总务委员会通过了讨论中国在联合国席位问题的议题
④	1964年,中日两国签订互设办事处和互相派驻记者的协定
⑤	1971年,第26届联合国大会通过决议,恢复中华人民共和国在联合国的一切合法权利
⑥	1972年,美国总统尼克松访问中国
⑦	1972年,日本首相田中角荣访华,两国政府首脑签署了中日两国政府联合声明
⑧	1979年,邓小平副总理访问美国

(2) 仿照示例，在材料二中选取两件史事并概括属于新中国外交成就的一个主题。

示例 史事：④⑦；主题：中日两国关系正常化

材料三 中国特色大国外交全面推进

★2012年以来，中国举办了二十国集团峰会、金砖国家领导人会晤、亚太经合组织领导人非正式会议等国际会议。

★2013至2017年间，国家主席习近平与美国总统在双边和多边场合会晤12次。

★中国在2015至2019年间向拉美和加勒比国家共同体成员国提供6000个政府奖学金名额、6000个赴华培训名额及400个在职硕士名额。

★2016年，中国对欧洲投资流量为99.9亿美元，同比增长82.4%，截至2017年，欧盟对华直接投资项目44638个。

(3) 依据材料三并结合所学，指出中国特色大国外交布局。说明中国外交活动的影响。

【答案】(1) 独立自主 和平外交政策



(2) ⑥⑧；主题：中美两国关系正常化

(3) 全方位、多层次、立体化的外交布局；影响：有利于各国间的对话与交流；促进国际关系民主化；有利于世界和平

【解析】

【小问 1 详解】

根据材料一“中华人民共和国外交政策的原则，为保障本国独立、自由和领土主权的完整，拥护国际的持久和平和各国人民间的友好合作，反对帝国主义的侵略政策和战争政策。”可知，新中国建立初期的外交政策是独立自主的和平外交政策。

【小问 2 详解】

根据⑥“1972 年,美国总统尼克松访问中国”，⑧“1979 年,邓小平副总理访问美国”可知，材料反映的是中美两国关系正常化。

【小问 3 详解】

结合所学知识，中国特色大国外交全面推进的今天，形成的外交布局是全方位、多层次、立体化的外交布局。根据材料“2016 年，中国对欧洲投资流量为 99.9 亿美元，同比增长 82.4%，截至 2017 年，欧盟对华直接投资项目 44638 个。”结合所学知识可知，中国外交活动的影响：有利于各国间的对话与交流；促进国际关系民主化；有利于世界和平。

28. 北京的历史遗存见证了近现代中国社会的变迁。



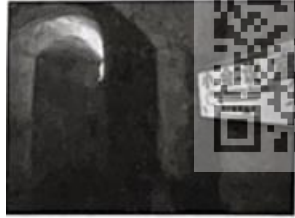
材料一

①	②	③
		
故宫养心殿 宣统皇帝在此下诏退位	东交民巷西口 1919 年 5 月 4 日 学生游行所经地点	箭杆胡同 20 号(今) (《新青年》)编辑部旧址

(1) 依据材料一并结合所学，任选两幅图片（写序号），分别指出其反映的史实，并说明两件史实之间的联系。

①	②	③	④
---	---	---	---



			
北京师范大学旧址 一二·九运动爆发地之一	丰台区卢沟桥和宛平城	门头沟区马栏村八路军 冀热察挺进军司令部旧 址	顺义区焦庄户村地道战 遗址

(2) 依据材料二并结合所学，说出与图②相关的历史事件。结合史实，说明中国共产党在全民族团结抗战中发挥的作用

材料三 1957年，石景山钢铁厂（首都钢铁公司前身）提前1年4个月完成计划规定的任务，有8项技术经济指标达到国内先进水平。1979年首钢率先实行承包制，创造了利润连续10年递增20%的奇迹，首钢一家企业的利税额度曾占全北京市的1/4。

进入21世纪后，首钢从石景山迁出。按照新的规划，首钢成为了可持续发展的城市综合功能区及和谐生态示范区等，“北京市新首钢城市更新改造项目”获中国人居环境奖。昔日的厂房变身为北京冬奥组委办公地，首钢滑雪大跳台实现了竞赛场馆与工业遗产再利用、城市更新的完整结合。

——摘编自北京新闻广播《丰碑》等

(3) 依据材料三，分别说出1957年和1979年首钢发展的背景。概括进入新世纪新首钢发展的特点。

**【答案】** (1) ②：五四运动；③：新文化运动；新文化运动传播了马克思主义，为五四运动的爆发奠定了思想基础，五四运动促进了马克思主义的广泛传播。

(2) 卢沟桥事变；作用：西安事变的和平解决，揭开了国共两党由内战到联合抗日的序幕，成为扭转时局的关键。从此，十年内战基本停止，抗日民族统一战线初步形成；百团大战历时数月，战果辉煌，有力打击了日军的侵略气焰，提高了共产党和八路军的威望，振奋了全国军民争取抗战胜利的信心。

(3) 背景：一五计划的实行；经济体制的实行；特点：成为了可持续发展的城市综合功能区及和谐生态示范区；获中国人居环境奖；实现了竞赛场馆与工业遗产再利用、城市更新的完整结合。

**【解析】**

**【小问1详解】**

根据“东交民巷西口1919年5月4日学生游行所经地点”可知，材料反映的是五四运动，根据“箭杆胡同20号(今《新青年》编辑部旧址)”可知，图片反映的是新文化运动，新文化运动传播了马克思主义，为五四运动的爆发奠定了思想基础，五四运动促进了马克思主义的广泛传播。

**【小问2详解】**

根据“丰台区卢沟桥和宛平城”结合所学知识可知，图片反映的是卢沟桥事变。根据表格并结合所学知识可知，西安事变发生后，中国共产党从全民族的利益出发，主张和平解决。西安事变的和平解决，揭开了国共两党由内战到联合抗日的序幕，成为扭转时局的关键。从此，十年内战基本停止，抗日民族统一战线初步形成。1940年八路军总部在彭德怀指挥下，发动“百团大战”，百团大战历时数月，战果辉煌，有力打击了日军的侵略气焰，提高了共产党和

八路军的威望，振奋了全国军民争取抗战胜利的信心。因而说中国共产党在全民族团结抗战中发挥了中流砥柱的作用。

### 小问 3 详解】

背景：根据材料三“1957年，石景山钢铁厂（首都钢铁公司前身）提前1年4个月完成计划规定的任务”结合所学知识可知，1957年首钢发展的背景是一五计划的实行；根据“1979年首钢率先实行承包制，创造了利润连续10年递增20%的奇迹，首钢一家企业的利税额度曾占全北京市的1/4。”可知，1979年首钢发展的背景是经济体制的实行。特点：根据材料“进入21世纪后，首钢从石景山迁出。按照新的规划，首钢成为了可持续发展的城市综合功能区及和谐生态示范区等”可归纳出成为了可持续发展的城市综合功能区及和谐生态示范区；根据“‘北京市新首钢城市更新改造项目’获中国人居环境奖”可归纳出获中国人居环境奖；根据“昔日的厂房变身为北京冬奥组委办公地，首钢滑雪大跳台实现了竞赛场馆与工业遗产再利用、城市更新的完整结合”可归纳出实现了竞赛场馆与工业遗产再利用、城市更新的完整结合。

