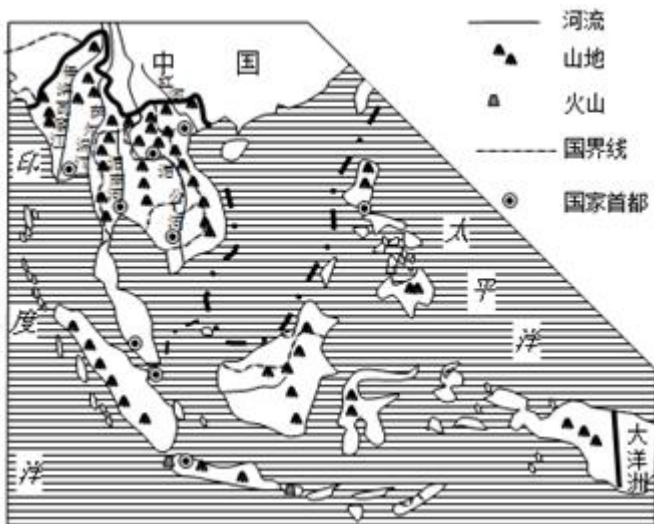




一、选择题（每题 2 分，共 50 分）

- 1.（2 分）构成世界“屋脊”的主要地形区是（ ）
- A. 青藏高原 B. 伊朗高原
- C. 云贵高原 D. 巴西高原
- 2.（2 分）世界上外籍华人华侨最集中的地区是（ ）
- A. 中东 B. 东南亚
- C. 欧洲西部 D. 撒哈拉以南的非洲

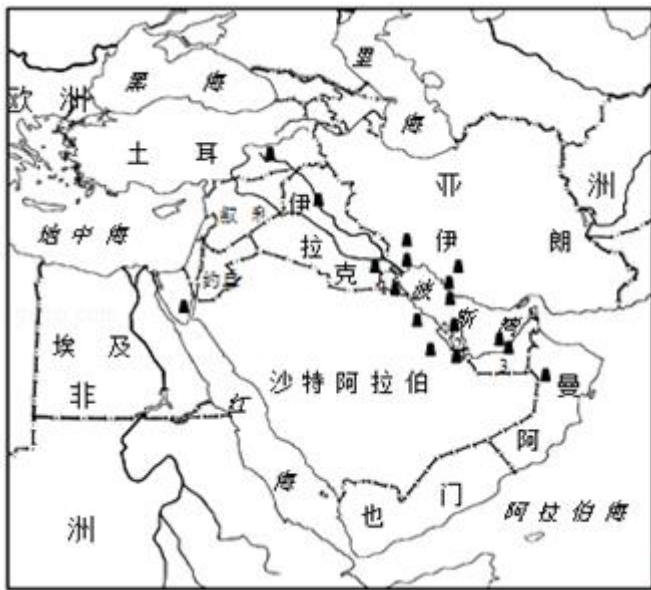
读中南半岛地形、河流与城市分布图，回答 3 - 5 题。



- 3.（2 分）东南亚流经国家最多的河流是（ ）
- A. 伊洛瓦底江 B. 湄南河 C. 湄公河 D. 红河
- 4.（2 分）中南半岛的地形特点是（ ）
- A. 南高北低，以平原为主
- B. 地形崎岖，火山众多
- C. 山河相间，纵列分布
- D. 西高东低，以平原为主
- 5.（2 分）关于中南半岛的叙述，错误的是（ ）
- A. 首都主要分布在河流沿岸
- B. 大河多由北向南流
- C. 平原地区是东南亚的重要农业区
- D. 多火山地震
- 6.（2 分）欧洲西部地区的地形类型主要是（ ）

A. 山地 B. 高原 C. 盆地 D. 平原

读中东地区图，回答 7 - 8 题。



1 科威特
2 卡塔尔
3 阿拉伯

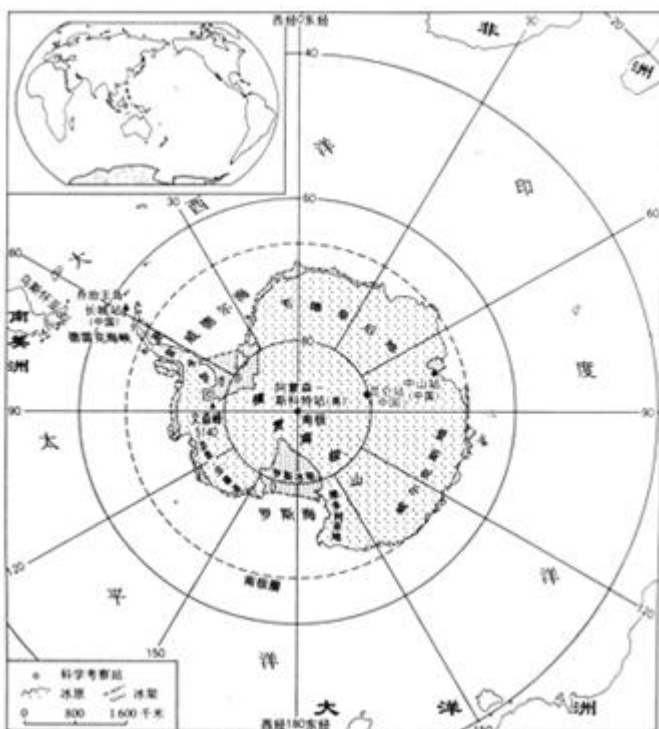
7. (2分) 关于中东地区地理位置、范围和主要国家的叙述，错误的是 ()

- A. 位于“五海三洲”之地
- B. 沙特阿拉伯是该地区面积最大的国家
- C. 是沟通太平洋和印度洋、连接西方和东方的要道
- D. 连接地中海和红海的水上通道是苏伊士运河

8. (2分) 关于中东地区自然资源的叙述，正确的是 ()

- A. 中东地区重要的矿产资源是石油和煤炭
- B. 图示资源主要集中分布在波斯湾沿岸
- C. 图示资源输出主要以管道运输方式为主
- D. 该地区气候湿润，水资源丰富

读南极洲图，回答 9 - 12 题。



9. (2分) 我国第一个南极内陆科学考察站、同时也是我国第三个南极科考站的是 ()

A. 中山站 B. 长城站 C. 东方站 D. 昆仑站

10. (2分) 我国的长城站位于 ()

A. 东半球, 南半球 B. 西半球, 北半球

C. 西半球, 南半球 D. 东半球, 北半球

11. (2分) 南极大陆蕴藏着丰富的淡水资源, 但通常以 ()

A. 冰雪的形式存在 B. 大气水的形式存在

C. 河、湖的形式存在 D. 地下水的形式存在

12. (2分) 南极地区特有的动物为 ()

A. 斑马、长颈鹿 B. 磷虾、企鹅 C. 北极熊、驯鹿 D. 野兔、鬣狗

13. (2分) 北极和南极地区的共同特点是 ()

A. 降水多 B. 纬度高 C. 光照强 D. 资源缺乏

14. (2分) 北极地区有世界最大的岛屿 ()

A. 乔治王岛 B. 格陵兰岛 C. 冰岛 D. 火地岛

15. (2分) 美国濒临 ()

A. 太平洋、大西洋、印度洋 B. 北冰洋、大西洋、印度洋

C. 北冰洋、太平洋、印度洋 D. 北冰洋、太平洋、大西洋

16. (2分) 目前美国头号支柱产业是 ()

A. 汽车制造业 B. 建筑业 C. 钢铁业 D. 信息技术产业

17. (2分) 符合美国农业特点的是 ()

A. 粮食产量低 B. 精耕细作 C. 农业人口多 D. 地区生产专业化



读巴西矿产资源和工业分布图, 回答 18 - 22 题.



18. (2分) 巴西储量大、质地优、产量和出口量都居世界前列的矿产资源是 ()
- A. 铁矿 B. 铜矿 C. 锡矿 D. 煤矿
19. (2分) 巴西的城市主要分布在 ()
- A. 中部、西部地区 B. 西北、西南地区
- C. 东部、东南沿海地区 D. 中部、北部地区
20. (2分) 巴西首都位于热带，但气候四季如春，终年繁花似锦，这是因为该城市 ()
- A. 地处巴西高原，海拔较高
- B. 濒临大西洋，受海洋影响较大
- C. 位于安第斯山上，海拔较高
- D. 濒临太平洋，受海洋影响较大
21. (2分) 世界上流域面积最广、水量最大的河流是 ()
- A. 亚马孙河 B. 尼罗河 C. 密西西比河 D. 巴拉那河
22. (2分) 关于巴西经济发展的叙述，错误的是 ()
- A. 是世界主要的咖啡生产国
- B. 基本上形成了轻、重工业都较发达的完整的工业体系
- C. 是南美洲工农业最发达的国家
- D. 汽车工业的发展还是一片空白
23. (2分) 世界上最大的热带雨林、被称为“地球之肺”的是 ()
- A. 刚果热带雨林 B. 密西西比热带雨林
- C. 马来西亚热带雨林 D. 亚马孙热带雨林
24. (2分) 对矿产资源要更加爱护和合理利用的主要原因是 ()
- A. 矿产资源较贵重 B. 开采矿产成本高
- C. 矿产资源非可再生 D. 矿产资源数量太少
25. (2分) 为防止矿产资源枯竭后出现能源危机，应该 ()
- A. 积极研究和寻找新能源 B. 减少工农业的能源用量
- C. 居民都使用电能 D. 都使用水能

二. 综合题 (共 50 分)

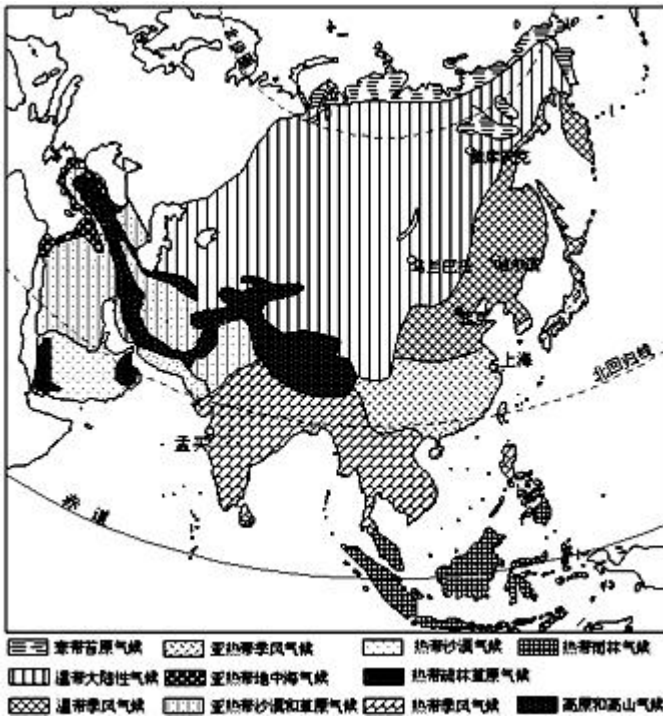
26. (13分) 读亚洲的气候类型，回答下列问题。

(1) 亚洲幅员辽阔，地跨_____带、_____带、_____带；大陆东西宽广，内陆距海岸遥远。受纬度高低、距海远近、地形等因素的综合影响，气候_____。

(2) 亚洲地处世界_____的大陆东部，濒临世界_____的大洋，这种海陆分布形势，使得亚洲东部和南部地区成为世界上典型的_____区。其影响的范围_____，种类_____。

(3) 亚洲分布范围最广的气候类型是_____。

(4) 概括亚洲气候的特点。



27. (5分) 读撒哈拉以南非洲图和非洲气候类型分布图, 回答下列问题。

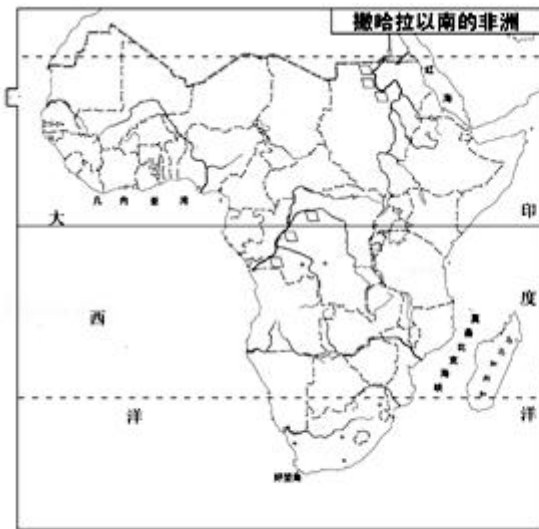


图1

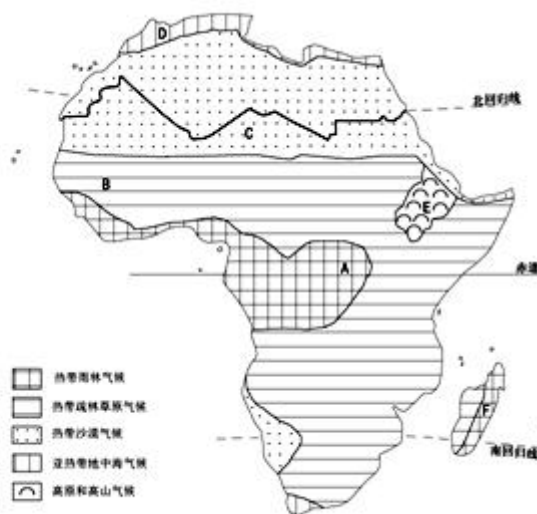


图2

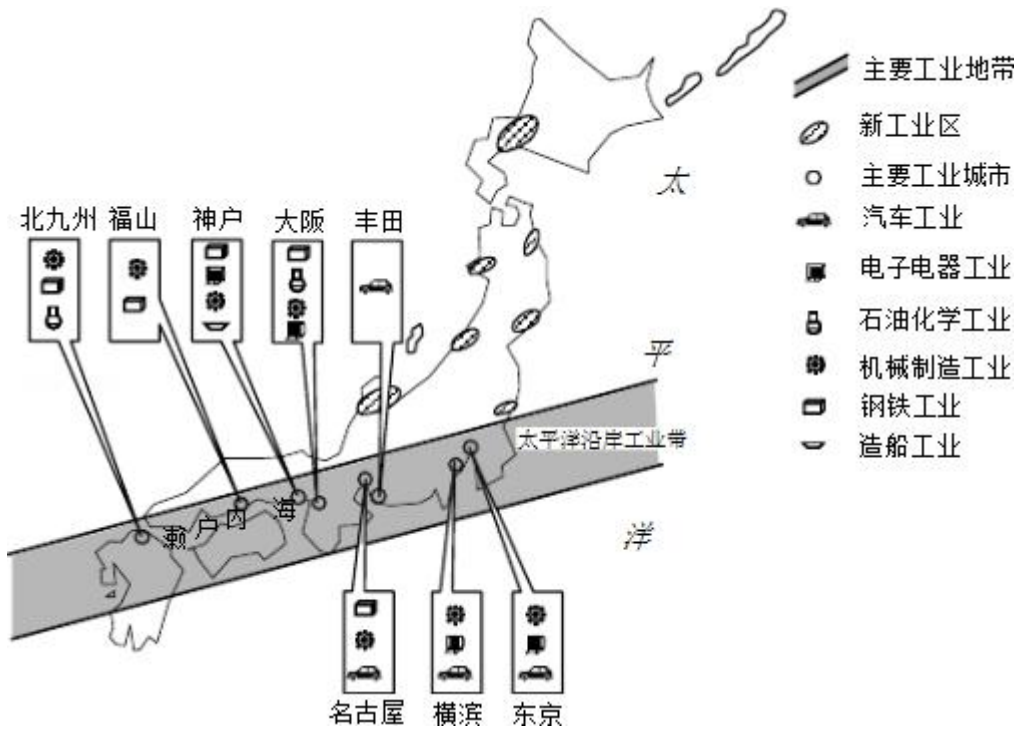
(1) 描述撒哈拉以南非洲的纬度位置。_____

(2) 描述撒哈拉以南非洲的海陆位置。_____

(3) 说明撒哈拉以南非洲气候类型的分布特点。_____

(4) 非洲萨赫勒地区出现干旱的原因, 有自然因素, 如降水量减少等。也有人为因素, 如_____和_____使生态环境失调、恶化。

28. (8分) 读日本工业分布图, 回答下列问题。



- (1) 写出日本主要的工业部门。
- (2) 为了便于_____，日本工业集中分布在对外运输便利的沿海地区，形成了“_____工业带”。
- (3) 近年来，由于_____、_____和_____等问题，日本一些工厂开始向工业地带周边、工业地带的间隙以及内陆地区转移。

29. (15分) 读澳大利亚地形分布和澳大利亚矿产和城市分布，回答下列问题。

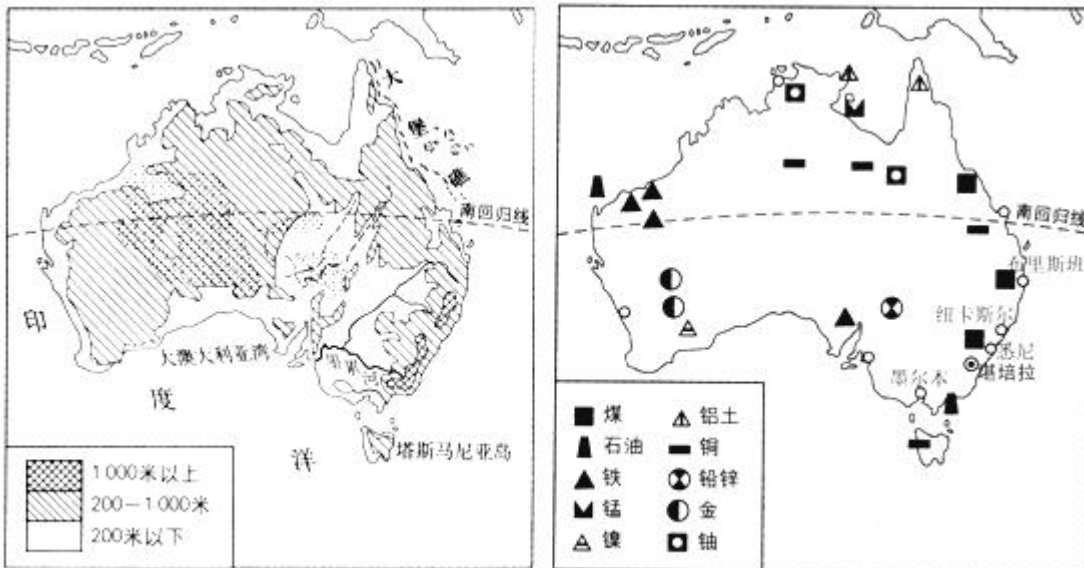


图1

图2

- (1) 澳大利亚是_____洲面积最大的国家。其东北部有世界最大的珊瑚礁群称为_____，是世界著名的旅游胜地。除此之外，澳大利亚还有着“花园城市”之称的首都_____，造型独特的世界著名建筑_____。
- (2) 澳大利亚大陆地势起伏不平。东部是大分水岭山地，西部是低矮的_____，中部地势平缓，是著名的_____盆地。该国地势的特点是_____。
- (3) 澳大利亚大陆在大约两亿年前，与其他大陆分开，生物种类长期独立发展演化，具有许多古老原始的哺乳类

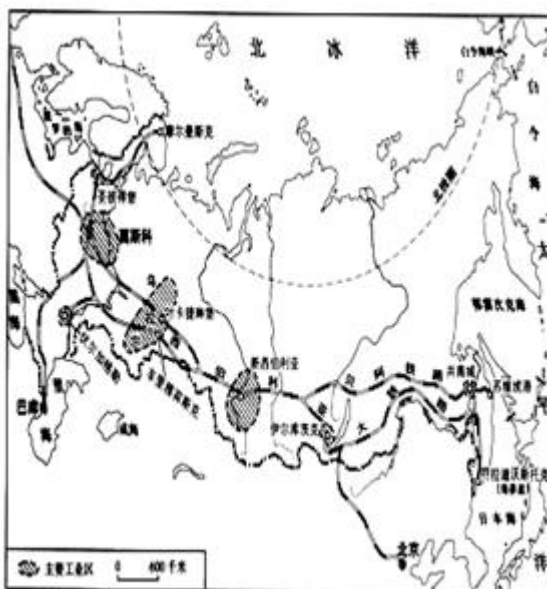
动物，如_____、_____等。

(4) 澳大利亚的矿产资源_____、储量大、质量好，是发达国家中重要的矿产品_____。铁矿主要分布在西部。中国钢铁工业所需要的铁矿石有 40%来自该国。

(5) _____业占国民经济的比重已经超过农牧业和_____业，成为澳大利亚新的支柱产业。

(6) 澳大利亚的居民和城市主要集中分布在_____。

30. (9 分) 读俄罗斯矿产分布图以及俄罗斯交通和主要工业区分布图，回答下列问题。



(1) 俄罗斯具有发展工业的良好资源基础。写出该国的主要矿产资源。_____

(2) 写出俄罗斯的工业集中分布的四个地区，指出俄罗斯的工业中最为突出的工业部门。_____

(3) 写出俄罗斯各大工业区相互连接的主要运输方式。_____。



地理试题答案



一、选择题（每题 2 分，共 50 分）

1. 【解答】青藏高原平均海拔在 4000 米以上，号称“世界屋脊”，该高原位于我国地势的第一阶梯。

故选：A.

2. 【解答】东南亚是世界上海外华人分布最集中的地区，主要来自于我国东南沿海一代，特别是广东、福建两省，选项 ACD 不符合题意。

故选：B.

3. 【解答】东南亚流经国家最多的河流是湄公河，该河流沿岸的城市有万象、金边等。

故选：C.

4. 【解答】东南亚中南半岛上山脉、河流多由北向南延伸，形成了山河相间、纵列分布的特点，选项 ABD 叙述错误，依据题意。

故选：C.

5. 【解答】读图可知：

A、中南半岛的大城市分布在地形平坦、土壤肥沃、交通便利的河流沿岸及河口三角洲，故 A 正确；

B、河流多由北向南流，故 B 正确；

C、中南半岛地区的城市、农业主要分布在河流沿岸平原或河口三角洲地区，故 C 正确；

D、马来群岛位于板块的交界处，多火山、地震；故 D 错误。依据题意。

故选：D.

6. 【解答】欧洲主要的地形是平原，该大洲是世界上平均海拔最低的大洲。

故选：D.

7. 【解答】中东地区地处五海三洲之地，故 A 叙述正确；

沙特阿拉伯是中东地区面积最大的国家，故 B 叙述正确；

中东地区是沟通大西洋与印度洋、连接西方和东方的要道，故 C 叙述错误；

连接地中海和红海的水上通道是苏伊士运河，该运河是亚洲与非洲的分界线，故 D 叙述正确。

故选：C.

8. 【解答】中东地区重要的矿产资源是石油，故 A 错误；



中东地区的石油资源主要分布在波斯湾及其沿岸地区，故 B 正确；

图中资源是石油，主要以海运的运输方式输出，故 C 错误；

中东地区主要属于热带沙漠气候，其特点是终年高温少雨，故 D 错误。

故选：B。

9. 【解答】我国第一个南极内陆科学考察站、同时也是我国第三个南极科考站的是昆仑站，于 2009 年 1 月 27 日在南极内陆冰盖的最高点冰穹地区胜利建成。依据题意。

故选：D。

10. 【解答】西经 20° 和东经 160° 这两条经线组成的经线圈，作为划分东西半球的界线；西半球的经度范围为 $160^{\circ}\text{E} \leftarrow 180^{\circ} \leftarrow 20^{\circ}\text{W}$ 。长城站的经度为 $58^{\circ}58'\text{W}$ ，位于西半球；赤道是南北纬的分界线，长城站的纬度为 $62^{\circ}13'\text{S}$ ，位于南半球，故 C 正确。依据题意。

故选：C。

11. 【解答】极地酷寒，多狂风，降水稀少。无论南极洲还是北冰洋，都是一望无际的冰雪世界。地球上 68% 的淡水以冰雪的形式储存在两极地区。

故选：A。

12. 【解答】企鹅是一种不会飞的游禽，是南极洲的代表动物，被称为南极的主人。企鹅长有很厚的皮下脂肪层和密实的羽绒，具备高强的御寒本领。磷虾是南极海域中的一种十分丰富的水产资源。由于磷虾在夜间成群地浮出水面时会发出粼粼萤光，因此把它们称为磷虾。

故选：B。

13. 【解答】北极地区和南极地区地处高纬，气候酷寒。故选项 B 符合题意。

故选：B。

14. 【解答】北美洲的领土—格陵兰岛是世界第一大岛，分布在北极地区，目前仍覆盖着巨厚的冰层，该地是除南极洲以外冰川分布最广的地区；根据题意。

故选：B。

15. 【解答】在“世界政区”地图上，美国的领土有醒目的两片。习惯上，人们将北美洲中部的美国国土主体部分，称为美国“本土”。美国本土位于北美洲中南部，东、西、南三面分别濒临大西洋、太平洋和墨西哥湾，北与加拿大

接壤，西南与墨西哥毗邻。北美洲西北部的那片美国领土，北临北冰洋，隔着白令海峡与俄罗斯相望，叫阿拉斯加州，它是美国用低廉的价钱从沙皇俄国买来的。在太平洋北部的大洋中，还有一部分是美国领土，它就是著名的夏威夷州。

故选：D。

16. 【解答】美国最大的支柱产业是以高技术为核心的信息产业。

故选：D。

17. 【解答】美国每个地区根据自然条件和经济条件，重点发展一种和几种农产品的专门化生产，在不同地区形成了不同的农业带，这充分体现了美国农业的地区生产专业化特点。

故选：D。

18. 【解答】巴西储量大、质地优，产量和出口量都居世界前列的矿产资源是铁矿，主要分布在巴西高原上。

故选：A。

19. 【解答】巴西的东南沿海气候适宜，海陆交通便利，开发历史悠久，矿产丰富；因此，巴西的人口和城市主要分布在东南沿海地区。

故选：C。

20. 【解答】地势高低会影响气温的高低，由于巴西的首都巴西利亚位于巴西高原上，该城市虽然处于热带，但气候四季如春，终年繁花似锦，选项BCD叙述错误，不符合题意。

故选：A。

21. 【解答】亚马孙河位于热带雨林气候区，是世界上水量最大、流域面积最广的河流。故A正确。

故选：A。

22. 【解答】巴西是世界主要的咖啡生产国，是南美洲工农业最发达的国家，基本上形成了轻、重工业都较发达的完整的工业体系，巴西的汽车工业较为发达，特别是新能源汽车处于领先地位，选项D叙述错误，符合题意。

故选：D。

23. 【解答】热带雨林通过光合作用，不断地吸收二氧化碳，向大气中补充氧气。据估计，亚马孙热带雨林所产生的氧气，至少可占到地球氧气供给量的20%以上。因此，亚马孙热带雨林被称为“地球之肺”。然而，由于人们乱砍

滥伐，这里的热带雨林面积不断缩小，以致引起了国际社会的极大关注。

故选：D。

24. 【解答】矿产资源是非可再生资源。在开采矿产资源过程中存在着严重浪费现象，特别是采富矿，弃贫矿现象。制定矿产资源保护法，矿产资源勘探、开发实行许可证制度，由矿产资源管理局发放矿产资源项目勘探和开发许可证。根据题意。

故选：C。

25. 【解答】解决能源问题的根本出路就是：节约能源，提高现有能源利用率，积极寻找和开发能源。

故选：A。

二. 综合题（共 50 分）

26. 【解答】（1）亚洲幅员辽阔，地跨北寒带、北温带、热带；大陆东西宽广，内陆距海岸遥远，受纬度高低、距海远近、地形等因素的综合影响，气候复杂多样。

（2）亚洲地处世界最大的大陆即亚欧大陆东部，濒临世界最大的大洋太平洋，这种海陆分布形势，使得亚洲东部和南部地区成为世界上典型的季风气候区。其影响的范围最广，种类多。

（3）亚洲分布范围最广的气候类型是温带大陆性气候。

（4）亚洲气候的特点气候类型复杂多样、季风气候显著、温带大陆性气候分布广。

故答案为：

（1）北寒；北温；热；复杂多样；

（2）最大；最大；季风气候；最广；多；

（3）温带大陆性气候；

（4）气候类型复杂多样、季风气候显著、温带大陆性气候分布广。

27. 【解答】（1）从纬度位置说，撒哈拉以南非洲大部分位于南、北回归线之间；

（2）从海陆位置讲，撒哈拉以南非洲西临大西洋，东临印度洋，东北临红海；

（3）撒哈拉以南非洲气候大致以赤道为中线南北对称分布；

（4）非洲萨赫勒地区出现干旱的原因，有自然因素，如降水量减少等。也有人为因素，如滥伐森林和破坏草原使生态环境失调、恶化；

故答案变为：（1）大部分位于南、北回归线之间；（2）西临大西洋，东临印度洋，东北临红海；（3）以赤道为中线南北对称分布；（4）滥伐森林；破坏草原。

28. 【解答】（1）从图例符号得知，ri 本主要的工业部门有汽车工业、电子电器工业、石油化学工业、机械制造工

业、钢铁工业、造船工业等；

(2) ri 本境内资源短缺，很多原料和燃料需要进口，国内市场狭小，工业产品需大量出口，因此工业主要分布在交通便利的太平洋沿岸，便于工业原料进口和成品出口；

(3) 近年来，由于环境污染、工厂用地、工业用水不足等问题，ri 本加速扩大海外投资办厂；在 ri 本的外迁企业中，大多是耗用大量资源的企业，需用大量劳动力的企业，污染较重的企业。

故答案为：(1) 汽车工业、电子电器工业、石油化学工业、机械制造业、钢铁工业、造船工业；(2) 工业原料进口和成品出口；太平洋沿岸；(3) 环境污染；工厂用地；工业用水不足。

29. 【解答】(1) 澳大利亚是大洋洲面积最大的国家。其东北部有世界最大的珊瑚礁群称为大堡礁，是世界著名的旅游胜地。除此之外，澳大利亚还有着“花园城市”之称的首都堪培拉，造型独特的世界著名建筑悉尼歌剧院。

(2) 澳大利亚大陆地势起伏不平。东部是大分水岭山地，西部是低矮的高原，中部地势平缓，是著名的大自流盆地。该国地势的特点是东西高，中部低。

(3) 澳大利亚大陆在大约两亿年前，与其他大陆分开，生物种类长期独立发展演化，具有许多古老原始的哺乳类动物，如鸭嘴兽、袋鼠等。

(4) 澳大利亚的矿产资源品种多、储量大、质量好，是发达国家中重要的矿产品出口国。铁矿主要分布在西部。中国钢铁工业所需要的铁矿石有 40% 来自该国。

(5) 服务业占国民经济的比重已经超过农牧业和工矿业，成为澳大利亚新的支柱产业。

(6) 澳大利亚的居民和城市主要集中分布在东南沿海，该地区交通运输便利，气候温和湿润。

故答案为：(1) 大洋；大堡礁；堪培拉；悉尼歌剧院；(2) 高原；大自流；东西高，中部低；(3) 鸭嘴兽；袋鼠；

(4) 品种多；出口国；西；(5) 服务；工矿；(6) 东南沿海。

30. 【解答】(1) 俄罗斯自然资源丰富，种类繁多，蕴藏量大，自给程度高。矿产资源中，石油、天然气、煤、铁、金、铜、铅、锌、镍、钴、钾盐等的储量均居世界前列。

(2) 俄罗斯工业基础雄厚，部门齐全，能源、冶金、机械、化工、航空航天、核工业等重工业部门占据突出地位。俄罗斯的工业主要分布在欧洲部分，莫斯科和圣彼得堡为重要的工业区。在乌拉尔一带，建有以钢铁工业和机械工业为主的乌拉尔工业区。在西伯利亚工业区，则以石油、机械、森林工业和军事工业为主。

(3) 俄罗斯铁路、公路、航空、水运以及管道运输都很发达。交通运输以铁路和公路为主。铁路以莫斯科为中心呈放射状分布，欧洲部分较为密集。西伯利亚大铁路横贯亚欧大陆，连接四大工业区，被称为亚欧大陆桥。

故答案为 (1) 煤、铁、石油、天然气、铅锌、铜、镍、铝土、金等矿产；(2) 圣彼得堡工业区、莫斯科工业区、乌拉尔工业区、新西伯利亚工业区。

能源、冶金、机械、化工、航空航天、核工业等重工业部门；(3) 铁路运输。