



本试卷共 10 页，共 70 分，考试时长 70 分钟。考生务必将答案答在答题纸上，在试卷上作答无效。考试结束后，将答题纸交回，试卷自行保存。

一、选择题（每题 1.5 分，共 30 分。）

1. 原始农业为中国古代文明社会形成奠定了物质基础。如果要考证中国是世界农业起源地之一，最可信的史料是（ ）

- A. 良渚古城遗址出土的玉器
- B. 《史记》中关于农业起源的记载
- C. 半坡粟类粮食作物的遗存
- D. 北京人遗址中发现的灰烬、烧石等

2. 下图是某学生整理的学习卡片。他学习的主题是（ ）

目的：顺应时势，富国强兵  
 措施：“废井田、开阡陌”；“有军功者，各以率受上爵”等；  
 评价：实现了富国强兵

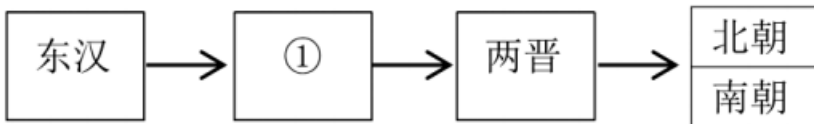
- A. 管仲改革
- B. 商鞅变法
- C. 孝文帝改革
- D. 大化改新

3. 以下是中国古代一位历史人物年谱（部分）。对此解读正确的是（ ）

公元前 246 年	公元前 230 年至公元前 221 年	公元前 215 年	公元前 214 年	公元前 213 年	公元前 210 年
即王位	灭六国，统一天下；创立中央集权制度，分天下为 36 郡；修驰道，书同文，统一度量衡	开凿灵渠	派遣蒙恬北击匈奴	在北方边境筑长城	崩葬于骊山

- A. 该年谱用年号纪年
- B. 汉武帝开创了皇帝制度
- C. 该帝王在位 33 年
- D. 秦始皇建立了统一王朝

4. 与以下示意图中①相关的史实是（ ）



- A. 外戚宦官，交替专权
- B. 赤壁之战，三国鼎立
- C. 短暂统一，开发江南
- D. 北魏改革，民族交融

5. 据图可知，隋唐时期扬州、苏州、杭州经济发展的相同因素是



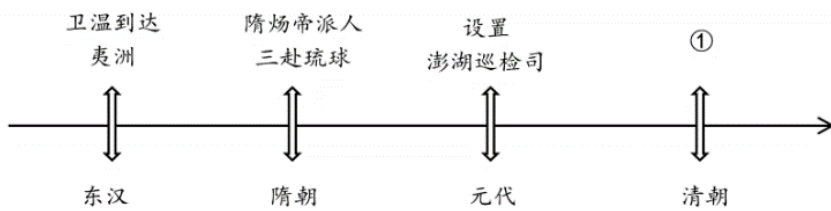
- A. 交通便利                      B. 海运发达                      C. 外贸兴隆                      D. 文化昌盛

6. 风俗图《瓦子内说书》中的配诗写道：“闲听瓦内讲评书，粉怪传奇胜翻读，打浑烟花皆悦众，全凭利口誉京都。”诗句反映了北宋（ ）



- A. 市民文化生活丰富              B. 商业发展高度繁荣              C. 已经打破市坊分区              D. 经济重心南移完成

7. 以下示意图呈现了中国古代对某一地区加强管辖的历史脉络。其中①处应为（ ）



- A. 设伊犁将军                      B. 设置宣政院                      C. 设置台湾府                      D. 设立军机处

8. 近年来在抗击新冠肺炎疫情的过程中，中医中药发挥了重要作用。以下中国古代医学家及其成就对应正确的是（ ）

- A. 华佗——《伤寒杂病论》                      B. 张仲景——五禽戏  
C. 宋应星——麻沸散                      D. 李时珍——《本草纲目》

9. 历史图表蕴含着丰富的史料信息。如下表反映了当时的中国（ ）

时间	人物	口号/主张
1861年	曾国藩	自强求富
1898年	康有为	变法革新



1911年	孙中山	民主共和
1915年	陈独秀	民主科学

- A. 进行近代化探索  
B. 摆脱了民族危机  
C. 赢得了民族独立  
D. 实现了国家富强

10. 中国共产党第二十次全国代表大会将于 2022 年下半年在北京召开。回顾党的发展历程，与下列两张图片相关的历史事件是（ ）



中共一大会址



浙江嘉兴红船


- A. 开天辟地，党的成立  
B. 武装起义，八一建军  
C. 星星之火，可以燎原  
D. 战略转移，万里长征

11. 实现“中国梦”需要“中国精神”。以下这些宝贵的精神财富产生的先后顺序是（ ）

①五四精神 ②抗战精神 ③井冈山精神 ④长征精神

- A. ①②③④  
B. ④②③①  
C. ①③④②  
D. ①④③②

12. 下图宣传画可以表明的态度是（ ）



- A. 打倒列强，除军阀  
B. 打土豪，分田地  
C. 军民一条心，打败鬼子军  
D. 同志们整齐步伐，奔向解放的战场

13. 2021 年 11 月 24 日，电影《长津湖》成为中国影史票房榜冠军。影片以抗美援朝为题材，该历史事件（ ）

①抵御了帝国主义的侵略扩张 ②保卫了中国人民和平生活  
③使祖国大陆获得统一 ④大大提高了我国的国际地位

- A. ①②③  
B. ①②④  
C. ①③④  
D. ②③④

14. 下面是某同学搜集的展示材料。该主题应是（ ）



歼-5型歼击机



核潜艇



核导弹方队



辽宁舰

- A. 人民空军的建立与发展
- B. 中国国防的建设与进步
- C. 导弹部队的发展与进步
- D. 人民海军的建立与发展

15. 在革命战争年代，以毛泽东为代表的中国共产党人探索了一条有中国特色的革命道路：在社会主义建设新时期，以邓小平为首的中国共产党人开创了中国特色社会主义建设道路：十八大以来，以习近平为首的中国共产党人走上了实现中华民族伟大复兴的发展道路。三者的共同点是（ ）

- A. 以俄国为师，走俄国的道路
- B. 开创中国特色社会主义道路
- C. 实事求是，从中国的国情出发
- D. 农村包围城市武装夺取政权

16. 14世纪，意大利艺术家开始以更写实的手法描绘人物形象，诗人们则更关注人的天性。这表明当时艺术作品宣扬的思想是

- A. 神权至上
- B. 君权神授
- C. 人文主义
- D. 君主立宪

17. 下图是资本主义制度初步确立时期的民主法制建设进程示意图，其中空白处应填入的内容依次是（ ）



- A. 《拿破仑法典》《独立宣言》《权利法案》
- B. 《权利法案》《解放黑人奴隶宣言》《拿破仑法典》
- C. 《独立宣言》《权利法案》《解放黑人奴隶宣言》
- D. 《权利法案》《独立宣言》《拿破仑法典》

18. 区分史实与史论是历史学习的重要要求。下列表述中属于“史论”的是（ ）

- A. 《共产党宣言》的作者是马克思、恩格斯
- B. 《共产党宣言》的发表，标志着马克思主义的诞生
- C. 《共产党宣言》发表于1948年2月
- D. 《共产党宣言》号召工人阶级用暴力推翻资产阶级统治

19. 《新全球史》说：“世界开始重建，而另一场战争也开始了。曾经击败德国和日本的联盟也解体了，在很短的时间里，美国和苏联及其各自的盟国已经摆好了作战的姿势，开始了主要在政治、经济和宣传层面的对抗。”材料中“另一场战争”指的是（ ）

- A. 南北战争
- B. 第一次世界大战
- C. 第二次世界大战
- D. 冷战

20. 某班开展主题探究活动，小明同学作了《万隆精神》《非洲年》和《巴拿马收回运河主权》的专题报告，其探究的主题最有可能是（ ）

- A. 亚非拉国家的新发展
- B. 亚非拉民族民主运动的高涨
- C. 国际共产主义运动兴起
- D. 世界殖民体系彻底崩溃



## 二、材料分析题（共 40 分）

### 21. 冰雪天地，一起向未来

材料一 1881 年，北洋水师学堂首先将已传入中国的滑冰纳入操法科（课）。19 世纪末，天津英租界“英租界运动场”和法租界“联合俱乐部”的创立，使得溜冰会员逐渐增多。此后不久，滑冰的队伍里开始出现了冰球，并在此基础上成立了天津冰球俱乐部。之后再传到北京，继而到达大连、哈尔滨等地。

——《我国冰雪运动的历史演进及发展趋向》

（1）依据材料一并结合所学，分析现代冰雪运动传入我国的背景。

#### 材料二 首钢发展历程

时期	阶段	状况
1919 至 1948 年	历经沧桑， 饱受磨难	首钢历经了北洋军阀的战乱、日本侵略者的占领、国民党政府的腐败。在此期间，工程建设缓慢，生产几度陷于停顿，30 年累计生铁只有 28.6 万吨。
1948 至 1978 年	①	1948 年 12 月 17 日，中国人民解放军解放了石景山钢铁厂，石钢成为北京市第一个国营的钢铁企业，解放后的石钢获得了新生。
1979 至 2002 年	②	1979 年，首钢人以“敢为天下先”的精神，作为国家确定的第一批试点单位，率先实行了承包制。广大干部职工发扬“敢闯、敢坚持、敢于苦干硬干”的“三敢”精神，不断争一流、创最佳，有力地推动了首钢自我改造、加速发展的步伐。
2003 至 现在	立志“三 创”，再铸 辉煌	2007 年，在史无前例的战略性搬迁调整中，首钢党委始终坚持以科学发展观为指导，以“创新创优创业，建设 21 世纪新首钢”为价值追求，坚定不移地推进先进文化建设。

（2）请将“改革腾飞，探索发展”“艰苦创业，成长壮大”填入材料二中的对应位置上。2022 北京冬奥会，百年工业遗存华丽“转身”，成为举世震惊的滑雪大跳台，这体现了北京办奥的什么理念。

#### 材料三



**奥林匹克全球合作伙伴**

爱彼迎	阿里巴巴	安联	滔讯	普利司通	可口可乐
英特尔	欧米茄	松下电器	宝洁	三星	丰田汽车
维萨					

**北京2022年冬奥会官方合作伙伴**

中国银行	中国国航	伊利集团	安踏公司	中国联通	首钢集团
中国石油	中国石化	国家电网	中国人保	中国三峡	

**北京2022年冬奥会官方赞助商**

青岛啤酒	燕京啤酒	金龙鱼	隆鑫农业	文投控股	北奥集团
恒源祥	奇安信	猿辅导	百胜中国	盼盼食品	

## 《北京2022年冬奥会和冬残奥会经济遗产报告（2022）》

北京冬奥组委近日发布《北京 2022 年冬奥会和冬残奥会经济遗产报告（2022）》显示，除 14 家奥林匹克全球合作伙伴外，北京冬奥会已签约 45 家赞助企业，涉及多家跨国企业。国际奥委会主席巴赫在接受专访时表示：“根据我们的预测，中国的冬季运动的市场价值在 2025 年将会达到 1500 亿美元。一些传统冰雪大国正在服务北京冬奥会，他们未来将继续受益于这次盛会。”

——《光明日报》

(3) 说出材料三反映的世界经济发展现象。谈谈这一现象产生的积极影响。

### 22. 独具特色的中国外交名片。

材料一 中国熊猫外赠情况表


时间	赠与国家	情况（过程）
1957年	苏联	1957年，新中国将大熊猫“平平”赠与苏联，这是新中国成立以来，我国国宝首次作为友好使者远赴异国他乡。
1972年	美国	1972年，尼克松总统完成访华的破冰之旅后，中国政府应美国的要求将“玲玲”和“兴兴”两只大熊猫赠与美国，以表达中国人民的友好情谊。



1972年	日本	1972年，中日正式建立外交关系后，日本赠予了中国樱花树苗和松树苗作为礼物，中国则回赠日本大熊猫“康康”和“兰兰”作为中日两国永久和平的象征。
1973年	法国	1973年，西方国家中第一个与中国建交的法国获赠一对大熊猫“燕燕”和“黎黎”，表达了中法之间和平友好的情谊。

(1) 依据材料一，说出中国外赠熊猫这一外交行为的作用。结合所学，说出新中国的外交政策。

材料二 小球转动大球——中国的乒乓外交

 <p>中美乒乓球运动员赛前握手</p>	 <p>毛泽东会见尼克松</p>	 <p>邓小平访问会见卡特总统</p>
<p>1971年，美国乒乓球代表团正式访问中国，这是新中国成立以来第一个美国代表团访问中国。“小球转动大球”的“乒乓外交”轰动了世界。</p>	<p>1972年，尼克松访华。中美双方签署了《联合公报》。美国在公报中声明：美国认识到，在台湾海峡两边的所有中国人都认为只有一个中国，台湾是中国的一部分。美国政府对这一立场不提出异议。</p>	<p>1979年，中美正式建交。经双方协定，签署了《中美建交公报》。文中明确表示，美国政府承认只有一个中国，台湾是中国的一部分。</p>

(2) 依据材料二，概括乒乓外交对中美关系的影响。结合所学，说出中美建交的基础。

材料三 在《中国国家形象全球调查报告 2019》中，高铁是中国科技领域中认知度最高的，是名副其实的中国“名片”。高铁核心技术已经实现 100% 国产化。现在“复兴号”采用的 254 项重要标准，都是中国标准，都比欧洲和日本标准要高，中国高铁有着自己的特色，“中国标准”在慢慢成为世界追逐的目标。

——《中国新闻网》

(3) 依据材料三概括“高铁”成为中国“名片”的原因。

材料四

中国外交名片



北京冬奥会“顶流”  
吉祥物冰墩墩



休斯顿世乒赛的中美组合



中国承建的首条国际高铁——安伊铁路

(4) 熊猫外交、乒乓外交和高铁外交是独具特色的中国外交名片。你认为当下还有哪些“中国特产”能够成为对外交往的新名片？说出理由。

23. 文物与考古

材料一

2022年的春晚上出现了一个“神秘嘉宾”——青铜大面具



青铜大面具

青铜大面具现藏于四川广汉三星堆博物馆，它宽 131cm，高 71cm，深 66cm，重 131 斤，距今已有 3000 多年的历史，是目前三星堆出土的形制最为完整、体量最大的青铜面具。面具由四个部分分铸，然后再合铸而成，经考证这种铸造技术来源于黄河流域的中原地区。

(1) 依据材料一，概括青铜大面具的特点。

材料二 《琉璃河遗址保护规划（2020 年——2035 年）》提出，将以西周燕国早期遗存及其背景环境为主体，建设考古遗址公园。

①周武王之灭纣，封召公於（于）北燕。 ——出自《史记·燕召公世家》	②房山琉璃河西周燕都遗址 1193 号大墓，该墓葬于 1986 年首次被发掘，出土了以克壘、克盃为代表众多文物。	③克盃，酒器，器高 27 厘米、长 25. 7 厘米、宽 16 厘米、口径 14. 4 厘米，器身刻有 43 字铭文。	④克盃内铭文，大意是，周王说：太保（指召公）……我非常满意你的供享，命克（召公的儿子）做燕地的君侯……

(2) 将材料二中的史料进行分类。（填写序号，多选、少选、错选均不得分）

属于实物史料的是\_\_\_\_\_。

属于文献史料的是\_\_\_\_\_。

(3) 二重证据法是把发掘的出土文物与文献的记载相互验证的一种历史研究方法。请你依据该方法用上述材料论证“琉璃河遗址是燕国受封地”。

材料三 近年来，不少考古发现吸引了大批“粉丝”，曾被视为“小众”“冷门”的考古日益走向大众、掀起热度。三星堆遗址新发现全程直播，引发众多网友关注；河南博物院推出的数字考古活动，吸引 3000 万人次“在线考古”；陕西省西安市白鹿原江村大墓被确定为汉文帝霸陵登上热搜……

对于考古热的出现，有下面一些认识：

- A. 线上直播等传播手段的创新成为了公众走近考古的契机和窗口。
- B. 了解中华文明起源和发展的强烈需求。
- C. 考古结果体现中华文明的辉煌成就与悠久灿烂的历史文化。
- D. 受盗墓小说及热播剧的影响，考古如同挖土寻宝，可以带来惊喜并且快速致富。

(4) 以上认识正确的是\_\_\_\_\_（写字母）通过历史课的学习你认为考古还有哪些意义。

24. 环境问题是人类社会可持续发展的关键问题。

材料一 新旧大陆之间的接触与联系使得新的生物物种相互流传，特别是起源于美洲的玉米、马铃薯、西红柿等，不仅改变了各洲人们的生活方式，而且促进了世界人口的增加。与此同时，旧大陆食草的马、牛、羊等动物来





到气候适宜、水草丰足的新大陆，其繁殖的数量远远超出了土地能提供的牧养量，地表植被因而被逐渐破坏，土地沙化，水土流失日趋严重。

——《从生态环境视角看新航路开辟后世界的变化》

(1) 依据材料一并结合所学，说出促成“新旧大陆之间的接触与联系”的事件。谈谈“生物物种相互流传”带来的影响。

材料二 下图为《机器时代的享受》。它描绘了 19 世纪后期英国有钱人坐蒸汽船游览泰晤士河的场景。在他们风光的背后，大批的农村人口背井离乡涌入城市，大量的贫民常年居住在没有基本卫生设施和通风设备的住房内。许多巨大的蒸汽轮船，发出呛人的浓烟，岸边工厂排放的污水，使河水变得浑浊不堪。

——《文明的力量》



(2) 依据材料二并结合所学，指出其时代背景。概括“机器时代”带来 社会变化。

材料三 全球治理环境问题情况简表

时间	内容
20 世纪 50 年代	英国颁布《清洁空气法案》，不仅对工业废气排放进行管控，还对家庭排放的废气进行严格的限制。
2000 年以来	法国巴黎一个高科技的垃圾焚烧站，焚烧已经过分检的垃圾，用其发电输往国家电网。
2009 年	在哥本哈根会议上，来自 193 个国家的代表更新了《京都议定书》的内容，规定了更严格的温室气体排放限制。
2015 年	中国专门设立 200 亿元人民币的气候变化合作基金，协助其他发展中国家一起应对气候变化。
2018 年底	中国可再生能源发电装机容量达到 7.3 亿千瓦，占全部电力装机的 38.3%。

(3) 依据材料三，说出全球治理环境问题的手段。谈谈为解决当下的环境问题，身为中学生应该怎么做？

# 参考答案



本试卷共 10 页，共 70 分，考试时长 70 分钟。考生务必将答案答在答题纸上，在试卷上作答无效。考试结束后，将答题纸交回，试卷自行保存。

## 一、选择题（每题 1.5 分，共 30 分。）

1. 原始农业为中国古代文明社会形成奠定了物质基础。如果要考证中国是世界农业起源地之一，最可信的史料是（ ）

- A. 良渚古城遗址出土的玉器
- B. 《史记》中关于农业起源的记载
- C. 半坡粟类粮食作物的遗存
- D. 北京人遗址中发现 灰烬、烧石等

【答案】C

【解析】

【详解】根据所学可知，半坡粟类粮食作物的遗存可以作为“中国是世界农业起源地之一”的证明，C 项正确；玉器不能反映农业的起源，与材料无关。排除 A 项；《史记》属于史学著作，其中关于农业起源的记载不能作为最可信的史料。排除 B 项；北京人遗址中发现的灰烬、烧石等能证明的是北京人学会用火，排除 D 项。故选 C 项。

2. 下图是某学生整理的学习卡片。他学习的主题是（ ）

目的：顺应时势，富国强兵  
措施：“废井田、开阡陌”；“有军功者，各以率受上爵”等；  
评价：实现了富国强兵

- A. 管仲改革
- B. 商鞅变法
- C. 孝文帝改革
- D. 大化改新

【答案】B

【解析】

【详解】根据所学可知，在战国，商鞅在秦国进行变法，他“废井田、开阡陌”、“有军功者，各以率受上爵”，这些措施实现了富国强兵，B 项正确；管仲改革“相地而衰征”，孝文帝改革是改汉姓，大化改新在日本，排除 ACD 三项。故选 B 项。

3. 以下是中国古代一位历史人物年谱（部分）。对此解读正确的是（ ）

公元前 246 年	公元前 230 年至公元前 221 年	公元前 215 年	公元前 214 年	公元前 213 年	公元前 210 年
即王位	灭六国，统一天下；创立中央集权制度，分天下为 36 郡；修驰道，书同文，统一度量衡	开凿灵渠	派遣蒙恬北击匈奴	在北方边境筑长城	崩葬于骊山

- A. 该年谱用年号纪年
- B. 汉武帝开创了皇帝制度
- C. 该帝王在位 33 年
- D. 秦始皇建立了统一王朝

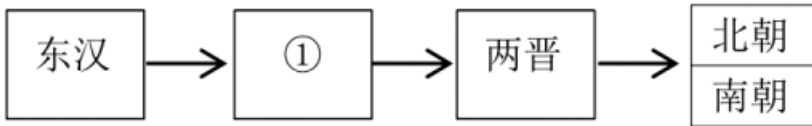
【答案】D



【解析】

【详解】根据材料“公元前 230 年至公元前 221 年”“灭六国，统一天下；创立中央集权制度，分天下为 36 郡”结合所学可知此人是秦始皇，秦始皇在公元前 221 年统一六国，建立了统一王朝，D 项正确；A 项在材料中没有体现，排除 A 项；开创皇帝制度的是秦始皇，排除 B 项；秦始皇从公元前 221 年当皇帝，到公元前 210 年驾崩，在位 11 年，排除 C 项。故选 D 项。

4. 与以下示意图中①相关的史实是（ ）



- A. 外戚宦官，交替专权
- B. 赤壁之战，三国鼎立
- C. 短暂统一，开发江南
- D. 北魏改革，民族交融

【答案】B

【解析】

【详解】按照朝代顺序为东汉、三国两晋南北朝，所以①是三国，208 年赤壁之战，为三国鼎立奠定基础，B 项正确；东汉后期外戚宦官，交替专权，排除 A 项；西晋时期短暂统一，开发江南，排除 C 项；北魏改革，民族交融是北朝孝文帝改革，排除 D 项。故选 B 项。

5. 据图可知，隋唐时期扬州、苏州、杭州经济发展的相同因素是



- A. 交通便利
- B. 海运发达
- C. 外贸兴隆
- D. 文化昌盛

【答案】A

【解析】

【详解】依据图片信息可知，隋唐时期扬州、苏州、杭州经济发展的相同因素是交通便利，地处大运河沿岸。隋唐大运河以洛阳为中心，南起余杭(今杭州)，北至涿郡(今北京)。605 年，隋炀帝即命开凿大运河，610 年，隋炀帝继续开凿江南运河，使得镇江至杭州段通航。至此，以洛阳为中心，通过通济渠、永济渠两大渠道，沟通了海河、黄河、淮河、长江、钱塘江五大水系，并把京师、东都、涿郡(幽州)、浚仪(汴州)、梁郡(宁州)、山阳(楚州)、江都(扬州)、吴郡(苏州)、余杭(杭州)等通都大邑联缀在一起，从而加强了各地区间的联系。当时运河上“商船旅往返，船乘不绝”，隋代大运河造就了当时的中心大都市，A 项符合题意；综上所述 BCD 三项均与图片信息不符，排除。故选 A。

6. 风俗图《瓦子内说书》中的配诗写道：“闲听瓦内讲评书，粉怪传奇胜翻读，打浑烟花皆悦众，全凭利口誉京都。”诗句反映了北宋（ ）



○九十 曲艺 宋 瓦子内说书

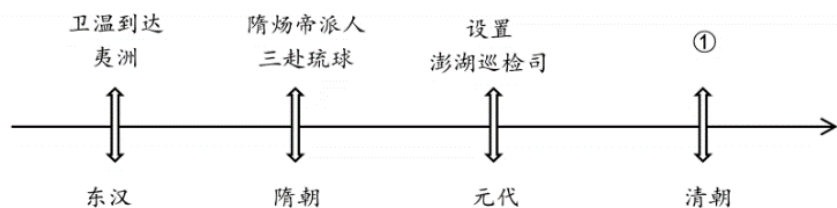
- A. 市民文化生活丰富      B. 商业发展高度繁荣      C. 已经打破市坊分区      D. 经济重心南移完成

【答案】A

【解析】

【详解】根据所学和材料“粉怪传奇胜翻读，打浑烟花皆悦众、誉京都”可知，京都居民在听评书中丰富了生活，娱乐了心情，体现出市民文化生活丰富，A项正确；评书是文化普及的表现，不是商业、商业市坊分区、经济重心，排除BCD三项。故选A项。

7. 以下示意图呈现了中国古代对某一地区加强管辖的历史脉络。其中①处应为（ ）



- A. 设伊犁将军      B. 设置宣政院      C. 设置台湾府      D. 设立军机处

【答案】C

【解析】

【详解】1683年，清军进攻台湾，郑氏军队战败，台湾归入清朝的版图。1684年，清朝设置台湾府，隶属福建省。台湾府的设置，加强了台湾同祖国内地的联系，巩固了祖国的东南海防，台湾的社会经济发展也步入了新的历史时期。数轴描述的是古代历朝对台湾地区的管辖，清朝设立的是台湾府，C项正确；设伊犁将军是管理新疆地区机构，排除A项；宣政院是元朝时期管理西藏地区机构，排除B项；军机处是辅助皇帝处理政事的中枢机构，排除D项。故选C项。

8. 近年来在抗击新冠肺炎疫情的过程中，中医中药发挥了重要作用。以下中国古代医学家及其成就对应正确的是（ ）

- A. 华佗——《伤寒杂病论》      B. 张仲景——五禽戏  
C. 宋应星——麻沸散      D. 李时珍——《本草纲目》

【答案】D

【解析】



【详解】根据所学可知李时珍著有《本草纲目》，D项正确；华佗的五禽戏，张仲景的《伤寒杂病论》，宋应星的《天工开物》，排除ABC项。故选D项。

9. 历史图表蕴含着丰富的史料信息。如下表反映了当时的中国（ ）

时间	人物	口号/主张
1861年	曾国藩	自强求富
1898年	康有	变法革新
1911年	孙中山	民主共和
1915年	陈独秀	民主科学

- A. 进行近代化探索
- B. 摆脱了民族危机
- C. 赢得了民族独立
- D. 实现了国家富强

【答案】A

【解析】

【详解】考查点：中国近代化探索。解题思路：根据所学知识可知，自强求富是洋务运动的口号，洋务运动主张学习西方的先进技术。变法革新是维新变法运动的口号，民主共和是辛亥革命的口号。维新变法与民主共和都主张学习西方的先进政治制度。民科科学是新文化运动的口号，新文化运动主张学习西方的文化。由此判断，这张图表综合反映了中国近代从器物到制度再到思想文化逐层深入的近代化探索过程，A正确；中国摆脱民族危机、实现民族独立是在新中国成立之时，BC错误；独立是国家富强的前提，在1861-1915年期间我国一直处于半殖民地半封建社会，没有实现国家富强，D错误。综上故选A。

10. 中国共产党第二十次全国代表大会将于2022年下半年在北京召开。回顾党的发展历程，与下列两张图片相关的历史事件是（ ）



中共一大会址



浙江嘉兴红船

- A. 开天辟地，党的成立
- B. 武装起义，八一建军
- C. 星星之火，可以燎原
- D. 战略转移，万里长征

【答案】A



【解析】

【详解】根据所学可知，1921年，中国共产党成立，图片就体现了这一点，这是一个开天辟地的事件，中国革命面貌焕然一新了，A项正确；南昌起义是武装起义、八一建军，毛泽东建立井冈山根据地是星星之火、可以燎原，1934年到1936年红军长征是战略转移、万里长征，排除BCD三项。故选A项。

11. 实现“中国梦”需要“中国精神”。以下这些宝贵的精神财富产生的先后顺序是（ ）

①五四精神 ②抗战精神 ③井冈山精神 ④长征精神


- A. ①②③④
- B. ④②③①
- C. ①③④②
- D. ①④③②

【答案】C

【解析】

【详解】根据所学可知①五四精神诞生于1919年的五四运动，五四运动是一场彻底地反帝反封建的爱国主义运动，是中国新民主主义革命的开端。五四精神的内涵是忧国忧民、热爱祖国、积极创新、探索科学的爱国主义精神；②抗日精神诞生于我国1937年开始的全民族抗日战争时期。抗战精神，是一种伟大的民族精神是中华民族源远流长的爱国主义在抗日战争中的锤炼和升华；③井冈山精神诞生于1927年至1937年间，即土地革命时期的井冈山革命根据地。井冈山精神的内涵可以概括为坚定不移的革命信念，坚持党的绝对领导，密切联系人民群众的思想作风，一切从实际出发的思想路线，艰苦奋斗的作风；④长征精神诞生于1934年开始的长征时期。其内涵包括不怕牺牲、前赴后继的精神；勇往直前、坚韧不拔的精神；众志成城、团结互助的精神；百折不挠、克服困难的精神。综上所述，其正确顺序为①③④②，C项正确；ABD项不符题意，排除。故选C项。

12. 下图宣传画可以表明的态度是（ ）



- A. 打倒列强，除军阀
- B. 打土豪，分田地
- C. 军民一条心，打败鬼子军
- D. 同志们整齐步伐，奔向解放的战场

【答案】C

【解析】

【详解】根据图片中“军”“民”驾驶着代表“抗战力量”的车辆，在碾压日本军人，结合所学材料可知，材料体现军民一心，打败日本帝国主义，C项正确；根据所学知识点可知，打倒列强，除军阀是北伐时期的事情，排除A项；根据所学知识点可知，打土豪，分田地是共产党的土地革命，排除B项；根据所学知识点可知，奔向解放的战场是解放战争时期，排除D项。故选C项。

13. 2021年11月24日，电影《长津湖》成为中国影史票房榜冠军。影片以抗美援朝为题材，该历史事件（ ）

- ①抵御了帝国主义的侵略扩张
- ②保卫了中国人民和平生活
- ③使祖国大陆获得统一
- ④大大提高了我国的国际地位

- A. ①②③
- B. ①②④
- C. ①③④
- D. ②③④



【答案】B

【解析】

【详解】根据所学可知，1950年到1953年，中国进行了抗美援朝战争，其中发生了包括长津湖战役在内的很多战役，中国最终取得胜利，这均战争，抵御了帝国主义的侵略扩张，保卫了中国人民和平生活，大大提高了我国的国际地位，B项正确；西藏和平解放使祖国大陆获得统一，排除ACD三项。故选B项。

14. 下面是某同学搜集的展示材料。该主题应是（ ）



歼-5型歼击机



核潜艇



核导弹方队



辽宁舰

- A. 人民空军的建立与发展
- B. 中国国防的建设与进步
- C. 导弹部队的发展与进步
- D. 人民海军的建立与发展

【答案】B

【解析】

【详解】材料中既有空军，也有海军，还有导弹部队，这些都与我国的国防建设相关，体现了中国国防的建设与进步，B项正确；ACD项都不全面，排除ACD项。故选B项。

15. 在革命战争年代，以毛泽东为代表的中国共产党人探索了一条有中国特色的革命道路：在社会主义建设新时期，以邓小平为首的中国共产党人开创了中国特色社会主义建设道路：十八大以来，以习近平为首的中国共产党人走上了实现中华民族伟大复兴的发展道路。三者的共同点是（ ）

- A. 以俄国为师，走俄国的道路
- B. 开创中国特色社会主义道路
- C. 实事求是，从中国的国情出发
- D. 农村包围城市武装夺取政权

【答案】C

【解析】

【详解】据所学知识可知，在革命战争年代，以毛泽东为代表的中国共产党人探索了一条有中国特色的革命道路；在社会主义建设新时期，以邓小平为首的中国共产党人开创了有中国特色的社会主义建设道路。十八大以来，以习近平为首的中国共产党人走上了实现中华民族伟大复兴的发展道路，三者都实事求是，从中国的国情出发，分别开创了我国的革命道路和建设道路。C项正确；ABD项不是三者的共同点，都具有片面性，不符合题意，排除。故选C项。

16. 14世纪，意大利艺术家开始以更写实的手法描绘人物形象，诗人们则更关注人的天性。这表明当时文艺作品宣扬的思想是

- A. 神权至上
- B. 君权神授
- C. 人文主义
- D. 君主立宪

【答案】C

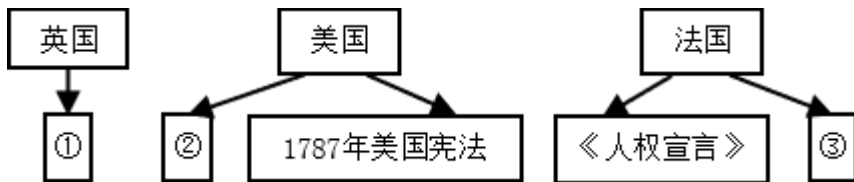
【解析】

【详解】依据题干信息“写实的手法描绘人物形象”“更关注人的天性”这表明当时文艺作品宣扬的思想是人文主义。结合所学可知，文艺复兴兴起于14世纪中叶的意大利，15至16世纪扩展到欧洲其它地方，文艺复兴通过弘扬古代希腊、罗马文化的方式，反对教会宣扬的陈腐说教，发起了一场崭新的、促使人们思想解放的文化运动，其实质是



资产阶级思想文化的兴起。其核心思想是人文主义，新兴的资产阶级要求以人为中心，而不是以神为中心，提倡发扬人的个性，追求人在现实生活中的幸福，所以 C 项符合题意；A 项文艺复兴反对神权至上，排除；B 项在题目中未体现，排除。故选 C。

17. 下图是资本主义制度初步确立时期的民主法制建设进程示意图，其中空白处应填入的内容依次是（ ）



- A. 《拿破仑法典》《独立宣言》《权利法案》
- B. 《权利法案》《解放黑人奴隶宣言》《拿破仑法典》
- C. 《独立宣言》《权利法案》《解放黑人奴隶宣言》
- D. 《权利法案》《独立宣言》《拿破仑法典》

【答案】D

【解析】

【详解】1689年，英国通过《权利法案》确立了君主立宪制的资产阶级统治。因此，①是《权利法案》；美国在独立战争时期颁布文献是《独立宣言》；故②是《独立宣言》；1804年，拿破仑帝国时期颁布《拿破仑法典》，故③填写《拿破仑法典》。D项正确；A顺序错误，排除A项；《解放黑人奴隶宣言》是美国南北战争是颁布文献，排除B和C项。故选D项。

18. 区分史实与史论是历史学习的重要要求。下列表述中属于“史论”的是（ ）

- A. 《共产党宣言》的作者是马克思、恩格斯
- B. 《共产党宣言》的发表，标志着马克思主义的诞生
- C. 《共产党宣言》发表于1948年2月
- D. 《共产党宣言》号召工人阶级用暴力推翻资产阶级统治

【答案】B

【解析】

【详解】史实指的是历史的真实情况，不带有作者自己的感情色彩；史论是分析历史事实的看法和状态，带有明显的个人情感。《共产党宣言》的发表，标志马克思主义的诞生，是对《共产党宣言》的看法，说明一种观点，因此属于史论，B项正确；ACD项是对当时的历史事件的客观描述，反映的是历史的真实情况，属于史实，不符题意，排除。故选B项。

19. 《新全球史》说：“世界开始重建，而另一场战争也开始了。曾经击败德国和日本的联盟也解体了，在很短的时间里，美国和苏联及其各自的盟国已经摆好了作战的姿势，开始了主要在政治、经济和宣传层面的对抗。”材料中“另一场战争”指的是（ ）

- A. 南北战争
- B. 第一次世界大战
- C. 第二次世界大战
- D. 冷战

【答案】D

【解析】





【详解】根据所学可知，二战结束后，反法西斯联盟瓦解，因意识形态、国家利益的冲突，美国和苏联开始了冷战，D项正确；材料说的是美国和苏联两个国家，南北战争、第一次世界大战时均没有苏联，第二次世界大战时是美国和苏联联合而不是对抗，排除ABC三项。故选D项。

20. 某班开展主题探究活动，小明同学作了《万隆精神》《非洲年》和《巴拿马收回运河主权》的专题报告，其探究的主题最有可能是（ ）

- A. 亚非拉国家的新发展
- B. 亚非拉民族民主运动的高涨
- C. 国际共产主义运动兴起
- D. 世界殖民体系彻底崩溃

【答案】A

【解析】

【详解】万隆会议是1955年亚洲和非洲国家政府首脑在印度尼西亚的万隆召开的第一次没有西方殖民者参加的会议。20世纪五六十年代，非洲先后有三十多个国家取得独立，仅1960年一年非洲就出现7个独立国家，因此这一年被称为“非洲独立年”。1999年12月，巴拿马人民收回运河主权。他们所反映的时代主题是二战后亚非拉国家的新发展，A项正确；材料内容不是民主运动的高涨，不是国际共产主义运动兴起，排除BC项；1990年纳米比亚独立，标志世界殖民体系彻底崩溃，排除D项。故选A项。

## 二、材料分析题（共40分）

21. 冰雪天地，一起向未来

材料一 1881年，北洋水师学堂首先将已传入中国的滑冰纳入操法科（课）。19世纪末，天津英租界“英租界运动场”和法租界“联合俱乐部”的创立，使得溜冰会员逐渐增多。此后不久，滑冰的队伍里开始出现了冰球，并在此基础上成立了天津冰球俱乐部。之后再传到北京，继而到达大连、哈尔滨等地。

——《我国冰雪运动的历史演进及发展趋向》

（1）依据材料一并结合所学，分析现代冰雪运动传入我国的背景。

材料二 首钢发展历程

时期	阶段	状况
1919至1948年	历经沧桑，饱受磨难	首钢历经了北洋军阀的战乱、日本侵略者的占领、国民党政府的腐败。在此期间，工程建设缓慢，生产几度陷于停顿，30年累计生产生铁只有28.6万吨。
1948至1978年	①	1948年12月17日，中国人民解放军解放了石景山钢铁厂，石钢成为北京市第一个国营的钢铁企业，解放后的石钢获得了新生。
1979至2002年	②	1979年，首钢人以“敢为天下先”的精神，作为国家确定的第一批试点单位，率先实行了承包制。广大干部职工发扬“敢闯、敢坚持、敢于苦干硬干”的“三敢”精神，不断争一流、创最佳，有力地推动了首钢自我改造、加速发展的步伐。
2003至现在	立志“三创”，再铸辉煌	2007年，在史无前例的战略性搬迁调整中，首钢党委始终坚持以科学发展观为指导，以“创新创优创业，建设21世纪新首钢”为价值追求，坚定不移地推进先进文化建设。

（2）请将“改革腾飞，探索发展”“艰苦创业，成长壮大”填入材料二中的对应位置上。2022北京冬奥会，百年工业遗存华丽“转身”，成为举世震惊的滑雪大跳台，这体现了北京办奥的什么理念。



## 《北京2022年冬奥会和冬残奥会经济遗产报告（2022）》

北京冬奥组委近日发布《北京 2022 年冬奥会和冬残奥会经济遗产报告（2022）》显示，除 14 家奥林匹克全球合作伙伴外，北京冬奥会已签约 45 家赞助企业，涉及多家跨国企业。国际奥委会主席巴赫在接受专访时表示：“根据我们的预测，中国的冬季运动的市场价值在 2025 年将会达到 1500 亿美元。一些传统冰雪大国正在服务北京冬奥会，他们未来将继续受益于这次盛会。”

——《光明日报》

(3) 说出材料三反映的世界经济发展现象。谈谈这一现象产生的积极影响。

**【答案】** (1) 洋务运动、西方文明的影响等。

(2) ①艰苦创业，成长壮大；②改革腾飞，探索发展；理念：共享和开放。

(3) 经济全球化；经济全球化促进了国际投资和国际贸易迅速增长，促进了全球贸易和经济的发展。

**【解析】**

**【详解】** (1) 根据材料一“北洋水师学堂”“天津英租界运动场和法租界联合俱乐部的创立，使得溜冰会员逐渐增多”结合所学知识可知，现代冰雪运动传入我国的背景是洋务运动、西方文明的影响等。



(2) 根据材料二结合所学知识，1948年至1978年，是中国“艰苦创业，成长壮大”的时期。1978年我国进行改革开放，1979年至2002年是中国“改革腾飞，探索发展”的时期。2022北京冬奥会，百年工业遗存华丽“转身”，成为举世震惊的滑雪大跳台，这体现了北京办奥的共享和开放的理念。

(3) 根据材料三结合所学知识可知，材料三反映了经济全球化现象。经济全球化是当今世界经济和科技发展的产物，在一定程度上适应了生产力进一步发展的要求，促进了国际投资和国际贸易迅速增长，促进了全球贸易和经济的发展。



## 22. 独具特色的中国外交名片。

材料一 中国熊猫外赠情况表

时间	赠与国家	情况（过程）
1957年	苏联	1957年，新中国将大熊猫“平平”赠与苏联，这是新中国成立以来，我国国宝首次作为友好使者远赴异国他乡。
1972年	美国	1972年，尼克松总统完成访华的破冰之旅后，中国政府应美国的要求将“玲玲”和“兴兴”两只大熊猫赠与美国，以表达中国人民的友好情谊。
1972年	日本	1972年，中日正式建立外交关系后，日本赠与了中国樱花树苗和松树苗作为礼物，中国则回赠日本大熊猫“康康”和“兰兰”作为中日两国永久和平的象征。
1973年	法国	1973年，西方国家中第一个与中国建交的法国获赠一对大熊猫“燕燕”和“黎黎”，表达了中法之间和平友好的情谊。

(1) 依据材料一，说出中国外赠熊猫这一外交行为的作用。结合所学，说出新中国的外交政策。

材料二 小球转动大球——中国的乒乓外交

 <p>中美乒乓球运动员赛前握手</p>	 <p>毛泽东会见尼克松</p>	 <p>邓小平访问会见卡特总统</p>
<p>1971年，美国乒乓球代表团正式访问中国，这是新中国成立以来第一个美国代表团访问中国。“小球转动大球”的“乒乓外交”轰动了世界。</p>	<p>1972年，尼克松访华。中美双方签署了《联合公报》。美国在公报中声明：美国认识到，在台湾海峡两岸的所有中国人都认为只有一个中国，台湾是中国的一部分。美国政府对这一立场不提出异议。</p>	<p>1979年，中美正式建交。经双方协定，签署了《中美建交公报》。文中明确表示，美国政府承认只有一个中国，台湾是中国的一部分。</p>

(2) 依据材料二，概括乒乓外交对中美关系的影响。结合所学，说出中美建交的基础。



——《中国新闻网》

材料三 在《中国国家形象全球调查报告 2019》中，高铁是中国科技领域中认知度最高的，是名副其实的“名片”。高铁核心技术已经实现 100% 国产化。现在“复兴号”采用的 254 项重要标准，都是中国标准，都比欧洲和日本标准要高，中国高铁有着自己的特色，“中国标准”在慢慢成为世界追逐的目标。

(3) 依据材料三概括“高铁”成为中国“名片”的原因。

材料四

中国外交名片



北京冬奥会“顶流”  
吉祥物冰墩墩



休斯顿世乒赛的中美组合



中国承建的首条国际高铁——安伊铁路

(4) 熊猫外交、乒乓外交和高铁外交是独具特色的中国外交名片。你认为当下还有哪些“中国特产”能够成为对外交往的新名片？说出理由。

【答案】 (1) 表达了中国和平友好的情谊；独立自主的和平外交政策。

(2) 民间推动官方，为中美关系缓和打开了大门；符合两国的国家利益。

(3) 高铁是中国科技领域中认知度最高的；高铁核心技术都比欧洲和日本标准要高。

(4) 茅台外交，理由：茅台酒是中国非物质文化遗产的重要组成部分，可以通过酒文化推动中国外交发展。

【解析】

【小问 1 详解】

依据材料一“我国国宝首次作为友好使者远赴异国他乡。”“以表达中国人民的友好情谊。”可得出国外赠熊猫这一外交行为的作用表达了中国和平友好的情谊，推动了中国外交的发展；依据所学可知，新中国初期实行独立自主的和平外交方针。

【小问 2 详解】

依据材料二“小球转动大球”的“乒乓外交”轰动了世界可得出民间推动官方，为中美关系缓和打开了大门；20 世纪 70 年代初，改善中美关系成为两国共同的要求，符合两国的国家利益。

【小问 3 详解】

依据材料三“高铁是中国科技领域中认知度最高的”可得出高铁是中国科技领域中认知度最高的；依据材料“中国标准，都比欧洲和日本标准要高，中国高铁有着自己的特色”可得出高铁核心技术都比欧洲和日本标准要高。

【小问 4 详解】

依据所学可知从茅台外交列举，结合所学从茅台酒是中国非物质文化遗产的重要组成部分，可以通过酒文化推动中国外交发展说明理由。

23. 文物与考古

材料一

2022 年的春晚上出现了一个“神秘嘉宾”——青铜大面具



青铜大面具

青铜大面具现藏于四川广汉三星堆博物馆，它宽 131cm，高 71cm，深 66cm，重 131 斤，距今已有 3000 多年的历史，是目前三星堆出土的形制最为完整、体量最大的青铜面具。面具由四个部分分铸，然后再合铸而成，经考证这种铸造技术来源于黄河流域的中原地区。

(1) 依据材料一，概括青铜大面具的特点。

材料二 《琉璃河遗址保护规划（2020 年——2035 年）》提出，将以西周燕国早期遗存及其背景环境为主体，建设考古遗址公园。

①周武王之灭纣，封召公於（于）北燕。 ——出自《史记·燕召公世家》	②房山琉璃河西周燕都遗址 1193 号大墓，该墓葬于 1986 年首次被发掘，出土了以克壘、克盃为代表众多文物。	③克盃，酒器，器高 27 厘米、长 25. 7 厘米、宽 16 厘米、口径 14. 4 厘米，器身刻有 43 字铭文。	④克盃内铭文，大意是，周王说：太保（指召公）……我非常满意你的供享，命克（召公的儿子）做燕地的君侯……

(2) 将材料二中的史料进行分类。（填写序号，多选、少选、错选均不得分）

属于实物史料的是\_\_\_\_\_。

属于文献史料的是\_\_\_\_\_。

(3) 二重证据法是把发掘的出土文物与文献的记载相互验证的一种历史研究方法。请你依据该方法用上述材料论证“琉璃河遗址是燕国受封地”。

材料三 近年来，不少考古发现吸引了大批“粉丝”，曾被视为“小众”“冷门”的考古日益走向大众、掀起热度。三星堆遗址新发现全程直播，引发众多网友关注；河南博物院推出的数字考古活动，吸引 3000 万人次“在线考古”；陕西省西安市白鹿原江村大墓被确定为汉文帝霸陵登上热搜……

对于考古热的出现，有下面一些认识：

- A. 线上直播等传播手段的创新成为了公众走近考古的契机和窗口。
- B. 了解中华文明起源和发展的强烈需求。
- C. 考古结果体现中华文明的辉煌成就与悠久灿烂的历史文化。
- D. 受盗墓小说及热播剧的影响，考古如同挖土寻宝，可以带来惊喜并且快速致富。

(4) 以上认识正确的是\_\_\_\_\_（写字母）通过历史课的学习你认为考古还有哪些意义。

【答案】（1）历史悠久，工艺精湛，铸造技术来源于黄河流域的中原地区。

(2) ①. ②③ ②. ①④

(3) 克盃内铭文可以印证封召公於（于）北燕



(4) A: 了解过去, 丰富历史记忆, 考古可以让一个民族的历史变得更加透明, 通过历史对现实和社会以后的发展都会有很好的启迪意义。

**【解析】**

**【小问 1 详解】**

根据材料一“距今已有 3000 多年的历史, 是目前三星堆出土的形制最为完整、体量最大的青铜面具。面具由四个部分分铸, 然后再合铸而成, 经考证这种铸造技术来源于黄河流域的中原地区。”可以从历史悠久, 工艺精湛, 铸造技术来源于黄河流域的中原地区来回答青铜大面具的特点。

**【小问 2 详解】**

根据所学可知实物历史资料是指各类文物、遗址、古迹、碑刻、雕塑、绘画等, ②房山琉璃河西周燕都遗址 1193 号大墓、③克盃, 酒器属于实物史料; 历史文献是与研究时间相近的人所写的历史书籍等, 早期的历史文献还有甲骨文、金文等, 故①④属于文献史料。

**【小问 3 详解】**

二重证据法是把发掘的出土文物与文献的记载相互验证的一种历史研究方法。根据材料二《史记》记载“周武王之灭纣, 封召公於(于)北燕”, 即燕国是召公的封地; “克盃内铭文, 大意是, 周王说: 太保(指召公)……我非常满意你的供享, 命克(召公的儿子)做燕地的君侯……”通过考古, 房山琉璃河西周燕都遗址 1193 号大墓中发现克盃, 从而论证“琉璃河遗址是燕国受封地”。

**【小问 4 详解】**

根据材料“近年来, 不少考古发现吸引了大批‘粉丝’, 曾被视为‘小众’的考古日益走向大众、掀起热度……”说明线上直播等传播手段的创新成为了公众走近考古的契机和窗口。故选 A 项。BC 项在材料中不能体现; D 项说法错误, 盗墓违反法律。根据教材结合所学可从了解过去, 丰富历史记忆, 考古可以让一个民族的历史变得更加透明, 通过历史对现实和社会以后的发展都会有很好的启迪意义, 来回答考古的意义。

24. 环境问题是人类社会可持续发展的关键问题。

材料一 新旧大陆之间的接触与联系使得新的生物物种相互流传, 特别是起源于美洲的玉米、马铃薯、西红柿等, 不仅改变了各洲人们的生活方式, 而且促进了世界人口的增加。与此同时, 旧大陆食草的马、牛、羊等动物来到气候适宜、水草丰足的新大陆, 其繁殖的数量远远超出了土地能提供的牧养量, 地表植被因而被逐渐破坏, 土地沙化, 水土流失日趋严重。

——《从生态环境视角看新航路开辟后世界的变化》

(1) 依据材料一并结合所学, 说出促成“新旧大陆之间的接触与联系”的事件。谈谈“生物物种相互流传”带来的影响。

材料二 下图为《机器时代的享受》。它描绘了 19 世纪后期英国有钱人坐蒸汽船游览泰晤士河的场景。在他们风光的背后, 大批的农村人口背井离乡涌入城市, 大量的贫民常年居住在没有基本卫生设施和通风设备的住房内。许多巨大的蒸汽轮船, 发出呛人的浓烟, 岸边工厂排放的污水, 使河水变得浑浊不堪。

——《文明的力量》



(2) 依据材料二并结合所学，指出其时代背景。概括“机器时代”带来的社会变化。

材料三 全球治理环境问题情况简表

时间	内容
20 世纪 50 年代	英国颁布《清洁空气法案》，不仅对工业废气排放进行管控，还对家庭排放的废气进行严格的限制。
2000 年以来	法国巴黎一个高科技的垃圾焚烧站，焚烧已经过分检的垃圾，用其发电输往国家电网。
2009 年	在哥本哈根会议上，来自 193 个国家的代表更新了《京都议定书》的内容，规定了更严格的温室气体排放限制。
2015 年	中国专门设立 200 亿元人民币的气候变化合作基金，协助其他发展中国家一起应对气候变化。
2018 年底	中国可再生能源发电装机容量达到 7.3 亿千瓦，占全部电力装机的 38.3%。

(3) 依据材料三，说出全球治理环境问题的手段。谈谈为解决当下的环境问题，身为中学生应该怎么做？

**【答案】** (1) 哥伦布发现新大陆。积极影响：促进了资本主义的产生和发展，促进了全球范围内动植物品种的交流与传播，各地往来日益密切，世界开始连为一个整体。消极影响：新航路开辟后，英法等国对亚洲、非洲、美洲进行殖民扩张，掠夺财富和资源，野蛮屠杀，同时在发展同时环境污染严重。

(2) 工业革命。工业革命引起生产组织形式的变化，使用机器为主的工厂制取代了手工工场；工业革命带来了城市化和人口向城市的转移；工业化和城市化也产生了新的社会问题，比如：贫富分化，城市人口膨胀，住房拥挤，环境污染等弊端。

(3) 认真遵守国家禁止乱扔各种废弃物的相关规定，比如禁止将手机和手电筒电池随意乱扔，将垃圾按照可回收和不可回收来分类整理才扔；在生活中，避免使用一次性塑料袋和一次性筷子、碗、杯子、快餐盒等用品，去超市可以自带环保袋，这样可以避免白色垃圾的产生，也可以减少很多的生活垃圾的产生；在购买饮料的时候尽量选择可回收的塑料瓶饮料等等。

**【解析】**

**【小问 1 详解】**

事件：根据材料一“新旧大陆之间的接触与联系使得新的生物物种相互流传，特别是起源于美洲的玉米、马铃薯、西红柿等”可得出是哥伦布发现新大陆。影响：积极影响：根据材料一“新旧大陆之间的接触与联系使得新的生物物种相互流传，特别是起源于美洲的玉米、马铃薯、西红柿等，不仅改变了各洲人们的生活方式，而且促进了世界人口的增加”可得出促进了资本主义的产生和发展，促进了全球范围内动植物品种的交流与传播，各地往来日益密



切，世界开始连为一个整体。消极影响：根据材料一“与此同时，旧大陆食草的马、牛、羊等动物来到气候适宜、水草丰足的新大陆，其繁殖的数量远远超出了土地能提供的牧养量，地表植被因而被逐渐破坏，土地沙化，水土流失日趋严重”可得出新航路开辟后，英法等国对亚洲、非洲、美洲进行殖民扩张，掠夺财富和资源，野蛮屠杀，同时在发展同时环境污染严重。

### 【小问 2 详解】

背景：根据材料二“它描绘了 19 世纪后期英国有钱人坐蒸汽船游览泰晤士河的场景”可得出当时是工业革命时期。

社会变化：根据材料二“下图为《机器时代的享受》”可得出工业革命引起生产组织形式的变化，使用机器为主的工厂制取代了手工工场；根据材料二“在他们风光的背后，大批的农村人口背井离乡涌入城市，大量的贫民常年居住在没有基本卫生设施和通风设备的住房内”可得出工业革命带来了城市化和人口向城市的转移；根据材料二“许多巨大的蒸汽轮船，发出呛人的浓烟，岸边工厂排放的污水，使河水变得浑浊不堪”可得出工业化和城市化也产生了新的社会问题，比如：贫富分化，城市人口膨胀，住房拥挤，环境污染等弊端。

### 【小问 3 详解】

开放性设问，围绕解决环境问题，中学生的做法角度回答。如认真遵守国家禁止乱扔各种废弃物的相关规定，比如禁止将手机和手电筒电池随意乱扔，将垃圾按照可回收和不可回收来分类整理才扔，在生活中，避免使用一次性塑料袋和一次性筷子、碗、杯子、快餐盒等用品，去超市可以自带环保袋，这样可以避免白色垃圾的产生，也可以减少很多的生活垃圾的产生，在购买饮料的时候尽量选择可回收的塑料瓶饮料等等。