

# 2018 北京四中初一（下）期中

## 地 理



### 一. 单选题（共 50 分）

下列各小题均有四个选项，其中只有一项最符合题意要求，多选、漏选、错选均不得分。

1. 以下地区不是我国重要的粮食产区的是

- A. 青藏高原    B. 华北平原    C. 四川盆地    D. 长江中下游平原

2. 在某超市的农产品销售处的标签上，产品原产地的标注错误的是

- A. 蔗糖——广西    B. 花生油——山东  
C. 茶叶——新疆    D. 面粉——河北

3. 科学技术在我国农业生产中发挥着越来越大的作用，以下属于科技兴农的是

①智能温室 ②杂交水稻 ③生物防治虫害 ④太空育种技术 ⑤大水漫灌 ⑥在山区种粮

- A. ①②③④    B. ①②⑤⑥    C. ②③④⑤    D. ①②③⑥

4. 我国的粮食产量已经实现多年连续丰收，但是随着人口数量和饲料用量的增加，粮食需求量不断扩大，粮食生产面临巨大的压力，以下做法正确的是

- A. 大力开垦草地、林地，增加耕地面积  
B. 增加农业人口数量，以增加粮食产量  
C. 增加放牧牲畜的数量，以提高草原的利用率  
D. 通过提高农业现代化水平，变农业大国为农业强国

清明假期过后，北京市某校初一学生郝佳到离城区较近的“学农”基地参加实践活动。据此完成下列各题。

5. 郝佳观察到该“学农”基地主要种植蔬菜、花卉，同时还发展鱼、肉、乳、禽、蛋等生产，其主要原因有

①郊区地形多样，适宜发展多种农业生产 ②距城区较近，运输方便，可保证农副产品的鲜 ③郊区的科技水平高，消费水平高，产品价格高 ④城市人口稠密，对鱼、肉、乳、蔬菜等需求量大

- A. ①②    B. ①③    C. ②④    D. ③④

6. 实践活动中，郝佳可能参与的农业活动有

①播撒花种 ②菜田除草 ③纺织棉布 ④饲养家禽

- A. ①②③    B. ①②④    C. ①③④    D. ②③④

7. 我国高新技术产业的分布特点是

- A. 依附于大中城市，均匀分布  
B. 位于环境优美的西部地区  
C. 依附于大中城市，大分散、小集中  
D. 集中于京津唐工业基地

读下图，完成下列各题



8. 在北京工作的老桂，要在农历大年三十前赶回广西南宁老家过年，最不合适的交通方式是

- A. 铁路    B. 公路    C. 航空    D. 水路

9. 老桂看到广西特产甘蔗在北京市场很受欢迎，他要从广西购买 600 吨甘蔗到北京卖，最合适的运输方式是

- A. 铁路    B. 公路    C. 航空    D. 水路

京沪高铁是我国第一条具有世界先进水平的高速铁路，对我国经济发展起到重要的推动作用。读下图，完成下列各题。



京沪高铁路线示意图

10. 与其他运输方式相比，铁路运输方式的优点是

- A. 运费最低，安全性高    B. 机动灵活，通达性好  
C. 投资最少，连续性强    D. 速度较快，运量较大

11. 京沪高铁连接的我国两大工业基地

- A. 沪宁杭工业基地、珠江三角洲工业基地  
B. 京津唐工业基地、辽中南工业基地  
C. 京津唐工业基地、沪宁杭工业基地  
D. 辽中南工业基地、珠江三角洲工业基地

12. 京沪高铁连接的两大工业基地共同特点是

- A. 交通便利、科技发达    B. 以轻工业为主

- C. 城市密集、规模较小    D. 农业基础落后

“直到那一刻，我才注意到一个不容辩驳的事实——中国正在占领这个地方。桌子上的电视机、门边的一堆网球鞋、圣诞树上的彩灯、地板上的洋娃娃，屋里随处可见中国制造的产品。”（选自美国记者萨拉·班吉奥尼尔《没有“中国制造”的一年》）据以上资料，完成下列各题。

13. 材料中画线的产品属于

- A. 高新技术产品    B. 轻工业产品    C. 农业产品    D. 重工业产品

14. 同样是网球鞋，中国制造要比欧洲制造的便宜很多，原因可能是

- A. 中国人口众多，劳动力价格低  
B. 中国人都是活雷锋，乐于助人  
C. 中国比欧洲距离美国近，运费便宜  
D. 中国网球鞋生产技术好，消耗原料少

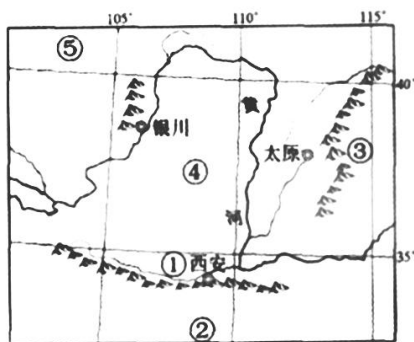
15. 我国大陆地区的铁路运输中心是

- A. 北京    B. 郑州    C. 上海    D. 武汉

16. 关于北方地区的自然环境，说法正确的是

- A. 年降水量在 400~800 毫米之间    B. 地形以平原和丘陵为主  
C. 以温带大陆性气候为主    D. 河湖众多，水资源丰富

读下图，完成下列各题。



17. 上图所示的主体区域位于我国

- A. 地势第一级阶梯    B. 地势第三级阶梯  
C. 华北平原    D. 黄土高原

18. 下列诗句描写到上图中地理事物的是

①云横秦岭家何在，雪拥蓝关马不前②朝辞白帝彩云间，千里江陵一日还③欲渡黄河冰塞川，将登太行雪满山④不识庐山真面目，只缘身在此山中

- A. ①②    B. ③④    C. ①③    D. ②④

19. 深秋季节，一旅游者从图 3 中某地乘火车外出旅游。出发时落叶纷飞，满目金黄，穿越重重隧道后，蓦然树木葱郁，山清水秀。如图所示，火车经过的区域是

- A. ①→②    B. ③→④    C. ⑤→④    D. ④→①

2015年5月13日，“北京中关村国家自主创新示范区”科技创新成果在第十八届中国北京国际科技产业博览会闪亮登场。据此，回答下列各题。

20. 与传统工业相比，发展高新技术产业最重要的条件是

- A. 地理位置优越    B. 自然资源丰富  
C. 科技力量雄厚    D. 劳动力数量多

21. “中关村示范区”在此次博览会上最可能展示的产品是

- A. 大型机械设备    B. 传统纺织机    C. 智能机器人    D. 汽车

22. 大力扶持高新技术产业发展，反映出北京市的核心功能之一是

- A. 全国政治中心    B. 全国文化中心  
C. 国际交往中心    D. 科技创新中心

“家庭闲置废旧物品收集箱”主要用于收集周边社区居民的闲置物品，包括废旧衣物、鞋等，收集的物品经过分类、消毒后，将送给需要的人使用。读下图，回答下列各题。



23. 生产这些“闲置物品”过程中所利用的自然资源概括全面的

①土地资源 ②气候资源 ③水资源 ④矿产资源

- A. ①②③    B. ①②④  
C. ②③④    D. ①②③④

24. “家庭闲置废旧物品收集箱”的设置

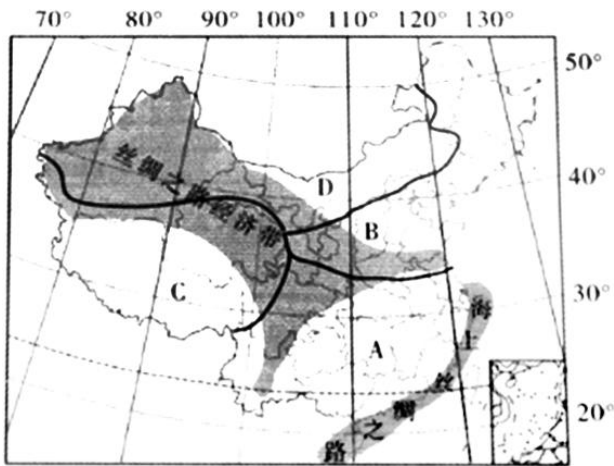
- A. 增加了垃圾的数量    B. 容易造成疾病传播  
C. 可以实现物品循环利用    D. 不利于生活条件的改善

25. 下列属于不可再生资源的是

- A. 水资源    B. 太阳能    C. 风能    D. 铁

## 二. 综合题（共 50 分）

26. 读下图“中国丝绸之路经济带和海上丝绸之路范围”，回答下列问题。



一带一路是“丝绸之路经济带”和“海上丝绸之路”的简称。“丝绸之路经济带”是在古丝绸之路基础上形成的经济发展区域；“海上丝绸之路”则是曾经取代陆路而成为中外贸易交流的主通道。“一带一路”涵盖我国大部分地区，涉及我国四大地理区域。

(1) 填写图中字母所代表的中国四大地理区域的名称。A \_\_\_\_\_ 地区；B \_\_\_\_\_ 地区；C \_\_\_\_\_ 地区；D \_\_\_\_\_ 地区。丝绸之路经济带地跨 \_\_\_\_\_ 个地区，海上丝绸之路主要位于 \_\_\_\_\_ (填字母) 地区沿海。

(2) A、B两地区的分界线大致是 \_\_\_\_\_ — \_\_\_\_\_ 一线。其中A地区1月均温普遍 \_\_\_\_\_ (高、低) 于0℃，年降水量大于 \_\_\_\_\_，耕地类型以 \_\_\_\_\_ (水田、旱地) 为主，主要粮食作物是 \_\_\_\_\_。

(3) B、D两地区的分界线大致是 \_\_\_\_\_ 年等降水量线的东段。D地区深居内陆，远离海洋，农业生产以 \_\_\_\_\_ 为主。

(4) C地区位于我国地势的第 \_\_\_\_\_ 级阶梯，与我国其他地区以 \_\_\_\_\_ 山脉、 \_\_\_\_\_ 山脉和 \_\_\_\_\_ 山脉为界。

(5) 我国各地自然条件、生产方式和文化特色差异很大，请将下列景观图的序号对应填入所属的地理区域。

A 地区

B 地区

C 地区

D 地区




神奇的雪域高原  
用心领略雄伟建筑

①




葡萄成熟的喜悦  
慰藉干旱的环境

②



广阔深厚的黄土  
沁透包容的气息

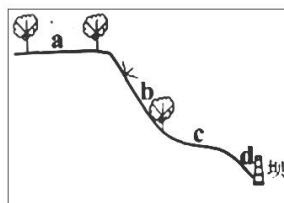
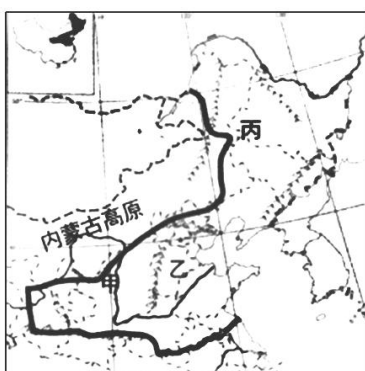
③



行走于鱼米之乡  
徜徉于青山碧水

④

27. 读下图《北方地区》，回答问题。



古人在一篇游览长城时写下的游记中写道：“登高南望，俯视太行诸山，晴岚可爱。北顾但寒沙衰草……”

(1) 古人在游记中“北顾”的是\_\_\_\_\_高原，当时可能是\_\_\_\_\_季节的景色。太行山脉是图中甲\_\_\_\_\_（填名称）和乙\_\_\_\_\_（填名称）两个地形区的分界。古人“俯视”的是太行山脉，请将该山脉名称填在图中相应位置。

(2) 在乙和丙两大地形区，目前已经形成了我国重要的商品粮基地，将我国的粮食生产从过去的“南粮北运”变为“\_\_\_\_\_”。

下列有关该地区农业生产的正确叙述是（ ）（选择填空）

- A. 乙、丙地形区发展农业都具有的有利条件是雨热同期。
- B. 甲地形区分布肥沃的黑土，故而是我国粮食作物的主要产区。
- C. 乙地形区降水充沛，因此种植的糖料作物是甜菜。
- D. 丙地形区种植的农作物主要有水稻、春小麦、大豆等。

(3) 分布在图中丙地形区南部的重要工业基地为\_\_\_\_\_工业基地。该基地发展的有利条件是\_\_\_\_\_、\_\_\_\_\_，成为我国最大的\_\_\_\_\_工业基地。

(4) 乙地形区主要的气候类型是\_\_\_\_\_气候。该地区春季升温快且降水少，易发生\_\_\_\_\_（自然灾害）；夏季多降雨，易发生\_\_\_\_\_（自然灾害）。

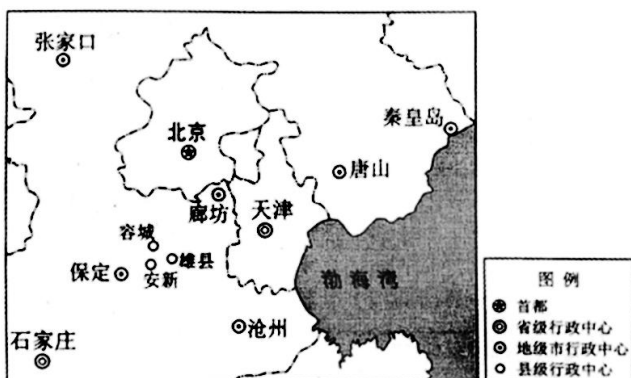
(5) 做图中的甲地形区，该高原从自然条件上由于\_\_\_\_\_疏松，夏季降水具有\_\_\_\_\_的特点，因此形成严重的\_\_\_\_\_现象（环境问题），形容该地区地貌特征最恰当的词语是\_\_\_\_\_。

(6) 读右图，针对做图中甲地形区不同部位的水土流失情况，采取的措施不正确的是（ ）（选择填空）

- A. a 高原面应该营造护田林网，减少水土流失
- B. b 是陡坡，应该大力退耕还草、还林，保持水土
- C. c 是缓坡，所以应该全部修建梯田进行耕种
- D. d 是陡坡，应该建挡土坝、护坡堤，保持水土

28. 结合资料及下图“雄安新区”，回答下列问题。

2017年4月1日，中共中央、国务院决定在河北省设立国家级新区雄安新区。雄安新区地处北京、天津、保定腹地，规划范围涵盖河北省雄县、容城、安新3县及周边部分区域。设立雄安新区，对于集中疏解北京非首都功能，探索人口经济密集地区优化开发新模式，调整优化京津冀城市布局和空间结构，具有重大现实意义和深远历史意义。



(1) 北京的地势特点是\_\_\_\_\_，因而河流的流向大多为\_\_\_\_\_。

(2) 如上图，雄安新区所在的省级行政区的行政中心是\_\_\_\_，该城市位于北京的\_\_\_\_方向。雄安新区的功能定位是绿色生态宜居新城区，下列产业最有可能布局在雄安新区的是（ ）（选择填空）

A. 新能源产业    B. 钢铁工业    C. 传统纺织工业    D. 电子商务产业

(3) 疏解北京的“非首都功能”，有利于北京市（ ）（选择填空）

A. 丰富城市职能    B. 扩大城市规模

C. 改善城市环境    D. 增加城市人口

为了实现上述目的，北京市还实施了多项措施，请你列举两项具体的做法\_\_\_\_\_。

# 地理试题答案



## 一. 单选题 (共 50 分)

下列各小题均有四个选项, 其中只有一项最符合题意要求, 多选、漏选、错选均不得分。

1.

【答案】A

【解析】我国的粮食产区主要集中在地势平坦、水源充足的平原地区, 以上四个地形区中青藏高原气候条件恶劣, 不是粮食主产区, 华北平原、四川盆地和长江中下游平原是粮食主产区, 故选 A。

2.

【答案】C

【解析】关于以上四种农产品的产区, 蔗糖来自于广西、花生油来自于山东和面粉来自于河北都是正确的, 新疆气候干旱, 不适合种植茶叶, 故选 C。

3.

【答案】A

【解析】科学技术在我国农业生产中发挥着越来越大的作用, 如智能温室、杂交水稻、生物防虫害和太空育种技术都属于科技兴农, 大水漫灌和在山区种粮不符合科学规律, 故选 A。

4.

【答案】D

【解析】关于我国粮食生产的做法, 大力开垦草地、林地, 增加耕地面积, 增加农业人口数量, 以增加粮食产量和增加放牧牲畜的数量, 以提高草原的利用率都是不可取的, 只有通过提高农业现代化水平, 变农业大国为农业强国是正确的做法, 故选 D。

5. -6

【答案】5. C    6. B

【解析】我国是一个农业大国, 各地区气候差异较大, 这样就使得我国农业生产有很大的差异, 呈现东耕西牧、南稻北麦的生产特点。

5. 郝佳观察到该“学农”基地主要种植蔬菜、花卉, 同时还发展鱼、肉、乳、禽、蛋等生产, 其主要原因是距城区较近, 运输方便, 可保证农副产品的鲜和城市人口稠密, 对鱼、肉、乳、蔬菜等需求量大, 并不是因为地形和郊区价格高的原因, 故选 C。

6. 在实践活动中, 郝佳可能参与播撒花种、菜田除草和饲养家禽等活动, 纺织棉布属于工业生产活动, 不可能参与, 故选 B。

7.

【答案】C

【解析】我国高新技术产业的分布特点是依附于大中城市, 呈大分散、小集中的特点, 大部分位于人才集中的东部



地区，沿海地区最密集，故选 C。

8. -9

**【答案】** 8. D 9. A

**【解析】**我国是一个地域辽阔，人口众多的国家，最主要的交通运输方式是铁路，目前铁路正在向高速化和现代化发展，其他交通方式也越来越先进和完善。

8. 在北京工作的老桂，要在农历大年三十前赶回广西南宁老家过年，最快的方式是航空，最经济的方式是铁路，时间最长的是公路，最不可能选择水路，故选 D。

9. 老桂看到广西特产甘蔗在北京市场很受欢迎，他要从广西购买 600 吨甘蔗到北京卖，最合适的运输方式是铁路，是最经济的运输方式，故选 A。

10. -12

**【答案】** 10. D 11. C 12. A

**【解析】**我国是一个地域辽阔，人口众多的国家，最主要的交通运输方式是铁路，目前铁路正在向高速化和现代化发展，铁路运输具有运量大、运速快，成本低的优点。

10. 与其他运输方式相比，铁路运输方式的优点是速度较快，运量较大，运费低，但不是最低的，安全性高，投资较大，但灵活性较差，故选 D。

11. 京沪高铁连接北京和上海两个特大城市，连接了以北京为核心的京津唐工业基地和以上海为核心的沪宁杭工业基地，故选 C。

12. 京沪高铁连接的两大工业基地共同特点是都位于沿海地区，交通便利而且科技发达，两大工业基地都以综合性工业为主，城市密集规模大，农业基础雄厚，故选 A。

**【点睛】** 本题考查京沪高铁有关知识，认识到我国铁路运输正在向高速化发展。

13. -14

**【答案】** 13. B 14. A

**【解析】**我国工业起步晚，但发展快，目前我国在工业的各个领域都占有一席之地，尤其是在日常用品方面，我国成了“世界工厂”，产品出口到世界各地。

13. 工业产品按生产的性质和用途分为轻工业产品和重工业产品，以上画线中的网球鞋、彩灯和洋娃娃等属于轻工业产品，故选 B。

14. 同样是网球鞋，中国制造要比欧洲制造的便宜很多，原因可能是我国人口众多，劳动力价格低，故选 A。

**【点睛】** 本题考查我国工业发展的成就，同时也认识到我国出口的工业产品多为轻工业，技术含量低。

15.

**【答案】** A

**【解析】**我国目前最重要的运输方式是铁路，铁路分为南北走向铁路和东西走向铁路两种，其中北京是全国最大的铁路枢纽，是最大的铁路运输中心，故选 A。

16.

【答案】A

【解析】关于北方地区的自然环境，这里的年降水量在 400—800 毫米之间，地形以平原和高原为主；以温带季风气候为主；河湖少，水资源短缺，故选 A。

17.-19

【答案】17. D 18. C 19. A

【解析】黄土高原位于秦岭以北、太行山以西，是我国水土流失最严重的地区，由于长期的水土流失，使这里的地表形成了千沟万壑、支离破碎的特征。

17. 由图可知，图示区域是位于秦岭以北的黄土高原和内蒙古高原，这里位于我国地势的第二阶梯，不包括宁夏平原和华北平原，故选 D。

18. 以上诗句中，与上图区域相符的有“云横秦岭家何在，雪拥蓝关马不前”和“欲渡黄河冰塞川，将登太行雪满山”，“朝辞白帝彩云间，千里江陵一日还”是指巫山附近，“不识庐山真面目，只缘身在此山中”是指庐山，故选 C。

19. 深秋季节，一旅游者从图中某地乘火车外出旅游。出发时落叶纷飞，满目金黄，穿越重重隧道后，蓦然树木葱郁，山清水秀，说明他先是在北方地区，后来进入南方地区，如图，火车经过的区域是①和②，故选 A。

20.-22

【答案】20. C 21. C 22. D

【解析】试题分析：

20. 科学技术、人才、资金、市场、环境等因素是建立和发展高新技术产业的有利条件，其中科学技术、人才即科技力量是关键因素，故本题选 C。

21. 中关村科技园区是我国第一个国家级高新技术产业区，是我国科技智力资源最密集的地区。在此次博览会上最可能展示的产品是高科技产品，而大型机械设备、传统纺织机、汽车属于传统工业产品，智能机器人属于高科技产品，故本题选 C。

22. 北京是我国首都、直辖市和国家中心城市，我国的政治中心、文化中心、交通中心、科技创新中心等，是中央人民政府和全国人民代表大会所在地，具有重要的国际影响力，也是世界上最大的城市之一，故本题选 D。

考点：本题主要考查工业的分布与发展。

23.-24

【答案】23. D 24. C

【解析】试题分析：

23. 自然界中对人类有利用价值的土地、气候、矿产、水等都属于自然资源，它包括可再生资源和非可再生资源两类。据题干可知：生产这些“闲置物品”过程中所利用的自然资源包括土地资源、气候资源、水资源、矿产资源，故本题选 D。

24. “家庭闲置废旧物品收集箱”的设置，只是把家庭中闲置物品集中起来的一种装置，不会增加垃圾的数量；这些物品经过分类、消毒后，将送给需要的人使用，不会造成疾病传播，有利于实现物品循环利用；对生活条件的改善影响不大，故本题选 C。

考点：本题主要考查自然资源总量丰富，人均不足。

25.

【答案】D

【解析】自然资源按资源的更新时间和速度可以分为可再生资源和非可再生资源，以上四种资源中，水资源、太阳能和风能属于可再生资源，铁矿属于非可再生资源，故选 D。

## 二. 综合题（共 50 分）

26.

【答案】（1）南方，北方，青藏，西北（2）4，A，秦岭，淮河，高，800mm，水田，水稻（3）400mm，畜牧业（4）一，昆仑，祁连，横断（5）④③①②

【解析】（1）由图可知，图中 A 是纬度最低的南方地区，B 是纬度最高的北方地区，C 是海拔最高的青藏地区，D 是跨经度最广的西北地区；丝绸之路经济带地跨我国四个区域，海上丝绸之路主要从 A 表示的南方地区沿海出发。

（2）A、B 两地区的分界线大致是秦岭—淮河一线，其中 A 地区 1 月均温普遍高于 0℃，年降水量大于 800 毫米，耕地类型以水田为主，主要粮食作物是水稻。

（3）B、D 两地区的分界线大致是 400 毫米年等降水量线的东段，D 地区深居内陆，远离海洋，农业生产以畜牧业为主。

（4）C 地区是位于我国地势第一阶梯的青藏地区，该地区与其他三个地区的分界线是昆仑山—祁连山—横断山脉。

（5）由图可知，鱼米之乡景观在 A 表示的南方地区；黄土高原是在 B 表示的北方地区；雪域高原是在 C 表示的青藏地区；采摘葡萄的情景是位于 D 表示的西北地区。

【点睛】本题考查我国四大区域有关知识，要区分每个区域各自的特征。

27.

【答案】（1）内蒙古，冬（秋末），黄土高原，华北平原，略（2）北粮南运 A（3）辽中南，矿产资源丰富、交通便利等，重工业（4）温带季风，春旱（干旱），洪涝（5）土质，集中（多暴雨），水土流失，千沟万壑、支离破碎（沟壑纵横、支离破碎）（6）C

【解析】（1）由题目可知，诗人“北顾”的是长城以北的内蒙古高原，看到的是寒沙衰草，是在冬季时看到的，太行山脉是甲表示的黄土高原和乙表示的华北平原分界线。

（2）在乙和丙两大地形区，目前已经形成了我国重要的商品粮基地，将我国的粮食生产从过去的“南粮北运”变为“北粮南运”；乙、丙地形区发展农业都具有的有利条件是雨热同期；甲地形区是黄土高原，粮食种植面积小；乙地形区降水较少，甜菜主要在黑龙江省种植；丙地形区种植的农作物主要有春小麦、大豆、玉米等。

（3）分布在图中丙地形区南部的重要工业基地是辽中南工业基地，这里发展工业的有利条件是矿产资源丰富，交

通便利，成为我国最大的重工业基地。

(4) 乙地形区主要的气候类型是温带季风气候，该地区春季升温快且降水少，易发生春旱灾害，夏季多降雨，又容易造成洪涝灾害。

(5) 做图中的甲地形区，该高原从自然条件上由于土质疏松，夏季降水具有集中且多暴雨的特点，因此形成严重的水土流失现象，形容该地区地貌特征最恰当的词语“千沟万壑、支离破碎”。

(6) 关于对甲地形区的治理措施中，全部在缓坡修建梯田是不可取的，其他三种做法可取。

**【点睛】** 本题考查我国北方地区自然与社会环境特征，要知道三大地区各自的生产特点。

28.

**【答案】** (1) 西北高、东南低，自西北流向东南 (2) 石家庄，西南，AD (3) C，略

**【解析】** (1) 北京的地势特点是西北高、东南低，因而河流的流向大多为自西北流向东南。

(2) 如上图，雄安新区所在的省级行政区是河北省，其行政中心是石家庄，位于北京的西南方向；雄安新区的定位是绿色生态宜居新城，所以在这里布局的一般是污染少的新能源产业和电子商务产业。

(3) 疏解北京的“非首都功能”，有利于北京市缓解人口、交通压力，改善城市环境等；北京市采取建卫星城、修建环形道路等措施来缓解。

**【点睛】** 本题考查北京市与雄安新区有关知识，要知道北京市在城市发展中的措施。

