



# 七年级历史

2023.7

## 注意事项

1. 本试卷共 9 页，共两部分，共 29 题，满分 100 分。考试时间 60 分钟。
2. 在试卷和答题卡上准确填写学校、班级、姓名和学号。
3. 试题答案一律填涂或书写在答题卡上，在试卷上作答无效。
4. 在答题卡上，选择题用 2B 铅笔作答，其他试题用黑色字迹签字笔作答。
5. 考试结束，请将考试材料一并交回。

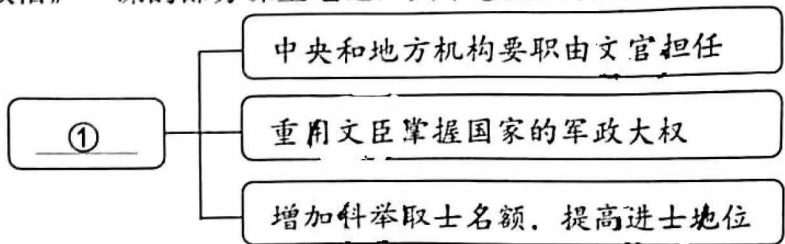
## 第一部分

本部分共 25 题，每题 2 分，共 50 分。在每题列出的四个选项中，选出最符合题目要求的一项。

1. 国家统一是中国历史发展的主流。589 年，中国重归统一时的皇帝是  
A. 隋文帝                      B. 唐太宗                      C. 武则天                      D. 唐玄宗
  2. “北通涿郡之渔商，南运江都之转输，其为利也博哉！”材料反映出隋朝大运河的作用是  
A. 加重了人民负担                      B. 加强了经济交流  
C. 导致了隋朝灭亡                      D. 促进了文化发展
  3. 唐太宗的大臣和将领，有着不同的出身和背景，有的以前是农民起义的将领，有的曾效力于他的政敌，如魏征还曾策划要谋害他。但唐太宗对他们不计前嫌，委以重任。这表明唐太宗  
A. 以民为本                      B. 勤于政事                      C. 用人唯贤                      D. 勤俭治国
  4. 阅读下面材料，杜甫诗中所描绘的“世乱”的影响是  
A. 使唐室内地空虚  
B. 引发了黄巢起义  
C. 使唐朝由盛转衰  
D. 导致了唐朝灭亡
- 寂寞天宝后，园庐但蒿藜。  
我里百余家，世乱各东西。  
……  
四邻何所有？一二老寡妻。  
——杜甫《无家别》（节选）
5. 这一时期是唐末以来藩镇割据局面的延续，开国君主都是武将，北方政权更迭，战事不断，南方政局相对稳定。以上描述的历史时期是  
A. 五代十国时期                      B. 金与南宋对峙  
C. 辽和北宋并立                      D. 蒙古族的兴起
  6. 下列选项中，与宋太祖赵匡胤有关的历史事件是  
①“黄袍加身”                      ②“杯酒释兵权”                      ③澶渊之盟                      ④郾城大捷  
A. ①②③④                      B. ①②③                      C. ①②                      D. ③④

7. 下图是某同学学习《北宋的政治》一课的部分课堂笔记，其中①处应填写

- A. 杯酒释兵权典故
- B. 分化事权的举措
- C. 王安石变法措施
- D. 重文轻武的政策



8. 下列史实共同反映的时代特征是

- ①北宋和西夏交往频繁
  - ②契丹仿照中原制度进行改革
  - ③许多女真人改用汉姓
  - ④宋辽边境设置市场互相贸易
- A. 商业繁荣                  B. 社会变革                  C. 文化昌盛                  D. 民族交融

9. 下面文本框中是北宋科学家沈括在《梦溪笔谈》中记载的某项科技成就。与此项发明直接相关的历史人物是

- A. 王祯
- B. 毕昇
- C. 徐光启
- D. 李时珍



用胶泥刻字……火烧令坚……一板印刷 一板已自布字……更互用之，瞬息可就。

10. 瓦子又叫瓦舍，瓦舍者，谓其“来时瓦合，去时瓦解之义，易聚易散也。”瓦子在宋代城市的盛行，主要是因为

- A. 士大夫的提倡
- B. 市民阶层不断壮大
- C. 农民的需要
- D. 达官贵人的需要

11. 某博物馆举行中国古代史图片展，下图是某展厅的一组图片，该展厅的主题应该是



宋代针铺商标及铜版



北宋纸币铜版拓片



《清明上河图》(局部)



宋代海船

- A. 宋代政权巩固
- B. 宋代民族政权并立
- C. 宋代商业繁荣
- D. 宋代农业发展

12. 某班同学为历史故事会收集了如下材料：收复建康、取得郾城大捷、“冻死不拆屋，饿死不掳掠”“撼山易，撼岳家军难！”由此判断他们讲述的是

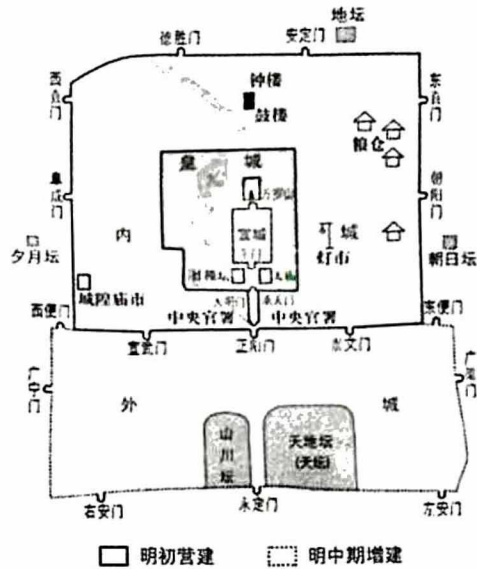
- A. 岳飞抗金
- B. 王安石变法
- C. 玄奘西游
- D. 戚继光抗倭





20. 右图为《明朝北京城平面图》，当时如此布局的根本目的是

- A. 便于设计建造
- B. 体现皇权至上
- C. 展现宫殿高大巍峨
- D. 保证建筑功能齐全



21. 明朝末年流行这样的歌谣：“朝求升，暮求合，近来贫汉难存活。早早开门拜闯王，管叫大小都欢悦。”此处的“闯王”是

- A. 陈胜
- B. 黄巢
- C. 元昊
- D. 李自成

22. 某同学在历史笔记本上写了这样几个词：女真首领、八旗制度、建立后金。与这几个词有关的历史人物是

- A. 松赞干布
- B. 忽必烈
- C. 努尔哈赤
- D. 皇太极

23. 某同学在进行复习时，制作了主题式学习卡片。下侧卡片的“主题”处最适宜填入

主题：\_\_\_\_\_

史实 1：1690 年，康熙帝率军在乌兰布通打败噶尔丹

史实 2：雍正时，设乌里雅苏台将军，直接掌管蒙古各部

史实 3：乾隆时，清军在维吾尔等族人民的支持下，平定了大、小和卓叛乱

- A. 建设东南海防
- B. 巩固西北边疆
- C. 加强西藏管理
- D. 促进中外交往

24. 历史图片蕴含着丰富的历史信息，下面两幅图片反映出清朝前期



《耕织图》(局部)



清朝开荒执照

- A. 农业生产恢复和发展
- B. 手工业和商业发展
- C. 江南已成为鱼米之乡
- D. 城镇商品经济发展



25. 乾隆五十五年，四大徽班进京献艺。后来，徽调吸收汉调，同时接受了昆曲、秦腔的部分剧目、曲调和表演方式以及其他地方民间曲调，最终形成京剧。这表明京剧

- A. 贴近生活
- B. 形式多样
- C. 题材广泛
- D. 博采众长

## 第二部分

本部分共4题，共50分。

### 26. (13分) 国家治理

材料一

为君之道，必须先存百姓，若损百姓以奉其身，犹割脰以啖腹，腹饱而身毙。  
——唐太宗

今严法禁，但遇官吏贪污蠹（蛀虫）毒吾民者，罪之不忍。  
——明太祖

朕用人原只论才技，从不拘限成例。  
——雍正帝

(1) 依据材料一，概括上述统治者治国的可取之处。(3分)

材料二 中国古代入仕群体中寒门（寒微的门第）子弟所占比例

朝代	东晋	隋	唐	北宋
比例	4%	17.2%	24.5%	46.1%

——整理自何怀宏《选举社会及其终结》

(2) 依据材料二，概括寒门子弟入仕比例变化的趋势。(1分) 运用史实分析隋、唐、北宋三个朝代数据比例发生变化的原因。(3分)

材料三

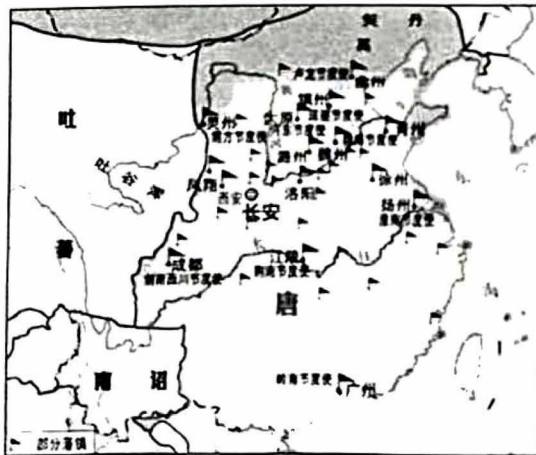


图1 唐朝后期藩镇割据形势

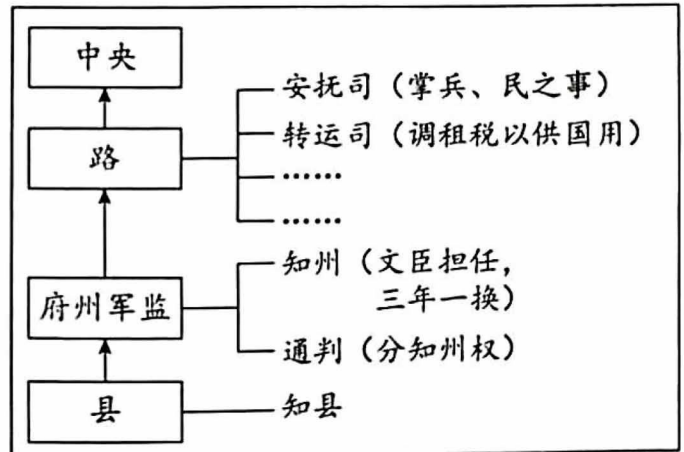


图2 宋代地方权力分配示意图

(3) 依据材料三，结合所学，说出宋代为防止藩镇割据局面的重现，通过哪些方式对地方权力进行了调整？(2分) 分析这一调整带来的作用。(1分)

材料四 在巩固统一多民族封建国家的过程中，统治者通常使用“因地制宜、因教顺俗、恩威并用”的策略。因地制宜，按照各个地区、各个民族的特点，建立不同的行政机构。因教顺俗，利用宗教，修其教不易其俗。恩威并用，对少数民族上层人物封赐爵位，给予厚禄，或联姻，或会盟筵宴，施恩笼络，对破坏统一的叛乱割据势力则予以坚决的军事打击。

——摘编自中国社会科学院《简明中国历史读本》

- (4) 阅读材料四，指出材料中的观点。(1分)运用清朝相关史事，对该观点加以说明。(2分。要求：对观点中的任意一点加以说明即可)

27. (12分) 阅读下表，回答问题。

时代	史实	
唐朝	农业	①发明耕具曲辕犁和灌溉工具 <u>A</u>
	手工业	②越窑的青瓷如冰如玉，邢窑的白瓷类雪似银
	商业	③都城长安城中的东、西两市是主要的商业区，居民居住在坊中
宋朝	农业	④使用拔秧工具秧马
		⑤“苏湖熟，天下足”“苏常熟，天下足”
	手工业	⑥ <u>B</u> (后成为瓷都)的瓷器被誉为“饶玉”，定窑、汝窑等烧制别致美感的瓷器
		⑦海船载重量大，设置了水密隔舱
	商业	⑧街道以及宅巷之内均可开设店铺，出现早市、夜市
⑨出现世界上最早的纸币 <u>C</u>		
清朝	农业	⑩推广玉米、甘薯等高产作物，“湖广熟，天下足”
	手工业	⑪丝织、制瓷等行业都有很大的发展，已出现比较成熟的手工业工场
	商业	⑫拥有雄厚商业资本的商帮在全国进行商业活动，如晋商、徽商

(1) 结合所学，将上表内容填写完整。(6分)

A: \_\_\_\_\_ B: \_\_\_\_\_ C: \_\_\_\_\_

(2) 选择上表中两个或两个以上相互关联的史实，结合所学提炼一个观点，加以阐述或说明。(6分。要求：观点正确，史论结合，条理清楚；示例除外)

【示例】

观点：生产工具的进步推动了我国古代农业的发展。

选择的史实：①④。

阐述：唐朝农民发明了耕具曲辕犁，由11个部件构成，适于精耕细作，大大提高了耕作的效率和质量，促进了唐朝农业的发展。宋朝时长江中下游地区广泛使用秧马拔秧，人们跨坐秧马，前后滑行自如，既可减轻弯腰曲背之苦，又能提高劳动效率，促进了水稻的增产。由此可见，生产工具的进步推动了我国古代农业的发展。

28. (12分)文化中的历史,历史中的文化。

材料一

- ①《唐会要》记载,唐太宗遣使至摩伽陀国取甘蔗制糖法,令扬州煎蔗之汁,色味逾于西域所出者。
- ②宋代制造的远洋航船,载重量达4000多石,多桅多帆。宋代的海路形成了多条航线。
- ③欧洲现存最早火器实物是14世纪末的铁铳和铜铳,其形制与中国传世火铳极为相似。

(1)将材料一中的史实与以下观点相对应。(填序号,3分)

- A. 技术进步为宋代远洋航行提供条件: \_\_\_\_\_
- B. 中国的科技发明对欧洲产生了影响: \_\_\_\_\_
- C. 中国重视吸收借鉴外来的科技文化: \_\_\_\_\_



材料二 宋代前后,手工业和商业的发展带来了都市的繁荣,为民间说唱艺术的发展提供了场所和观众,不断扩大的市民阶层对文化娱乐的需求又大大地刺激了这种发展,从而产生出新的文学样式——话本。话本是说话人所用的底本,有讲史、小说、公案、灵怪等不同家数,已初具小说规模,在以后的流传过程中又不断加入新的创作,逐渐成熟。明代经济的发展和印刷业的发达,为小说脱离民间口头创作进入文人书面创作,提供了物质条件。明代中叶,白话小说作为成熟的文学样式正式登上文坛。

——王瑞文、柳松、黄凤芝《中国传统文化概论》

(2)依据材料二,概括宋代至明代文学样式的发展变化,(2分)并结合所学,分析文学样式不断发展的原因。(2分)

材料三



①张择端《清明上河图》(局部)



②阎立本《步辇图》(局部)



③平定大、小和卓叛乱图



④明代《流民图》(局部)

(3) 依据材料三，结合所学，按时间顺序为以上图片排序。(写序号，1分) 仿照示例，任选一幅图片(示例除外)，说明该图所反映的历史事件或社会状况。(2分)

【示例】

选择明代《流民图》(局部)。《流民图》为明代画家周臣所作，描绘了明朝正德年间政治腐败、朝政荒废导致难民流亡、民生凋敝的悲惨景象。

(4) 结合以上材料，说说文化成就与历史现实的关系。(2分)

29. (13分) 史料是人们了解过去、认识历史的重要依据和基础。

材料一 文献史料主要包括史书、书信与日记、报刊、碑铭与简牍等。实物史料主要包括器物、建筑物、遗址与遗迹。图像史料主要包括绘画、雕刻、照片、古地图。

序号	史料	简介
①	大食(阿拉伯帝国)人俑	陕西西安出土，人俑为阿拉伯人形象，他弓着背，背着行囊，手握水壶，呈行进姿态
②	《宋史·外国传》	元朝人主持修撰，记载了宋朝同占城(越南)、真腊(柬埔寨)、天竺、大食、拂菻(东罗马帝国)、日本国等国的交往
③	五世达赖觐见顺治皇帝图	西藏布达拉宫的殿堂壁画，由清初藏族画家创作，描绘了五世达赖应顺治皇帝邀请，与顺治皇帝交谈的情景


(1) 依据材料一，回答下列问题。(写序号，4分)

属于文献史料的是：\_\_\_\_\_；属于实物史料的是：\_\_\_\_\_

属于图像史料的是：\_\_\_\_\_；

可用来研究中国古代对外交往的史料是：\_\_\_\_\_

材料二

唐招提寺	《唐大和上(通“尚”)东征传》 (唐德宗年间日本文学家真人元开撰写)
 <p>位于日本奈良，759年由鉴真主持修建，被日本政府定为一级国宝。</p>	<p>天平胜宝六年(公元754年)二月一日(鉴真等人)到难波(今大阪)，唐僧崇道等迎慰供养。……四日，入京(今奈良)……引入东大寺安置……其年四月初，于卢舍那殿前立戒坛，天皇初登坛受菩萨戒，次(然后)皇后、皇太子亦登坛受戒。</p>

(2) 运用材料二中的史料，说明鉴真东渡日本真实性。(2分)



### 材料三





郑和下西洋路线图

国家	国家概览	交往概况
占城国	国人男子蓬头、妇人撮髻脑后，身体俱黑……气候暖热，无霜雪	中国青瓷盘碗等品，绉丝、綾绢、烧珠等物甚爱之……常将犀角、象牙、伽蓝香等物进献朝廷（明政府）
天方	其国人物魁伟，体貌紫膛色。男子缠头，穿长衣，足着皮鞋。妇人俱戴盖头，莫能见其面	贡带（携带）麝香、磁器等物，附本国船只到彼。往回一年，买到各色奇货异宝，麒麟、狮子、驼鸡等物。其默伽国王亦差使臣

(3) 依据材料三，写出郑和下西洋的出发地点，(1分) 并分析郑和下西洋的影响。(2分)

### 材料四

 <p>《客使图》(局部)</p>	 <p>广州十三行</p>
<p>唐朝重视发展对外关系，专门设立鸿胪寺、礼宾院等机构，负责接待外宾。上图是唐朝章怀太子墓出土的壁画，画中有三位迎接外国来宾的鸿胪寺官员，另外还有着装各异的东罗马、高丽等地的使节。</p>	<p>乾隆二十二年(1757年)，清政府下令将广州一处作为对外通商口岸，并规定由朝廷特许的“广州十三行”统一经营对外贸易，负责承销外商进口货物，代外商收购中国出口商品，并管理外国商人。</p>

(4) 依据材料四，比较唐朝和清朝对外政策的不同。(2分) 结合所学，任选其中一个王朝的对外政策，谈谈你的看法。(2分)



北京市西城区 2022—2023 学年度第二学期期末试卷

# 七年级历史答案及评分参考

2023.7

## 一、选择题（每题 2 分，共 50 分。）

1	2	3	4	5	6	7	8	9	10	11	12	13	14	15
A	B	C	C	A	C	D	D	B	B	C	A	D	C	B
16	17	18	19	20	21	22	23	24	25					
B	D	A	C	B	D	C	B	A	D					

## 二、综合题（26 题 13 分，27 题 12 分，28 题 12 分，29 题 13 分，共 50 分。）

26. (1) 以民为本（存百姓），整顿吏治，重视选贤与能。（3 分）

(2) 趋势：大幅提升。（1 分）

原因：隋朝创立科举制，扩大了官吏选拔范围；（1 分）唐朝增加科举考试科目、创立殿试制度等，鼓励士人报考；（1 分）宋朝实行重文轻武政策，改革和发展了科举制，增加科举取士名额，使寒门子弟入仕大幅提升。（1 分）

(3) 方式：分化事权（分权）、任命文臣。（2 分）

作用：加强中央集权。（1 分）

(4) 观点：在巩固统一多民族封建国家的过程中，清朝统治者通常使用“因地制宜、因教顺俗、恩威并用”的策略。（1 分）

“说明”的赋分标准：从“因地制宜、因教顺俗、恩威并用”策略中任选其一，运用的相关史事 1 分，说明 1 分。

赋分示例：

因地制宜——清朝设置台湾府，隶属福建省，（1 分）加强了中央政府对台湾的管辖。（1 分）

因教顺俗——西藏地方达赖与班禅等大活佛的转世，需要通过金瓶掣签，依照宗教仪轨和历史定制，最后报请朝廷批准，（1 分）有效地加强了对西藏的管辖。（1 分）

恩威并用——西藏历代达赖和班禅都必须经过中央政府的册封，（1 分）有效地加强了对西藏的管辖。（1 分）或：康熙皇帝率军亲征，打败噶尔丹，平定了叛乱，（1 分）稳定了西北部边疆地区。（1 分）



27. (1) A: 筒车 ; B: 景德镇 ; C: 交子。(每项 2 分, 共 6 分)

(2) 评分标准

赋分	提炼的观点	材料运用与论述
5—6 分	明确, 有思维广度 或有思想深度	紧扣自己的观点加以论述, 运用材料中两个或两个以上的史实, 能够做到史论结合, 逻辑清晰
3—4 分	明确	能够围绕观点论述, 运用了材料中的史实, 但不够充分或不够典型, 条理基本清楚
1—2 分	不够明确	有论述或说明, 但材料不充分, 或史论结合不充分
0 分	没有提炼出观点	观点、论述与材料无关, 或仅重复材料中的史实

观点 1 分 (可从时代特征出发, 也可聚焦农业、手工业、商业等层面)、选择的史实 1 分、论述 4 分, 共 6 分。

28. (1) A. ②; B. ③; C. ① (每项 1 分, 共 3 分)

(2) 变化: 宋代, 文学样式为话本; 明代, 白话小说成为成熟的文学样式。(2 分)

原因: 商品经济和都市的繁荣; 市民阶层对文化娱乐需求扩大; 印刷业的发达; 文人的参与。(答出任意两点即可, 2 分)

(3) ②①④③。(1 分)

赋分标准: 时代 1 分, 历史事件或社会状况 1 分, 共 2 分。

赋分示例: 选择阎立本《步辇图》(局部)。《步辇图》为唐代画家阎立本所作, (1 分) 描绘了唐太宗接见松赞干布派来的求婚使者的场景。(1 分)

(4) 文化成就在一定程度上反映了历史现实, 历史现实为文化成就的取得提供了创作条件和素材。(2 分)

29. (1) 属于文献史料的是: ②; 属于实物史料的是: ①; 属于图像史料的是: ③

可用来研究中国古代对外交往的史料是: ①② (每项 1 分, 共 4 分)

(2) 根据《唐大和上东征传》文献记载, 鉴真抵达日本后受到迎接、慰问、安置, 鉴真为日本天皇等人授戒; 日本奈良唐招提寺由鉴真主持修建; 文献史料《唐大和上东征传》与实物史料唐招提寺相互印证。(答出任意两点即可, 2 分)

(3) 出发地点: 刘家港 (1 分)

影响: 增进了中国与亚非国家和地区的相互了解和友好往来 (促进中国与亚非国家经济、文化交流); 开创了西太平洋与印度洋之间的亚非海上交通线; 促进使节往来; 提升中国影响力。(答出任意两点即可, 2 分)

(4) 不同: 唐朝实行开放的对外政策, 清朝闭关锁国 (严格限制对外贸易)。(2 分)

“看法”赋分标准: 史论结合, 言之有理, 条理清楚, 即可得分。(2 分)