



昌平区 2018-2019 学年第一学期初三年级期末质量抽测

历史试卷

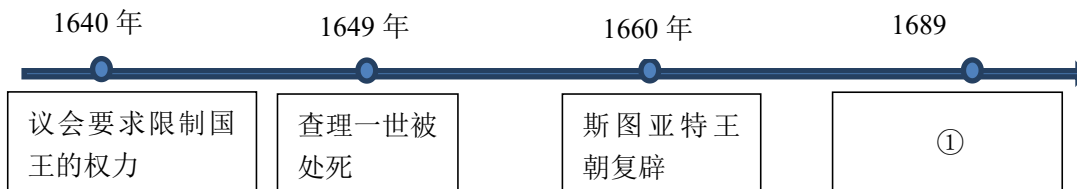
2019. 1

考 生 须	1. 本试卷共 10 页，两道大题，34 个小题，满分 90 分。考试时间 90 分钟。 2. 请在试卷上准确填写学校名称、姓名和考试编号。 3. 试题答案一律填涂或书写在答题卡上，在试卷上作答无效。 4. 在答题卡上，选择题、作图题用 2B 铅笔作答，其他试题用黑色字迹签字笔作答。 5. 考试结束后，请交回答题卡、试卷。
-------------	--

一、单项选择题（每小题 1.5 分，共 45 分）

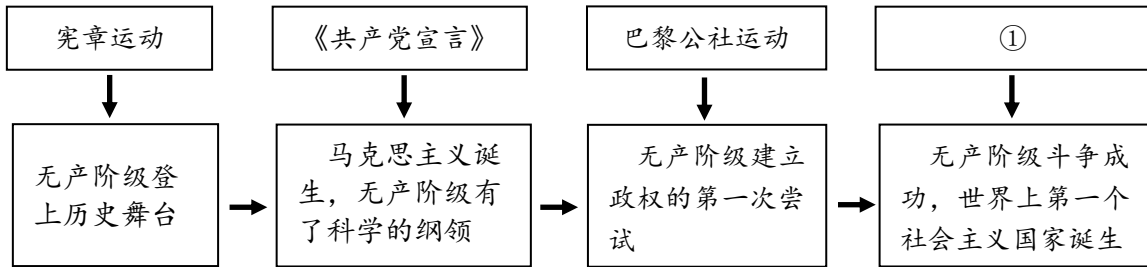
1. 1562 年英国的约翰·霍金斯爵士从塞拉利昂（位于西非大西洋沿岸）装运奴隶，在海地（属拉丁美洲）换取兽皮和糖，在返航之后成为朴茨茅斯（位于英国东南部）最富裕的人。材料反映的是
 A. 新航路开辟 B. “三角贸易” C. 殖民地人民反抗斗争 D. 美国内战

2. 以下时间轴中①对应的史实是



- A. 颁布《权利法案》 B. 颁布《民法典》 C. 颁布《独立宣言》 D. 颁布《宅地法》
3. 英国宪法权威白芝浩特称：“假如上、下两院作出决定，就是把女王本人的死刑判决书送到她面前，她也不得不签字。”这说明英国
 A. 民众可以直接处死女王本人 B. 女王“统而不治”
 C. 女王已经没有任何权力 D. 女王拥有最高司法权
4. 与《人权宣言》相关的历史信息是
 A. 美国；大陆会议；行政权力赋予美利坚合众国总统
 B. 法国；巴士底狱；人们生来是而且始终是自由平等的
 C. 英国；光荣革命；自由、平等、博爱
 D. 法国；资产阶级革命；不经议会同意，国王不能征税
5. 1814 年，一位意大利爱国者写道：“我这样说是痛苦的，……我们应向拿破仑致谢，但是看到法国人离开时还是有一种巨大的、说不出的欢乐。”这是因为拿破仑
 A. 令欧洲走向统一，受到欧洲各国人民的拥护与爱戴
 B. 维护了意大利的和平，又主动归还了意大利的领土
 C. 打击了意大利的封建势力，但同时又破坏了意大利的国家独立
 D. 最终被欧洲反法联军打败，令各国迎来了胜利的喜悦
6. 到 19 世纪 40 年代早期，英国营运的铁路总长已接近 2000 公里。1844~1846 年间，英国政府批准的铁路修建里程分别是 800 公里、2800 公里和 4600 公里。1890 年，全国铁路网形成，总长达 32000 公里。，这种情况的出现得益于
 A. 内燃机的发明和使用 B. 珍妮纺纱机的发明
 C. 发现电磁感应现象 D. 蒸汽机的推广应用


7. (工业革命前)时间以天为单位,现在以分钟、以秒计算……火车还教会人们守时,准时准点成了现代生活的准则,人们开始要随身带上一块表,时间概念是一个全新的概念。材料反映出工业革命
- A. 改变了人们的生活方式 B. 带来了环境污染问题
C. 加速了城市化发展进程 D. 增强了工人的劳动强度
8. 以下是无产阶级斗争与马克思主义理论实践的示意图,图中①应为



- A. 彼得一世改革 B. 光荣革命 C. 二月革命 D. 十月革命
9. 在“殖民地人民反抗斗争”的主题学习中,以下人物不包括



A. 哥伦布



B. 华盛顿



C. 玻利瓦尔



D. 章西女王

10. 克里米亚战争的失败,使俄国人又一次体会到自己同欧洲强国之间的差距。人们纷纷指责影响社会进步的封建农奴制度。为此,在俄国进行改革的是
- A. 彼得一世 B. 亚历山大二世 C. 查理一世 D. 詹姆士二世
11. 下列材料所反映的日本明治维新的措施有

日本自开禁以来,人心趋向突然转变,从而改革政治制度,打倒贵族,开设学校,创办报刊,又使铁路、电讯、兵制、工业等百般事务改换了旧的面貌。
——福泽谕吉《劝学篇》

- ① 废藩置县,建立中央集权的统一国家 ② 土地私有,允许土地买卖
③ 殖产兴业,发展资本主义工商业 ④ 文明开化,引进西方文化教育
- A. ①②③ B. ①②④ C. ①③④ D. ②③④
12. “生物母体生出的众多后代,为攫取生活的必需条件而斗争,众多的后代不会绝对相同,其中优秀的物种在生存竞争中取胜了,其他被淘汰了,这就是优胜劣汰。”这句话出自
- A. 《自然哲学的数学原理》 B. 《人间喜剧》 C. 《英雄交响曲》 D. 《物种起源》
13. 历史兴趣小组做了几张历史人物的资料卡,其中正确的是

资料卡1
人物: 莎士比亚
成就: 创作了《神曲》,推动了思想解放运动。

A. 资料卡1

资料卡2
人物: 瓦特
成就: 改良了蒸机,标志着工业革命的开始。

B. 资料卡2

资料卡3
人物: 牛顿
成就: 发现了万有引力定律,提出了相

C. 资料卡3

资料卡4
人物: 贝多芬
成就: 创作了《命运》、《英雄》交响曲。

D. 资料卡4





14. 下列史实反映出

1883 年	戴姆勒研制出第一台以汽油为燃料的汽油机
1892 年	狄塞尔发明了以柴油为燃料的柴油机
1893 年	卡尔·本茨制造出第一辆 4 轮汽车
1908 年	福特公司生产出第一辆 T 型汽车

- A. 蒸汽机的发明应用和汽车工业的发展 B. 内燃机的发明应用和汽车工业的发展
C. 电力的广泛应用和新通讯手段的发明 D. 钢成为基本工业原料和汽车主要材料

15. 历史剧“刺杀”中，一位同学扮演的普林西普冲入人群，开枪射杀了斐迪南大公夫妇。此剧表现的历史事件引发了

- A. 英国光荣革命 B. 第一次世界大战 C. 第二次世界大战 D. 美苏冷战

16. 引起下表生产量变化的原因是

第一次世界大战“交战国军需品的生产量”情况表

(单位: 百万吨)

	1914 年 8 月 1 日		1917 年	
	协约国	同盟国	协约国	同盟国
生铁	22	22	50	15
钢	19	21	58	16
煤	394	331	851	340

- A. 美国放弃中立，加入协约国集团 B. 中国对德宣战，加入协约国集团
C. 俄国十月革命后退出同盟国集团 D. 德国元气大伤，无法维持生产

17. 右图显示十月革命起义队伍最后进攻的地点是

- A. 斯莫尔尼宫 B. 冬宫
C. 彼得—保罗要塞 D. 邮政局



18. 20 世纪 20 年代，苏俄农民的不满与日俱增，工人罢工和士兵暴动也时有发生，他们表现出了对余粮征集制的强烈不满。针对这种情况，列宁决定实行

- A. 废除农奴制法令 B. 战时共产主义政策 C. 新经济政策 D. 高度集中的政治经济体制

19. 1919 年美国豪斯上校在日记中写道：“布尔什维主义正越来越被各地的人们所接受。”这句话反映出

- ①俄国创建了第一个社会主义国家，把社会主义理想变成了现实
②第一次世界大战动摇了欧洲资本主义的优势地位
③摧毁了法西斯集团，人类迎来了和平与进步
④苏联在战争中遭受了巨大损失，但军事力量和政治地位迅速提高

- A. ①② B. ①④ C. ②③ D. ③④

20. 罗斯福在国会演说中说道：“自 1941 年 12 月 7 日星期日，日本发动无端的、卑鄙的进攻时起，美国和日本帝国之间已处于战争状态。”演说中提到的进攻是指日本

- A. 进攻凡尔登 B. 进攻珍珠港 C. 进攻中途岛 D. 进攻开罗

21. 1942 年，德军 38 个师、15 个坦克师和摩托化师遭重创，德军伤亡人数达 50 万人，宣告了德军以闪击战为主的全面进攻战略破产。取得以上战果的是

- A. 莫斯科保卫战 B. 中途岛战役 C. 诺曼底登陆 D. 阿拉曼战役



22. 历史知识竞赛中，主持人就某一国际组织进行了下图中的提示，正确答案是

提示一：雅尔塔会议中提出成立该组织的决议；
提示二：宗旨是维护世界和平。

- A. 《联合国宣言》 B. 世界贸易组织 C. 联合国 D. 亚太经济合作组织
23. 柏林墙是德国分裂的象征，它修建的时代背景是
A. 第二次世界大战期间 B. 美苏冷战时期 C. 凡尔赛-华盛顿体系时期 D. 苏联解体之后
24. 区分“史实”与“观点”是学习历史的基本能力之一。下列表述属于“观点”的是
A. 华沙条约组织总部设在莫斯科 B. 北约组织拥有大量核武器和常规部队
C. 1991年华沙条约组织正式解散 D. 北约组织是马歇尔计划在军事领域的延伸
25. 下列符合“二战后各国政府制定恰当的经济政策，有利于促进本国经济的恢复”这一论点的史实是
A. 苏联实行新经济政策 B. 美国推行杜鲁门主义
C. 日本实行“科技立国”政策 D. 戈尔巴乔夫进行经济改革
26. 西方国家社会保障制度的建立
①是广大民众长期斗争的结果
②一定程度上保持了社会的稳定
③增加了国家的财政负担
④大大增加劳动者的生产积极性
A. ①②③ B. ①②④ C. ①③④ D. ②③④
27. 欧洲人口袋里装着“欧元”，无论到哪个“欧元区”去买东西，都用“欧元”来计算。欧元
A. 是欧共体发行的货币 B. 是欧洲使用的唯一货币
C. 是欧洲政治经济一体化的产物 D. 是马歇尔计划的产物
28. 填入下面示意图中①②两处最恰当的内容是



- A. 雅尔塔会议；和平局面 B. 巴黎和会；多极化趋势
C. 巴黎和会；全球化趋势 D. 雅尔塔会议；多极化趋势
29. “二战”后，亚非拉国家掀起了民族独立运动的高潮。属于非洲人民维护国家主权的斗争是
A. 埃及收回苏伊士运河主权 B. 印度民族独立运动
C. 古巴革命胜利 D. 巴拿马收回运河主权
30. 下列 2018 年上海进口博览会展出的设备反映出

① 空气治理及烟气净化设备
② 工业吸尘清洁设备
③ 废弃物处理设备

- A. 过度开发环境导致自然灾害越发频繁 B. 自动化和数字化是未来工业发展的方向
C. 保护环境，要适当放缓经济发展速度 D. 环保、节能等新技术的开发和应用

二、非选择题（共 45 分）

31. 筹备一场主题展演活动——迈向近代文明（共 9 分）

选择一个活动主题： （涂黑你选择的主题后面的“□”）	
璀璨的文艺体验——文艺复兴 □	勇敢的航海冒险——新航路开辟 □
如果你选择的主题是“文艺复兴”，完成第 ① ② 题。 如果你选择的主题是“新航路开辟”，完成第 ③ ④ 题。 （注：选择一个主题完成即可，多选无效。）	

（1）探究考证阶段

选题一·文艺复兴

材料一




图 1 《耶稣与十二使徒》（中世纪时期绘） 图 2 《最后的晚餐》（文艺复兴时期绘）

材料二 文艺复兴时期……艺术家笔下的神，也是充满了人性。由于这一转变，艺术家们就必然要去观察和研究自然和人……文艺复兴时期的艺术家同科学家一样崇尚理性。艺术家重视规律，强调要遵守基于数学的透视法则与解剖学。与此相反，在中世纪的画中，人物的大小、位置、视角等取决于在封建等级阶梯中的地位。
——吕乃基《科学与文化的足迹》

① 依据材料二，对比并说出材料一中两幅作品的不同，填写下列表格。（4分）

	图 1	图 2
画面中人物的形象		
布局与构图 (人物或场景的设计)		

② 依据材料二与问题①的探究成果，说出图 2 表现了文艺复兴时期怎样的核心思想？（1分）

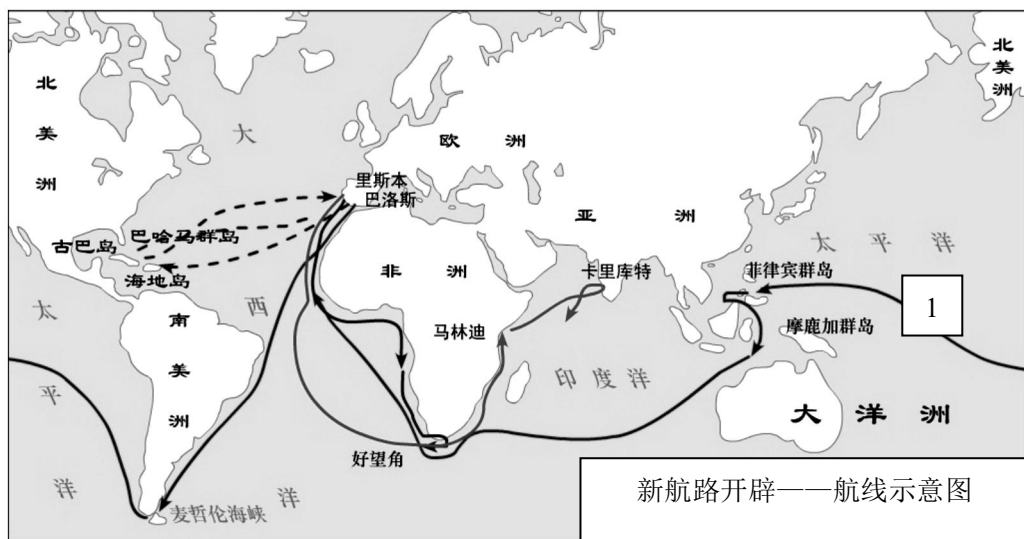


微信扫一扫，快速关注

选题二·新航路开辟



材料三



③ 在上图 1 中写出与航线相对应的航海家。(1分) 说出他的船队的主要成就。(1分)

材料四 由于新航路的开辟，东西两半球的不同文化圈的大汇合，加速了人类从传统农耕文明向现代工业文明转变的过程……没有了美洲贡献的大量金银与物质财富，没有北美的自由殖民垦殖区，西方资本主义的发展将会缓慢得多，英国也不可能成为发动工业革命的国家，同时在旧大陆也很难出现像美利坚合众国那样的自由资本主义试验场地。同样，没有把世界联成整体的地理大革命，也不可能出现推动否定旧传统的思想解放运动。

——黄邦和《通向现代世界的500年：哥伦布以来东西两半球汇合的世界影响》

④ 依据材料四，概括新航路开辟给世界带来的变化。(3分)

(2) 活动筹备阶段 (4分)

请将表格中提供的素材字母填入相应的主题中：

部分提供的活动素材	
A. 印第安人的羽毛、项链等装饰物	B. 欧式花剑与《哈姆雷特》剧本
C. 铁轨和蒸汽机车的模型	D. 一张印有美洲的地图
E. 以《神曲》中的描述布置舞台场景	F. 一只早期通电手提灯的复古模型
文艺复兴：	新航路：

32. 华盛顿中轴线·游学活动（共 14 分）

美国的首都华盛顿同北京城一样，有一条蕴含历史的中轴线。请走进这条“中轴线”，展开游学活动。

注：游学行进路线——自东向西（国会大厦→华盛顿纪念碑→林肯纪念堂）



(1) 第一站·国会大厦

材料一 国会大厦中，悬挂着四幅美国历史油画：



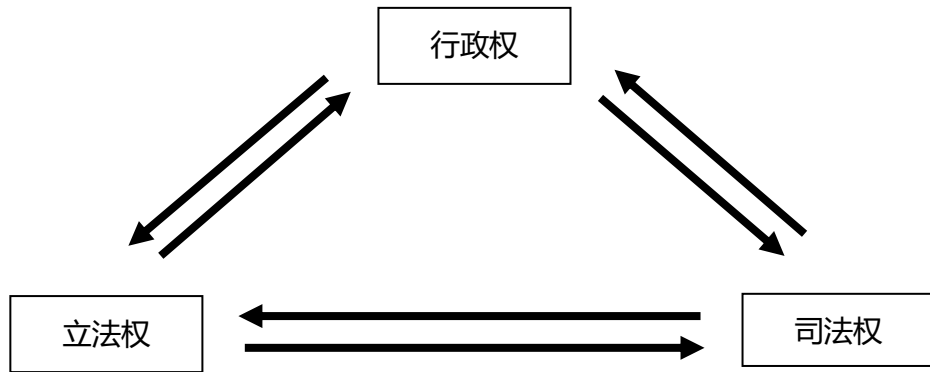
① 依据时间顺序对图中的事件进行排序，并将字母从左到右依次填写到下面表格中。（4 分）

--	--	--	--





材料二



② 依据材料二并结合所学，说出美国国会承担着“三权分立”制度中的哪一职能。（1分）

(2) 第二站·华盛顿纪念碑

材料三 华盛顿纪念碑内部中空，内壁上嵌有各个国家、团体及名人所赠的石碑 193 块。其中，第十层内壁上，是中国赠送的汉字碑文：

华盛顿……起事勇于胜广，割据雄于曹刘……开疆万里，乃不僭位号，不传子孙，而创为推举之法，几于天下为公……其治国崇让善俗，不尚武功，亦迥与诸国异。……米利坚合众国以为国，幅员万里，不设王侯之号，不循世袭之规！

③ 将材料三碑文所反映的历史事件及其作用填写在下面表格中相应的位置（4分）

碑文原文	相应事件及作用
起事勇于胜广（陈胜、吴广起义）	
割据雄于曹刘（曹操、刘备）	发表《独立宣言》，正式宣告与英国断绝一切隶属关系和政治联系。
乃不僭位号，不传子孙，而创为推举之法 ……不设王侯之号，不循世袭之规！	

(3) 第三站·林肯纪念堂

材料四 纪念堂中的石壁上，记载着林肯生前的经典语录。其中一幅是他第二次就职总统时发表的演说：

双方都声称反对战争，可是有一方宁愿打仗而不愿让国家生存，另一方则宁可接受战争……于是战争就来临了。我国八分之一的人口是黑奴，他们并非不是广泛分布于全国各地，而是集中在美国南部——这些黑奴带来了一种特殊而强大的利益，所有人都知道这种利益迟早会成为战争的起因。

——林肯《1865年·第二次就职总统演说》（南北战争第5年）

④ 说出材料四中这场“战争”的名称。（1分）依据材料四，概括这场战争的原因。（1分）

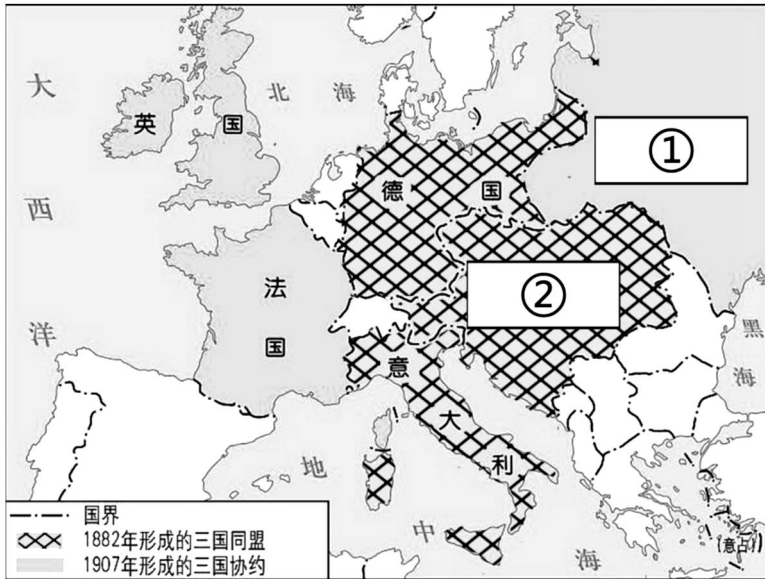
⑤ 结合所学，说出材料四中林肯“接受战争”的主要目的。（1分）

⑥ 依据材料四并结合所学，说出这场战争对美国产生的影响。（2分）



33. 第一次世界大战是人类历史的转折点，影响深远。（共9分）

材料一






(1) 将材料一中①②处的国家名称填写完整。（2分）

材料二 德国实现了统一以后，就着手进行工业革命。制造业、金融业、航运业、人口都以惊人的速度增长起来了。例如，在钢产量方面，德国于1865年还低于法国，但到1900年，就超过了法英两国的总和。德国人认为，他们需要并理应得到“阳光下的地盘”。这暗示着要获得如英国那样公认的霸权。…法国人对1871年德国兼并阿尔萨斯和洛林地区，长期以来都怀着不满情绪。过去几年，英国人看到，德国的推销商已出现在他们的国外市场上，经常用低价或者使用卑劣的手法去推销其货物；他们看到，德国人作为争夺殖民地的对手已经在非洲、中东和远东地区出现；他们还注意到，其他的欧洲国家由于期待强大的德意志帝国能够成为朋友来推进他们的利益，都被吸引到柏林的轨道上去。

——RR·帕尔默：《现代世界史》

(2) 依据材料二，说明第一次世界大战之前欧洲国家之间存在的矛盾。（要求史论结合，4分）

材料三 20世纪前期，重要历史人物“档案”


		
<p>人物1</p>	<p>人物2</p>	<p>人物3</p>
<p>威尔逊，参加巴黎和会，要求建立战后世界新秩序，加强了美国在世界的影响力。</p>		

(3) 仿照材料三中人物1的描述，在人物2和3中选择一位历史人物，完成“档案”的填写。（3分）



34. 面对 20 世纪二三十年代资本主义世界爆发的经济危机，不同国家采取了不同的作法。（共 13 分）

材料一



诺里斯大坝是美国田纳西河支流上的一座大坝，大坝从 1933 年 10 月 1 日开始建造，建成于 1936 年 3 月，总共花费了 3 千 6 百万美元。田纳西河流域管理局全面负责该流域的规划与实施。根据 1933 年美国国会通过的法案，田纳西河流域管理局不仅被授权负责田纳西河流域水利工程建设，而且拥有规划、开发、利用、保护流域内各项自然资源的广泛权力，为工匠、非熟练工人和建筑业是创造了就业机会，管理局雇佣的人数在施工高潮时曾达到四万多人。

——摘自百度百科

(1) 说出材料一中，田纳西河水利工程与罗斯福新政中的哪一项措施相关。（1 分）依据材料一，概括这一措施所产生的效果。（1 分）

材料二

1932 年	很多银行破产，失业率达到 35%
1932 年	纳粹党成为国会第一大党
1933 年	<input type="text"/> 出任德国总理，解散国会，禁止其他政党活动
1938 年	纳粹党砸碎犹太人商店的橱窗，制造“水晶之夜”事件
1939 年	德军“闪击” <input type="text"/> ，英法对德宣战

(2) 将材料二中的空格填写完整（2 分）。依据材料二，概括德国政府应对 20 世纪 30 年代经济危机的措施。（2 分）结合所学，说出德国应对经济危机的措施所产生的影响。（1 分）

材料三 1928—1937 年苏联工业总产值及重要工业产品在世界和欧洲的位次

	1928	1937	
	世界	世界	欧洲
工业总产值	5	2	1
机器制造业	4	2	1
电力	10	3	2
煤	6	4	3
钢	5	3	3

(3) 依据材料三，说明苏联在 20 世纪二三十年代工业发展的变化。（2 分）结合所学，说出发生这种变化的原因。（1 分）

材料四

观点一：罗斯福新政帮助美国克服了经济危机，解决了资本主义生产相对过剩的问题。

观点二：德国发动二战就是因为法西斯主义的崛起和希特勒的上台。

观点三：苏联在 20 世纪二三十年代取得经济建设过程中，农业、轻工业、重工业都取得了巨大成就。

(4) 从材料四中选择其中一个观点，结合所学，谈谈你的看法。（要求说出是否同意该观点，并说明理由 3 分）