



石景山 2019-2020 学年第一学期期末考试

初二历史试卷

一、本大题共 30 小题，每小题 1.5 分，共计 45 分。每题只有一个正确选项。

1. (1.5 分) ①鸦片泛滥给中华民族带来深重的灾难。②道光帝派林则徐到广东查禁鸦片。③1839 年 6 月，收缴的鸦片在虎门海滩当众销毁。④虎门销烟是中国禁烟斗争的伟大胜利。以上文字属于历史解释的是 ()

- A. ①④ B. ①② C. ③④ D. ②③

2. (1.5 分) 马克思指出：第二次鸦片战争期间，俄国不花费一文钱，不出动一兵一卒，而能比任何一个参战国得到更多的好处。这里的“好处”是指 ()

- A. 割占九龙司 B. 强租旅顺和大连
C. 割占辽东半岛 D. 割占中国北方大片领土

3. (1.5 分) 按时间顺序排列下列事件 ()

- ①定都天京
②金田起义
③天京事变
④天京陷落

- A. ①②③④ B. ④③②① C. ②①③④ D. ③④②①

4. (1.5 分) 某学者说“(?)”的方案，是内忧外患逼出来的……从‘造炮制船’到‘觅制器之器’，从军用到民用，从‘求强’到‘求富’逐步推行。”“?”指代的内容是 ()

- A. 太平天国运动 B. 洋务运动
C. 义和团运动 D. 戊戌变法

5. (1.5 分) “再现历史场景，弘扬民族精神”是历史影视剧的主题，若要再现民族英雄邓世昌抗击日本侵略者的悲壮场景，应该选择的素材是 ()

- A. 威海卫战役 B. 平壤战役 C. 黄海战役 D. 辽东战役

6. (1.5分)“神助拳，义和团，只因鬼子闹中原。……洋鬼子全杀尽，大清一统定江山。”此歌谣反映出义和团的性质是()




- A. 反帝反封建的革命运动
- B. 维新变法运动
- C. 反封建的农民运动
- D. 反帝爱国运动


7. (1.5分)孙中山是中国近代民主革命的先行者，下列史实不能证明这一观点的是()

- A. 建立了兴中会
- B. 建立了同盟会
- C. 提出了三民主义
- D. 创办了《青年杂志》

8. (1.5分)以下文献按时间先后排序正确的是()



①



②



③



④

- A. ②①④③
- B. ②①③④
- C. ①②③④
- D. ①②④③

9. (1.5分)如图是吴淞铁路公司于1876年发行的“铁路火轮车”招贴画。据记载，当“火轮车”通车时，人们纷纷涌来，争相乘坐。图文材料说明()



- A. 近代交通工具首现中国
- B. 国人观念发生彻底改变
- C. 铁路火车影响人们生活
- D. 广告公司广揽旅游业务

10. (1.5分)下列关于中国近代民族工业的叙述，正确的是()

- ①洋务运动客观上促进了中国民族工业的产生
- ②主要集中在重工业部门
- ③受帝国主义、封建主义和官僚资本主义的压迫
- ④第一次世界大战期间，中国民族工业出现了“短暂的春天”

- A. ①③④ B. ①②③ C. ①②④ D. ②③④

11. (1.5分) 鲁迅在白话小说《狂人日记》中写道：“我翻开历史一查，这历史没有年代，歪歪斜斜的每叶（同‘页’）上都写着‘仁义道德’几个字。我横竖睡不着，仔细看了半夜，才从字缝里看出字来，满本都写着两个字‘吃人’！”从上述材料可以看出《狂人日记》（ ）

- A. 提倡旧文学，反对新文学
B. 批判吃人的封建礼教
C. 宣传了维新变法的思想
D. 正式吹响了新文化运动的号角



12. (1.5分) 第二次鸦片战争后，清政府鉴于“与外国交涉事件，必先识其情性……欲悉各国情形，必谙其语言文字，方不受人欺蒙”，遂于北京设立旨在培养外交和翻译人才的（ ）

- A. 京师同文馆 B. 京师大学堂
C. 北洋水师学堂 D. 福州船政学堂

13. (1.5分) 1922年初到1923年春，在中国出现了第一次工人运动的高潮，主要原因是（ ）

- A. 新三民主义思想深入人心
B. 新文化运动启发了民智
C. 五四运动中工人成为主力
D. 中国共产党的组织和推动

14. (1.5分) “北伐战争是在共产党提出的反对帝国主义、反对军阀的口号下进行的，在北伐进军的过程中，共产党人在军队政治工作和发动工农群众方面做出了巨大贡献……”上述材料说明在北伐战争中（ ）

- A. 苏联给予了很大帮助
B. 人民群众是北伐的主力
C. 中国共产党发挥了重要作用
D. 国民革命军英勇善战

15. (1.5分) 1997年，在一座纪念馆的落成典礼上，江泽民亲笔写下了“军旗升起的地方”几个大字。这个纪念馆就是（ ）

- A. 广州起义纪念馆 B. 秋收起义纪念馆

C. 南昌起义纪念馆

D. 井冈山会师纪念馆

16. (1.5分) 黄仁宇在《中国大历史》中说：“少帅张学良的部队冲入委员长的行营，要求他停止对共产党的‘围剿’，以便一致对日抗战。这兵变的目的既达，中国的政治从此改观……”。“中国的政治从此改观”可以解读为()

A. 南京国民政府统一全国

B. 国共十年内战基本结束

C. 全民族抗战正式开始

D. 中国开始局部抗战



17. (1.5分) 如图所示纪念碑警示和教育后人不能忘记的是()



A. 英法联军火烧圆明园

B. 日军制造旅顺大屠杀

C. 八国联军洗劫北京城

D. 日军制造南京大屠杀

18. (1.5分) 抗日战争时期，敌后战场的战略总后方和指挥中枢是()

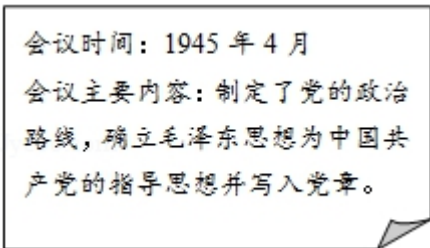
A. 瑞金

B. 延安

C. 西柏坡

D. 北平

19. (1.5分) 据右侧“资料卡片”判断，其中的“会议”是指()



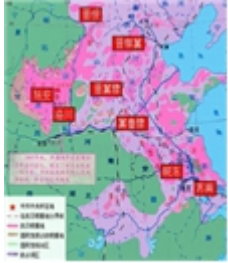
A. 中共三大

B. 中共七大

C. 中共八大

D. 政治协商会议

20. (1.5分) 以下四则材料可共同用于说明的主题是()

<p>正面战场 22 场会战</p>	 <p>敌后抗日根据地形势一九三七年 - 一九四〇年</p>	<p>据不完全统计，卢沟桥事变到抗战胜利期间，全世界华侨捐款（不包括华侨直接汇寄国内的资金和各种捐赠物资）达 13.2 亿元，回国参战的华侨超过万人。</p>	<p>据不完全统计，1938 年陕甘宁边区女自卫军人数达 4000 多人。1939 年陕甘宁边区有 10 万妇女参加生产，开荒 6 万多亩。1939 年至 1940 年初海外华侨妇女筹赈所得之款，约为当年战费的 1/5。</p>
--------------------	---	---	--

- A. 国民党在抗日战争中起到了决定胜负的作用
- B. 中国共产党领导的敌后抗日游击战成果显著
- C. 广大爱国华侨、妇女对抗战的胜利功不可没
- D. 空前的民族团结是抗战胜利的决定性因素

北京中考在线
微信号: BJ_zkao



21. (1.5 分) 如图所示《申报》发行的具体时间为 ()



- A. 1931 年
- B. 1937 年
- C. 1938 年
- D. 1872 年

22. (1.5 分) 归类法是历史学习常用的一种方法。如果把“杨靖宇、佟麟阁”归为一类，下列历史人物不可以纳入此类的是 ()

- A. 李大钊
- B. 姚子青
- C. 张自忠
- D. 左权

23. (1.5 分) 右侧漫画反映的历史现象是 ()

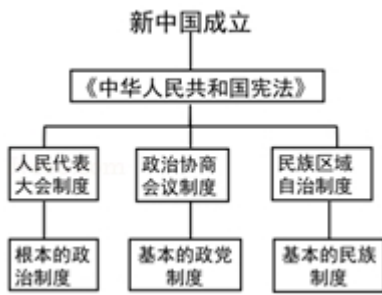


- A. 国共两党精诚合作
- B. 国民党假和平、真内战
- C. 西安事变和平解决
- D. 抗战胜利指日可待

24. (1.5分) 在如图所示战役中, 刘伯承号召大家: “面前即使横着刀山火海, 我们也必须打过去! 狭路相逢勇者胜!” 这次战役是 ()



- A. 辽沈战役 B. 挺进大别山 C. 淮海战役 D. 平津战役
25. (1.5分) 1949年2月, 解放军某部侦察营来到长江北岸进行刻苦训练, 战士们都由“旱鸭子”变成“水鸭子”, 多次成功渡江侦察敌情。这些准备工作是为了 ()
- A. 发起平津战役 B. 打倒北洋军阀
C. 为了强渡金沙江 D. 顺利解放南京
26. (1.5分) 陈毅在《记淮海前线见闻》诗中写道: “几十万民工走不通, 骏马高车运粮食, 随军旋转逐西东, 前线争立功”。出现这种情景的主要原因是 ()
- A. 农民踊跃支援前线战斗 B. 华北全境解放鼓舞人心
C. 解放区实行土地改革 D. 解放军的作战方针正确
27. (1.5分) 小明在学习某一段历史时, 提炼出“保家卫国”“中国人民志愿军”两个词语, 据此判断他学习的内容是 ()
- A. 二次革命 B. 护国战争
C. 抗美援朝战争 D. 解放战争
28. (1.5分) “它从根本上铲除了中国封建制度的根基, 带来了农村生产力的大解放, 为我国逐步实现社会主义工业化扫清了障碍。”材料中的“它”是指 ()
- A. 新中国的成立 B. 土地改革
C. 农业合作化运动 D. 手工业合作化运动
29. (1.5分) 整理知识结构图是一种高效的学习方法。以下示意图有助于我们了解 ()



- A. 新中国的民主政治建设
B. 新中国的经济建设
C. 新中国的文化建设
D. 新中国的国防建设

30. (1.5分) 楹联可反映一定的历史信息。在“万里长征，后人应识前人苦；十年浩劫，前事当为后事师”中，“前事”指的是 ()

- A. 万里长征
B. “大跃进”运动
C. 人民公社化运动
D. 文化大革命

二、材料解析题 (共 45 分)

31. (11分) 近代列强的侵略使中国陷入灾难的深渊

【回望战争】

材料一：



① 圆明园劫难



② 被抓捕的义和团团民



③ 旅顺大屠杀

(1) 将上述图片反映的历史事件按时间先后进行排序。(写序号即可)

【战争影响】

材料二：

主要不平等条约的内容 (节选)	对中国的危害
今大皇帝准将香港一岛给予大英国君主暨嗣后世袭主位者常远据守主掌，任便立法治理。	③

- - 《①》	
增开牛庄、登州、台南、淡水、潮州、琼州、汉口、九江、南京、镇江为通商口岸。 - - 中英《天津条约》	列强的侵略势力深入到长江流域，有利于外国资本主义向中国倾销商品和掠夺原料。
中国约将库平银二万万两交与日本，作为赔偿军费。 - - 《②》	④
大清国国家应允将大沽炮台及有碍京师至海通道之各炮台一律削平，现已设法照办。 - - 《辛丑条约》	⑤

(2) 补全上面的表格。随着这些不平等条约的签订，中国的社会性质发生怎样的变化？

【战败寻因】

材料三：甲午战前中日两国综合实力对比表



项目	中国	日本
人口	4 亿多	4 千万
国土面积	1000 多万平方公里	37 万多平方公里
政治体制	君主专制	君主立宪制
军队实力	总计：96 万余人，实际参战：20 万	总计：24 万人，实际参战：17 万
财政收入	(1893 年) 8867 万两白银	(1893 年) 7585 万两白银
近代企业	262 家	3344 家
铁路长度	300 公里	3200 公里
近代教育	洋务学堂 30 余所	各类大中小学近 3 万所
后勤保障	无成熟的兵站体系	完善的兵站物流系统，15 万军夫

(3) 依据材料三，说明甲午中日战争中中国失败的原因。

【中国向何处去】

材料四：在近代中国面前摆着两个问题：即一、如何摆脱帝国主义的统治和压迫，成为一个独立国家；二、如何使中国近代化。这两个问题显然是密切相关的。因为落后，所以挨打；因为不断地挨打，所以更落后。这是一个恶性循环。以首先解决近代化问题为突破口，来解除这种恶性循环，行不行呢？在近代中国，一切工业救国、教育救国、以合法的途径实现民主化、近代化的主张都不能成功……之所以不能成功，就是因为有帝国主义及其在中国的代理人的严重阻力。首先解决民族独立的问题，是很艰难的……但历史经验证明，只有这样做，才能改变中国所面临的恶性循环的命运。就是说，只有争取民族的解放和国家的独立，才能谈得到近代化的政治、经济、文化的建设。

- - 胡绳《关于近代中国与世界的几个问题》

(4) 在材料四中，作者认为近代中国如何从沉沦中崛起？

32. (10分) 《历史的放大镜 - - 辛亥革命时期的漫画展》以新的视角揭示了古老帝国在艰难的现代化转型中的蹒跚步履。

材料一：



(1) 展览用近百幅漫画主要从四个方面展现了辛亥革命的发展历程。请把下列事件填入材料一中 A、B、C 三处的相应位置。(写序号即可)

- ①南京临时政府成立 ②武昌起义 ③推行鞠躬、握手礼

材料二：

	<p>左图为展品中的《时局图》，谢纘泰绘于1898年。1903年12月25日由蔡元培等人主编的《俄事警闻》在上海创刊，《时局图》被刊登在其创刊号上：“因为这一张图，我们中国人知道的虽然不少，还有一大半是不知道的，所以特地登在第一天警闻上头，请我们四万万的中国人都开着眼看看，打着心思想，恐怕不知不觉要赶紧去想法子了。”</p>
--	---

(2) 依据材料二，说说《时局图》在当时起到的作用。

材料三：



图1《清政府对内对外的两种面目》
原画载于1908年《戊申全年画报》



图2《但闻人语响》
原画载于1912年《神州日报》

(3) 结合所学，分析材料三中两幅漫画所反映的历史现象之间的联系。

材料四：



该漫画为1912年法文报纸《Le Petit Journal》关于袁世凯剪辫子的报道。该报评论道“革命的剪刀剪去了袁世凯的辫子，旧中国一去不复返”。

《YUAN-SHI-KAI FAIT COUPER SA NATTE》

(4) 依据材料四和所学，谈谈你是否同意该报的评论？请说明理由。

(5) 漫画被称为历史的放大镜。结合以上材料，谈谈你对这句话的认识。

33. (14分) 新民主主义革命的历程是从天安门到天安门

材料一：



(1) 写出材料一反映的历史事件及该事件在中国革命中的地位。

材料二：1921 至 1922 年，中国共产党在上海先后召开了第一次全国代表大会和第二次全国代表大会制定了如下的奋斗目标：



中共一大	中共二大
大会确定党的奋斗目标是推翻资产阶级政权，建立无产阶级专政，实现共产主义。	大会重申了党的最终奋斗目标是建设共产主义，同时制定了党的最低纲领。纲领规定，在民主革命阶段，党的主要任务是打倒军阀，推翻帝国主义，将中国统一为真正的民主共和国。

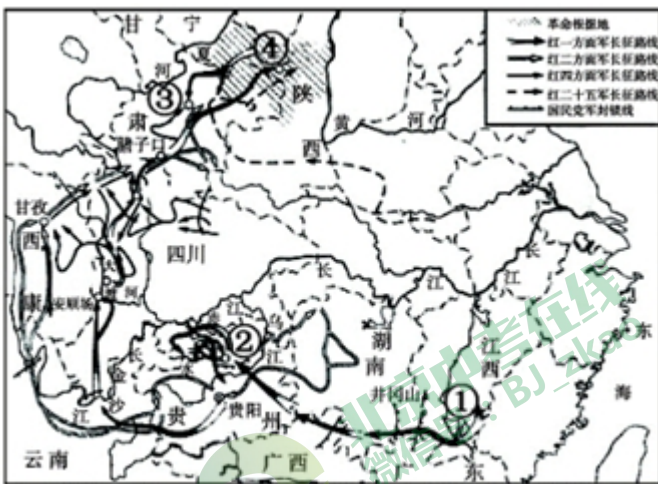
(2) 依据材料二，说说与中共一大相比，中共二大的奋斗目标有什么变化？中国共产党奋斗目标的变化说明了什么？

材料三：井冈山地处湘赣边界罗霄山脉中段，总面积约 4000 平方千米。这里山高林密，地势险峻，交通不便，可攻可守，国民党统治力量薄弱。井冈山上还有两支农民武装，革命基础较好。1927 年 10 月，毛泽东率领中国工农革命军来到这里，将原有的农民武装争取过来，壮大了革命势力，创建了以宁冈县为中心的第一个农村革命根据地。

- - 摘编自人民网 - 文史频道

(3) 依据材料三，说出毛泽东选择井冈山的主要原因。结合所学，分析创立井冈山农村革命根据地的意义。

材料四：



中国工农红军长征路线图

1935 年 1 月，红军攻克某重镇后，中共中央在此召开了政治局扩大会议，这次会议集中全力纠正博古等人在军事上和组织上“左”的错误，取消了博古、李德的军事最高指挥权，肯定了毛泽东的正确军事主张，选举毛泽东为政治局常委。

(4) 写出材料四中“某重镇”的名称和其在图中的对应序号。结合史实说明这次会议在中国革命史中的地位。

材料五：到了中午，广场上人山人海，形成了欢腾的海洋……快到下午三点了，毛主席等党和国家领导人走到了天安门城楼上，主席升起了第一面五星红旗。在鸦雀无声中，主席宣布：“中华人民共和国、中央人民政府今天成立了！”很多同学流泪了，我的耳边回响着雷鸣般的掌声和欢呼声。

- - 原辅仁大学学生谷宗藩 2009 年的口述回忆

(5) 写出材料五反映的历史事件及该事件的影响。有人说材料五中关于毛主席讲的那句话记述有误，为进一步验证材料五的真实程度，应当查找哪些类型的材料？

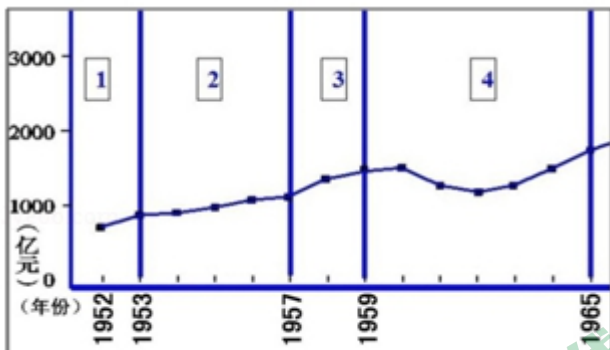
34. (10 分) 20 世纪 50 年代到 70 年代中期的中国经济建设经历曲折、成就斐然。

材料一：1949 年新中国成立后，党和政府承担起了建设和管理国家的重任。经过三年艰苦卓绝的努力，在经济战线上取得了稳定物价、统一财经、恢复国民经济的重大胜利。据统计，1952 与 1949 年相比，我国工农业总产值增长 77.5%，年均增长 21.1%，工农业总产值和主要产品的产量均超过建国前的最高水平。尽管如此，当时的国民经济依然十分落后，尤其是现代工业在工农业总产值中只占 26.6%，而重工业在工业总产值中只占 35.5%。我国的工业水平不仅远远落后于英美等国，甚至连印度都不如。

- - 《第一个五年计划的编制与实施》，《中国产经》杂志 2018 年第 3 期

(1) 依据材料一，概括第一个五年计划实施的背景。

材料二：



新中国 1952~1965 年国民生产总值曲线图

(2) 依据材料二和所学，补全下面的表格。

发展阶段	发展状况	主要原因
1952 - 1953	平稳增长	土地改革激发农民的生产积极性。
1953 - 1957	稳定增长	①
1957 - 1959	②	“大跃进”和人民公社化运动开始，短期投入大量的人力和物力。
1959 - 1965	③	“大跃进”和人民公社化运动的影响；纠正经济工作中的“左”倾错误，对国民

经济进行调整。

材料三：社会主义探索时期的成就（部分）

- ①建成武汉、包头两大内地钢铁基地及大庆油田、大港油田和胜利油田；
- ②到 1965 年，我国国内需要的石油已实现全部自给；
- ③修建了包兰、兰新、兰青等铁路；
- ④1956 - 1966 年，共有 183 名运动员打破和超过 97 项记录；
- ⑤1964 年，成功爆炸了第一颗原子弹；
- ⑥1965 年，我国首次完成人工合成牛胰岛素，处于世界领先地位；
- ⑦1973 年，成功培育出籼型杂交水稻。



北京中考在线
微信号：BJ_zkao

北京中考在线
微信号：BJ_zkao

(3) 请用材料中的史实证明下列观点。(填写序号，多选、错选或少选均不得分)

科学技术的发展成绩显著：_____

交通运输业有了长足的发展：_____

工业生产能力大大提高：_____

材料四：社会主义探索时期“时代楷模”人物卡片

姓名：王进喜	姓名：焦裕禄	姓名：雷锋
主要事迹：率领钻井队开发大庆油田，顽强拼搏，艰苦创业，打出了大庆油田的第一口油井。	主要事迹：为摸清灾情，改变兰考面貌，亲自带队到灾区展开调查研究，得知自己得了癌症之后，仍然坚持工作，直到生命最后一息。	主要事迹：一名普通的解放军战士，他干一行爱一行，在每个岗位上都兢兢业业，甘当革命的螺丝钉，默默无闻地为
荣誉称号：“铁人”。	荣誉称号：“党的好干部”。	人民做了大量的好事。 荣誉称号：“解放军好战士”。

(4) 结合材料四，概括“时代楷模”所体现的时代精神。



参考答案

一、本大题共 30 小题，每小题 1.5 分，共计 45 分。每题只有一个正确选项。

1. 【答案】见试题解答内容

【分析】本题主要考查了虎门销烟，掌握相关基础知识。

【解答】根据题干①鸦片泛滥给中华民族带来深重的灾难。②道光帝派林则徐到广东查禁鸦片。③1839 年 6 月，收缴的鸦片在虎门海滩当众销毁。④虎门销烟是中国禁烟斗争的伟大胜利。以上文字属于历史解释的是①④。②③属于文字叙述。鸦片泛滥给中华民族带来深重的灾难，道光帝派林则徐到广东查禁鸦片，1839 年 6 月，林则徐下令将缴获的全部鸦片，在虎门海滩当众销毁。虎门销烟，是中国人民禁烟斗争的伟大胜利，显示了中华民族反对外来侵略的坚强意志。林则徐是当之无愧的民族英雄，被誉为是“中国禁烟第一人”、“全球禁毒第一人”。因而“国际禁毒日”是为了纪念林则徐。A 符合题意。

故选：A。

【点评】本题主要考查了虎门销烟，注意基础知识的识记与理解。

2. 【答案】见试题解答内容

【分析】本题主要考查俄国侵占我国大片领土的相关史实。掌握相关基础知识。

【解答】第二次鸦片战争期间，俄国不花费一文钱，不出动一兵一卒，而能比任何一个参战国得到更多的好处。这里的“好处”是指割占中国北方大片领土。俄国在第二次鸦片战争前后，趁火打劫，强迫清政府签订了一系列不平等条约，共割占了我国东北西北领土一百五十多万平方千米，是割占中国领土最多的国家。

故选：D。

【点评】本题主要考查学生的识记能力以及分析问题的能力。理解与识记俄国侵占我国大片领土的相关史实。

3. 【答案】见试题解答内容

【分析】本题考查太平天国运动。注意掌握相关基础知识。

【解答】1851 年洪秀全发动金田起义，太平天国运动开始，1851 年 9 月下旬攻克永安，12 月，洪秀全封杨秀清为东王、萧朝贵为西王、冯云山为南王、韦昌辉为北王、石达开为翼王，所封诸王受东王节制。太平天国初步建立政权组织。太平天国永安建制初步建立政权，之后攻克武昌，1853 年太平天国定都天京，正式建立与清廷对峙的政权。通过北伐、西征，1856 年太平天国在军事上达到全盛时期。1856 年的天京事变，标志着太平天国由盛转衰。1864 年，太平天国都城天京陷落，标志着运动失败。②①③④符合题意。

故选：C。

【点评】本题考查学生的识记及分析问题的能力。识记与灵活掌握太平天国运动的背景、经过和意义。

4. 【答案】见试题解答内容

【分析】本题考查洋务运动，掌握相关的基础知识。

【解答】某学者说“（？）的方案，是内忧外患逼出来的……从‘造炮制船’到‘觅制器之器’，从军用到民用，从‘求强’到‘求富’逐步推行。”“？”指代的内容是洋务运动。据题干并结合所学知识可知，19世纪60年代至90年代，李鸿章等洋务派掀起一场“师夷长技以自强”的洋务运动。

故选：B。

【点评】本题考查洋务运动，考查学生的理解和分析能力，解题关键是掌握基础知识。

5. 【答案】见试题解答内容

【分析】本题考查甲午中日战争中相关的民族英雄邓世昌这一历史史实。

【解答】民族英雄邓世昌的英勇事迹充分弘扬了民族精神，他牺牲于黄海大战中，黄海大战是甲午中日战争中重要的海战。

故选：C。

【点评】本题比较简单，考生掌握住甲午中日战争中对应的民族英雄人物邓世昌即可。

6. 【答案】见试题解答内容

【分析】本题以“神助拳，义和团，只因鬼子闹中原”“洋鬼子，尽除完，大清一统靖江山”为依托，考查义和团运动的性质。

【解答】甲午中日战争后，随着帝国主义侵略势力的深入，一些外国教会也猖狂的欺压中国人民。19世纪末，列强的侵略加剧了中华民族与帝国主义的矛盾，使广大的中国人民深受其害。从1898年起，活跃在山东的民间组织义和团，以“扶清灭洋”为口号，掀起了反帝爱国的农民运动 - 义和团运动。故“神助拳，义和团，只因鬼子闹中原……洋鬼子，尽除完，大清一统靖江山。”通过这首歌谣，可见义和团的性质是反帝爱国运动。

故选：D。

【点评】本题主要考查学生的识记能力以及分析问题的能力。识记与灵活掌握义和团运动的背景、经过和结果。

7. 【答案】见试题解答内容

【分析】本题以孙中山是中国近代民主革命的先行者为切入点，考查孙中山的相关知识点。



北京中考在线
微信号：BJ_zkao

【解答】1915年，陈独秀在上海创办《青年杂志》（从第二卷起改称《新青年》），标志着新文化运动的兴起。1915年，陈独秀、李大钊、胡适、鲁迅等高举“民主”与“科学”两面大旗，以《新青年》为主要阵地，掀起了空前的思想大解放运动——新文化运动，新文化运动是我国历史上一次空前的思想大解放运动。D不是孙中山的功绩，ABC都与孙中山有关。

故选：D。

【点评】本题主要考查学生的识记能力以及分析问题的能力。理解并识记孙中山的相关史实。



8. 【答案】见试题解答内容

【分析】本题以四张历史文献图片为切入点，考查辛亥革命、戊戌变法、新文化运动。

【解答】《民报》创建于1905年；《国闻报》创办于1895年；《新青年》创办于1915年；《中华民国临时约法》颁布于1912年，按时间先后排序应是②①④③。

故选：A。

【点评】本题以辛亥革命、戊戌变法、新文化运动为背景，考查学生识记历史知识能力。

9. 【答案】见试题解答内容

【分析】本题主要考查铁路火车影响人们生活的相关史实。近代中国的大门被资本主义列强打开，但同时欧风美雨也把世界创造的文明带到中国。近代中国人在社会生活领域发生了翻天覆地的变化。

【解答】据“当‘火轮车’通车时，人们纷纷涌来，争相乘坐”可知，图文材料说明铁路火车影响人们生活。近代中国的大门被资本主义列强打开，但同时欧风美雨也把世界创造的文明带到中国。近代中国人在社会生活领域发生了翻天覆地的变化。交通方面，出现了火车、轮船，大大加快了人们的出行速度。

故选：C。

【点评】本题主要考查学生对图片的解读能力和对历史知识的识记、理解能力。理解并识记近代生活的变迁的相关史实。

10. 【答案】见试题解答内容

【分析】本题主要考查中国近代民族工业的相关史实。掌握相关基础知识。

【解答】据所学知识可知，辛亥革命后，中华民国临时政府颁布了一系列奖励发展实业的法令，各种实业团体纷纷涌现，人们竞相投资设厂，海外华侨也归国创业，掀起了发展实业的热潮。第一次世界大战期间，西方列强忙于欧洲战事，暂时放松了对中国的经济侵略，中国民族工业获得了迅速发展的良机，出现了“短暂的春天”。其中发展最快的是纺织业和面粉业。第一次世界大战后，帝国主义经济势力卷土重来，民族资本主义发展再度受挫。中国近代的民族工业在帝国主义、封建主义和官僚资本主义三座大山的夹缝中求生存、图发展，总的来

说是比较落后的。而且从行业上看，主要集中在轻工业部门。地区之间的发展也很不平衡，像上海、武汉等沿海沿江大城市的民族工业比较发达，而在广大的内地却非常薄弱。①③④符合题意。

故选：A。

【点评】本题主要考查综合运用所学知识进行判断分析的能力。理解与识记中国近代民族工业的相关史实。

11. 【答案】见试题解答内容

【分析】本题主要考查的相关史实。掌握相关基础知识。

【解答】1918年，鲁迅在《新青年》上发表白话短篇小说《狂人日记》，借“狂人”之口控诉几千年封建专制统治的罪恶，号召人们打倒人吃人的封建旧礼教。鲁迅把反封建的革命内容，同新文学形式结合起来，树立了新文学的典范。鲁迅的《狂人日记》中这样写道：“我翻开历史一查，这历史没有年代，歪歪斜斜的每页上都写着‘仁义道德’几个字。我横竖睡不着，仔细看了半夜，才从字缝里看出字来，满本都写着两个字‘吃人’。”从上述材料可以看出《狂人日记》批判吃人的封建礼教，提倡新道德。

故选：B。

【点评】本题主要考查学生的识记能力以及分析问题的能力。理解与识记的相关史实。



12. 【答案】见试题解答内容

【分析】本题主要考查学生对洋务运动相关知识的掌握，从19世纪60--90年代，洋务运动掀起了一场师夷长技以制夷的洋务运动。

【解答】据题干“与外国交涉事件，必先识其情性，……欲悉各国情形，必谙其语言文字，方不受人欺蒙”。可知，为了培养外交与翻译人员，1862年8月24日清政府设立京师同文馆。

故选：A。

【点评】本题主要考查学生对洋务运动相关知识的掌握，重点识记内容与影响。

13. 【答案】见试题解答内容

【分析】本题以“1922年初到1923年春，在中国出现了第一次工人运动的高潮”为切入点，考查全国工人运动的高涨。

【解答】1921年7月，中共一大在上海召开，中共一大的召开标志着中国共产党的诞生。按照中共一大确立的集中力量领导工人运动中心任务，中国共产党成立了中国劳动组合书记部领导工人运动，因此从1922年初到1923年春，全国掀起了第一次工人运动的高潮。故在党的组织和推动下，从1922年初到1923年春，全国掀起了第一次工人运动的高潮。

故选：D。

【点评】本题以全国工人运动的高涨为背景，考查学生识记历史知识能力。

14. 【答案】见试题解答内容

【分析】本题以“北伐战争是在共产党提出的反对帝国主义、反对军阀的口号下进行的，在北伐进军的过程中，共产党人在军队政治工作和发动工农群众方面做出了巨大贡献……”为切入点，考查北伐战争的相关知识点。

【解答】国共两党第一次合作，取得了北伐战争的胜利进军。1924年国民党一大召开，标志着国共合作建立了统一战线，1926年广东国民政府决定北伐，第四军共产党员叶挺领导的独立团作为北伐的先锋，首先开赴湖南、湖北战场，连克汀泗桥和贺胜桥，消灭了吴佩孚的主力。之后北伐军又集中力量进攻江西消灭了孙传芳的主力。叶挺独立团为北伐革命军赢得了“铁军”的称号。北伐军出师不到半年，就从珠江流域打到长江流域，基本推翻了北洋军阀的统治，声势震动全国。C符合题意。

故选：C。

【点评】本题主要考查学生的识记能力以及分析问题的能力。理解并识记北伐战争的相关史实。



15. 【答案】见试题解答内容

【分析】本题主要考查南昌起义的相关史实。掌握相关基础知识。

【解答】1927年8月1日，周恩来、贺龙、朱德等发动南昌起义，打响武装反抗国民党反动统治的第一枪，成为中共创建人民军队、独立领导武装斗争的开始。1997年，在一座纪念馆的落成典礼上，江泽民亲笔写下了“军旗升起的地方”几个大字。这个纪念馆就是南昌起义纪念馆。

故选：C。

【点评】本题主要考查学生的识记能力以及分析问题的能力。理解与识记南昌起义的相关史实。

16. 【答案】见试题解答内容

【分析】本题考查西安事变。注意掌握相关基础知识。

【解答】为了逼迫蒋介石抗日，1936年12月12日，张学良和杨虎城发动西安事变，扣押蒋介石。西安事变发生后，中国共产党从全民族的利益出发，主张和平解决，党中央派周恩来等到西安调停，经过中国共产党和各方面的努力，西安事变得和平解决，西安事变的和平解决，成为时局转变的关键；标志着国共第二次合作初步形成（抗日民族统一战线初步形成，预示着团结抗日新局面到来，十年内战基本结束。黄仁宇在《中国大历史》中说：“少帅张学良的部队冲入委员长的行营，要求他停止对共产党的‘围剿’，以便一致对日抗战。这兵变的目的既达，中国的政治从此改观……”。“中国的政治从此改观”可以解读为国共十年内战基本结束。

故选：B。

【点评】本题考查学生识记和分析历史知识的能力，灵活掌握抗日战争中的重大事件以及意义。

17. 【答案】见试题解答内容

【分析】本题考查南京大屠杀；重点理解南京大屠杀的警示。

【解答】依据题干纪念碑的关键词“1937年12月13日 - - - 1938年1月”可知，此纪念碑警示和教育后人不能忘记的是南京大屠杀。1937年12月13日，日军攻陷南京，对南京人民进行了血腥大屠杀，犯下了滔天罪行。日军占领南京后，屠杀手无寸铁的中国居民和放下武器的士兵达30万人以上，这一事件最能体现日本法西斯灭绝人性的暴行，故D符合题意。

故选：D。

【点评】本题考查学生对基础知识的识记能力，需要准确识记南京大屠杀的内容。



18. 【答案】见试题解答内容

【分析】本题考查延安。注意掌握相关基础知识。

【解答】抗日战争时期，以延安为中心的陕甘宁边区是中共中央和中央军委所在地，是敌后抗日战争的政治指导中心和敌后抗日根据地的总后方，中国共产党领导全国人民抗战的中心。B符合题意。

故选：B。

【点评】本题考查学生识记和分析历史知识的能力，灵活掌握抗日战争中的重大事件以及意义。

19. 【答案】见试题解答内容

【分析】本题考查中共七大。注意掌握相关基础知识。

【解答】据“资料卡片”判断，其中的“会议”是指中共七大。1945年4月中共七大在陕西延安召开。大会主要讨论夺取抗战胜利和胜利后中国将走什么道路的问题，会上毛泽东作了《论联合政府》的报告，确立毛泽东思想为党的指导思想，选举以毛泽东为首的中央领导集体。这是在关键时刻召开的一次团结的大会、胜利的大会，为争取抗日战争的胜利和实现中国光明的前途准备了条件。

故选：B。

【点评】本题考查学生识记和分析历史知识的能力，灵活掌握抗日战争中的重大事件以及意义。

20. 【答案】见试题解答内容

【分析】本题考查抗战胜利的决定性因素。注意掌握相关基础知识。

【解答】抗日战争胜利原因主要有，在中国共产党倡导下，建立了以国共两党合作为基础的抗日民族统一战线，国民党军队在正面战场与日军展开了多次会战，消灭了大量日军，打击了日军的嚣张气焰，中国共产党提出了全面抗战路线，制定了持久战的战略方针和一整套正确的作战原则，中国共产党领导的八路军、新四军以及各地的人民抗日武装抗击和牵制着大部分侵华日军和几乎全部伪军，成为全民族抗战的中流砥柱，对抗战的胜利起了决定性作用，海外华侨和世界各国人民的支持，四则材料可共同用于说明的主题是空前的民族团结是抗战胜利的决定性因素。

故选：D。

【点评】本题考查学生识记和分析历史知识的能力，灵活掌握抗日战争中的重大事件以及意义。



21. 【答案】见试题解答内容

【分析】本题主要考查《申报》的相关史实。掌握相关基础知识。

【解答】鸦片战争后，外国人在上海等城市创办了外文报纸，后来中文报纸也出现了，其中最著名的是1872年在上海创办的《申报》，它是中国近代第一份商业性报纸。它刊载新闻、评论、广告等内容。报纸成为人们获取信息和了解社会的主要传媒工具。题干图片所示《申报》发行的具体时间为1872年。

故选：D。

【点评】本题主要考查学生读图识图的能力和准确识记历史知识的能力。理解与识记近代生活的变迁和近代社会习俗的变化的相关史实。

22. 【答案】见试题解答内容

【分析】本题考查抗日战争时期的民族英雄。注意掌握相关基础知识。

【解答】杨靖宇、佟麟阁是抗日战争时期的民族英雄。姚子青、张自忠、左权都是抗日战争时期的民族英雄。李大钊是马克思主义者，没有抗击外来侵略，不是民族英雄。如果把“杨靖宇、佟麟阁”归为一类，历史人物不可以纳入此类的是李大钊。

故选：A。

【点评】本题考查学生识记和分析历史知识的能力，灵活掌握抗日战争中的重大事件以及意义。

23. 【答案】见试题解答内容

【分析】本题主要考查重庆谈判的相关史实。掌握相关基础知识。

【解答】1945年8月，蒋介石先后三次电邀毛泽东到重庆面商国家大计。蒋介石的目的，一方面是为发动内战争取时间，另一方面是想在政治舆论上获得主动，把不愿和平的罪名强加到中国共产党身上。为了尽一切可能争取和平，毛泽东高瞻远瞩，以惊人的胆魄亲赴重庆，与国民党进行和平谈判。经过谈判，1945年10月10日，国共双方签署了《政府与中共代表会谈纪要》，即“双十协定”。双方同意以和平、民主、团结、统一为基础，长期合作，坚决避免内战，建设独立、自由和富强的新中国；召开政治协商会议，邀集各党派代表和社会贤达协商国是，讨论和平建国方案。右侧漫画反映的历史现象是国民党假和平、真内战，选项B符合题意。

故选：B。

【点评】本题主要考查学生对图片信息的有效获取能力。理解与识记重庆谈判的相关史实。

24. 【答案】见试题解答内容

【分析】本题考查挺进大别山。注意掌握相关基础知识。

【解答】仔细观察图片并结合所学知识可知，图所示战役中，刘伯承号召大家：“面前即使横着刀山火海，我们也必须打过去！狭路相逢勇者胜！”这次战役是挺进大别山。1947年夏，刘伯承、邓小平率领晋冀鲁豫解放军，挺进大别山，刘邓大军从国民党重点进攻的山东和陕甘宁解放区中间发起进攻，“像一把尖刀，插入敌人胸膛”。刘邓大军开辟了大别山根据地，严重地威胁了国民党统治中心南京和湖北重镇武汉，揭开了人民解放军全国性战略进攻的序幕。B符合题意。

故选：B。

【点评】本题考查学生识记和分析历史知识的能力，识记与灵活掌握解放战争的重大事件以及意义。

25. 【答案】见试题解答内容

【分析】本题考查渡江战役。注意掌握相关基础知识。

【解答】1949年2月，解放军某部侦察营来到长江北岸进行刻苦训练，战士们都由“旱鸭子”变成“水鸭子”，多次成功渡江侦察敌情。这些准备工作是为了顺利解放南京。1949年4月21日，毛泽东、朱德向人民解放军发布渡江战役的命令，在长江北岸严阵以待的百万雄师，从西起江西湖口，东到江苏江阴500多千米的战线上，分三路强渡长江。国民党苦心经营的长江防线，顷刻间土崩瓦解，23日，解放军占领南京。D符合题意。

故选：D。

【点评】本题考查学生识记和分析历史知识的能力，识记与灵活掌握解放战争的重大事件以及意义。

26. 【答案】见试题解答内容

【分析】本题考查解放区实行土地改革。注意掌握相关基础知识。

【解答】1947年10月，中共中央公布了《中国土地法大纲》。《大纲》明确规定，废除封建性及半封建性剥削的土地制度，实行耕者有其田的土地制度，按农村人口，不分男女老幼，统一平均分配土地。经过土地改革，解放区有1亿多农民获得了土地，极大地激发了广大农民革命和生产的积极性。解放区农民掀起了参军参战和支援前线的热潮。陈毅在《记淮海前线见闻》诗中写道：“几十万民工走不通，骏马高车运粮食，随军旋转逐西东，前线争立功”。出现这种情景的主要原因是解放区实行土地改革。

故选：C。

【点评】本题考查学生识记和分析历史知识的能力，识记与灵活掌握解放战争的重大事件以及意义。

27. 【答案】见试题解答内容

【分析】本题以“保家卫国”“中国人民志愿军”为切入点，考查抗美援朝的相关知识。

【解答】据“保家卫国”“中国人民志愿军”可知，这反映的是抗美援朝。为了抗美援朝、保家卫国，1950年10月，以彭德怀为司令员的中国人民志愿军开赴朝鲜前线，同朝鲜军民一起抗击美国侵略者。经过五次大规模战役，



把美国侵略军赶回到“三八线”附近。1953年7月，美国被迫在停战协定上签字。中朝人民取得了反侵略战争的伟大胜利。

故选：C。



【点评】注意掌握抗美援朝的相关史实及其影响。

28. 【答案】见试题解答内容

【分析】本题以“它从根本上铲除了中国封建制度的根基，带来了农村生产力的大解放，为我国逐步实现社会主义工业化扫清了障碍。”为切入点，考查土地改革的相关知识点。

【解答】1950年，中央人民政府颁布《中华人民共和国土地改革法》，规定废除地主阶级封建剥削的土地所有制，实行农民土地所有制，到1952年底，除部分少数民族地区外，全国大陆基本完成了土地改革。彻底摧毁了我国存在两千多年的封建土地制度，消灭了地主阶级，农民翻身成为土地的主人。巩固了新生的人民政权，大大解放了农村生产力，农业生产获得迅速恢复和发展，为国家的工业化建设准备了条件。

故选：B。

【点评】本题主要考查学生的识记能力以及分析问题的能力。理解并识记土地改革的相关史实。

29. 【答案】见试题解答内容

【分析】本题主要考查我国的民主政治建设，要求学生结合我国民主政治建设的表现来分析。

【解答】材料明显反映的是人民代表大会制度，政协制度和民族区域自治制度，由此可知题干材料示意图有助于了解新中国的民主政治建设。

故选：A。

【点评】解答问题要搞清楚我国民主政治建设的内容特点，还要搞清楚新中国初期民主政治建设的基本框架。

30. 【答案】见试题解答内容

【分析】本题考查文化大革命的知识点。1966年至1976年的文化大革命给中国带来巨大的灾难。

【解答】1966年至1976年的文化大革命，是一场由领导者错误发动，被反革命集团利用，给党、国家和各族人民带来严重灾难的内战，被称为十年浩劫。所以楹联中“前事”指文化大革命。

故选：D。

【点评】本题考查学生对文化大革命的知识点识记能力。

二、材料解析题（共45分）

31. 【答案】见试题解答内容

【分析】本题以图片、表格和文字材料为背景，考查近代列强侵华及一系列不平等条约的签订等知识。

【解答】（1）据图片和所学知，图①是发生在 1860 年的英法联军火烧圆明园，图②是发生在 1900 年的义和团运动，图③是发生在 1894 年的旅顺大屠杀。故排列为①③②。

（2）由材料“今大皇帝准将香港一岛给予大英国君主暨嗣后世袭主位者常远据守主掌，任便立法治理”可知，这是《南京条约》的内容，它使中国的领土主权不再完整，司法主权遭到破坏。由材料“中国约将库平银二万万两交与日本，作为赔偿军费”可知，这是《马关条约》的内容，它加重了人民的负担，加剧了清政府的财政困难。1901 年签订的《辛丑条约》中规定大清国国家应允将大沽炮台及有碍京师至海通道之各炮台一律削平，便利了列强对清政府进行军事控制和镇压中国人民的反帝活动。随着这些不平等条约的签订，中国由封建社会逐步沦为半殖民地半封建社会。

（3）由“甲午战前中日两国综合实力对比表”中的相关项目可知，甲午中日战争中中国失败的原因有政治制度落后、经济落后、文化教育落后、军事落后等。

（4）由材料四“就是说，只有争取民族的解放和国家的独立，才能谈得到近代化的政治、经济、文化的建设”可知，作者认为近代中国先实现民族独立，再实现近代化。

故答案为：

（1）①③②。

（2）①《南京条约》、②《马关条约》、③中国的领土主权不再完整，司法主权遭到破坏、④加重了人民的负担，加剧了清政府的财政困难、⑤便利了列强对清政府进行军事控制和镇压中国人民的反帝活动；中国由封建社会逐步沦为半殖民地半封建社会。

（3）政治制度落后、经济落后、文化教育落后、军事落后等。（答出其中 3 点就可得分）

（4）先实现民族独立，再实现近代化。

【点评】注意对材料的解读，识记近代列强侵华及一系列不平等条约的签订等知识。

32. 【答案】见试题解答内容

【分析】本题以《历史的放大镜——辛亥革命时期的漫画展》以新的视角揭示了古老帝国在艰难的现代化转型中的蹒跚步履为切入点，以四则材料为依托，综合考查《马关条约》、辛亥革命、中国近代社会生活的变化，题目设计既注重基础性，又注重概括性和开放性，对学生答题能力要求较高。

【解答】（1）仔细观察知识线索图并结合所学知识可知，展览用近百幅漫画主要从四个方面展现了辛亥革命的发展历程。材料一中 A 革命志士指的是②武昌起义；B 中华民国诞生指的是①南京临时政府成立；C 民国的新气象指的是③推行鞠躬、握手礼。革命志士通过武昌起义，建立中华民国，辛亥革命后，社会生活发生了巨大变化，辛亥革命后，人们剪辫子，穿新式服装，女子废止缠足，采用新式礼仪和称呼。



(2) 据材料二“谢缙泰绘于 1898 年。1903 年 12 月 25 日由蔡元培等人主编的《俄事警闻》在上海创刊，《时局图》被刊登在其创刊号上‘因为这一张图，我们中国人知道的虽然不少，还有一大半是不知道的，所以特地登在第一天警闻上头，请我们四万万的中国人都开着眼看看，扞着心想想，恐怕不知不觉要赶紧去想法子了’”并结合所学知识可知，《时局图》在当时起到的作用是形象地揭露了帝国主义列强瓜分中国的态势，起到了唤醒国人的作用。《时局图》是中国近代时事漫画的杰作。它把 19 世纪末（甲午中日战争后）中国面临的被帝国主义列强瓜分豆剖的严重危机，及时地、深刻地、形象地展示在人们面前，起到了警世钟的作用。

(3) 仔细观察图片并结合所学知识可知，材料三图 1 反映了清政府对帝国主义卑躬屈膝，对老百姓残酷剥削。图 2 反映了清帝退位。两幅漫画所反映的历史现象之间的联系是清政府的腐败统治激化了社会矛盾，国内反清情绪日益高涨，武昌起义后，清政府的统治大势已去，清帝被迫退位。

(4) 仔细观察图片并结合所学知识可知，我不同意该报的评论：袁世凯虽然剪去了辫子，但仍实行独裁专制统治和复辟帝制，中国半殖民地半封建社会的性质仍未改变。

(5) 本题是开放型题目，考查学生开放性思维的能力。只要符合题意，言之有理即可。如漫画用鲜明的态度，讽刺性的夸张反映了历史事件或历史现象，因此它就像一面放大镜，让我们看到更多真实的历史细节。

故答案为：

(1) A: ②; B: ①; C: ③。

(2) 形象地揭露了帝国主义列强瓜分中国的态势，起到了唤醒国人的作用。

(3) 图 1 反映了清政府对帝国主义卑躬屈膝，对老百姓残酷剥削。图 2 反映了清帝退位。联系：清政府的腐败统治激化了社会矛盾，国内反清情绪日益高涨，武昌起义后，清政府的统治大势已去，清帝被迫退位。

(4) 不同意；袁世凯虽然剪去了辫子，但仍实行独裁专制统治和复辟帝制，中国半殖民地半封建社会的性质仍未改变。

(5) 漫画用鲜明的态度，讽刺性的夸张反映了历史事件或历史现象，因此它就像一面放大镜，让我们看到更多真实的历史细节。（言之有理即可）

【点评】本题考查学生识记和分析历史知识的能力，识记与灵活掌握《马关条约》、辛亥革命、中国近代社会生活的变化的相关知识。

33. 【答案】见试题解答内容

【分析】本题以新民主主义革命的历程是从天安门到天安门为切入点，考查新中国成立、五四运动、中国共产党成立、红军长征、农村包围城市的革命道路的相关知识点。

【解答】(1) 1919 年巴黎和会上中国外交的失败，1919 年 5 月 4 日，北京的学生掀起了五四运动。口号：“外争主权，内除国贼”、“誓死力争，还我青岛”、“废除二十一条”、拒绝在“和约”上签字等。是一次彻底的反对帝

国主义和封建主义的爱国运动，是中国新民主主义革命的开端；中国工人阶级开始登上政治舞台，展现了伟大的力量，一些初步接受马克思主义的知识分子和青年学生，在运动中起了重要作用。

(2) 据所学知识可知，1922年7月，中国共产党在上海召开第二次全国代表大会。大会重申了党的最终奋斗目标建设共产主义，同时制定了党的最低纲领。纲领规定，在民主革命阶段，党的主要任务是打倒军阀，推翻帝国主义，将中国统一为真正的民主共和国。这样，中国共产党就在中国历史上第一次提出了彻底的反帝反封建的民主革命纲领。说明中国共产党在革命实践中，能制定适合国情的奋斗目标，逐步带领中国革命走向胜利。

(3) 据材料三“井冈山位于罗霄山脉中段，山势高大，主要山峰都在千米以上，自然资源十分丰富，拥有各种植物3800多种……（井冈山）反动力量薄弱，这里还有较好的群众基础和党的组织基础，并且留有一定数量的农民自卫军。”可知，毛泽东选择井冈山创建农村革命根据地的原因是：井冈山地势险要；资源丰富；反动力量薄弱；革命基础较好。从此，中国革命踏上了一条农村包围城市，武装夺取政权的正确革命道路。

(4) 1934年，中央红军8万多人开始长征后，博古等人又犯了逃跑主义的错误，使红军继续受到重大损失。“左”倾错误领导把希望寄托在向湘西进军上，而蒋介石已在去湘西的路上布置了重兵。在此危急关头，毛泽东建议红军转向贵州进军，解放了遵义。②处是遵义。遵义会议就是在中国革命处在危急关头于1935年1月召开的。结束了王明“左”倾错误在中央的统治，确立了以毛泽东为核心的党中央的正确领导，这次会议挽救了党，挽救了红军，挽救了革命，是党的历史上生死攸关的转折点。

(5) 1949年10月1日下午，北京30万军民齐集天安门广场，隆重举行开国大典。毛泽东向全世界庄严宣告：中华人民共和国中央人民政府今天成立了，开辟了中国历史新纪元。中国结束了一百多年来被侵略被奴役的屈辱历史，真正成为独立自主的国家；中国人民从此站起来了，成为国家的主人。材料五中关于毛主席讲的那句话记述有误。我认为如需进一步验证这一材料的可靠程度，应当寻找当时的档案文献、原始录音、原始录像，可以真实还原开国大典时的盛况。

故答案为：

(1) 五四运动；五四运动是新民主主义革命的开端。

(2) 变化：中共二大增加了最低革命纲领。说明：中国共产党在革命实践中，能制定适合国情的奋斗目标，逐步带领中国革命走向胜利。

(3) 主要原因：地势险要，可攻可守；革命基础好；国民党力量薄弱。开辟了一条工农武装割据、农村包围城市、武装夺取政权的道路。

(4) 遵义；②；遵义会议是中国共产党历史上一个生死攸关的转折点；遵义会议取消了博古、李德的军事最高指挥权，肯定了毛泽东的正确主张，选举毛泽东为政治局常委，在极其危急的情况下，挽救了党，挽救了红军，挽救了中国革命。

(5) 开国大典；标志着中华人民共和国的诞生；档案文献、原始录音、原始录像等。



【点评】本题主要考查学生的识记能力以及分析问题的能力。理解并识记新中国成立、五四运动、中国共产党成立、红军长征、农村包围城市的革命道路的相关史实。

34. 【答案】见试题解答内容

【分析】本题以图表、表格和文字材料为背景，考查一五计划、三大改造、大跃进和人民公社化运动、社会主义建设英雄模范人物的相关知识。

【解答】（1）由材料一“经过三年艰苦卓绝的努力，在经济战线上取得了稳定物价、统一财经、恢复国民经济的重大胜利。据统计，1952与1949年相比，我国工农业总值增长77.5%，年均增长21.1%，工农业总产值和主要产品的产量均超过建国前的最高水平。尽管如此，当时的国民经济依然十分落后，尤其是现代工业在工农业总产值中只占26.6%，而重工业在工业总产值中只占35.5%。我国的工业水平不仅远远落后于英美等国，甚至连印度都不如”可知，第一个五年计划实施的背景是国民经济恢复以及中国工业水平落后。为了有计划的进行经济建设，1953年我国实施了第一个五年计划。

（2）由材料二图表和所学知，1953-1957年，我国进行三大改造，实施“一五”计划再加上苏联对中国提供经济援助，所以我国国民生产总值稳定增长。1957-1959年“大跃进”和人民公社化运动开始，短期投入大量的人力和物力，所以这一时期快速增长。1959-1965年受“大跃进”和人民公社化运动的影响和后来纠正经济工作中的“左”倾错误，对国民经济进行调整，国民经济出现下滑，后得到恢复和发展。

（3）据材料三可知，⑤1964年，成功爆炸了第一颗原子弹；⑥1965年，我国首次完成人工合成牛胰岛素，处于世界领先地位；⑦1973年，成功培育出籼型杂交水稻都是科学技术的发展成绩。③修建了包兰、兰新、兰青等铁路是交通运输业有了长足的发展的表现。①建成武汉、包头两大内地钢铁基地及大庆油田、大港油田和胜利油田；②到1965年，我国国内需要的石油已实现全部自给是工业生产能力大大提高的表现。

（4）据材料四和所学知，大庆石油工人王进喜，他带领队友参加石油会战，大庆油田的第一口井提前开钻，打出了原油，王进喜赢得了“铁人”称号。20世纪60年代，焦裕禄在河南省兰考县任县委书记，他带领兰考人民艰苦奋斗，治理灾害，直至生命的最后一息仍坚持工作，人们称颂他是“党的好干部”。解放军战士雷锋，默默无闻地为人民做了很多好事，在一次意外事故中，雷锋不幸因公殉职，年仅22岁，雷锋牺牲后，毛泽东向全国人民发出了“向雷锋同志学习”的号召。他们都体现了艰苦奋斗、爱国、无私奉献、全心全意为人民服务等时代精神。

故答案为：

（1）国民经济恢复；工业水平落后。

（2）①进行三大改造，实施“一五”计划；苏联对中国提供经济援助。（答出任意1点就可得分）②快速增长；③国民经济出现下滑；后得到恢复和发展。

（3）科学技术的发展成绩十分显著：⑤⑥⑦；交通运输业有了长足的发展：③；工业生产能力大大提高：①②。（多选、少选、错选均不得分）

（4）艰苦奋斗、爱国、无私奉献、全心全意为人民服务等。（答出一点即可得分）

