



2024 北京二中初一（上）期末 历 史

考查目标

1. 考查中国古代史的主干知识和基本发展线索；
2. 考查初中阶段应具备的唯物史观、时空观念、史料实证、历史解释素养和家国情怀。

考生须知

1. 本试卷分为第 I 卷、第 II 卷和答题卡，共 13 页；其中第 I 卷 4 页，第 II 卷 6 页，答题卡 3 页。全卷共两大题，24 道小题。
2. 本试卷满分 70 分，考试时间 70 分钟。
3. 在第 I 卷、第 II 卷指定位置和答题卡的密封线内准确填写班级、姓名、考号、座位号。
4. 考试结束，将答题卡交回。

第 I 卷选择题（共 30 分）

一、选择题（以下每题只有一个正确的选项，每小题 1.5 分，共 30 分）

1. 表格中是旧石器时代某一人类遗存的信息，据判断，他们应是（ ）

信息 1：距今约 70 万-20 万年
信息 2：北京周口店龙骨山
信息 3：已经学会使用火、保存火种

- A. 元谋人 B. 北京人 C. 半坡人 D. 河姆渡人
2. 下列图片中，反映出我国黄河流域原始居民生活的是（ ）



- ①人面鱼纹彩陶盆 ②干栏式建筑 ③猪纹陶钵 ④半地穴式圆形房屋
- A. ①② B. ①④ C. ②③ D. ②④

3. “大道之行也，天下为公。选贤与能……是谓大同。今大道既隐，天下为家……是谓小康。”材料反映的最早把“世袭当作礼”是哪一个朝代（ ）

- A. 夏朝 B. 商朝 C. 西周 D. 春秋战国

4. 北京房山琉璃河遗址出土的西周青铜卣上有铭文“太保墉（筑城）匱（燕）”，证实了三千余年的北京建城史，与《史记》中“周武王之灭纣，封召公于北燕”的记载相符。这两则信息可以得出的结论有（ ）

- ①考古发现和文献记载相互印证 ②周王室统治势力大减
③燕国是西周时期的一个诸侯国 ④西周时期实行分封制

- A. ①②③ B. ①②④ C. ①③④ D. ②③④

5. 从长江上游三星堆遗址中的云雷纹、铜顶尊中等可以明显看出长江中下游文明、中原文明的印记。中原文明尊罍（léi）的兽头趴在肩上，而三星堆的则是挂在肩上，这反映出铸造技术的差异。据此可知（ ）

- A. 中国古代青铜铸造技术世界领先 B. 文明尊罍是世界上最重的青铜器
C. 中华文明多元一体并各具特色 D. 中华文明历史悠久源远流长

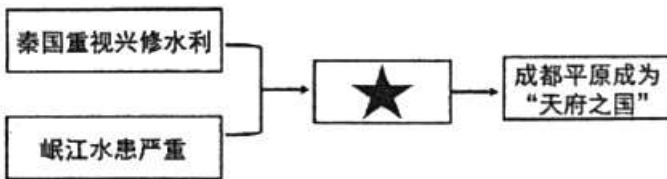
6. 下表是一位同学整理的战国时期社会变化的笔记，①处应填写（ ）

生产力发展	①
社会（生产）关系变化	允许土地买卖，新兴地主阶级势力增强



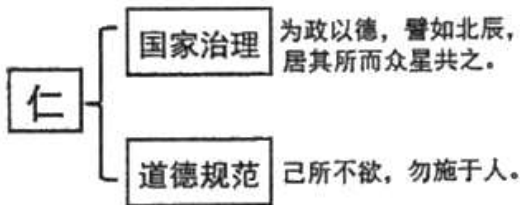
- A. 铁制工具和牛耕的使用进一步推广 B. 战争规模逐渐扩大
C. 各诸侯国统治者开始实行变法改革 D. 商业活动逐渐活跃

7. 图示可以直观地展示历史发展过程的各种联系。下面示意图★处应该填入 ()



- A. 修建都江堰 B. 开凿灵渠 C. 修筑长城 D. 修建阿房宫

8. 下侧示意图表现的是中国古代某一思想家的主张，这位思想家是 ()



- A. 老子 B. 孔子 C. 墨子 D. 韩非

9. 王国维说：“自周之衰，文王、周公势力之瓦解也，国民之智力成熟于内，政治之纷乱乘之于外，上无统一之制度，下迫于社会之要求，于是诸子九流各创其学说。”他意在说明 ()

- A. 周王室衰微的背景 B. 商鞅变法的作用 C. 秦统一六国的过程 D. 百家争鸣的原因

10. 秦始皇在进军岭南时，为转运粮饷，修建了一项水利工程。这一水利工程沟通了湘江、漓江，联接了长江和珠江两大水系，巩固了国家统一。这项水利工程是 ()

- A. 都江堰 B. 长城 C. 灵渠 D. 骊山陵

11. “大泽（乡）称雄漫卷尘，渔阳暮鼓断西秦。王侯将相何其志，百尺竿头越楚津。”该诗提到的这一事件 ()

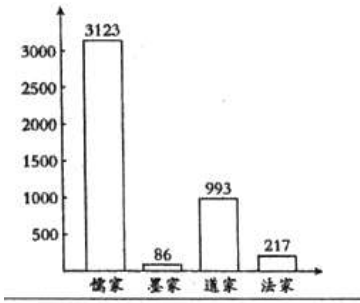
- A. 领导者是刘邦、项羽 B. 是中国历史上第一次农民大起义
C. 推翻了秦朝的统治 D. 使秦始皇完成了统一中国大业

12. 秦始皇和汉武帝所采取的以下措施，其相近之处有 ()

	措施：秦始皇下令以秦国的圆形方孔半两钱作为统一货币，在全国流通。
	措施：汉武帝把铸币权收归中央，统一铸造五铢钱。

- ①都为后朝货币形制提供了范式 ②都吸取了暴政导致速亡的教训
③都体现了国家加强经济的管理 ④都有利于巩固统一多民族国家
A. ①②③ B. ①②④ C. ①③④ D. ②③④

13. 下侧柱状图是依据《汉书·艺文志》统计的西汉某一时期主要学说及其作品篇数。材料反映出西汉这一时期 ()



- A. 诸子百家学说兴起 B. 统治者重视经济的发展
C. 儒家以外的各家思想都被禁绝 D. 儒家学说居于主导地位

14. 下列史实与推论的搭配中正确的是 ()

史实	推论
A 公元前 138 年，张骞出使西域	西汉与匈奴建立了和平友好关系
B 公元前 60 年，西汉设置西域都护	标志着今新疆地区正式归属中央政府管辖
C 光武帝减轻农民负担	出现“文景之治”
D 东汉后期，外戚宦官交替专权	推翻了东汉统治

- A. A B. B C. C D. D

15. 一本古代史书的目录如下图，根据所学知识 ()

卷一五帝本纪第一
判断这本史书是
卷二夏本纪第二
.....
卷六十三老子韩非列传第三
.....

- A. 《论语》 B. 《史记》 C. 《伤寒杂病论》 D. 《齐民要术》

16. 诸葛亮曾建议刘备占据荆州、益州，与曹操、孙权三分天下。为“三分天下”奠定基础的是 ()

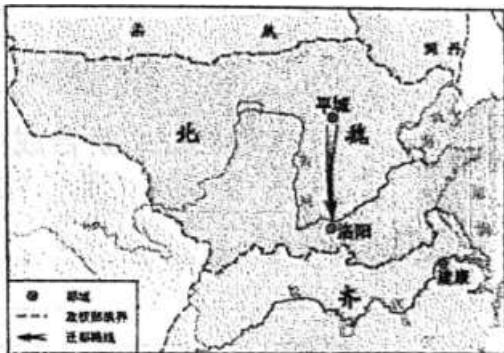
- *太和十八年，革衣服之制
- *太和十九年，诏不得以北俗之语言于朝廷，若有违者，免所居官
- *太和二十年，诏改姓为元氏

- A. 长平之战 B. 官渡之战 C. 赤壁之战 D. 淝水之战

17. 下面《魏书·高祖孝文帝纪》所记载内容反映了北魏孝文帝即位后 ()

- A. 统一北方 B. 保持鲜卑习俗 C. 推广屯田 D. 推行汉化政策

18. 下侧地图所反映的历史事件的影响是 ()



- A. 促进了民族交融 B. 统一了黄河流域 C. 巩固了北部疆域 D. 开发了江南地区

19. 一位同学在观察一副地图时，找到都城是建康；发现图例中的水稻主要种植区标识，以及纺织、制瓷和造船等手工业发达地区的标识，在今江苏、安徽、浙江三省范围内均有所标注。据此判断，这幅历史地



图名称应是（ ）

- A. 《西汉形势》
- B. 《三国鼎立形势》
- C. 《西晋形势》
- D. 《江南地区的开发》

20. 一位同学在单元复习后整理了下侧笔记。他复习的单元是（ ）

政治方面政权并立政局纷乱

经济方面南方经济得到发展

文化方面科技文化显著进步

民族关系加强了交往、交流与交融


- A. 史前时期
- B. 夏商周时期
- C. 秦汉时期
- D. 三国两晋南北朝时期

第II卷 材料分析题（4题，共40分）

二、材料分析题

21. （13分）中国古代政治文明灿烂辉煌

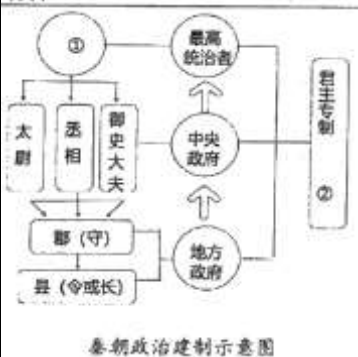
材料一

 <p style="text-align: center;">商鞅铜方量</p>	<p>商鞅方量铭文一（秦孝公十八年公元前 344 年刻）十八年，齐遣卿大夫众来聘，冬十二月乙酉，大良造鞅，爰积十六尊五分尊壹为升。</p> <p>商鞅方量铭文二（公元前 221 年加刻）廿六年，皇帝尽并兼天下诸侯，黔首大安，立号为皇帝，乃诏丞相状、绾，法度量则不壹歉疑者，皆明壹之。</p>
--	---

（1）商鞅铜方量属于_____（1分。写序号）①文献材料②实物材料

（2）依据商鞅方量两段铭文信息并结合所学，分别写出与这两段铭文相关的重大历史事件名称。（2分）结合所学，简述这两个事件之间的联系。（1分）

材料二

 <p style="text-align: center;">秦朝政治建制示意图</p>	<p>郡县作为遍布全国的统治机构，承上接下，强化了中央对地方的管理。由中央任免郡县主官，使中央政府能最大限度地调动资源和集中力量得以强制统一度量衡、货币、文字；在南越、河套地区设置郡县，能有效地掌控新征服地区，完成从军事占领到行政统治的转变。郡县制开创了两千多年封建王朝地方行政体系的先河，虽后世有所损益，但基本框架并未改变。</p> <p style="text-align: right;">——摘编自黄栋法：《秦朝实行郡县制的原因探析》</p>
--	---

（3）结合所学完成《秦朝政治建制示意图》。（2分）①_____②_____

（4）依据材料二，从对当时和对后世两个角度写出秦朝推行郡县制的影响。（2分）

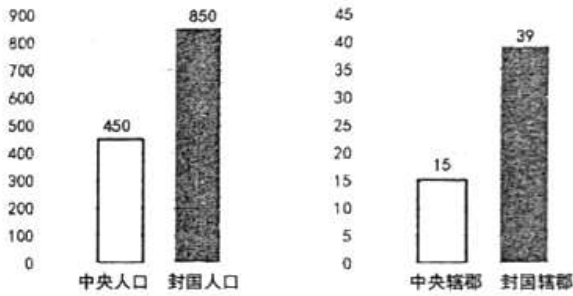
材料三

汉兴……民失作业，而大饥馑。凡米石五千，人相食，死者过半……上（汉高祖刘邦）于是约法省禁，轻田租，什五而税一……（景帝后期）贯（串钱的绳子）朽（腐烂）不可校（校对）。太仓之粟（谷物）陈陈相因（新旧堆放），充溢露积与外，腐败不可食。

——《汉书·食货志》

（5）依据材料三，说出西汉初期社会发生的变化（2分），原因在于西汉统治者实施的哪一政策？（1分）

材料四



(6) 依据材料四，指出西汉初期中央面临什么问题？（1分）汉武帝采取什么措施解决这一问题？（1分）
22. (8分) 中国是农业大国，农业生产具有悠久的历史

材料一



(1) 观察上图，距今约 8000 年左下图中区域①普遍种植的农作物是_____；图中区域②普遍种植的农作物是_____。(2分)

材料二



①骨耜 ②六角形铁锄 ③青铜农具 ④翻车

(2) 将材料二中农业生产工具按发明的先后顺序排序_____。(3分，写序号) 其中，属于灌溉工具的是_____。(1分，写序号)


材料三 东晋南朝之存在，对江南地区的开发是非常重要的。这不仅仅在于相当程度上避免了民族冲突和战乱祸害，相对和平的环境有利于形成良好的经济发展环境，更在于大量移民的进入。南下移民的进入形成了农业开发的主力军。这些移民还带来了先进的生产技术和生产工具，有力地促进了江南地区的开发。

——摘编自严耀中《在分分合合中前行》

(3) 依据材料三并结合所学，概括东晋南朝时期江南地区得以开发的原因。(2分)

23. (8分) 中国丝织工艺以历史悠久、制作精美著称于世。

材料一





子) 养蚕想象图	出土的丝绸残片	“长寿绣”黄绢
----------	---------	---------

(1) 有学者认为：史前时期，先民已经会利用蚕丝。材料一中最能证明这一观点的材料是 _____，(1分。写序号) 并说明理由。(2分)

材料二



……不仅是一条通商易货之道，更是一条知识交流之路。沿着……，中国将丝绸、瓷器、漆器、铁器传到西方，也为中国带来了胡椒、亚麻、香料、葡萄、石榴。……伊斯兰教及阿拉伯的天文、历法、医药传入中国，中国的四大发明、养蚕技术也由此传向世界。更为重要的是，商品和知识交流带来了观念创新。……这是交流的魅力、互鉴的成果。

——习近平在“一带一路”国际合作高峰论坛上的主旨演讲

(3) 公元前1世纪到公元2世纪的罗马帝国时期已使用来自中国的丝绸，丝绸的外传经过上图所示路线，请说出此路线的名称。(1分) 依据材料二，仿照示例将此路线上传输的成果进行分类。(2分。分类、举例与示例相同不得分)

示例：

分类	举例
传入中国的文化成果	伊斯兰教
	历法

分类	举例

材料三 战国时期，蚕桑生产主要分布于黄河中下游、蜀地和长江中下游三大地区。魏晋时期，原游牧民族生活的河西地区(黄河以西)也开始大量栽培桑树。在河西的魏晋墓葬中，发现了大量与丝绸生产有关的壁画，其中采桑图中还有断发赤脚的少数民族妇女形象。

——摘编自吴琮《秦汉蚕桑丝织技术》

(3) 依据材料三，说出魏晋时期蚕桑生产地区的变化。(1分) 结合所学，分析出现上述变化的原因。(1分)

24. (11分) 博物馆承载了丰富的文化内涵。

中国文字博物馆坐落于河南省安阳市，荟萃了历代中国文字样本精华，展示了中华民族一脉相承的文字、灿烂的文化和辉煌的文明。

材料一



①刻有文字的甲骨 ②秦阳陵虎符(小篆书写) ③《兰亭集序》(摹本·局部) ④陶寺遗址朱书符号陶壶



(1) 依据材料一，选择适合的展示资料置于相应展厅，呈现汉字与书法的发展历史。(4分。写序号)

展厅	展厅主题	展示资料
展厅一	远古刻画符号	
展厅二	商周两代纪事	
展厅三	天下文字一统	
展厅四	魏晋书道风度	

中国 A _____ 馆展示了蔡伦、张仲景、华佗、贾思勰等十余位中国古代杰出历史人物以及他们的相关成就。

(2) “A _____”处适合填写的主题是 _____ (1分。写序号)

①政治 ②经济 ③科学技术

(3) 请从蔡伦、张仲景、华佗、贾思勰四位人物中任选一位，仿照示例，制作资料卡。(4分)

资料卡	资料卡
人物：祖冲之 所处时代：南北朝 专业领域：数学 专业成就：他运用前人的方法把圆周率精确到小数点 以后的第七位数字，这项成果领先世界近千年。	人物： _____ 所处时代： _____ 专 业领域： _____ 专业成就： _____

(4) “一个博物馆就是一所大学校”。作为中学生，说说你要如何利用好博物馆资源。(2分)



参考答案

1.B. 2.B 3. A 4.C 5.D 6. A 7.A 8.B 9.D 10.C

11.B 12.C 13.D 14.B 15. B 16.C 17.D 18.D 19.D 20.D

21.(1)②(2)商鞅变法;秦始皇统一全国,并建立中央集权国家制度。前者

为后者提供了前提基础,两者是因果关系.(3)①皇帝,中央集权

(4)强化对地方管理,有效掌控南越,河套新征服地区,加强了中央集权;

郡县制为后世沿用,历代王朝效仿采用的地方治理模式,开创了地方行政体系的先河

(5)西汉初民生凋敝。受秦朝暴政和长期战乱影响,面临恢复和发展社会生产的首要问题,汉统治者采取休养生息、轻徭薄赋政策(6)诸侯王势力强、地方豪绅地主势力也强;汉武帝实行“推恩令”。

22. (1) ①粟黍;②水稻 (2) ①③②④, ④ (3) 大量人口移民南下,相对和平安定的环境,先进生产技术和先进生产工具

23.(1)②,理由: ①传说不为史证,③的年代在汉朝,非史前时期

(2)丝绸之路;传入中国的农作物和经济作物:胡椒,亚麻,香料,葡萄等(3)从战国时蚕桑生产分布的三大地区传入河西(黄河以西)地区;南方多战乱

24.(1)④①②③ (2)③ (3)蔡伦,东汉,造纸,改进造纸技术,“蔡侯纸”;

张仲景,东汉,医学,《伤寒杂病论》;华佗,东汉,医学,“麻沸散”,五禽戏

贾思勰:北魏;农学,著作《齐民要术》(4)充分利用好博物馆: 开阔历史视野,探寻人类文明史,感悟古人科技、文化艺术等成就。