



北京交大附中 2023—2024 学年第一学期期中练习

高一历史

命题人：王信 审题人：孙红燕

2023.10

说明：本试卷共 7 页，共 100 分。考试时长 90 分钟。

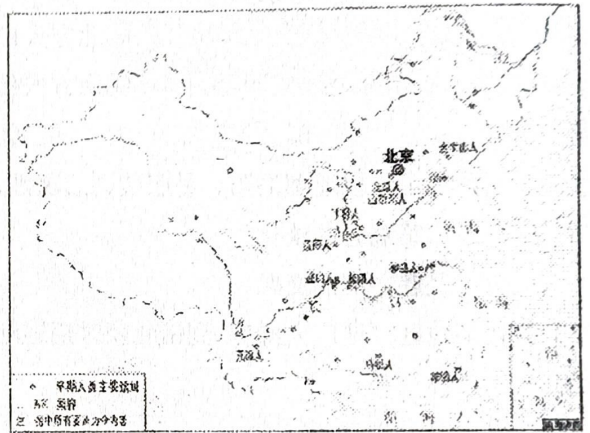
一、选择题（每题 1.5 分，共 40 题，60 分）

1. 目前，中国境内已发现的新石器时代文化遗存有 1 万多处，且分布广泛，奠定了多元一体的发展基础。研究这些文化遗存的主要依据是

- A. 史书记载
- B. 神话传说
- C. 考古发掘
- D. 学术论著

2. 右图为中国旧石器时代重要人类遗址分布图，观察此图，你能获得的历史信息是

- A. 遗址分布星罗棋布
- B. 社会贫富分化严重
- C. 部落联盟战争频繁
- D. 早期国家开始出现



3. 中国新石器时代晚期，南方的良渚文化与北方的龙山文化都呈现出向更高社会阶段发展的迹象，这主要表现在

- A. 公共墓地出现
- B. 农业的产生
- C. 贫富分化加剧
- D. 文字的使用

4. 关于夏朝，先秦文献多次言及“夏”“有夏”；20 世纪 50 年代以来，学者们开展了一系列考古实践，以探索“夏墟”的存在。这反映了


- A. 先秦文献的可靠性
- B. 出土古文字材料的关键性
- C. 考古发掘的重要性
- D. 文献与实物互补的必要性

5. 右图是 1986 年在北京房山琉璃河燕国遗址中出土的青铜器克罍 (léi)，其铭文大意为周王说：太保（指周召公），你用盟誓和清酒来供你的君王。我非常满意你的供奉，命（你的儿子）克做燕地的君侯。该考古成果可用于研究

- A. 禅让制
- B. 分封制
- C. 礼乐制
- D. 郡县制



克罍 (léi)

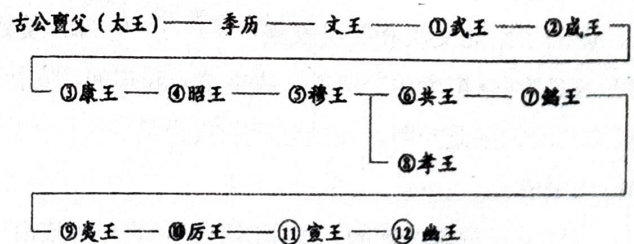


克罍铭文拓片

6. 下图是“西周世系表”，从周武王开始经历了 11 代 12 位王的统治。其反映的西周政治制度是

- A. 禅让制
- B. 宗法制
- C. 郡县制
- D. 皇帝制

西周世系表



7. 今河南平顶山应国墓地、陕西长安张家坡及普渡村墓地等处出土了一批具有长江中下游风格的西周青铜器。这说明西周时期

- A. 中原文化向周边传播
- B. 各诸侯国维护周礼
- C. 宗法制度分崩离析
- D. 南北文化相互交流

8. 考古工作者在河南辉县琉璃阁发掘了一座春秋时期的诸侯墓，出土了只有周天子才能使用的九鼎。这反映了

- A. 宗法制度的瓦解
- B. 分封制度的崩溃
- C. 等级制度的颠覆
- D. 礼乐制度的破坏

9. 近年，考古工作者在江西国字山发现了战国中期的大型墓葬。该墓葬具有突出的越文化特征，同时又有楚文化和江淮文化等文化因素，墓葬形制也与中原墓葬有相似之处。此考古发现

- A. 印证了“春秋五霸”的政治格局
- B. 反映了中华文明多元一体的特点
- C. 证明中原率先成为中华文明核心
- D. 说明了统一多民族国家已经建立

10. 战国时期的曾侯乙墓出土了青铜冰鉴缶，鉴用来盛冰，缶用来盛食物。《周礼》记载，肉食珍馐与酒水都要用冰鉴保存，祭祀时也要使用冰鉴。冰鉴缶的使用

- A. 体现了战国时期严格的宗法制度
- B. 说明青铜铸造工艺开始成熟
- C. 展示出贵族的日常礼仪规范
- D. 标志着新兴地主阶级的崛起

11. 考古材料是研究历史的重要依据。下列选项中，材料与结论之间逻辑关系正确的是

	材料	结论
A	内蒙古克什克腾旗出土商朝青铜器	商朝的统治范围到达内蒙古地区
B	山西晋国都邑遗址出土春秋早期的铁器残片	春秋早期已经使用铁器
C	湖北大冶铜矿遗址出土东周时代的陶片	大冶铜矿的开采时间不早于东周
D	西安秦始皇陵兵马俑坑出土铁镞（箭头）	秦朝军队主要使用铁制兵器

12. 春秋战国时期中国思想文化日益活跃，其中主张“克己复礼为仁，一日克己复礼，天下归仁焉”的思想流派是

- A. 儒家
- B. 法家
- C. 道家
- D. 墨家

13. 马克思指出：“理论在一个国家实现的程度，总是取决于理论满足这个国家的需要的程度。”在春秋战国国家走向统一的时代，讲求“耕战”，富国强兵，“满足”秦实现统一的理论是

- A. 儒家思想
- B. 道家思想
- C. 法家思想
- D. 墨家思想

14. 《睡虎地秦简·为吏之道》是供学习为吏者使用的识字课本。其末尾附录的两条魏律（颁布于公元前 252 年）规定：商贾和经营客店者“勿令为户”，不分给他们田地、房屋；派其从军，杀牛犒赏全军时，不给他们肉吃。由此可见

- A. 魏律成为秦吏准绳
- B. 强制耕战成效显著
- C. 秦国实行以吏为师
- D. 抑商思想影响渐广

15. 秦始皇顺应历史发展潮流，建立了统一的中央集权国家。下列属于秦朝巩固中央集权的统治措施是

- A. 创立禅让制 B. 建立内外服制 C. 实行分封制 D. 推行郡县制
16. 冯劫曾位列秦朝三公之一，执掌群臣奏章，下达皇帝诏令，还负责监察百官。当时他所担任的这一职位是

- A. 丞相 B. 太尉 C. 御史大夫 D. 郡守

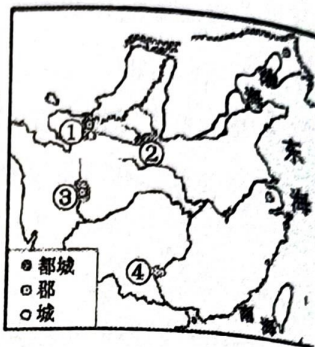
17. 秦统一后，采取了“一法度衡石丈尺，车同轨，书同文字”等措施。这些措施

- A. 推动了法律的完善 B. 有利于中央集权的强化
C. 加速了秦朝的灭亡 D. 阻碍了封建经济的发展

18. 中国古代劳动人民以非凡的智慧和勤劳的双手兴修了许多著名的工程。

观察下图（局部），对图中所示区位，命名及标注正确的是

- A. ①秦始皇长城 B. ②灵渠
C. ③郑国渠 D. ④都江堰



19. 汉初儒家代表人物陆贾的《新语》云：“昔舜治天下也……漠若无忧天下之心，然而天下大治……故无为者乃有为也。”陆贾的上述思想

- A. 适应了休养生息的政治需要 B. 契合了德法并用的治国理念
C. 为尊崇儒术提供依据 D. 有利于加强中央集权

20. 有史学家指出：“它以一种温和的方式适应了当时大一统皇权构建的需要，使汉王朝摆脱了地方诸侯尾大不掉的困境。”文中的“它”代指的措施是

- A. 设置丞相 B. 设立御史大夫 C. 推行郡国并行 D. 实行推恩令

21. 汉武帝时，朝廷制作出许多一尺见方的白鹿皮，称为“皮币”，定价为40万钱一张。诸侯王参加献礼时，必须购皮币用来置放礼物，而当时一个“千户侯”一年的租税收入约为20万钱。朝廷这种做法

- A. 加强了货币管理 B. 确立了思想上的统一
C. 削弱了诸侯实力 D. 实现了对地方的控制

22. 中国自古以来重视监察制度。汉武帝时期为监察地方官员和豪强势力所采取的措施是

- A. 颁布“推恩令” B. 尊崇儒术 C. 设置刺史 D. 盐铁官营

23. 《汉书》记载：“武帝施主父之册，下推恩之令，使诸侯王得分户邑，以封子弟，不行黜陟，而藩国自析。”据此判断汉武帝颁布“推恩令”的真实目的是

- A. 恩泽贵族 B. 增加税收 C. 实现民族交融 D. 削弱王国势力

24. 汉武帝时期，政府不仅实行盐铁官营，还向工商业者征收财产税。这表明当时

- A. 统治者具有抑商倾向 B. 政府财政入不敷出
C. 社会深受儒学的影响 D. 专制统治空前稳固

25. 《诗》《书》等原是孔子编订的私学教材，至汉代，位列官方史书《汉书》的《艺文志》第一大部类“六艺略”。导致这一变化的主要原因是

- A. 诸子“百家争鸣” B. 始皇帝焚书坑儒
C. 汉武帝独尊儒术 D. 司马迁撰《史记》

26. 从秦至清的两千多年中，许多皇帝或由于年幼庸弱，或由于当时形势和力量对比的变化，因而受制于母后、外戚、宦官、权臣、地方割据势力等，导致权力的萎缩或丧失，这种现象实质上是

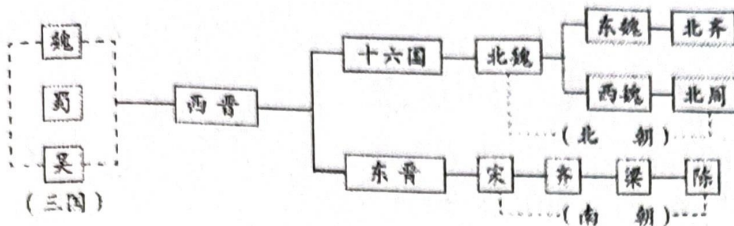
- A. 君主专制被颠覆 B. 中央集权体制遭到破坏



C. 君权至上的后果

D. 君主权力受到制约

27. 示意图有助于呈现历史发展的概貌。下图为某同学绘制的三国两晋南北朝时期的示意图，



据图可以看出该时期

- A. 社会高度繁荣
- B. 民族交融加深
- C. 江南经济开发
- D. 政权更迭频繁

28. 自东汉以来，西、北边疆的一些少数民族不断向内地迁徙。西晋末年，北方人民为躲避战乱大批流亡南下。由此可以推断

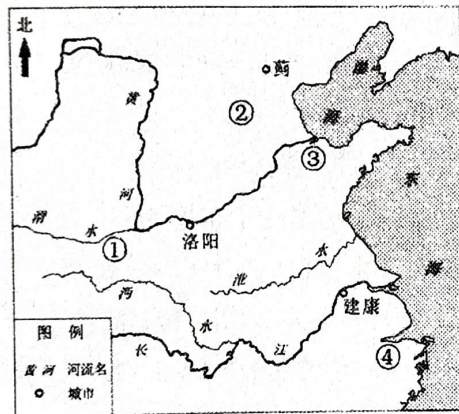
- ①内迁少数民族和汉族交融加强
- ②北方人口南迁促进了南方经济的开发
- ③契丹族入主中原迅速统一全国
- ④南方取代了北方成为我国的经济重心

- A. ①②
- B. ①③
- C. ②③
- D. ②④

29. 北魏孝文帝采取迁都洛阳、易服装、改汉姓、说汉话、通婚姻等改革措施。这些措施的影响是

- A. 推动了门第观念的淡化
- B. 为北魏统一北方奠定了基础
- C. 促进了民族之间的交融
- D. 有利于江南地区经济的发展

30. 汉代某地区“地广人稀”，到南北朝时期逐渐发展为“民多田少”。这一地区位于右侧示意图中的



- A. ①
- B. ②
- C. ③
- D. ④

31. 唐代诗人皮日休在《汴河怀古》中这样写道：“尽道隋亡为此河，至今千里赖通波。若无水殿龙舟事，共禹论功不较多。”作者认为大运河开凿的最主要影响是

- A. 兴修水利促进农业生产发展
- B. 激化社会矛盾导致隋朝灭亡
- C. 促进了南北交流和经济发展
- D. 奠定了唐朝盛世局面的基础

32. 《旧唐书·崔植传》记载，唐宪宗元和年间，宰相奏请减内外官俸禄，但敕书在审议时被给事中崔植驳回。据此判断，崔植任职的机构是

- A. 尚书省
- B. 门下省
- C. 礼部
- D. 内阁

33. 古代某皇帝统治期间，国家出现少有的开明政治局面，史称“贞观之治”，他还被草原各族尊奉为“天可汗”。该皇帝是

A. 汉武帝 B. 唐太宗 C. 宋太祖 D. 康熙帝


34. 唐玄宗统治前期，选贤任能，改革吏治，发展生产，大兴文治，将唐朝推向全盛时期，史称

A. 文景之治 B. 贞观之治 C. 开元盛世 D. 康乾盛世

35. 唐初，三省长官是宰相，他们在政事堂共商国家大事。后来，皇帝又时而指定某些级别略低的官员参加政事堂会议，这些人事实上已加入宰相集团。皇帝此举的主要目的是

A. 调整好中央与地方的关系 B. 将知识分子引入统治集团
C. 集思广益以减少决策失误 D. 分散相权以强化君主权力

36. 下图为“大雁塔唐朝进士题名帖”。大雁塔位于陕西西安的慈恩寺中，“雁塔题名”成为进士及第的代称。与此现象有关的制度是



A. 刺史制度
B. 察举制
C. 九品中正制
D. 科举制

37. 中国古代赋税制度不断变化，唐朝_____的实行，改变了自战国以来以人丁为主的赋税制度，减轻了政府对农民的人身控制。横线处应填

A. 井田制 B. 均田制 C. 两税法 D. 募兵制

38. 有学者认为，如果说安史之乱以前，唐诗以豪放、浪漫色彩引人注目，那么安史之乱以后，则已代之以沉郁悲壮的情调了。对这一评论理解正确的是

A. 社会变迁影响唐诗创作 B. 盛唐气象推动唐诗演变
C. 唐诗全景再现社会真实 D. 安史之乱导致唐诗衰微

39. 北朝农学家贾思勰在《齐民要术》中指出：“舍本逐末，贤哲所非，日富岁贫，饥寒之渐，故商贾之事，阙(缺)而不录。”这段话反映了作者的思想是

A. 鼓励民众经商 B. 倡导中央集权 C. 重视农业生产 D. 主张唯才是举

40. 唐朝高僧玄奘在贞观初年西行前往天竺取经，高僧鉴真六次东渡日本传授佛法。新罗、日本向唐朝派遣了许多使节和留学生。以上史实描述的是

A. 政治制度的创新 B. 经济的迅速发展
C. 文学艺术的繁荣 D. 中外文化的交流



二. 非选择题 (共 40 分)

41. 早期国家 (6 分)

材料 由于传统史书对于殷商历史叙述过于简略，故一度有人质疑其是否存在。甲骨文发现后，殷商的历史得以证实。甲骨文记载的商王世系继承与《史记》所载不尽相同，并出现类似“嫡”“庶”的词语；甲骨文反映出商代祭祀分为不同等级，祭祀对象有祖先和天帝、日、月、云、星、山川河流等诸神，祭祀祖先的规模和频率超过了其它神；甲骨文还记载了商王与其它地区的朝聘贡巡之礼、军事联盟之礼、贵族之间的通婚之礼等。

——摘编自陈戌国《中国礼制史》

(1) 依据材料，说明甲骨文反映了商代哪些社会状况？(4分)

(2) 从史料角度简析甲骨文的研究价值(2分)

42. 民族交融(12分)

材料一 周朝建立后，以血脉等亲疏关系为纽带，分封了数量庞大的诸侯国，在周礼和周文化的长期浸润下，形成了以周人为核心的华夏族雏形。来自东夷部落的秦人先祖，在发展过程中空间受到挤压，迁往西陲之地，与西戎各部落经过长期的冲突、交流、融合，新的秦人逐渐形成。秦人在崛起的过程中，逐渐融入到夏、商、周以来形成的民族共同体——华夏族，同时还不断吸收了四周戎狄部族，扩大了华夏族的范围。春秋战国以降，周天子式微，诸侯征战不断，客观上加强了各诸侯国之间的交流与融合。

——摘编自刘再营《周人、秦人与早期华夏族共同体意识的形成》

(1) 根据材料并结合所学知识，分析先秦时期民族交融发展的原因。(6分)



材料二 北魏拓跋珪即位后，采纳汉臣崔宏建议，自谓黄帝之后。据《魏书》记载，拓跋氏追溯的初祖是受封北土的黄帝嫡孙。拓跋珪及继任的三位皇帝亲往或遣使至涿鹿黄帝庙祭祀。

至孝文帝，又下诏：“魏之先出子黄帝，以土德王，故为拓跋氏。夫土者，黄中之色，万物之元也；宜改姓元氏。”面对关于迁都的质疑，他说：“黄帝以天下未定，居于涿鹿，既定之后，亦迁于河南。”孝文帝主持定姓族时，汉臣薛宗起建议不应以祖先曾经的居住地为确定门第等级的主要标准，他说：“陛下黄帝之胤，受封北土，岂可亦谓之胡邪！”

(2) 概述北魏统治者追溯祖先的目的、过程与效果。(6分)

43. 国家治理因时而变(10分)

材料一 汉初，经济的凋敝和秦亡的教训使统治者认识到“为富安天下”，只有与民休息、尽快恢复社会经济，才是兴邦的根本出路。汉高祖即位之初，“约法省禁，轻田租，什五而税”。文帝时“下诏赐民十二年租税之半”。景帝时“三十而税一也”。文景之时，先后“除肉刑”，“欲令治狱者务先宽”。

——摘编自马卫东《中国古代三大治世的历史成因》

(1) 依据材料，概括汉初统治政策的特点。结合所学分析其带来的影响。(4分)

材料二 元朔五年，武帝令各地诸侯王在封地之内分封弟子，由中央政府给予名号。划分全国为十三州，每州设刺史一人，直接代表皇帝监察十三州的二千石禄的高官乃至诸侯王。采用逐步将外廷权力转移至内廷的方法，一切文书、奏章、政令一概由内廷官吏执掌。设置太学，学生学业完毕后，即派往各政府机构任事。在全国各地设盐官 38 处，铁官 48 处，均统归大司农管辖，直属中央政府。

——摘编自《试论汉武帝的治国为政之道》

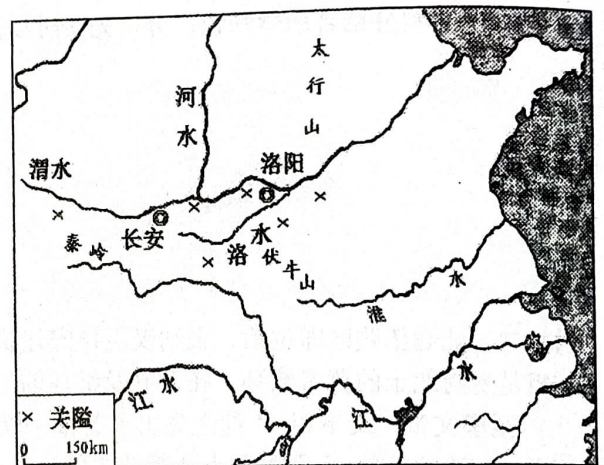
(2) 依据材料概括汉武帝国家治理的主要措施，结合所学分析这些措施的意义。(6分)

44. 汉唐气象 (12分)

材料一 西周以镐京(西安)为首都，成周(洛邑)为陪都……后代凡是都长安的政权，多以洛阳为陪都，凡都洛阳的政权，常以长安为陪都，汉唐即是。

——邹逸麟《中国历史人文地理》

(1) 阅读图文材料，并结合所学，解释为什么长安和洛阳被选为都城。(4分)



材料二 有学者认为，中古时代(指秦汉至隋唐时期)，中国经历了巨大变化，首先是民族重整：经过七八百年的过程，原有“汉人”的中国人口，在接纳无数北方、南方的外族成分，形成一个新的庞大而多元的民族。同时发生文化重整：这个民族认同于一个文化传统，却又呈现多元性。

(2) 结合所学，阐释“秦汉至隋唐是中国民族和文化重整时期”这一观点。(8分)

