

2022 北京延庆初二（下）期末

历史

2022.7

考生须知	<ol style="list-style-type: none">1. 本试卷共 8 页，共两部分，24 道小题。满分 80 分。考试时间 90 分钟。2. 在试卷和答题卡上准确填写姓名、准考证号、考场号和座位号。3. 试题答案一律填涂或书写在答题卡上，在试卷上作答无效。4. 在答题卡上，选择题用 2B 铅笔作答，其他试题用黑色字迹签字笔作答。5. 考试结束，将本试卷、答案卡和草稿纸一并交回。
------	---

第一部分（选择题共 30 分）

本部分共 20 小题，每小题 1.5 分，共 30 分。在每小题列出的四个选项中，选出最符合题目要求的一项。

1. 在中国人民政治协商会议第一届全体会议开幕式上，毛泽东说：“诸位代表先生们，我们有一个共同的感觉，这就是我们的工作将写在人类的历史上，它将表明：占人类总数四分之一的中国人从此站起来了。”材料中“中国人从此站起来了”是指（ ）

- A. 中国君主专制制度的终结
- B. 中华民族由衰败走向振兴
- C. 中国真正成为独立自主的国家
- D. 我国进入社会主义初级阶段

2. 2021 年 10 月，电影《长津湖》风靡全国，该影片讲述了中国人民志愿军在异国他乡英勇作战的故事。如果给该影片配一句背景宣传口号，下列口号符合的是

- A. 抵抗日寇，保卫华北
- B. 一切反动派都是纸老虎
- C. 中国人民站起来了
- D. 抗美援朝，保家卫国

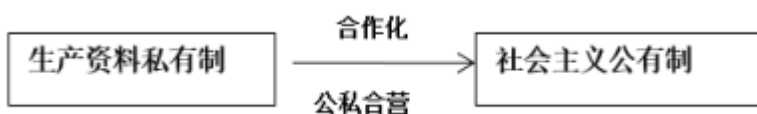
3. 20 世纪 50 年代初，农民们高兴地说：“过去头顶地主的天，脚踏地主的地，现在都成为我们的了。”与材料相关的历史事件是（ ）

- A. 开国大典
- B. 抗美援朝
- C. 土地改革
- D. 西部大开发

4. 毛泽东提出“人民来制定宪法”的思想：“劳动人民参与立宪，把他们认为应该如何管理国家的意见集中起来，上升为国家意志。”实践这一思想的会议是（ ）

- A. 第一届全国人民代表大会
- B. 中共八大
- C. 中共八届二中全会
- D. 中共十一届三中全会

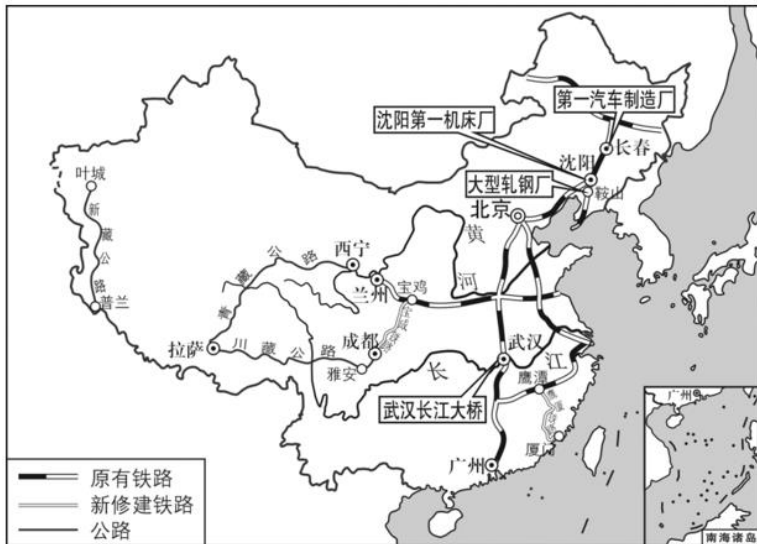
5. 下列图示反映的历史事件是（ ）



- A. 农业合作化
- B. 三大改造
- C. 改革开放
- D. 家庭联产承包责任制



6. 下图展现了我国某一时期工业和交通建设的主要成就，这一时期是（ ）



- A. 第一个五年计划期间
- B. “大跃进”运动期间
- C. 全面建设社会主义时期
- D. 社会主义现代化建设新时期

7. 下面一组口号反映了我国在探索社会主义建设道路过程中存在的严重失误，其最主要问题是（ ）

“土地潜力无穷尽，亩产多少在人为”
 “人有多大胆，地有多大产”
 “三年超英，五年赶美”

- A. 自然灾害影响生产
- B. 民主法制受到践踏
- C. 忽视客观经济规律
- D. 知识分子遭到批判

8. 中国北斗卫星导航系统（DBS）是中国自行研制的全球卫星导航系统，是继美国全球定位系统（GPS），俄罗斯格林洛纳斯卫星导航系统（GLONASS）之后第三个成熟的卫星导航系统。下列科技成就开创了我国卫星成功发射先河的是（ ）

- A. 东方红一号
- B. 神舟一号
- C. 嫦娥一号
- D. 玉兔一号

9. 1971年，美国代表布什说：“这是联合国历史上的转折点，反西方国家在美国威信动摇时第一次击败了美国。”他哀叹，那些表决后欢声雷动的代表们“就是要踢山姆大叔一脚”。这个“转折点”是（ ）

- A. 中国提出和平共处五项原则
- B. 中国恢复了联合国合法席位
- C. 万隆会议召开取得圆满成功
- D. 中美两国正式建立外交关系

10. 20世纪80年代，中国农村流行一副对联：“三十年前分田地，耕者有其田；三十年后又分地，耕者有其责。”对联中两个土地政策的共同点是（ ）

- ①发生在三大改造时期
- ②彻底摧毁封建土地制度



③极大地解放了生产力 ④调动了农民生产积极性

A. ①②

B. ②③

C. ③④

D. ①④

11. 2022年2月,为纪念中美双方签署的一份重要历史文件发表50周年,一位篆刻家雕刻了一枚红印(见下图),这枚红印上的历史文件的发表()



A. 标志着中美关系正常化进程的开始

B. 标志着中美两国正式建立外交关系

C. 标志着中国特色大国外交全面推进

D. 标志中国恢复在联合国的合法席位

12. 根据“求同存异”“睦邻友好”“战略伙伴关系”等内容提炼出一个最恰当的学习主题是()

A. 伟大的历史转折

B. 挑战两极格局

C. 艰难的探索历程

D. 外交事业发展

13. 有一首歌中有“1979年,那是一个春天”“1992年,又是一个春天”,歌词中的这两个“春天”分别喻指()

A. “三步走”战略部署第一步和第二步

B. 改革开放和邓小平南方谈话

C. 家庭联产承包责任制和国有企业改革

D. 经济特区和国有企业改革

14. 以下三幅图片能够反映出我国()



深圳特区的建立



浦东开发区的建立



上海自由贸易试验区成立

A. 农村经济改革逐步推开

B. 对外开放程度不断深化

C. 城市经济体制改革开启

D. 西部大开发政策的实施

15. 如图是十八大以来我国取得的部分重大科技成果,这一系列重大成果,主要体现的新发展理念是



国产大型客机C919



暗物质粒子探测卫星“悟空号”



中国“天眼”



量子科学试验卫星“墨子号”

A. 创新

B. 共享

C. 开放

D. 绿色



16. 2020 年起，面对新冠疫情蔓延的严峻形势，党和政府积极抗疫，实行内防输入外防扩散的策略，随后我国研发团队发出“健康码”、“行程码”等信息工具，在疫情防控战役中发挥了不可替代的作用。这主要得益于

- A. 数据库和互联网的发展
- B. 空间技术的飞速发展
- C. 原子能技术的开发利用
- D. 新材料的发明和使用

17. 如表为中美贸易在 20 世纪七八十年代的贸易数据，说明

年份	美国对华出口（百万美元）	中国对美出口（百万美元）
1972 年	60	32
1975 年	304	156
1980 年	3755	1059
1985 年	3855	3840

- A. 中美和解彼此受益匪浅
- B. 中美是世界两大经济体
- C. 中国 全方位对外开放
- D. 我国不断深化对内改革

18. 改革开放以来，中国社会主义现代化建设取的历史性成就，其中包括（ ）

- ①中国特色社会主义理论体系的形成与发展
- ②综合国力不断提升
- ③国际影响力不断扩大
- ④“两弹一星”试验成功

- A. ①②④
- B. ①③④
- C. ②③④
- D. ①②③

19. 2022 年 4 月 16 日，翟志刚、王亚平和叶光富三名航天员安全返回地球，创造了我国航空 新纪录，也被誉为史上“最强出差”。下列属于我国航天技术成就的有（ ）



- ①我国第一颗原子弹爆炸成功
- ②东方红一号卫星发射成功
- ③神舟系列飞船发射成功
- ④嫦娥工程顺利实施

- A. ①③
- B. ②③④
- C. ①③④
- D. ①②

20. 疫情当头，钟南山院士用自己渊博的知识为国人努力撑起一把保护伞，成为家喻户晓的人物，下列人



物中与钟南山属于同一领域有作为的人物是（ ）

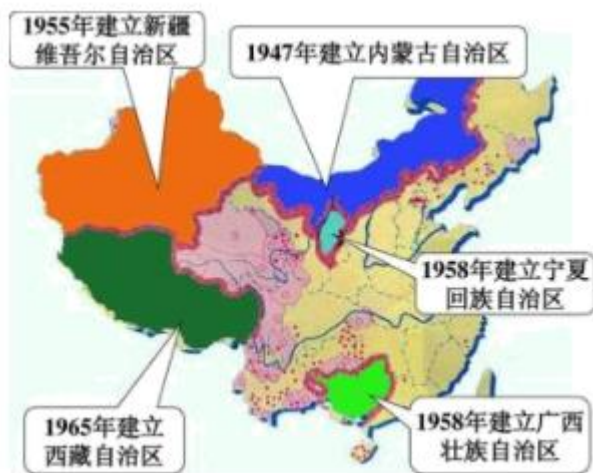
- A. 屠呦呦 B. 袁隆平 C. 邓稼先 D. 杨利伟

第二部分（材料分析题 共 50 分）

21. 民族团结与祖国统一。

材料一 第二条中华人民共和国的一切权力属于人民。……第三条中华人民共和国是统一的多民族国家。各民族一律平等……禁止对任何民族的歧视和压迫，禁止破坏民族团结和制造民族分裂的行为。

——1954年《中华人民共和国宪法》



(1) 依据材料一，指出我国处理民族问题的原则。结合所学，概括我国在少数民族地区实行的基本政治制度及历史意义。

材料二 “一国两制”的构想从实际出发，兼顾了各方面的实际利益，因而是各方可以接受的、合情合理的、切实可行的方案。这一构想，既体现了实现祖国统一、维护国家主权的原则，又充分考虑到台湾、香港、澳门的历史和现实，具有高度的灵活性，是推进祖国和平统一大业的基本方针。

——杨先材《中华人民共和国史》



图1 中英香港政权交接仪式 图2 中葡澳门政权交接仪式

(2) 依据材料二，分析邓小平创造性地提出“一国两制”的意义。结合所学，写出我国在统一大业的道路上取得的重要成就。

材料三 和平统一最符合包括台湾同胞在内的中华民族的根本利益。……我们要始终坚持一个中国原则。……两岸双方应坚持“九二共识”的共同立场，增进维护一个中国框架的共同认知，在此基础上求同



存异。……全体中华儿女携手努力，就一定能在同心实现中华民族伟大复兴进程中完成祖国统一大业。

——邓小平

(3) 依据材料三并结合所学，指出实现祖国统一的基本方针。分析台湾回归祖国的有利因素。

22. 外交是一个国家综合国力的体现。

材料一：1954年6月，应印度总理尼赫鲁的邀请，周恩来对印度进行访问，28日中印两国总理发表联合声明，明确提出指导两国关系的原则是互相尊重领土主权、互不侵犯、互不干涉内政、平等互利、和平共处……如果这些原则不仅适用于各国之间，而且适用于一般国际关系之中，他们将形成和平和安全的坚实基础。

——摘自人教版教师教学用书《中国历史》(八年级下册)

(1) 依据材料一，写出“原则”的名称。结合所学，分析其作用。

材料二：



图1 周恩来在万隆会议上发表演说



图2 在第26届联合国大会上，某提案通过后，各国代表欢呼庆祝



图3 毛泽东会见尼克松



(2) 依据材料二，结合所学，请选择(除图2)任意一幅图，进行说明。

示例：选择：图2

说明：1971年10月，第26届联合国大会通过决议，恢复中国合法席位，这是中国外交的重大胜利，中国积极参加国际事务，发挥了重要的作用。

材料三：1949-2017年与中国建交国家数量

年份	1949年	1959年	1969年	1979年	1989年	1999年	2017年
国家数量	10个	34个	45个	120个	136个	162个	175个

(3) 依据材料三，指出中国建交国家数量变化趋势。结合所学，分析20世纪70年代变化的原因。材料四：新时期，中国积极发展全球伙伴关系，秉持共商共建共享的全球治理观，顺应和平、发展、合作、共赢的时代潮流，积极参与全球治理体系改革和建设，推动构建人类命运共同体。随着中国特色大国外交全面推进，逐渐形成了全方位、多层次、立体化的外交布局。

(4) 依据材料四，分析中国特色大国外交的背景。结合所学，概括新时期中国特色大国外交布局的特点。

23. 新中国的科技成就与国防建设。

材料一

①	1958年，中国第一台电子管计算机试制成功
②	1965年，中国首先完成了人工合成结晶牛胰岛素
③	1983年，中国第一台每秒钟运算一亿以上的“银河”巨型计算机研制成功
④	2000年，中国参与的人类基因组工作草图绘制完毕，并向全世界公布
⑤	2003年，神舟五号飞船升入太空并成功返回
⑥	2008年，神舟七号航天员翟志刚成功完成出舱任务，实现太空行走

(1) 将材料一的史实与以下观点相对应。(填序号，每空多选、少选均不得分)

计算机技术迅速发展：_____

生物技术 不断发展：_____

航空航天技术的发展：_____



材料二 20世纪50年代，我国曾在朝鲜战争期间、解放军炮击金门期间等遭受核打击威胁。“两弹一星”元勋们痛恨列强对祖国的欺侮，抱着“科学救国”的志向留学，并放弃优厚的工作、生活条件归国。郭永怀在飞机失事的危急关头，与秘书一起紧紧抱住绝密材料，身体烧焦，却保全了材料。实验人员用自己焊接的一把双层结构的铝壶手工搅拌炸药，完成了原子弹元件设计的最初爆轰实验。

——摘编自人教版《中学历史教学参考》

(2) 结合材料二，写出我国成功研制“两弹一星”的原因。结合所学，分析“两弹一星”团队体现的时代精神。

材料三 开国大典阅兵由人民海军、陆军和空军组成。1984年阅兵，第二炮兵部队首次接受检阅。2019年，战略支援部队首次亮相国庆阅兵。

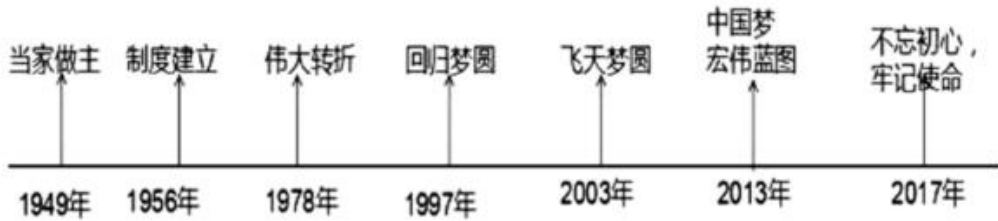
军种	开国大典阅兵	新中国成立10周年阅兵	新中国成立35周年阅兵	新中国成立70周年阅兵
空	美制P-51战斗机、英国	国产喷气式轰炸机、歼-	轰-6、歼-7型	歼-20战机(自主研制)、

军	蚊式战斗机（缴获）等	5 歼击机（仿制）等	飞机（仿制）	无侦-8 无人侦察机等
---	------------	------------	--------	-------------

(3) 依据材料三，概括中国军队建设和国防武器装备的变化。结合所学，分析其变化的原因。

24. 百年征程波澜壮阔，百年初心历久弥坚。

材料一 中国现代史时间轴



(1) 依据材料一，选取任意一个时间（除 1956 年），结合相关史实进行说明。

示例：选择：1956 年

说明：三大改造的完成，实现了生产资料私有制向社会主义公有制的转变。社会主义制度在我国建立起来。这是中国历史上最深刻的社会变革。

材料二

	内涵	具体精神形态
中国共产党的精神谱系	中国共产党的革命精神	红船精神、井冈山精神、长征精神、抗战精神、西柏坡精神等
	艰苦创业精神	大庆精神及铁人精神、劳模及劳模精神、 <u>①</u> 等
	改革开放精神	小岗精神、 <u>②</u> 北京奥运精神、改革先锋精神等
	新时代伟大奋斗精神	宪法和法治精神、工匠精神、科学家精神、 <u>③</u> 等



(2) 将特区精神、新时代北斗精神和“两弹一星”精神填入材料二的相应位置。从这三种精神中任选其一，结合史实，说出对这一精神内涵的理解。

材料三 历史证明青年要有远大理想、要坚定信念，这样一个国家、一个民族才能有无坚不摧的前进动力。



“00后”戍边英雄 陈祥榕



“00后”冬奥冠军苏翊鸣

青春献给党。

请党放心，

强国有我。

——《七一共青团员集体致献词》

(3) 依据材料三，写出你从他们身上学到的优秀精神品质。写出作为正青春的你践行青春诺言的行动。



参考答案

第一部分（选择题共 30 分）

本部分共 20 小题，每小题 1.5 分，共 30 分。在每小题列出的四个选项中，选出最符合题目要求的一项。

1. 【答案】C

【解析】

【详解】“中国人从此站起来了”是指新中国成立，开辟了中国历史的新纪元。中国人民经过一百多年的英勇斗争，终于推翻了帝国主义、封建主义和官僚资本主义的统治；中国真正成为独立自主的国家，占人类总数四分之一的中国人从此站起来了。C 项正确；A 项是辛亥革命，排除 A 项；B 项抗日战争的意义，排除 B 项；D 项是三大改造的完成，排除 D 项。故选 C 项。

2. 【答案】D

【解析】

【详解】根据材料“2021 年 10 月，电影《长津湖》风靡全国，该影片讲述了中国人民志愿军在异国他乡英勇作战的故事”，结合所学知识可知，《长津湖》是以抗美援朝为背景的电影。抗美援朝的目的是抗美援朝，保家卫国。D 项正确；“抵抗日寇，保卫华北”反映的是抗日战争，排除 A 项；毛泽东提出“一切反动派都是纸老虎”的著名论断是在解放战争时期，排除 B 项；“中国人民站起来了”反映的是新中国的成立，排除 C 项。故选 D 项。

3. 【答案】C

【解析】

【详解】由“20 世纪 50 年代初”结合所学，1950 年，中央政府颁布《中华人民共和国土地改革法》，在全国进行土地改革，土地改革废除封建土地制度，把地主的土地分给农民，到 1952 年底，三亿无地或少地农民分得了土地，“过去头顶地主的天，脚踏地主的地，现在都成为我们的了”反映的是土地改革，C 项正确；开国大典发生在 1949 年，排除 A 项；抗美援朝与题干材料不符，排除 B 项；西部大开发发生在 20 世纪初，与题干时间不符，排除 D 项。故选 C 项。

4. 【答案】A

【解析】

【详解】根据材料及所学知识可知，1954 年 9 月，第一届全国人民代表大会在北京召开，全国人民代表集聚一堂，共商国家大事，大会制定了《中华人民共和国宪法》，这是我国第一部社会主义类型的宪法，也是我国有史以来真正反映人民利益的宪法，A 项符合题意，A 项正确；根据所学知识可知，1956 年，中国共产党在北京召开第八次全国代表大会，根据社会主义基本制度已经在我国建立起来的新形势，大会分析了当时国内的主要矛盾，指出党和人民的主要任务是集中力量把我国尽快地从落后的农业国变为先进的工



业国，B项不符合题意，排除B项；根据所学知识可知，1958年，中共八大二次会议提出“鼓足干劲、力争上游、多快好省地建设社会主义”的总路线，C项不符合题意，排除C项；根据所学知识可知，1978年12月，中共十一届三中全会在北京召开，三中全会冲破了长期以来“左”倾错误的严重束缚，确定了解放思想、开动脑筋、实事求是、团结一致向前看的指导方针，果断停止使用“以阶级斗争为纲”的口号，作出了把党和国家的工作中心转移到经济建设上来，实行改革开放的历史性决策，D项不符合题意，排除D项。故选A项。

5. 【答案】B

【解析】

【详解】1956年，我国完成对农业、手工业和资本主义工商业的社会主义改造，基本实现了生产资料私有制向社会主义公有制的转变，标志着我国建立起社会主义基本制度，从此进入社会主义初级阶段。故题干与三大改造基本完成有关，B项正确；根据题干中的“公私合营”以及所学可知，公私合营是资本主义工商业的改造形式与农业合作化无关，排除A项；从题干“公私合营”可知，题目所述为三大改造，排除C项；从题干“公私合营”可知，题目所述为三大改造，排除D项。故选B项。

6. 【答案】A

【解析】

【详解】根据材料，结合所学知识可知，为了有计划地进行社会主义建设，我国政府编了发展国民经济的第一个五年计划。它的基本任务是：集中主要力量发展重工业，建立国家工业化和国防现代化的初步基础；相应地发展交通运输业、轻工业、农业和商业；相应地培养建设人才。第一个五年计划从1953年开始执行。第一个五年计划期间，我国以苏联帮助兴建的156个项目为中心，先后施工1万多个工业项目。钢铁、煤炭、电力、机械制造等各个领域快速发展，捷报频传。鞍山钢铁公司无缝钢管厂等三大工程、长春第一汽车制造厂、沈阳机床厂和飞机制造厂等建成投产。交通运输建设也取得很大成就，新建宝成、鹰厦等铁路30余条；川藏、青藏、新藏公路相继通车，密切了祖国内地与边疆地区的联系，1957年，武汉长江大桥建成，连接了长江南北的交通。A项正确；“大跃进”运动是我国在探索社会主义道路上所犯的错误，排除B项；全面建设社会主义时期是在1956-1966年，题干没有涉及，排除C项；中国历史进入社会主义现代化建设新时期是中共十一届三中全会开始。题干没有涉及，排除D项。故选A项。

7. 【答案】C

【解析】

【详解】“人有多大胆，地有多高产”“三年超英，五年赶美”等口号反映的是大跃进运动，大跃进运动夸大了人的主观能动性，忽视了经济发展的客观规模，使国民经济遭遇了挫折，C项正确；材料没有体现自然灾害影响生产，排除A项；材料没有体现民主法制受到践踏，排除B项；材料没有体现知识分子遭到批判，排除D项。故选C项。



8. 【答案】A

【解析】

【详解】依据所学知识可知，1965年9月，中国科学院组建卫星设计院，对我国第一颗人造卫星的总体方案展开论证，确定在保证可靠性基础上，卫星的各项指标要比各国的第一颗卫星先进一步，即发射一个连续信号，1967年初，确定要播送《东方红》乐曲。让全世界人民能听到中国卫星的声音。12月，这颗卫星被正式命名为“东方红一号”，1970年4月24日点，“长征一号”运载火箭将“东方红一号”卫星准确送入太空，发射成功，东方一号开创了我国卫星成功发射先河，A项正确；神舟一号、嫦娥一号、玉兔一号均为我国载人航天工程做出了贡献，但与“开创了我国卫星成功发射先河”不符，排除BCD项。故选A项。

9. 【答案】B

【解析】

【详解】根据材料“1971年”“这是联合国历史上的转折点，反西方国家在美国威信动摇时第一次击败了美国。”，结合所学知识可知，1971年10月25日，第26届联合国大会通过了阿尔巴尼亚、阿尔及利亚等23国提案，恢复了中华人民共和国在联合国的合法权利，恢复中国安理会常任理事国的席位，说明长期以来美国实行孤立中国政策的破产。B项正确；1953年，周恩来在接见印度代表团时首次提出和平共处五项原则，后来被多数国家所接受，成为处理国与国关系的基本准则，排除A项；万隆会议召开于1955年，排除C项；中美两国正式建立外交关系是在1979年，排除D项。故选B项。

10. 【答案】C

【解析】

【详解】依据材料所给信息“三十年前分田地，耕者有其田”，结合所学可知是1950年—1952年的土地改革，农民成为土地的主人，极大地解放了生产力，调动了农民的生产积极性。“三十年后又分地，耕者有其责。”结合所学可知是1978年以后农村实行家庭联产承包责任制，极大地调动农民生产积极性，农村生产力得以极大发展，故③④符合题意，C符合题意；三大改造在1953-1956年进行，①排除；彻底摧毁封建土地制度只符合“三十年前分田地，耕者有其田”，②排除；所以ABD不符合题意，排除。故选择C。

11. 【答案】A

【解析】

【详解】根据所学可知，1972年，尼克松访华，中美签署《中美联合公报》，中美两国关系开始走向正常化，A项正确；中美两国正式建立了外交关系是在1979年，排除B项；十八大以来，我国全面推进中国特色大国外交，形成全方位、多层次、立体化的外交布局，排除C项；中国恢复了在联合国的合法席位在1971年，排除D项。故选A项。

12. 【答案】D



【解析】

【详解】“求同存异”反映的是1955年在万隆会议上周恩来提出的外交方针，“睦邻友好”“战略伙伴关系”指的是新中国的外交成就，所以题目反映的是外交事业发展，D项正确；十一届三中全会是伟大的历史转折，排除A项；材料没有涉及挑战两极格局，排除B项；题干没有涉及艰难的探索历程，排除C项。故选D项。

13. **【答案】B**

【解析】

【详解】根据题干信息“1979年，那是一个春天”“1992年，又是一个春天”结合所学知识可知，1978年12月，中共十一届三中全会作出了把党和国家的工作中心转移到经济建设上来，实行改革开放的历史性决策，1979年是改革开放起始之年。1992年初，邓小平南方谈话，进一步解放了人们的思想，对建设中国特色社会主义产生了深远影响。因此歌词中的两个“春天”分别喻指改革开放和邓小平南方谈话，B项正确；“三步走”战略部署的第二步目标，1991年到二十世纪末国民生产总值再增长一倍，人民生活达到小康水平，排除A项；1985年，我国城市改革全面展开，重点是国有企业改革，排除CD。故选B项。

14. **【答案】B**

【解析】

【详解】根据材料可得出广东省深圳经济特区于1980年8月正式成立，是中国最早实行对外开放的四个经济特区之一，1990年4月18日，国务院作出了开发开放上海浦东的重大决策，开发开放浦东是我们为深化改革、扩大开放作出的又一重大部署，2013年9月29日中国（上海）自由贸易试验区正式成立，对外开放程度不断深化，B项正确；农村经济改革逐步推开与题干不符，排除A项；1984年城市经济体制改革开启，排除C项；2000年1月16日实施西部大开发战略，排除D项。故选B项。



15. **【答案】A**

【解析】

【详解】根据结合所学可知，党的十八大以来，党中央高瞻远瞩作出经济发展进入新常态的科学判断，提出创新、协调、绿色、开放、共享的新发展理念。国产客机C919、中国“天眼”和量子卫星“墨子号”都是在创新理念下取得的重大科技成果，A项正确；绿色、开放、共享与题干科技成果体现的新发展理念，排除BCD项。故选A项。

16. **【答案】A**

【解析】

【详解】根据材料及所学可知，完成全剂接种后，即可解锁“金色模式”体现出第三次科技革命中计算机网络技术的发展，A项正确；空间技术指的是人类探索太空的技术，排除B项；原子能技术的开发利用指的对核能的利用，排除C项；题干属于数据的及时更新，与新材料无关，排除D项。故选A项。

17. 【答案】A

【解析】

【详解】根据题干信息“表为中美贸易在 20 世纪七八十年代的贸易数据”，可知 1972 年到 1985 年，美国对华出口（百万美元）和中国对美出口（百万美元），都在不断增加，结合所学知识可知，1972 年 2 月，美国总统尼克松访问中国，会见毛泽东主席，并与周恩来总理举行会谈，双方在上海签署了《中美联合公报》；在中美《联合公报》中，尼克松作了一个让步，中美两国二十多年的对抗结束了，两国关系开始走向正常化。因此材料说明中美和解彼此受益匪浅。A 项正确；中美是世界两大经济体，不符合当时的史实，排除 B 项；中国的全方位对外开放、我国不断深化对内改革，与题干内容不符，排除 CD 项。故选 A 项。

18. 【答案】D

【解析】

【详解】改革开放以来，我国取得的成就有：在改革开放过程中逐渐形成中国特色社会主义理论体系，此体系并得到发展，我国综合国力不浙提升，国际影响力不断扩大，①②③符合题意，D 项正确；④不符合题意，“两弹一星”试验成功不是改革开放后取得的成就。1964 年 10 月 16 日 15 时中国第一颗原子弹爆炸成功，使中国成为第五个有原子弹的国家；1967 年 6 月 17 日上午 8 时中国第一颗氢弹空爆试验成功；1970 年 4 月 24 日 21 时中国第一颗人造卫星发射成功，使中国成为第五个发射人造卫星的国家。中国的“两弹一星”是 20 世纪下半叶中华民族创建的辉煌伟业，ABC 项不符合题意，排除 ABC 项。故选 D 项。



19. 【答案】B

【解析】

【详解】结合所学知识可知，②东方红一号卫星发射成功，③神舟系列飞船发射成功，④嫦娥工程顺利实施，都是我国航天技术成就，B 项正确；①我国第一颗原子弹爆炸成功属于军事科技领域的成就，排除 ACD 项。故选 B 项。

20. 【答案】A

【解析】

【详解】钟南山院士是抗击新冠疫情的英雄。20 世纪 70 年代初，中国药学家屠呦呦发现了能够有效抵抗疟疾的青蒿素。屠呦呦获得 2015 年诺贝尔生理学或医学奖。A 项正确；袁隆平是农业科学家，排除 B 项；邓稼先是两弹一星元勋，排除 C 项；杨利伟是中国航天第一人，排除 D 项。故选 A 项。

第二部分（材料分析题 共 50 分）

21. 【答案】（1）民族平等、民族团结、各民族共同繁荣。（或引用材料中的话概括）

民族区域自治制度；体现了国家充分尊重和保障各少数民族管理本民族内部事务权利的精神，对维护民族团结、巩固国家统一和促进少数民族地区发展具有重大意义，为实现各民族共同繁荣发展奠定了基础。

(2) “一国两制”构想兼顾了各方面实际利益，既体现了实现祖国统一、维护国家主权的原则，又充分考虑到台湾、香港、澳门的历史与现实，有利于推进祖国和平统一大业。

香港、澳门先后回归祖国。

(3) 和平统一，一国两制。

两岸统一是大势所趋，人心所向；中国综合国力不断提高；中国国际地位的不断提高；“和平统一，一国两制”方针的制定；中美关系的改善；两岸经济、文化交往日益密切等。

【解析】

【小问 1 详解】

根据材料“各民族一律平等……禁止对任何民族的歧视和压迫，禁止破坏民族团结和制造民族分裂的行为”可得出，我国处理民族问题的原则是民族平等、民族团结、各民族共同繁荣；根据图片材料结合所学知识可得出，我国在少数民族地区实行的基本政治制度是民族区域自治制度；根据所学知识可得出，民族区域自治制度体现了国家充分尊重和保障各少数民族管理本民族内部事务权利的精神，对维护民族团结、巩固国家统一和促进少数民族地区发展具有重大意义，为实现各民族共同繁荣发展奠定了基础。

【小问 2 详解】

根据材料“一国两制的构想从实际出发，兼顾了各方面的实际利益”可得出，邓小平创造性地提出“一国两制”的意义是，“一国两制”构想兼顾了各方面的实际利益，根据材料“一国两制构想兼顾了各方面的实际利益，是推进祖国和平统一大业的基本方针”可得出，邓小平创造性地提出“一国两制”的意义是，既体现了实现祖国统一、维护国家主权的原则，又充分考虑到台湾、香港、澳门的历史与现实，有利于推进祖国和平统一大业；根据所学知识可得出，我国在统一大业的道路上取得了香港、澳门先后回归祖国的重要成就。



【小问 3 详解】

根据材料“和平统一最符合包括台湾同胞在内的中华民族的根本利益。……我们要始终坚持一个中国原则。……两岸双方应坚持“九二共识”的共同立场，增进维护一个中国框架的共同认知，在此基础上求同存异”结合所学知识可得出，实现祖国统一的基本方针是和平统一，一国两制；根据所学知识可得出，台湾回归祖国的有利因素主要有，两岸统一是大势所趋，人心所向，中国综合国力不断提高，中国国际地位的不断提高，“和平统一，一国两制”方针的制定，中美关系的改善，两岸经济、文化交往日益密切等。

22. 【答案】(1) 原则：和平共处五项原则；作用：和平共处五项原则在国际上产生了深远影响，被世界上越来越多的国家接受，成为处理国与国之间关系的基本准则。

(2) 选择：图一；说明：1955年在印度尼西亚召开的万隆会议，周恩来提出“求同存异”的方针，促进了会议的圆满成功，加强了同亚非各国的团结与合作。(事件的序号、事件的内容、影响各 1 分)

(3) 趋势：建交的国家越来越多；原因：国家统一、经济发展、科技进步、国防强大等。

(4) 背景：发展全球伙伴关系，秉持全球共商共建共享的治理观，积极参与全球治理体系改革和建设，推动构建人类命运共同体等；特点：全方位、多层次、立体化。

【解析】

【详解】(1) 原则：根据材料及所学知识可知，1953 年底，我国政府同印度政府就两国在中国西藏地区的关系问题进行谈判，周恩来在接见印度代表团时，首次提出和平共处五项原则，作为处理两国关系的原则；作用：根据所学知识可知，和平共处五项原则在国际上产生了深远影响，被世界上越来越多的国家所接受，成为处理国与国之间关系的基本准则。

(2) 选择;图一；说明：根据所学知识可知，1955 年，周恩来率中国代表团参加在印度尼西亚万隆召开的亚非会议，针对帝国主义破坏会议的阴谋和各国间的矛盾、分歧，周恩来提出“求同存异”的方针，促进了会议的圆满成功，加强了同亚非各国的团结与合作。

(3) 趋势：根据材料可知，中国建交的国家越来越多；原因：根据材料及所学知识可知，20 世纪 70 年代变化的原因有国家统一、经济发展、科技进步、国防强大等。

(4) 背景：根据材料及所学知识可知，新时期，中国在积极发展全球伙伴，秉持共商共建共享的全球治理观，积极参与全球治理体系改革和建设，推动构建人类命运共同体的背景下发展特色大国外交；特点：根据材料及所学知识可知，随着中国特色大国外交全面推进，逐渐形成了全方位、多层次、立体化的外交布局。

23. **【答案】**(1) ①. ①③ ②. ②④ ③. ⑤⑥

(2) 遭受列强的核威胁，使中国免受西方欺凌；科学家热爱祖国，艰苦奋斗等。

热爱祖国，无私奉献，不怕牺牲，勇于创新等。

(3) 新的兵种不断增加；由初期的缴获到仿制到中国自主研发新式武器装备等。

国家统一；经济发展；科技进步；国防强大；外交地位提升等。

【解析】

【小问 1 详解】

根据题干材料观点一计算机技术迅速发展，材料中与这一观点对应的是，1958 年，中国第一台电子管计算机试制成功，1983 年，中国第一台每秒钟运算一亿以上的“银河”巨型计算机研制成功，得出计算机技术迅速发展填①③；观点二生物技术的不断发展，材料中与这一观点对应的是，1965 年，中国首先完成了人工合成结晶牛胰岛素，2000 年，中国参与的人类基因组工作草图绘制完毕，并向全世界公布，得出生物技术的不断发展填②④；观点三航空航天技术的发展，材料中与这一观点对应的是，2003 年，神舟五号飞船升入太空并成功返回，2008 年，神舟七号航天员翟志刚成功完成出舱任务，实现太空行走，得出航空航天技术的发展填⑤⑥。

【小问 2 详解】



根据材料“20世纪50年代，我国曾在朝鲜战争期间、解放军炮击金门期间等遭受核打击威胁”可得出，我国成功研制“两弹一星”的原因是，遭受列强的核威胁，使中国免受西方欺凌，根据材料“两弹一星元勋们痛恨列强对祖国的欺侮，抱着科学救国的志向留学，并放弃优厚的工作、生活条件归国”可得出，我国成功研制“两弹一星”的原因是，科学家热爱祖国，艰苦奋斗等；根据材料结合所学知识可得出，“两弹一星”团队体现出热爱祖国，无私奉献，不怕牺牲，勇于创新等时代精神。

【小问3详解】

根据材料“开国大典阅兵由人民海军、陆军和空军组成。1984年阅兵，第二炮兵部队首次接受检阅。2019年，战略支援部队首次亮相国庆阅兵”可得出，中国军队建设变化是新的兵种不断增加；根据表格材料可得出，中国国防武器装备的变化是，由初期的缴获到仿制到中国自主研发新式武器装备等；根据所学知识可得出，发生变化的原因是，国家统一，经济发展，科技进步，国防强大，外交地位提升等。

24. 【答案】(1) 选择：1949年

说明：中华人民共和国的成立，开辟了中国历史新纪元。中国人民经过一百多年的英勇斗争，终于推翻了帝国主义、封建主义和官僚资本主义的统治；中国真正成为独立自主的国家，占人类总数四分之一的中国人从此站起来了。新中国的成立，壮大了世界和平民主和社会主义的力量。（写出相关事件及其影响即可）

(2) ① “两弹一星”精神

② 特区精神

③ 新时代北斗精神

特区精神:1980年8月，国务院正式批准成立深圳经济特区，这是中国成立的第一个经济特区。经过几十年改革开放大潮的塑造和市场经济熔炉的锤炼，中国的经济特区不仅创造了举世惊叹的物质文明奇迹，也创造了“敢闯、敢冒、敢试，敢为天下先”的特区精神。（有一定史实及其影响即可）

(3) 热爱祖国；敢于拼搏，勇于挑战；不畏困难，不惧牺牲等等。

认真学习；热爱师生；孝顺长辈；有远大理想，有学习目标等等。

【解析】

【小问1详解】

根据所学知识选择任意一个时间（除1956年）回答即可。

如：选择：1949年

说明：中华人民共和国的成立，开辟了中国历史新纪元。中国人民经过一百多年的英勇斗争，终于推翻了帝国主义、封建主义和官僚资本主义的统治；中国真正成为独立自主的国家，占人类总数四分之一的中国人从此站起来了。新中国的成立，壮大了世界和平民主和社会主义的力量。（写出相关事件及其影响即可）

【小问2详解】



根据图表以及所学知识可知，属于艰苦创业精神的是“两弹一星”精神；属于改革开放精神的是特区精神；属于新时代伟大奋斗精神的是新时代北斗精神。

根据题干从特区精神、新时代北斗精神和“两弹一星”精神中选择其中一个作答即可。如：特区精神:1980年8月，国务院正式批准成立深圳经济特区，这是中国成立的第一个经济特区。经过几十年改革开放大潮的塑造和市场经济熔炉的锤炼，中国的经济特区不仅创造了举世惊叹的物质文明奇迹，也创造了“敢闻、敢冒、敢试，敢为天下先”的特区精神。（有一定史实及其影响即可）

【小问3详解】

从“00后戍边英雄 陈祥榕”和“00后 冬奥冠军苏翊鸣”身上我们能学到的优秀精神品质有：热爱祖国；敢于拼搏，勇于挑战；不畏困难，不惧牺牲等等。作为正青春的我们践行青春诺言的行动有：认真学习；热爱师生；孝顺长辈；有远大理想，有学习目标等等。

