



初二第一学期期末参考样题

历史

2022.01

学校 _____ 姓名 _____ 准考证号 _____

考 生 须 知	1. 本样题共 8 页，共 2 部分，27 道题，满分 100 分。考试时间 90 分钟。 2. 在试卷和答题卡上准确填写学校名称、姓名和准考证号。 3. 答案一律填涂或书写在答题卡上，在试卷上作答无效。 4. 在答题卡上，选择题用 2B 铅笔作答，其他题用黑色字迹签字笔作答。
----------------------------	--

第一部分 选择题

本部分共 24 题，每题 2 分，共 48 分。在每题列出的四个选项中，选出最符合题目要求的一项。

1. 右图为南京静海寺警示钟。其铭文曰：“……一八四二，浊浪滔天；英军入侵，扬子江面……胁迫清廷，割地赔款；占我香港，掠我银元……丧权辱国，泣地惊天。”铭文内容和以下不平等条约签订有关的是
 A. 《南京条约》 B. 《天津条约》 C. 《北京条约》 D. 《马关条约》
2. 太平天国运动沉重地打击了清朝的统治和外国侵略势力，谱写了中国近代史上壮丽的一章。以上叙述的是太平天国运动的
 A. 产生原因 B. 时代背景 C. 具体内容 D. 历史意义
3. 在中国近代史上，涌现了很多抵抗外来侵略的英雄人物。下列英雄人物与英勇事迹对应正确的是
 ①林则徐——虎门销烟 ②左宗棠——收复新疆
 ③邓世昌——黄海海战 ④左宝贵——威海卫战役
 A. ①②③ B. ①③④ C. ②③④ D. ①②④
4. 右图是一本人物传记的目录节选。据此判断该著作是
 A. 《张之洞》 B. 《谭嗣同》
 C. 《严复》 D. 《康有为》
5. 陈旭麓曾经这样评价一个组织：“它不是教门，也不是秘密会社，它激烈而又执着地反洋人、反洋教……成为了一场反帝群众运动。”这个组织是
 A. 强学会 B. 义和团 C. 兴中会 D. 同盟会
6. 下列史实反映的共同主题是



第四章 《新学伪经考》与万木草堂 第五章 “公车上书” …… 第九章 百日维新 一、《明定国是诏》 二、光绪帝召见 ……
--

1906 年，同盟会会员刘道一、蔡绍南在江西发动萍浏醴起义
 1907 年，光复会会员徐锡麟在安庆发动起义
 1911 年，黄兴率领一百余名革命党人发动黄花岗起义

- A. 革命派成立革命团体 B. 革命派建立了革命政权
 C. 革命党发动武装起义 D. 全国各省陆续宣告独立



7. 对下列材料理解正确的是

- ①1905年，孙中山在《民报》发刊词中阐发了“民族”“民权”“民生”三大主义。
②三民主义推动了资产阶级民主革命的发展。

- A. ①属于历史结论
B. ①阐释了三民主义的内容
C. ②属于历史史实
D. ②肯定了三民主义的历史意义

8. 纪念币通常是为了纪念重大历史事件而发行的。右图纪念币所纪念的历史事件

- A. 迈出了中国近代化的第一步
B. 促进了中国民族资本主义的产生
C. 宣告了中国两千多年君主专制制度的终结
D. 使中国人民接受了一次民主与科学的洗礼



辛亥革命110周年银质纪念币

9. 以下是一部重要文献的部分条款。

第二条 中华民国之主权，属于国民全体。

第四条 中华民国以参议院、临时大总统、国务员、法院，行使其统治权。

这部重要文献应为

- A. “明定国是”诏书
B. 《中华民国临时约法》
C. 《中华民国约法》
D. 《讨袁檄文》

10. 知识分子吴玉章在回忆录中写道：“辛亥革命给长期黑暗无际的中国带来了一线光明，当时人们是多么的欢欣鼓舞啊！但是，转瞬之间，_____把中国重新投入黑暗的深渊，人们的痛苦和失望，真是达于极点。”“_____”处指的历史事件是

- A. 《辛丑条约》签订
B. 袁世凯窃取了革命果实
C. 四一二反革命政变
D. 国民党发动军事“围剿”

11. 以下是一位同学绘制的孙中山先生的大事年表。其中①处应填

时间	事件
1894年	上书李鸿章
1905年	联合兴中会、华兴会、光复会成立中国同盟会
1907年	领导广西起义
1915年	①

- A. 领导武昌起义
B. 就任临时大总统
C. 领导护国运动
D. 主持国民党一大

12. 毛泽东在谈及学生时代喜爱的一份出版物时说：“我很欣赏胡适和陈独秀写的文章，他们一度成为我效仿的榜样，取代了我已不再崇拜的梁启超和康有为。”这份出版物应该是

- A. 《时务报》
B. 《新青年》
C. 《民报》
D. 《申报》

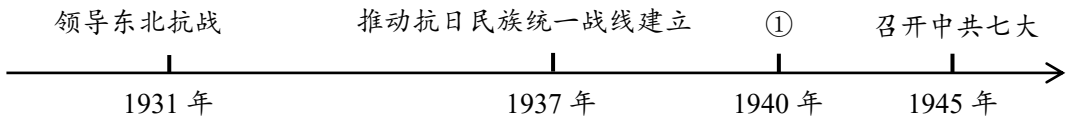
13. 下图摘自一位学生的课堂笔记。他记录的历史事件是

时间	地点	人物	口号
1919年5月4日	北京	青年学生	“外争主权，内除国贼”

- A. 辛亥革命
B. 新文化运动
C. 五四运动
D. 国民革命



19. 以下时间轴体现了中国共产党是抗日战争的中流砥柱。其中①应为



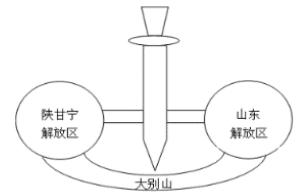
- A. 血战台儿庄 B. 保卫大武汉 C. 平型关伏击日军 D. 发动百团大战

20. 1945年8月，重庆《大公报》发表社评：“毛泽东先生来了！中国人听了高兴，世界人听了高兴，无疑问的，大家都认为这是中国的一件大喜事。”毛泽东此次来重庆的主要目的是

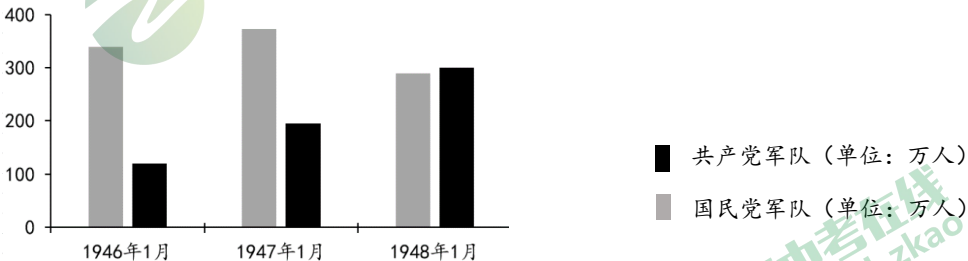
- A. 参加国民党代表大会 B. 联合国民党共同抗日
C. 推进解放区土地改革 D. 争取和平，避免内战

21. 解放战争时期，毛泽东曾说：“蒋介石两个拳头这么一伸，他的胸膛就露出来了。所以，我们的战略就是要把这两个拳头紧紧拖住，对准他的胸膛插上一刀。”这里“插上一刀”指的是

- A. 粉碎国民党全面进攻 B. 千里挺进大别山
C. 打退国民党重点进攻 D. 百万雄师过大江



22. 阅读解放战争时期国共两党兵力对比图。下列说法正确的是



- ①国民党兵力一直处于优势地位 ②三大战役的进行使得国民党兵力减少
③国共兵力在内战初期相差悬殊 ④渡江战役的胜利使得共产党兵力增加
- A. ①② B. ②③ C. ①③ D. ③④

23. 1949年，洪荒作为上海漫画工学团的作者，目睹当时上海解放的情景，创作了漫画《强烈的对比》。漫画上半部分描绘的是三个国民党士兵正在役使民夫，掳掠百姓，抢走一头肥猪，军民如寇仇；下半部分是三位解放军战士在帮助农民挑担、收割和背稻谷。作者借助漫画想表达



- A. 解放军装备比国民党优越 B. 解放军是人民的军队
C. 国民党抢夺物资发动内战 D. 国民政府的贪污腐败

24. 20世纪20年代以后，都市女子结婚时多头披白纱，身着丝织礼服。而在广大农村地区，婚礼依然以红色为基调，女子结婚时穿红袄戴珠冠，乘红轿。对此现象理解正确的是

- ①政府推行风俗改良促进了城市服饰的变革 ②西洋风尚对不同地区的影响存在差异
③近代服饰呈现新旧并呈、多元发展的特点 ④不同婚服体现了人们身份等级的差别

- A. ①②③ B. ①③④ C. ②③④ D. ①②④

第二部分 非选择题



本部分共 3 题，共 52 分。

25. (16 分) 中国近代航运

材料一 中国近代航运主权丧失

时间	近代航运主权丧失情况
①19 世纪 50 年代	西方轮船可以自由出入包括上海在内的五个开放口岸
②19 世纪 60、70 年代	中国的沿海、沿江航运被外轮垄断，如美商旗昌轮船公司和英商太古洋航，可以到长江各口岸自由航行
③1895 年后	日本的轮船公司进入中国航运网络，与英国争夺在华航运霸权
④19 世纪末 20 世纪初	英国主导的远东航运公会被迫吸收德国、日本等国的航运公司

——依据[美]罗安妮《大船航向：近代中国的航运、主权和民族建构（1860-1937）》等

(1) 阅读材料一，在下表中填写导致中国近代航运主权丧失的历史事件。(4 分)

①	
②	
③	
④	

材料二 为了解决漕运及军事企业运输、经费等困难，1873 年，李鸿章在清政府的支持下创办轮船招商局。中国领水内第一次出现了悬挂中国旗的轮船。轮船招商局成立之初，李鸿章等人称公司的宗旨是与外国航运公司展开竞争，为朝廷“收回利权”。开业的头几年，轮船招商局竞争劲头十足，积极扩充船队，1877 年便成功收购实力最雄厚的外轮公司旗昌轮船公司。但收购不久，轮船招商局就面临财政危机，为了解决财政危机等困难，招商局与英国轮船公司达成妥协，规定了彼此在长江航运利益的分配比例。



油画《招商局收购美商旗昌轮船公司》

——摘编自[美]罗安妮《大船航向：近代中国的航运、主权和民族建构（1860-1937）》等

(2) 阅读材料二，结合所学，分析轮船招商局创立的目的和历史作用。(6 分)

材料三 民国实业家卢作孚积极宣传兴办实业，于1925年创办了民生实业股份公司。为了不让外国轮船公司在长江上游横行，卢作孚先后合并和收买了大批中外轮船，经过不懈的努力，至1935年，民生公司最终迫使外国航运势力退出了长江上游。

1938年，武汉沦陷后，此时拥往宜昌的难民潮达到了高峰，从沦陷区运来的几乎包括了全中国的航空、兵器及轻重工业的机器设备，也急待撤往大后方。卢作孚亲自坐镇指挥，调集所有船舶，冒着日机轰炸危险，经过40天昼夜兼程，抢在宜昌沦陷前完成了撤退，使大批军用、民用物资没有落入敌手或遭破坏，被誉为“中国实业上的敦刻尔克”。

在这次大撤退运输中，民生公司损失轮船16艘，69艘船舶被炸伤，牺牲员工百余人。事后，卢作孚说：“这一年，我们没有做生意，我们上前线去了。”

——摘编自黄少卿《卢作孚和民生公司》

(3) 阅读材料三，结合所学，概括卢作孚创办民生公司的目的。(3分) 依据材料，结合所学，谈谈你对材料画线部分的认识。(3分)



26. (20分) 中国共产党的产生与发展

材料一 中共“一大”部分代表基本情况

姓名	出生年份	参会年龄	备注
董必武	1886	35	在武汉创立共产党早期组织
李达	1890	31	在上海与陈独秀、李汉俊等成立共产党早期组织
李汉俊	1890	31	与陈独秀等先后发起组织马克思主义研究会、上海共产党早期组织
毛泽东	1893	28	北京大学图书馆助理员，五四运动参加者，在湖南筹建俄罗斯研究会、湖南社会主义青年团和共产党早期组织
包惠僧	1895	26	北京大学肄业，五四运动参加者，武昌共产党早期组织支部书记，陈独秀指定代表
陈潭秋	1896	25	五四运动爆发后，领导了武汉地区的爱国学生运动，与董必武在武汉建立共产党早期组织
王尽美	1898	23	五四运动参加者，在济南秘密组织马克思主义学说研究会，参与共产党早期组织
邓恩铭	1901	20	与王尽美等在济南组织马克思主义学说研究会，发起济南共产党早期组织
刘仁静	1902	19	北京大学学生，参加北京大学马克思学说研究会和北京共产党早期组织


——依据中共中央党史研究室《中国共产党历史》等

(1) 依据材料一，概括中共“一大”代表群体的特点。(4分) 结合史实，说明中国共产党在20世纪20年代贡献。(4分)

材料二 1931年，一名国民党军官说：“现朱毛黄集中永丰县，他们的行军力和纪律实在很好。①同时他们的组织很完善——如乡有乡政府，村有村政府，区有区政府，故我们很不容易得到他们的行踪。他们呢？我们一举一动都知道了，他们能得到百姓的帮助的缘故，因为②匪区(这是国民党对革命根据地的污蔑性称呼)的民众都是分了田地。(他们的)战术：一、麻雀阵；二、跳梁阵；三、两手撮合阵；四、钻山阵。”“他们要得我们的军情很容易，我们呢？一到什么地方，什么百姓都没看见”。“③我们走够了路程，然而剿匪(这是国民党对红军的污蔑性称呼)的结果是没打伤朱毛好多(很多)”。 “我们不晓得那天能转回武汉”，因为，对朱毛红军，“消灭恐怕无期”。

——中共江西省委党史研究室《江西党史资料》

材料三



A.1930年红军反剿匪胜利的捷报 B.红军政治部门口的标语 C.1931年苏维埃政府布告

(2) 分别指出材料二和材料三的史料类型。(2分)

(3) 不同类型的史料可以相互印证。材料二中标出了相关历史信息的序号①②③，从材料三找出可以印证相应历史信息材料。(只填写字母即可)(6分)

①	
②	
③	

(4) 综合上述材料，结合史实，说明为什么国民党军官认为“消灭朱毛红军恐怕无期”？(4分)





27. (16分) 晚清画报反映社会生活变迁

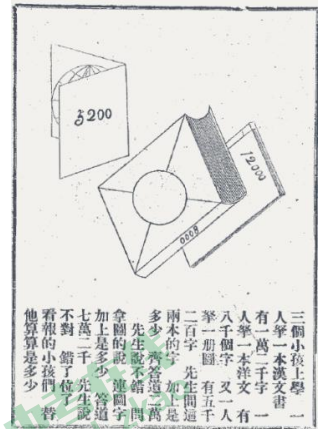
材料一 晚清画报是一种由西方传入并“以图像为中心”叙事的新型报刊。1884年创刊于上海的《点石斋画报》，由于采用了石印技术，使得画报在中国迅速推广。19世纪末至20世纪初，全国各地发行的画报有120多种。《申报》曾在《论画报可以启蒙》中写道：“上海自通商以后，取效西法，日刊日报出售，欲使天下之人咸知世务，法至善也。然中国识字者少，不识字者多，安能人人尽阅报章，亦何能人人尽知报中之事？于是创设画报，月出数册。或取古人之事，绘之以为考据；或取报中近事，绘之以广见闻。”

——摘编自陈平原《左图右史与西学东渐》等

(1) 阅读材料一，结合所学，分析19世纪末20世纪初晚清画报兴盛的原因。(6分)

材料二 1902年创刊的《启蒙画报》(1902-1904发行)是近代北京的第一份画报，其开设的部分栏目如下：

本国历史	本国地舆	各国新闻	家庭教育	格致述古
算率	算术	化理初阶	初级物理	物理
普通植物	动物情状	卫生术	教育精神	西事起原
博物小品	时闻	海国轶事	游戏格致	笑林



右图插画文字为：三个小孩上学，一人手一本汉文书有一万两千字，又一人手一本洋文有八千个字，又一人有一册图有五千二百字，先生问这两本的字加上是多少？齐答道两万。先生说不错，问拿图的说，这图字加上是多少？答道七万两千，先生说不对，错了位了，看报的小孩们，替他算算是多少？

——摘编自宋永林《北京近代第一份画报》等 《启蒙画报》插画

(2) 依据材料二，概括《启蒙画报》的特点。(6分)

材料三 画报作为一手史料，可以反映当时社会的变迁。右图为1907年北京《益森画报》所载的《厮役演说》。画中文字为：毛家湾某女学堂，每日下午，各学生家多来相接。一女生仆人，年五十余，在该堂门首对各家父兄及仆人演说“阅报之益”，津津有味，颇能动听。演说不奇，出自厮役则奇。



(3) 阅读材料三的图文信息，说说其所体现的社会变迁。(4分)