

2023 北京高中合格考政治 (第二次)



考 生 须 知	1. 考生要认真填写考场号和座位序号。 2. 本试卷共 11 页, 分为两部分。第一部分为选择题, 共 30 小题 (共 60 分); 第二部分为非选择题, 共 5 小题 (共 40 分)。 3. 试题所有答案必须填涂或书写在答题卡上, 在试卷上作答无效。第一部分必须用 2B 铅笔作答; 第二部分必须用黑色字迹的签字笔作答。 4. 考试结束后, 考生应将试卷和答题卡放在桌面上, 待监考员收回。
------------------	---

第一部分 (选择题 共 60 分)

本部分共 30 小题, 每小题 2 分, 共 60 分。在每小题列出的四个选项中, 选出最符合题目要求的一项。

中国共产党第二十次全国代表大会, 是在全党全国各族人民迈上全面建设社会主义现代化国家新征程、向第二个百年奋斗目标进军的关键时刻召开的一次十分重要的大会。回答 1~3 题。

1. 党的二十大对全面建成社会主义现代化强国两步走战略安排进行宏观展望, 科学谋划了未来 5 年乃至更长时期党和国家事业发展的目标任务和大政方针。这说明, 中国共产党

- ①是我国最高政治领导力量 ②总揽全局、协调各方
③是我国最高国家权力机关 ④勇于自我革命, 全面从严治党
- A. ①② B. ①④ C. ②③ D. ③④

2. 下列是党的二十大报告中部分带有“心”字的表述。

✧ 以人民为中心
我们深入贯彻以人民为中心的发展思想, 在幼有所育、学有所教、劳有所得、病有所医、老有所养、住有所居、弱有所扶上持续用力, 人民生活全方位改善。
✧ 守的是人民的心
江山就是人民, 人民就是江山。中国共产党领导人民打江山、守江山, 守的是人民的心。
✧ 暖民心
我们要实现好、维护好、发展好最广大人民根本利益, 采取更多惠民生、暖民心举措, 着力解决好人民群众急难愁盼问题。

这些表述共同说明

- ①我国发展不平衡不充分的问题已经得到彻底解决
②人民至上是中国共产党治国理政最鲜明的价值取向
③共产党员在不同的历史时期发挥先锋模范作用
④为民造福是我们党立党为公、执政为民的本质要求
- A. ①③ B. ①④ C. ②③ D. ②④

3. 党的二十大报告指出：“实践告诉我们，中国共产党为什么能，中国特色社会主义为什么好，归根到底是马克思主义行，是中国化时代化的马克思主义行。”对此，下列理解正确的是

- ①马克思主义是我们认识世界、改造世界的强大思想武器
- ②接续推进马克思主义中国化时代化是中国共产党的成功之道
- ③党坚持把马克思主义基本原理同中国具体实际相结合、同中华优秀传统文化相结合
- ④马克思主义是推动社会发展进步的强大物质力量

A. ①②③ B. ①②④ C. ①③④ D. ②③④

4. 某学习小组在一次研究性学习中搜集了以下资料。

- ✧ 1516年，英国人文主义者托马斯·莫尔发表《乌托邦》一书，描述了一个没有压迫、人人平等的理想社会。
- ✧ 1824年，英国思想家罗伯特·欧文出资在美国买下一块地，进行“新和谐公社”的共产主义新村实验。在当时的社会环境下，“新和谐公社”很快就宣告破产。
- ✧ 1848年2月，马克思、恩格斯共同撰写的《共产党宣言》发表。这部经典著作犹如黑暗中高擎起的一束火炬，照亮了人类前行的方向，改变了人类的历史进程。

据此推断，该小组本次的研究主题最有可能是

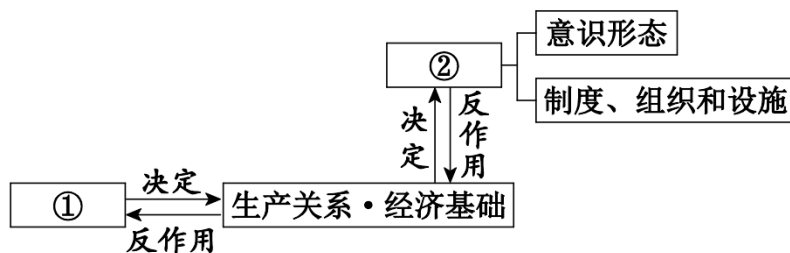
- A. 人类社会发展的—般历史进程 B. 社会主义由空想到科学的飞跃
- C. 社会主义从—国到多国的实践 D. 中国为什么选择社会主义道路

5. 中国特色社会主义进入新时代，是党的十八大以来对党和人民事业具有重大现实意义和深远历史意义的一件大事。中国特色社会主义进入新时代，意味着

- ①我国跨越社会主义初级阶段，进入世界发达国家行列
- ②中国特色社会主义道路、理论、制度、文化不断发展
- ③中华民族迎来了从站起来、富起来到强起来的伟大飞跃
- ④科学社会主义在二十一世纪的中国焕发出强大生机活力

A. ①②③ B. ①②④ C. ①③④ D. ②③④

6. 下图直观呈现了人类社会—般规律的内容。



下列选项与图中序号相对应的是

- A. 生产力 上层建筑 B. 经济体制 上层建筑
- C. 生产力 分配制度 D. 上层建筑 分配制度

7. 市场决定资源配置是市场经济的一般规律。在瞬息万变的经济生活中，能够反映供求状况及其变化的是

- A. 市场规则与秩序 B. 市场价格及其波动
C. 技术进步与创新 D. 科学管理与激励机制

8. 2022 年国庆期间，14 组立体花坛在长安街沿线亮相，营造出热烈、喜庆、欢乐的节日氛围。其中一组花坛（见右图）顶高 8.5 米，主景是货轮、中欧班列、纽带及四大经贸会标志（中国进出口商品交易会、中国国际服务贸易交易会、中国国际进口博览会、中国国际消费品博览会）。该花坛反映的主题是



- A. 实施创新驱动发展战略 B. 倡导绿色低碳生活方式
C. 推进更高水平对外开放 D. 实现全体人民同步富裕

9. 小吕的爸爸在一家国有企业工作，每月有工资，年终还有奖金。小吕的妈妈是一家股份制企业的管理人员，除工资外，持有的公司股票也有分红。家庭投资理财由妈妈负责，银行存款和国债都有收益。小吕一家人获得收入的途径有

- ①经营性收入 ②转移性收入 ③劳动性收入 ④财产性收入
A. ①② B. ①③ C. ②④ D. ③④

10. 在课程改革中，某校研发了农场课程，建设了劳动实践基地。在这里，学生春天种植花生、制作风筝，夏天管理农田、观察植物授粉，秋天制作月饼、体验葡萄酿酒工艺，冬天学习储藏蔬菜、制作腊八食物，等等。开设劳动课程



- ①是因为通过劳动获得直接经验可以替代书本知识的学习
②有利于培养学生正确的劳动价值观以及良好的劳动品质
③是培养全面发展的社会主义建设者和接班人的内在要求
④旨在让学生成长为国家建设事业中成绩卓著的劳动模范
A. ①② B. ①④ C. ②③ D. ③④

11. “不忘初心，方得始终。”党的初心和使命是党的性质宗旨、理想信念、奋斗目标的集中体现，越是长期执政，越不能忘记党的初心使命。中国共产党人的初心和使命是

- ①为中国人民谋幸福 ②发挥战斗堡垒作用
③为中华民族谋复兴 ④全面加强自身建设
A. ①② B. ①③ C. ②④ D. ③④

12. 我国宪法规定：“中华人民共和国是工人阶级领导的、以工农联盟为基础的、人民民主专政的社会主义国家。”这明确了我国的

- A. 政体 B. 国体 C. 经济制度 D. 政治体制

13. 一位民主党派前中央领导人说，多党合作好比是交响乐团，在作曲的时候，大家都可以提意见，各民主党派都应积极参与，最后公认由中国共产党博采众长来定谱。此外，乐团里的演奏家各有专长，各有专职，但要奏出和谐、动听的乐曲，关键是要有一个统一的指挥，这个指挥就是中国共产党。这表明中国共

产党与民主党派是

- ①执政党与参政党的关系
- ②执政党与在野党的关系
- ③通力合作的亲密友党关系
- ④监督与被监督的关系

- A. ①③ B. ①④ C. ②③ D. ②④

14. 某校学生准备到基层群众性自治组织开展社会调查。下列最适宜作为调查对象的是

- ①居民委员会
- ②村民委员会
- ③物业公司
- ④街道办事处

- A. ①② B. ①③ C. ②④ D. ③④

15. 近些年来，从“教育资源地图”到“养老服务地图”，从“办税服务地图”到“空气质量地图”，经过不断创新探索，今天的“北京 12345 服务导图”已经成为涵盖 24 大类 138 个图层的“民生地图”，直观展示包含医疗卫生、文体旅游、交通管理、民政事务等政府部门掌握的公共服务点位信息，让市民查询更快捷。一个个新增的“民生地图”表明

- ①中国特色社会主义法治体系更加完善
- ②新技术助力政府的便民服务不断升级
- ③国家把更多管理权交给社会和人民
- ④超大城市精细化治理水平持续提高

- A. ①② B. ①③ C. ②④ D. ③④

16. 脱贫摘帽不是终点，而是新生活新奋斗的起点。北京市第九批支援西藏团队 2019 年进藏以来，集中力量办大事、办实事、办成事，高质量开展援藏工作，三年来累计投入资金 13.44 亿元，实施各类援藏项目 210 个，在推动产业发展的同时进一步保障和改善民生。高质量开展援藏工作有利于

- ①保证西藏享有依法管理地方财政的自治权
- ②为西藏发展注入新活力，让群众生活更幸福
- ③促进各民族共同团结奋斗、共同繁荣发展
- ④推动民族地区发展，增强中华民族凝聚力

- A. ①②③ B. ①②④ C. ①③④ D. ②③④

17. 法律体现统治阶级的意志，是实现国家职能的工具。关于法，下列表述正确的是

- ①法反映的是国家每个公民的利益诉求
- ②有法的国家就是法律体系完备的国家
- ③法是由国家制定或认可的社会规范
- ④法能够维持社会秩序调整社会关系

- A. ①② B. ①④ C. ②③ D. ③④

18. “法非从天下，非从地出，发于人间，合乎人心而已。”基层立法联系点在发展全过程人民民主中应运而生、蓬勃发展，它一头连着立法机关，一头连着基层群众，倾听来自基层的声音，回应民众的期待，极大地推动了基层群众参与立法的深度和广度，使立法更接地气、更具实效。基层立法联系点的设立

- ①是完善科学立法机制的重要举措
- ②能够调动公民参与立法的积极性
- ③可以确保司法机关独立行使职权
- ④充分保障了公民依法行使立法权



- A. ①② B. ①④ C. ②③ D. ③④

19. “毋坏室，毋填井，毋伐树木，毋动六畜。有不如令者，死无赦。”周文王颁布的这条《伐崇令》，被誉为世界上最早的环境保护法令。我国古代很早就专门设立掌管山林川泽的机构，制定政策法规，后来不少朝代也都有保护自然的律令并对违令者重惩。这

- ①佐证了法治在我国古代就是基本的国家治理方式
②表明我国尊重自然、保护生态的理念由来已久
③对我们依法推进生态文明建设具有借鉴意义
④说明完善的政策法规能够自动发挥约束作用

- A. ①③ B. ①④ C. ②③ D. ②④

20. 我国古人对浩瀚的宇宙充满遐想，留下了许多浪漫的神话故事。新中国成立后，随着航天事业的飞速发展，中国人一步一个脚印地触摸更高更远的太空。“天宫”空间站、“嫦娥”奔月、“祝融”探火、“羲和”探日……许多远古神话在航天探索中变成现实。这说明

- A. 神话作为意识，是在人的头脑中自生的
B. 通过实践，才有可能把神话变成现实
C. 远古神话是推动航天科技创新的基础
D. 人们的神话遐想直接创造出现实世界

21. 哥白尼堪称哲学家，因为他提出太阳是宇宙的中心，地球是绕太阳运转的一颗普通行星；达尔文堪称哲学家，因为他提出了自然选择学说；爱因斯坦堪称哲学家，因为他提出了相对论，发现了经典力学体系的局限性。这些科学家之所以堪称哲学家，是因为他们


- A. 让人们更接近对世界本质和规律的认识
B. 正确解决了人类社会的基本矛盾
C. 研究的对象和范畴与哲学完全相同
D. 概括总结出全部的自然科学知识

22. 海绵城市体现了新一代城市雨洪管理理念。人们可以让城市像海绵一样，下雨时吸水、蓄水、渗水、清水，需要将蓄存的水“开释”并加以使用，从而提高城市生态系统功用和减少城市洪涝灾害的发生。建设海绵城市

- A. 可改变水循环规律更好造福人类
B. 是促进人与自然和谐共生的有益探索
C. 需抛弃以往城市建设的所有做法
D. 要把个人的主观需要作为根本出发点

23. 下列做法中，与右侧漫画寓意一致的是

- ①充分重视外部条件对个人发展的决定作用
②反对固步自封，勇于解放思想、与时俱进
③秉持开放包容心态，在交流互鉴中求发展
④敢于承认矛盾，寻找正确的方法消除矛盾



A. ①③ B. ①④

C. ②③ D. ②④

24. “勿以善小而不为，勿以恶小而为之。”这句古训体现的哲理是

- A. 事物的量变可以引起事物的质变
- B. 事物发展是前进性与曲折性的统一
- C. 矛盾的普遍性和特殊性相互联结
- D. 运动是物质固有的根本属性和存在方式

25. 在实践探索中，我们党对政府和市场关系的认识经历了以下过程。

党的十四大提出，使市场在社会主义国家宏观调控下对资源配置起基础性作用。

党的十五大提出，使市场在国家宏观调控下对资源配置起基础性作用。

党的十六大提出，在更大程度上发挥市场在资源配置中的基础性作用。

党的十七大提出，从制度上更好发挥市场在资源配置中的基础性作用。

党的十八大提出，更大程度更广范围发挥市场在资源配置中的基础性作用。

党的十九大提出，使市场在资源配置中起决定性作用，更好发挥政府作用。

党的二十大提出，充分发挥市场在资源配置中的决定性作用，更好发挥政府作用。

这表明


- ①认识在实践基础上不断拓展和深化
- ②真理是具体的、有条件的
- ③科学理论对改革实践具有决定作用
- ④社会意识与社会存在的变化完全同步

A. ①② B. ①④ C. ②③ D. ③④

26. 在实际生活中，学生要面对和处理自己的学习计划与学习实际之间的关系，教师要面对和处理自己的教学计划与教学实际之间的关系，农民要面对和处理耕作收获的计划与耕作收获的实际之间的关系，医生要面对和处理处方与病情之间的关系。以上共同涉及的哲学问题是

- A. 必然与偶然的的关系问题
- B. 主流与支流的关系问题
- C. 思维和存在的的关系问题
- D. 整体和部分的的关系问题

27. 在中国画创作中，“留白”指为了使整个作品更为协调精美而有意留下空白，于方寸之地显天地之宽。如南宋马远的《寒江独钓图》（见右图），画中只见一叶尾艄微微上扬的小舟、一个垂钓渔翁、几笔水波，却让人有烟波浩渺、满幅皆水之感。



由此可见，“留白”的奥妙在于

- ①虚实结合，营造无画胜有画的意境
- ②化繁为简，只关注画作的局部构图
- ③有无相生，使画作的气韵更加生动
- ④以少胜多，可以随意减少描绘对象

A. ①② B. ①③ C. ②④ D. ③④

28. 中医认为感冒是风邪外袭，肺气失宣所致，大体可以分为风热型和风寒型。

	风热型	风寒型
症状	发热重、恶寒轻，表现为头胀痛、咽痛、	发热轻、恶寒重，表现为头痛、四肢酸痛、鼻塞流涕等。

	咳吐黄痰等。	
用药	双黄连口服液、银翘解毒颗粒等	感冒清热颗粒、感冒软胶囊等

治疗感冒需要对症下药。这其中蕴含的哲理是

- A. 矛盾具有普遍性 B. 矛盾具有特殊性
C. 矛盾具有同一性 D. 矛盾具有斗争性

29. 元代，丝绸之路商贸往来频繁，阿拉伯地区盛产的钴料进入中国，配合景德镇的高岭土，色泽明丽的青花瓷器诞生了。珍藏在北京故宫博物院的“明正德青花仰钟式碗”（见右图）就是一种以缠枝花衬托阿拉伯文作为装饰纹样的官窑青花瓷器。对此，下列理解正确的是



明正德青花仰钟式碗

- A. 不同时代的文化决定不同时代的经济和政治
B. 求同存异、取长补短能实现文化的趋同发展
C. 全盘继承传统文化是文化发展的必要前提
D. 文化交流和交融推动了本民族文化的发展

30. 中国人民抗日战争纪念馆打造“行走的党史课”，一幕幕经典时刻通过表演、讲解等形式在展厅内呈现；李大钊故居推出沉浸式演出《播火者》，真实的历史场景把人们带回激情澎湃的革命岁月……近年来，北京全面系统挖掘、保护利用“红色宝藏”，推动“红色+”创新发展，着力打造红色文化精神高地。上述举措有利于

- ①培育和践行社会主义核心价值观 ②不断提高社会成员的科学素养
③推动红色资源在创新发展中“活起来” ④增强革命文化和爱国主义的教育成效
A. ①②③ B. ①②④ C. ①③④ D. ②③④

第二部分（非选择题 共 40 分）

本部分共 5 小题，共 40 分。

31.（6 分）

某班同学设计了一期“为祖国点赞”的主题板报。

<p>中国民主革命的伟大先驱孙中山先生，在从事紧张的革命活动的过程中，一直思考着建设中国的问题。1917 年到 1919 年，他写出《建国方略》一书，构想了中国建设的宏伟蓝图，显示了他对中国发展的卓越见解和强烈期盼。当时，有的外国记者认为这些设想完全是一种空想，是不可能实现的。</p>	为 祖 国 点 赞	<p>今天，在中国共产党的领导下，中国人民创造的许多成就远远超出孙中山先生的设想。祖国大地上，铁路进青藏，公路密成网，高峡出平湖，港口连五洋，产业门类齐，稻麦遍地香，神舟遨太空，国防更坚强。孙中山先生致力于建设的独立、民主、富强的国家已经巍然屹立在世界的东方。</p>
---	-----------------------	--

结合板报内容，运用《中国特色社会主义》知识，说明孙中山先生当年提出的建设蓝图为什么能够在今天的中国变成现实。

32. (6分)

大学毕业生小张想办一家能同时销售书籍和咖啡的“咖啡书吧”。有业内朋友提醒她：“办手续挺麻烦的，书店要想搭载餐饮，得办下营业执照、出版物零售许可证、食品经营许可证、公共卫生许可证，需要跑不同的政府部门，都办下来要花很长一段时间。”

为了熟悉办事流程，小张进行了电话咨询，得知政府现在正推进“一件事一次办”改革，开办带有餐饮功能的书吧，以前的多张证照已经整合为一张行业综合许可证，需要提交的材料也大大减少，只要准备好材料，一次就能把许可证办下来。

小张按要求准备好材料，来到政务服务大厅，当天就拿到了行业综合许可证。

结合材料，说明政府推进“一件事一次办”改革的积极影响。

33. (6分)

国有企业是中国特色社会主义经济的“顶梁柱”。2017年至2021年，北京国有资产系统坚持党建引领，国企改革不断向纵深推进，在推动首都经济社会发展中交出以下答卷。

- ✦ 2021年，市管实体企业资产总额突破6.5万亿元、年度营业收入超2万亿元、利润总额1323.8亿元，均创历史新高，与2017年比较，营业收入增长34.5%，利润总额增长47.7%。
- ✦ 研发投入年均增速超过10%，累计打造近500个创新平台、78家创新孵化载体，获得科技奖项近700项，突破了一批“卡脖子”技术。
- ✦ 主动服务国家战略，积极参与京津冀协同发展和北京城市副中心建设，坚决落实脱贫攻坚任务，推动实施乡村振兴战略等。
- ✦ 高质量完成庆祝新中国成立70周年和建党100周年、北京冬奥会和冬残奥会等一系列重大活动服务保障任务；有力保障城市水电气热平稳运行，全力为抗击新冠肺炎疫情贡献力量。
-

运用《经济与社会》知识，请你对国有企业交出的答卷进行评价。

34. (6分)

无论什么年代，在不同行业和领域中，总有这样一群人，他们只问耕耘，不问收获。

- ✦ 红原，红军长征经过的草原，泥潭密布，气候无常，被称为陆上“死亡之海”。在艰苦卓绝的长征途中，无数战士长眠于此，他们没能跟随队伍走下去，却用生命换来了新中国的建立。
- ✦ “备份航天员”，是指那些数年坚持刻苦训练，却没有执行过飞天任务的航天员。在逐梦星辰大海的历程中，他们没有机会出征太空，但无疑也是航天英雄。
- ✦ 自1984年中国重返奥运赛场后，许多奥运冠军及其事迹都会出现在各大媒体中。在鲜花和掌声背后，也有一群人——运动员们的陪练，他们用付出和坚持，托举起一个又一个冠军，为体育事业的蓬勃发展默默奉献。

结合材料，从哲学角度，谈谈“只问耕耘，不问收获”对我们个人成长的启示。

35. (16分)

某校高二年级同学参观了以“迈向中华民族伟大复兴的大国首都”为主题的《北京城市总体规划(2016年—2035年)》实施成果展(2021年版)。大家透过数据、照片和模型,从8个方面了解了相关成果(见下图)。请你参与其中,与同学们共同探讨下列问题。

	<ul style="list-style-type: none"> 落实首都城市战略定位 有序疏解非首都功能 科学配置资源要素 加强历史文化名城保护 提高城市治理水平 加强城乡统筹 深入推进京津冀协同发展 保障规划实施
---	--

材料一 2017年,《北京城市总体规划(2016年—2035年)》获得党中央、国务院批复。北京市委市政府高度重视,精心组织,确定了第一阶段的102项重点任务,举全市之力,以钉钉子精神抓好规划的组织实施。市人大持续监督总体规划的贯彻实施,修订实施了《北京市城乡规划条例》等多部地方性法规,全力推动城市总体规划落地实施。截至2021年底,总体规划实施第一阶段目标已全面完成,落实城市战略定位和首都高质量发展取得丰硕成果。

(1) 结合材料一,运用《政治与法治》知识,简析北京推进城市总体规划落地实施取得丰硕成果的原因。(6分)

材料二 北京是全国第一个实现减量发展的超大型城市。在“落实首都城市战略定位”展区,同学们看到了一系列展示北京“减量瘦身”成果的数据。

在城市功能的“量”上做减法	谋求发展势能“质”的提升
<ul style="list-style-type: none"> ◎ 2021年,城六区常住人口较2014年下降15%;城乡建设用地规模较2016年净减量约110平方公里。 ◎ 2017年以来,累计退出一般制造业企业1819家,治理散乱污企业7179家,疏解提升区域性市场和物流中心632个。 	<ul style="list-style-type: none"> ◎ 2020年全员劳动生产率、地均产出较2015年分别提高34%和54%。 ◎ 2021年全市战略性新兴产业和高技术产业对经济增长贡献超5成。 ◎ 森林覆盖率由2015年的41.6%提高到2021年的44.6%。

(2) 结合材料二,运用《经济与社会》知识,说明北京是如何谋求经济高质量发展的。(5分)

材料三 一线中轴，承古通今，中轴线是北京老城的灵魂与脊梁。在“加强历史文化名城保护”展区，同学们不仅看到中轴线申遗保护的成果，还得知《北京中轴线文化遗产保护条例》已于2022年10月1日起正式施行。



该条例在坚持保护优先的前提下，规定了多种传承利用中轴线文化遗产的措施。例如，推动不可移动文物、历史建筑向公众开放；鼓励学校开展相关教育教学活动；

鼓励保护区域内居民开展民俗文化活动；促进中轴线保护和旅游融合发展；等等。

通过参观学习，同学们认识到，对于中轴线文化遗产，合理利用是最好的保护。

(3) 结合材料三，运用《哲学与文化》知识，谈谈你对“合理利用是最好的保护”的理解。(5分)

参考答案

第一部分（选择题 共 60 分）

本部分共 30 小题，每小题 2 分，共 60 分。

1. A 2. D 3. A 4. B 5. D
6. A 7. B 8. C 9. D 10. C
11. B 12. B 13. A 14. A 15. C
16. D 17. D 18. A 19. C 20. B
21. A 22. B 23. C 24. A 25. A
26. C 27. B 28. B 29. D 30. C

第二部分（非选择题 共 40 分）

本部分共 5 小题，共 40 分。

31.（6 分）

评分观察视角：能够准确运用中国共产党的领导，中国特色社会主义道路、理论、制度、文化等相关知识分析。

水平等级	水平描述
水平 4	知识运用准确，紧扣问题展开分析，条理清晰
水平 3	知识运用比较准确，能扣住问题展开分析，有条理
水平 2	知识运用不够准确，或单纯罗列知识，条理性较差
水平 1	答非所问，观点错误，或没有应答

示例：

今天的中国能够实现孙中山先生当年提出的建设蓝图，其根本原因是，中国共产党带领全国人民，开辟了中国特色社会主义道路，形成了中国特色社会主义理论体系，确立了中国特色社会主义制度，发展了中国特色社会主义文化。

32.（6 分）

政府推进“一件事一次办”改革，推动政务服务升级，有助于加快转变政府职能，建设智能高效、人民满意的服务型政府，持续改善营商环境，激发市场主体的发展活力，更好满足群众办事需求，增强群众的获得感。

33.（6 分）

国有企业是中国特色社会主义的重要物质基础和政治基础，是我们党执政兴国的重要支柱和依靠力量。北京国企全面深化改革，推动科技创新，国有经济质量效益不断提升，服务国家战略，保障重大活动，助力改善民生，是推动首都经济社会发展、保障人民共同利益的重要力量。

34.（6 分）

评分观察视角：能够准确运用坚持正确价值观、价值判断与价值选择、价值的创造和实现、联系的观点、发展的观点等知识展开分析。

水平等级	水平描述
水平 4	知识运用准确，紧扣问题展开分析，条理清晰
水平 3	知识运用比较准确，能扣住问题展开分析，有条理
水平 2	知识运用不够准确，或单纯罗列知识，条理性较差
水平 1	答非所问，观点错误，或没有应答

示例：

“只问耕耘，不问收获”启示我们，伟大寓于平凡的坚守、成于默默的奉献。在个人成长中，我们要树立正确的价值观，锤炼品德修为，淡泊名利，在奉献祖国、服务人民的实践中实现价值，在砥砺自我、持之以恒的奋斗中创造价值，勇于担当时代使命，为实现中华民族伟大复兴作出贡献。

35.（16分）

（1）坚持中国共产党的领导，是总体规划实施取得成果的根本政治保证。市政府依法积极履行职责，确定阶段任务，抓好规划的组织实施。市人大行使监督权，依法做好规划实施情况监督，修订实施地方法规，为总体规划实施提供法治保障。

（2）北京坚定不移贯彻新发展理念，以科技创新为经济增长赋能，持续扩大绿色空间和生态容量，不断优化首都功能，加快建设具有首都特点的现代化经济体系，不断满足人民日益增长的美好生活需要。

（3）文化遗产是不可再生的优秀文明成果。对待文化遗产，应坚持保护与利用的辩证统一。保护是对文化遗产的敬畏，是利用的前提，而利用有助于让文化遗产“活起来”。传承并合理利用中轴线文化遗产，能够保持中轴线的生命力，使其更好发挥传承文化、启迪思想、推动发展的作用。