



地 理

本试卷共 8 页，共 100 分，考试时长 60 分钟。考生务必将答案写在答题卡上，在试卷上作答无效。考试结束后，将本试卷和答题卡一并交回。

第一部分(选择题，共 50 分)

本部分共 25 小题，每小题 2 分，共 50 分。在每小题列出的四个选项中，选出最符合题目要求的一项。

六胜塔位于 $118^{\circ} 43' E, 24^{\circ} 48' N$ ，为历史上东方第一大港(刺桐港)、海上丝绸之路上的第一座灯塔，刺桐港曾是郑和船队停泊和补给的基地。该塔高 36.06 米，是一座典型的元代石塔，作为航标，其堪称世界航海史上的一绝。读图 1，完成 1-5 题。

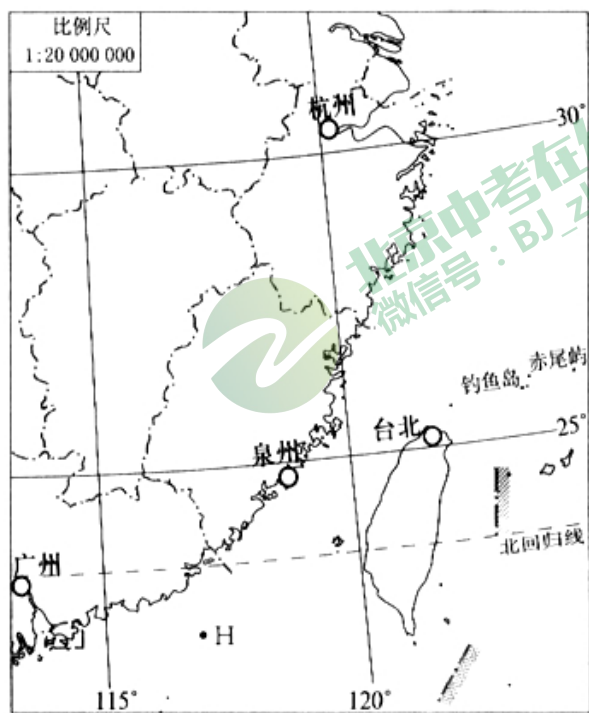


图 1



六胜塔

1 一般而言，塔越高，航标的功能就发挥得越好。其主要影响因素为

- A. 地球大小
- B. 地球形状
- C. 地球自转
- D. 地球公转

2. 六胜塔所在省区的简称是

- A. 粤
- B. 闽
- C. 台
- D. 浙

3. 刺桐港直接濒临的水域是

- A. 南海
- B. 黄海
- C. 太平洋
- D. 台湾海峡

4. 若郑和船队从此港出发，驶向图中的 H 地，其行进的方向为

- A. 东北方向
- B. 西北方向

- C. 东南方向 D. 西南方向

5. 郑和船队从刺桐港出发到达H地，若船速为10千米/小时，其所用时间为

- A. 20小时 B. 36小时
C. 40小时 D. 48小时



2018年10月6日，小亮与家人一起去天安门观看升旗仪式。他预先查阅资料，连续记录了三天的日出、日落及昼长时间。结合表1，完成6,7题。

表1

日期	日出时间	日落时间	昼长
2018年10月4日	6时13分	17时53分	11时40分
2018年10月5日	6时14分	17时51分	11时37分
2018年10月6日	6时15分	17时50分	11时35分

6. 小亮观看升旗仪式期间，北京

- A. 昼短夜长 B. 昼长夜短
C. 自昼逐渐变长 D. 日落时间逐渐变晚

7. 观看升旗这天，下列说法正确的是

- A. 太阳光线直射点位于北半球 B. 太阳光线直射赤道
C. 太阳光线直射北回归线 D. 太阳光线直射点位于南半球

图2是家住北京的小伟家的户型图。读图，完成8,9题。

8. 主卧的面积(不含阳台)约为

- A. 10.1平方米
B. 12.1平方米
C. 16.1平方米
D. 18.1平方米

9. 该房屋的采光条件较好，主要是因为

- A. 客厅和次卧面积大
B. 主卧和厨房均朝南
C. 客厅和主卧均朝南
D. 厨房和次卧布局合理

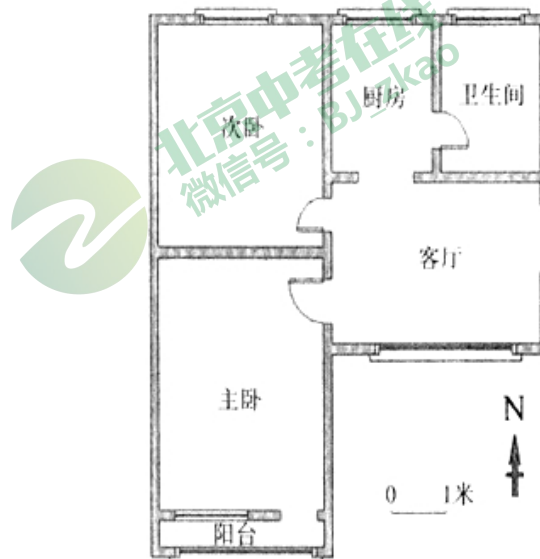


图2

日出高原，牛满山坡。家是玉麦，国是中国。卓嘎和央宗两姐妹就像格桑花一样，盛开在雪域边陲，用行动书写了对祖国的热爱。读图3，完成10,11题。



图 3

10. 卓嘎和央宗所生活的地区位于

- A. 青藏高原
- B. 东北平原
- C. 准噶尔盆地
- D. 东南丘陵

11. 卓嘎和央宗两姐妹所属的民族是

- A. 高山族
- B. 藏族
- C. 蒙古族
- D. 回族

为迎接北京冬奥会的到来，众多的爱好者投身到冰雪运动中。图 4 为某地区等高线(单位:m)分布图。读图，完成 12-14 题。

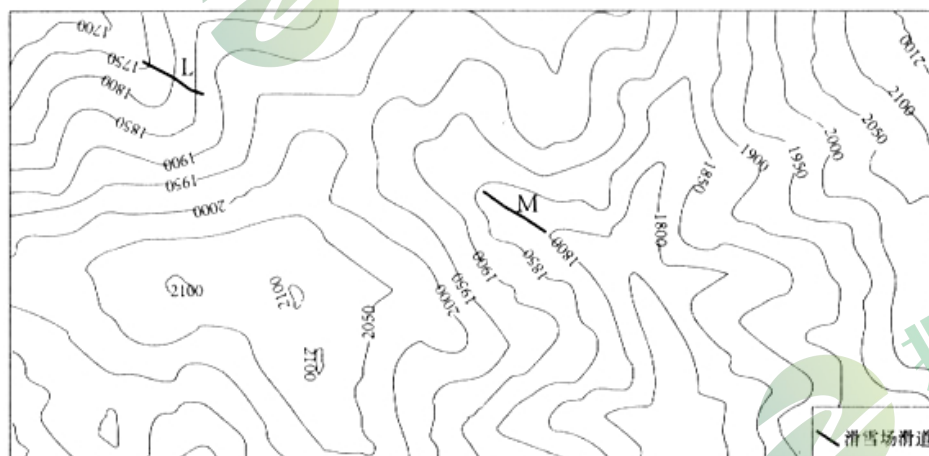


图 4

12. 图示区域，所属的地形类型为

- A. 盆地
- B. 高原
- C. 平原
- D. 山地

13. 图示地区，滑雪场滑道所处的地形部位及其主要原因

- A. 山脊、滑行速度快
- B. 陡崖、凶险刺激
- C. 山谷、降雪易堆积
- D. 山顶、视野开阔

14. 图中两滑道

- A. L, 滑道适合初级滑雪者，因为其雪质较好
- B. M 滑道适合中高级滑雪者，因为其风速较大
- C. L 滑道适合中高级滑雪者，因为其坡度较小

D. M滑道适合初级滑雪者，因为其坡度小、较安全

2012年7月29日，因连续降雨，使得太原一旧关高速公路的部分路段出现险情。上午10时，太旧方向415千米处出现山体滑坡。事发后，交警果断采取交通管制措施，确保了塌方路段的交通安全管控。22时许，事发路段恢复畅通。根据材料，完成15、16题。

15. 造成此次滑坡的原因，最有可能的是

- A. 该地发生了地震导致滑坡
- B. 连续大雨导致滑坡现象
- C. 该建设项目是标准的“豆腐渣工程”
- D. 台风的影响导致洪水冲垮路基

16. 关于对该事件处理的措施，正确的是

- ①立即抢修路面，保证交通畅通
- ②启用交通应急预案，疏导公路交通
- ③查找塌陷原因，然后再整修路面
- ④废弃该公路，重建一条新的高速公路

- A. ①②
- B. ②③
- C. ③④
- D. ②④

图5为2010年我国四个省区面积和人口数量统计图。读图，完成17、18题。

17. 四省区人口密度最大的是

- A. 广东省
- B. 新疆维吾尔自治区
- C. 河南省
- D. 西藏自治区

18. 该图反映了我国人口

- A. 基数大
- B. 增长速度快
- C. 老龄化严重
- D. 地区分布不均匀

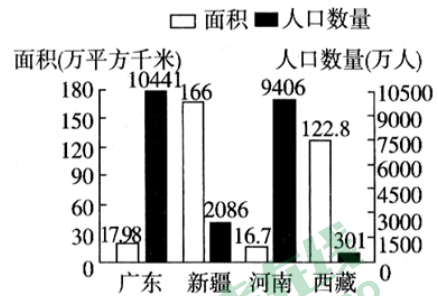


图5

2018年9月1日，伴随着连日的降水，内蒙古的根河市已开始陆续供暖。此时的北京秋意渐浓。读图6，完成19、20题。

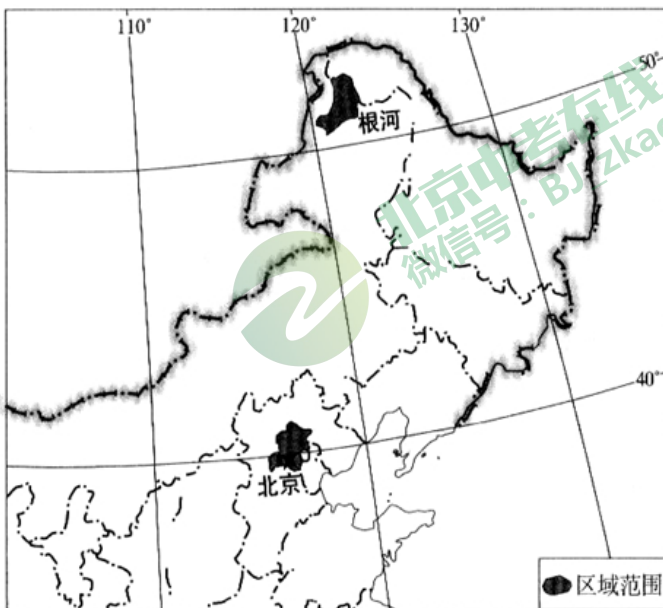


图6

19. “你在北京汗流满面露着腰，我在根河烤着暖气吃雪糕。”这句话描述的是两地的

- ①气温差异 ②降水差异 ③气候差异 ④天气差异

- A. ①③ B. ②③ C. ①④ D. ②④

20. 影响北京和根河两地气候差异的主要因素是

- A. 海陆位置 B. 纬度位置
C. 海拔高低 D. 面积大小

长江是我国第一大河。图7为长江流域图。读图，完成21、22题。

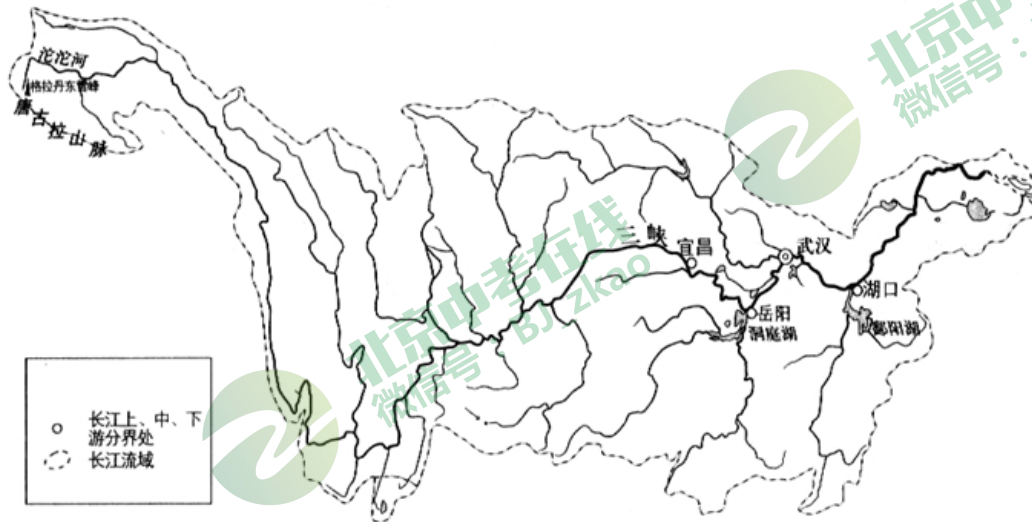


图7

21. 《长江之歌》中唱道“你从雪山走来，……”这里的“雪山”是指

- A. 祁连山 B. 喜马拉雅山
C. 唐古拉山 D. 昆仑山

22. 长江干流横贯东西，支流分列南北，江阔水深，终年不冻，利于发展

- A. 灌溉 B. 航运
C. 发电 D. 养殖

“海绵城市”就是使城市像“海绵”一样，在雨季时增强对水的“吸收、存蓄、渗透、净化”功能，而在干旱缺水时可将水“释放”出来加以利用。读图8，完成23-25题。

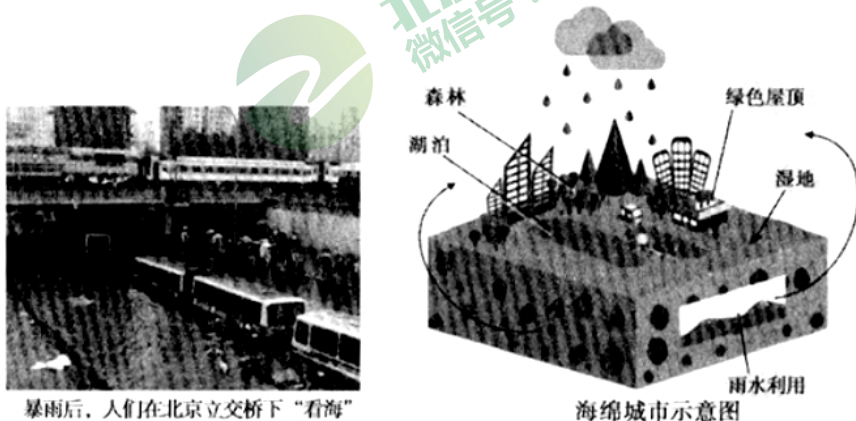


图8

23. 水资源属于

①可再生资源 ②不可再生资源③自然资源④气候资源

A. ①② B. ①③ C. ②④ D. ③④



24. “海绵城市”的建设符合北京的自然环境特征，即北京

A. 夏季多雨，冬季干燥 B. 雨季较长，降水较大
C. 地处平原，河湖众多 D. 人口多，水资源匮乏

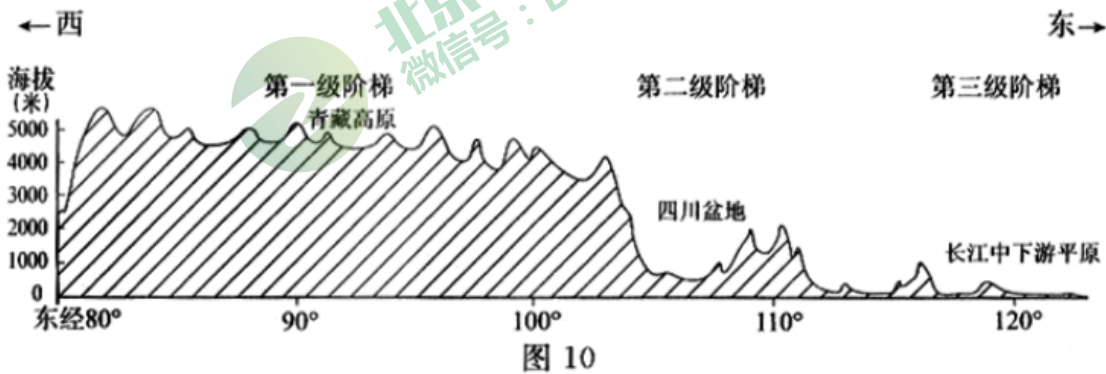
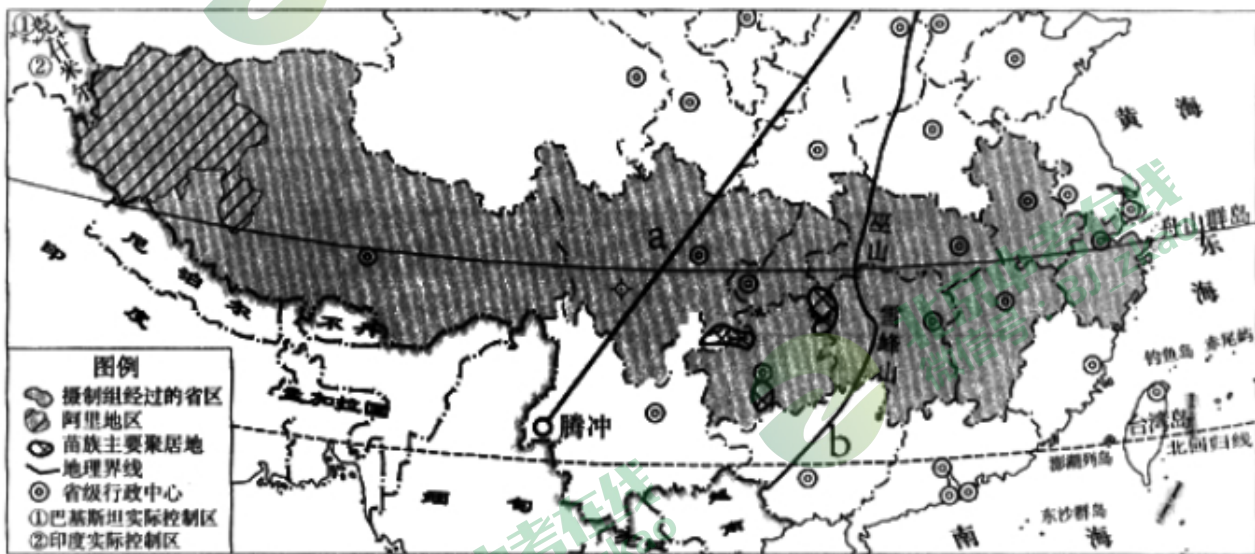
25. 为了雨季不再“看海”，北京建设“海绵城市”的主要举措有

①屋顶绿化②铺装透水砖③保护森林，增加绿地
④提高水价⑤家庭节约用水⑥增加湿地和水域面积

A. ①②③④ B. ①②③⑥ C. ①②④⑤ D. ③④⑤⑥

第二部分(非选择题，共 50 分)

26. 中央电视台《北纬 30°·中国行》摄制组，从浙江舟山群岛出发，向西一直抵达西藏的阿里地区。途经 9 省区，总行程超过 2 万千米。所拍节目展示了中国北纬 30° 沿线的自然光、历史文化、民俗风情和社会发展在内的全景式图画。读图 9 和图 10，回答下列问（15 分）



(1) 节目摄制组的出发地浙江舟山群岛，其所属的水域名称是_____，阿里地区濒临的 国家是 _____。(选择填空)(2 分)

- ①克什米尔地区 ②巴基斯坦 ③印度 ④尼泊尔 ⑤不丹 ⑥缅甸

- A. ①③⑤ B. ②③④ C. ②④⑥ D. ①④⑤



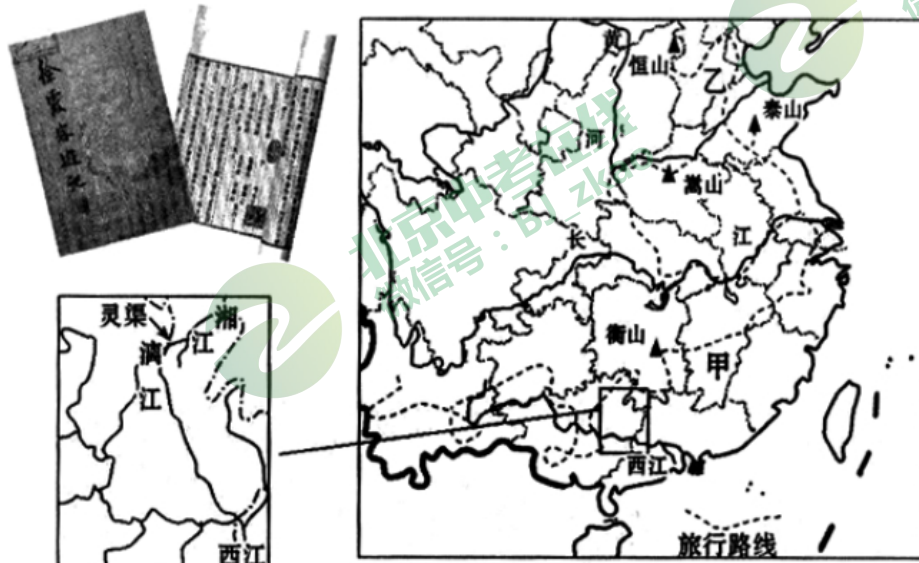
(2) 摄制组的行程印证了我国是_____ (海洋大国/陆地大国/海陆兼备) 的国家。(1分)

(3) 摄制组经过的省区中，为苗族主要聚居地省级行政单位的简称为_____。(1分)

(4) 图 10 是沿着北纬 30° 纬线绘制的我国地形剖面图。从图中可以看出：该摄制组自东向西依次经过了我国地势第_____级阶梯上的_____平原，地势第二级阶梯上_____的盆地和地势第级阶梯上的高原。由此可知，我国自然环境中的地势基本特点是_____、_____。(7分)

(5) 我国地势的特点，对我国气候和河流产生了重大影响。从中任选其一，做出简要的评价。(4分)

徐霞客是我国著名的地理学家和旅行家，是研学旅行的鼻祖，他为后人留下的《徐霞客游记》是不可多得的地理学巨著。读图 11，回答下列问题。(11分)



徐霞客部分旅行路线示意图

图 11

(1) 徐霞客游历数十载，行遍大半个中国。从图中看，徐霞客最西曾到过的省级行政单位是_____，其简称为_____。曾考察过地形类型为_____的甲地；考察过温度带为_____带的乙地。(4分)

(2) “单装徒步，行十万余里”体现了徐霞客坚忍不拔的品质。在整个旅行路线中，除徒步跋涉外，他还必须借助的一种交通工具是_____。(1分)

(3) “盖此从立之峰……磅礴数千里，为西南奇胜……”，该段游记描述的地形区特征是_____。(选择填空)(1分)

- A. 远看是山，近看是川 B. 地势平坦，一望无际
C. 千沟万壑，支离破碎 D. 暗河溶洞，地表崎岖

(4) 徐霞客澄清了沿用千年之久“岷山导江”的误解，肯定金沙江是_____的上游河段。(1分)

(5) 在考察广西灵渠时，他指出其“西注为漓，又东浚湘支”，从中可推断灵渠沟通的两大水系是_____和_____。(选择填空)(2分)

- A. 淮河水系 B. 黄河水系 C. 长江水系 D. 珠江水系

(6) 《徐霞客游记》中还有对各地矿产的记述。其中写道，“山皆煤炭，不深凿即可得”，该地区少数民族风俗的有_____。(选择填空)(1分)

- A. 那达慕大会 B. 雪顿节 C. 泼水节 D. 元宵节



28. 黄河是中华民族的母亲河。某中学生利用暑假对其进行了考察。读图 12, 回答下列问题。(12 分)

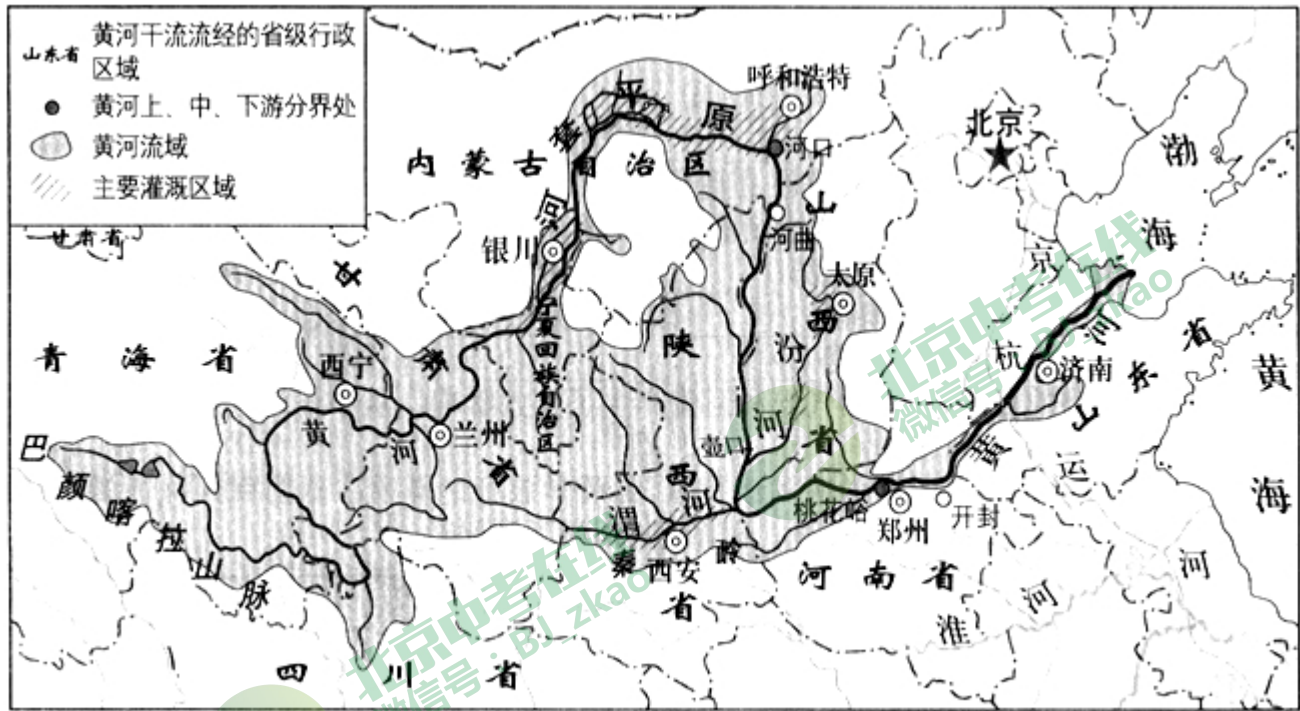



图 12

(1) 考察前, 他通过查阅资料了解到: 黄河发源于青海省_____山脉北麓, 曲折东流。注入_____海。其上游与中游分界点是_____, 中游与下游分界点是_____。(4 分)

(2) 从入海口至桃花峪, 黄河流经了_____ (地形区名称)。在考察时, 他常见的景观是_____。(选择填空)(2 分)



(3) 沿河考察时, 先后到达了黄河沿线的主要省会城市: 兰州、西安、郑州、济南。其对应省区简称正确的一组是_____。(选择填空)(1 分)

- A. 甘、件、陕、豫 B. 甘、秦、豫、鲁
C. 豫、鲁、甘、秦 D. 陕、甘、鲁、豫

(4) 考察黄土高原时, “我家住在黄土高坡, 大风从西北刮过……”的歌词, 让我认识了该区地形区的特点是_____、气候特点是_____。(选择填空)(2 分)

- A. 雪山连绵, 冰川广布 B. 支离破碎, 沟壑纵横
C. 干旱, 多风 D. 夏季炎热, 降水稀少

(5) 下面是该中学生沿途考察的记录, 请找出其中的错误之处, 直接抄写在答题卡相应的位置上。(3 分)

7 月下旬, 我踏上了黄河考察之旅。在黄河三角洲湿地, 我看到了成千上万只东方白鹤、天鹅、大雁、野鸭等候鸟。逆流而上, 在开封附近见到了“地上河”景观。继续前行, 在晋陕峡谷, 目睹了壶口瀑布的恢宏气势。由于这里水能丰富, 正在建设龙羊峡水电站。由于降水多以暴雨出现, 加上人为因素, 植被进到严重破坏, 高原面上

的泥土大量进入黄河，从河水颜色看，这一河段堪称真正的“黄”河。走进宁夏平原，看见这里水稻长势喜人。当地老乡说，该河段冬春季时有流凌出现，易出现凌汛等地质

灾害。

29. 改革开放四十年来，我国的航天事业取得了巨大成就。图 13 为我国目前四大航天发射基地：酒泉(40. 9° N, 100. 1° E)、西昌(28. 2° N, 100° E)、太原(38. 9° N, 111. 6° E 文昌)(19. 3° N, 109. 8° E)主发射场分布图。读图 13，完成下列问题。(12 分)



图 13

- (1) 图中的酒泉航天发射基地的主发射场位于我国的_____省区。(1 分)
- (2) 四个航天基地中，纬度最高的是_____，地处热带的是_____。西昌发射基地位于北京的_____方向。(3 分)
- (3) 同一天，文昌比西昌看到日出要早，这主要是由于地球的_____ (自转/公转)运动造成产生的。(1 分)
- (4) 2018 年 12 月 12 日，我国探月工程嫦娥四号探测器顺利完成“太空刹车”，进入了近月点约 100 千米的环月轨道。此时北京正值 _____。(选择填空)(1 分)
- A. 春季，昼渐长夜渐短 B. 夏季，昼长夜短 C. 秋季，昼渐短夜渐长 D. 冬季，昼短夜长
- (5) 气象条件是影响载人飞船着陆的重要因素。内蒙古中部地区为温带大陆性气候，全年干燥少雨，能见度高，利于跟踪和寻找飞船的着陆地点。

表 2 为内蒙古中部地区某一城市的气候资料。结合资料，在图 14 中补充气温曲线和降水柱状图中缺失的部分。(4 分)

表 2

月份	1	2	3	4	5	6	7	8	9	10	11	12
平均气温	-11.1	-6.8	0.7	9.5	16.7	21.4	23.2	21	15	7.3	-1.8	-9
平均降水	2.1	3.8	8.3	8.1	17.3	28	81.3	87.7	38.7	17.1	3.8	1.4

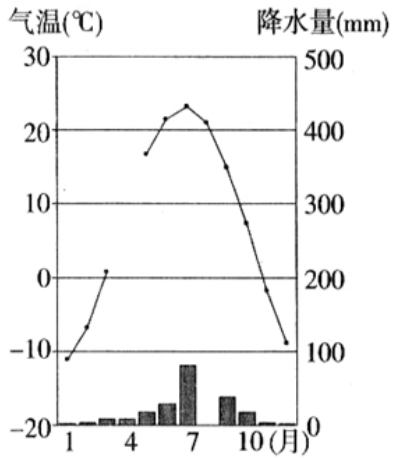


图 14

(6)我国神舟号载人飞船的主要着陆地为内蒙古自治区的中部。试从地形和人口分布两个角度，简要说明选择这里作为着陆地点的理由。(2分)

2019 北京东城初一（上）期末地理



参考答案

第一部分选择题(本部分共 25 小题, 每小题 2 分, 共 50 分)

题号	1	2	3	4	5	6	7	8	9	10	11	12	13	14	15
答案	B	B	D	D	B	A	D	B	C	A	B	D	C	D	B
题号	16	17	18	19	20	21	22	23	24	25					
答案	A	A	D	C	B	C	B	B	A	B					

第二部分非选择题(共 50 分)

26. 除第(5)题外, 每空 1 分, 共 15 分

(1) 东海 B (2分)

(2) 海陆兼备(1分)

(3) 贵或黔(1分)

(4) 三 长江中下游平原 四川 一 青藏高原 西高东低 呈阶梯状分布((7分)

(5) 有利影响: 利于海洋气流向陆地深入, 形成降水; (2分)

不利影响: 受地形、地势影响, 内陆地区降水较少。(2分)

或: 有利影响: 许多大江大河奔流向东, 沟通了东西交通; 阶梯交界处, 形成了巨大落差, 蕴藏着丰富的水能资源; (2分)

不利影响: 河流联系南北能力弱; 巨大落差, 水能开发中困难多。(2分)

27. 每空 1 分, 共 11 分

(1) 云南 云或滇 丘陵 北温(4分)

(2) 船只(1分)

(3) D(1分)

(4) 长江(1分)

(5) C D(2分)

(6) B(1分)

(7) C(1分)

28. 每空 1 分, 共 12 分

(1) 巴颜喀拉 渤 河口 桃花峪(4分)

(2) 华北平原 A(2分)

(3) B(1分)

(4) B C(2分)

(5) 错误 1: 我看到了成千上万只东方白鹤、天鹅、大雁、野鸭等候鸟。(1 分)

错误 2: 由于这里水能丰富, 正在建设龙羊峡水电站。(1 分)

错误 3: 易出现凌汛等地质灾害。(1 分)



29. 除第(5)题外, 每空 1 分, 共 12 分

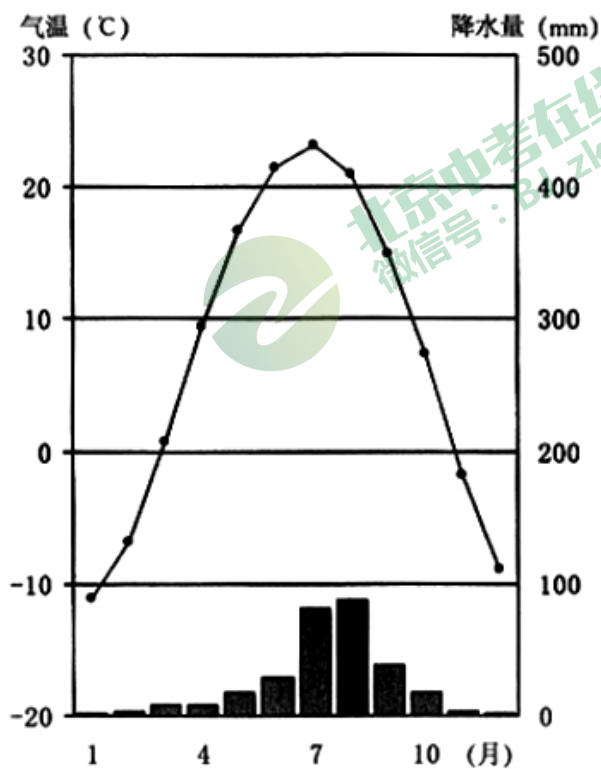
(1) 内蒙古自治(1 分)

(2) 酒泉 文昌 西南(3 分)

(3) 自转(1 分)

(4) D(1 分)

(5) 见下图(绘图 4 分)



注: 要求补齐气温曲线((2 分)和降水柱状图((2 分)

(6) 地形平坦广阔((1 分)人口密度小((1 分)