



石景山区 2019 年初三统一练习

道德与法治试卷

考
生
须
知

1. 本试卷共 10 页，共两部分，26 道小题，满分 90 分。考试时间 90 分钟。
2. 在答题卡上准确填写学校名称、姓名和准考证号。
3. 试题答案一律填涂或书写在答题卡上，选择题请用 2B 铅笔作答，其他试题请用黑色字迹签字笔作答，在试卷上作答无效。
4. 考试结束，请将本试卷和答题卡一并交回。

第一部分 选择题（共 40 分）

本部分共 20 小题，每小题 2 分，共 40 分。在每小题列出的四个选项中，选出最符合题目要求的一项。

1. 2019 年十三届全国人大二次会议表决通过了《中华人民共和国外商投资法》，这部法律旨在_____，积极促进外商投资，保护外商投资合法权益，规范外商投资管理，推动形成全面开放新格局，促进社会主义市场经济健康发展。
 - A. 促进区域协调发展
 - B. 全面建成小康社会
 - C. 进一步扩大对外开放
 - D. 增进与世界文明交流
2. 2018 年，中共中央组建了_____，这是中国共产党历史上第一次设立这样的机构，目的是更好落实全面依法治国基本方略，加强党对全面依法治国的集中统一领导，统筹推进全面依法治国工作。
 - A. 中央全面依法治国委员会
 - B. 国家监察委员会
 - C. 最高人民检察院
 - D. 中央人民政府

2019年3月，全国两会在北京召开。据此回答3-5题。

3. 此次政府工作报告聚焦区域发展格局，作出精准安排：“制定西部开发开放新的政策措施”、“京津冀协同发展重在疏解北京非首都功能”、“加快补齐革命老区、民族地区、边疆地区、贫困地区发展短板”……这些精准安排
- ①是为了解决我国社会主义新时代的主要矛盾
 - ②有利于实现中华民族伟大复兴
 - ③表明我国现在已经全面建成小康社会
 - ④说明我国当前的奋斗目标是基本实现社会主义现代化
- A. ①② B. ②③ C. ①④ D. ②④
4. 3月5日上午，国务院总理李克强在十三届全国人大二次会议作《政府工作报告》。当日下午，各代表团分组审议《政府工作报告》。这表明
- ①人民代表大会具有审议权
 - ②我国坚持人民代表大会制度
 - ③全国人大在行使国家监察职能
 - ④国务院是全国人大的执行机关，对其负责
- A. ①③ B. ②③ C. ①④ D. ②④
5. 平等是人类的崇高理想，是社会发展的永恒主题。下图是2019年两会提出的部分目标，其中符合“平等”主题的是



①

A. ①②




②

B. ②③



③

C. ③④



④

D. ①④



6. 在国家机构及其职权的专题复习中，同学们对于监察机关的认识理解正确的是
- 监察机关依法行使监督、调查、审判等职责
 - 国家监察机关由国家权力机关产生，对它负责，受它监督
 - 监察委员会是对部分公职人员行使国家监察职能的专责机关
 - 监察机关独立行使监察权，办理职务犯罪案件不受任何约束和监督
7. 近年来，故宫文创活动广受瞩目，如推出故宫创作胶带、饰品、冰箱贴、口红等各种文创产品；打造《紫禁城》《上新了故宫》等文创节目；开展“紫禁城里过大年”活动……故宫基于悠久历史文化底蕴，打造出年轻又迷人的新形象，吸引着众人的目光。故宫系列文创活动
- ①创新了优秀传统文化的传承方式
 - ②不利于弘扬传承中华优秀传统文化
 - ③利于激发大众对优秀传统文化的自信认同
 - ④只是为了利用传统文化获取经济收益
- A. ①② B. ③④ C. ①③ D. ②④
8. “每个人心中都不能缺少一把良知的尺子”，面对复杂的社会生活需要做出正确的行为选择。下列行为选择正确的是
- 某网络大 V 发帖太精彩——二话不说，转发
 - 好朋友借你的作业抄袭——助人者自助也，给他
 - 发现有人故意损坏共享单车——赶紧拨打 110 报警
 - 公交车上看到小偷扒窃——自保为先，转过头去

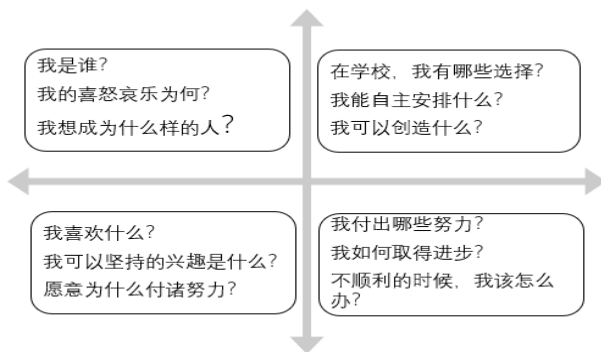
9. 读右图，面对各种学习压力，下列建议恰当的是
- ①确定合乎自身实际情况的期望值
 - ②学习压力来自多方面，绝不可能减少
 - ③取消考试排名就能彻底消除学习压力
 - ④适度的自我加压，激发学习潜能
- A. ①④ B. ②③ C. ①③ D. ②④



Figure 18 《中国基础教育研究问卷调查》...



10. 某小学老师给全班 58 名学生独家定制了“一人一首诗”的期末评语刷爆朋友圈。如：“小小乒乓擎在手，推挡之间悟真谛”。对于老师不同的评语，认识正确的是
- ①老师的表扬是对自己的鼓励和期待
 ②老师的批评是对自己的贬损
 ③对老师的评语别太当回事，该怎么着就怎么着
 ④关注老师评语内容和用意，理解老师的良苦用心
- A. ①③ B. ②④ C. ①② D. ①④
11. 某化工厂爆炸事故发生后，一场“生死大营救”争分夺秒进行：930 名消防员彻夜救援，甚至靠手刨救出幸存者；3500 名医护人员参与不间断救治；60 多名专家第一时间赶赴现场指导救援善后工作；数千名群众自发赶到现场参与志愿服务；200 多位市民前来义务献血……人们在灾难发生后积极救援的行动启示我们
- ①珍惜自己生命的同时要善待他人生命
 ②生命是可贵的，要珍爱生命
 ③尊重生命首先要对自己的人生负责
 ④生命是艰难的，不可预料的
- A. ①② B. ①③ C. ②③ D. ①④
12. 为了帮助同学们更好地认识自己，下图把同学们最关心的问题进行了分类。这些问题所体现的认识自己的途径是



- A. 通过自我观察认识自己
 B. 在集体活动中认识自己
 C. 通过他人评价认识自己
 D. 通过与他人比较认识自己



13. “在这个弱肉强食的世界里，你们都瞧不起衣衫褴褛的我，但越是如此我便越要争气，做到一切你们认为我做不到的事，甚至我将会做得比你们更好。我这样做不是为了向你们证明自己，而是为了拿回我们这个民族失去的荣耀。”这段话是2018年被授予“改革先锋”称号的科学家于敏的真实写照。下列名言与这段话的寓意相近的是
- ①业精于勤，荒于嬉——韩愈《进学解》
 ②恢弘其志士之气，不宜妄自菲薄——诸葛亮《出师表》
 ③大漠孤烟直，长河落日圆——王维《使至塞上》
 ④僵卧孤村不自哀，尚思为国戍轮台——陆游《十一月四日风雨大作》
- A. ①④ B. ②③ C. ①③ D. ②④
14. 2018年12月，教育部办公厅印发《关于严禁有害APP进入中小校园的通知》，要求开展全面排查，建立学习类APP进校园备案审查制度，坚决防止有害APP进入中小校园。教育部的通知



- ①体现了对未成年人的特殊保护
 ②能够形成风清气正的社会氛围
 ③能够杜绝网络违法犯罪现象的发生
 ④营造良好的“互联网+教育”育人环境
- A. ①② B. ①④ C. ③④ D. ②③
15. 地图代表一个国家的版图。某市海关查获2.8万余张“问题地图”——台湾地区被标注为一个“国家”、中印边界标注错误等。下列说法正确的是
- ①地图出现错误只是小事，不一定关系国家主权和领土安全
 ②“问题地图”涉嫌侵犯中国主权与领土完整，应零容忍
 ③“问题地图”直接损害国家利益，严重威胁国家总体安全
 ④地图是方便生活的工具，不是国家主权和领土完整的象征
- A. ①② B. ③④ C. ①④ D. ②③



16. 下表是改革开放 40 年来我国对外经贸领域发生的变化，说明我国

年份	货物进出口总额 (亿美元)	世界 位次	贸易伙伴 (个)
1978	206	第 29 位	40
2017	41000	第 1 位	231

- ①在谋求自身发展中促进各国共同发展
- ②对外贸易发展促进了经济全球化的发展
- ③已成为世界上最大的发达国家
- ④实行对外开放基本国策取得巨大成就

A. ①②③ B. ②③④ C. ①②④ D. ①③④

17.



图 1

图 1 漫画给我们的启示是

- ①消极情绪无法控制和把握，只能任其左右
- ②情绪要合理表达才能有利于与人文明交往
- ③情绪具有感染性，个人情绪易影响其他人
- ④情绪的表达是自己的事，与其他人无关

A. ①② B. ②③ C. ②④ D. ③④

18.



小林打算用以上新闻为背景出一期板报，最恰当的主题是

- A. 宽容是中华民族的最高美德
- B. 诚信是立身之本，交往之道
- C. 换位思考是文明交往的前提
- D. 遵守法律是公民的行为底线





19. 阅读下图, 某市派出所所在公共场所张贴警示牌。下列认识正确的是

打架成本	
造成轻微伤直接成本	5至15日行政拘留+500元至1000元罚款+医药费、误工费等赔偿+因拘留少挣的工资。
造成轻伤直接成本	3年以下有期徒刑、拘役或管制+赔偿金+开除公职+医疗费、误工费等赔偿+因羁押少挣的工资+社会及家庭影响。
造成重伤或死亡直接成本	3年以上10年以下有期徒刑, 无期徒刑或死刑+经济赔偿+社会及家庭严重影响。
打架附加成本	在公安机关留下前科+心情沮丧抑郁+名誉形象受损+家人朋友担忧+就业、参军、工作、生意、出行、生活、名誉等因留下案底遭受更大的影响。
民事责任成本	诉讼费+律师费+医疗费+误工费+法律规定赔偿的相关费用。
打架的诱因	1.为小利益互不相让; 2.因小事情失去理智; 3.爱慕虚荣死要面子; 4.朋友义气一时冲动。

- ①打架是违法行为, 应承担相应的法律责任
- ②打架是犯罪行为, 必受到刑罚处罚
- ③打架造成的社会危害较轻, 需承担民事责任
- ④打架具有社会危害性, 我们要防微杜渐, 自觉守法

A. ①② B. ①③ C. ①④ D. ②④

20. 某班同学对社会生活中的事件进行讨论, 相应判断正确的是

	事件	判断
①	小王毕业后自筹资金开了一家饭馆, 因坚持依法纳税, 被评为“守法经营户”	这是依法履行宪法规定的基本义务
②	某歌手在住所内吸毒、非法持有毒品被公安机关行政拘留	这种行为具有严重社会危害性, 属于犯罪行为
③	某青年因怕苦怕累、不愿接受部队纪律约束而拒绝服兵役, 不仅受到经济处罚, 还被列入失信人员名单, 户籍信息系统注明“拒服兵役”等多项处罚	这说明公民违反法定义务的行为必须依法承担法律责任
④	某中学模拟政协社团的六名学生通过咨询与调研形成《关于给家长提供个性化指导, 开展精准家庭教育指导服务的提案》, 由政协委员交到2019年全国两会	这是依法行使宪法规定的文化教育权

A. ①② B. ①③ C. ②④ D. ③④

第二部分 非选择题（共 50 分）

21. (8 分) 人与人之间的关爱和执着总是温暖着彼此。

场景一 空荡荡的地铁车厢内，一位疲惫的妈妈怀抱着熟睡的孩子，因怕孩子鞋子弄脏座位，她把自己的背包垫在孩子的脚下。

(1) 结合场景一，谈谈在日常生活中应该如何做到文明有礼。（4 分）

场景二 临近年关，爷爷期盼儿子全家回来过年。听说三岁孙子想要一个佩奇做礼物，爷爷又喜又为难：啥是佩奇？农村里的爷爷并不认识！爷爷到处打听，经过一系列误认，终于用鼓风机亲手焊制了一个佩奇（如右图）。本来因故不能回来过年的儿子开车接爷爷到城里过年，爷爷喜滋滋地把“鼓风机佩奇”送到孙子手里……



(2) 结合场景二，你感悟到尊重长辈该怎样做？（4 分）

22. (10 分) 北京榜样优秀群体温暖社会，感奋人心，他们不是孤立个体，是首都市民组成的光荣群体。

材料一 “千万人中你很平常，你我常走在同一条街巷……你是我的邻里街坊”。他们，是不顾非议 20 年义务捡拾垃圾保护妫水河的延庆农民贺玉凤；是在工作中被誉为“老年人的拐杖，外地人的向导，乘客的贴心人”的公交司机刘宝中；是十几年来照顾着父母、公婆、爷爷等 7 位身患重病的老人，用孝心与毅力为濒临绝境的家庭撑起一片天的普通家庭主妇田琴……

材料二 “你的智慧闪耀着幸福之光，你的爱心传递着每个希望”。他们，是致力核心技术研究，助力中国高铁攀上“世界巅峰”的贾利民；是要求自己“每天都要有进步”以应对新技术新问题的航天特种熔融焊接工高凤林；是 20 年如一日坚持“内不欺己、外不欺人”、苛求质量的私营业主苑永萍……

(1) 北京榜样优秀群体的哪些精神引领着我们前行？（4 分）

(2) 北京榜样的平凡善举充满浓浓的家国情怀。作为新时代的北京市民，谈谈应如何向榜样学习，向祖国献礼？（6 分）

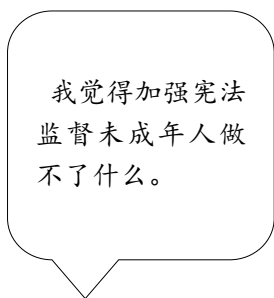


23. (8分) 被称为“城市新青年”的外卖小哥在平凡中创造出了不平凡的能量。


外卖小哥大多数受教育和就业的起点较低，他们却在全力做好本职工作的同时涌现出了大量好人好事，诸如送受伤市民去医院就医、勇救昏厥沉入水中的路人、双手托举悬空被困的孩子等。还有许多典型的励志故事，如重庆18岁的外卖小哥毛召木，一边工作一边努力自学，考上了四川外国语大学；广州90后外卖小哥冉乔峰，一边送外卖一边写诗，出版了自己的诗集；昆明外卖小哥张方勇曾经创下一天送69份外卖的单店纪录，但他一直没有放弃自己的拳击梦，在世界拳击协会中国青年金腰带拳王争霸赛中夺冠……

运用所学责任的相关知识，对外卖小哥的行为予以评析。(8分)


24. (8分) 在“维护宪法权威、弘扬宪法精神”主题宣传活动中，同学们展开讨论表达了自己的观点。



小林



小昕



小宇

从三个同学的观点中任选其一，辨别正误，并说明理由。(8分)

25. (6分) 改革开放40年来，中国农村状况发生了巨大的变化。

表：按现行农村贫困标准衡量的农村贫困状况

年份	当年价贫困标准 (元/年·人)	贫困发生率 (%)	贫困人口规模 (万人)	农村人口 (万人)
1978	366	97.5	77039	79014
2000	1528	49.8	46224	80837
2012	2625	10.2	9899	64222
2017	2952	3.1	3046	57661



- (1) 上表数据说明改革开放以来我国发生了怎样的变化？（2分）
- (2) 我国将脱贫攻坚作为必须打赢的三大攻坚战之一。运用所学知识，说明打赢脱贫攻坚战的意义何在？（4分）

26. (10分) 京津冀协同发展——改变着京津冀三地的深刻变革(2014-2019)五年交出了不同寻常的“成绩单”。某校九年级学生以此为专题制作了宣传板报，从三个领域感受五年来的巨变：

 <p style="text-align: center;">交通领域</p>	<p>变化一：</p> <p>京津保1小时交通圈顺利实现；国家高速公路网7条首都放射线北京段已全部建成；北京市域内国家高速公路“断头路”全面消除；京津冀交通一卡通在三省市实现互联互通，发卡数量已累计超过180万张……</p>
 <p style="text-align: center;">生态领域</p>	<p>变化二：</p> <p>雾霾渐除，蓝天回归。2018年京津冀及周边地区PM2.5年均浓度为60微克/立方米；北京市PM2.5年平均浓度为51微克/立方米，创有监测以来历史最低，比2013年累计整整下降了42.7%。</p>
 <p style="text-align: center;">产业领域</p>	<p>变化三：</p> <p>北京与河北共建曹妃甸示范区，已累计签约北京项目130余个。北京对接津冀创新资源与科技成果：天津滨海-中关村科技园挂牌以来新增注册企业达到941家；中关村企业在津冀设立分支机构累计达7300多家；北京输出到津冀的技术合同成交额227.4亿元、增长11.8%。</p>

- (1) 从以上三个变化任选其一，运用所学知识，谈谈变化的具体原因和积极影响。（6分）
- (2) 京津冀协同发展取得显著变化的根本原因是什么？（4分）

