



门头沟区 2020 年初三年级综合练习（一）

历史试卷

2020.5

- 考生须知**
1. 本试卷共 11 页，分为两部分，第一部分选择题，30 个小题，共 45 分；第二部分非选择题，4 道题，共 45 分。
 2. 请将条形码粘贴在答题卡相应位置处。
 3. 试卷所有答案必须填涂或书写在答题卡上，在试卷上作答无效。请使用 2B 铅笔填涂，用黑色字迹签字笔或钢笔作答。
 4. 考试时间 90 分钟，试卷满分 90 分。

第一部分 选择题（共 45 分）

本部分共 30 小题，每小题 1.5 分，共 45 分。在每小题列出的四个选项中，选出最符合题目要求的一项。

1. 在下列图片中，能够反映出我国黄河流域半坡原始居民文化特征的是



①猪纹陶钵



②人面鱼纹彩陶盆



③干栏式房屋



④半地穴式房屋

A. ①②

B. ①③

C. ②③

D. ②④

2. 右图为西周时期著名的青铜器——宜侯矢(cè)簋(guǐ)，簋内底有铭文 120 余字，大意是周康王册封矢为宜侯，赏赐给他土地、奴隶和弓矢等。为此，矢受赏后称颂周王的美德，特铸此器以资纪念。这件文物可以用来印证西周的



A. 禅让制

B. 分封制

C. 郡县制

D. 宗法制

3. 都江堰在 2000 年被联合国教科文组织列入“世界文化遗产”名录，“深淘滩，低作堰”是都江堰的治水名言，这一著名水利工程的主持建造者是

A. 大禹

B. 郑国

C. 李冰

D. 李斯

4. 唐朝诗人李白的诗句“二龙争战决雌雄，赤壁楼船扫地空。烈火张天照云海，周瑜于此破曹公。”涉及到的战役是

A. 赤壁之战

B. 官渡之战

C 夷陵之战

D. 荆州之战

5. 右图是某同学整理的一份历史笔记，①处应该是

A. 《千金方》

B. 《唐本草》

C. 《伤寒杂病论》

D. 《黄帝内经》

| | |
|-----|---------|
| 华佗 | 发明“麻沸散” |
| 张仲景 | ① |
| 李时珍 | 《本草纲目》 |

6. 下列内容可以用来体现经济重心南移的是

①“苏湖熟，天下足”

②北宋前期四川地区出现了世界上最早的纸币——交子

③国家根本，仰给东南

④南宋都城临安成为国际性的大都市



- A. ①②③ B. ①③④ C. ①②④ D. ②③④

7. 自古以来民族团结、国家统一是我国历史发展的主流。以下史实可以证明这一观点的是

- A. 鉴真东渡 B. 文天祥抗元 C. 岳飞抗金 D. 文成公主入藏

8. 今年是紫禁城建成 600 年，这一恢宏建筑建于公元纪年年代尺（下图）中的哪一时段

| | | | | | | | |
|----|-------|-------|-------|-------|-------|-------|----|
| …… | 13 世纪 | 14 世纪 | 15 世纪 | 16 世纪 | 17 世纪 | 18 世纪 | …… |
| | | A | B | C | D | | |

9. 《全球通史》中写道：1842 年北京政府宣布投降，接受了《_____》——这是后来蚕食中国大部分主权的一系列不平等条约中的第一个，《_____》指的是

- A. 《南京条约》 B. 《北京条约》 C. 《马关条约》 D. 《辛丑条约》

10. 1909 年出版的《京华百二竹枝词》一书中有如下内容，它反映的是

莱罗中外酒随心，洋式高接近百寻。门外电灯明似昼，陕西巷深醉琼林。
新式衣裳夸有根，极长极窄太难论。洋人着服图灵便，几见缠躬不可蹲。

- A. 近代政治制度的变化 B. 近代科学技术的变化
C. 近代社会生活的变化 D. 近代思想文化的变化

11. 右图为北京五四大街上的一座具有革命传统的近代建筑北大红楼，当年北京大学的学生就是从这里走向天安门广场，与北京其他院校的学生一起强烈要求“外争主权，内除国贼”。此事件标志着



- A. 近代化的起步 B. 近代史的开端
C. 新民主主义革命的开端 D. 旧民主主义革命的开端

12. “除军阀，兄弟联手为统一；恨独裁，武装反抗在八一。”这一歌谣中的八一是指

- A. 武昌起义 B. 南昌起义 C. 秋收起义 D. 广州起义

13. 1949 年 3 月 25 日，毛泽东主席率领中共中央、中国人民解放军总部从河北省西柏坡村进驻北平，在香山双清别墅居住和办公，在这里毛主席指挥了

- A. 渡江战役 B. 辽沈战役 C. 平津战役 D. 淮海战役

14. 到 1952 年底新中国的土地改革基本完成，对于这次土地改革的历史意义表述正确的是

- A. 使农民走上了合作化、集体化道路
B. 标志着我国开始进入社会主义初级阶段
C. 废除了资本主义剥削的土地制度，消灭了资产阶级
D. 彻底摧毁了我国存在 2000 多年的封建土地制度，农民成为土地的主人

15. 下面是建国初期我国轻、重工业产量变化简表。其中数据变化的主要原因是

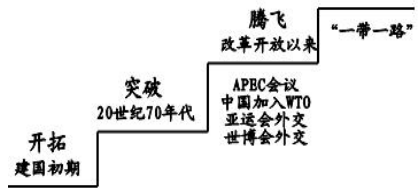
| 项目 | | 1952 年 | 1957 年 | 增幅 (%) |
|-----|---------|--------|--------|--------|
| 重工业 | 钢 (万吨) | 135 | 535 | 296 |
| 轻工业 | 棉布 (亿米) | 38.3 | 50.5 | 32 |



- A. 抗美援朝的推动 B. 土地改革的完成 C. 一五计划的实施 D. 三大改造的完成

16. 右图是建国以来我国外交成就示意图，其中“突破”阶段的外交成就不包括

- A. 中日两国建交
B. 中美两国建交
C. 恢复联合国合法席位
D. 签订《朝鲜停战协定》



17. 歌曲承载着历史，歌曲可以反映出时代特征，下列选项中，歌曲与史实搭配正确的是

- A. 《义勇军进行曲》—北伐战争
B. 《翻身农奴把歌唱》—新中国的诞生
C. 《春天的故事》—改革开放
D. 《中国人民志愿军军歌》—解放战争

18. 西欧封建社会的经济基础是

- A. 租地农场 B. 封建庄园 C. 手工工场 D. 手工作坊

19. 彼得拉克说“我不想变成上帝，或者居住在永恒中……属于人的那种光荣对于我就够了。”但丁说“走自己的路，让别人说去吧”，这两个人的观点充分体现出以下哪种精神

- A. 理性主义 B. 科学主义 C. 民族主义 D. 人文主义

20. 右图为“三角贸易”示意图。图中数字代表“三角贸易”经过的四个洲。在三角贸易中，获得惊人财富的和丧失大量人口的洲分别是



- A. ①② B. ③②
C. ③④ D. ①④

21. 有这样一位历史人物，他出生于德国，他的一生是胸怀理想、为人类解放奋斗的一生。他的著作有《共产党宣言》、《资本论》……据此判断这位历史人物是

- A. 伏尔泰 B. 马克思 C. 恩格斯 D. 孟德斯鸠

22. 据国家统计局 2019 年底发布的资料显示：2019 年我国高铁总里程将突破 3.5 万公里，其中新增高铁运营里程达 5000 多公里。目前，我国成为全球高速铁路系统技术最全、集成能力最强、运营里程最长、运行速度最高、在建规模最大的国家。铁路最早诞生于

- A. “蒸汽时代” B. “电气时代”
C. 新航路开辟期间 D. 第三次科技革命

23. 在资产阶级革命时代，《权利法案》、《独立宣言》、《人权宣言》是资本主义国家的三部重要文献，它们的共同点是

- A. 都表达了反对殖民压迫的愿望
B. 都使本国确立了君主立宪制度
C. 都是为反对本国封建统治而颁布
D. 都体现了资产阶级的自由、平等思想

24. 史料类型多种多样，价值各有不同。在下列探究第一次世界大战的史料中可信度最高的是

- A. 关于一战的电影《索姆河战役》
B. 丘吉尔写的《第一次世界大战回忆录》
C. 当时战地记者拍摄的一战战场的照片
D. 长篇小说《静静的顿河》中的相关描述



25. 历史漫画蕴含着丰富的历史信息,与右侧漫画相关的历史事件是
- A. 经济危机 B. 北约的成立
- C. 马歇尔计划 D. 杜鲁门主义



26. 据报道处于新冠肺炎疫情震中的美国在今年 3 月份失业人口增加了 140 万,创历史新高,其中很多人是主动失业,这是因为二战后主要资本主义国家建立了
- A. 医疗保险制度 B. 社会保障制度
- C. 养老保险制度 D. 社会救助制度

27. 2019 年 7 月 19 日晚天宫二号在运行了 1036 天后返回地球,作为我国第一个真正意义上的空间实验室,天宫二号的成功“飞天”得益于
- A. 生物工程的创新 B. 航天工程的进步
- C. 信息时代的到来 D. 原子能技术的发展

28. 历史事实是指历史的真实情况,历史观点是对历史事实的看法和态度。下列表述中,属于历史观点的是

- A. 从 1926 年起,苏联开始进行社会主义工业化建设
- B. 1776 年 7 月 4 日,大陆会议通过了由杰斐逊起草的《独立宣言》
- C. 1861 年 4 月,南方军队挑起战争,美国内战爆发,史称“南北战争”
- D. 甘地领导印度人民进行非暴力不合作运动增强了印度民众的民族自尊心和自信心

29. 近年来“构建人类命运共同体”被写入联合国决议、安理会决议、联合国人权理事会决议……下列体现“人类命运共同体”理念的是

- ①成立世界银行 ②推行贸易保护政策 ③设立“世界地球日” ④成立世界贸易组织
- A. ①②③ B. ①②④ C. ①③④ D. ②③④

30. 下列图标所代表的国际组织旨在维护世界和平与安全的是



A. 北约



B. 亚太经合组织



C. 世界贸易组织



D. 联合国

第二部分 非选择题 (共 45 分)

31. (11 分) 中华民族的传统文化博大精深,源远流长,某中学开展了弘扬中华优秀传统文化的探究活动。请你参加。

【展现无穷魅力的文字】

材料一



| | | |
|-----------------------|-------------------|-------------------------|
| | | |
| A 殷商武丁早期征讨 卜辞——甲骨文 | B 秦《峰山石刻》 ——小篆 | C 《兰亭集序》(摹本·局部) ——行书 |

(1) 在材料一中任选一项说出其历史意义 (1 分)

【闪耀智慧之光的思想】

材料二

| | |
|-----|-------------------------------|
| 老子 | “祸兮，福之所倚；福兮，祸之所伏。” ——《道德经》 |
| 孔子 | “己所不欲，勿施于人” ——《论语·颜渊篇》 |
| 孟子 | “诚者，天之道也；思诚者，人之道也” ——《孟子·离娄上》 |
| 顾炎武 | “天下兴亡、匹夫有责” ——《日知录·正始》 |

(2) 任选其中两位思想家的言论，说出其中蕴含的思想内涵？ (2 分)

【传颂千古的唐诗】

材料三 因而唐朝的文化艺术发展到了一个全面繁荣的新阶段，……“其中诗歌的发展更达到了高度成熟的黄金时代”。唐代不到三百年历史，至今仅《全唐诗》就搜集了近五万首诗，是西周至南北朝诗歌总合的 2 到 3 倍……，中国唐诗是中国古典文化的精髓，很多诗洋溢着爱国主义精神，具有进步的理想，宏伟的抱负，刚健的风骨。很多诗人用浪漫主义和批判现实主义手法写出了唐代诗人们热烈追求光明理想，不畏权贵，抨击黑暗现实的斗争精神。

——摘编自杨友塘《唐诗宋词美学探究》

(3) 请分别列举一位具有浪漫主义和批判现实主义风格的唐代诗人，(2 分) 结合所学分析唐代诗歌发展达到了高度成熟的黄金时代的原因。(2 分)

【丰富多彩的节日】

材料四 2017 年《关于实施中华优秀传统文化传承发展工程的意见》明确提出：“实施中国传统节日振兴工程，丰富春节、元宵、清明、端午、七夕、中秋、重阳等传统节日文化内涵。”



| | |
|--|---|
| | <p>春节，即农历新年。春节历史悠久，由上古时代岁首祈年祭祀演变而来。在春节期间，全国各地均有举行各种庆贺新春活动，这些活动以除旧布新、拜神祭祖、纳福祈年为主要内容，形式丰富多彩。节日交流问候传递着亲朋乡里之间的亲情伦理，它是人们增深感情的重要节日，是个欢乐祥和、亲朋好友欢聚的传统佳节。</p> |
| | <p>清明节，又称踏青节、行清节、祭祖节等，节期在仲春与暮春之交。清明节源自上古时代的祖先信仰与春祭礼俗，兼具自然与人文两大内涵，既是自然节气点，也是传统节日。清明节时人们扫墓祭祀、缅怀祖先，这一节日不仅有利于弘扬孝道亲情、唤醒家族共同记忆，还可促进家族成员乃至民族的凝聚力和认同感。</p> |
| | <p>端午节，又称端阳节、龙舟节等，节期在农历五月初五，是中国民间的传统节日。端午节源自天象崇拜，由上古祭龙演变而来。因传说战国时期的楚国诗人屈原在五月五日跳汨罗江自尽，后来人们亦将端午节作为纪念屈原的节日。过端午节是中国人二千多年来的传统习惯，其内容主要有：悬挂艾草，赛龙舟，吃粽子等。</p> |
| | <p>中秋节，又称祭月节、秋节、拜月节、月亮节、团圆节等，是中国民间的传统节日。中秋节源自天象崇拜，由上古时代秋夕祭月演变而来。最初“祭月节”的节期是在干支历二十四节气“秋分”这天，后来才调至夏历八月十五日，中秋节自古便有赏月、吃月饼、玩花灯、赏桂花、饮桂花酒等民俗，流传至今，经久不息。</p> |

(4) 依据材料四，归纳传统节日中可以挖掘的文化内涵。(2分)

(5) 综合以上探究，围绕如何弘扬中华优秀传统文化、传承优秀传统文化、提升文化自信，提出你的建议(至少两点)(2分)

32. (13分) 改革·创新·发展

改革是社会发展的动力，每一个国家、每一个民族要发展进步，就必须与时俱进，敢于创新
阅读材料，回答问题。

材料一

| A | B |
|---|--|
| <p>夫商君为孝公平权衡、正度量、调轻重，决裂阡陌，教民耕战。是以兵动而地广，兵休而国富，故秦无敌于天下。 ——《战国策·秦策三》</p> | <p>迁都后，孝文帝下诏改用汉姓，改穿汉服，改说汉语，推行汉族的官制和律令。于是，胡食、胡床、畜牧选种等草原文化因子也逐渐融入汉族人民的生活中。 ——摘编自白寿彝总主编《中国通史》</p> |

(1) 材料一 A、B 项分别与什么历史事件有关?(2分) 从这两次事件的结果来看它们的共同




点是什么？（1分）

材料二

| | |
|---|---|
|  <p>图一 日本赴欧美参观团出港</p> |  <p>图二 中国派出的最早的留学生</p> |
| <p>注解：1871年12月到1873年9月，日本右大臣岩仓具视率领大久保利通、木户孝允、伊藤博文等政府首脑赴欧美使节团先后出访了美国、英国、法国等欧美12个国家，亲身体验和耳闻目睹了西方文明，上图是使节团从横滨出港时的情景。</p> | <p>注解：1872—1875年间清政府先后派出四批共120名学生赴美国留学。这批学生出洋时的平均年龄只有12岁。这批留美幼童后来分散到政界、军界、实业界、知识界等各个领域；在他们中，有铁路工程师詹天佑、开滦煤矿矿冶工程师吴仰曾、清华大学校长唐国安、清末交通总长梁敦彦……成为中国近代历史上的知名人物。</p> |

(2) 在材料二中依据图一的图文资料结合所学列举明治维新中学习“西方文明”的内容？（2分）依据图二中的图文资料结合所学说说洋务运动的客观作用。（1分）

材料三



图三



图四



图五

| | 改革名称 | 人物 | 主要内容 | 创新点 |
|----|-------|-----|---|------------------------|
| 图三 | ① | ② | 用固定的粮食税代替余粮收集制；除重要的工矿企业由国家经营外，中小企业可允许本国和外国资本家经营等 | 把社会主义同市场、商品货币关系直接联系起来。 |
| 图四 | 罗斯福新政 | 罗斯福 | 财政方面：政府大力整顿银行业 工业方面：政府实行“产业复兴法”，以工代赈等 农业方面：缩减农业产量，稳定农产品的价格等 | ③ |



| | | | | |
|----|--------|-----|--|---|
| 图五 | 中国改革开放 | 邓小平 | 农村改革：实行联产承包责任制。 城市改革：实行政企分开，简政放权。 对外开放：形成经济特区—沿海开放城市—沿海经济开放区—内地的格局 | ④ |
|----|--------|-----|--|---|

(3) 材料三中三位历史人物领导了 20 世纪的三次重大改革，请将表格补充完整 (4 分)

① _____ ② _____ ③ _____ ④ _____

材料四 为了记录改革开放 40 年来的珍贵历史瞬间和辉煌成就，人民日报《环球人物》杂志社策划推出了《辉煌中国·庆祝改革开放 40 周年重大事件人民日报珍藏版》。以下是这部书的部分章节目录

| | | |
|------------------------------------|-------------------------------|-----------------------------|
| 第一章 _____ | 第二章 经济腾飞 | 第三章 大国崛起 |
| 十一届三中全会 社会主义核心价值观 “一带一路”倡议…… | 中国加入世贸组织 取消农业税 亚投行成立…… | 港澳回归 北京奥运会 G20 杭州峰会…… |
| 第四章 科技兴国 | 第五章 强军之路 | 第六章 追梦中国 |
| 载人航天 屠呦呦获诺贝尔奖 五百米口径球面射电望远镜…… | 九三大阅兵 中国航母 建军 90 周年阅兵…… | …… |

(4) 请选择下列正确的一项填写在 _____ 处，将材料四中第一章名称补充完整 (1 分)

祖国统一 伟大战略 复兴之路 砥砺前行

(5) 依据上述材料结合所学谈谈你对改革、创新与国家发展的认识。(2 分)

33. (10 分) 每一座城市都见证着自身的历史、发展与变迁。武汉是一座古老而充满活力的城市，他是国家历史文化名城、楚文化的重要发祥地还是长江经济带核心城市。阅读下列材料，回答问题。

材料一

【城市溯源】

在武汉市区南 5 公里的盘龙湖畔，考古发现的盘龙城证明武汉地区早在 3500 年前就有城市的历史。

公元 223 年，孙权在武昌蛇山筑夏口城。初始的夏口城是军事城堡，建城的主要原因是其具有控制长江中下游的战略意义。三国时期，刘琦抗击东吴孙权建了鲁山城，其位于汉阳



龟山山麓，同样也是一个军事城堡，直至南朝、唐初仍然具有军事城堡的功能。……

公元 1465—1487 年汉水在龟山以北经过并与长江交汇，原来汉阳龟山以北的土地由汉水分割形成了汉水北岸的汉口。此后，以武昌、汉阳、汉口三镇为核心的城镇群发展格局形成。

——摘编自《大武汉—江城的近代城市演变史》

(1) 依据材料一，说出武汉最初的城市功能是什么？（1 分）

材料二

“天下有四聚，北则京师，南则佛山，东则苏州，西则汉口，而汉口不特为楚国之咽喉，亦为九省通衢。九省之货皆于此转输，虽欲不雄天下，而不可得也。”

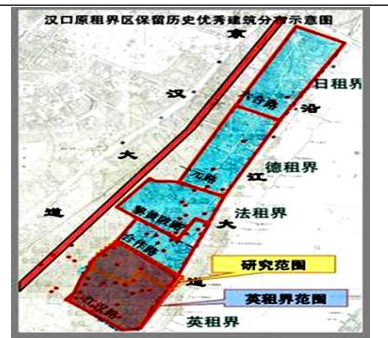
——（清）刘献廷《广阳杂记》

(2) 依据材料二，分析汉口有“九省通衢”之称的理由是什么？（1 分）

材料三

近代的武汉，从三个封建市镇开始形成统一的武汉市，1858 年《天津条约》签订之后，1861 年 3 月汉口正式开埠对外通商，先后有英国、法国、美国等 20 个国家来汉，并在汉口开辟了英、法、德、俄、日五国租界，15 个国家建立了领事馆，殖民者在武汉开办工厂、银行、洋行，他们创办的学校、医院和教堂遍布武汉三镇。

——余炳文《武汉城市发展的历史沿革》



(3) 依据材料三并结合所学知识，说出汉口被列强划为租界与哪一历史事件有关，（1 分）这一历史事件对中国造成了怎样的影响。（1 分）

材料四

【近代探索】

| 近代武汉名人 | |
|----------------|------|
| 人物 | 入选理由 |
| 张之洞(1837—1909) | |
| 黄兴(1874—1916) | |

(4) 请在表格空白处写出这两位历史人物当选近代武汉名人的理由。（2 分）



材料五 武汉长江大桥是我国在长江天堑上修筑的第一座大桥，是一座公铁两用的钢架多孔桥，始于武昌蛇山，止于汉阳龟山，于1955年开始动工建设，并于1957年建成通车。

——摘编自熊康《武汉城市建设之桥梁综述》

(5) 依据材料五并结合所学知识，说出武汉长江大桥是在哪个时期我国经济建设的代表性成就。(1分) 请再列举一项在此期间交通运输业取得的成就。(1分)

材料六 2020年初的武汉因为病毒，成了最热的词汇。新型冠状病毒感染的肺炎疫情牵动着全国人民的心，中国政府和人民为防控疫情作出了巨大努力，无数“最美逆行者”全力奋战在一线。



(6) 依据材料六以及在“全国战疫”中各条战线上涌现出的感人事迹，谈一谈你的感悟。(2分)

34. (11分) 大栅栏商业街坐落于北京的南中轴线上，它的北边就是正阳门。作为北京城最具特色的传统商业街，大栅栏已走过数百年的沧桑岁月。从古至今，大栅栏就是民生与国运的见证者。数不尽的老字号在这里陆续开业，比如马聚源、内联升、瑞蚨祥、同仁堂、义利(北冰洋)等。阅读材料，回答问题。

材料一 明朝，北京城在原有范围上进行了迁移和扩建，运河也随之延长和拓展，而经运河进京的货物，最终都会到达都城南部最重要运输通道——正阳门(今大栅栏所在的前门大街)。明永乐初年，官方下令在正阳门外建造商业铺面，召民居住，召商居货。除此之外，当时的太医院、都督府等机构设在正阳门内，因此东西两侧聚集了大量人群，他们生活起居、



娱乐消费需求极其旺盛，供需之下，促进了大栅栏地区商业店铺的大发展。

——摘编自王阳《大栅栏地区传统店铺类建筑遗产与价值传承研究》

(1) 依据材料一，分析明朝大栅栏商业区形成的条件。(2分)

材料二 清末民初，王府井大街成为新兴的商业街市，因其临近东交民巷，方便与在此居住的外国人做生意，很多商家陆续在租界区对面的王府井大街开设店铺，使得其很快取代大栅栏发展成当时北京城中最繁华的商业街市。此外，外国列强利用军事战争打开中国大门后，强迫输入了许多新型商品、商业模式，这令传统商品聚集的大栅栏地区难以抵抗。而封建制度的瓦解导致了许多行业没有了市场，例如鼻烟行业等，一些店铺艰难转型，内联升原来做朝靴，后改做千层布鞋，马聚源帽店原主要经营官帽，纷纷改做礼帽、布帽以图存活。

——摘编自段进明《大栅栏历史文化街区居住性问题诊断和对策研究》

(2) 依据材料二，概括近代大栅栏商业区走向衰败的原因和背景。(3分)

材料三 北冰洋食品公司的前身是1936年的北平制冰厂。1956年与8家私营汽水厂、43家小食品厂合并，成立了有冷食、饮料的国有企业，更名为地方国营北京市食品厂。1985年，该厂重新改制，成立了北冰洋食品公司，并同外商合作分别成立了4家合资公司。1985至1988年是企业历史上最为辉煌的时期，北冰洋公司年产值超过了1亿元，利润达到1300多万元，主要生产饮料、罐头、冷食。其中“长城”牌罐头分别销往香港、东南亚、中东、日本和东欧近30个国家和地区，年创汇达1000万美元。

——摘编自张景云《北京老字号“北冰洋”如何重新唤起消费者的热情》

(3) 依据材料三，分别说出20世纪50年代和80年代“北冰洋”品牌发生的变化及其原因。(4分)

材料四 2000年，随着“百事可乐”等外国“洋品牌”饮料占领中国市场，“北冰洋”汽水销售和宣传工作一度停滞，从大众眼中淡出，“北冰洋白熊”被“雪藏”起来。2011年，停产多年的北冰洋汽水重新上市。2016年，北冰洋80周年了，或许对于这些有着悠久历史、丰富文化内涵的传统品牌而言，“中国梦”和“一带一路”倡议的提出，将为它们在国内和国际市场发展带来新的契机。

(4) 2018年，“北冰洋”在天猫的旗舰店开业了，请你为“北冰洋”的电子商店设计一句宣传语。(2分) 要求：体现品牌的历史价值；符合当今的时代特征。



门头沟区 2020 年初三年级综合练习（一）

历史答案及评分参考

2020.5

一、选择题（本题共 45 分，每小题 1.5 分）

| | | | | | | | | | | |
|----|----|----|----|----|----|----|----|----|----|----|
| 题号 | 1 | 2 | 3 | 4 | 5 | 6 | 7 | 8 | 9 | 10 |
| 答案 | D | B | C | A | C | B | D | B | A | C |
| 题号 | 11 | 12 | 13 | 14 | 15 | 16 | 17 | 18 | 19 | 20 |
| 答案 | C | B | A | D | C | D | C | B | D | C |
| 题号 | 21 | 22 | 23 | 24 | 25 | 26 | 27 | 28 | 29 | 30 |
| 答案 | B | A | D | C | C | B | B | D | C | D |

二、非选择题（本题共 45 分，31 题 11 分，32 题 13 分，33 题 10 分，34 题 11 分）

31. (11 分)

(1) A 甲骨文：甲骨文是一种比较成熟的文字，今天的汉字就是由甲骨文演化而来的。(1 分)

B 小篆：秦始皇统一中国后，把文字统一为小篆，促进了文化的发展。(1 分)

C 行书：王羲之的行书“飘若浮云，矫若惊龙”，他的《兰亭集序》有天下第一行书之称。(1 分)

(A、B、C 答对任意 1 点得 1 分)

(2) 老子的这一言论指在一定的条件下事物是相互依存，可以互相转化的。具有一定的辩证法思想内涵。(1 分)

孔子的这一言论体现了处理人际关系的重要原则。是指人应当以对待自身的行为为参照物来对待他人。(或人应该有宽广的胸怀，用宽容心去和世界进行沟通，尊重他人，平等待人，推己及人，仁爱待人。)(1 分)

孟子的这一言论体现了诚信是为人处事的基本准则。(1 分)

顾炎武的这一言论指国家的兴盛或衰亡，每个普通人都有一份责任。(或在国家处于危难时刻为国分忧勇担重任与国家共度难关是我们义不容辞的责任。)(1 分)

(答对任意 2 点得 2 分)

(3) 浪漫主义风格的代表人物：李白(1 分)

批判现实主义风格的代表人物：杜甫(1 分)

唐朝时国家安定统一，国力强盛；经济繁荣；开明的民族政策；开放的对外政策；唐玄宗时科举考试主考唐诗等(答对任意 2 点得 2 分)

(4) 从春节、中秋节可以挖掘：欢乐、团圆、和谐关爱、同庆等充满人文关怀的内涵。

从清明节、端午节中可以挖掘：孝悌之道，缅怀先烈，体现感恩精神，家国情怀，天人和諧，文化自信等。

(答对任意 2 点得 2 分)

(5) 我们要积极学习和弘扬优秀的民族传统文化；加强国学经典教育，培养文化底蕴；大力传承和发扬红色文化与革命精神，挖掘其独特内涵，在创新中实现发展；大力宣传中华优秀传统文化，使中华优秀传统文化走向世界，树立文化自信，增强文化软实力；同其他优秀文化交流互鉴，保持民族文化的先进性等。(答对任意 2 点得 2 分)

32. (13 分)

(1) A 是商鞅变法(1 分)；B 是北魏孝文帝改革(1 分)；共同点是增强了国力(促进了经济的发展)，或巩固了统治。(1 分)

(2) 内容：创办近代企业，引进西方技术；改革封建军制，创办近代化军队；提倡“文明开化”；



努力发展教育等（答对任意两项得 2 分）

洋务运动在客观上促进了近代教育发展；培养近代化人才；促进民族工业兴起；促进近代交通的发展等。（答对任意 1 点得 1 分）

(3) ①新经济政策（1 分）

②列宁（1 分）

③国家干预经济（1 分）

④走中国特色社会主义道路，建立社会主义市场经济体制。（1 分）

(4) 伟大战略（1 分）

(5) 只有不断改革创新才能促进国家的发展和社会进步；改革必须要与国情相结合，制定适合本国国情的经济发展战略；改革要勇于创新，大胆实践；改革要坚持正确的方向等（只要言之有理即可得 2 分）

33.（10 分）

(1) 军事城堡（1 分）

(2) 汉口的地理位置非常优越，是交通枢纽，成为物资运输、贸易往来的枢纽（1 分）

(3) 第二次鸦片战争，（1 分）进一步加深了中国的半殖民地化程度。（1 分）

(4) 张之洞在洋务运动中建立汉阳铁厂，湖北织布局等（答任意一点得 1 分）

黄兴领导辛亥革命（1 分）

(5) 一五计划（1 分）；建成川藏、青藏、新藏公路（答任意一点得 1 分）

(6) 无私奉献；不怕牺牲；勇于担当；同舟共济；顾全大局等

（体现正能量，合理，答任意两点得 2 分）

34.（11 分）

(1) 货物运输便捷；政府政策引导；人口规模大；商业需求旺盛。（答出任意两点得 2 分）

(2) 原因：外国使馆区的建立带动附近商圈；西方商品对传统商品的强烈冲击；封建制度的瓦解使传统行业失去市场（答出任意两点得 2 分）

背景：封建君主制被推翻；辛亥革命；西方列强入侵（答出任意 1 点得 1 分）

(3) 50 年代变化：通过与多家私营企业合并成为了国有企业。（1 分）

原因：国家采取公私合营的方式对资本主义工商业进行社会主义改造。（1 分）

80 年代变化：从单一国有企业转变为合资企业。（1 分）

原因：实行改革开放。（1 分）

(4) 考生可自行作答。（合理即可得 2 分）