



石景山区 2018 年初三统一练习

地理试卷

学校 \_\_\_\_\_ 姓名 \_\_\_\_\_ 准考证号 \_\_\_\_\_

考生须知	1. 本试卷共 14 页，共 40 道小题，4 道大题，满分 90 分。考试时间 90 分钟。 2. 在答题卡上准确填写学校名称、姓名和准考证号。 3. 试题答案一律填涂或书写在答题卡上，选择题请用 2B 铅笔作答，其它试题请用黑色字迹签字笔作答，在试卷上作答无效。 4. 考试结束，请将本试卷和答题卡一并交回。
------	---

一、选择题（共 40 道，共 40 分）

英国艺术家用 3D 技术制作了地球的 3D 模型（图 1）。

1. 该模型

- A. 显示地球表面陆地面积大于海洋面积
- B. 显示地球表面陆地被海洋分割，海洋连为一体
- C. 是人类首次对地球形状的正确认识
- D. 是地球大小的真实写照



图 1

读表 1 中两城市资料，完成第 2、3 题。

表 1: 伦敦 (51°N) 和开普敦 (34°S) 二分二至日昼夜时长

	春分、秋分日		甲日		乙日	
	伦敦	开普敦	伦敦	开普敦	伦敦	开普敦
昼长	12 小时	12 小时	16 小时	10 小时	8 小时	14 小时
夜长	12 小时	12 小时	8 小时	14 小时	16 小时	10 小时

2. 据表所知，下列描述正确的是

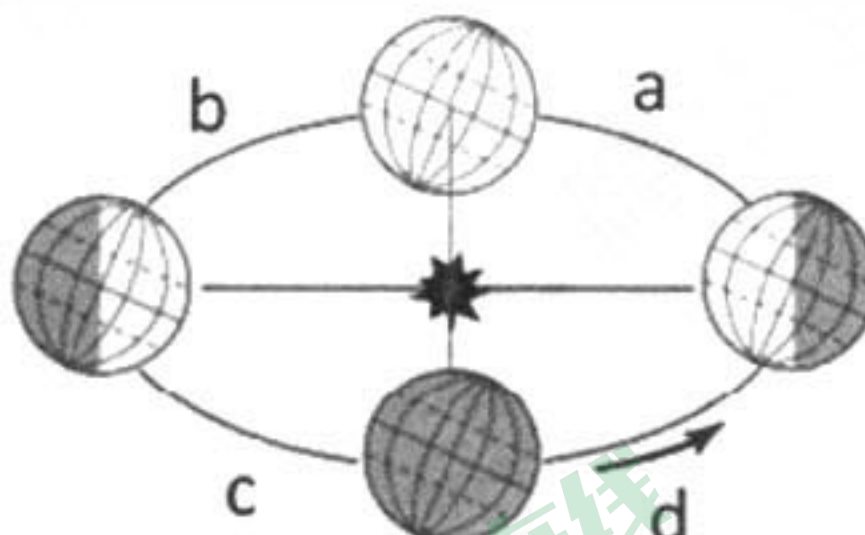
- A. 甲日，伦敦与开普敦昼长时间相同
- B. 甲是冬至日，乙是夏至日
- C. 春分日，伦敦建筑物的影子一年中最短
- D. 秋分日，开普敦 6:00 日出 18:00 日落

3. 此地理现象产生的原因是

- A. 地球大小
- B. 地球自传
- C. 地球形状
- D. 地球公转

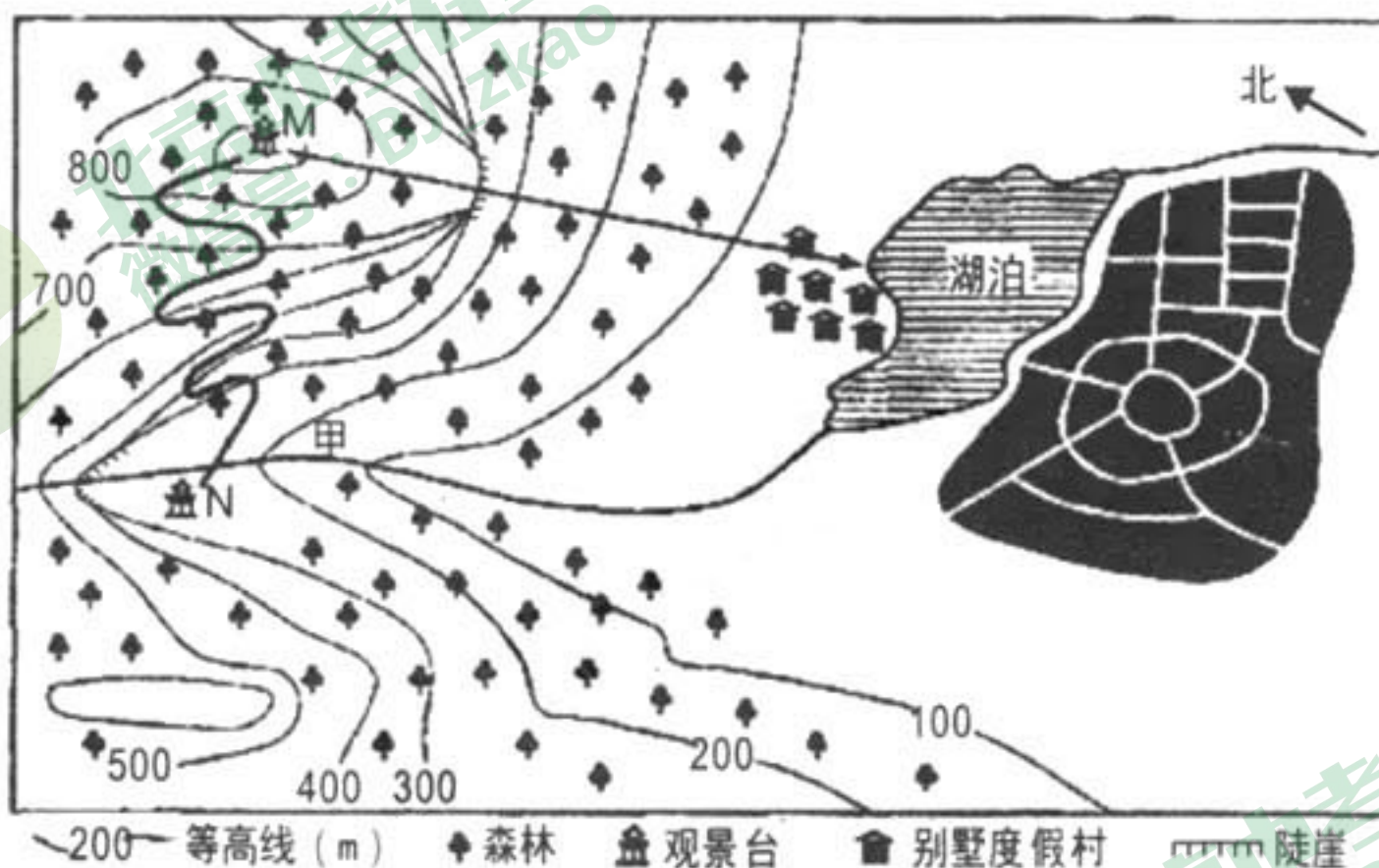


第23届冬奥会于2018年2月9日至25日在韩国平昌举行。读图2,完成第4~6题。




4. 冬奥会期间,地球运行在公转轨道  
A. a段 B. b段 C. c段 D. d段
5. 此时段,我国北方地区  
A. 已过春分 B. 昼短夜长  
C. 草长莺飞 D. 雷声阵阵
6. 韩国  
A. 与中国隔海相望 B. 是发达国家 C. 少数民族众多 D. 是群岛国家

为进一步加强区域生态文明建设,我国南方某市重新设计了某旅游景区的规划图。读图3,完成第7~9题。



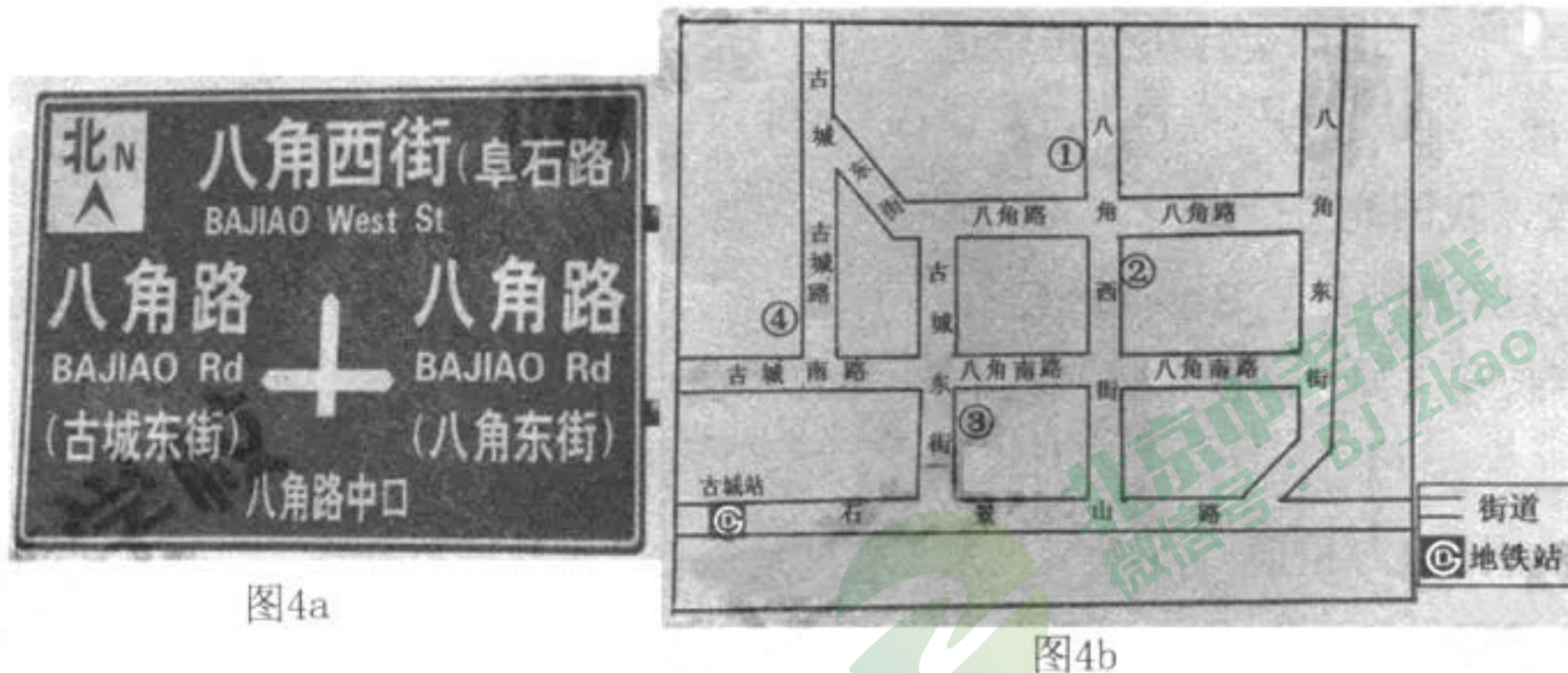
7. 下列素描图中表现甲地所在地形部位的是



- A. ① B. ② C. ③ D. ④
8. M地设置观景台的依据  
A. 海拔约800—900米 B. 位于山顶,地势高利于远眺  
C. 观景台附近林木繁茂 D. 位于陡崖附近,地势险要
9. 景区适宜开发的旅游项目  
①森林氧吧 ②林海雪原 ③河谷漂流 ④考古探寻  
A. ①② B. ②④ C. ①③ D. ③④



图 4a 为安置在八角地区某地点的道路交通标志牌，图 4b 为八角地区街道平面示意图。读图 4，完成第 10 题。



10. 道路交通指示牌位于图 4b 中的

- A. ①点      B. ②点      C. ③点      D. ④点

唐代边塞诗人岑参曾描写“君不见，走马川行雪海边，平沙莽莽黄入天。轮台九月风夜吼，一川碎石大如斗，随风满地石乱走”。完成第 11~13 题。

11. 诗中描写的天气现象与其预报符号，组合正确的是

- A. 大雪——❄️      B. 台风——🌀      C. 沙尘暴——🌪️      D. 微风——🌬️

12. 诗中描写的自然地理现象多见于我国

- A. 北方地区      B. 南方地区      C. 青藏地区      D. 西北地区

13. 该区域

- A. 气候干旱      B. 地形以平原为主      C. 森林广布      D. 河流多外流河

人口迁移频率高，反映了该区域人口数量大。读“2017 年某互联网公司出示我国春运期间人口迁徙地图”（图 5），完成第 14、15 题。

14. 图中显示我国人口

- A. 增长速度较快  
B. 就业压力巨大  
C. 东南部稠密西北部稀疏  
D. 老龄化问题突出

15. 黑河——腾冲线是我国

- A. 地势第二、三级阶梯分界线  
B. 人口地理分界线  
C. 亚热带与暖温带分界线  
D. 种植业与畜牧业分界线

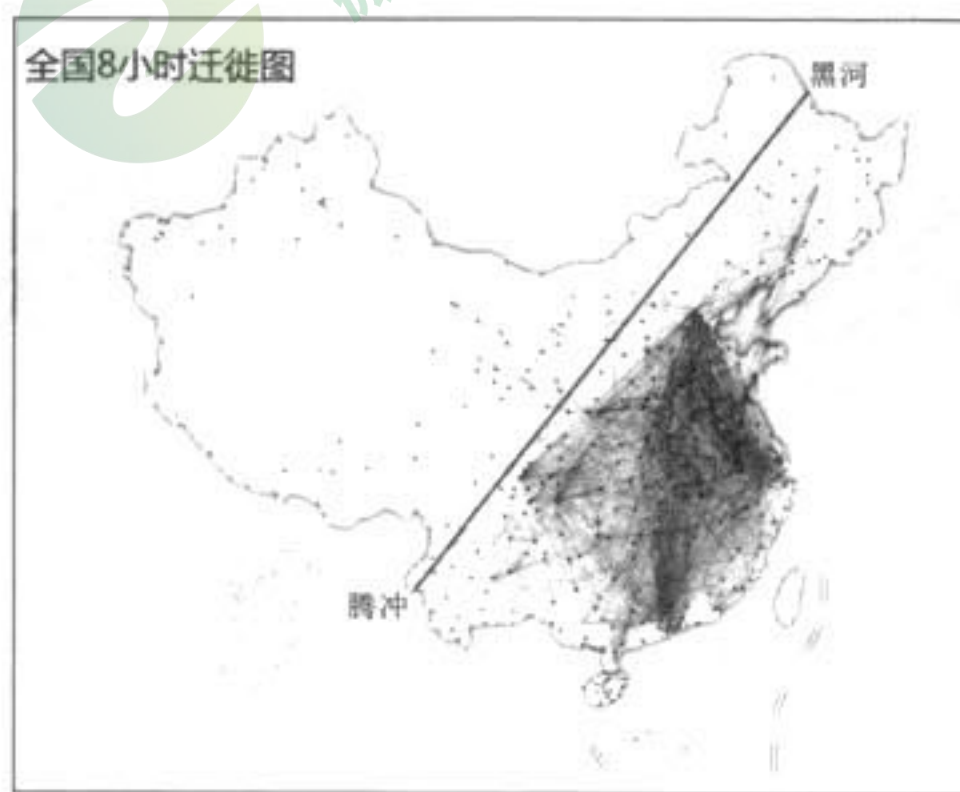


图 5

北京 145 天“无有效降水”，打破史上最长纪录。政府部门加速推进海绵城市建设，采取多种措施将 70% 的降雨就地消纳和利用。读“海绵城市示意”（图 6），



“北京某小区降雨 1 小时后水量地表下渗对比实验统计图”（图 7），完成第 16~18 题。



图6

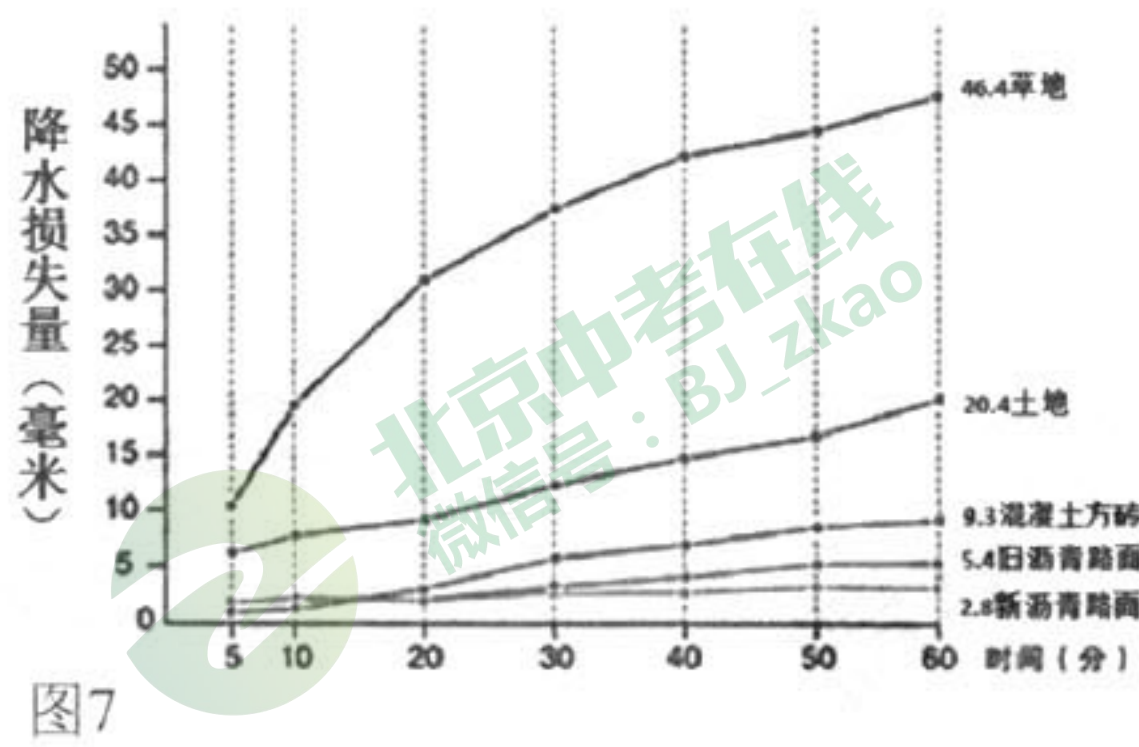


图7

16. 海绵城市

- ①提高了水资源的利用率
  - ②美化了城市环境
  - ③缓解了城市交通拥堵
  - ④增加了居民垃圾回收意识
- A. ①②      B. ①③      C. ③④      D. ①④

17. 观察图 7，得出

- A. 新沥青路面利于雨水下渗
- B. 各类地表降雨损失量随时间变化差异不大
- C. 草地不利于雨水下渗
- D. 降雨损失量越多的地表越不易积水

18. 北京建设海绵城市，加大雨水就地消纳和利用的方法

- A. 增加植物浇灌次数
- B. 增加城市绿地面积
- C. 用新沥青路面替换旧路面
- D. 建筑屋顶涂为绿色

我国自然环境复杂多样，区域差异显著。读我国甲、乙区域示意图（图 8），完成第 19、20 题。

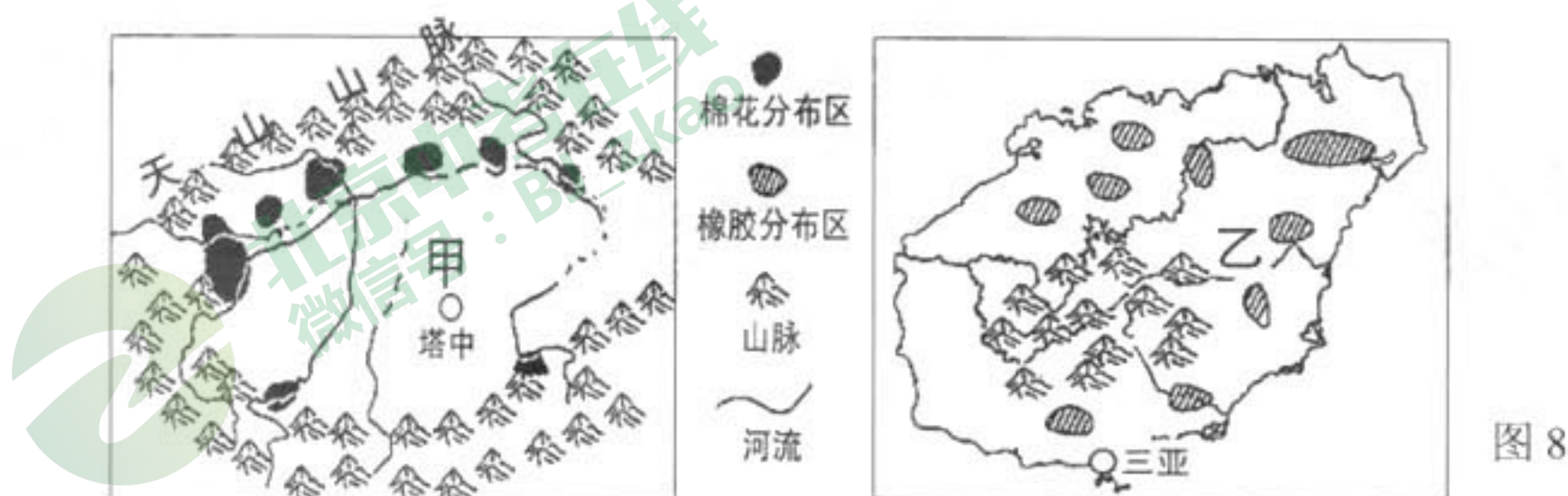


图 8

19. 两区域河流特征描述正确的是

- A. 甲区域河流以雨水补给为主
- B. 甲区域有内流河分布
- C. 乙区域河流以冰雪融水补给为主
- D. 乙区域河流有结冰期

20. 两区域分别盛产棉花和天然橡胶，其共同的自然条件优势



A. 全年降水丰富 B. 劳动力众多 C. 耕地面积广大 D. 7、8月热量充足

冬季,来自我国南方的新鲜蔬菜丰富了北方居民的餐桌。读图9,完成第21、22题。

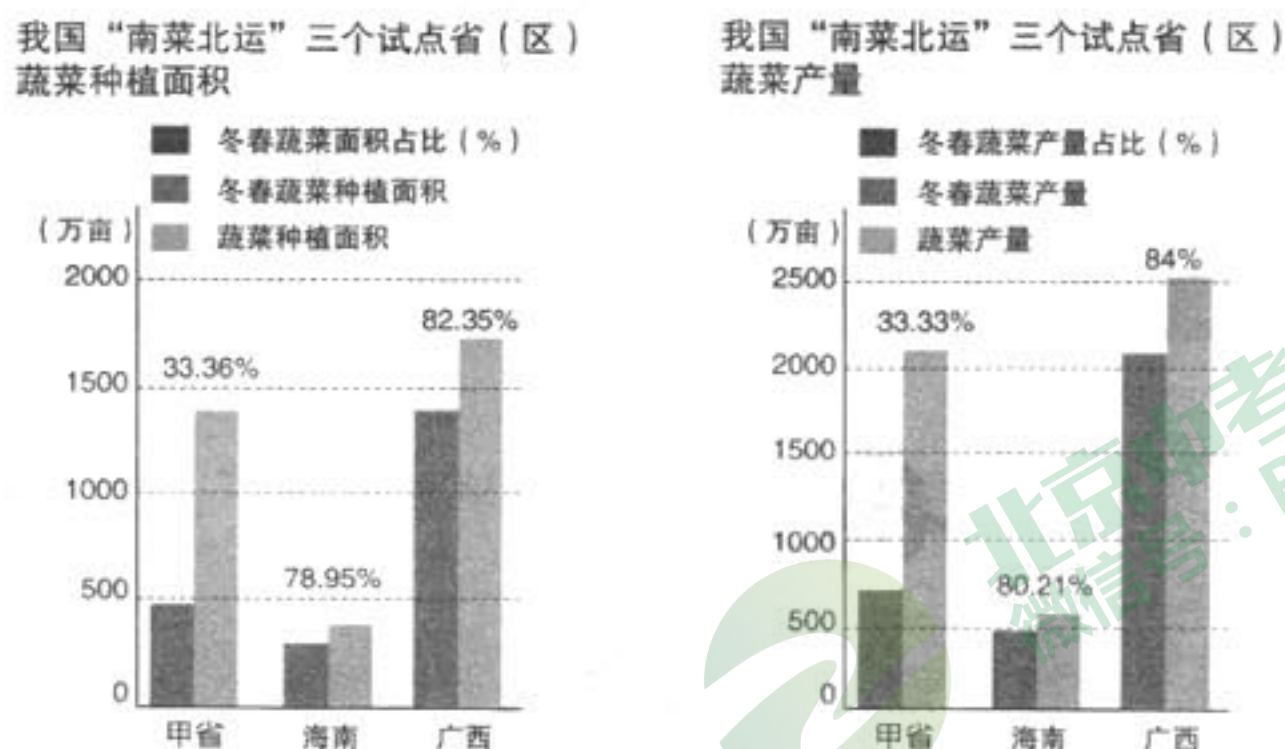


图9

21. 甲省是



- A. ① B. ② C. ③ D. ④

22. “南菜”能“北运”，得力于

- ①冷藏保鲜技术的发展 ②交通运输条件的改善 ③政策的大力支持  
④北方市场需求量增加 ⑤南方市场需求量减小 ⑥试点省份人口稀疏

- A. ①②③④ B. ②③④⑤ C. ①③④⑥ D. ①④⑤⑥

读我国农业生产地区示意图(图10),完成第23、24题。

23. ④农业生产地区的土地利用类型主要是

- A. 林地 B. 耕地  
C. 草地 D. 沙漠

24. 从因地制宜角度出发,①②地最适宜发展的农业部门

- A. 种植业 B. 林业  
C. 渔业 D. 畜牧业

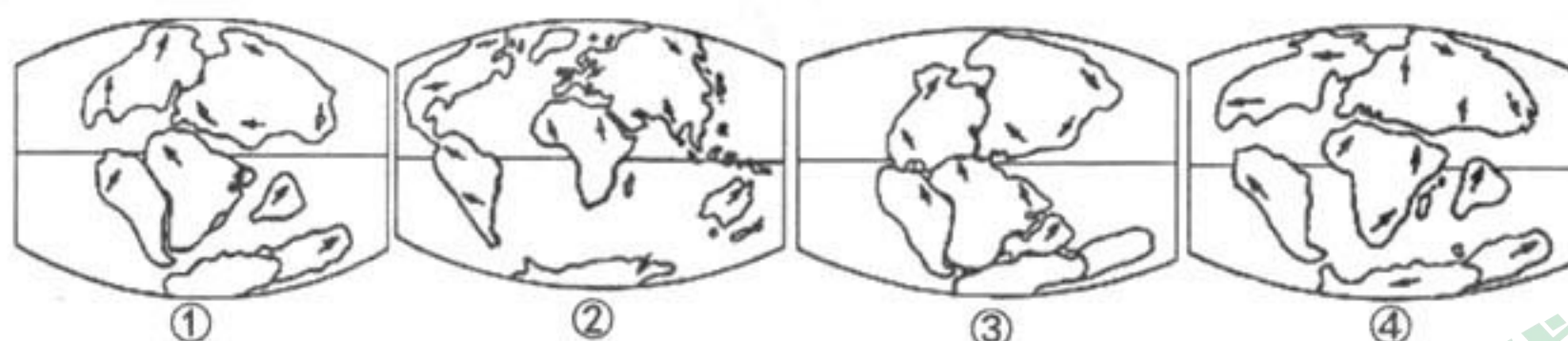


图10

1912年德国地质学家魏格纳提出“大陆漂移学说”。他认为,大约在2亿年前各大陆是连接在一起的,称为泛大陆,其周围是广阔的大洋。后来,泛大陆分裂成几块,每一块都以极其缓慢的速度向不同方向漂移,最后形成今天的海陆分布状况。



25. 依据资料，将下列图像排序



- A. ①③②④      B. ③①②④      C. ③①④②      D. ①③④②

26. 鸵鸟生活在陆地，海牛栖息在热带浅海环境。观察图

11，图中现象为下列观点提供证据的是

- A. 鸵鸟有很强的飞行能力  
B. 海牛有较好的远涉重洋的能力  
C. 非洲大陆与南美洲大陆曾连在一起  
D. 非洲大陆与南美洲大陆正缓慢靠近



图 11

读图 12，完成第 27 题。

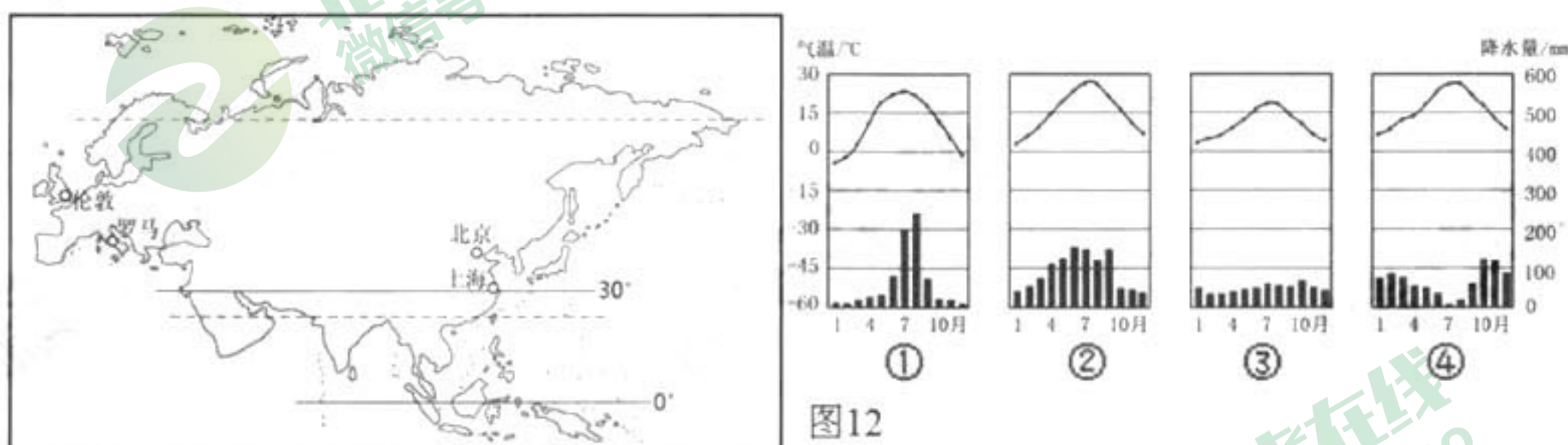


图 12

27. 下列组合正确的是

- A. 伦敦—位于亚洲西部—④—全年降水均匀  
B. 罗马—位于地中海沿岸—③—夏季炎热多雨  
C. 上海—位于 30° N 附近—②—降水分干湿两季  
D. 北京—位于中纬地区—①—冬季寒冷干燥

亚洲是世界上地理环境最复杂的大洲。读图 13，完成第 28、29 题。

28. 亚洲自然地理环境复杂多样，这是因为

- ① 纬度范围广，经度跨度大    ② 四面均濒临海洋  
③ 地形复杂多样，地势起伏大    ④ 大部分地处高纬地区

- A. ①②      B. ①③      C. ③④      D. ②④

29. 亚洲人文地理环境地域差异显著。下列组合正确的是

- A. 东亚——季风气候——食品单一  
B. 西亚——炎热少雨——黑色人种  
C. 中亚——地处内陆——灌溉农业

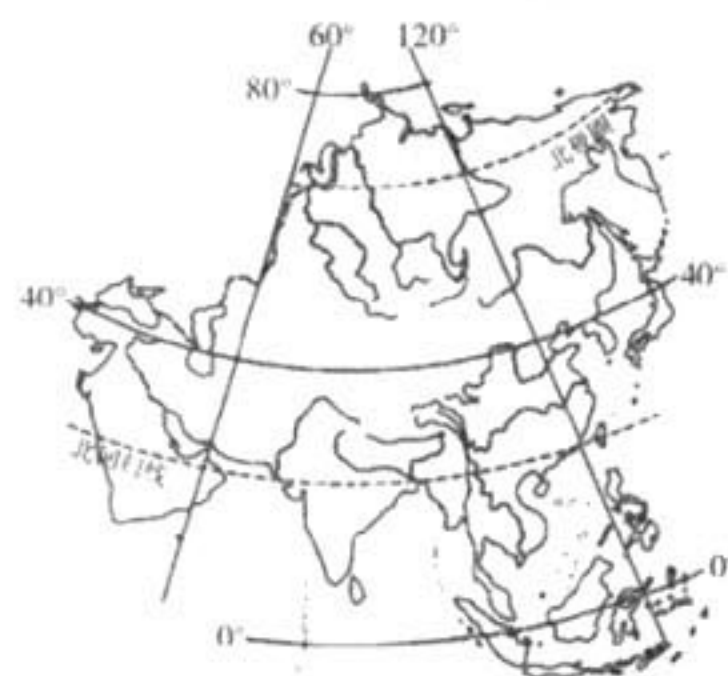


图 13



D. 北亚——纬度较高——民居墙壁薄

读“美国本土人口构成图”(图14),完成第30题。

30. 美国

- A. 印第安人分布范围广
- B. 墨西哥湾沿岸地区人口稠密
- C. 亚洲裔集中分布在大西洋沿岸地区
- D. 种族和民族构成复杂



图14

美国是移民国家。美国的爵士乐是从非洲裔美国人的民间音乐发展起来的,之后演绎成摇滚乐,乡村音乐则起源于英国的民谣;美国人喜欢的“汉堡包”来源于德国汉堡,披萨饼源自意大利;美国人喜爱的棒球是由英国人玩的立柱式代垒游戏演化而来的。

31. 美国种族和民族构成特点对其文化的影响表现在

- A. 亚洲文化显著
- B. 物质文化丰富
- C. 多元文化交融
- D. 饮食文化优越

出境游已成为我国居民欢度春节新时尚。读“2018年春节出境游客统计图”(图15),完成第32、33题。

32. 我国居民出境游主要目的国集中的地区

- A. 欧洲西部
- B. 西亚
- C. 东南亚
- D. 北美

33. 在该地区旅游

- ①欣赏热带海滨风光
- ②观看火山美景
- ③品尝当地美食“饕”
- ④参加那达慕大会

- A. ①②
- B. ②③
- C. ③④
- D. ①④

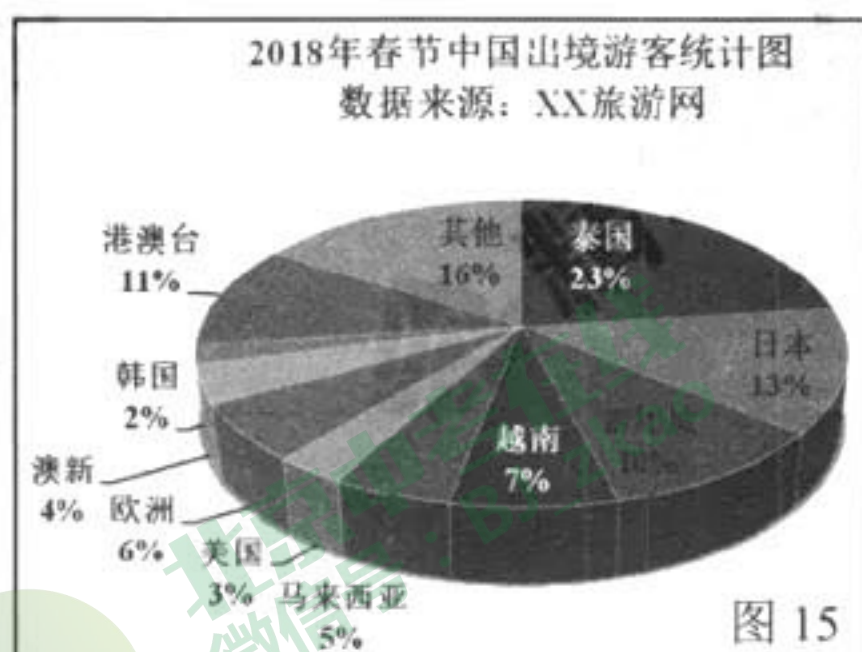


图15

小红一家利用寒假到非洲的马达加斯加岛旅行。读图16,完成第34~37题。

34. 马达加斯加岛

- A. 位于南半球、东半球
- B. 大部分位于南温带
- C. 甲地位于背风坡
- D. 乙地地势起伏大

35. 该岛自然环境特征

- A. 地势西高东低
- B. 河流水能丰富
- C. 气候四季分明
- D. 生物种类匮乏

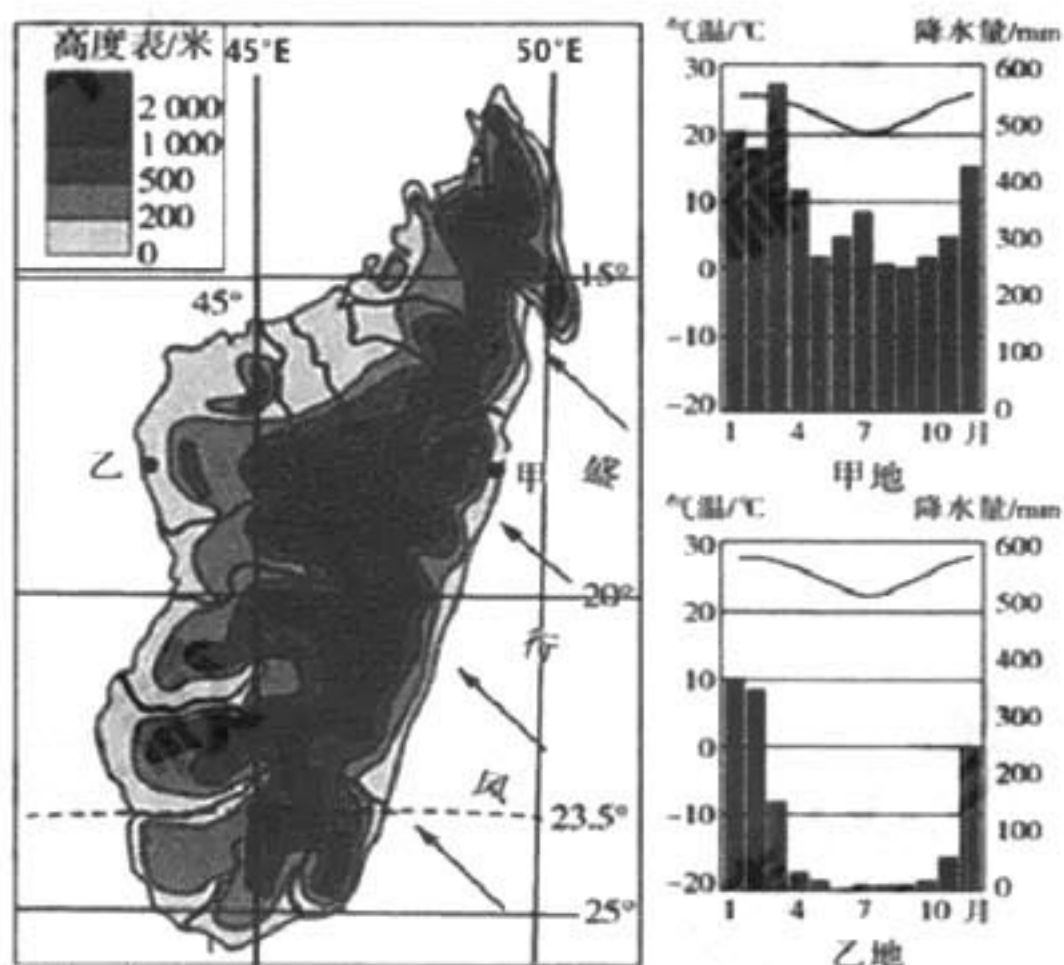


图16



36. 小红在乙地可能欣赏到的景观




A



B



C



D

小红通过当地新闻得知，我国某羊绒企业在当地投资办厂，生产羊绒衫等纺织品，产品直接面向欧美市场。

37. 马达加斯加岛居民对羊绒衫几乎没有需求，其主要影响因素是

- A. 居民收入      B. 文化传统      C. 国家政策      D. 气候特征

读“尼泊尔示意图”（图 17），完成第 38、39 题。



图 17

38. 尼泊尔

- A. 领土的东西跨度小，南北跨度大      B. 北部边境是喜马拉雅山脉  
C. 国内以水路和航空运输为主      D. 境内地壳稳定，地质灾害少

39. 尼泊尔的主要城镇分布在

- ①山脉北坡    ②河谷地带    ③雪山附近    ④公路沿线

- A. ①②      B. ③④      C. ①③      D. ②④

印度目前已成为世界第二大软件出口国。

印度与欧美有近半天时差，欧美公司当天即可通过网络检视印度产品并传回修正指令，形成著名的“全天候产业”；

印度政府制定了一系列软件业知识产权保护和倾斜性的产业政策，为软件大国创造了有利条件；

印度公司以为客户定制软件开发和服务出口为主，优化产业结构，注重技术创新，集中建设了许多软件园区。

40. 阅读资料，概括印度软件产业发展的优势条件

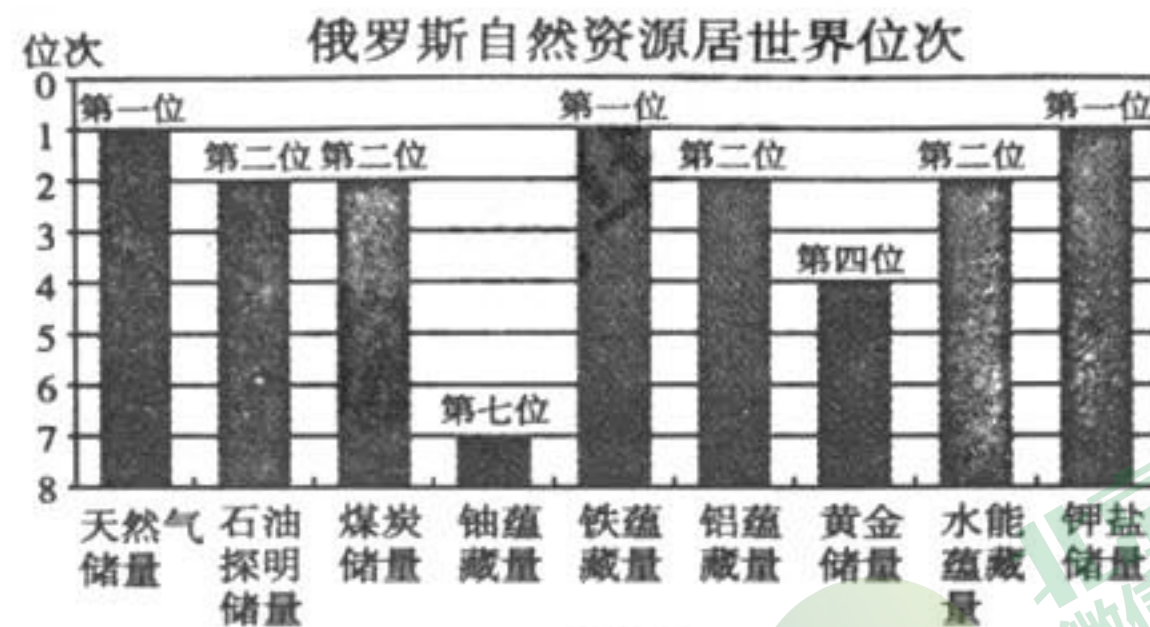
- ①地理位置优越      ②人口数量众多      ③政府政策支持  
④国土面积广阔      ⑤产业结构优化      ⑥农业历史悠久



- A. ①②⑥      B. ②③④      C. ①③⑤      D. ④⑤⑥

二、综合题（共4道题，共50分）

41. 读“俄罗斯矿产、工业区和铁路分布图”（图18）、“俄罗斯自然资源居世界位次”（图19）和“俄罗斯农业区和主要农产品分布图”（图20），回答下列问题。（14分）





(1) 俄罗斯矿产资源种类\_\_\_\_\_，储量\_\_\_\_\_，其中居世界首位的主要有\_\_\_\_\_、\_\_\_\_\_和铁矿。矿产资源主要分布在\_\_\_\_\_山脉以东的\_\_\_\_\_（亚洲/欧洲）部分，丰富的矿产为其工业发展提供了优越条件。（6分）

(2) 俄罗斯的工业区和主要工业城市之间的联系主要依靠（ ）【单选】（1分）

- A. 铁路运输      B. 管道运输      C. 公路运输      D. 水路运输

(3) 俄罗斯的农业区主要分布在\_\_\_\_\_（纬线）以南，主要种植的农作物有黑麦、甜菜和\_\_\_\_\_等。（2分）

(4) 表 2 是李亮暑假乘火车沿西伯利亚铁路在俄罗斯旅行的记录，请判断正误。（5分）  
表 2:

俄罗斯之旅见闻	正确√	错误×
车窗外能看见茂密的落叶阔叶林		
认识了许多俄罗斯人，他们一定是俄罗斯族		
游览了世界最深的咸水湖——贝加尔湖		
列车一路向西穿过乌拉尔山脉，进入东欧平原		
在莫斯科游览了莫斯科红场		

42. 阅读资料，回答下列问题。（14分）

资料一：“青藏高原降水量分布图”（图 21），“青藏高原地形剖面示意图”（图 22）。

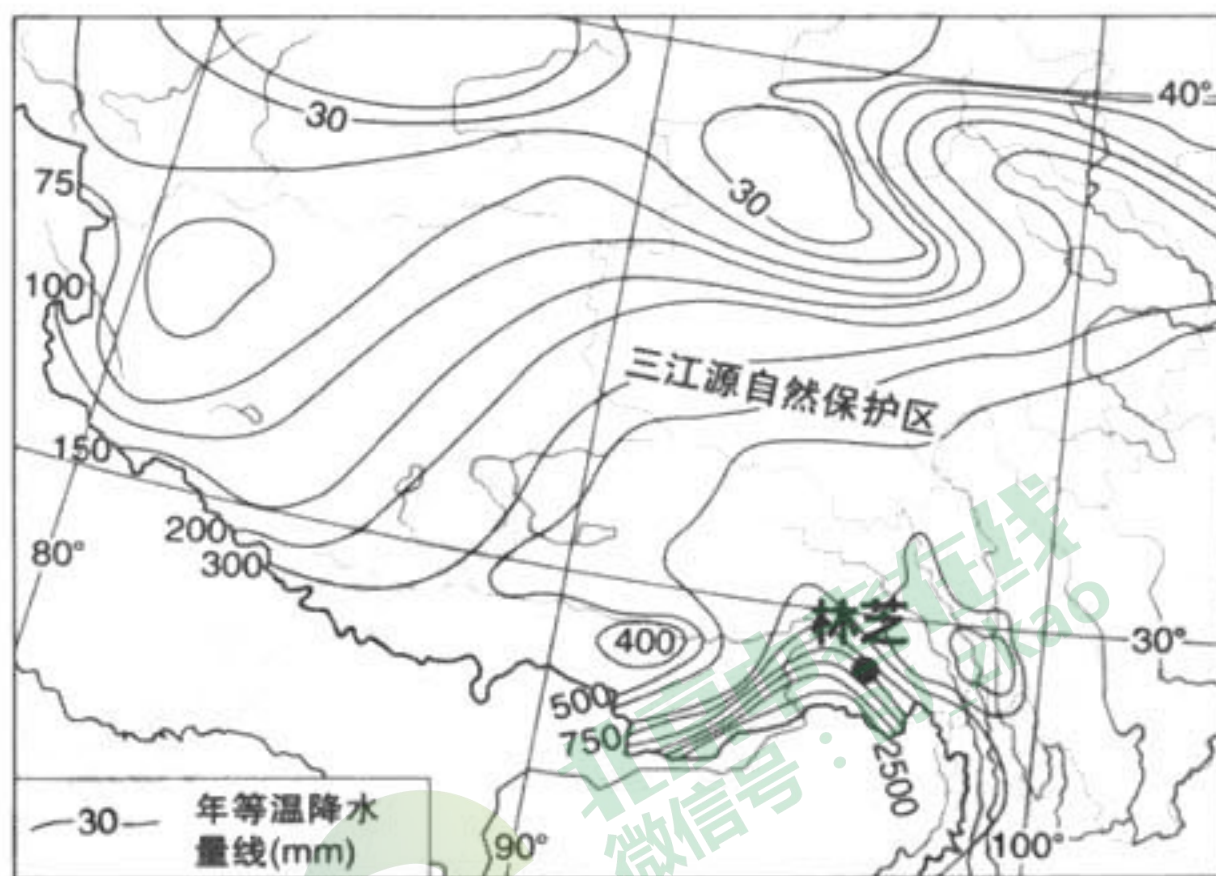


图 21

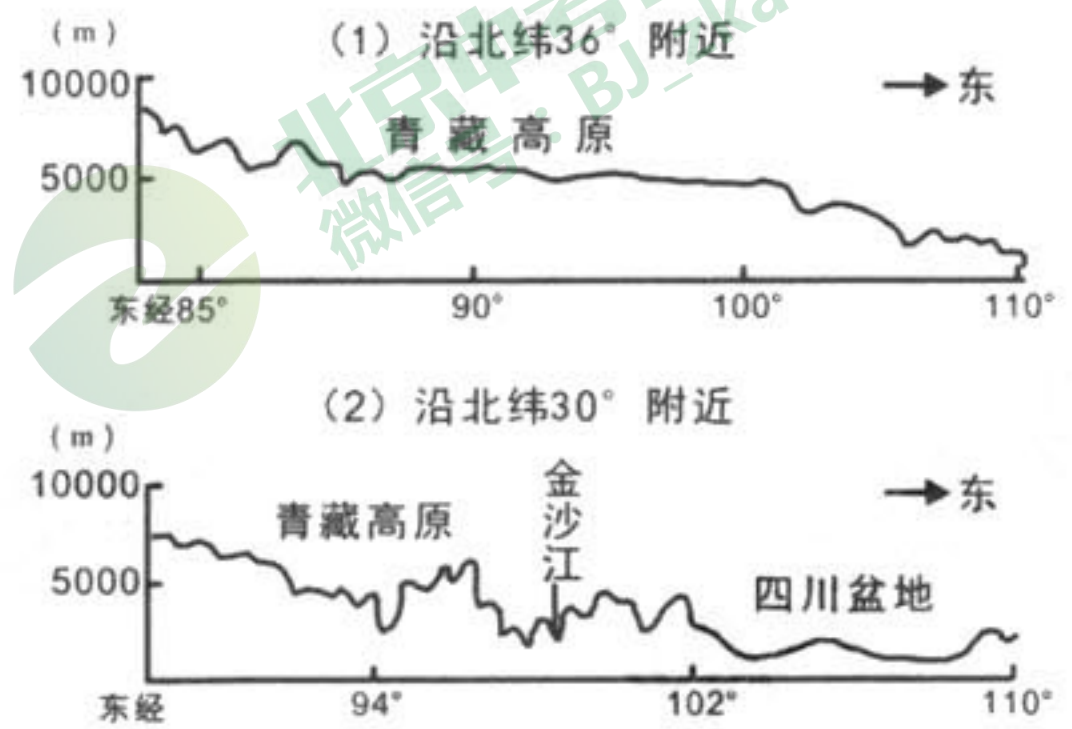


图 22

资料二：青藏高原一般海拔在 4500 米以上，空气稀薄，日照充足，年均温一般在-4℃以下。高原上多山地冰川，是多条大河的发源地。植被以高寒荒漠为主，局部地区有高寒草原。青藏高原东南边缘海拔较低的河谷中四季温暖，降水较多。



(1) 依据材料，列表比较青藏高原内部的地理环境差异 (8分)

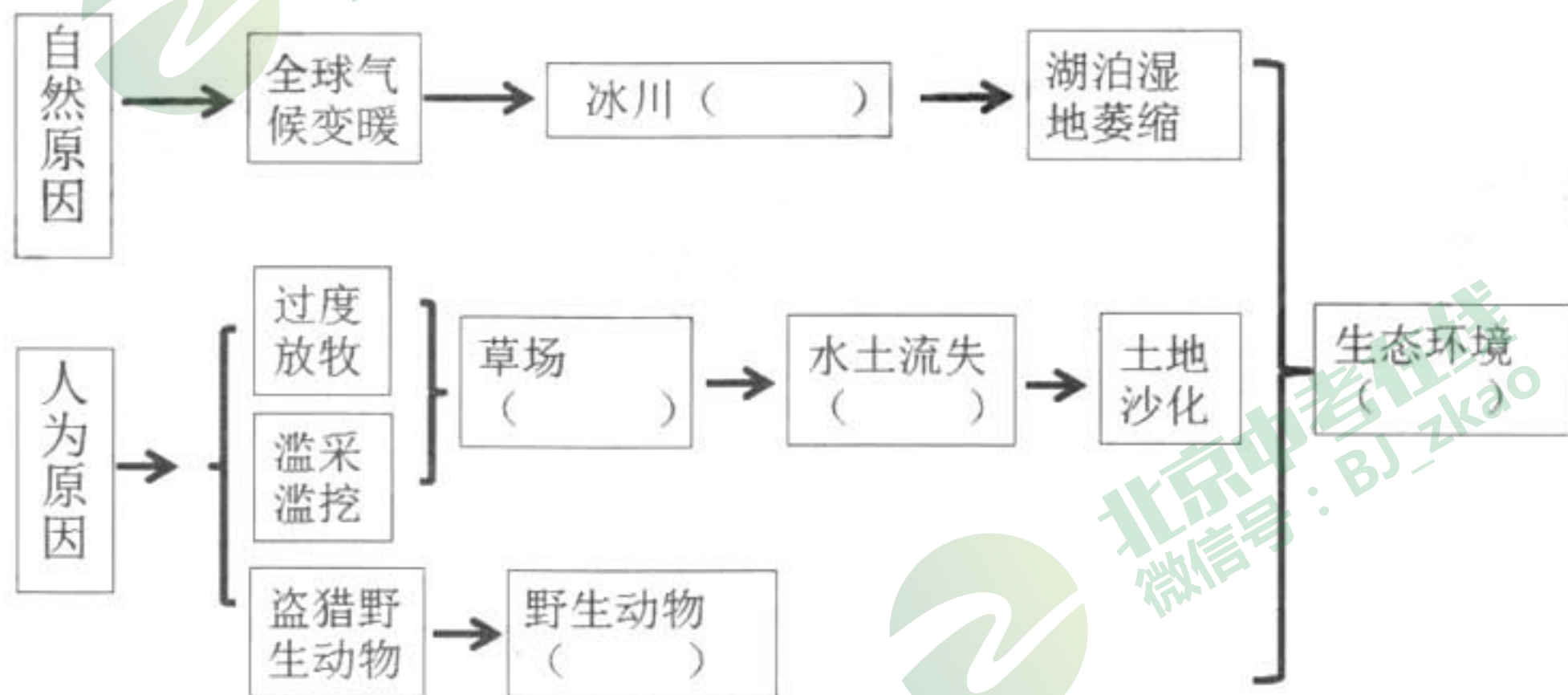
	地区	地势特征	气候特征	清洁能源种类	农业类型
图 22 (1)	青藏高原北部	地势起伏___	气温低、降水___ 日照充足	_____	_____
图 22 (2)	青藏高原东南部	地势起伏___	降水_____	太阳能、地热能 能和_____	_____农业

(2) 与青藏高原其它地区相比，位于藏东南谷地的林芝地区，桃花三月盛开。影响该地桃花盛开的主要自然因素是\_\_\_\_\_。【单选】(1分)

- A. 纬度位置      B. 地形地势      C. 海陆位置      D. 种植技术

资料三：三江源地区是长江、黄河、澜沧江的源区，被誉为“中华水塔”。近些年来，随着全球气候变暖，人类活动加剧，三江源地区生态环境日益恶化。

(3) 依据资料，请完成下列知识结构图。(5分)



43. 宁夏是我国大陆面积最小的省区。读“宁夏年降水量分布图”(图 23) 和有关资料，回答下列问题。(12分)

资料一：在宁夏境内能看见大漠孤烟、黄土沟壑、草原绿毯、黄河湿地等诸多自然景观。



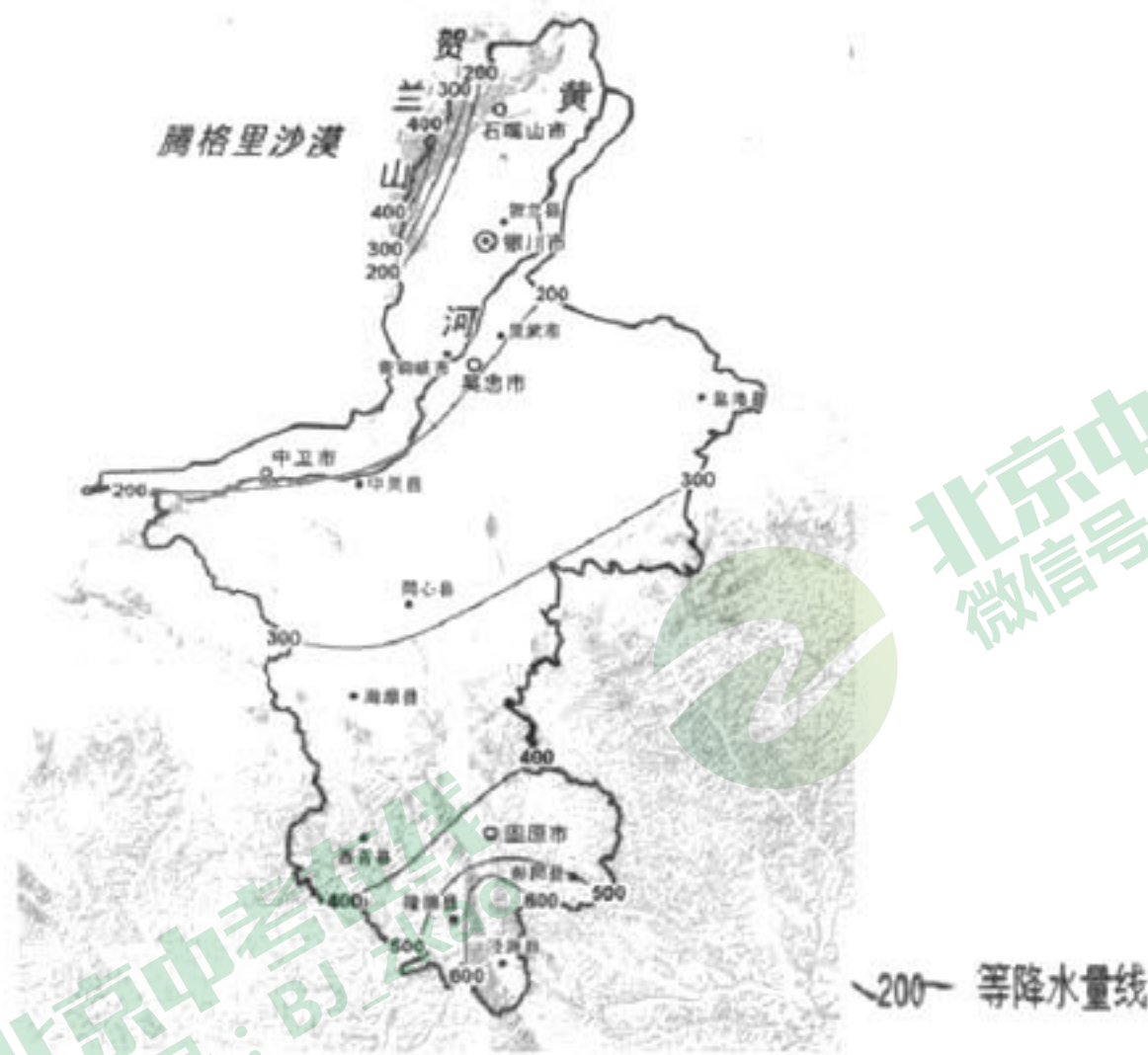


图 23

(1) 宁夏位于\_\_\_\_\_高原、\_\_\_\_\_高原和青藏高原的交会地带，属于\_\_\_\_\_流域。(3分)

(2) 宁夏大部分地区降水量\_\_\_\_\_ (小于或大于) 400 mm，由于蒸发量大，大部分地区属于\_\_\_\_\_地区 (干湿状况)。(2分)

(3) 据图推断，宁夏人口分布特点是\_\_\_\_\_【单选】，影响人口分布的主要因素是\_\_\_\_\_。(2分)

- A. 北部多，中南部少
- B. 西南多，东北少
- C. 东部多，西部少
- D. 东南多，西北少

资料二：在宁夏居住着全国约 1/5 的回族群众。回族是中国分布最广的少数民族，据统计，全国 98% 的县级行政区都有回族分布。回族与汉族等其他民族广泛交错居住。

(4) 依据资料，分析我国少数民族分布特点是\_\_\_\_\_。在银川常见的宗教景观是\_\_\_\_\_【单选】(2分)



A



B



C



D



(5) “贺兰山下果园成，塞北江南旧有名”。贺兰山被视为宁夏平原的“保护神”，理由是\_\_\_\_\_【单选】(1分)

- ①阻挡沙漠东进    ②山水灌溉农田    ③阻挡冬季风侵袭    ④林木繁茂调节气候

- A. ①②    B. ②③    C. ③④    D. ①③

资料三：某中学生在宁夏盐池县游学时，写下观察日记：

当地房屋都是土筑的平房，屋顶是苇席上压沙柳条、麦秸，再抹一层黄泥。这里的村民一辈子不知道什么叫倾盆大雨，三五年给屋顶重上一层黄泥就好了。既然无水可排，屋顶就建成平顶，还可以晾晒玉米谷物。

(6) 依据资料，简要分析当地民居特点与自然环境的关系 (2分)

44. 《北京城市总体规划(2016年—2035年)》已颁布。读资料，回答下列问题。(10分)

资料一：该规划指出，北京城市战略定位是全国政治中心、文化中心、国际交往中心、科技创新中心。

北京与世界各国建立友好关系的城市



图 24

(1) 图 24 显示，与北京建立友好关系的城市分布在除\_\_\_\_\_洲外的多个大洲，由此显示北京是\_\_\_\_\_中心。(2分)

资料二：该规划指出，北京按照以水定城、以水定地、以水定人、以水定产的要求，根据全市可供水资源量和人均水资源量，确定北京市常住人口规模 2020 年控制在 2300 万人以内。

(2) “以水定城、以水定人”的要求反映了北京\_\_\_\_\_【单选】(1分)

- A. 水资源短缺    B. 水域空间分布不均  
C. 水库数量有限    D. 降水季节分配不均

(3) 请从政府、企业、家庭的角度任选一个，举例简要说明北京在解决水资源问题的一些做法。(3分)



北京著名旅游景点分布图




图 25

资料三：该规划指出，北京是见证历史沧桑变迁的千年古都，北京历史文化遗产是中华文明源远流长的伟大见证，是北京建设世界文化名城的根基。

(4) 下列照片所示景区均已列入《世界遗产名录》，据图 25 选择位于北京的是\_\_\_\_\_。

【单选】(1分)



- A. ①②④      B. ②③⑤      C. ②③④      D. ①⑤⑥

(5) 下列漫画表现了某些游客在景区的行为。请你任选一幅，对画中游客行为进行简单评价，并提出有关文明旅游的建议。(3分)



甲



乙



丙





### 石景山区 2018 年初三统一练习 地理试卷答案及评分参考

#### 一、选择题 (40 分)

题号	1	2	3	4	5	6	7	8	9	10
答案	B	D	D	A	B	A	A	B	C	B
题号	11	12	13	14	15	16	17	18	19	20
答案	C	D	A	C	B	A	D	B	B	D
题号	21	22	23	24	25	26	27	28	29	30
答案	A	A	C	A	C	C	D	B	C	D
题号	31	32	33	34	35	36	37	38	39	40
答案	C	C	A	A	B	B	D	B	D	C

#### 二、综合题 (50 分)

41. (1) 丰富 大 天然气 钾盐 乌拉尔 亚洲 (2) A

(3) 60°N 亚麻或小麦或向日葵 (4)  $\times \times \times \sqrt{\sqrt{\quad}}$

42. (1) 图 22 (1) 地势起伏小 降水少 太阳能 畜牧业

图 22 (2) 地势起伏大 降水充足 水能 河谷农业

(2) B

(3) 冰川融化 草场退化 水土流失加剧 野生动物减少 生态环境  
恶化

43.

(1) 内蒙古 黄土 黄河 (2) 小于 半干旱 (3)

A 河流

(4) 大散居, 小聚居, 交错杂居 B (5) D

(6) 平顶, 当地降水少; 苇席、沙柳条、麦秸、土筑, 就地取材

44.

(1) 南极洲 国际交往中心 (2) A

(3) 政府: 制定相关政策; 引导市民节水; 加大节水宣传力度; 投入资金; 跨流域调水等



企业：研发节水设备；提高节水技术；降低污染排放；提高水的利用率等

家庭：节约用水，减少浪费；一水多用；使用无磷洗衣粉等

(4) C

(5) 甲——随处乱丢垃圾，此行为不文明 把垃圾投放到垃圾桶中；  
自带垃圾袋等

乙——随意刻字留念，此行为不文明 文明行为合理就得分

丙——景区内随意攀爬，此行为不文明 文明行为合理就得分

注：文明行为合理就得分



北京中考在线  
微信号：BJ\_zkao



北京中考在线  
微信号：BJ\_zkao



北京中考在线  
微信号：BJ\_zkao