

2017 北京市西城区初二（下）期末

地 理



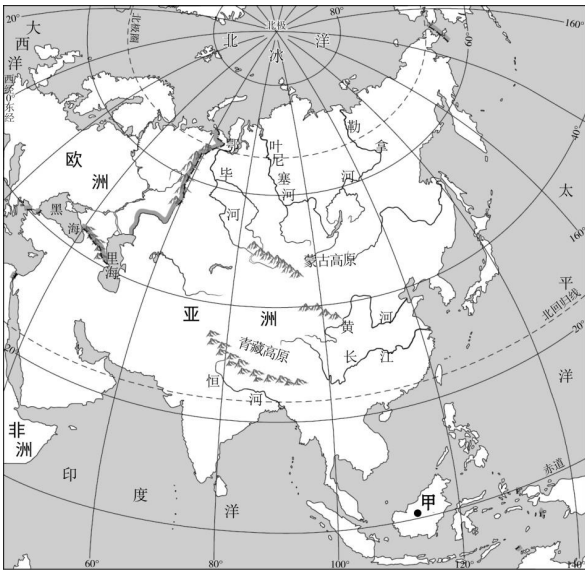
试卷满分：100分 考试时间：60分钟

一、你能选对吗？（40分）

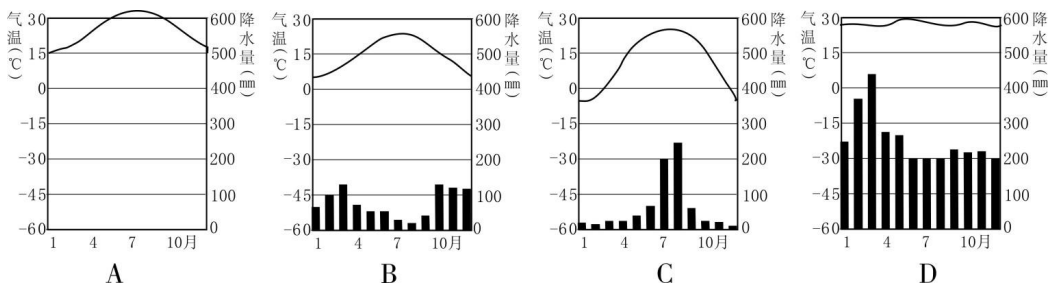
下列各小题均有四个选项，其中只有一项符合题意要求；每小题2分；请你将答案填写在下面的答题框中（使用机读卡的学校请填写在机读卡上）。

题号	1	2	3	4	5	6	7	8	9	10
答案										
题号	11	12	13	14	15	16	17	18	19	20
答案										

读图1“亚洲地图”，完成1~4题。



- 亚洲的地理位置是 **图1**
 - 位于东半球、北半球
 - 所跨经度最广、纬度最多
 - 地处低、中、高纬度
 - 西临太平洋、与欧洲接壤
- 亚洲的地势特点是
 - 西部高、东部低
 - 中部高、四周低
 - 东部高、西部低
 - 中部低、四周高
- 亚洲河流的流向是
 - 呈现辐射状流向四周
 - 自北向南流入北冰洋
 - 自南向北流入印度洋
 - 自东向西流入大西洋
- 图2中，能正确反映图1甲地气候特征的是



2017年4月4日，1380只澳大利亚优质种羊搭乘飞机来到我国，平均每只羊折合人民币约8000元，检疫合格后在陕西落户，读图4“澳大利亚地图”，完成13~15题。

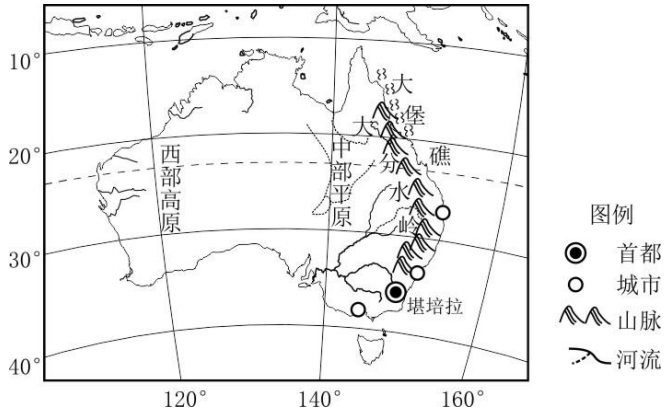


图4

13. 关于澳大利亚的正确叙述是
- A. 独占一块大陆
 - B. 中部平原沙漠广布
 - C. 气候炎热潮湿
 - D. 大堡礁位于东南部
14. 澳大利亚发展养羊业的有利自然条件有
- ①四面临海
 - ②野生食肉动物少
 - ③草原辽阔
 - ④地下水资源丰富
- A. ①②③
 - B. ①②④
 - C. ①③④
 - D. ②③④
15. 我国引进澳大利亚种羊，主要因为其
- A. 历史悠久
 - B. 品质优良
 - C. 成本较低
 - D. 路途较近

K3/4次列车，是中国铁路的一趟国际联运快速列车，运行于中国北京至俄罗斯莫斯科之间。读图5“俄罗斯地图”，完成16~18题。

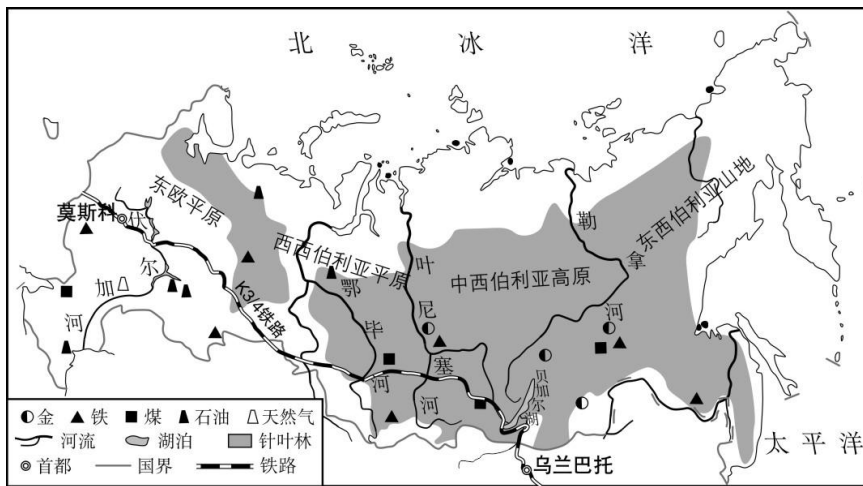


图5

16. 游客乘坐K3/4国际列车，沿途
- A. 经过从东欧平原到东西伯利亚山地之间的不同地形区
 - B. 穿越了世界上面积最广阔的原野——西西伯利亚平原
 - C. 可以欣赏漫无边际的西伯利亚温带落叶阔叶林的风光
 - D. 经过世界上最深、蓄水量最大的淡水湖——贝加尔湖
17. 该列车一路上跨越了多条河流，其中有被俄罗斯人称为“母亲河”的
- A. 叶尼塞河
 - B. 勒拿河
 - C. 伏尔加河
 - D. 鄂毕河
18. 俄罗斯和中国有密切的贸易往来，俄罗斯出口到中国的商品中最可能有
- A. 军工产品、服装
 - B. 煤炭、稻米

C. 石油、天然气

D. 汽车、家电

2017年4月6日至7日，中国国家主席和美国总统在美国佛罗里达州举行会晤。据此完成19~20题。

19. 中美两国共同的地理特征是

- A. 均位于北半球，西半球
- C. 均濒临太平洋和大西洋

- B. 自然资源都很丰富
- D. 人种都很复杂多样

20. 美国经济的主导产业为

- A. 采矿业
- C. 旅游业

- B. 石油化学工业
- D. 信息技术产业

二、谁对谁错？（10分）

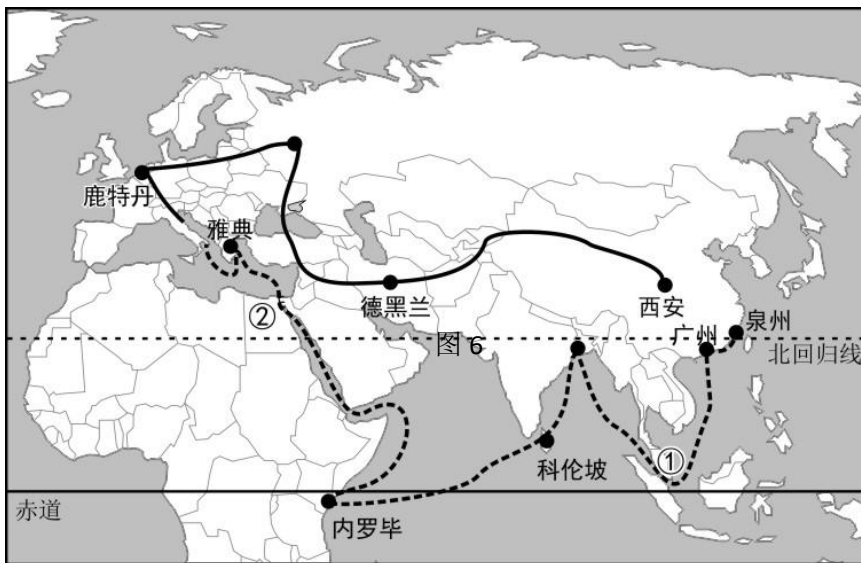
在你认为对的表述后填写（D），错的表述后填写（C）；每小题2分；全部填写同一答案不得分（使用机读卡的学校填写在机读卡上）。

题号	21	22	23	24	25
答案					

- 21. 中南半岛山河相间，城市多分布在河流沿岸。 ()
- 22. 北极地区纬度很高，素有“冰雪高原”之称。 ()
- 23. 澳大利亚和美国都是以出口农矿产品为主的发达国家。 ()
- 24. 巴西人口和城市分布不均，集中在北部平原区。 ()
- 25. 亚马孙雨林被誉为“地球之肺”和“绿色心脏”。 ()

三、你能答对吗？（50分）

26. 2017年5月14日至15日，“一带一路”国际合作高峰论坛在北京举行。国家主席习近平出席并发表主旨演讲。习主席在论坛中提出要在科学、教育、文化等各领域广泛开展合作。阅读图文资料，回答下列问题。（20分）



图例 ———— 丝绸之路经济带 - - - - - 海上丝绸之路

资料1：2014年至2016年，中国同“一带一路”沿线国家贸易总额超过3万亿美元。中国对“一带一路”沿线国家投资累计超过500亿美元。中国企业已经在20多个国家建设56个经贸区，为有关国家创造近11亿美元的税收和18万个就业岗位。

资料2：2017年3月27日，新西兰与中国签署“一带一路”合作协议，成为首个签署相关协议的西方发达国家。新西兰并不属于一带一路沿线国家，却积极签署了合作协议。

(1) 21世纪海上丝绸之路经济带，连接了_____洲、_____洲和_____洲三个大洲，经过①_____海峡和②_____运河。



(2) 东南亚和西亚都是“一带一路”所经区域，比较区域差异，完成下列表格。

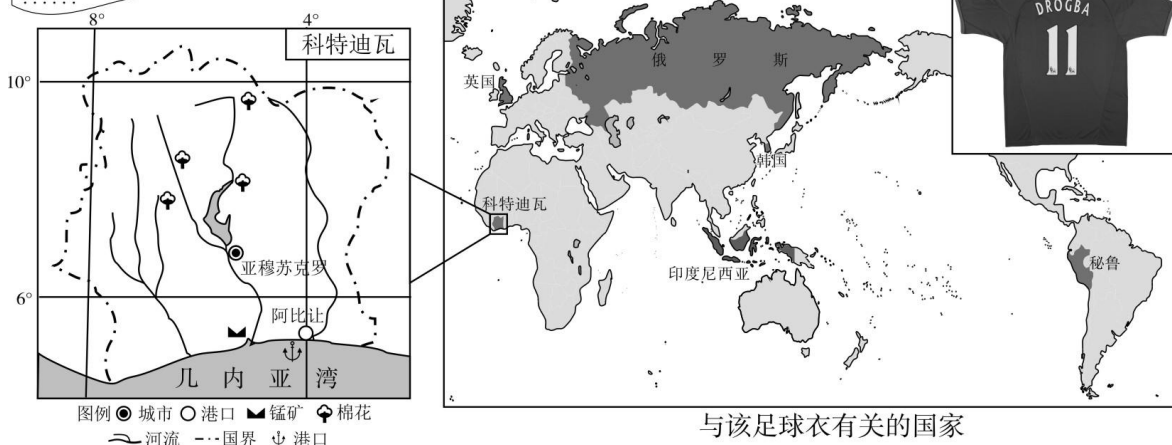
项目 \ 区域	东南亚	西亚
海陆位置	连接东亚和大洋洲，沟通 _____洋和_____洋。	地处“_____海_____洲”之地。
降水特征	年降水量_____。	年降水量_____。
资源状况	盛产_____、油棕等 _____（温度带）经济作物。	_____资源丰富，主要分 布在_____及其沿岸地区。

(3) 陆上和海上丝绸之路均从中国延伸到_____（地理区域），从经济发展水平看，该地理区域的国家多为_____国家。

(4) 新西兰_____（属于、不属于）“一带一路”沿线国家，新西兰积极签署合作协议，有利于两国在_____、
_____等各领域广泛开展合作。

27. 2017年5月20日，郝佳同学去中国国家博物馆观看“大英博物馆100件文物中的世界史”展览（简称大英展），学到很多史地知识，其中第99号展品给他留下深刻印象。阅读图文资料，回答下列问题。（15分）

郝佳同学十分好奇：科特迪瓦在哪里？
德罗巴为什么在法国长大？为什么德罗巴的一件仿冒球衣会成为重要的展品？
.....



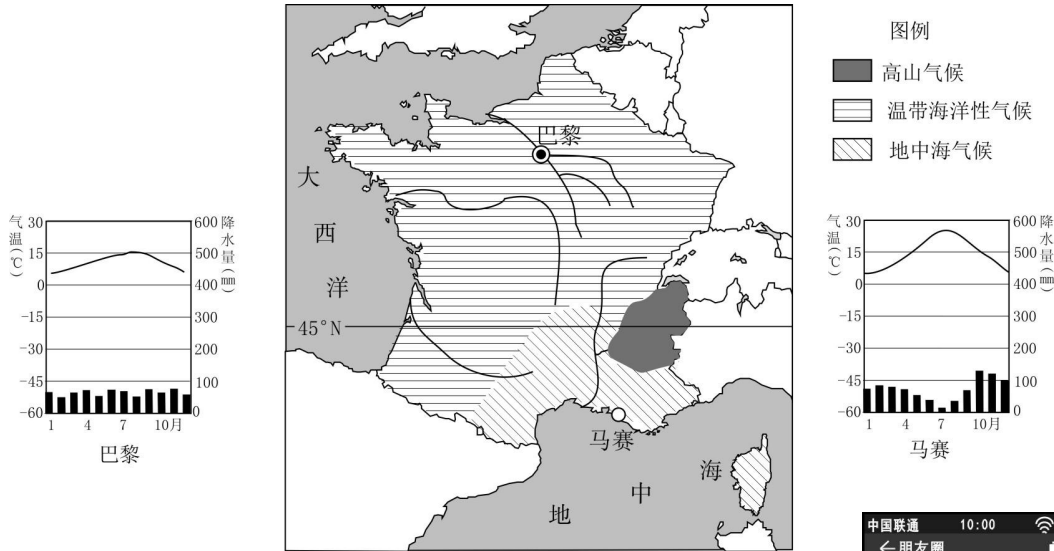
资料：大英展讲述一部纵跨200万年，横跨五大洲的人类文明史。100件文物精选自大英博物馆800多万件藏品，其中有9件文物来自中国。第99号展品是仿冒足球衣，这件2010年印度尼西亚生产、秘鲁市场出售的11号球衣上，写着世界著名足球运动员德罗巴的名字。德罗巴出生于科特迪瓦港口城市阿比让，在法国长大，为英国切尔西俱乐部效力。切尔西足球俱乐部老板是俄罗斯人，切尔西最大的赞助商是韩国三星集团。

- 科特迪瓦地处_____洲，南临_____湾，属于五带中的_____，全年气温_____，居民多为_____人种。
- 由于科特迪瓦内战不断，德罗巴小时候移民_____国。当科特迪瓦国家足球队成功晋升2006年世界杯后，德罗巴借此成功调停了持续的内战。德罗巴对_____（和平、发展）进程的努力，让他成为时代杂志全球百大最有影响力人士之一。
- 德罗巴出生地阿比让是西非最大的天然_____。中科建交以来，两国贸易不断发展。中方主要向科方出口机电产品、纺织品和高科技产品等，从科方进口_____、
_____等农矿产品。
- 该仿冒足球衣所涉及的国家众多，其中完全位于亚洲的是_____，地跨亚洲和欧洲的是_____，

地跨亚洲和大洋洲的是_____，位于南美洲的是_____。作为一件普通商品，该球衣成为大英展一件重要展品，反映出市场把世界连接在一起，表明了_____经济一体化。

28. 北京市初中生郝佳，寒假期间接待了法国交流学生巴尔。让我们一起进入巴尔的微信。阅读图文资料，回答下列问题。（15分）

图8




(1) 巴尔刚到北京就发了朋友圈，他的法国朋友立刻回复，并给他提出问题（如图9）。请你帮巴尔回复阿道夫：

虽然北京纬度位置比巴黎_____，但冬季气温比巴黎低。巴黎为_____气候，冬季（气温）_____。北京为_____气候，冬季（气温）_____。



图9

(2) 读图10，请你为巴尔挑选美食照片_____（选择填空），并帮忙分析：



法国地处西欧，大部分地区地形_____，气候全年温和，降水季节分配_____，有利于多汁牧草的生长，因而适宜发展_____业（农业类型）。

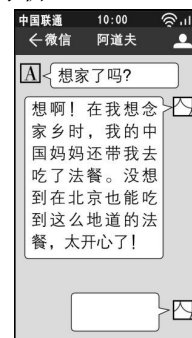


图10

(3) 读图11，请你帮忙解释：

法国南部濒临_____海，气候类型是_____，那里夏季_____（气候特点），适合葡萄生长，因而葡萄酒的产量居世界前列，这也是法餐中必不可少的饮品。

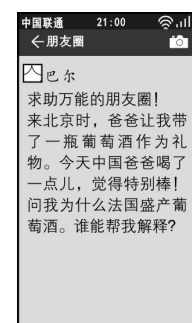


图11

(4) 结束了在北京的学习交流，巴尔回到了巴黎。巴尔给郝佳发微信：请根据微信内容（如图 12），判断巴尔发来的照片有_____（多项选择填空）。



A



B



C



D



E



F

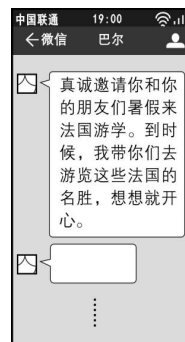


图 12



地理试题答案

一、你能选对吗？（每小题 2 分，共 40 分）

题号	1	2	3	4	5	6	7	8	9	10
答案	C	B	A	D	B	C	A	B	A	D
题号	11	12	13	14	15	16	17	18	19	20
答案	C	B	A	D	B	D	C	C	B	D

二、谁对谁错？（每小题 2 分，共 10 分）

题号	21	22	23	24	25
答案	D	C	C	C	D

三、你能答对吗？（共 50 分）

26. 本题共 20 分。

- (1) (5 分) 亚 非 欧 马六甲 苏伊士
 (2) (10 分)

太平 印度	五 三
多	少
天然橡胶（或椰子、马尼拉麻） 热带	石油 波斯湾

- (3) (2 分) 欧洲西部 发达
 (4) (3 分) 不属于 科学 教育（文化、经贸、农业、电子商务、教育、知识产权保护、环保）

27. 本题共 15 分。

- (1) (5 分) 非 几内亚 热带 高 黑色
 (2) (2 分) 法 和平
 (3) (3 分) 良港（海港、港口） 棉花 锰矿石
 (4) (5 分) 韩国 俄罗斯 印度尼西亚 秘鲁 全球（世界）

28. 本题共 15 分。

- (1) (5 分) 低 温带海洋性 温和 温带季风 寒冷
 (2) (4 分) A 平坦 均匀 乳畜（畜牧）
 (3) (3 分) 地中海 地中海气候 炎热干燥
 (4) (3 分) BCF

