



微信扫一扫，快速关注

考生须知	1. 本试卷共 10 页，共两部分，34 道题，满分 90 分。考试时间 90 分钟。 2. 在试卷和答题卡上认真填写学校名称、姓名和考场号。 3. 试题答案一律填涂或书写在答题卡上，在试卷上作答无效。 4. 在答题卡上，选择题用 2B 铅笔作答，其它试题用黑色字迹签字笔作答。 5. 考试结束，将本试卷和答题卡一并交回。
------	---

第一部分 选择题（共 45 分）

本部分共 30 小题，每小题 1.5 分，共 45 分。在每小题列出的四个选项中，选出最符合题目要求的一项。

- 历史兴趣小组研读《史记》，当他们读到：“武王……封尚父于营丘，曰齐。封弟周公旦于曲阜，曰鲁。封召公奭（shì）于燕。”材料反映的是
 - 武王伐纣
 - 分封制
 - 兼并战争
 - 三省六部制
- 战国时期最具影响力的学派是儒家与墨家，当时有“非儒即墨”之说。然而秦王嬴政却推行法家思想，这是因为法家主张
 - 严刑峻法，中央集权
 - 顺其自然，无为而治
 - “兼爱”“非攻”
 - 仁者爱人，为政以德
- 对以下示意图解读正确的是




- 春秋时期的诸侯争霸
 - 战国时期的百家争鸣
 - 秦朝建立后巩固统一
 - 汉武帝加强中央集权
- 一位同学阅读《三字经》：“嬴秦氏，始兼并。传二世，楚汉争。高祖兴，汉业建。至孝平，王莽篡。光武兴，为□□。四百年，终于献。”其中“□□”处应为
 - 秦朝
 - 西汉
 - 东汉
 - 东晋
 - 魏晋以来，内迁的各族人民向汉族学习农业技艺，而汉族人民向北方各族人民学习畜牧经验，又接受了他们的服装和食物等。这反映的历史现象是

- 民族交融
 - 农业发展
 - 畜牧养殖
 - 饮食习惯
- 《史记》记载江南地区“地广人希（稀）”，而南朝《宋书》则记载：“江南……地广野丰，民勤本业，一岁或稔，则数郡忘饥……丝绵布帛之饶，覆衣天下。”江南地区发生上述变化的原因是
 - 中原人口大量南迁
 - 南方社会相对安定
 - 统治者重视经济发展
 - 海外贸易的发展

- ①②③
- ②③④
- ①②④
- ①③④

- 都江堰与隋朝大运河是我国古代著名的水利工程。它们的共同作用是
 - 沟通南北交流
 - 促进经济发展
 - 导致国家灭亡
 - 造福成都平原

- 右图是北宋张择端所绘《清明上河图》(局部)，展现出当时店铺林立、生意兴隆、人口稠密的街市景象。这幅图可用于研究



- 北宋的政治制度
 - 宋词元曲的流行
 - 贞观之治的气象
 - 商品经济的发展
- 有学者认为：“在许多方面，宋朝在中国都是个最令人激动的时代，它统辖着一个前所未有的发展、创新和文化繁盛期。”下列选项能够印证上述观点的是
 - 蔡伦改进造纸术
 - 毕昇发明活字印刷术
 - 指南针开始应用于航海
 - 火药广泛应用于军事
- ①②③
 - ②③④
 - ①②④
 - ①③④
- 《元史·地理志·序》记载元朝幅员辽阔，“北逾阴山，西极流沙，东尽辽左，南越海表。”元朝管辖疆域的措施是
 - 科举制
 - 郡县制
 - 郡国制
 - 行省制
 - 一位同学在学习近代某一条约的内容时用到以下关键词：“割地”“赔款”“五口通商”“协定关税”。这一条约是


- 《南京条约》
 - 《北京条约》
 - 《马关条约》
 - 《辛丑条约》
- 1894 年，黄海海战中指挥致远舰冲向敌舰“吉野号”，不幸殉国的民族英雄是
 - 林则徐
 - 洪秀全
 - 邓世昌
 - 谭嗣同
 - 下列四部反映晚清历史的影视作品，按历史事件发生的先后顺序排列，正确的是



①



②



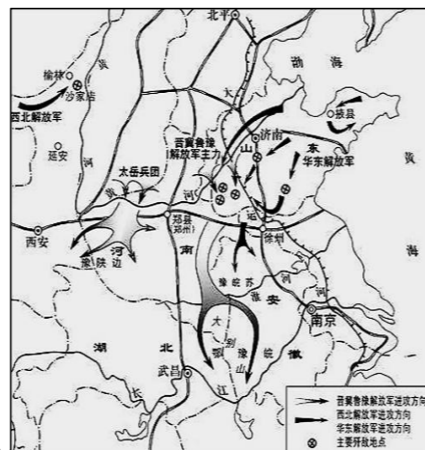
③



④



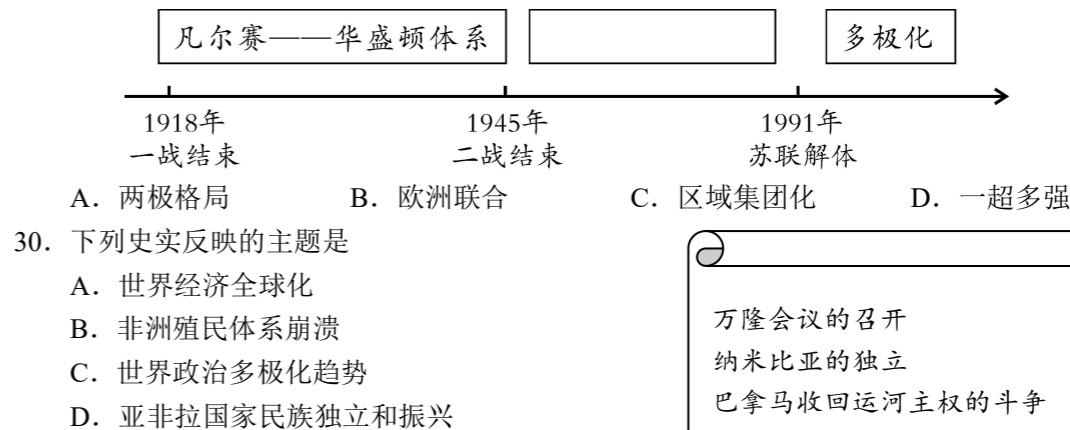
- A. ①②③④ B. ②③④① C. ④②③① D. ②④③①
14. 清末状元张謇放弃仕途，辞官回乡，创办大生纱厂。这体现出他主张
A. 变法图强 B. 实业救国 C. 君主立宪 D. 民主科学
15. 某学校组织学生参观辛亥革命首义之城，他们最应该去的地方是
A. 广州 B. 长沙 C. 武昌 D. 延安
16. 中华民国建立后，废除跪拜、拱手等礼节，革除“大人”“老爷”等称呼。官员之间以职位相称，普通人士则以“先生”“君”相称。这种社会习俗变化主要反映了
A. 平等观念 B. 科学思想 C. 自由观念 D. 等级观念
17. 辛亥革命是 20 世纪中国历史的第一次巨变。下列说法正确的是
①推翻清王朝，建立中华民国 ②结束两千多年的君主专制
③改变了中国社会性质 ④促进社会经济的发展
A. ①②③ B. ①②④ C. ①③④ D. ②③④
18. 喊出“外争国权，内惩国贼”口号的历史事件是
A. 五四运动 B. 北伐战争
C. 西安事变 D. 重庆谈判
19. 1935 年，挽救了党，挽救了红军，挽救了中国革命，成为中国共产党生死攸关转折点的会议是
A. 中共一大 B. 国民党一大 C. 遵义会议 D. 中共七大
20. 近代中国曾经流传许多反映时代主题、鼓舞人心的革命歌曲。下列歌曲出现的先后顺序是
①《八路军进行曲》 ②《国民革命歌》
③《解放区的天》 ④《飞越大渡河》
A. ①②③④ B. ③①②④ C. ③④①② D. ②④①③
21. 一位同学在自主学习中看到这样一幅对联：三十万同胞惨遭杀戮，哀魂泣天冤仇永记；七八年国土饱受践踏，疮痍遍地教训长存。这幅对联纪念的历史事件是
A. 四一二政变 B. 九一八事变
C. 七七事变 D. 南京大屠杀
22. 抗战以来，中国正面战场取得的最大胜利是
A. 太原会战 B. 淞沪会战
C. 台儿庄战役 D. 武汉会战
23. 与右图相关的历史事件是
A. 转战陕北 B. 挺进大别山
C. 三大战役 D. 渡江战役



24. 右图是 1949 年 1 月人民解放军在万众欢呼中进入前门大街的情景，与之相关的历史事件是



- A. 北平和平解放 B. 南京解放
C. 上海解放 D. 西藏解放
25. 1917 年 11 月 6 日晚到 7 日清晨，大约 20 万革命士兵、赤卫队员占领了彼得格勒的电话总局等战略要地，起义者以“阿芙乐尔号”巡洋舰的炮声为信号，冲进冬宫，逮捕了临时政府主要领导人。这一历史事件是
A. 俄国农奴制改革 B. 巴黎公社革命
C. 俄国二月革命 D. 俄国十月革命
26. 某历史公众号准备推送一期专题——苏联的社会主义建设。下列各项可以放进专题资源包的是
①图片：《新经济政策的实施》 ②论文：《斯大林模式的评价》
③视频：《苏联的改革》 ④地图：《“北约”与“华约”的对峙》
A. ①②③ B. ①②④ C. ②③④ D. ①③④
27. 1933 年美国颁布法规，规定工人的工作时数为每周 35 小时，最低工资为每小时 0.4 美元。与这一法规相关的是
A. 战时共产主义政策 B. 罗斯福新政
C. 马歇尔计划 D. 杜鲁门主义
28. 1942 年夏天至 1943 年初，使德国被迫由战略进攻转入战略防御，扭转了第二次世界大战局势的战役是
A. 莫斯科保卫战 B. 斯大林格勒战役
C. 诺曼底登陆 D. 德国无条件投降
29. 一位同学制作了 20 世纪以来国际政治格局演变示意图。图中空格处应填写的是



万隆会议的召开
纳米比亚的独立
巴拿马收回运河主权的斗争
非洲独立年



第二部分 材料分析题 (45 分)

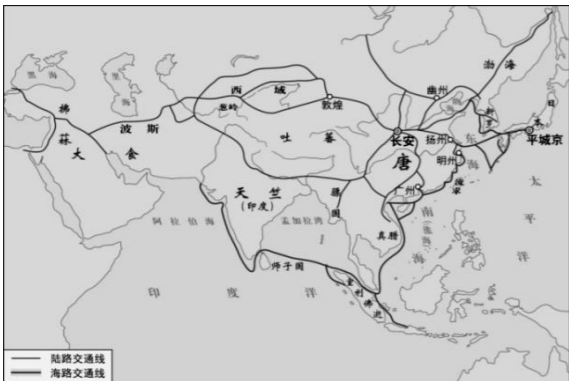
31. (11 分) 对外交往是中国古代历史的重要内容, 各朝各代绵延有序。

材料一 汉代丝绸之路路线图



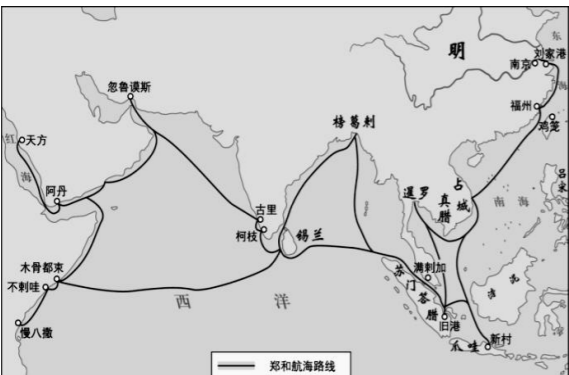
汉武帝时, 张骞开辟通往西域的道路, 逐渐形成沟通欧亚的陆上交通道路——丝绸之路。汉武帝还大力开辟海上交通, 逐步形成海上丝绸之路。

材料二 唐朝对外主要交通路线图



唐朝陆上、海上交通发达, 架起中外经济文化交流的桥梁, 与世界 70 多个国家和地区都有交往。唐朝的发达文化远播域外, 对周边国家和地区产生了深远影响; 唐朝对域外文化广泛吸收, 也促进了社会发展。

材料三 郑和航海路线图



郑和作为明朝的使者, 代表明朝皇帝拜会当地国王或酋长, 同他们互赠礼品, 向他们表示通商友好的诚意。与郑和下西洋有关的亚非国家使节来华共 318 次。中国的茶叶、瓷器、丝织品等物产和造纸、指南针为代表的科技以及四书五经等为代表的书籍, 成为交流的重要产品。

(1) 依据材料并结合所学, 完成下列表格。(3 分)

时间	对外交往路线或政策	对外交往史实
汉朝		佛教传入等
唐朝	陆上、海上丝绸之路	
两宋至明朝前期	海上丝绸之路	郑和下西洋
清朝前期		在广州设十三行

(2) 依据材料并结合所学, 概括中国古代中外交往的主要特点。(3 分)

(3) 依据材料三, 对以下表述做出判断: 直接从材料得出的, 在括号内划“√”; 违背材料所表达意思的, 在括号内划“×”; 材料没有涉及的, 在括号内划“○”。(3 分)

- ①郑和下西洋促进了与亚非多国政治、经济、文化交往。 ()
- ②郑和下西洋清剿海盗、平息纷争, 维护了沿线安定和平。 ()
- ③郑和下西洋主要是宣扬国威, 对经济贸易交流没有起到促进作用。 ()

(4) 从中国古代对外交往的历程中, 你能够获得哪些认识? (2 分)



32. (10分) 北京是世界著名古都。为了解北京历史文化遗产，学校组织考察活动。

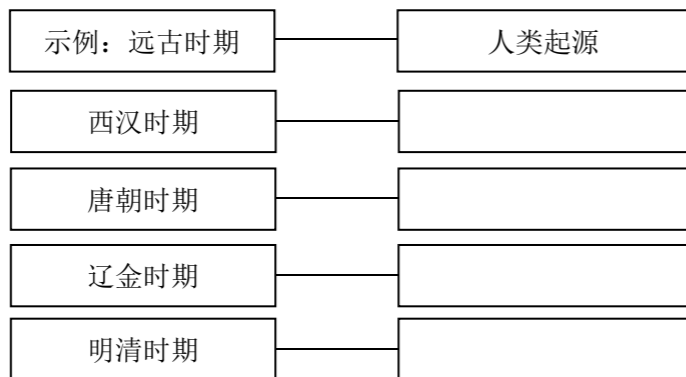
【设计路线】

历史文化遗产	文物简介
①周口店北京人遗址博物馆	周口店北京人遗址出土了6件较为完整的人类头盖骨化石，15件下颌骨，157枚牙齿及大量骨骼碎块，代表约40个北京猿人个体，还有数万件石器及大量用火灰烬。
②故宫博物院	紫禁城是明清两代皇宫，以太和殿、中和殿、保和殿三大殿为中心，是皇帝处理政务的场所。整体布局严谨，严格按照封建礼制和阴阳五行学说设计营造。
③大葆台西汉墓博物馆	大葆台汉墓出土大量铁器，最具代表的是“渔”字铁斧。铁斧的一面有凸起的“渔”字，这是渔阳郡铁官作坊的标记。这一发现是西汉盐铁官营的重要证据。
④房山云居寺	云居寺东北角小塔建于唐开元年间。塔外两尊力士雕像威武刚健，塔内东壁雕的是形体丰满的侍女，西壁雕的是高鼻深目、丰髭重须的胡人。这些雕像反映了当时的社会风貌。
⑤天宁寺塔	天宁寺塔修建于辽代。塔身浮雕有金刚力士、菩萨、云龙等纹饰，形象生动，不仅是辽代雕塑艺术精品，也体现了契丹人对佛教的崇尚。金定都于中都后，又对其进行修缮。

(1) 按时序将考查路线补充完整：①、_____、_____、_____、②。(3分)

【深入研究】

(2) 阅读上述历史文化遗产简介，仿照示例，概括历史文化遗产反映的时代特征。(4分)



【成果运用】


(3) 丰富的历史文化遗产是代表北京形象的名片。从上述历史文化遗产中**任选其一**（北京人遗址除外），仿照示例，为该历史文化遗产设计推荐名片。(3分)

示例：北京人遗址推荐名片


北京人遗址发现了较为完整的北京猿人化石、大量石器与用火遗迹。这些文物与遗迹见证了早期人类的起源与发展，为了解早期人类社会提供了丰富的第一手实物证据。

因此，推荐北京人遗址。

33. (12分) 鸦片战争以后，中国人民开始向西方学习，开启了近代化进程。



①江南制造总局炮厂



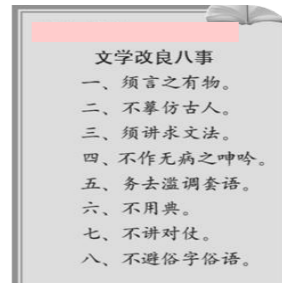
②光绪帝颁布《定国是诏》




③《新青年》封面



④张之洞创办的汉阳铁厂外景



⑤胡适文学改良主张



⑥《中华民国临时约法》封面

(1) 以上图片呈现了中国近代化探索的进程。请写出中国近代化的四次重要探索(名称)。(4分)

(2) 分类整理上述图片，将序号填到相应的位置上。(6分)

经济近代化：_____

政治近代化：_____

思想文化近代化：_____

(3) 依据上述材料和所学，概括中国近代化探索的趋势。(2分)



34. (12分) 某班学生布置《中国新民主主义革命之路》展览，请你共同参与。

材料一 展览主题“开天辟地的大事”



《国共合作 1924·广州》



《起航——中共一大会议》



《红军过草地》

(1) 材料一中哪一幅图片符合展览主题？请说明理由。(4分)

材料二 展览主题“探索中国革命新道路”

①1924至1927年，国共两党合作进行了国民大革命，基本上推翻了北洋军阀的统治，沉重打击了帝国主义侵略势力。

②1927年4月12日，蒋介石发动了四一二反革命政变，残酷屠杀共产党人和革命人士。

③1927年8月1日，为了反抗国民党反动派的疯狂屠杀，共产党人发动了南昌起义，打响了武装反抗国民党反动统治的第一枪。

④1927年9月9日，毛泽东领导发动了秋收起义。起义失败后，毛泽东根据敌强我弱的客观形势，果断决定从进攻大城市转向农村。

⑤1927年10月，毛泽东率领中国工农革命军到达井冈山地区，开创了第一个农村革命根据地，点燃了“工农武装割据”的星星之火。

(2) 依据材料二，归纳中国革命探索的新道路是什么。(2分)

材料三 展览主题“抗日战争”

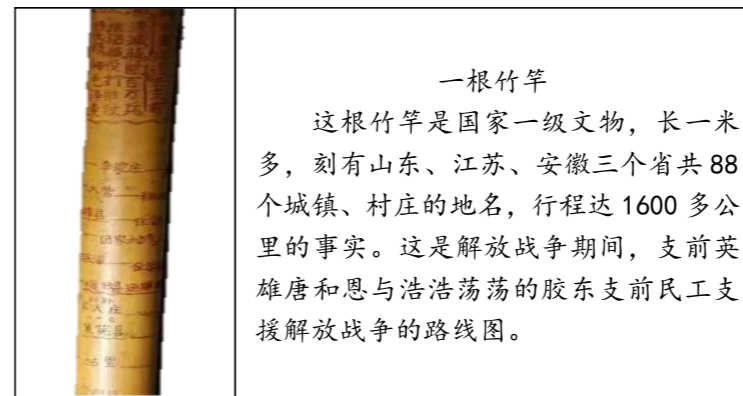
九一八事变后第二天，中国共产党发布了《为日本帝国主义武装占领满洲宣言》。第三天，又发表《中国共产党为日本帝国主义强暴占领东三省事件宣言》，号召全国人民一致动员起来，反对日本帝国主义强占东三省。随后，共产党领导的东北红色游击队、东北人民革命军、东北抗日联军开始了十四年抗战。

七七事变后第二天，中国共产党即向全国发出通电，号召实行全民族抗战。1937年9月，国民党公布了《中国共产党为公布国共合作宣言》，标志着抗日民族统一战线正式形成。

抗战期间，中国共产党先后建立了19个抗日根据地，经历了无数次残酷“扫荡”，付出了巨大牺牲，一直斗争到日本投降！

——摘编自《中国共产党在抗日战争中的突出作用》

材料四 展览主题“为新中国而奋斗”



(3) 依据材料三并结合所学，概括抗日战争取得胜利的原因。(3分)

(4) 以上四个主题呈现了新民主主义革命的发展历程，你从中获得哪些启示？(3分)