



2021 北京平谷初三（上）期末

历史

2021.1

学校_____姓名_____准考证号_____

| | |
|------------------|--|
| 注 意 事 项 | 1. 本试卷共 8 页，包括两部分，24 道小题。满分 70 分，考试时间 70 分钟。 2. 在试卷和答题纸上准确填写学校名称、班级、姓名和考号。 3. 试题答案一律填涂或书写在答题纸上，在试卷上作答无效。 4. 在答题纸上，第一部分试题用 2B 铅笔作答，第二部分用黑色签字笔作答。 5. 考试结束，请将本试卷和答题纸一并交回。 |
|------------------|--|

第一部分 选择题(共 30 分)

一、单项选择：(共 30 分,每小题 1.5 分，请将正确选项填涂在机读卡上)

1.若以“北京地区原始人群”为题开展综合社会实践活动，你认为最可靠的证据来源应该是

- A. 记载北京地区的史学著作
- B. 周口店猿人遗址考古发掘
- C. 近现代学者们的研究论述
- D. 关于北京地区的古史传说

2. 下面是西周分封的部分情况示意图。叔虞、康叔受封，因为他们的身份是



- A. 宗亲
- B. 殷商贵族后代
- C. 功臣
- D. 周王母系亲戚

3. 食物名字包含着丰富的历史文化内涵。与下列食物得名相关的历史事件是



胡豆



胡麻



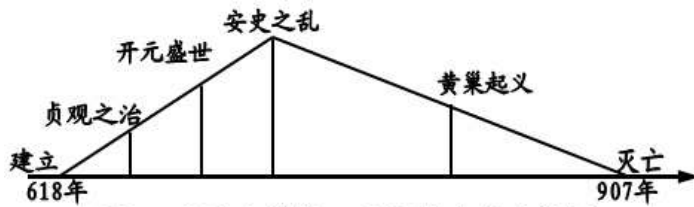
胡桃

- A. 丝绸之路
- B. 玄奘西行
- C. 鉴真东渡
- D. 郑和下西洋

4. 北魏新都洛阳城的设计吸纳了中原传统文化，采用平城和建康城的样式。该设计体现的时代特征是

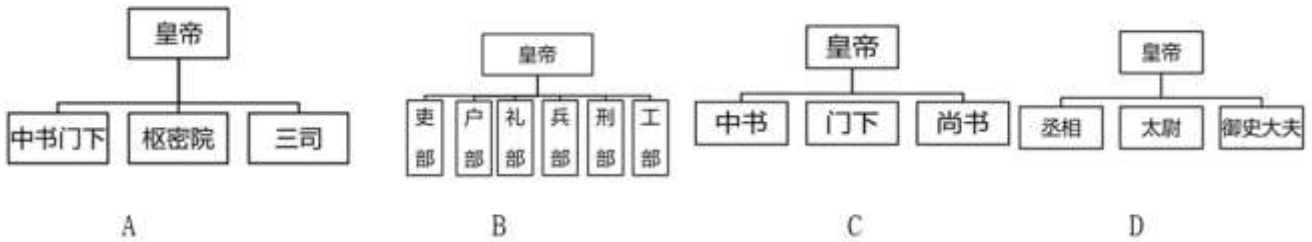
- A. 国家富强
- B. 对外开放
- C. 江南开发
- D. 民族交融

5. 读下面图 1 中内容，反映的中国古代王朝是



- A. 秦朝 B. 西汉 C. 唐朝 D. 明朝

6. 下列选项中，最能反映明朝中后期中央行政机构的示意图是



7. 北宋时期，最高军事机构枢密院的正副长官累计超过 200 人，其中文臣出身者 162 人，武将出身者 39 人。这反映了北宋治国策略的特点是

- A. 藩镇割据 B. 民贵君轻 C. 休养生息 D. 重文轻武

8. 浙江省有一处纪念馆，其前廊柱上有楹联两副：“名播千秋昭典籍，身经百战著勋功”；“荡彼倭夷靖海宇，保吾黎庶泽椒江”。从中可知该馆纪念的历史人是

- A. 郑和 B. 郑成功 C. 李自成 D. 戚继光

9. 右图所列史实共同反映了清政府重视

- A. 民族自治
B. 对外贸易
C. 边疆治理
D. 文化交流



10. 不同的历史时期呈现不同的阶段特征。下列最能体现宋元时期阶段特征的是

- A. 统一多民族国家的建立和巩固 B. 繁荣与开放的时代
C. 民族关系发展和社会变化 D. 统一的多民族国家的巩固和发展

11. 14 世纪中叶起源于意大利，15、16 世纪开始向西欧其他国家和地区传播的文艺复兴运动的历史贡献是

- A. 为欧洲资本主义社会的产生和发展奠定了思想文化基础
B. 使物理学成为一门独立的学科，打破了“上帝创造万物”的神创论
C. 世界开始连为一个整体，世界的观念从此逐步确立起来
D. 欧洲文化传到殖民地，对殖民地社会的发展产生了深远的影响

12. 《共产党宣言》指出：“美洲的发现、绕过非洲的航行，给新兴的资产阶级开辟了新的活动场所。”材料评述的是

- A. 新航路开辟的影响
- B. 文艺复兴产生的背景
- C. 欧洲垦殖运动的意义
- D. 欧洲手工工场的作用

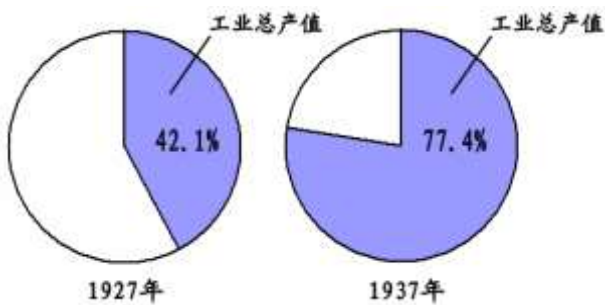
13. “每年的7月14日，法国政府不惜巨资，置办国庆典礼，举行阅兵仪式，发表纪念讲话。白天人们载歌载舞，夜晚欢呼狂欢。可以说，有关法兰西共和国的一切源头，都可以追溯到这里。”法国“置办国庆典礼”是为了纪念

- A. 巴黎民众攻占巴士底狱
- B. 拿破仑击退欧洲反法联盟
- C. 巴黎民众处死路易十六
- D. 拿破仑建立法兰西第一帝国

14. 历史课后，小明对19世纪中期资产阶级革命和改革的学习内容进行归类整理，其中正确的是

- ①美国南北战争 ②俄国农奴制改革 ③日本明治维新 ④美国独立战争
- A. ①②③④
- B. ①③④
- C. ②③④
- D. ①②③

15. 下图为苏联工业总产值占国民经济总产值的比重变化示意图，此示意图说明苏联

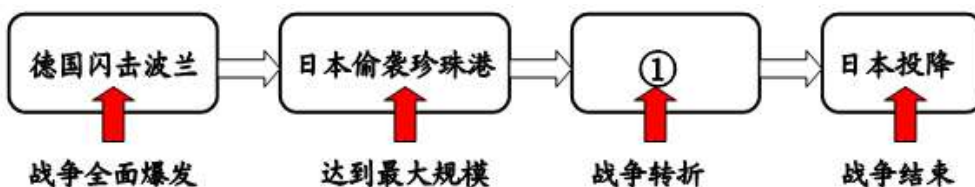


- A. 实行新经济政策
- B. 实现了工业化
- C. 完成农业集体化
- D. 发展模式僵化

16. 第一次世界大战从根本上动摇了欧洲的优势地位，进一步促进了殖民地半殖民地国家的民族觉醒，亚非拉民族民主运动高涨，其表现是

- A. “解放者”玻利瓦尔和圣马丁领导的南美洲独立运动
- B. 印度非暴力不合作运动、埃及华夫脱运动和墨西哥卡德纳斯改革
- C. 第一次亚非会议召开；不结盟运动兴起；所有非洲国家摆脱殖民枷锁
- D. 世界贸易组织与联合国成为支撑、协调世界经济和政治的两大支柱

17. 以下示意图呈现了第二次世界大战的主要进程，①处应是



- A. 莫斯科保卫战
- B. 斯大林格勒战役
- C. 诺曼底登陆
- D. 德国无条件投降

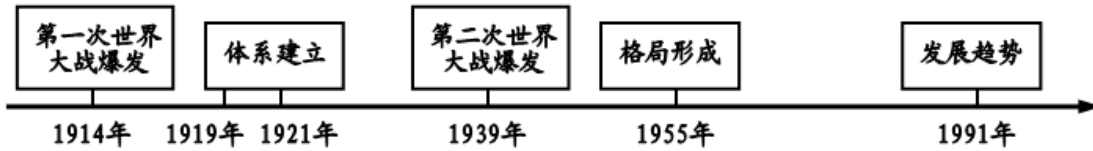


18. 右图漫画是欧洲百年“极简史”。对其表述正确的是

- A. 从冷战走向和平
- B. 从单极走向多极
- C. 从强大走向没落
- D. 从对抗走向联合



19. 下图所反映的主题，最恰当的是



- A. 国际经济格局的演变
- B. 社会主义与资本主义的对抗
- C. 国际政治格局的演变
- D. 欧洲走向一体化

20. 20 世纪初期，妇女开始赢得选举权。1900 年，只有一个国家的妇女赢得了全国大选的选举权，到 1950 年，已有 69 个国家的妇女可以参加选举，到 1975 年则是 129 个国家。这说明

- A. 妇女完全摆脱了家庭束缚
- B. 妇女政治地位逐步提高
- C. 妇女实现与男性完全平等
- D. 妇女解放运动彻底胜利



第二部分 综合题(共 40 分)

21. (10 分) 经济是政治、社会生活和文化的基础。阅读下列材料，回答问题。

材料一 汉兴，扫除繁苛，与民休息。至于孝文，加之以恭俭，孝景遵业，五六十载之间，至于移风易俗，黎民醇厚，周云成康，汉言文景，美矣！

——《汉书·景帝纪》

(1) 依据材料一，归纳文景之治出现的原因。(2 分)

材料二 关于宋代制瓷业的材料



汝窑



官窑



钧窑



定窑

自 1949 年以来，考古发现的古代瓷窑遗址分布于我国十九个省、市、自治区的 170 个县，其中分布有宋窑的达 130 个县，占总数的 75%。由于宋瓷大量向海南诸国出口，成为当时风靡世界的畅销货，因而在对外贸易的

港口附近建立了不少的瓷窑。如福建路泉州、同安、南安、安溪、莆田所制瓷器，多通过泉州港出口；两浙路武义、东阳以及其他州县的烧瓷，则通过杭州、明州出口。

——摘编自漆侠《宋代经济史》

(2) 依据材料二，结合所学知识，归纳宋代制瓷业的特点。(2分)

材料三 安史之乱后，黄河流域陷入长期藩镇割据混战中，此时的南方保持了相对稳定，北方人口大量南迁。南方掀起了水利建设的高潮，水稻生产技术逐步提高，有力地推动了南方农业的发展，加速经济重心南移。

——摘自齐涛《中国古代经济史》

(3) 依据材料三，概括当时中国社会的重大变化。简要分析变化的原因(2分)

材料四 瓦特的万能蒸汽机是英国工业革命中最伟大的技术发明，也是人类生产技术史上的一次飞跃。19世纪下半叶，世界历史进入一个全新的、前所未有的大变革时代。电学、磁学、光学、化学等科学技术突飞猛进，科技发明层出不穷，人类的智慧像魔术般地将电灯、电话、电报、电站、电车、电机、电缆等新生事物接二连三地呼唤出来。传统的农业和半农业、乡村和半乡村社会迅速告别历史舞台，人类满怀激情地迎来城市社会和工业社会的新阶段。与此同时，资本主义生产关系发生某些质变，集中化、垄断化以及世界经济整体化趋势大大加强。

——摘编自李宏图等《工业文明的兴盛：16-19世纪的世界史》

(4) 依据材料四，指出19世纪下半叶世界发生了哪些“全新”变革。(2分)

材料五 美国历史上的杰出人物(部分)



①林肯



②爱迪生



③罗斯福



④比尔·盖茨

“19世纪是属于英国的，20世纪是属于美国的，21世纪则是属于中国的”。

——美国著名金融学家吉姆·罗杰斯

(5) 材料五中的历史人物在促使20世纪成为“美国的世纪”中发挥了重要作用，依据所学，从中任选一位说明其贡献。(2分)



22. (10分) 阅读材料, 完成下列要求。

材料一 皇帝制度的发展经历了三个阶段: 一是从夏商周至秦始皇时期, 是由王变为皇帝的时期; 二是自秦汉至宋元时期, ①皇帝的统治权与宰相的行政权相对分离, 且相互抗衡, ②皇权不断被加强, 相权不断被削弱, 这也反映了中国古代专制主义的不断加深; 三是自洪武十三年明太祖改制——③皇帝集中了统治权与行政权, 成为绝对专制君主, 标志着中国绝对专制君主的出现。

——全根先《试论中国古代皇帝制度》

(1) 请选择材料中的一个观点(写序号), 并结合所学知识进行论证。(3分)

材料二 1689年的革命性解决方案, 是一种所有英国人都能够接受的妥协。威廉和玛丽仍然行使很大的行政独立权, 但从此以后, 议会每年都会召开, 勒紧钱袋, 在公共事务的发展趋势方面互通有无。在詹姆士二世以后, 没有哪一位英国国王企图摆脱议会进行统治, 或是蔑视议会的存在。

——[美]理查德·邓恩《现代欧洲史2》

(2) 依据材料二并结合所学知识回答, “革命性解决方案”指哪个文件?(1分) 该“方案”的颁布有何重大意义?(2分)



材料三 宪法依据分权制衡原则设计了一个联邦制共和国: 行政、立法、司法三权分立, 总统、国会与最高法院及其相关机构各司其职, 相互制衡; 联邦政府与地方政府分享权利; 总统和议员由选举产生。1787年美国宪法是世界上第一部资产阶级成文宪法, 对后来许多国家的政治变革产生了重要影响。

——部编世界历史九上

(3) 依据材料三, 指出1787年宪法的原则及影响?(2分)

材料四 当今全球面临极为严峻的挑战, 任何政府、企业和个人都不可能独自应对。2013年, 中国首次在国际场合提出构建“人类命运共同体”的倡议, 顺应了历史潮流, 回应了时代要求, 为人类社会实现共同发展、持续繁荣、长治久安绘制了蓝图。“人类命运共同体”理念在国际场合获得普遍认同。从理念到共识, 彰显了中国方案对全球治理的巨大贡献。

——摘编自王立培《中华魂》

(4) 依据材料四结合所学知识, 谈谈你对人类命运共同体理念积极意义的认识。(2分)

23. (10分) 某校历史兴趣小组以“走近思想文化”为主题, 开展探究活动。阅读材料, 回答问题。

第一组: 【思想学术组】

材料一

①为政以德, 譬如北辰, 居其所而众星共之。

②祸兮, 福之所倚; 福兮, 祸之所伏。



③天下兼相爱则治，交相恶则乱。

④万乘之主，千乘之君，所以制天下而征诸侯者，以其成势也。

(1) 上述材料一中属于道家的是____，属于儒家的是____ (2分，只填写序号)

材料二 《宣言》是极具实践性的马克思主义纲领性文献，它预示并指导了工人阶级反对资产阶级的革命的发展。《宣言》奠定的科学社会主义基本原则与俄国实际相结合，产生了十月革命的伟大实践。正是在《宣言》的指引下，中国共产党成立，中国革命、建设和改革取得巨大成功。马克思主义不是教条，而是行动的指南。

《宣言》揭示了共产主义事业是人类最壮丽和崇高的事业，因为共产主义作为理想追求，和共产主义运动作为伟大实践，超越了狭隘的剥削阶级偏见，以实现人类解放和幸福为最高目标。

——摘编自郝立新《〈共产党宣言〉的历史地位和现实意义》

(2) 依据材料二，指出马克思主义理论对俄国、对中国产生的影响，并归纳马克思主义理论的特点。(3分)

第二组：【科学技术组】

| | | |
|----------------|---------------|---------------|
| 秦汉至明清时期主要科技成就展 | ①蔡伦改进造纸术 | ②贾思勰的《齐民要术》 |
| | ③张仲景写成《伤寒杂病论》 | ④毕昇发明活字印刷术 |
| | ⑤徐光启的《农政全书》 | ⑥火药武器广泛用于战争 |
| | ⑦李时珍编写《本草纲目》 | ⑧中国海船上开始使用指南针 |
| | | |

(3) 请你依据主题，仿照示例归类 (2分，至少选出两项)

【示例】医学成就③⑦

第三组：【文学艺术组】

材料三



(4) 依据材料三，结合所学，写出以上三幅图片反映的文学形式。(3分)

24. (10分) 阅读材料，回答问题。

材料一 蓟城自商、周以来就是地域政治中心，战国时更成天下名都。这里是北方的陆路交通枢纽，尤其是永济渠凿通后，从水路与江南相连，可转东南之粟到幽蓟。在地理位置上为中原北方门户，面平陆，负重山，南通江淮，北连朔漠。在一定程度上，可以说谁占有蓟城就意味着谁可以取得天下。

——摘编自李淑兰《北京史稿》





(1) 依据材料一，概括蓟城地区后来成为都城的原因。(2分)

材料二

| | |
|---|--|
| ① | 周武王灭商之后，封黄帝的后裔于蓟，都城在今天西城区广安门一带 |
| ② | 西周燕都遗址位于房山区琉璃河镇，保留有西周时期的城垣和燕侯墓葬 |
| ③ | 金朝将都城迁至中都，在今北京西南修建了卢沟桥 |
| ④ | 元世祖任用汉族士人修建元大都，现元大都城垣遗址是当时北城墙的一部分 |
| ⑤ | 元朝时，京杭大运河的终点在今什刹海一带，那里店铺众多，各地商人云集 |
| ⑥ | 大栅栏有近 600 年的历史，汇聚了瑞蚨祥绸布店、张一元茶叶店、王麻子剪刀等上百家北京老字号 |
| ⑦ | 明成祖下令营建北京城，永乐十九年（1421 年）正式迁都北京 |
| ⑧ | 清军入关后，顺治皇帝将都城从沈阳迁至北京，对紫禁城进行了大规模改建 |

——整理自《北京文化遗产之旅》

(2) 从以下表格中任选一个与北京历史相关的主题，运用上表中的材料，说明该资料与主题的关系。(3分)

| 主题 | 序号 | 说明 |
|----------------|----|---|
| 示例： 民族文化的交融 | ③ | 金朝是女真族建立的，定都中都后进一步接受中原地区文化，卢沟桥的修建是文化交融的例证 |
| | ④ | 元朝是蒙古族建立的，重视汉族文化，任用汉族知识分子修建都城 |
| 悠久的历史历史 | | |
| 显赫的政治地位 | | |
| 繁荣的商业城市 | | |

材料三

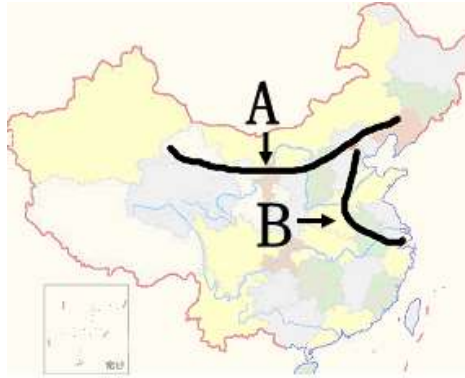


宫殿是皇帝居住并进行统治的地方，（汉）萧何说宫殿“非壮丽无以重威”，（唐）骆宾王诗“不睹皇居壮，安知一辈子尊”。古代宫殿中只有北京紫禁城宫殿保存下来。紫禁城始建于永乐四年（1406年），为南北长的矩形，四面各开一门，以南门为正门，中轴线穿过南北之门。紫禁城内有不下百所院落，每所院落中建筑都有主有从，以配殿衬托主殿。就全宫来说，无数不同规模的次要院落有秩序地组织起来，共同拱卫外朝、内廷的主院落和中轴线上主殿。整座宫城正是以其建筑形象体现古代社会中的君臣、父子、夫妇的伦常关系和这种关系最顶端的君权、皇权的至高无上的地位。

——傅熹年《中国古代建筑概说》

(3) 依据材料三，概括紫禁城所体现的中国古代建筑之美，并说明其设计意图。(2分)

材料四 打开中国地图，有两条雄踞在中华大地上的“人工巨龙”……一撇一捺，一刚一柔，交叉在北京，形成一个大大的“人”字，勤劳勇敢、奋斗进取成为中华民族不屈不挠和生生不息的文化象征。



——摘编自《追根溯源大运河，千年文化谱新篇》等

(4) 上图中的两条“人工巨龙”A、B 分别代指什么？依据材料四说明这两项工程反映了中华民族哪些精神？(3分)



2021 北京平谷初三（上）期末历史



参考答案

一、单项选择：(共 30 分,每小题 1.5 分)

| | | | | | | | | | | |
|----|----|----|----|----|----|----|----|----|----|----|
| 题号 | 1 | 2 | 3 | 4 | 5 | 6 | 7 | 8 | 9 | 10 |
| 答案 | B | A | A | D | C | B | D | D | C | C |
| 题号 | 11 | 12 | 13 | 14 | 15 | 16 | 17 | 18 | 19 | 20 |
| 答案 | A | A | A | D | B | B | B | D | C | B |

二、综合题(共 40 分)

21. (10 分)

(1) 吸取秦朝灭亡的教训；实行休养生息政策；文帝、景帝重视以德化民，废除严刑苛法；提倡勤俭治国。

(2分,答出两点即可)

(2) 造型精美；名窑众多；分布广泛；港口附近瓷窑众多；江南已成为制瓷中心。(2分,答出两点即可)

(3) 北方战乱，南方相对安定；北方人口大量南迁，给南方带来大量劳动力和先进生产技术；南方水利的兴建和农业生产技术的提高，促进了南方农业的发展。(2分,答出两点即可)

(4) 人类由“蒸汽时代”进入“电气时代”；动力来源由蒸汽机转变为电力、内燃机；人类由农业社会（或农业文明）进入工业社会（或工业文明）；资本主义由自由资本主义向垄断资本主义过渡；资本主义世界市场最终建立。(2分，答出一点变化即可)

(5) 林肯：领导了美国南北战争，解放了黑人奴隶，维护了国家统一；

爱迪生：发明了耐用电灯泡，给人类带来了光明；

罗斯福：实行新政，带领美国度过了经济大危机；带领美国人民进行反法西斯战争，为打败法西斯作出了重要贡献等。

比尔盖茨：创立微软公司，推进第三次科技革命的发展。(2分)

22. (10 分)

(1) 示例 1：观点：①。说明：一方面，秦朝开创皇帝制度，皇帝开始总揽全国的一切军政大权。另一方面，宰相掌管行政权，如秦朝设丞相，掌管行政事务；

唐朝进一步完善三省六部制，由宰相共同议政、决策；北宋由正副宰相共同议政；元朝设中书省，掌管全国的行政事务。故，这一时期皇帝的统治权与宰相的行政权是相对分离的。

示例 2：观点：②。说明：秦朝设丞相，掌管行政事务，但最后决断权由皇帝掌控；唐朝进一步完善三省六部制，由三省长官分割宰相权力；北宋采取分化事权的办法，削弱相权；元朝设中书省，设正副宰相多名，共同掌管全国的行政事务。故，这一时期皇帝通过分割或分化宰相的权力，使皇权不断加强，相权不断削弱。

示例 3：观点：③。说明：明太祖废除丞相制度和中书省，提升六部，使六部直接向皇帝负责；清朝设立军机处，辅助皇帝处理政务，军政大事实由皇帝裁决。故，从废丞相、军机处的设立，皇帝成为绝对专制君主。（3分，言之有理即可）

(2) 《权利法案》。(1分) 限制了王权，标志着君主立宪制政体在英国开始确立，有利于英国资本主义的发展。(2分)

(3) 分权制衡原则或三权分立 (1分) 影响:美国确立联邦制共和国；是世界第一部资产阶级成文宪法；对其他国家的政治变革产生重要影响。(1分)

(4) 人类只有一个地球，要共同爱护环境，保护生态。在当今世界，我中有你，你中有我，要和平，要相互交流与合作。(2分，言之有理即可)

23. (10分)

(1) 道家②； 儒家① (2分)

(2) 影响：指导了俄国十月革命；指导了中国的革命、建设和改革。(2分)

特点：实践的理论；科学的理论。(1分)

(3) 宋元成就：④⑥⑧； 农业成就：②⑤等 (2分，至少选出两项,言之有理即可)

(4) 宋词；元曲；小说 (3分)

24. (10分)

(1) 蓟城地区是地域政治中心；陆路交通枢纽；地理位置重要等。(2分，写出两项即可)

(2) 依据主题选取两个正确资料序号；(1分) 联系史实，分别说明每个资料与主题的关系。(2分) 例如：

| 主题 | 序号 | 说明 |
|---------|----|---|
| 民族文化的交融 | ③ | 金朝是女真族建立的，定都中都后进一步接受中原地区文化，卢沟桥的修建是文化交融的例证 |
| | ④ | 元朝是蒙古族建立的，重视汉族文化，任用汉族知识分子修建都城 |
| 悠久的历史历史 | ① | 西周时期就是诸侯国都城说明悠久的历史 |
| | ② | 燕都遗址保留有西周时期的城垣和燕侯墓葬说明悠久的历史 |
| 显赫的政治地位 | ⑦ | 明成祖下令营建北京城，迁都北京，说明显赫的政治地位 |
| | ⑧ | 清军入关后，顺治皇帝将都城从沈阳迁至北京，说明显赫的政治地位 |
| 繁荣的商业城市 | ⑤ | 什刹海一带店铺众多，商人云集，说明元大都商业繁荣 |
| | ⑥ | 元明清时期，北京有众多的著名商品，说明北京商业的繁荣和发展。 |

(3) 壮丽（宏大、庄严、气势恢宏）；对称；秩序（秩序井然，主从有序）。（任答一点，1分）凸显皇权的至高无上；体现封建社会的等级秩序；体现封建伦理纲常。（任答一点，1分）

(4) A: 长城 B: 大运河 (2分) 精神: 勤劳; 不屈不挠等 (1分, 言之有理即可)

