



2021 北京西城初三二模

历史

2021.5

考生须知	1.本试卷共 10 页，共两部分，24 道题，满分 70 分。考试时间：70 分钟。 2.在试卷和答题卡上准确填写姓名、准考证号、考场号和座位号。 3.试题答案一律填涂或书写在答题卡上，在试卷上作答无效。 4.在答题卡上，选择题用 2B 铅笔作答，其他试题用黑色字迹签字笔作答。 5.考试结束，将本试卷、答题卡和草稿纸一并交回。
------	--

第一部分(选择题共 30 分)

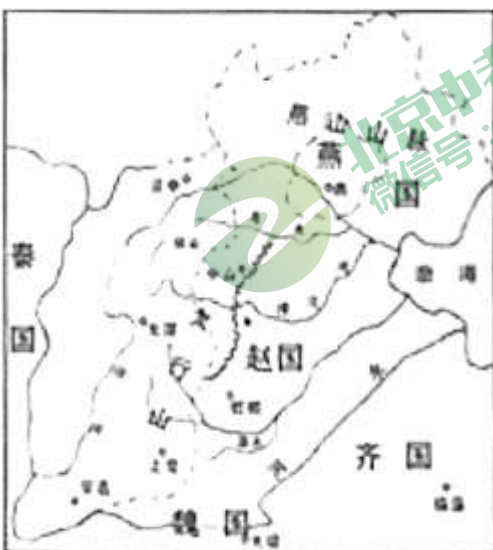
本部分共 20 小题，每小题 1.5 分，共 30 分。在每小题列出的四个选项中，选出最符合题目要求的一项。

1.右图是 1974 年出土于北京市房山区的青铜器——董鼎。鼎腹内壁铸有铭文 4 行 26 字，记载了董饴(人名)奉匭侯之命去都城镐京奉献食物，并受到周天子赏赐之事。此器物能证实西周实施“分封制度”的有关细节是



- A. 器型质地
- B. 铸造工艺
- C. 铸造年代
- D. 铭文内容

2.在中国古代史学习中，右图被初步推断为战国时期形势图。得出此判断的主要依据是



- A. 形成了统一的政治局面



- B.图中出现了赵国、魏国
- C.图中出现了秦国、齐国
- D.图中有长城的位置信息

3.有历史学家说：“秦政不失为顺着时代的要求与趋势而为一种进步的政治。而秦代的迅速消亡，原因在于役使民力过甚。”对这段话理解准确的是

- ①较为客观地评价了秦朝的政治统治
- ②政治统治的弊端明显加速了其消亡
- ③过度役使民力是秦灭亡的唯一原因
- ④秦朝的政治政策中有部分积极因素

- A.①②③ B.①②④ C.①③④ D.②③④

4.右侧的文本框是某同学整理的历史笔记，划横线的位置适合填入的题目是

- A.中国古代的四大发明
- B.中国古代的社会生活
- C.中国古代科技发展简介
- D.中国古代手工业进步史

主题：_____

秦汉：造纸术、张仲景、华佗

魏晋：祖冲之、贾思勰

隋唐：赵州桥、雕版印刷术

宋元：活字印刷术、管形火器的应用

明清：总结性科技著作

5.下列机构，在中国历史上出现的先后顺序，正确的是

- ①西域都护 ②军机处 ③市舶司 ④锦衣卫
- A.①③④② B.③①②④ C.①③②④ D.③②④①

6.右图名为《耕织图·耕图》，最早为宋代画家所作。清初多位帝王曾让画家重新绘制，乾隆帝命人把此图与其他多幅农耕与桑蚕生产图，刻于石上，镶嵌于玉河斋(今颐和园内)的游廊上，勉励人们勤耕细织，争取好的收成。据此可以得出的认识为



- A.由宋到清农业生产水平没有发展
- B.农业的进步推动了经济重心南移
- C.中国古代社会较为重视农业生产

D.清代农业题材的绘画作品受重视

7.学习中国近代史可以通过“侵略与反侵略”“探索与救亡”等专题来进行。下列选项中，属于“探索与救亡”专题的历史活动是

- A. 曾国藩创办安庆内军械所
- B. 慈禧太后发动“戊戌政变”
- C. 袁世凯改国号为中华帝国
- D. 北洋军阀时期的割据纷争

8.下表是同学整理的中国近代教育事业发展的部分史实。据此可以得出的认识为

洋务运动期间	兴办京师同文馆、福州船政学堂
甲午战争后	在天津创办北洋西学堂(北洋大学堂)、在上海创办南洋公学
百日维新期间	创办京师大学堂
八国联军侵华后	1901年废除八股文、1905年废除科举制、颁布各级学堂章程

- A.近代教育事业的发展过程中女子获得了受教育的权利
- B.近代教育的发展既受时局的影响又得益于不断的探索
- C.列强通过不平等条约强迫中国废除了传统教育和学制
- D.兴西学、废八股文和科举制，不利于近代人才的培养

9.习近平在《论中国共产党历史》一文中指出，_____是我们党梦想起航的地方。我们党从这里诞生，从这里出征，从这里走向全国执政，横线处需填地区位于右侧示意图中的



- A. ①
- B. ②
- C. ③
- D. ④

10. 下面年代尺所反映的历史主题是



- A. 日本蓄谋发动侵华战争
- B. 国共团结御侮共同抗战



C.世界反法西斯同盟建立

D.国民党正面战场的抗战

11.人民币是中华人民共和国的法定货币。下图为 20 世纪 50、60 年代发行的部分人民币图案，从中可以得出的结论有



飞机图 (1953)



履带拖拉机图 (1953)



各民族大团结图 (1956)



人民代表大会人民大会堂图 (1965)



①国家集中力量发展重工业

②实行民族团结的民族政策

③实施家庭联产承包责任制

④确立了人民代表大会制度

A.①②③

B.①②④

C.①③④

D.②③④

12.有学者研究中华人民共和国经济史，获得以下数据(见下表)。根据这组数据可以得出的正确认识是

	国内生产总值	人均国内生产总值	贫困人口	贫困发生率
1978 年	3678.7 亿元	385 元	7.7 亿	97.5%
2019 年	990865.1 亿元	70892 元	551 万	0.6%

A.一五计划的实施推动我国社会经济显著发展

B.社会主义制度的确立使得贫困人口大量减少

C.十一届三中全会是中国社会伟大的历史转折

D.新时期中国特色大国外交全面推进成效显著

13.右侧系列事件反映的共同主题是

A.我国对外交往的加强

B.祖国统一大业的推进

C.国家国防实力的增强

D.中国国际影响力提升

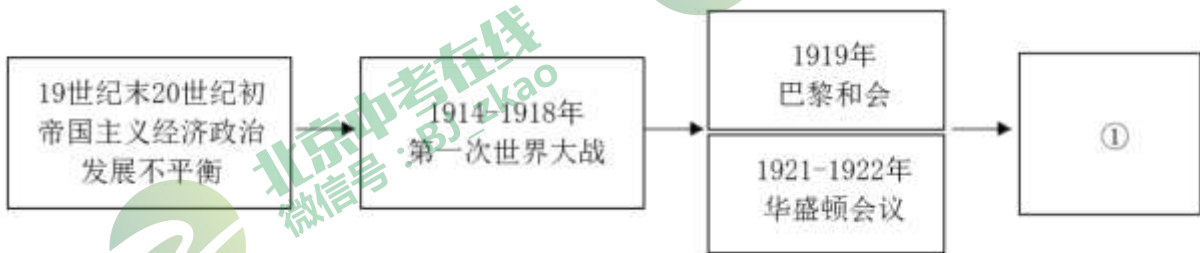
- 抗美援朝战争伟大胜利
- 第一颗原子弹爆炸成功
- 恢复在联合国的一切合法权利
- “一带一路”国际合作高峰论坛

14.右图漫画创作于 1865 年，画中右侧手拿木棒的人物是林肯，画上英文意为“联邦将被修复”漫画表现的事件是



- A. 美国独立战争
- B. 美国宪法颁布
- C. 美国南北战争
- D. 美国领土扩张

15. 在学习中运用示意图能帮助我们直观地建立史实之间的联系。下列示意图中①处应为



- A. 经济大危机的全面爆发
- B. 美苏全面冷战局面形成
- C. “凡尔赛—华盛顿体系”形成
- D. 世界多极化趋势的发展

16. 1921年的一份档案里记录了苏俄实施某项政策后农村社会的反响，“好转”“支持”“改善”“满意”“信任”等词汇频频出现。农民暴乱和不满情绪迅速平息下来，他们开始自觉地扩大耕种面积。这项政策是

- A. 战时共产主义政策
- B. 农业集体化
- C. 全面社会保障制度
- D. 新经济政策

17. 历史照片是重要的图像史料。右侧照片中的人物提倡手工纺织，抵制英国商品，同时提出“非暴力不合作”的形式与英国殖民者斗争。该史料可用于研究



- A. 工业革命前欧洲手工工场的发展
- B. 工业革命中机器生产的技术革新
- C. 工业革命后人们多样的产品需求
- D. 殖民地半殖民地国家的民族觉醒

18. 某同学按照人物成就影响的重要领域，梳理了世界部分著名人物。①处应为

第一类：克伦威尔	华盛顿	罗斯福
第二类：瓦特	①	卡尔·本茨
第三类：莎士比亚	巴尔扎克	托尔斯泰



- A. 贝多芬 B. 斯蒂芬森 C. 梵高 D. 扎格鲁尔

19. 下列史实与认识搭配正确的是

选项	史实	认识
A	1931年，九一八事变爆发	中国开始全民族全面抗战
B	1941年12月7日，日军偷袭珍珠港	第二次世界大战全面爆发
C	1942年7月至1943年2月，斯大林格勒保卫战	第二次世界大战的转折点
D	1945年5月，德国投降	第二次世界大战最终结束

20. 阅读下列图文材料，从中能得出的正确认识是

	
联合国旗帜正中为白色徽记。徽记是以北极为中心的世界地图等距离方位投影，由橄榄枝组成的花环相托	联合国驻黎巴嫩维和部队中的中国士兵执勤照片

- A. 联合国的职能是解决各国的贸易争端
 B. 联合国的宗旨之一是维持和平与安全
 C. 中国在维和中采取“求同存异”的方针
 D. 联合国是最早的全球性国际政治组织

第二部分(非选择题 共40分)

本部分共4大题，共40分、请用黑色字迹签字笔在答题卡上各题的答题区域内作答，在试卷上作答无效。

21.(10分)社会生活史是人类历史的重要组成部分。

材料一

序号	史实
----	----

①	元代，丝棉制品成为蒙古地区各阶层居民服饰的重要部分，以前以粗制皮革物为主要服饰的习惯开始改变；酒、茶等也成了蒙古人日常的重要饮料
②	中国是茶叶的故乡，茶叶在唐代传入中亚，以后逐渐传到西方各国。日本和东南亚一带的饮茶习惯，也是唐代开始从中国传去的
③	在彼得一世的倡导下，俄国贵族开始穿戴西方衣帽，模仿西方时尚，舞会、沙龙等社交活动也成为上流社会的癖好，而俄罗斯传统的大胡子则遭到禁止
④	汉语日常用语来源举例：胡同、戈壁、歹、哈叭狗——来自于蒙古语；萨其马/萨奇马、胳膊/隔肢——来自于满语
⑤	日本明治政府采取一系列具体措施，如“改历”“易服”“剪发”等，以改变中世纪的风俗习惯，倡导西方人的生活方式
⑥	19世纪70年代以后，西方发明的火车、轮船、电车、飞机等新式交通工具相继传入中国。人们的饮食、服饰、婚丧以及休闲娱乐方式日益开放，出现了崇洋逐新的趋向

(1)用材料一的史实，说明以下观点。(3分。填序号，每空多选、少选、错选均不得分)

中国社会生活史呈现出民族交融的特征：_____

中国社会生活史是中外文化交流史的一部分：_____

政府通过改革主动改变社会风俗：_____

材料二



(2)考古发现、历史照片等能为我们还原人类社会生活的变迁。请从上述图片中任选一幅，结合所学，写出其反映的历史事件或历史现象，并分析其影响。(2分)

材料三 工业城市是近代社会生活的集中体现之地。城市出现了大量的新建筑，比如为举办世界博览会建造的伦敦水晶宫和巴黎埃菲尔铁塔。1819年，公共马车在巴黎开始出现；1863年，伦敦开通了世界上第一条地铁；1880年，纽约的有轨电车替代了马车。公共图书馆在十八世纪还不多见，而到了1844年，法国、美国、鲁士和奥地利则各有上百个公共图书馆。剧院、音乐厅、博物馆、电影院，已在城市普遍出现。讲究的西装外套、马甲、礼帽，到十九世纪中叶成为男装主流，巴黎更以时髦服装和名贵香水闻名于世。

(3)依据材料三，概括欧美各国近代社会生活出现的新气象。(2分)结合所学，指出出现这些新气象的主要原因。(1分)

(4)节日是社会生活的重要组成部分，春节、清明节、端午节、中秋节等是具有浓郁中华民族传统文化特征的节日。中国的传统节日文化是一份珍贵的民族文化遗产。请任选一个传统节日，确定一个研究主题，并对如何进行研究提出建议。(2分)

22.(11分)节俭美德·勤俭兴国

材料一 以下摘编自统编版义务教育历史教科书中对两位皇帝的描述

汉文帝提倡以农为本，勤俭治国，反对奢侈浮华。他以身作则，在位 20 多年，生活简朴，宫室、园林以至车骑都没有增加。	隋炀帝好大喜功，不恤民力，奢侈无度。他多次巡游，乘坐高大、华丽的龙舟，沿途护卫的兵士和拉纤的民工多达数十万。
---	--

(1)古代统治者的治国思想会对国家治理产生相当影响，依据材料一并结合所学，分析两位皇帝行为造成的不同结果及启示。(3分)

材料二

政策	时期	具体做法	影响
增产 节约	国共对立时期	在第一个农村革命根据地，即_①_创建后，毛泽东提出：经济建设的中心是发展农业生产……财政的支出应该依据节省的方针。以后，中央苏区政府号召人民勤俭节约，开展春耕，发展农业	基本保证了革命根据地军民的粮食供给，改良了民众生活
	抗日战争时期	毛泽东等在延安率先垂范，种粮种菜，纺纱织线，带领人民、军队开展自力更生、勤俭节约的大生产运动	保证了陕甘宁边区人民、军队和政府的生活供给
	②	毛泽东指出在消灭封建制度的斗争中，坚决地反对任何人对于生产资料和生活资料的破坏和浪费，注意节约	促进了解放区土地改革的顺利进行，广大农民分得了土地
勤俭 建国	新中国成立初期	“节约”被写入《共同纲领》：国家机关坚持廉洁朴素的工作作风，财政工作厉行精简节约 1950年，毛泽东提出为争取国家财政状况的好转，要大幅节减国家机构经费，节省国家开支	积累了国家建设资金，人民的生活有所改善，促进了政权巩固
节约 型社 会	改革开放时期	党中央国务院发出建设“节约型社会”的号召，包括增强全社会的资源忧患意识和节约意识、加大调控和监管力度、调整经济结构等着力点	推动国家的可持续发展，提高人民生活水平和生活质量

(2)依据材料二，填写_①_、_②_处对应的内容。(2分)结合所学说出中国共产党在不同时期节约政策制定的依据，并归纳政策实施的共同点。(3分)





材料三 二战后，各冬奥会承办国受“竞赛”思维的影响，为了提升比赛成绩，在冬奥会场馆的结构形式、材料技术、艺术效果等方面进行全面的针对竞赛成绩的建设并提供服务，带来了能源资源的巨大浪费并背负了巨大的经济负担。进入 21 世纪后，节俭奥运思想开始涌现，冬奥会及其场馆建设往人类生存环境、文化精神传递等方向拓展。国际奥组委建立奥运会研究委员会，专门研究和编制成本控制的措施，冬奥会举办目的及其场馆的建设更多关注的是切实为本地居民提供福祉，为区域发展提供动力。

(3)依据材料三，说出 21 世纪前后冬奥会场馆建设思想的变化。(2 分)请为 2022 年北京-张家口冬季奥林匹克运动会的场馆建设提供建议。(1 分)

23.(9 分)文化纪念地是了解和研究历史的宝库。

【人的归属】名人故居具有独特的历史底蕴。

 <p>北京李大钊故居</p>	<p>李大钊居住的今东城区石驸马后宅胡同是中国共产党当时重要活动地点：</p> <p>1920 年 9 月，发起成立北京共产主义小组；</p> <p>1920 年 11 月，指导创建社会主义青年团(后改成为共产主义青年团)；</p> <p>1921 年 6 月，会见共产国际代表马林等人，并派张国焘赴上海出席中国共产党第一次全国代表大会。</p> <p>1923 年，发动京汉铁路大罢工。</p>
 <p>北京鲁迅故居</p>	<p>“在我的后园，可以看见墙外有两株树，一株是枣树，还有一株也是枣树。”鲁迅是在今西城区阜成门内大街宫门口二条 19 号院写下以上这些文字的。这是一座并不标准的四合院，是由鲁迅亲自设计改造的。</p> <p>在此，鲁迅完成了《华盖集》《华盖集续编》《野草》三本文集以及《彷徨》《朝花夕拾》《坟》中的部分内容，那两株“出名”的枣树，从房间中也可以望见。</p>

(1)依据材料一，分析名人故居对于历史研究的价值。(1 分)

【根的认同】宗祠与唐人街遍及世界众多国家的华人聚居区。

华人宗祠的建筑外观以中式坛、庙、宇、祠堂等样式为主，一些东南亚国家的华侨华人宗祠则大胆借鉴东南亚热带建筑中的杆栏式建筑特点。宗祠大门采中国红，建筑顶部雕梁画栋，彩绘随处可见。由于东南亚华侨华人多来自闽粤，所以岭南建筑之中的装饰在建筑中多有体现。屋内陈设以中式家具为主，两侧墙壁挂有先人遗像或者杰出人物照片，或绘有中国特色的孝亲图画，或祖宗丰功伟绩。

唐人街遍及全世界，将中华文化带到世界各地。唐人街保持着中国的风俗习惯，讲普通话或各省方言。这里有中国百货店，有中文的书店、学校、报社、华人社团，有中国式的庙宇、祠堂等。在外国人眼里，唐人街是“小中国”，它延续的是中华文化。对外国人来说，唐人街是认识中国的第一步。唐人街的商业日趋多元化，为所在国的繁荣做出了贡献。

(2)根据上述材料，概括东南亚华人宗祠的特点。(2 分)分析唐人街的历史影响。(2 分)



 <p>①哥伦布纪念碑</p> <p>位于西班牙马德里。纪念了哥伦布从美洲探险归来。</p>	 <p>②巴士底广场</p> <p>位于法国巴黎。法国大革命的发源地，是昔日巴士底狱所在地。</p>	 <p>③密苏里号战列舰</p> <p>位于美国夏威夷，现为博物馆。曾为第二次世界大战日本无条件投降签字处。</p>	 <p>④但丁故居</p> <p>位于意大利佛罗伦萨。是保留有欧洲中世纪塔楼房屋。</p>
 <p>⑤戈雷岛遗址</p> <p>位于塞内加尔维德角半岛，世界文化遗产。欧洲在西非地区最早的殖民点之一。</p>	 <p>⑥冬宫</p> <p>位于俄罗斯圣彼得堡。原为俄罗斯帝国沙皇的皇宫，现为世界上最大的博物馆之一。</p>	 <p>⑦林肯纪念堂</p> <p>位于美国华盛顿特区。与美国国会大厦及华盛顿纪念碑连成直线，是古希腊神殿式纪念堂。</p>	 <p>⑧外滩文化街区</p> <p>位于上海市黄浦江畔，中国历史文化街区。1844年被划为英国租界，是旧上海最早的租界区。</p>

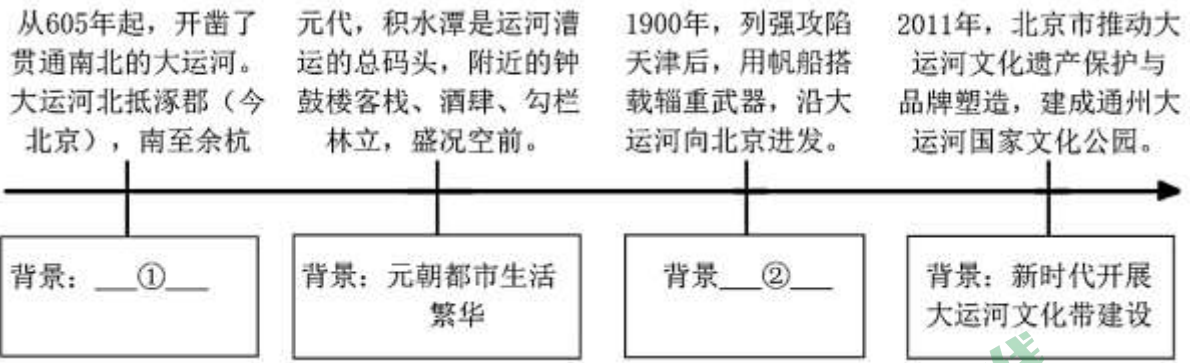
(3)完成表格：从下面表格内三个主题中任选一个，从材料中选出两个符合该主题的地点，并简要说明地点与主题的关系。(4分。地点填写序号，关系需从史实及影响两个角度作答)

主题	地点	关系
走向近代		
资本主义制度的确立和扩展		
殖民扩张与殖民侵略		

24.(10分)北京东部地区的自然资源和人文资源丰富、某中学开展了考察活动。

【资料整理】大运河是祖先留给我们的宝贵遗产，是“活着”的文化。





(1)依据材料并结合所学，将①②处按照要求补充完整。(2分)

【史料辨析】 将军关是明代万里长城进入北京段的第一座重要关口，位于今平谷区。

名字由来	第一种说法	第二种说法
	民国三十三年《蓟县志》记载：“石高三丈六尺，兀然矗立，形基状伟，上刻‘将军石’三个大字，为明成化参将王杞书，关遂亦以此石之名名之。”	民间相传，明初有塞外蒙古铁骑来犯，驻守的都司老将军指挥迎敌。由于劳累过度，吐血而亡。后参将王杞来此巡视，为此事所感，即书“将军石”三字，此关便又称为将军石关。

(2)依据上述材料，关于将军关的名称由来，选择你认为更有说服力的一种说法，并说明理由。(2分)

【实地参观】 焦庄户位于今顺义区，抗日战争时期，当地群众在中国共产党领导下多次打退敌人的进攻。

焦庄户人民把初期简单的隐蔽单口洞连接起来，设计和安装单人掩体、会议室、水缸存放处、陷阱、翻版、碾盘射击孔、猪圈射击孔等生活设施和战斗设施，最后挖成户户相连、村村相通，四通八达、上下呼应的“地下长城”，形成了南到龙湾屯、唐洞，北到大北坞的长达 23 华里“能藏、能走、能防、能打”的“四能”地道网。

(3)依据材料说出焦庄户人民与敌人进行武装斗争的特色形式。(1分)分析这种斗争形式多次取得胜利的原因。(2分)



北京中考在线
微信号：BJ_zkao

北京中考在线
微信号：BJ_zkao



【情感升华】 密云水库是华北地区最大的人工湖，是北京市重要水源地。

1958年初，周恩来总理主持国务院会议并实地考察，研究修建密云水库的问题。3月，清华大学水利系接受委托，做了完善的整体设计。在党和政府的号召下，世代生活在库区的5万多密云人几个月内完成整体搬迁。9月，密云水库工程开工。当时大型机械化设备较少，大量建筑材料靠手推车和大筐运输。建设工人在施工中，冒着各种困难与危险，全力以赴安全施工。经过20多万人艰苦奋斗，历时两年多，“高峡平湖”的密云水库于1960年9月建成，铸就了一座新中国历史上的水利丰碑。

(4)依据材料并结合所学，分析密云水库修建的背景。(2分)说说修建密云水库的过程中所体现出的时代精神。

(1分)



1953年3月，北京第一通用机械厂为水库工程赶制大批运输推车

2021 北京西城初三二模历史



参考答案

第一部分(共 20 题, 每题 1.5 分, 共 30 分)

1	2	3	4	5	6	7	8	9	10
D	B	B	C	A	C	A	B	B	B
11	12	13	14	15	16	17	18	19	20
B	C	D	C	C	D	D	B	C	B

第二部分(共 4 题, 共 40 分)

21. (1) 中国社会生活史呈现出民族交融的特征:①④

中国社会生活史是中外文化交流史的一部分:

政府通过改革主动改变社会风俗:③⑤

(2) 图 1:河姆渡人栽培水稻, 食用大米:农作物的种植为古代文明社会的形成奠定了重要的物质基础。

图 2:北魏孝文帝改革:促进了民族交融。

图 3:民国政府颁布剪辫等法令, 强令男子剪掉辫子;促进了自由平等新风尚的普及。

图 4:计算机网络的构建;创造了人类新的生活模式和文化观念等。(言之成理即可)

(3) 新气象:物质生活的进步(新建筑出现、交通的进步);文化生活气息浓厚(公共图书馆等文化生活场所出现);社会时尚流行。

原因:工业革命的开展;生活水平的提高;文化教育事业的发展。

(4) 赋分标准:主题重在围绕节日文化;所提建议需与主题相符, 具有可行性。

示例:

研究主题:春节的节日礼俗及其文化内涵

建议:搜集春节的节日礼俗等相关资料, 采访民俗专家。

22.(1)结果:汉文帝个人生活节俭, 注重以农为本, 减轻人民负担, 使国力强盛, 是缔造盛世的原因之一;隋炀帝生活奢侈, 加重了百姓的负担, 是隋朝灭亡的原因之一。

启示:节俭有利于社会财富的积累、国家的稳定发展等。

(2) ①井冈山农村革命根据地②解放战争时期

依据:针对具体的革命或建设实际制定(实事求是), 立足于人民的利益(需要);立足于通过节约提高生产力水平(发展经济)。

共同点:

从做法上:一贯重视经济建设和节俭在中国革命、建设中的重要意义,将节俭同发展生产结合起来、领导人的推动:

从影响上:一定程度上推动了经济的发展、人民生活水平的提高。

(3) 变化:从只关注于竞赛本身到关注环境及文化精神;从资源铺张建设到节俭建设。建议:积极利用现有场馆资源;规划好冬奥会后的持续使用;建设节能型场馆;注重场馆的生态环境保护等。



23. (1) 提供了实物史料的证据 (见证历史)。

(2) 特点:传承传统:特色突出;多元包容。

影响:延续并宣传中华文化;促进中外交流;推动当地经济发展。(3)

主题	地点	关系
走向近代	①④	哥伦布“发现”美洲开辟了新航路,促进了资本主义的发展(经济繁荣,世界连为一个整体)等; 但丁是文艺复兴的先驱,文艺复兴是资本主义经济发展在精神文化领域的反映(但丁是文艺复兴“文学三杰”之一)。
资本主义制度的确立和扩展	②⑦	法国大革命的爆发摧毁了法国君主统治,传播了资产阶级自由民主思想; 美国内战是美国历史上第二次资产阶级革命(林肯是美国历史上著名的总统)。维护了国家统一,废除了奴隶制,推动美国经济迅速发展。
殖民扩张与殖民侵略	⑤⑧	戈雷岛是欧洲在西非最早的殖民点之一,体现奴隶制度(早期殖民扩张)的残酷性; 鸦片战争后上海成为通商口岸,西方国家纷纷在外滩(租界区)建房,是西方殖民侵略的表现之一。

24. (1) ①隋朝维护统一/加强南北交通(经济文化交流);

②八国联军侵华战争。

(2) 选择第一种说法:《蓟县志》是官方史料,具有较高的可信度;

选择第二种说法:本段传说流传已久,是人们口耳相传的故事,可能蕴含一定的真实历史信息。

(3) 斗争方式:地道战

原因:中国共产党的领导;地道设计巧妙、功能多样;形成了四通八达的地道网;人民的不怕牺牲、勇于战斗的精神等。

(4) 背景:党和政府的整体规划;大学(科研单位)的技术支持;库区移民大力支持;一五计划完成,奠定了物质基础。

精神:艰苦奋斗、不怕困难、吃苦耐劳、团结协作、爱国主义。(言之成理即可)