



学校 _____ 姓名 _____ 准考证号 _____





考
生
须
知

1. 本试卷共 10 页，共两部分，34 道小题 满分 90 分 考试时间 90 分钟。
2. 在试卷和答题卡上准确填写学校名称、姓名和准考证号。
3. 试题答案一律填涂或书写在答题卡上，在试卷上作答无效。
4. 在答题卡上，选择题用 2B 铅笔作答，其他题用黑色字迹签字笔作答。
5. 考试结束，请将本试卷、答题卡和草稿纸一并交回。

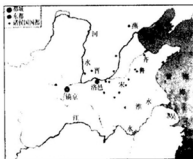
第一部分 选择题（共45分）

本部分共 30 小题，每小题 1.5 分，共 45 分。在每小题的四个选项中，只有一项符合要求。

1. 某中学举行“历史考察成果展”。依据下列成果展的内容，该校同学考察的原始文化遗址位于

			
碳化的粟	半地穴建筑遗迹	原始房屋搭建	神奇的尖底瓶
同学们见到的文物及房屋建筑遗迹		同学们参与的体验活动	

- A. 云南元谋 B. 北京周口店 C. 陕西半坡 D. 浙江河姆渡
2. 观察《西周分封形势图》，结合所学我们可得出正确的结论有
- ①西周是一个中央集权制的国家
 - ②西周封国主要集中在黄河流域
 - ③分封燕国能够防范北方少数民族
 - ④西周统治区域已扩展到长江流域



- A. ①②③ B. ①②④
C. ①③④ D. ②③④
3. 从周到秦，中国古代社会发生了重大转变。秦朝不仅用法治取代西周的德礼治国模式，还废除了分封制，在地方上推行
- A. 禅让制 B. 郡县制
C. 科举制 D. 世袭制
4. 研究右侧《史记》目录，我们可以得出的结论是
- A. 这是最早的历史著作
B. 这是一部纪传体通史
C. 本书可以用来研究东汉兴亡
D. 本书为集体创作的官修史学著作

卷一百一十 匈奴列传第五十一	卷一百一十一 南越列传第五十二	卷一百一十二 东越列传第五十三	卷一百一十三 李将军列传第五十四	卷一百一十四 南越世家第四十八	卷一百一十五 东越世家第四十九	卷一百一十六 南越世家第五十	卷一百一十七 东越世家第五十一	卷一百一十八 南越世家第五十二	卷一百一十九 东越世家第五十三	卷一百二十 南越世家第五十四
----------------	-----------------	-----------------	------------------	-----------------	-----------------	----------------	-----------------	-----------------	-----------------	----------------

5. 曹操征服了黄河流域，随之统一了中国北部。然而，_____成为他的一场灾难，在这场战争中他被年轻的孙权打败，结束了其在长江流域建立权威的意图。文中空白处应填写
- A. 长平之战 B. 巨鹿之战 C. 官渡之战 D. 赤壁之战
6. 示意图中①这一历史阶段发生的历史事件是



- A. 设置三公，焚书坑儒 B. 实施“推恩令”，兴办太学
- C. 开科取士，开凿大运河 D. 废宰相设内阁，八股取士
7. 唐太宗说：“自古皆贵中华贱夷狄，朕独爱之如一，故其种落皆依朕如父母。”下列能印证其言论的史实是
- A. 在北方边境修筑长城 B. 令卫青征伐匈奴
- C. 派文成公主入藏通婚 D. 册封达赖和班禅
8. 在古代，榷场是由国家设立的边境贸易场所。观察下图，从图1到图2榷场分布发生变化的原因是

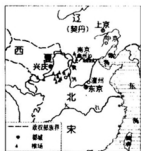


图1

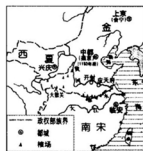


图2

- A. 政权疆界的变动 B. 文化艺术的繁荣 C. 坊市制度的瓦解 D. 科学技术的进步
9. 元朝疆域辽阔，“盛朝之疆宇固如金瓯，平如衡权，三代以来，罕能同议。”为巩固统一的多民族国家，元朝采取的措施是
- ①实行行省制度 ②由宣政院管理西藏地区 ③设立锦衣卫 ④设立军机处
- A. ①② B. ②③ C. ①④ D. ③④

10. 依据右图推断，该书籍残片应出自

- A. 《伤寒杂病论》
B. 《齐民要术》
C. 《大唐西域记》
D. 《本草纲目》



11. 某校开展古代历史人物专题展览，以下历史人物所选取的专题应是



张骞



玄奘



鉴真



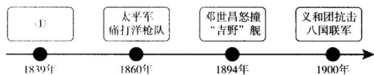
郑和

- A. 经济文化交流的使者 B. 开拓西域的探险家
- C. 弘扬佛法的高僧 D. 远渡重洋的航海家



12. 以下示意图呈现了近代前期中国人民反抗外来侵略的历史事件。其中①应为

- A. 林则徐虎门销烟
B. 曾国藩围困天京
C. 李鸿章创办江南制造总局
D. 维新派创办《时务报》



13. 把握关键词是历史学习的重要方法。“主权丧失、遗患至今”“巨额赔款、口岸设厂”“列强瓜分、山河破碎”，以上三组关键词反映的是


- A. 《尼布楚条约》的影响
B. 《南京条约》的签订背景
C. 《北京条约》的主要内容
D. 《马关条约》的严重危害

14. 右侧为某一历史人物传记的目录节选，其中第七章适宜填入的标题是

- A. 拜上帝教 金田起义
B. 自强求富 北洋水师
C. 救亡图存 百日维新
D. 武昌起义 孙大总统

第五章	驱保皇党 创同盟会
第六章	十次革命 屡仆屡起
第七章	_____
第八章	实业计划 圆中国梦
.....	
第十二章	黄埔建军 秣马厉兵
第十三章	和平奋斗 救我中国

15. 某老师重温中国新民主主义革命的光辉历程，从“学习强国”学习平台观看了如下四段视频，按历史事件发生的顺序排列正确的是



- A. ①④③②
B. ②①③④
C. ④③①②
D. ①③②④

16. 契约凭证是重要的历史资料。通过右图凭证，我们可以了解

- A. 土地改革
B. 三大改造
C. “大跃进”运动
D. 人民公社化运动



17. 下列史实与推论对应错误的是

选项	史实	推论
A	第一颗原子弹爆炸成功	提升了中国的国际地位
B	实行家庭联产承包责任制	推动了中国农业的发展
C	设立深圳等四个经济特区	打开了对外开放的窗口
D	香港澳门回到了祖国怀抱	完成了祖国的统一大业



18. 某同学在团课学习中,从《中国共产党章程》中了解到“中国共产党以马克思列宁主义、毛泽东思想、邓小平理论、‘三个代表’重要思想、科学发展观、习近平新时代中国特色社会主义思想作为自己的行动指南”。这部党章通过于

A. 第一届全国人民代表大会
B. 中国共产党十一届三中全会
C. 中国共产党第十五次全国代表大会
D. 中国共产党第十九次全国代表大会

19. 15世纪上半叶,自传这种文学体裁注重对个人的赞颂。在艺术领域,肖像画和自画像也成为新的门类,君主、大臣、其他有钱人和耶稣、圣母玛利亚、各种圣徒一起成为绘画的主题。这说明15世纪欧洲文学艺术的发展注重

A. 肯定人的价值
B. 歌颂上帝至高无上
C. 维护君主专制
D. 宣扬禁欲苦行

20. 右图反映了欧洲人对世界范围认知的变化,引发这种认知变化的事件是



1492年欧洲人认知的世界范围



1570年欧洲人认知的世界范围

A. 亚历山大东征
B. 丝绸之路开通
C. 新航路的开辟
D. 英国工业革命

21. 美、法两国资产阶级革命都推动了历史的发展,这两场革命共同点是

A. 确立了资产阶级民主政体
B. 摆脱了殖民压迫
C. 推翻了封建君主专制制度
D. 保留了黑奴制度

22. 1860年英国艺术家阐释右侧作品时说,在当今大多数绘画中,我们漏掉了与我们有关的那些东西,漏掉了我们的_____等无穷无尽的新奇事物,但这幅作品却向全世界展示了铁和煤的用途。文中的空白处应填

A. 牧师、骑士、庄园、上帝的荣耀、金戈铁马
B. 水手、帆船、罗盘、黄金的诱惑、扬帆远航
C. 铁路、工厂、矿山、轰鸣的城市、蒸汽轮船
D. 电车、飞机、网络、太空的探索、虚拟现实



23. 下列为介绍某一位历史人物的网页。若完善下列网页内容,可以补充的事迹应是



他出生于德国小城特里尔,投身革命后最初是以报刊为武器,改组和创建了众多具有历史意义的无产阶级革命组织,晚年的他在欧洲工人运动中拥有极高的声望。

- A. 撰写《独立宣言》
B. 发表《共产党宣言》
C. 创作了《国际歌》
D. 建立第一个社会主义国家



24. 19 世纪中后期, 随着资本主义制度扩展, 劳动力得到进一步解放。与此相关的事件是
 ①美国总统林肯颁布《解放黑人奴隶宣言》 ②俄国沙皇亚历山大二世改革
 ③拉丁美洲独立运动 ④印度非暴力不合作运动
 A. ①② B. ②③ C. ①④ D. ③④

25. 右图为《好兵帅克》的封面。书中作家揭露了奥匈帝国为了在欧洲争夺霸权, 凭借武力奴役捷克人民, 驱使他们参加一场由于分配不均而引起的战争, 奥匈帝国也最终因这场战争而崩溃。帅克参加的是



- A. 拿破仑战争
 B. 克里米亚战争
 C. 第一次世界大战
 D. 第二次世界大战
26. 苏联在全球工业产值所占的份额由 1921 年的 1.5% 上升到 1939 年的 10%。这种变化说明
- A. 战时共产主义政策作用突出
 B. 苏联对外贸易发展迅速
 C. 勃列日涅夫改革的效果明显
 D. 社会主义建设成就显著
27. 下列历史照片能够反映第二次世界大战转折点的是



- A. 日军偷袭珍珠港 B. 斯大林格勒战役 C. 苏军攻占柏林 D. “密苏里号” 战舰签字仪式
28. 右图为白人演员参演的好莱坞影片《龙种》剧照, 该片拍摄于 1944 年。影片改变了好莱坞以前丑化中国的做法, 歌颂了中国的抗日战争, 影片中还演唱了英文版的《义勇军进行曲》。该片拍摄的时代背景是



- ①美国加入三国协约, 对德宣战
 ②美国改变中立态度, 对日宣战
 ③反法西斯同盟成立, 中美并肩作战
 ④朝鲜战争爆发, 美国出兵干涉
 A. ①④ B. ②③ C. ①③ D. ②④
29. 20 世纪 70 年代初, 美国尼克松总统公开承认世界出现了五大力量中心, 即除美、苏外, 还有西欧、日本和中国。进入 21 世纪后, “金砖五国”“二十国集团”等力量逐步显现。以上现象说明
- A. 英国霸主地位不断地巩固
 B. 美苏争霸是当今世界的时代特征
 C. 世界多极化趋势日趋明显
 D. 第三世界争取民族独立方兴未艾
30. 冷战思维威胁世界和平。中国共产党十九大报告呼吁各国: “要相互尊重、平等协商, 坚决摒弃冷战思维和强权政治, 走对话而不对抗、结伴而不结盟的国与国交往新路。”下列史实中体现冷战思维的是
- ①萨拉热窝事件 ②北约华约对峙 ③修建柏林墙 ④殖民体系瓦解
 A. ①② B. ②④ C. ③④ D. ②③





第二部分 非选择题（共45分）



31. (14分) 改革·发展·现代化

材料一

<p>A </p> <p>注解：左侧文物为商鞅方升，商鞅变法时颁发的标准量器，现藏于上海博物馆。方升左壁刻：“……大良造鞅，爰积十六尊（寸）五分尊（寸）壹为升”。底部后加刻秦始皇二十六年诏书：“……法度量则不壹欽疑者，皆明壹之”</p>	<p>B </p> <p>注解：左侧文物为北魏陶俑，出土于河南洛阳元邵墓。元邵为北魏孝文帝之孙，鲜卑贵族，本姓拓跋。元邵墓的陶俑有的穿汉族服装，有的穿少数民族服装，有的陶俑服饰兼有汉族和少数民族风格。</p>	<p>C 公元前350年，在商鞅主持下又颁布第二次变法令……其主要内容包括：……统一度量衡以便利收税与商业经营。 ——张帆《中国古代简史》</p> <p>D（迁都洛阳后）孝文帝决定效法汉朝和晋朝……他将鲜卑姓改为汉姓，为皇室取姓元。他命令包括鲜卑人在内的官员，在朝中一律用汉语，着汉服。 ——伊佩霞《剑桥插图中国史》</p>
----------------------------------------------------------------------------------------------------------------------------------------------------------------------------------------------------------------	--------------------------------------------------------------------------------------------------------------------------------------------------------------------------------------------------	------------------------------------------------------------------------------------------------------------------------------------------------------------------------------------------

(1) A、B在史料上属于_____；C、D在史料上属于_____。(2分)

①文物史料 ②文字史料

(2) 任选A、C一组或B、D一组资料，你可以从中得到哪些历史信息？(3分)

材料二 纵观英国历史事实，在现代化过程中，政治现代化比经济现代化更早起步。17世纪，英国完成了政治变革，最早克服了专制的制度。政治变革后的英国成为当时世界上政治与社会最宽松的国家。政治上的宽松保证了英国人在思想和行动上的自由，鼓励他们追求财富，这就为发明创造提供了条件。

(3) 17世纪英国完成的政治变革是什么？(2分) 依据材料结合所学，说明英国的政治现代化是如何推动了经济现代化的？(2分)

材料三 西方现代化经过几百年的发展，其优势与弊端都已经十分清楚。人们企图修补西方社会，一是修补资本主义，二是修正民族国家。修补资本主义主要指的是增加国家的干预，旨在使社会变得较为平等，财富分配相对合理，人人都能享受生产力发展带来的好处。修正民族国家主要指的是建立世界性组织或在地区范围内实行“一体化”。


——摘编自钱乘旦《世界现代化历程》

(4) 结合材料中的观点，请将以下史事进行归类，将所选序号填入相应位置。(2分)

①罗斯福新政 ②欧盟的成立 ③社会保障制度

修补资本主义	
修正民族国家	

材料四 国家博物馆举办的《伟大的变革》大型展览展现了中国现代化所取得的光辉成就。

			
图1: 2014年12月贵广高铁开通运营, 贵州和珠三角地区的通达时间由20多小时缩短到4个小时。	图2: 2016年9月, 中国天眼(FAST)落成启用, 对中国在科学前沿实现重大原创突破、加快创新驱动发展具有重要意义。	图3: 2017年4月, 首艘国产航母在大连造船厂下水, 提升了中国海军装备水平。	图4: 截至2018年7月, 微信月活跃用户达10.58亿(图为在泰国曼谷街头的便利店内, 顾客使用微信支付购物)。

(5) 依据上述图文资料概括中国现代化的突出表现。(2分) 结合所学分析其原因。(1分)

32. (7分) 长安街·文化景点·历史记忆

材料一 东交民巷的建筑

1860年西方列强纷纷在北京东交民巷占地建立使馆。八国联军侵华战争后东交民巷被划为外国使馆区, 界内不许中国人居住。1901年以后的十余年里, 各国使团掀起了大规模扩建或改建使馆的高潮。到1912年, 东交民巷使馆区与上海、天津租界的洋建筑风格一致。20世纪20年代瑞典学者喜仁龙博士把他在北京所看到的东交民巷使馆区的建筑称之为“倨傲的新客”, “唯有洋式或半洋式的新式建筑……破坏了整幅图面的和谐, 蔑视着城墙的庇护……其效果自然会产生某种不协调”。

——摘编自郑孝燮《东长安街是北京最重要的近代历史带》

(1) 依据材料结合所学, 分析东交民巷建筑被称为“倨傲的新客”的原因。(2分)

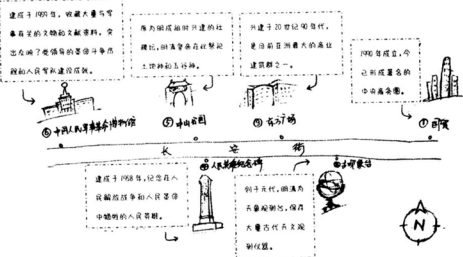
材料二

时代背景	北京饭店大事记(节选)
A	1946年春, 为避免军事冲突, 国、共和美国三方各派一名委员, 在北平成立军事调处执行部, 简称“军调部”。北京饭店是接待军调部三方代表的重要场所。
B	1949年10月1日国庆宴会在北京饭店举行, 共出席600多人。毛泽东、刘少奇、周恩来、朱德、董必武等党政领导人出席。
C. 新中国政权巩固后, 逐步向社会主义过渡。	1954年9月10日, 扩建后的北京饭店首次接待来自全国各地参加全国人民代表大会的代表。
D	1972年, 美国总统尼克松的夫人专程来北京饭店厨房参观琳琅满目的菜点。

(2) 结合所学, 从A、B、D中任选一栏, 填写时代背景。(2分)



材料三 手绘长安街及延长线上的部分历史文化景点



(3) 请你确定一个主题,从上图所示长安街沿线景点中任选两处,向来京游学中学生加以介绍。(3分,抄写示例不得分)

【示例】

主题:从长安街看传统文化

介绍:图②中的古观象台和图⑤中的社稷坛始建于元明时期,体现了中国古代重视农耕的文化传统。

33. (13分) 和同·合作·中国智慧

材料一 春秋战国时期,面对严重的社会问题,孔子主张“和为贵”“君子和而不同”。“和”是指不同事物或不同因素相互联系与结合,从而达到和谐统一,和才能生养万物。

(1) “春秋战国时期,面对严重的社会问题”指什么?(2分) 结合所学,说明春秋战国时期的思想家还提出了哪些体现社会和谐的思想主张?(2分)

材料二 20世纪20、30年代中国共产党积极促成国共两党合作,推动了中国社会的进步。

阶段	1924-1927年	1937-1945年
合作标志	国民党一大召开	国共合作宣言公开发布
合作方式	党内合作	党外合作
历史功绩	①	②

(2) 某同学总结中国近代历史上的国共合作,请帮助他完善上表。(4分)

材料三 联合国大事记(节选)

- 1946年1月联大通过第一项决议,主要内容涉及全面消除大规模杀伤性武器。
- 1956年11月联合国讨论埃及苏伊士运河危机问题,成立第一支联合国维和部队。
- 1964年6月联合国贸易和发展会议在日内瓦举行,会上形成“七十七国集团”。
- 1981年1月在墨西哥举行关于合作与发展的国际会议(南北对话会议)。
- 1995年9月第四次世界妇女大会在北京召开。
- 2004年6月联合国安理会通过决议,规定美英在6月30日前结束对伊拉克的占领。
- 2008年5月《残疾人权利公约》生效。

(3) 二战之后,为解决世界人类面临的难题,联合国在许多方面发挥了重要的作用。请运用材料三中的相关史实证明下列观点。(3分,填写序号即可)

联合国是维护国际和平与安全的组织: _____

联合国促进了国际经济与社会发展: _____

联合国致力于促进对人权的尊重: _____



材料四

 <p>1955年4月,在万隆会议上,周恩来指出:各国不同思想意识和社会制度的存在并不妨碍亚非国家求同和团结,中国在坚守和平共处五项原则的基础上与亚非各国建立友好关系,加强经济文化交流,反对霸权主义</p>	 <p>2017年1月,在联合国日内瓦总部,习近平主席发表《共同构建人类命运共同体》的讲话,呼吁各国“要为当代人着想,还要为子孙后代负责”,明确提出了“构建人类命运共同体,实现共赢共享”的中国方案。</p>
------------------------------------------------------------------------------------------------------------------------------------------------------------------------------------------	------------------------------------------------------------------------------------------------------------------------------------------------------------------------------------------

(4) 中华人民共和国成立以来,中国政府始终坚持独立自主的外交政策,为全球治理贡献了独特的中国智慧。结合材料四中的两个具体事例,谈谈你的认识。(2分)

34. (11分) 文化遗产的发现·保护·新生

【文化遗产的发现】二十世纪初,明清档案、殷墟甲骨、敦煌藏经洞文书、居延汉简的相继发现推动了历史研究的发展

(1) 明清档案	(2) 殷墟甲骨	(3) 敦煌藏经洞文书	(4) 居延汉简
			
<p>明清档案包括明清时期内阁、军机处及各衙门的档案资料。除汉文资料外,还包括近代与英、法、德等国交涉的外文档案。现存约计1000万件。</p>	<p>殷墟甲骨为河南安阳出土的王室占卜记事用的龟甲兽骨。甲骨刻辞记述了商王室的各项活动,如:商王对天神和祖先的祭祀、对内对外征战、劝农耕作、天象气候等。</p>	<p>敦煌藏经洞文书指在中国甘肃敦煌莫高窟藏经洞出土的4—11世纪的多种文字的古写本。以佛教典籍最多,还涉及天文、历法、方志、图经、医书、民俗、名籍、帐册、诗文等领域。</p>	<p>居延汉简指中外学者在我国西北居延等地区发现的大量汉代简牍,以性质和用途可分为文书、簿册;信札;经籍和杂类等。</p>

(1) 请你按照文化遗产形成的时间,为材料中的四个发现排序。(2分。只填写序号即可)

_____ → _____ → _____



- (2) 仿照示例, 结合材料与所学知识, 从上述发现中任选一项, 介绍其史料价值。(2分。抄写示例不得分)

(要求: 时空定位准确, 角度归纳合理, 不能照抄材料。)

【示例】居延汉简为研究汉代西域地区政府管理制度、百姓经济生活和科学文化水平提供了重要的史料。

【文化遗产的保护】

<p>1933年1月日军占领山海关后, 故宫博物院理事会决定将故宫部分文物转运上海以避战火。2月5日夜, 第一批南运文物2118箱在军队的保护下起运。至5月15日运走文物5批, 共13427箱又64包。1937年8月13日, 日军轰炸上海, 南京告急。根据战时文物宜散不宜聚原则, 南迁文物分3批向西迁移(详见右侧文物迁移路线图)。抗战后清点, 南迁文物15年中行程万里, 穿越大半个中国, 上百万件文物无一丢失, 鲜有损毁, 堪称世界文化史上的奇迹。</p> <p>——据江胜信《抗战文物南迁路》整理</p>	<p> — 抗战期间文物迁运路线(南) - - - 抗战期间文物迁运路线(北) ···· 抗战期间文物迁运路线(中) - · - 抗战胜利后文物回迁路 </p>
-----------------------------------------------------------------------------------------------------------------------------------------------------------------------------------------------------------------------------------------------------------------	---------------------------------------------------------------------------------------------------------------------------------------

- (3) 依据材料, 对以下表述做出判断: 直接从材料得出的, 在括号内划“√”; 违背材料所表达意思的, 在括号内划“×”; 材料没有涉及的, 在括号内划“○”。(5分)
- ①故宫文物南迁发生在抗日战争时期。 ()
 - ②文物迁移的路线与日军的进攻有关。 ()
 - ③为防止文物流失, 文物一律集中迁徙。 ()
 - ④文物迁徙沿途得到民众的大力保护。 ()
 - ⑤文物南迁在文物保护史上具有重要意义。 ()

【文化遗产的新生】

2019年正月十五和正月十六, 故宫博物院建院94年来首次举办“灯会”, 观众漫步宫墙上观灯, 听畅音阁传来的戏曲声, 赏投影在金色琉璃瓦上的《千里江山图卷》等绘画作品, 充分体验到传统文化的魅力。

- (4) 让古老的文化遗产获得新生, 彰显传统文化的魅力, 是当代人的使命。请选择北京的一处文化遗产, 设计一场主题展示活动。(2分)

