

# 海淀区七年级练习

## 历史

2024. 01

学校\_\_\_\_\_ 班级\_\_\_\_\_ 姓名\_\_\_\_\_

考生须知

1. 本试卷共 8 页，共二部分，27 道小题。满分 100 分。考试时间 60 分钟。
2. 在试卷和答题纸上准确填写学校名称、班级名称、姓名。
3. 答案一律填涂或书写在答题纸上，在试卷上作答无效。
4. 在答题纸上，选择题用 2B 铅笔作答，其余题用黑色字迹签字笔作答。
5. 考试结束，请将本试卷和答题纸一并交回。



### 第一部分

本部分共 24 题，每题 2 分，共 48 分。在每题列出的四个选项中，选出最符合题目要求的一项。

1. 2023 年，中国科学院古脊椎动物与古人类研究所应用新技术手段，从周口店第 15 地点的哺乳动物化石中识别出一块人类顶骨。该发现有助于研究  
A. 早期人类的体质特征  
B. 史前社会的生产状况  
C. 远古时期的神话传说  
D. 夏朝时期的定居生活
2. 内蒙古自治区敖汉旗赵宝沟聚落遗址距今约 6800 年。遗址中发现的生产工具中，农具占大多数，分为砍伐、翻土、收割、加工等类型；能够确认为狩猎工具的遗物很少，仅有石球和石镞等。学者由此推断，在该遗址居民的生活中，农业经济比狩猎经济重要得多。学者的结论源于  
A. 释读历史图片  
B. 分析考古发现  
C. 收集远古传说  
D. 阅读古代文献
3. 位于中原地区的仰韶文化（距今 7000—5000 年）以彩陶最有特色，山东大汶口文化（距今 6500—4500 年）的陶器在色彩以及纹饰方面就包含了仰韶文化的因素；而仰韶文化遗址中出土的鼎、罐、高柄杯等陶器，有的器形与大汶口文化遗物近似甚至相同。以上材料说明  
A. 炎帝教民耕种，制作陶器  
B. 金属冶炼技术的产生及其发展  
C. 不同文化间存在借鉴现象  
D. 大汶口原始居民拥有私有财产
4. 《礼记》记载：“大道之行也，天下为公。选贤与能，讲信修睦。”与以上材料相关的制度是  
A. 禅让制  
B. 世袭制  
C. 君主制  
D. 中央集权制
5. 殷墟是我国考古发掘次数最多、持续时间最长、揭露面积最大的古代都城遗址，位列中国 20 世纪百项考古大发现之首。殷墟的发掘有助于我们了解  
A. 夏朝  
B. 商朝  
C. 西周  
D. 东周

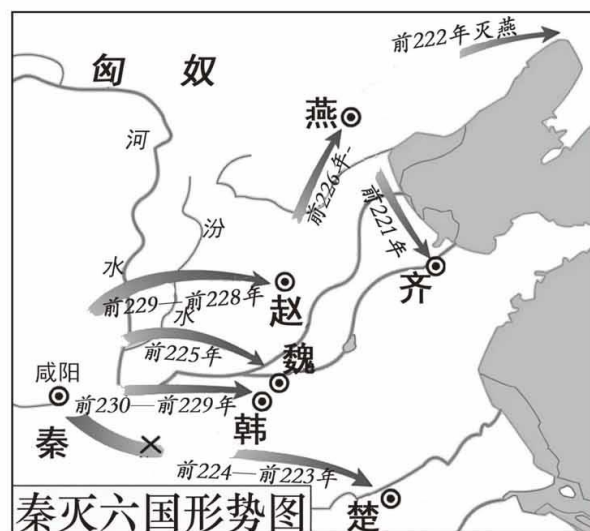
6. 有学者认为，周王在新占领的广大领土上以推行封国的方式，建立新的统治格局，使王权较商朝更为集中。对材料理解正确的是，周王
- A. 制定刑法，加剧社会矛盾  
B. 躲避战乱，多次迁移国都  
C. 实行分封，稳定统治秩序  
D. 发展生产，兴修水利工程

7. 以下示意图中①时期的阶段特征是



- A. 磨制石器，农业兴起  
B. 早期国家的出现  
C. 王室衰微，诸侯争霸  
D. 七雄间兼并混战
8. 古籍记载某一工程“早则引水浸润，雨则杜塞水门”，因此蜀地“水旱从人，不知饥馑，时无荒年，天下谓之天府”。这一工程是
- A. 长城  
B. 灵渠  
C. 阿房宫  
D. 都江堰
9. “事在四方，要（机要大权）在中央。圣人执要，四方来效（效劳）。”以上材料体现的治国理念是
- A. 建立中央集权制度  
B. 维护西周礼乐制度  
C. 以民为本，推行仁政  
D. 兼爱非攻，提倡节俭
10. “战国时期，文化知识不再为贵族阶层所垄断而流向民间，导致社会上出现了一个新兴的士人阶层。战国的士以掌握学术文化知识为主要身份标志，他们在社会上的活跃反过来又进一步推动了学术文化的繁荣。各种学说、学派并出，形成‘百家争鸣’的自由学术氛围。”以上材料说明了战国时期

- A. 各诸侯国的人民希望结束战乱  
B. 思想文化发展出现高峰的原因  
C. 各国变法，建立新的政治秩序  
D. 中原“诸夏”与周边民族的交融
11. 公元前 230 年，秦国开始灭六国，统一全国的战争。观察右图，最后一个被攻灭的诸侯国是

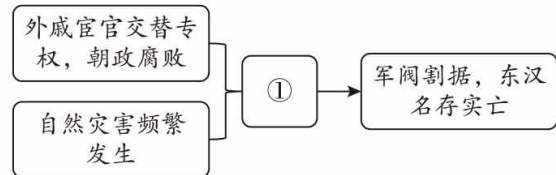


- A. 韩国  
B. 楚国  
C. 齐国  
D. 赵国
12. 把全国分成若干区域，进行分级管理，以实现中央对全国的控制；中央对地方官员进行任免、监督、考核等。这一制度是
- A. 禅让制  
B. 世袭制  
C. 分封制  
D. 郡县制



19. 右侧示意图①处应填写

- A. 长平之战                      B. 大泽乡起义  
C. 巨鹿之战                      D. 黄巾起义



20. “帐前斫案决大议，赤壁火船烧战旗。若使曹公忠汉室，周郎争敢破王师。”以上诗句评价的战役
- A. 为曹操统一北方奠定了基础                      B. 为三国鼎立局面的形成奠定基础  
C. 标志着三国鼎立局面的形成                      D. 使北方再度陷入分裂和混战状态

21. 右图为某历史书籍目录（节选）。这一历史时期的阶段特征是

- A. 中国境内早期人类与文明的起源  
B. 早期国家与社会变革  
C. 统一多民族国家的建立和巩固  
D. 政权分立与民族交融

第一章	三国的鼎立
第二章	西晋的短暂统一和东晋十六国的混乱
第三章	南北朝的对峙
第四章	从北魏分裂到隋的统一

22. 对于“短命王朝”西晋，著名思想家王夫之评论道，“魏削宗室而权臣篡，晋封同姓而骨肉残”。材料中“封同姓而骨肉残”是指

- A. 牧野之战                      B. 国人暴动                      C. 七国之乱                      D. 八王之乱

23. 魏晋南北朝时期，北方农业的基本态势是破坏与恢复，南方农业则是开拓和进步。南方农业开拓和进步的原因包括

- ①北方人口大量南迁                      ②北方先进生产技术的传入  
③社会环境相对安定                      ④中国经济重心转移到江南

- A. ①②③                      B. ①②④                      C. ①③④                      D. ②③④

24. 一位书法家开创新的书法风格，深刻影响了此后中国书法艺术的走向，被誉为“书圣”。这位书法家是

- A. 鍾繇                      B. 王羲之                      C. 顾恺之                      D. 祖冲之

## 第二部分

本部分共 3 题，共 52 分。

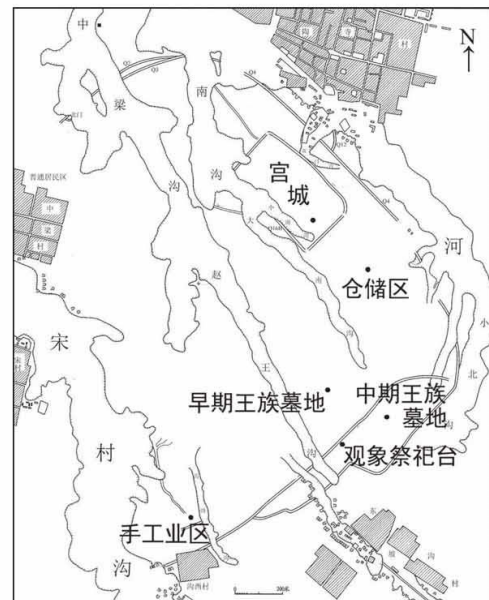
25. (20 分) 图说历史



### 【遗址遗迹图】

陶寺遗址早期至中期年代大致为公元前 2300—前 2000 年，大体与尧舜的年代范围一致。这座大型城址（见右图）中部，有一个围墙环绕的宫城，宫城内有许多大型夯土建筑基础，以及可能用于宫殿之上的陶质建筑残料。已发掘的墓葬中，大型墓不及总数的 1%，往往随葬陶鼓、玉钺、龙盘等表明墓主人尊贵身份的礼器。小型墓占总数的近 90%，墓坑狭小，大多没有葬具和随葬品。考查陶寺遗址出土的各类遗物，可知其在原有的陶、石、骨器制造业及纺织等手工业外，还出现了木工、玉石镶嵌等新的手工业门类，许多精美的制品非专业工匠不能生产。

——摘编自许宏《先秦城市考古学研究》



(1) 从材料一中提取信息，完成下表。(4分)

陶寺社会状况	证据
存在较为强大的政权	存在大型夯土建筑和宫殿建筑
①	出土精美手工制品，及新的手工业门类出现
存在阶级分化	②

【出土文物图片】以下为出土于河南安阳的商代文物



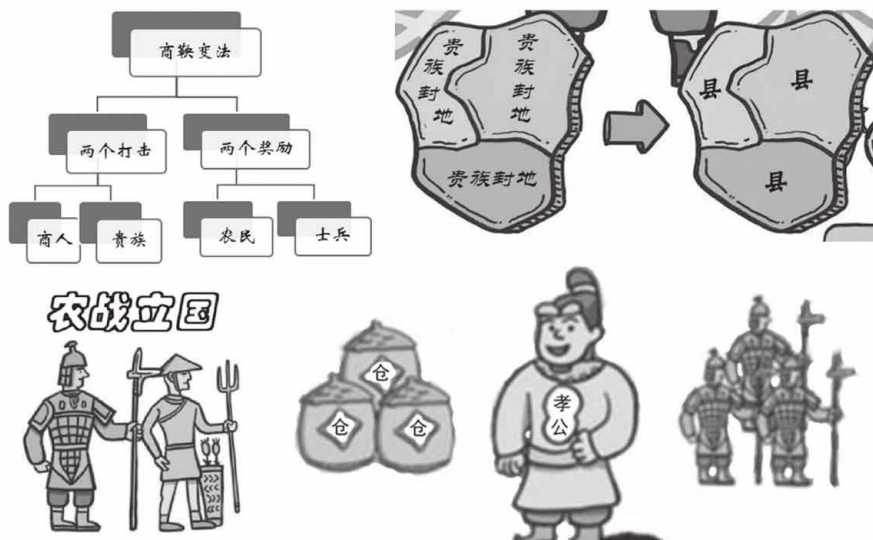
牛骨上的文字记载土方、舌方（都是商朝周边部族）分别侵扰商的东部与西部边境



牛骨上的文字大意为商王命令众人进行协田活动（一般认为是指在土地上进行集体耕作），并卜问是否丰收

(2) 从以上文物中，能得到哪些商代历史信息？(4分)

【形象示意图】某同学在学习商鞅变法时，绘制了如下一组示意图：



(3) 结合所学，写出以上示意图所体现的商鞅变法的两条措施，(4分) 并谈谈你对商鞅变法的看法。(4分)

【墓志拓片】

墓主元泰是北魏孝文帝拓跋宏的侄子。墓志称墓主元泰为“河南洛阳人也”。他曾经“搜求古文，广访儒学”，以修订北魏礼乐制度。他的母亲出身于汉族贵族崔氏家族。

——摘编自杨振威《洛阳新出北魏元泰墓志考释》

(4) 阅读以上图文材料，分析北魏孝文帝改革的措施和作用。(4分)



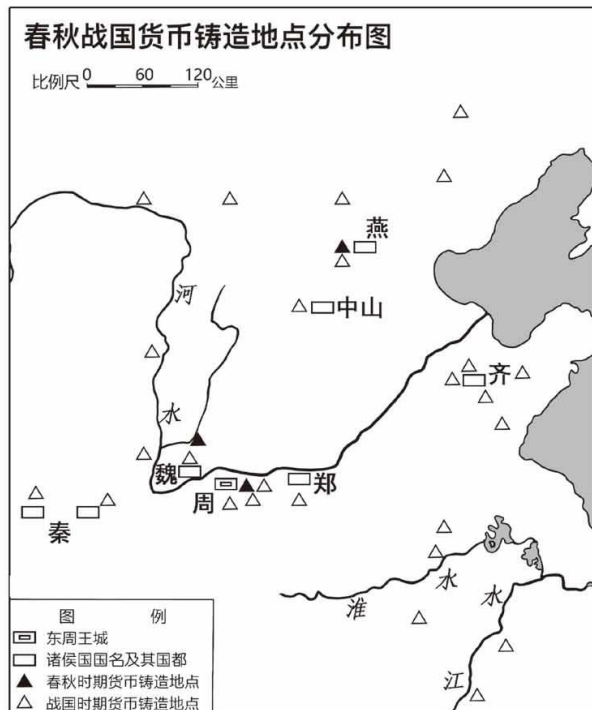
北魏元泰墓志拓片(局部)

## 26. (17分) 小钱币, 大历史

**材料一** 春秋战国以后, 中国社会发生了重大变化, 商品生产和交换的广度和深度都有了前所未有的发展, 这必然带来货币经济的普遍繁荣。各个诸侯国铸币活动有增无减, 货币铸造数量大大增加。

春秋时期, 中国北方地区各类货币的流通具有明显的区域性特征。进入战国以后, 随着疆界的变迁、人员的流动, 以及经济、文化、贸易往来的频繁和地域的扩大, 各国之间的钱币多有交叉、混用, 因此出现了很多跨区域的钱币。战国后期, 刀币、布币流通区域出现重合, 楚国既铸造传统的蚁鼻钱也铸造来自北方的布币。

——摘编自陈隆文《春秋战国货币地理研究》



(1) 阅读材料一, 概括春秋到战国时期货币的变化。(4分) 结合所学, 分析变化的原因。(4分)

### 材料二



圆形方孔钱

(2) 圆形方孔钱在中国货币发展史中占有重要地位。完成以下说明。(5分)

① 统一中国后, 废除刀、布、蚁鼻钱等货币, 以半两钱为全国统一的铜铸币。

这一措施的影响是: ②



**材料三** 西汉初年, 在国困民穷、物资极度匮乏的情况下, 刘邦允许民间自行铸造钱币, 以解决流通中缺钱的难题。各地的诸侯王、商人通过铸钱, 聚敛了大量的钱财, 例如吴王刘濞就铸造钱币, 筹集发动叛乱的经费。汉武帝把铸币权收归中央, 统一铸造五铢钱。

——摘编自王永生《钱币上的中国史》

(3) 结合材料三和所学, 分析汉武帝将铸币权收归中央的原因。(4分)

27. (15分) 丝绸之路在地理上只是跨越亚欧大陆的一条通道, 它对世界文化的意义却远不止此。

材料一

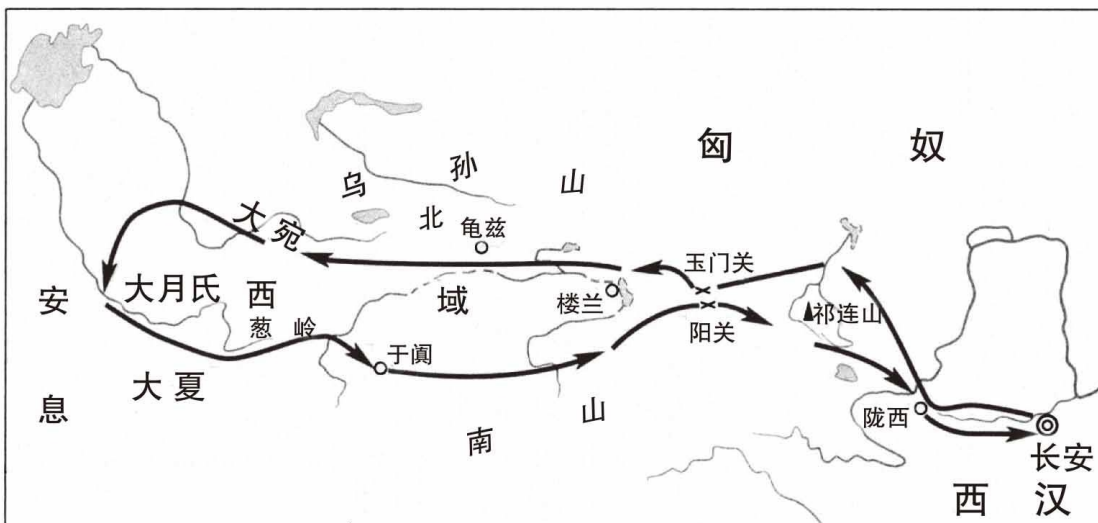


图1



图2

(1) 依据所学, 判断地图所对应的历史事件(或现象)。并说明历史事件(或现象)之间的关系。(6分)

地图对应的历史事件(或现象): (填写序号即可)

图1: \_\_\_\_\_ 图2: \_\_\_\_\_

A. 丝绸之路开通 B. 张骞第一次出使西域

以上历史事件(或现象)之间的关系:

材料二 西域都护作为汉朝政府派驻西域的最高军政长官, 其职责一是维护西域地区安全, 征调、整合当地力量, 孤立、抗击匈奴; 二是代表中央政府, 掌管对地方首领的任免奖惩; 三是保障丝绸之路的畅通, 因为只有道路畅通才能保证西域都护的政令畅达, 才能有效调动西域地区的经济、军事力量, 增强汉朝的影响力与控制力。

——摘编自张璠《汉代西域都护设置的时间及其职责相关问题考辨》

(2) 结合材料二和所学, 分析汉朝设置西域都护的作用。(3分)



**材料三** 丝绸之路开通后，出自中国的精美丝绸制品源源不断贩卖到欧亚各国，特别是欧洲国家权贵和上流社会把丝绸看成上等物品，是高贵身份的标志，丝绸的销售价格几乎与黄金价格持平。除了丝绸，中国商人还把代表先进技术水平的铁制品、金银饰品、镜子等贩运到西方国家。同时，商人们也把西方国家精美的商品贩运回中原，同时带回了很多中国没有的物种，如我们目前常见的葡萄、核桃、胡萝卜、胡椒、胡豆、菠菜、黄瓜等水果和蔬菜。

中国传承至今的儒家文化和汉字影响了东亚和东南亚许多国家和地区文明的进程，古罗马文化也影响了南欧、北非和西亚及地中海沿岸许多国家和地区。中原汉族的文字、语言、先进的铸铁、开渠、打井技术、农耕、纺纱以及金属工具也随着丝绸之路传到西北和西南各地少数民族地区。

——摘编自张强《古丝绸之路时期的交通运输发展简史》

(3) 结合材料三和所学，概括丝绸之路的作用。(4分)



**材料四** 今年是我提出共建“一带一路”倡议10周年。提出这一倡议的初心，是借鉴古丝绸之路，以互联互通为主线，同各国加强政策沟通、设施联通、贸易畅通、资金融通、民心相通，为世界经济注入新动能，为全球发展开辟新空间，为国际经济合作打造新平台。

——习近平在第三届“一带一路”国际合作高峰论坛开幕式上的主旨演讲

(2023年10月18日)

(4) 综合以上材料，谈谈你对今天建设“一带一路”的感想。(2分)





## 海淀区七年级练习

### 历史参考答案

2024.1

#### 第一部分（共 48 分）

题号	1	2	3	4	5	6	7	8	9	10
答案	A	B	C	A	B	C	C	D	A	B
题号	11	12	13	14	15	16	17	18	19	20
答案	C	D	A	D	B	B	C	A	D	B
题号	21	22	23	24						
答案	D	D	A	B						

#### 第二部分（共 52 分）

25.（20分）

(1)①：手工业发展水平高（分工细）；（2分）②：墓葬的规模、随葬品数量和质量差距大，发现集中的王族墓地。（2分）

(2)商朝周边生活着一些部族，他们有时与商朝发生冲突；商代统治者重视农业；商代的耕作方式；甲骨文体系较为完整，记载了商代很多方面的情况。（4分。一点2分，答出两点即可）

(3)措施：确立县制，由国君直接派官吏管理；废除贵族的世袭特权；鼓励耕织，生产粮食、布帛多的人可免除徭役；奖励军功，对有军功者授予爵位并赏赐土地。（4分。一点2分，答出两点即可）

看法：商鞅变法使秦国的国力大为增强，提高了军队的战斗力；为以后秦国统一全国奠定了基础。（4分。一点2分，答出两点即可；其他合理答案也可得分）

(4)措施：迁都洛阳，把北方各族人民迁到中原；改鲜卑姓为汉姓；鼓励鲜卑贵族与汉人贵族通婚；学习汉族文化。（2分。答出一点即可）

作用：促进了民族交融；增强了北魏的实力。（2分。答出一点即可）

26.（17分）

(1)变化：货币数量增加；各种货币流通区出现重合；货币铸造地点增多，地域扩展。（4分）

原因：铁制农具和牛耕的出现和推广，促进了农业的发展；手工业规模不断扩大；商业活动逐渐活跃；各国力图拓展疆域，战争不断。（4分。一点2分，答出两点即可；其他合理答案也可得分）

(2)①：秦始皇（2分。回答秦国、秦朝也可得分）

②：改变了以往币制混乱的状况，有利于国家对经济的管理，促进各地经济的交流。（3分。一点2分，回答出两点即可）

(3)增加财政收入，改善国家财政状况；打击诸侯王、商人势力，加强中央集权。（4分。一点2分，答出两点即可；其他合理答案也可得分）

27.（15分）

(1)图1：B；（2分）图2：A（2分）

关系：2分。

答案示例：张骞开辟通往西域的道路后，汉朝和西域的使者、商人相互往来，这条沟通欧亚的陆上交通道路，就是“丝绸之路”。

(2)维护西域地区秩序；保障丝绸之路的通畅；保证中央政府对西域地区的有效管辖。

(3分。一点2分，回答出两点即可)

(3)丝绸之路是古代东西方往来的大动脉；促进欧亚各国、各地区的贸易、文化和物种交流；有利于中国、罗马文化的传播；有利于中国各民族的交流、交往、交融。(4分。回答出两点即可；其他合理答案也可得分)

(4)2分。要求：与题目相关，价值观正确。

