



历史

第一部分选择题（共 30 分）

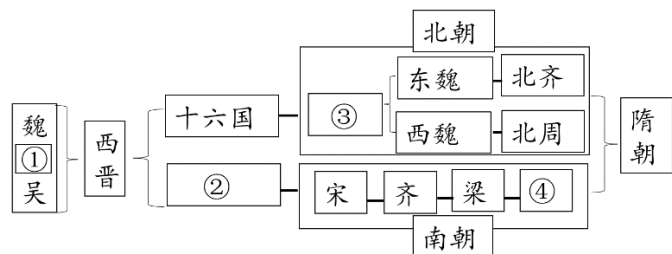
1. 下图为距今 5300 年的牙雕蚕，出土于河南郑州。该遗址不远处还出土了同时期的丝帛。专家推测此遗址为黄帝时代的都邑。据此可知



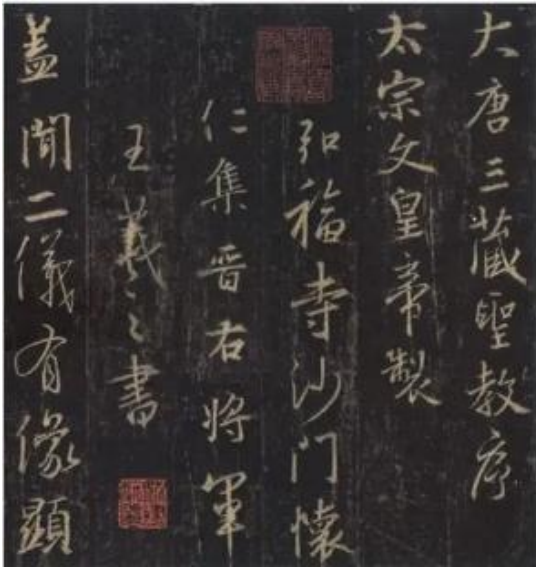
- A. 我国的早期人类起源于河南
 - B. 河南郑州是夏朝时期的都邑
 - C. 黄帝在此地击败了炎帝部落
 - D. 嫘祖缫丝的传说具有可信性
2. 《商君书》记载，能得（故车）甲自（甲士之首级）一者，赏爵一级，益（增加）田一顷，益宅九亩。该措施对秦国的影响是（ ）
- A. 提高生产的积极性
 - B. 提高军队的战斗力
 - C. 加强对人民的管理
 - D. 强化对地方的控制
3. 民本思想是中华优秀传统文化的精华。以下“百家争鸣”的观点能体现这一思想的是（ ）
- A. 《孟子》：民为贵，社稷次之，君为轻
 - B. 《韩非子》：事在四方，要在中央
 - C. 《孙子兵法》：知彼知己，百战不殆
 - D. 《庄子》：天地与我并生，而万物与我为一
4. 以下示意图中①处应填写的是（ ）



- A. 陈胜、吴广起义
 - B. 楚汉之争
 - C. 秦朝灭亡
 - D. 文景之治
5. 下图是某同学绘制的魏晋南北朝时期的政权更替图。其中，在 5 世纪实现了北方黄河流域局部统一的政权是



- A. ①蜀
 - B. ②东晋
 - C. ③北魏
 - D. ④陈
6. 下图是现存放于陕西西安碑林博物馆 《大唐三藏圣教序碑》，在序文中唐太宗高度评价了玄奘法师取经和翻译佛经；碑文是从王羲之书法中集字刻成的。该石碑可以用来研究



- ①中印之间的文化交流 ②唐朝民族关系和睦
③中国书法艺术的发展 ④唐朝文化影响日本

- A. ①② B. ①③ C. ②④ D. ③④

7. 观察下表，表中呈现的变化反映了河南、江苏两地科举考试状元人数表

| | 唐 | 宋 | 明 | 清 |
|----|----|----|----|----|
| 河南 | 15 | 16 | 2 | 1 |
| 江苏 | 7 | 8 | 17 | 49 |

- A. 科举制影响力不断扩大 B. 经济发展促进文化兴盛
C. 河南地区经济发展停滞 D. 江苏地区迁入人口最多

8. 贸易的发展使货币需求剧增，到 1085 年，铜钱的产量较宋初增加近八倍，每年为 60 亿贯；1120 年政府征收了 1800 万两白银的赋税。以上状况导致（ ）

- A. 铸造五铢钱 B. 岁币的增加 C. 白银的外流 D. 交子的产生

9. 观察下列不同时期形势（疆域）图并依据所学，分析所体现出的趋势是（ ）



图1 五代十国形势图（后周时期） 图2 辽、北宋、西夏形势图（1111年） 图3 元朝疆域图（1330年）

- A. 藩镇割据的局面在不断重现 B. 各民族间交融趋势受到阻碍
C. 东西方的文化交流时断时续 D. 统一多民族国家的不断发展

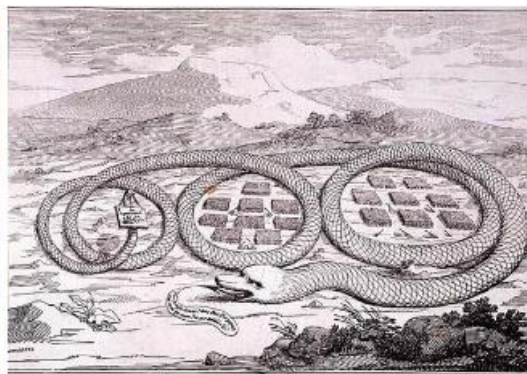

10. 某同学以“明清时期抗击外来侵略”为主题梳理所学知识，下表空白处应填写（ ）

| | | |
|----|------|----|
| 明代 | 明末清初 | 清代 |
|----|------|----|

| | |
|---------|---------|
| 戚继光抗击倭寇 | 中俄雅克萨之战 |
|---------|---------|



- A. 李自成推翻明朝统治
B. 郑成功收复台湾
C. 康熙皇帝三征噶尔丹
D. 清军平定大小和卓叛乱
11. 《本草纲目》将药物分为矿物药、植物药、动物药其编目大致反映了自然界由简单到复杂的发展过程，后被翻译成英、法、德等多种文字西方在一个多世纪后出现了类似的分类学著作。这反映出《本草纲目》
- A. 是中国 17 世纪的工艺百科全书
B. 记载的药物和药方都超过前代
C. 全面总结了古代农业生产的经验
D. 在世界医药史上占有重要地位
12. 研究历史要选用可信度高的史料。下列可用于研究“抗日战争”的史料有（ ）
- ①西安事变谈判旧址 ②《中共中央为公布国共合作宣言》档案
③李宗仁在台儿庄的照片 ④电影《百团大战》
- A. ①②③
B. ①②④
C. ①③④
D. ②③④
13. 文艺复兴“促使欧洲人从以神为中心过渡到以人为中心，在于唤起人的觉醒，使人们把关注的重点从来世转移到现世”。这一论述说明文艺复兴
- A. 有利于人的思想解放
B. 促进了欧洲社会经济的繁荣
C. 推动了新航路的开辟
D. 刺激了资产阶级革命的发生
14. 近代西方国家贩卖奴隶的过程中，奴隶死亡率一般为 30%，最高达 50%。幸存者被卖到美洲后，其劳动寿命平均仅 7 年左右。据此可知，奴隶贸易具有
- A. 长期性
B. 广泛性
C. 复杂性
D. 残酷性
15. 下列关于 17 世纪末的英国描述正确的是（ ）
- A. 机器大生产已替代了手工劳动
B. 国王掌握绝对的政治经济大权
C. 国家实行的是共和制政治体制
D. 议会掌握国家的最高行政权力
16. 下侧两幅漫画分别创作于美国独立战争前及战争期间，对两幅漫画解读正确的是



- A. 北美各殖民地从分散走向联合
B. 北美成为英国主要的原料产地
C. 法国支持北美殖民地的反抗
D. 美国独立后各州间矛盾重重
17. 列宁说：“这本书篇幅不多，价值却当于多部巨著，它的精神至今还鼓舞着、推动着文明世界全体有组织的正在斗争的无产阶级。这本书是（ ）
- A. 《哈姆雷特》
B. 《资本论》
C. 《拿破仑法典》
D. 《共产党宣言》



18. 科学技术推动生产力的发展，主要表现为科学技术对生产工具、劳动对象、生产管理等方面的促进。下列能反映在两次工业革命中“生产工具”发展进步的选项是

- A. 煤炭、石油的大规模开采
- B. 改良蒸汽机、内燃机的广泛应用
- C. 工厂生产和垄断组织出现
- D. 计算机代替部分人力劳动

19. 下表是斯大林 1926-1940 年执政时期苏联经济数据，可以看出当时经济发展特点是

| | 增长 | 年平均增长速度 |
|-----|--------|---------|
| 重工业 | 18.4 倍 | 21.2% |
| 轻工业 | 6.2 倍 | 14.1% |
| 农业 | 26% | 1.5% |

- A. 重视市场和商品货币关系
- B. 人民消费水平不断提高
- C. 高度集中的计划经济体制
- D. 经济发展严重失调

20. 当今世界正处于大发展、大变革、大调整时期，贫富分化日益严重、重大传染性疾病、气候变化等非传统安全威胁持续蔓延。对此应有的正确认识是

- ①人类面临着许多挑战
- ②这些问题是经济全球化发展的必然结果
- ③面对共同问题，各国要加强合作共担责任
- ④应充分发挥联合国等国际组织的作用

- A. ①②
- B. ③④
- C. ①③④
- D. ①②③④

第二部分材料分析题（共 40 分）

21. 水稻是重要的粮食作物。阅读材料，回答有关问题。

材料一



以上分别是出土于浙江上山遗址、江西万年仙人洞遗址、湖南玉蟾岩遗址的早期栽培稻遗存，它们的年代距今约 12000 年至 10000 年，早于世界其他地区。

2011 年，美国圣路易斯华盛顿大学的芭芭拉·沙尔（Barbara A. Schaal）和纽约大学的迈克尔·普鲁加南（Michael D. Purugganan）联合开展了一项更大规模、更严密的 DNA 研究。



他们细心选择了水稻的 630 个基因片段进行分析，最终得出的结论是：栽培稻的确是单次起源的，起源时间很可能在 8500 年前。

——刘夙《水稻起源战争》

(1) 依据材料一，能够得出的结论是什么？

材料二 占城稻自传入长江流域以后，种植地区广、面积大，对于长江流域的水稻生产产生了重大影响。占城稻在长江流域的传播过程中，又选育出许多适合当地特点的新品种，有的品种产量甚至高出粳稻，为当地粮食增产、品种布局的合理化及南宋时期长江流域的稻麦两熟农作制的发展创造了条件。

——摘编自李爱军《我国北宋时期占城稻的推广与发展》

(2) 依据材料二，分析占城稻传入后对我国农业产生 影响。

材料三 19 世纪 60 年代起，在上海、广东等沿海地区，及在无锡、南京、芜湖、九江、武汉等沿江地区，相继出现了主要加工机械从国外引进的机制稻米加工业。近代稻米加工工艺在砻谷（脱去稻谷外壳）之前，增加了稻谷清理工段，原料稻谷经过清理工段，可以将各种杂物分离出去。

——谢天、杨会宾等《我国稻米加工工艺的沿革与展望》

(3) 依据材料并结合所学，指出近代中国机制稻米加工业出现的背景。

材料四 袁隆平，中国工程院院士，是享誉全球的“杂交水稻之父”。先后荣获国家发明特等奖、首届国家最高科学技术奖、“世界粮食奖”等 20 多项国际国内大奖，并当选为美国科学院外籍院士。袁隆平培育的杂交水稻，被西方专家称之为“东方魔稻”，比常规水稻增产 20% 以上，目前已经覆盖了全中国和许多国家。他不仅让中国的杂交水稻不断刷新高产纪录，还探索出高产高质的“海水稻”新品种。海水稻是在沿海滩涂的海水里生长的水稻，具有良好的抗盐碱、耐淹等诸多特点。

——摘自央视网《袁隆平：稻田“守望者”》

(4) 根据材料四，指出袁隆平的主要成就，结合所学概括其意义。

22. 体育发展是衡量一个国家、社会发展进步 一项重要标志。

材料一


| | |
|---|---|
|  <p style="display: flex; justify-content: space-around;"> ① ② ③ </p> | <p>根据《周礼》，六艺，即：礼、乐、射、御、书、数，指中国周朝贵族教育体系中的六种技能。</p> |
|---|---|

(1) “射”“御”为六艺中的体育活动项目，请将其分别与材料一中的图片对应起来。（填写图片序号）

A 射：_____ B.御：_____

材料二



| | |
|--|--|
|  <p style="text-align: center;">汉代画像石上的蹴鞠拓片</p> | <p>汉代画像石上的蹴鞠拓片中国古代足球称为“蹴鞠”或“蹋鞠”。西汉刘向《别录》中说：“蹋鞠，兵势也。所以练武士，知有才也，皆因嬉戏而讲练之”。蹴鞠除象征“兵势”、有训练士兵的作用外，也用于丰富军中生活，使战士保持良好的体力和情绪。</p> |
|--|--|

(2) 依据材料二，指出汉代蹴鞠的作用。

材料三 精武体育会源于霍元甲于 1910 年在上海创办的精武体操学校，是以教授、弘扬中华武术，培养革命力量为主要活动和任务的群众性武术团体，以体，智，德三育为宗旨，倡导“爱国、修身、正义、助人”、“强国、强民、强身”、“乃文乃武”的精武精神。据农劲荪之子给霍元甲之孙霍文亭的信中说，精武会成立之初，霍元甲是技击部主任，农劲荪是精武会第一任会长，而孙中山是第一任名誉会长。因当时还是清朝末年，孙中山不宜过于暴露，就没公布。

——《孙中山与精武会的不解之缘》

(3) 依据材料三并结合所学，概括指出精武体育会成立背景。

材料四 大工厂的生产将人类从手工工场中解放了出来，一方面群众的工作方式和性质得到了质上的改变，为民众节省出了宽裕的社会生活时间。另一方面，广大群众不再只担忧温饱问题，而是开始追求自身的需求和兴趣爱好。于是，人们将目光投到了体育运动等其他娱乐方式上。而此时，现代网球刚刚诞生，不仅新兴的网球俱乐部如雨后春笋般建立，众多其他项目的俱乐部也开始开展网球运动，俱乐部的建立为现代网球在人民群众间的传播和发展起到了推动作用。1877 年 7 月，举办了第一届全英草地网球男子单打锦标赛，即后来举世闻名的温布尔登草地网球锦标赛。而后期兴办的比赛，也为此项运动更加广泛地吸引着多方多国的受众人群，为更大范围的推广现代网球发挥着不可替代的作用。

——李津晶《浅析第一次工业革命对现代体育发展的影响》

(4) 根据材料四，分析网球运动在英国兴起的原因。

材料五

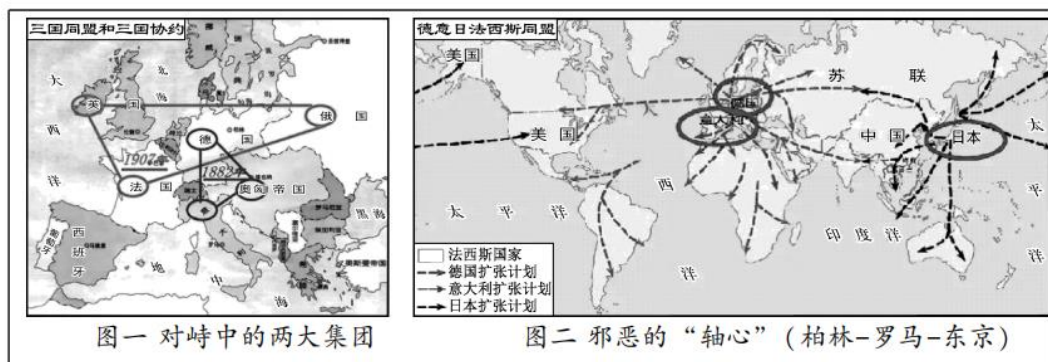
| 北京冬奥会开幕式 | | 北京冬奥会闭幕式 | |
|-------------------------------------|--|---|--|
| 场景① 鸟巢上空现“立春 SPEING”焰火，以二十四节气倒计时 | 场景② 最后一棒火炬手将火炬放入“大雪花”中央，“微火”转化为北京冬奥会主火炬 | 场景③ 伴随乐曲《送别》，来自各行各业的普通人手捧发光柳枝，缓步进入场地 | 场景④ 鸟巢上空出现绚烂焰火，出现“天下一家”和“ONEWORLDONEFAMILY”字样 |

(5) 北京冬奥会如期安全顺利举办，开闭幕式精彩纷呈。请你从以上四个场景中任选其一（填序号），谈谈其中蕴含的理念或寓意。

23. 战争•和平



材料一



图一 对峙中的两大集团

图二 邪恶的“轴心”（柏林-罗马-东京）

(1) 依据材料一并结合所学，谈谈这种情况对世界构成了怎样的影响？

材料二 两次世界大战资料统计表

| 战争名称 | 参战国 | 持续时间 | 卷入人口 | 参战人员 | 伤亡人员 | 直接经济损失 |
|------|-------|------|------|-------|-------|----------|
| 一战 | 30 多个 | 4 年多 | 15 亿 | 0.7 亿 | 0.3 亿 | 1805 亿美元 |
| 二战 | 60 多个 | 6 年 | 20 亿 | 1 亿 | 0.7 亿 | 4 万亿美元 |

(2) 依据材料二，概括指出两次世界大战的共同点。

材料三

| | |
|--|--|
| <p>“冷战”时期的批评家曾经指责一些军事联盟如北约组织和华约组织推动了高昂的军备竞赛，并使地区冲突一直有转变成超级大国之间核对抗的危险。“冷战”结束后，赞扬这些军事联盟具有控制冲突升级的能力却成为时尚。</p> <p>——（美）杰里·本特利等《新全球史》</p> | <p>苏联曾经是有用的敌人。美国相信，不仅要和苏联的军事力量竞赛，还要和苏联的成就竞赛……没有苏联的空间计划，美国人就不可能登上月球……</p> <p>——《美国新闻与世界报道》 1991.9.9</p> |
|--|--|

(3) 概括材料三对美苏冷战的评价。

材料四 全球治理不是由少数国家来治理其他国家。习近平指出：中国秉持共商共建共享的全球治理观，坚持国家不分大小、强弱、贫富一律平等。中国主张国际规则应该由各国共同书写，全球事务应该由各国共同治理，发展成果应该由各国共同分享。

——摘编自人民日报《全球治理中国方案的世界意义》



(4) 依据材料五，分析中国的全球治理观与旧的国际秩序的本质区别。

24. 革命·建设

材料一

| | | |
|---|---|---|
| ① | ② | ③ |
|---|---|---|



| | | |
|---|---|---|
| <p>大清皇帝统治清帝国， 万世一系，永永尊戴；君上 神圣尊严，不可侵犯。</p> <p>——1908年《钦定宪法 大纲》</p> |  <p>宣统三年大清银币</p> | <p>1909-1911年中国新开设面粉厂11家，资本额181万元；1910年中国工业商品总量为25.5亿元。</p> |
| <p>中华民国由中华人民组织之；中华民国之主权属于国民全体。</p> <p>——1912年《中华民国 临时约法》</p> |  <p>中华民国三年银元</p> | <p>1912-1914年中国新开设面粉厂28家，资本额320万元；1919年中国工业商品总量为44.8亿元。</p> |

(1) 依据材料一，比较辛亥革命前后的变化。

材料二

| | |
|------------------------|---|
| <p>中共一大 (1921)</p> | <p>大会确定党的奋斗目标是推翻资产阶级政权，建立无产阶级专政，实现共产主义。</p> |
| <p>中共二大 (1922)</p> | <p>大会重申了党的最终奋斗目标是建设共产主义，同时制定了党的最低纲领。纲领规定，在民主革命阶段，党的主要任务是打倒军阀，推翻帝国主义，将中国统一为真正的民主共和国。</p> |

(2) 中共革命纲领发生了什么变化，这一变化说明了什么？

材料三 1950年11月27日至12月24日，中美两支王牌军在朝鲜长津湖地区展开了一场激战。美军包括海军陆战队第1师和第3、第7步兵师，以及韩国第1军团，约10万人；攻击这支部队的是志愿军第9兵团，近15万人。在零下30-40摄氏度的严寒中苦斗20天之后，美军残部在7艘航空母舰的掩护下，利用海路脱离战场，这也意味着“联合国军”全部被逐出朝鲜东北部。由于从东南沿海紧急入朝，未能配备御寒冬装，志愿军第9兵团此役战斗伤亡19202人，冻伤28954人，冻死4000余人。

——《长津湖战役：朝鲜战场上超越极限的血色》

(3) 依据材料并结合所学，谈谈长津湖战役体现出的中国人民志愿军的精神。

材料四 从今以后，只要不发生大规模的外敌入侵，现代化建设就是全党的工作。其他工作包括党的政治工作，都围绕着这个中心工作，并为这个中心工作服务的；不能再搞任何离开这个中心工作、损害现代化建设的‘政治运动’和‘阶级斗争’了。

——选自1978年12月《人民日报》社论

(4) 结合所学，谈谈材料中这一认识的历史意义。

参考答案

第一部分选择题（共 30 分）



1. 下图为距今 5300 年的牙雕蚕，出土于河南郑州。该遗址不远处还出土了同时期的丝帛。专家推测此遗址为黄帝时代的都邑。据此可知



- A. 我国的早期人类起源于河南
- B. 河南郑州是夏朝时期的都邑
- C. 黄帝在此地击败了炎帝部落
- D. 嫘祖缫丝的传说具有可信性

【答案】D

【解析】

【分析】

【详解】根据材料“距今 5300 年的牙雕蚕，出土于河南郑州”、“该遗址不远处还出土了同时期的丝帛。专家推测此遗址为黄帝时代的都邑”及所学知识可得，如果说这个是黄帝时期就已经有了养蚕，那么缫丝就有了可能，也就是嫘祖缫丝的传说具有可信性，D 项正确；材料不能说明这个是最早的人类，也就不能说明我国的早期人类起源于河南，不符合题意，排除 A 项；材料只是说了这里可能有黄帝时期的养蚕，不能说明这里就是夏朝时期的都邑，排除 B 项；材料不能反映出黄帝的相关战争，排除 C 项。故选 D 项。

【点睛】

2. 《商君书》记载，能得（故车）甲自（甲士之首级）一者，赏爵一级，益（增加）田一顷，益宅九亩。该措施对秦国的影响是（ ）

- A. 提高生产的积极性
- B. 提高军队的战斗力
- C. 加强对人民的管理
- D. 强化对地方的控制

【答案】B

【解析】

【分析】

【详解】根据“能得（故车）甲自（甲士之首级）一者，赏爵一级，益（增加）田一顷，益宅九亩”可知，该措施是军功爵制，这一措施激励了秦国人踊跃参军，奋勇作战，提高军队的战斗力，故 B 项正确；军功爵制提高军队的战斗力，与提高生产的积极性、加强对人民的管理、强化对地方的控制无关，排除 ACD 项。故选 B 项。

【点睛】

3. 民本思想是中华优秀传统文化的精华。以下“百家争鸣”的观点能体现这一思想的是（ ）

- A. 《孟子》：民为贵，社稷次之，君为轻
- B. 《韩非子》：事在四方，要在中央
- C. 《孙子兵法》：知彼知己，百战不殆
- D. 《庄子》：天地与我并生，而万物与我为一

【答案】A

【解析】

【分析】



【详解】“民为贵，社稷次之，君为轻”体现了重视人民的民本思想，故 A 项正确；“事在四方，要在中央”体现了中央集权的思想，排除 B 项；“知彼知己，百战不殆”属于军事思想，排除 C 项；“天地与我并生，而万物与我为一”体现了人与自然的关系，无法体现民本思想，排除 D 项。故选 A 项。

【点睛】

4. 以下示意图中①处应填写 是 ()



- A. 陈胜、吴广起义 B. 楚汉之争 C. 秦朝灭亡 D. 文景之治

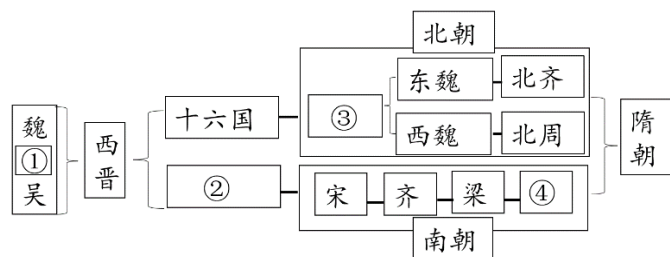
【答案】D

【解析】

【详解】根据所学知识可知，汉朝建立之初，为恢复和发展经济，以黄老之学作为治国思想，采取休养生息、与民休息、轻徭薄赋的政策，这促进了当时社会经济的恢复和发展，出现了“文景之治”，D 项正确；陈胜、吴广起义是秦末时期的农民起义，不符合题意，排除 A 项；楚汉相争发生在汉朝建立之前，与题干休养生息政策无关，排除 B 项；汉初采取休养生息的政策，出现了文景之治，与秦朝灭亡无关，排除 C 项。故选 D 项。

【点睛】

5. 下图是某同学绘制的魏晋南北朝时期的政权更替图。其中，在 5 世纪实现了北方黄河流域局部统一的政权是



- A. ①蜀 B. ②东晋 C. ③北魏 D. ④陈

【答案】C

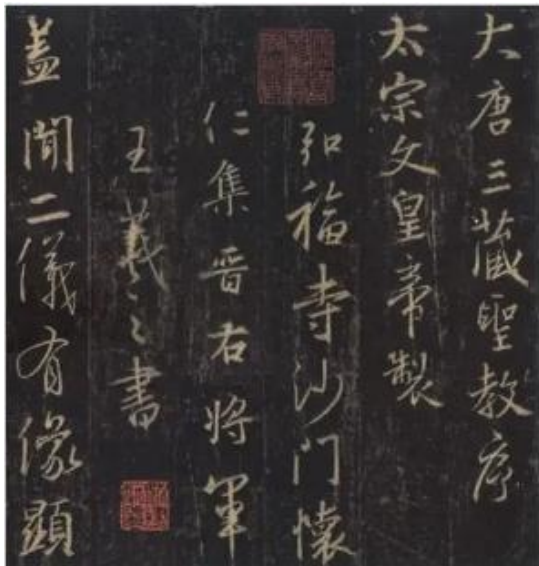
【解析】

分析】

【详解】根据材料并结合所学可知，西晋一度结束了三国鼎立的局面，实现了短暂的大一统。西晋灭亡后，中国历史进入南北朝分裂对峙时期，其中有局部统一的出现，如北魏政权在 5 世纪实现了北方黄河流域局部统一，C 项正确；蜀属于三国政权之一，排除 A 项；东晋政权偏安江南，未曾统一北方黄河流域，排除 B 项；陈属于南朝政权之一，未曾统一北方黄河流域，排除 D 项。故选 C 项。

【点睛】

6. 下图是现存放于陕西西安碑林博物馆的《大唐三藏圣教序碑》，在序文中唐太宗高度评价了玄奘法师取经和翻译佛经；碑文是从王羲之书法中集字刻成的。该石碑可以用来研究



- ①中印之间的文化交流 ②唐朝民族关系和睦
- ③中国书法艺术的发展 ④唐朝文化影响日本

- A. ①② B. ①③ C. ②④ D. ③④

【答案】B

【解析】

【详解】根据题干信息“序文中唐太宗高度评价玄奘法师取经和翻译佛经，碑文从王羲之书法中集字刻成”，结合所学知识可知，唐太宗贞观年间，玄奘历经艰辛，西行天竺学习佛法，玄奘的见闻，由弟子整理成书《大唐西域记》是研究中外交流史的珍贵文献；东晋书法家王羲之，他的字被赞为“飘若浮云，矫若惊龙”，集书法之大成，他的代表作《兰亭集序》，有“天下第一行书”的美誉，被后人称为“书圣”。因此该石碑可以用来研究，①中印之间的文化交流和③中印之间文化交流。B项正确；“《大唐三藏圣教序碑》”反映的是中印之间的文化交流，是中外交流而不是民族间的交往，②错误。“《大唐三藏圣教序碑》”反映的是中印之间的文化交流，与日本无关，④错误。排除ACD项。故选B项。

7. 观察下表，表中呈现的变化反映了河南、江苏两地科举考试状元人数表

| | 唐 | 宋 | 明 | 清 |
|----|----|----|----|----|
| 河南 | 15 | 16 | 2 | 1 |
| 江苏 | 7 | 8 | 17 | 49 |

- A. 科举制影响力不断扩大 B. 经济发展促进文化兴盛
- C. 河南地区经济发展停滞 D. 江苏地区迁入人口最多

【答案】B

【解析】

【详解】根据题干“河南、江苏两地科举考试状元人数表”可知，该表涉及的数值是状元人数的变化，分析图表可知，从唐到清，河南的状元人数逐渐减少，江苏则逐渐增多，而中国古代经济重心南移从唐朝中期开始，至南宋最后完成，此后经济重心始终在南方，这说明经济发展促进文化兴盛。选项B符合题意；A项表格中没有体现，排除；C项表述与史实不符，排除；表格中没有涉及迁入人口最多的地区，D排除。故选择B。



8. 贸易的发展使货币需求剧增，到 1085 年，铜钱的产量较宋初增加近八倍，每年为 60 亿贯；1120 年政府征收了 1800 万两白银的赋税。以上状况导致（ ）

- A. 铸造五铢钱 B. 岁币的增加 C. 白银的外流 D. 交子的产生

【答案】D

【解析】

【详解】题干材料提到宋代贸易发展，导致贸易往来中所需的货币增多，大量的铜钱不方便携带和交易，所以便携的纸币在宋代营运而生。由于宋代商品经济的繁荣导致这一时期出现了最早的纸币--交子。故 D 符合题意；铸造五铢钱是铜钱的一种，与题干没有直接联系，故 A 不符合题意；岁币，旧指朝廷每年向外族输纳的钱物，也指地方每年向国家缴纳的钱物。在材料中未涉及，故 B 不符合题意；材料中未涉及宋朝出现贸易逆差，白银外流，故 C 不符合题意；故选 D。

9. 观察下列不同时期形势（疆域）图并依据所学，分析所体现出的趋势是（ ）



图1 五代十国形势图（后周时期） 图2 辽、北宋、西夏形势图（1111年） 图3 元朝疆域图（1330年）

- A. 藩镇割据的局面在不断重现 B. 各民族间交融趋势受到阻碍
C. 东西方的文化交流时断时续 D. 统一多民族国家的不断发展

【答案】D

【解析】

【详解】根据图片信息结合所学可知，五代十国时期多个政权并立；辽北宋西夏时期，相比五代十国时期政权数量减少，元朝完成了大一统，可见，从五代十国到元朝，统一多民族国家在不断发展，D 项正确；藩镇割据的局面描述的主要是唐朝末期，五代十国时期，排除 A 项；材料中未涉及民族交融，排除 B 项；材料中未涉及西方国家与中国的交往，排除 C 项。故选 D 项。

10. 某同学以“明清时期抗击外来侵略”为主题梳理所学知识，下表空白处应填写（ ）

| | | |
|---------|------|---------|
| 明代 | 明末清初 | 清代 |
| 戚继光抗击倭寇 | | 中俄雅克萨之战 |

- A. 李自成推翻明朝统治 B. 郑成功收复台湾
C. 康熙皇帝三征噶尔丹 D. 清军平定大小和卓叛乱

【答案】B

【解析】

【详解】根据材料结合所学可知，明朝中期，东南沿海倭寇猖獗。戚继光组建了一支抗倭队伍，号称戚家军。扫平了东南沿海的倭患。荷兰殖民者侵占了我国宝岛台湾，郑成功于 1662 年打败了荷兰殖民者，收复了台湾。17 纪 40 年代，沙俄强占了我国东北地区的雅克萨和尼布楚地区。1685 和 1686 年康熙帝两次出兵雅克萨，重创俄军。因此



明清时期抗击外来侵略者的具体史实有:戚继光抗倭;郑成功收复台湾,康熙帝组织雅克萨反击战。故空白处应填写郑成功收复台湾。故 B 符合题意;李自成推翻明朝统治,不属于反抗侵略者,故 A 不符合题意;康熙皇帝平定噶尔丹、清军平定大小和卓叛乱,两者发生在清朝,属于内部矛盾而非反抗外来侵略,故 CD 不符合题意。故选 B。

11. 《本草纲目》将药物分为矿物药、植物药、动物药其编目大致反映了自然界由简单到复杂的发展过程,后被翻译成英、法、德等多种文字西方在一个多世纪后出现了类似的分类学著作。这反映出《本草纲目》

- A. 是中国 17 世纪的工艺百科全书
B. 记载的药物和药方都超过前代
C. 全面总结了古代农业生产的经验
D. 在世界医药史上占有重要地位

【答案】D

【解析】

【分析】

【详解】根据材料可知《本草纲目》将药物分类的方法在一个多世纪以后西方才有类似的著作出现,表明在世界上处于领先地位;另外被翻译成多种文字在西方流传,说明《本草纲目》在医药史上占有重要地位,故选 D; A 是宋应星的《天工开物》,排除; B 说法绝对化,排除;材料体现的是医药学, C 不符合题意,排除。

12. 研究历史要选用可信度高 史料。下列可用于研究“抗日战争”的史料有 ()

- ①西安事变谈判旧址 ②《中共中央为公布国共合作宣言》档案
③李宗仁在台儿庄的照片 ④电影《百团大战》

- A. ①②③ B. ①②④ C. ①③④ D. ②③④

【答案】A

【解析】

【分析】

【详解】抗日战争时间是 1931-1945 年,1936 年西安事变,西安事变的和平解决标志着抗日民族统一战线初步形成,谈判旧址可以作为研究“抗日战争”的史料,①正确;《中共中央为公布国共合作宣言》的公布,标志着抗日民族统一战线形成,其档案可以作为研究“抗日战争”的史料,②正确;1938 年李宗仁取得台儿庄大捷,李宗仁在台儿庄的照片可以作为研究“抗日战争”的史料,③正确;①②③正确,故 A 项正确;电影是经过艺术加工的,可信度较低,排除④,故排除 BCD 项。故选 A 项。

【点睛】

13. 文艺复兴“促使欧洲人从以神为中心过渡到以人为中心,在于唤起人的觉醒,使人们把关注的重点从来世转移到现世”。这一论述说明文艺复兴

- A. 有利于人的思想解放
B. 促进了欧洲社会经济的繁荣
C. 推动了新航路的开辟
D. 刺激了资产阶级革命的发生

【答案】A

【解析】

【详解】根据材料“文艺复兴“促使欧洲人从以神为中心过渡到以人为中心,在于唤起人的觉醒,使人们把关注的重点从来世转移到现世”可得出文艺复兴要求建立以人为中心的生活哲学,有利于人的思想解放, A 项正确;工业革命促进了欧洲社会经济的繁荣,排除 B 项;商品经济的发展、资本主义的萌芽推动了新航路的开辟,排除 C 项;封建统治刺激了资产阶级革命的发生,排除 D 项。故选 A 项。



14. 近代西方国家贩卖奴隶的过程中，奴隶死亡率一般为 30%，最高达 50%。幸存者被卖到美洲后，其劳动寿命平均仅 7 年左右。据此可知，奴隶贸易具有

- A. 长期性 B. 广泛性 C. 复杂性 D. 残酷性

【答案】D

【解析】

【详解】据材料可知，奴隶贸易中“奴隶死亡率一般为 30%，最高达 50%，幸存者的劳动寿命平均仅 7 年左右”，这表明了奴隶贸易的残酷性，D 项正确；材料未涉及奴隶贸易的存在时长，排除 A 项；材料仅仅是强调美洲的奴隶贸易，未涉及其他地点，不涉及广泛性，排除 B 项；材料未涉及奴隶贸易的其他方面，只是强调奴隶贸易中“奴隶死亡率一般为 30%，最高达 50%，幸存者的劳动寿命平均仅 7 年左右”，排除 C 项。故选 D 项。

15. 下列关于 17 世纪末的英国描述正确的是（ ）

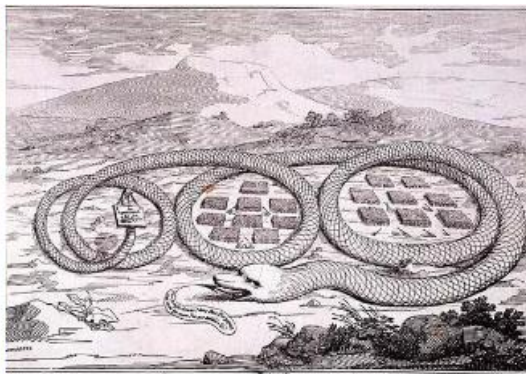

- A. 机器大生产已替代了手工劳动 B. 国王掌握绝对的政治经济大权
C. 国家实行的是共和制政治体制 D. 议会掌握国家的最高行政权力

【答案】D

【解析】

【详解】根据所学知识，1689 年，英国颁布《权利法案》，以《权利法案》为基础，英国确立了议会在国家政治生活中的最高地位，逐渐形成君主立宪制，D 正确；18 世纪 60 年代至 19 世纪中期，英国进行了工业革命，机器生产代替了手工劳动，排除 A；1689 年，颁布《权利法案》，《权利法案》的目的是限制国王权力的，排除 B；1689 年，颁布《权利法案》，逐渐形成了君主立宪制，不是共和制政治体制，排除 C。故选 D。

16. 下侧两幅漫画分别创作于美国独立战争前及战争期间，对两幅漫画解读正确 是



- A. 北美各殖民地从分散走向联合 B. 北美成为英国主要的原料产地
C. 法国支持北美殖民地 反抗 D. 美国独立后各州间矛盾重重

【答案】A

【解析】

【详解】根据材料可得出美国独立战争前北美大西洋沿岸有 13 个英国殖民地，美国独立战争爆发后各殖民地决定联合起来，A 项正确；北美成为英国主要的原料产地与题干不符，排除 B 项；法国支持北美殖民地的反抗与题干不符，排除 C 项；美国独立后各州间矛盾重重与题干不符，排除 D 项。故选 A 项。

17. 列宁说：“这本书篇幅不多，价值却当于多部巨著，它的精神至今还鼓舞着、推动着文明世界全体有组织的正在进行斗争的无产阶级。这本书是（ ）

- A. 《哈姆雷特》 B. 《资本论》 C. 《拿破仑法典》 D. 《共产党宣言》



【答案】D

【解析】

【分析】

【详解】结合所学知识可知，1848年，受共产主义者同盟的委托，马克思和恩格斯起草了《共产党宣言》，它的发表标志着马克思主义的诞生。这为世界无产阶级提供了最锐利的思想武器，有力的推动了世界无产阶级革命的发展。从此国际工人运动在马克思主义的指导下，进入一个新的历史时期。所以材料说的这本书是《共产党宣言》，D项正确；ABC项与题意不符，排除ABC项。故选D项。

【点睛】

18. 科学技术推动生产力的发展，主要表现为科学技术对生产工具、劳动对象、生产管理等方面的促进。下列能反映在两次工业革命中“生产工具”发展进步的选项是

- A. 煤炭、石油的大题开采
- B. 改良蒸汽机、内燃机的广泛应用
- C. 工厂生产和垄断组织出现
- D. 计算机代替部分人力劳动

【答案】B

【解析】

【详解】依据所学知识可知，第一次工业革命中瓦特改良的蒸汽机，为工作机提供了稳定的动力，把人类带入了蒸汽时代；第二次工业革命时期，德国人卡尔·本茨等人设计出内燃机，成为机械的主要动力。故B符合题意；A项是两次工业革命中产生的新能源；C项是两次工业革命产生的影响；D项指的是第三次科技革命。故选B。

19. 下表是斯大林 1926-1940 年执政时期苏联经济数据，可以看出当时经济发展特点是

| | 增长 | 年平均增长速度 |
|-----|--------|---------|
| 重工业 | 18.4 倍 | 21.2% |
| 轻工业 | 6.2 倍 | 14.1% |
| 农业 | 26% | 1.5% |

- A. 重视市场和商品货币关系
- B. 人民消费水平不断提高
- C. 高度集中的计划经济体制
- D. 经济发展严重失调

【答案】D

【解析】

【详解】斯大林统治时期形成高度集中的政治经济体制，称为斯大林模式。该模式下优先发展重工业，导致农轻重比例失调。表格中重工业增长率最快，农业最慢。说明经济发展严重失调，D项正确；斯大林模式时期排斥市场作用，排除A项；材料说明的是工农业发展比例，不能看出人民消费水平的提高，排除B项；表格体现出经济发展比例，不是经济体制，排除C项。故选D项。

20. 当今世界正处于大发展、大变革、大调整时期，贫富分化日益严重、重大传染性疾病、气候变化等非传统安全威胁持续蔓延。对此应有的正确认识是



- ①人类面临着许多挑战
- ②这些问题是经济全球化发展的必然结果
- ③面对共同问题，各国要加强合作共担责任
- ④应充分发挥联合国等国际组织的作用

A. ①② B. ③④ C. ①③④ D. ①②③④

【答案】C


【解析】

【详解】根据所学知识可知，①气候变化等非传统安全威胁持续蔓延，说明人类面临着许多挑战，②这些问题不是经济全球化发展的必然结果，③面对气候变化等共同问题，各国要加强合作共担责任，④面对气候变化等共同问题，应充分发挥联合国等国际组织的作用，团结起来，共同构建人类命运共同体，由此可知C符合题意；ABD错误，排除。故选C。

第二部分材料分析题（共40分）

21. 水稻是重要的粮食作物。阅读材料，回答有关问题。

材料一



以上分别是出土于浙江上山遗址、江西万年仙人洞遗址、湖南玉蟾岩遗址的早期栽培稻遗存，它们的年代距今约12000年至10000年，早于世界其他地区。

2011年，美国圣路易斯华盛顿大学的芭芭拉·沙尔（Barbara A. Schaal）和纽约大学的迈克尔·普鲁加南（Michael D. Purugganan）联合开展了一项更大规模、更严密的DNA研究。他们细心选择了水稻的630个基因片段进行分析，最终得出的结论是：栽培稻的确是单次起源的，起源时间很可能在8500年前。

——刘夙《水稻起源战争》

(1) 依据材料一，能够得出的结论是什么？

材料二 占城稻自传入长江流域以后，种植地区广、面积大，对于长江流域的水稻生产产生了重大影响。占城稻在长江流域的传播过程中，又选育出许多适合当地特点的新品种，有的品种产量甚至高出粳稻，为当地粮食增产、品种布局的合理化及南宋时期长江流域的稻麦两熟农作制的发展创造了条件。

——摘编自李爱军《我国北宋时期占城稻的推广与发展》

(2) 依据材料二，分析占城稻传入后对我国农业产生的影响。

材料三 19世纪60年代起，在上海、广东等沿海地区，及在无锡、南京、芜湖、九江、武汉等沿江地区，相继出现了主要加工机械从国外引进的机制稻米加工业。近代稻米加工工艺在砻谷（脱去稻谷外壳）之前，增加了稻谷清理工段，原料稻谷经过清理工段，可以将各种杂物分离出去。



(3) 依据材料并结合所学，指出近代中国机制稻米加工业出现的背景。

材料四 袁隆平，中国工程院院士，是享誉全球的“杂交水稻之父”。先后荣获国家发明特等奖、首届国家最高科学技术奖、“世界粮食奖”等 20 多项国际国内大奖，并当选为美国科学院外籍院士。袁隆平培育的杂交水稻，被西方专家称之为“东方魔稻”，比常规水稻增产 20% 以上，目前已经覆盖了全中国和许多国家。他不仅让中国的杂交水稻不断刷新高产纪录，还探索出高产高质的“海水稻”新品种。海水稻是在沿海滩涂的海水里生长的水稻，具有良好的抗盐碱、耐淹等诸多特点。

——摘自央视网《袁隆平：稻田“守望者”》

(4) 根据材料四，指出袁隆平的主要成就，结合所学概括其意义。

【答案】 (1) 栽培稻起源于中国。(或中国最早种植水稻)

(2) 提高了粮食产量；扩大了种植面积；农作物品种布局更合理；为稻麦两熟农作制的发展提供条件。(答出两点即可)

(3) 沿海、沿江被迫开放通商口岸；洋务运动兴起；中国民族资本主义产生。

(4) 成功培育杂交水稻。有利于解决我国这样一个人口大国的吃饭问题和保障我国粮食安全；有利于解决世界性饥饿问题和发展中国家的粮食短缺问题。

【解析】

【小问 1 详解】

根据材料信息，“江西万年仙人洞遗址、湖南玉蟾岩遗址的早期栽培稻遗存，它们的年代距今约 12000 多年至 10000 年，早于世界其他地区”可知，中国最早种植水稻。

【小问 2 详解】

根据材料信息，“占城稻自传入长江流域以后，种植地区广、面积大，对于长江流域的水稻生产产生了重大影响。占城稻在长江流域的传播过程中，又选育出许多适合当地特点的新品种，有的品种产量甚至高出粳稻，为当地粮食增产、品种布局的合理化及南宋时期长江流域的稻麦两熟农作制的发展创造了条件”可知，提高了粮食产量；扩大了种植面积；农作物品种布局更合理；为稻麦两熟农作制的发展提供条件。

【小问 3 详解】

根据材料信息“在上海、广东等沿海地区，及在无锡、南京、芜湖、九江、武汉等沿江地区，相继出现了主要加工机械从国外引进的机制稻米加工业。”并结合所学知识，可知，近代中国机制稻米加工业出现的背景是沿海、沿江被迫开放通商口岸；洋务运动兴起；中国民族资本主义产生。

【小问 4 详解】

根据材料信息，“他让中国的杂交水稻不断刷新高产纪录，还探索出高产高质的“海水稻”新品种”并结合所学知识，袁隆平的成就是成功培育杂交水稻。其意义是有利于解决我国这样一个人口大国的吃饭问题和保障我国粮食安全；有利于解决世界性饥饿问题和发展中国家的粮食短缺问题。

22. 体育发展是衡量一个国家、社会发展进步的一项重要标志。

材料一



| | |
|--|---|
| | <p>根据《周礼》，六艺，即：礼、乐、射、御、书、数，指中国周朝贵族教育体系中的六种技能。</p> |
|--|---|

(1) “射”“御”为六艺中的体育活动项目，请将其分别与材料一中的图片对应起来。(填写图片序号)

A.射：_____ B.御：_____

材料二

| | |
|--------------------|--|
| <p>汉代画像石上的蹴鞠拓片</p> | <p>汉代画像石上的蹴鞠拓片中国古代足球称为“蹴鞠”或“蹋鞠”。西汉刘向《别录》中说：“蹋鞠，兵势也。所以练武士，知有才也，皆因嬉戏而讲练之”。蹴鞠除象征“兵势”、有训练士兵的作用外，也用于丰富军中生活，使战士保持良好的体力和情绪。</p> |
|--------------------|--|

(2) 依据材料二，指出汉代蹴鞠的作用。

材料三 精武体育会源于霍元甲于 1910 年在上海创办的精武体操学校，是以教授、弘扬中华武术，培养革命力量为主要活动和任务的群众性武术团体，以体，智，德三育为宗旨，倡导“爱国、修身、正义、助人”、“强国、强民、强身”、“乃文乃武”的精武精神。据农劲荪之子给霍元甲之孙霍文亨的信中说，精武会成立之初，霍元甲是技击部主任，农劲荪是精武会第一任会长，而孙中山是第一任名誉会长。因当时还是清朝末年，孙中山不宜过于暴露，就没公布。

——《孙中山与精武会的不解之缘》

(3) 依据材料三并结合所学，概括指出精武体育会成立背景。

材料四 大工厂的生产将人类从手工工场中解放了出来，一方面群众的工作方式和性质得到了质上的改变，为民众节省出了宽裕的社会生活时间。另一方面，广大群众不再只担忧温饱问题，而是开始追求自身的需求和兴趣爱好。于是，人们将目光投到了体育运动等其他娱乐方式上。而此时，现代网球刚刚诞生，不仅新兴的网球俱乐部如雨后春笋般建立，众多其他项目的俱乐部也开始开展网球运动，俱乐部的建立为现代网球在人民群众间的传播和发展起到了推动作用。1877 年 7 月，举办了第一届全英草地网球男子单打锦标赛，即后来举世闻名的温布尔登草地网球锦标赛。而后期兴办的比赛，也为此项运动更加广泛地吸引着多方多国的受众人群，为更大范围的推广现代网球发挥着不可替代的作用。

——李津晶《浅析第一次工业革命对现代体育发展的影响》

(4) 根据材料四，分析网球运动在英国兴起的原因。

材料五

| | | | |
|----------|-----|----------|-----|
| 北京冬奥会开幕式 | | 北京冬奥会闭幕式 | |
| 场景① | 场景② | 场景③ | 场景④ |



| | | | |
|------------------------------|-------------------------------------|----------------------------------|---|
| 鸟巢上空现“立春 SPEING”焰火，以二十四节气倒计时 | 最后一棒火炬手将火炬放入“大雪花”中央，“微火”转化为北京冬奥会主火炬 | 伴随乐曲《送别》，来自各行各业的普通人手捧发光柳枝，缓步进入场地 | 鸟巢上空出现绚烂焰火，出现“天下一家”和“ONEWORLDONEFAMILY”字样 |
|------------------------------|-------------------------------------|----------------------------------|---|

(5) 北京冬奥会如期安全顺利举办，开闭幕式精彩纷呈。请你从以上四个场景中任选其一（填序号），谈谈其中蕴含的理念或寓意。

【答案】(1) ①. ① ②. ③

(2) 军事训练；文体活动（或丰富军中生活）。

(3) 中国完全沦为半殖民地、半封建社会；资产阶级民主革命兴起；资产阶级革命思想广泛传播。（答出两点即可）

(4) 工业革命后，民众有了闲暇，开始追求自身的兴趣爱好；网球俱乐部兴起；网球比赛增加。

(5) ①中国人对自然的观察和认识，时节更替，冬去春来，极寒中孕育着新的生机。

②人类命运共同体，低碳环保的理念。

③以中国传统文化中折柳送别的习俗，寓含惜别怀远之意，寄托中国人民的深情厚谊。

④人类命运共同体，加强国际团结合作。（任选其一作答）

【解析】

【小问 1 详解】

据图①“搭弓射箭图”并所学可知，射是用推力或弹力送出子弹等，①即为射。据图③“驾车出行图”并结合所学可知，“御”指驾驭马车，③即为“御”。

【小问 2 详解】

据材料“蹋鞠，兵势也。所以练武士，知有才也，皆因嬉戏而讲练之”可知，蹋鞠，练武士，进行军事训练；“皆因嬉戏而讲练之”，进行军中文体活动（或丰富军中生活）。

【小问 3 详解】

据材料“精武体育会源于霍元甲于 1910 年在上海创办的精武体操学校，是以教授、弘扬中华武术，培养革命力量为主要活动和任务的群众性武术团体”可知，精武体育会成立于 1910 年，此时的中国完全沦为半殖民地、半封建社会；1894 年兴中会成立，资产阶级民主革命兴起；资产阶级革命思想广泛传播。（答出两点即可）

【小问 4 详解】

据材料“大工厂的生产将人类从手工工场中解放了出来，一方面群众的工作方式和性质得到了质上的改变，为民众节省出了宽裕的社会生活时间……而是开始追求自身的需求和兴趣爱好”可知，工业革命后，机器生产代替了手工劳动，民众有了闲暇，开始追求自身的兴趣爱好；据材料“……俱乐部的建立为现代网球在人民群众间的传播和发展起到了推动作用”可知，网球俱乐部兴起；据材料“而后期兴办的比赛，也为此项运动更加广泛地吸引着多方多国的受众人群，为更大范围的推广现代网球发挥着不可替代的作用。”可知，网球比赛增加。

【小问 5 详解】

①据材料场景①鸟巢上空现“立春 SPEING”焰火，以二十四节气倒计时可知，体现了中国人对自然的观察和认识，时节更替，冬去春来，极寒中孕育着新的生机。



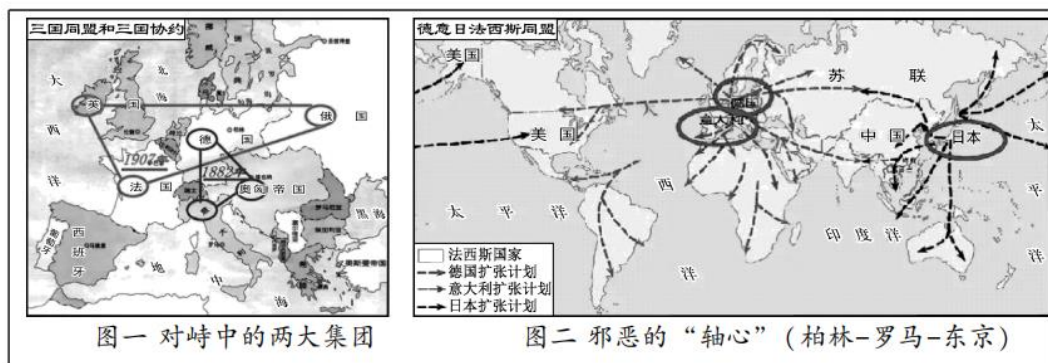
②据材料场景②最后一棒火炬手将火炬放入“大雪花”中央，“微火”转化为北京冬奥会主火炬可知，体现了人类命运共同体，低碳环保的理念。

③据材料“场景③伴随乐曲《送别》，来自各行各业的普通人手捧发光柳枝，缓步进入场地”可知，以中国传统文化中折柳送别的习俗，寓含惜别怀远之意，寄托中国人民的深情厚谊。

④据材料“天下一家”和“ONEWORLDONEFAMILY”可知，构建人类命运共同体，加强国际团结合作。（任选其一作答）

23. 战争•和平

材料一



图一 对峙中的两大集团

图二 邪恶的“轴心”（柏林-罗马-东京）

(1) 依据材料一并结合所学，谈谈这种情况对世界构成了怎样的影响？

材料二 两次世界大战资料统计表

| 战争名称 | 参战国 | 持续时间 | 卷入人口 | 参战人员 | 伤亡人员 | 直接经济损失 |
|------|-------|------|------|-------|-------|----------|
| 一战 | 30 多个 | 4 年多 | 15 亿 | 0.7 亿 | 0.3 亿 | 1805 亿美元 |
| 二战 | 60 多个 | 6 年 | 20 亿 | 1 亿 | 0.7 亿 | 4 万亿美元 |

(2) 依据材料二，概括指出两次世界大战的共同点。

材料三

| | |
|--|--|
| <p>“冷战”时期的批评家曾经指责一些军事联盟如北约组织和华约组织推动了高昂的军备竞赛，并使地区冲突一直有转变成超级大国之间核对抗的危险。“冷战”结束后，赞扬这些军事联盟具有控制冲突升级的能力却成为时尚。</p> <p>——（美）杰里·本特利等《新全球史》</p> | <p>苏联曾经是有用的敌人。美国相信，不仅要和苏联的军事力量竞赛，还要和苏联的成就竞赛……没有苏联的空间计划，美国人就不可能登上月球……</p> <p>——《美国新闻与世界报道》 1991.9.9</p> |
|--|--|

(3) 概括材料三对美苏冷战的评价。

材料四 全球治理不是由少数国家来治理其他国家。习近平指出：中国秉持共商共建共享的全球治理观，坚持国家不分大小、强弱、贫富一律平等。中国主张国际规则应该由各国共同书写，全球事务应该由各国共同治理，发展成果应该由各国共同分享。

——摘编自人民日报《全球治理中国方案的世界意义》

(4) 依据材料五，分析中国的全球治理观与旧的国际秩序的本质区别。

【答案】(1) 推动战争爆发，对世界和平构成严重的威胁。



(2) 规模大（全球性、持续时间长、卷入人口多等）；破坏性大（经济损失巨大）；残酷性（伤亡惨重）。（答出两点即可）

(3) 冷战推动了军备竞赛；冷战威胁和平；避免了世界大战；促进了科技发展。（应辩证评价）

(4) 旧的国际秩序体现了霸权主义和强权政治（或少数国家治理）；中国的全球治理观秉持共商共建共享，国家一律平等，是公正合理的。

【解析】

【小问 1 详解】

根据材料一可得出 一战中三国同盟与三国协约，二战中的法西斯国家推动战争爆发，对世界和平构成严重的威胁。

【小问 2 详解】

根据材料二“一战参战国 30 多个持续时间 4 年多卷入人口 15 亿参战人员 0.6 亿，二战参战国 60 多个持续时间 6 年卷入人口 20 亿参战人员 1 亿”可得出规模大；根据材料二“一战伤亡人员 0.3 亿，二战伤亡人员 0.7 亿”可得出残酷性；根据材料二“一战直接经济损失 1805 亿美元，二战直接经济损失 4 万亿美元”破坏性大。

【小问 3 详解】



根据材料三““冷战”时期的批评家曾经指责一些军事联盟如北约组织和华约组织推动了高昂的军备竞赛”可得出冷战推动了军备竞赛；根据材料三“并使地区冲突一直有转变成超级大国之间核对抗的危险”可得出冷战威胁和平；根据材料三“战”结束后，赞扬这些军事联盟具有控制冲突升级的能力却成为时尚”可得出避免了世界大战；根据材料三“苏联曾经是有用的敌人。美国相信，不仅要和苏联的军事力量竞赛，还要和苏联的成就竞赛……没有苏联的空间计划，美国人就不可能登上月球”可得出促进了科技发展。

【小问 4 详解】

根据所学知识可得出旧的国际秩序体现了霸权主义和强权政治（或少数国家治理）；根据材料四“习近平指出：中国秉持共商共建共享的全球治理观，坚持国家不分大小、强弱、贫富一律平等”中国的全球治理观秉持共商共建共享，国家一律平等，是公正合理的。

24. 革命•建设

材料一

| ① | ② | ③ |
|---|---|---|
| <p>大清皇帝统治清帝国， 万世一系，永永尊戴；君上 神圣尊严，不可侵犯。 ——1908 年《钦定宪法 大纲》</p> |  <p>宣统三年大清银币</p> | <p>1909-1911 年中国新开设面粉厂 11 家，资本额 181 万元；1910 年中国工业商品总量为 25.5 亿元。</p> |
| <p>中华民国由中华人民组织之；中华民国之主权属于国民全体。 ——1912 年《中华民国临时约法》</p> |  <p>中华民国三年银元</p> | <p>1912-1914 年中国新开设面粉厂 28 家，资本额 320 万元；1919 年中国工业商品总量为 44.8 亿元。</p> |



(1) 依据材料一，比较辛亥革命前后的变化。

材料二

| | |
|----------------|--|
| 中共一大 (1921) | 大会确定党的奋斗目标是推翻资产阶级政权，建立无产阶级专政，实现共产主义。 |
| 中共二大 (1922) | 大会重申了党的最终奋斗目标是建设共产主义，同时制定了党的最低纲领。纲领规定，在民主革命阶段，党的主要任务是打倒军阀，推翻帝国主义，将中国统一为真正的民主共和国。 |

(2) 中共革命纲领发生了什么变化，这一变化说明了什么？

材料三 1950年11月27日至12月24日，中美两支王牌军在朝鲜长津湖地区展开了一场激战。美军包括海军陆战队第1师和第3、第7步兵师，以及韩国第1军团，约10万人；攻击这支部队的是志愿军第9兵团，近15万人。在零下30-40摄氏度的严寒中苦斗20天之后，美军残部在7艘航空母舰的掩护下，利用海路脱离战场，这也意味着“联合国军”全部被逐出朝鲜东北部。由于从东南沿海紧急入朝，未能配备御寒冬装，志愿军第9兵团此役战斗伤亡19202人，冻伤28954人，冻死4000余人。

——《长津湖战役：朝鲜战场上超越极限的血色》

(3) 依据材料并结合所学，谈谈长津湖战役体现出的中国人民志愿军的精神。

材料四 从今以后，只要不发生大规模的外敌入侵，现代化建设就是全党的工作。其他工作包括党的政治工作，都围绕着这个中心工作，并为这个中心工作服务的；不能再搞任何离开这个中心工作、损害现代化建设的‘政治运动’和‘阶级斗争’了。

——选自1978年12月《人民日报》社论

(4) 结合所学，谈谈材料中这一认识的历史意义。

【答案】 (1) 从君主专制的帝国转变为资产阶级共和国；由臣民变为公民；由皇帝年号纪年改为民国纪年；中国民族工业有了较快发展等。

(2) 中共二大增加了最低革命纲领。说明中共在实践中，能根据国情调整纲领。

(3) 不畏强敌，敢于斗争，敢于胜利的精神；上下一致，同心协力，团结对敌的精神；高度的爱国主义与国际主义相结合的民族精神；特别能吃苦，特别能战斗的革命英雄主义精神。（答出两点即可）

(4) 以经济建设为中心，符合人民愿望；是新中国成立以来党的历史上具有深远意义的伟大转折；开启了改革开放和社会主义现代化建设的伟大征程。

【解析】

【小问1详解】

根据材料一“君上神圣尊严，不可侵犯”与“中华民国三年银元”可得出从君主专制的帝国转变为资产阶级共和国；根据材料一“君上神圣尊严，不可侵犯”与“中华民国由中华人民组织之”可得出由臣民变为公民；根据材料一“宣统三年大清银币”与“中华民国三年银元”可得出由皇帝年号纪年改为民国纪年；根据材料一“1909-1911年中国新开设面粉厂11家，资本额181万元，1910年中国工业商品总量为25.5亿元”与“1912-1914年中国新开设面粉厂28家，资本额320万元；1919年中国工业商品总量为44.8亿元”可得出中国民族工业有了较快发展等。

【小问2详解】



变化：根据材料二“大会重申了党的最终奋斗目标是建设共产主义，同时制定了党的最低纲领”可得出中共一天增加了最低革命纲领。说明：根据所学知识可得出说明中共在实践中，能根据国情调整纲领。

【小问 3 详解】

根据材料三就所学知识可得出中国人民志愿军的精神是不畏强敌，敢于斗争，敢于胜利的精神；上下一致，同心协力，团结对敌的精神；高度的爱国主义与国际主义相结合的民族精神；特别能吃苦，特别能战斗的革命英雄主义精神。

【小问 4 详解】

根据材料“其他工作包括党的政治工作，都围绕着这个中心工作，并为这个中心工作服务的”可得出以经济建设为中心，符合人民愿望；根据所学知识可得出这一认识是新中国成立以来党的历史上具有深远意义的伟大转折；根据所学知识可得出这一认识开启了改革开放和社会主义现代化建设的伟大征程。