

6. 《商君书·农战》记载：“凡人主之所以劝民者，官爵也；国之所以兴者，农战也。”商鞅为加强军队战斗力所采取的措施是

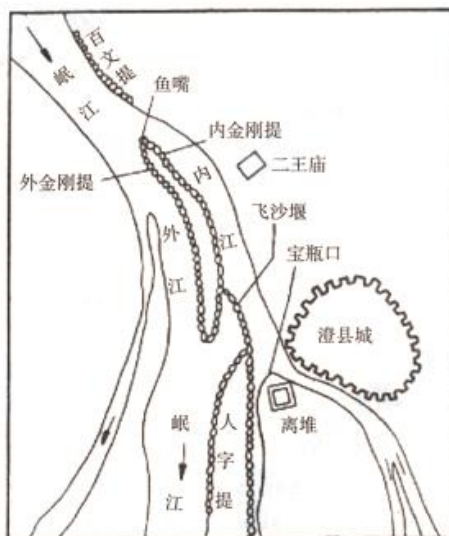
- A. 推行县制 B. 奖励军功
C. 统一度量衡 D. 加强刑罚

7. 《史记》记载右图所示水利工程“蜀守冰凿离碓，辟沫水之害，穿二江成都之中……百姓赖其利”。该水利工程应是

- A. 郑国渠 B. 灵渠
C. 都江堰 D. 邗沟

8. 下列关于世界古代文明区域与成就对应正确的是

- A. 古埃及文明——楔形文字
B. 古巴比伦文明——金字塔
C. 古印度文明——《汉谟拉比法典》
D. 古希腊文明——雅典民主制度



9. 右图为反映欧洲中世纪某制度的一幅插图，图中一位骑士从他的领主（国王）手中接过一把剑。该图所反映的制度创立于

- A. 查理·马特改革
B. 丕平献土
C. 大化改新
D. 农奴制改革



10. 11-13 世纪，西欧威尼斯、热那亚、佛罗伦萨等城市兴起，下列选项符合这些城市情况的是

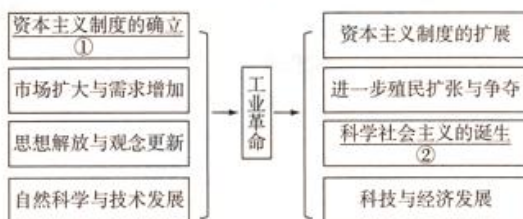
- A. 封建制度彻底瓦解 B. 教会无力进行统治
C. 工商业者聚集生活 D. 城市实现绝对自治

11. 某同学梳理“世界近代人物”时制作了如右图所示表格，你认为其中需要修改的一项是

世界近代人物	
A. 文学：	但丁、莎士比亚
B. 革命：	克伦威尔、华盛顿
C. 改革：	伯里克利、孝德天皇
D. 探险：	哥伦布、麦哲伦

12. 某同学为更好地学习工业革命，制作了如下的知识结构图。

下列事件能够与结构图中的标号相对应的是



- A. ①英国君主立宪制确立 ②《共产党宣言》发表
B. ①美国南北战争 ②印度民族大起义
C. ①美国南北战争 ②巴黎公社成立
D. ①英国君主立宪制确立 ②拉美独立运动

13. 1874-1890年日本工业年均增长率为12.1%，1885年到1893年拥有10名以上工人的工厂从661家增加到3019家，工人人数从9995人增加到381390人。这一变化主要得益于明治维新的措施
A. 废藩置县 B. 殖产兴业 C. 四民平等 D. 创立近代军队
14. 观察“部分国家工业生产在世界中的相对份额表（1750-1900年）”，第二次工业革命开始后工业发展最快的国家是

	1750	1830	1860	1900
英国	1.9%	9.5%	19.9%	18.5%
德国	2.9%	3.5%	4.9%	13.2%
俄国	5.0%	5.6%	7.0%	8.8%
美国	0.1%	2.4%	7.2%	23.6%

- A. 英国 B. 德国 C. 俄国 D. 美国
15. 1914年某事件后，奥匈帝国向塞尔维亚发出条件苛刻的最后通牒，塞尔维亚几乎接受了全部要求，但最终奥匈帝国仍在德国支持下向塞尔维亚宣战。“某事件”是指
A. “三国同盟”建立 B. 萨拉热窝事件 C. “三国协约”建立 D. 凡尔登战役
16. 某同学在搜索引擎输入如下关键词：“变余粮收集制为粮食税”“部分恢复私人企业”“允许商品生产，恢复商品货币关系”，他搜索的历史信息是
A. 战时共产主义政策 B. 新经济政策
C. 罗斯福新政 D. 农业集体化
17. 比较一战前后欧洲地图，认识错误的是



- A. 第一个社会主义国家诞生 B. 奥匈帝国解体
C. 德国分裂为东德和西德 D. 奥斯曼帝国瓦解
18. 比较巴黎和会、华盛顿会议、慕尼黑会议，这些会议的共同点是
A. 损害了弱国利益 B. 解决了欧洲利益分配问题
C. 涉及到中国问题 D. 助长了法西斯的侵略气焰
19. 下列事件按时间排序正确的是
①日本偷袭珍珠港 ②斯大林格勒战役 ③诺曼底登陆 ④德国闪击波兰
A. ①④②③ B. ①②③④
C. ④①②③ D. ④②①③
20. 小明在博物馆发现1945年《新华日报》关于苏联对日宣战，出兵东北的号外，苏联该行为源于执行
A. 《凡尔赛条约》 B. 《九国公约》
C. 《联合国宣言》 D. 《雅尔塔协定》



21. 20 世纪四十年代, 美苏两大阵营开始了长达几十年的冷战, 冷战开始和结束的标志分别是
A. 北约组织的建立 东欧剧变 B. 杜鲁门主义出台 苏联解体
C. 马歇尔计划推出 东欧剧变 D. 华约组织的建立 苏联解体
22. 下列图片中属于冷战表现的有



①朝鲜战争



②修建柏林墙



③美国援助西欧经济



④苏联宣传画

- A. ②③④ B. ①③④ C. ①②③ D. ①②④
23. 二战后日本经济迅速崛起, 下表反映出的原因是

1945 年	美国公布《日本赔偿即时实施计划》, 要求日本赔偿
1949 年	美国宣布停止实施赔偿计划
1950 年	日本满足美国在朝鲜战场上的军需订货


- A. 日本进行民主化改革 B. 日本加入国际经贸组织
C. 美国对日政策的转变 D. 第三次科技革命推动
24. 二战后西欧国际地位一落千丈。为在美苏争霸背景下保证自身安全并提高国际地位, 摆脱美国的束缚, 有识之士探索出一条欧洲发展之路, 其重要特征是
A. 推动冷战 B. 加入北约 C. 发展科技 D. 走向联合
25. 1990 年, 纳米比亚第一任总统努乔马在独立庆典上发表就职演说。纳米比亚独立标志着
A. 亚洲的民族民主运动高涨 B. 非洲殖民体系的最终崩溃
C. 美洲民族解放运动最终胜利 D. 发展中国家紧密团结在一起
26. 据统计, 1990—1991 年苏联经济年均下降近 9.5%, 其中在 1991 年下降了 15%。造成这一时期苏联经济形势严重恶化的直接原因是
A. 实行战时共产主义政策 B. 实行新经济政策
C. 赫鲁晓夫改革 D. 戈尔巴乔夫改革
27. 2017 年 5 月, 100 多个国家的各界嘉宾参加了我国主办的“一带一路”国际合作高峰论坛, 并经梳理和汇总形成了高峰论坛成果清单。这份清单主要涵盖政策沟通、设施联通、贸易畅通、资金融通、民心相通 5 大类, 共 76 大项。这反映了“一带一路”倡议
①顺应了中国对外开放战略 ②实现了世界政治一体化
③符合“一带一路”沿线各国的经济利益 ④顺应了世界经济全球化趋势
A. ①②③ B. ②③④ C. ①②④ D. ①③④
28. 右图为某国际组织徽章, 这一国际组织被誉为“经济领域的联合国”。中国在 2001 年加入该组织, 该组织是
A. 世界贸易组织 B. 国际货币基金组织
C. 亚太经合组织 D. 世界银行



29. 观察右图，其数据变化源于第三次科技革命中的

- A. 航天技术的进步
- B. 计算机网络技术的发展
- C. 原子能技术的应用
- D. 生物工程技术的突破

2012—2016年中国网络零售市场交易规模



30. 25年来，全球人均可用淡水量减少了26%，哺乳动物、爬行动物、两栖动物、鸟类和鱼类的数量减少了29%，林地损失近3亿英亩，此外，全球碳排放量和平均气温持续上升。这表明人类在发展中面临着

- A. 恐怖主义问题
- B. 贫富分化问题
- C. 环境恶化问题
- D. 毒品泛滥问题

第二部分 非选择题 (共45分)

31. (14分) 阅读材料，回答问题。

材料一

《周初分封略表》

主要封国	受封对象	分封目的
晋	姬姓贵族	封建亲戚，以藩屏周。
卫	姬姓贵族	
鲁	姬姓贵族	
燕	姬姓贵族	
齐	功臣	
宋	先代贵族	武王灭商之后，分封了对周人比较温顺并在商朝人中有影响的微子启，以此来统治商的遗民。

材料二 “封建亲戚”的主要国家，大体就在黄河中下游的农耕文明区；其中鲁、卫、晋、燕这些姬姓封国势力最为强大，地处要冲，足以决定大局。

——伊藤道治《中国古代王朝的形成》

(1) 分封制巩固了西周统治，请结合材料一和材料二中信息给予说明。(5分)

材料三 王(注：东周初年第二代周王)夺郑伯(郑庄公)政，郑伯不朝(朝覲)。秋，王以诸侯伐郑，郑伯击之……(周)王卒大败，祝聃(郑庄公的臣下)射王(周王)中肩。

——《左传·桓公五年》

(2) 依据材料三分析周天子与诸侯之间关系的变化，指出变化导致的后果。(5分)

材料四 春秋战国时期，传统社会秩序受到猛烈冲击，士人们思考社会问题，纷纷提出自己的主张，促进了思想文化的进步。

- ① “邻国相望，鸡犬之声相闻，民至老死不相往来”
- ② “非礼勿视，非礼勿听，非礼勿言，非礼勿动”
- ③ “不别亲疏，不殊贵贱，一断于法”

- ④“我无为，而民自化……我无欲，而民自朴”
⑤“刑过不避大臣，赏善不遗匹夫”
⑥“为政以德，譬如北辰，居其所而众星拱之”

(3) 以上主张(4分)[请选择其中两家学派主张填写在相应横线上，只填序号即可。]

属于儒家学派的是 _____、_____；

属于道家学派的是 _____、_____；

属于法家学派的是 _____、_____。

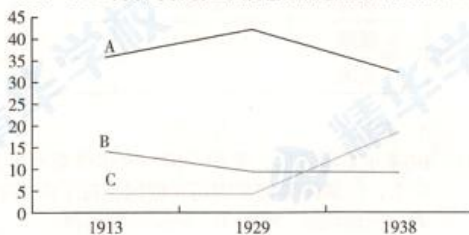
32. (17分) 阅读材料，回答问题。

材料一

(苏联)粮食产量，在全盘集体化运动前的1925—1927年期间平均每年为7527万吨，一五期间降为年均7360万吨，二五期间再降为7290万吨……轻工业产值虽然1940年比1913年增加了3.6倍，但同期重工业却增长了12.4倍。

——吴于廑、齐世荣主编《世界史·现代史编》

1913—1938年英、美、苏三国占世界制造业生产比例图(%)



(1) 依据材料一和所学，判断图中哪条折线反映了苏联情况，分析1929—1938年苏联在当时经济发展模式下的成就和问题。(5分)

材料二

【一位“南方丽人”在大萧条中的经历】

黛安娜曾是衣食无忧的美国“南方丽人”，大萧条改变了她的命运。那时她还在念大学三年级，圣诞节回家却发现家里已一无所有。黛安娜一家和大多数美国人一样，都把这种落魄视为咎由自取，他们在面临窘境时很少考虑社会等客观因素。

家境败落，她被迫加入了妇女就业大军的行列，最后，她在一个新政机构——土木工程署(注：罗斯福政府创立的“以工代赈”机构)求得一职，主要负责询问并确认申请救助者是否处于穷困状态之中，比如“你有车吗”“你家里有人工作吗”。当黛安娜奔走各地验证信息的准确性时，她为眼前的惨状震撼了。她深深体会到了一种无助，为自己仅能为申请救助者填写一张食品救助单而悲哀。

有朋友指责黛安娜过于多愁善感，他们觉得穷人尤其是黑人不识好歹，生活卑微是罪有应得。黛安娜不得不竭力替新政辩解。她在大萧条期间的经历使其对国家旨在解决贫穷和不幸的种种努力心存感激。

——改编自加里·纳什等编著《美国人民：创建一个国家和一种社会》

(2) 依据材料二，对以下表述做出判断：直接从材料得出的，在括号内划“√”；违背材料所表达意思的，在括号内划“×”；材料没有涉及的，在括号内划“○”。(5分)

- ①大萧条之初黛安娜认为经济的落魄是社会客观因素造成的。()
②大萧条期间妇女比男子更容易找到工作。()
③土木工程署是一个专门确认求助者是否贫困的机构。()
④当时美国依然存在对黑人的歧视。()
⑤黛安娜对新政持肯定态度。()

(3) 大萧条给美国带来严重的危机，罗斯福在 1933 年 3 月 4 日总统就职典礼中说：“工业企业尽成枯枝残叶；农场主的产品找不到市场；千万家庭的多年积蓄毁于一旦。”请将当时美国的社会问题与罗斯福政府采取的相应措施进行连线。(3 分)

- | | | | |
|----|---------------|----|---------------|
| 甲、 | 工业企业尽成枯枝残叶 | A、 | 整顿金融，恢复银行信用 |
| 乙、 | 农场主的产品找不到市场 | B、 | 政府加强对工业的监督和指导 |
| 丙、 | 千万家庭的多年积蓄毁于一旦 | C、 | 减耕减产，提高农业产品价格 |

材料三 这个国家（美国）昨天还是一个不干涉或处于守势的国家，现在，它却从事建设和开办工厂、买卖货物和劳务、借贷货币、储藏商品、开办航运、经营铁路。罗斯福新政使国家比以往更坚定和迅速地放弃了自由放任的原则，代之以公共管理资本主义……罗斯福曾明确表示自己对资本主义制度的私人企业、私有财产和私人利润有着坚定的信仰，当这个私人利润和自由企业的制度面临到毁灭边缘的时候，是这个政府（罗斯福政府）挽救了它。

——改编自高德步《世界经济史》

(4) 依据材料三概括罗斯福新政的影响。(4 分)

33. (14 分) 战争给世界人民带来了巨大灾难，同时也引起世人对“战争与和平”的深刻思考。

材料一



《格尔尼卡》



集中营犹太人焚尸炉



731 部队在哈尔滨的遗址

(1) 依据材料一，指出法西斯所犯下的罪行。(2 分)

材料二 中国人民抗日战争和世界反法西斯战争，是正义和邪恶、光明和黑暗、进步和反动的大决战……绝不让历史悲剧重演，是我们对当年为维护人类自由、正义、和平而牺牲的英灵、对惨遭屠杀的无辜亡灵的最好纪念。

——习近平在纪念中国人民抗日战争暨世界反法西斯战争胜利 70 周年大会上的讲话

材料三



盟国团结海报

1940 和 1943 年反法西斯国家与轴心国军力对比表（部分）

	飞机产量（架）		军火生产（10 亿美元）	
	1940	1943	1940	1943
反法西斯国家	39518	151761	3.5	62.5
法西斯轴心国	16815	43100	6.75	18.3

材料四 据估计，德国在东线有 390 万军队……另有 17.7 万德军驻在芬兰，48.6 万驻在挪威和丹麦，在法国和比利时的占领军有 137 万……希特勒的军队遍布整个欧洲，但在每一条战线上在人员和装备数量方面都处于劣势。这些话也可用来描述日军，它稀疏地分布在从缅甸到阿留申群岛的广大远东地区。

——保罗·肯尼迪《大国的兴衰》

(2) 依据材料二、材料三和材料四，概括世界反法西斯战争胜利的原因。(6 分)

材料五 联合国自成立以来经历了艰难的发展进程。战后初期，联合国一度成为美苏称霸世界的工具。但是，随着大量亚非拉新兴国家的加入，联合国在维护世界和平与安全方面发挥了积极的作用。1969 年联合国大会通过《核不扩散条约》，1972 年达成《禁止生物武器公约》。联合国先后 3 次召开裁军特别会议，并宣布 80 年代为第二个国际裁军十年。此外，联合国还通过和平斡旋调停，派遣维和部队，采取经济制裁、武器禁运等强制性措施解决地区冲突。联合国从经济上大力援助发展中国家，并成为发展中国家争取建立国际政治经济新秩序斗争的主要阵地。

——改编自刘德斌《国际关系史》

(3) 依据材料，指出联合国的宗旨及所致力解决的问题。(4 分)

材料六 鉴于全球间相互影响的程度，在解决全球问题中进行国际合作是非常必要的。然而会议、对话和协商通常演变成争论。处于不同经济发展阶段的国家会追求互相冲突的社会和政治目标，文化上的差异使得世界上的人对话非常困难。

——改编自杰里·本特利《新全球史》

(4) 依据材料结合所学，就如何加强国际合作，谈谈你的看法。(2 分)

初三年级（历史）第 8 页（共 8 页）



长按二维码 识别关注