



# 2019 北京平谷区初三一模

## 历史

2019.4

学校 \_\_\_\_\_ 姓名 \_\_\_\_\_ 准考证号 \_\_\_\_\_

注 意 事 项	1. 本试卷共 12 页，包括两部分，34 道小题。满分 90 分，考试时间 90 钟。 2. 在试卷和答题纸上准确填写学校名称、班级、姓名和考号。 3. 试题答案一律填涂或书写在答题纸上，在试卷上作答无效。 4. 在答题纸上，第一部分试题用 2B 铅笔作答，第二部分用黑色签字笔作答。 5. 考试结束，请将本试卷和答题纸一并交回。
------------------	------------------------------------------------------------------------------------------------------------------------------------------------------------------------------------

### 第一部分 选择(共 45 分)

#### 一、单项选择：(共 45 分，每小题 1.5 分，请将正确选项填涂在机读卡上)

1. 若以“我国境内著名的原始人类”为题开展研究性学习，主要的证据来源应该是

- A. 神话传说 B. 史书记载 C. 学者推断 D. 考古发掘

2. 右图是北京西周燕都遗址博物馆中青铜器克罍(léi)的铭文拓片，其大意为：周王对太保说，我非常满意你的供奉，命你的儿子克做燕地的君侯。该铭文拓片可直接用于研究



- A. 禅让制 B. 郡县制 C. 分封制 D. 世袭制

3. 秦孝公即位时，秦国“兵弱”，而商鞅变法后，秦人“勇于公战”。这是因为变法

- A. 奖励耕织 B. 奖励军功 C. 推行县制 D. 允许土地自由买卖

4. 一位同学在分析百家争鸣，影响时制作了下表表格内容反应出百家争鸣

百 家 争 鸣		社会主义核心价值观
儒家	仁、义、礼、智、信；民为邦本，君子以自强不息	富强、民主、文明、和谐、 自由、平等、公正、法治 爱国、敬业、诚信、友善
墨家	“兼爱”，爱无差别等级	
法家	“尚法”，依法治国	

- A. 推动了战国时期经济的繁荣 B. 不利于后世儒家思想发展  
C. 对后世的思想文化影响深远 D. 脱离现实，禁锢人们思想

5. 《汉武的帝国》一书中写道：“从此，中华帝国有了国家意识形态，也有了恒定的核心价值。帝国作为一种制度，也才稳定地延续了两千多年”。其中的“核心价值”指

- A. 儒家思想 B. 道家思想 C. 法家思想 D. 佛教思想

6. 2019年3月21日，习近平主席访问意大利。习近平主席和马塔雷拉总统一致认为，中国和意大利作为古丝绸之路的两端，是共建“一带一路”的天然合作伙伴，古丝绸之路的两端是

- A. 洛阳、安息      B. 敦煌、大秦      C. 长安、安息      D. 长安、大秦

7. 书法是中国的传统文化，书法历史源远流长。若举办书法的历程展览，下列书法作品按出现先后的正确顺序是



- ①宣示表（楷书）      ②熹平石经（隶书）      ③琅琊石刻（小篆）      ④兰亭集序（行书）

- A. ①②③④      B. ③②①④      C. ②①③④      D. ①③②④

8. 下列史实反映的共同主题是

- ①张骞出使西域后，西域多种乐器和歌舞等传入中原
- ②玄奘前往天竺，携带大量佛经回到长安
- ③鉴真东渡日本，传授佛经，传播中国的医药、建筑知识
- ④文成公主入藏，带去历法、医药等方面的书籍

- A. 经济繁荣      B. 民族团结      C. 国家统一      D. 文化交流

9. 右图是某朝疆域图残片，依据图片信息，这应该是




- A. 唐朝疆域图  
B. 北宋疆域图  
C. 元朝疆域图  
D. 清朝疆域图

10. 学者傅宗懋认为：“世宗（注：雍正帝）的集权很是巧妙的，并不是像以前的枝枝节节，他只设了一个□□□，于是就把以前内阁和八旗的权力，整个拿来。” □□□应为

- A. 中书省      B. 市舶司      C. 锦衣卫      D. 军机处

11. 小雨用漫画记述“近代中国逐步沦为半殖民地半封建社会的过程”，这些漫画反映的历史事件按时间先后排序正确是



①

②

③

④



A. ①②③④

B. ②③①④

C. ③④①②

D. ④①②③

12. 某历史学习小组收集了以下图片，据此判断，他们学习的主题是



康有为



《时务报》



谭嗣同殉难

- A. 太平天国运动
- B. 洋务运动
- C. 戊戌变法
- D. 辛亥革命

13. 右侧是同学们排演历史剧拟定的各幕题目，依此判断剧本名称应该是

- A. 近代开端
- B. 走向共和
- C. 军阀割据
- D. 国家统一

剧本名称：

第一幕：武昌首义

第二幕：民国建立

第三幕：清朝告终

第四幕：约法颁布

14. 1919年，5月5日，马克思诞辰101周年纪念日的时候李大钊在某杂志上创办了马克思研究号，宣传介绍马克思主义某杂志，最有可能是当时的

- A. 《海国图志》
- B. 《申报》
- C. 《新青年》
- D. 《民报》

15. 近代教育和文化事业得到很大发展，下面四幅图片中不能反映这种变化的是



A



B



C



D

16. 右图中“历史在这里拐弯”是指从此

- A. 第一次国共合作彻底破裂
- B. 南京国民政府统治了全国
- C. 抗日民族统一战线初步形成
- D. 以蒋介石为首的南京国民政府垮台



17. 1840年以来，中华民族总是在反抗外来侵略的斗争中遭到失败，而在抗日战争中全民族团结一心，在血泊和瓦砾中奋争，共同创造了前所未有的新时代，下列史实能体现这段话含义的是

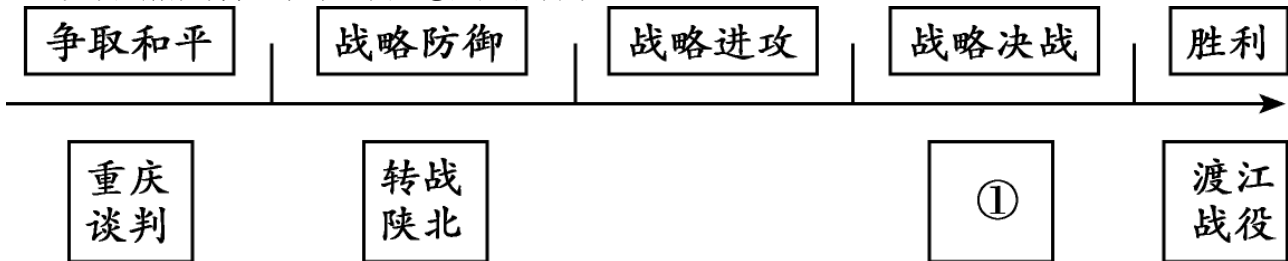




- ①台儿庄战役      ②百团大战      ③华侨为抗战捐飞机      ④地道战

- A. ①②      B. ①②③      C. ②③④      D. ①②③④

18. 以下是解放战争进程示意图，①处应该填写



- A. 孟良崮战役      B. 千里挺进大别山      C. 三大战役      D. 北平和平解放

19. 在 1971 年第 26 届联合国大会上，中华人民共和国在外交上获得划时代的胜利，是指

- A. 中国终于如愿加入世界贸易组织  
B. 中国在联合国的合法席位得到恢复  
C. 中国代表提出的和平共处五项原则获得大会的通过  
D. 中国申奥成功



20. 2018 年 10 月 23 日上午 10 时，习近平出席港珠澳大桥开通仪式并宣布正式开通。

这一历时九年的艰苦建设，不仅展现出“中国智慧”和“中国力量”，更宣示了中国坚定不移，推进改革开放的决心和信心，同时也是某一制度下的重大成果，某一制度指的是

- A. 和平建国方针      B. 政治协商      C. 民族区域自治      D. 一国两制

21. 14 到 15 世纪时，资本主义经济的生产方式在欧洲出现，下列生产方式属于资本主义经济生产方式的是

- ①庄园经济      ②租地农场      ③ 工厂制度      ④手工工场

- A. ①②      B. ③④      C. ①③      D. ②④

22. 下面两幅文艺复兴时期的作品体现的共同思想是

- A. 蒙昧主义  
B. 理性主义  
C. 人文主义  
D. 民主科学



23. 亚当·斯密曾指出，美洲的发现和经由好望角抵达东印度的航线的开辟，是人类历史上最伟大、最重要的两件事。这样的评价是因为哲学事件使

- A. 世界开始连城一个整体      B. 西欧获得了急需的金银  
C. 世界贸易中心转至美洲      D. 西欧拥有新的殖民航线

24. 下列事件排序正确的是



①萨拉托加战役 ②来克星顿的枪声 ③《独立宣言》的发表

④英国承认美国独立 ⑤约克镇战役

A. ①②③④⑤

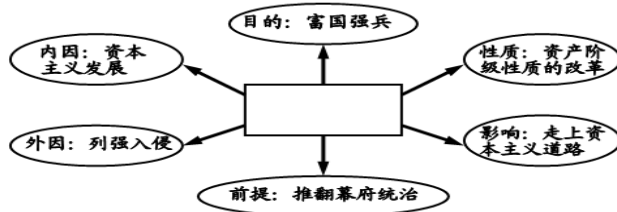
B. ③②①⑤④

C. ②③①⑤④

D. ②①③⑤④



25. 观察下面图示。方框内的文字应是



A. 日本明治维新

B. 俄国农奴制改革

C. 美国南北战争

D. 法国大革命

26. 被誉为“南美的解放者”的是

A. 林肯

B. 玻利瓦尔

C. 圣马丁

D. 章西女王

27. 《大国崛起》解说词：“1917年11月7日，震撼世界的十月革命爆发。以此为起点，这个占世界陆地面积近五分之一的国家，开始了一次对20世纪的历史产生深刻影响的伟大实践。”这里的“伟大实践”是指

A. 推翻了沙皇俄国专制统治

B. 诞生了第一个社会主义国家

C. 建立了资产阶级临时政府

D. 实现了苏联社会主义工业化

28. 在刺激日本经济恢复的多种因素中，具有长期促进作用的是

A. 美国的扶植

B. 朝鲜战争带来的“特需”收入

C. 战后民主改革

D. “科技立国”政策

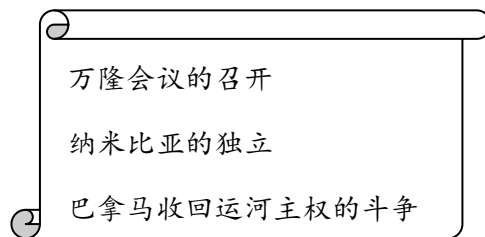
29. 下列史实反映的主题是

A. 世界经济全球化

B. 非洲殖民体系崩溃

C. 世界政治多极化趋势

D. 亚非拉国家民族独立和振兴



30. 25年来，全球人均可用淡水量减少了26%，哺乳动物、爬行动物、两栖动物、鸟类和鱼类的数量减少了29%，林地损失近3亿英亩，此外，全球碳排放量和平均气温持续上升。这表明人类在发展中面临着

A. 恐怖主义问题 B. 贫富分化问题 C. 环境恶化问题

D. 毒品泛滥问题

### 第二部分 综合题(共45分)

31. (12分) 我国自古以来就是一个多民族国家，各族人民密切交往、相互依存、休戚与共，形成了中华民族多元一体的格局，共同推动了国家发展和社会进步。阅读下列材料，回答问题。

**材料一** 华夏民族，非一族所成。太古以来，诸侯(指远古时期的部落)错居，接触交通……渐化合以成一族之形，后世所谓诸夏是也。

——梁启超《饮冰室合集》

(1) 依据材料一，概括华夏民族、汉族形成有什么特点？（1分）



### 材料二



少数民族用牛耙地图（甘肃出土）

北魏帝王出御图（河南出土）



汉人胡食图（甘肃出土）

胡旋舞扁陶壶（河南出土）

(2) 依据材料二，归纳魏晋南北朝以来民族交融的主要内容。（2分）

材料三 孝文帝迁都前对大臣说“正欲卿等子孙渐染美俗，闻见广博（正是想让你们的子孙后代逐渐接受好的风俗、博见多闻）”

——《资治通鉴》

(3) 为了达到“渐染美俗，闻见广博”的目的，孝文帝迁都到哪里？（1分）此后推行了哪些汉化措施取得哪些积极影响？（2分）

### 材料四 辽、西夏、北宋形势图



一般来说，中原王朝和边疆民族关系的发展模式主要有以下几种：一种是中原政权覆灭，各边疆地区少数民族进入中原，基本上会出现混乱局面。但在混乱中，各民族却相互融合。第二种是边疆民族的强大导致与中原王朝势均力敌，于是各民族政权之间呈现相互并立之势，形成割据分裂局面。但在割据中却有不少交往，有统一的愿望、因素和趋势。第三种是统一的中原王朝非常强大，各边疆民族以中原民族和地区为中心相互交往，直至融入中原民族，呈现统一一局面下的民族大融合状况。

——刘宗绪主编《历史新知识创新能力培养》

材料五 阿保机建国后，任用汉族知识分子为官，仿照中原地区的制度进行一些列改革，发展生产，创制文字，国力不断增强。澶渊之盟后，宋辽边界贸易兴旺。宋辽之间维持了长久的和平关系，使双方人民过上了安定的生活。元昊仿效唐宋制度，订立官制、军制和法律，并鼓励垦荒，发展农牧经济，还创制西夏文字。宋仁宗庆历四年（1044年），北宋与西夏达成和平协议，史称“庆历和议”。这次平等和议换得了宋夏将近半个世纪的和平，宋夏边界贸易兴旺。

(4) 依据材料四并结合所学知识，判断材料四属于“中原王朝和边疆民族关系发展模式”的哪一种模式？(1分) 依据材料五并结合所学举例说明这一时期的民族关系特点。(2分)

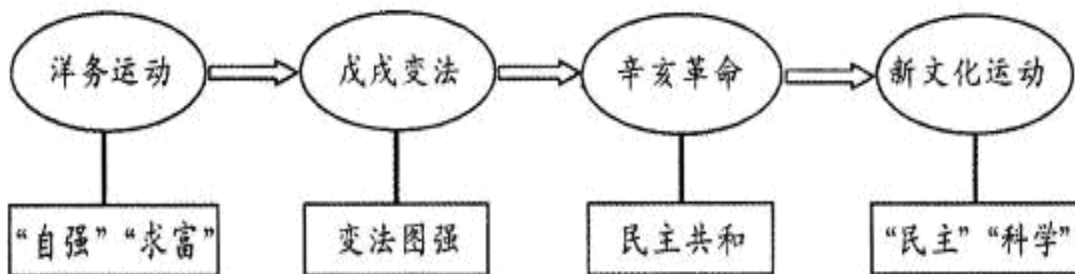
**材料六** 坚持党的领导、人民当家作主、依法治国有机统一是社会主义政治发展的必然要求。必须坚持中国特色社会主义政治发展道路，坚持和完善人民代表大会制度、中国共产党领导的多党合作和政治协商制度、民族区域自治制度、基层群众自治制度，巩固和发展最广泛的爱国统一战线，发展社会主义协商民主，健全民主制度，丰富民主形式，拓宽民主渠道，保证人民当家作主落实到国家政治生活和社会生活之中。

——摘自中共十九大报

告

(5) 材料六中所列多项制度，其中在少数民族聚居的地区，由当地民族管理地方内部事务的是哪一制度？(1分) 结合所学概况这一制度的作用(2分)

32. (11分) 近代以来中国人民为了民族独立和国家富强不断奋斗，阅读材料，回答问题  
材料一 中国近代化探索历程示意图



(1) 根据材料一说出在近代化探索历程中，中国向西方学习的内容发生了什么变化？(1分)

材料二 以下是与中共一大、遵义会议、南昌起义三个历史事件相关的图片和诗词



(2) 将上面的诗词与图片正确搭配，将字母填写在下面的横线上。(3分)

图 1: \_\_\_\_\_ 图 2: \_\_\_\_\_ 图 3: \_\_\_\_\_

材料三 下面两张照片记录了曾经在天安门前发生的历史事件



1919年5月4日，北平各界人士聚集在天安门前，举行抗议示威活动。

1949年10月1日，各界人民群众在天安门广场举行隆重的庆典活动。



(3) 写出上面两张照片反映的历史事件。(2分) 选择一个图片写出它的历史意义。(1分)

材料四 它是一个光辉的起点，它标志着中国共产党从严重的挫折中重新奋起，带领中国人民在新的历史条件下开始了新的伟大革命……社会主义中国将在这场新的革命中告别贫穷和落后，走向繁荣和进步。“（1978年）邓小平及其同僚同样依赖改变组织方式……来提高农业生产率”。“如果我们追溯新中国融入世界的历史，那1980年打开的第一扇‘窗’则需永远铭记……最鲜明的特点是……从沿海到沿江沿边，从东部到中西部，……大门毅然决然地打开了”。

——费正清《剑桥中华人民共和国史》

(4) 材料四中的“光辉的起点”指的是党的哪一重大会议？(1分) “新的伟大革命”指的是在此次会议上做出的什么伟大决策？(1分) 材料中“邓小平及其同僚同样依赖改变组织方式……来提高农业生产率”采取的具体举措是什么？(1分)

材料五 2012年，中共十八大把邓小平理论、“三个代表”重要思想、科学发展观，表述为“中国特色社会主义理论体系”。2017年，中共十九大提出了习近平新时代中国特色社会主义思想，这是马克思主义中国化的最新成果，是中国特色社会主义理论体系的重要组成部分。

——新京版《历史》教材



依据材料，根据所学，选择一位领导人关于社会主义建设理论的主要内容。(1分)

33. (10分) 阅读材料，回答问题


材料一



①交子 ②利簋 ③人面鱼纹盆 ④曲辕犁 ⑤水排

(1) 图片承载着历史，请把上面的图片按时间排序(1分，只列序号)

材料二





(2) 都江堰、隋朝大运河、《齐民要术》《农政全书》《天工开物》选择一个作介绍 (1分)

材料三 下面是中国古代南北方人口总数及所占比例对照表。

朝代	南方		北方	
	人口(户)	占全国户数比例	人口(户)	占全国户数比例
西汉	2470685	19.8%	9985785	80.2%
唐代	3920415	43.2%	5148529	56.8%
北宋	11224760	62.9%	6624296	37.1%

(3) 依据材料三,说出西汉到北宋时期,南北方人口发生了怎样的变化? (1分)

材料四 荣宗敬、荣德生于1902年在无锡创办保兴面粉厂,1912年后又陆续在上海、无锡、汉口开设申新纺织厂、福新面粉厂、茂新面粉厂,至1922年,荣氏家族拥有面粉厂和纱厂已经达到16家,成为名震工商业界的“面粉大王”和“棉纱大王”。其中面粉产量占全国民族面粉业的三分之一左右。

(4) 根据材料四并结合所学,请写出当时荣氏家庭投资的主要行业 (1分)

材料五 1920年,苏俄广大农民对余粮收集制的不满,逐渐演变为普遍的骚乱和暴动。即使没有暴动的地区,农民也给各级苏维埃政权写了大量申诉信和请求书,其中许多信直接写给列宁。1920年底,列宁开始酝酿调整经济政策。他阅读了许多来信,亲自接见各地的农民代表,倾听他们的意见和呼声。

——摘编自周尚文等《苏联兴亡史》

(5) 依据材料五并结合所学,说出1920年苏俄面临困境,列宁采取了什么措施? (1分)

材料六 罗斯福一上任,立刻加强金融管制。首先是全面管制银行。之后,又通过了《银行法》,成立联邦储蓄保证公司,对5000美元以下存款,由政府保证安全,假如银行倒闭,政府负责偿付储户的存款,这项法令进一步扩大了联邦政府管理货币和信贷的权力。银行信用得到恢复,当时不知有多少床垫为之撕裂,多少铁罐因之重见天日。各地银行门前又排起长龙来了,就像以前争先提款的情景一般,一年内10亿到20亿美元流回了银行。这幅景象是美国历史上从未有过的,美国从未允许政府如此强有力调控过金融。但这的确有效。

很快就有13500家银行(占全国总数3/4)复了业,交易所又重新响起了电铃声。纽约股票价格猛涨15%。道琼斯的股票行情发报机传出了这样一句诗:“幸福的日子又来到了。”

1933年罗斯福政府成立田纳西河流域管理局,整个新政期间修建了31座水利工程,这条野性的河被驯服,集发电、防洪、灌溉、航运功能于一身,整个流域的工农业生产因此得到充分拉动,并成为美国最大的电力生产者。工程提供了大量的就业机会,4.4万个就业机会。这只是罗斯福新政的一个缩影。今天的田纳西河上水坝相望,船闸相连,水库如同波平浪软的大湖,把大河合理划分。两岸田畴整齐,牧场连天,城乡规划如局。这一场景正是罗斯福新政的成果。

——纪录片《大国崛起》解说词

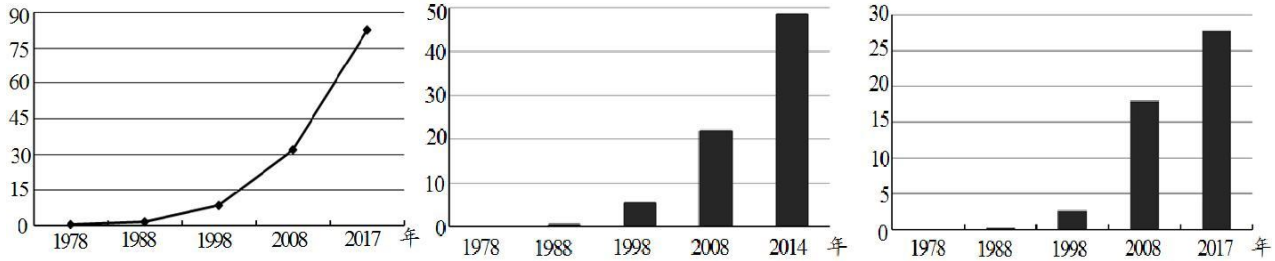
(6) 依据材料六,对以下表述做出判断:可以从材料得出的,在括号内划“√”;违背材料所表达意思的,在括号内划“×”;材料没有涉及的,在括号内划“○”。(4分)

- ①罗斯福新政整顿金融体系,政府强行恢复银行信用,抬高股票价格。 ( )
- ②罗斯福新政兴办公用工程,增加就业机会,刺激生产和消费。 ( )
- ③罗斯福新政指导劳资双方订立本行业的“公平竞争法规”。 ( )
- ④罗斯福新政开创了资本主义国家干预经济的先例。 ( )



材料七

1978~2017 年中国经济发展状况（数据来源于国家统计局官网）



国内生产总值(单位：万亿元)      城乡居民人民币储蓄存款(单位：万亿元)      中国进出口总额（单位：万亿元）

(7) 依据材料七，概括中国改革开放取得的成就。（1分）

34. (12分) 世界博弈与合作

【科技实力的较量】

材料一 《第二次工业革命简表》

时间	史实
19 世纪后半期	发电机、电动机、点灯、电车、发电站、变压器等相机发明；电报、电话、无线电通讯技术广泛应用。
1883 年	德国工程师戴姆勒研制出世界第一台以汽油为燃料的内燃机。
1892 年	德国人迪塞尔发明以柴油为燃料的柴油机。
19 世纪 60—80 年代	使用新方法生产碱、硫酸、人造染料等化学产品。
1867 年	瑞典化学家诺贝尔发明现代炸药，后来又研制出无烟炸药
1869 年	美国人海厄特发明了赛璐珞的制造技术，现代塑料工业诞生
1884 年	法国人夏尔多内发明了人造纤维，开辟了新的纺织品生产领域
19 世纪 80 年代	德国人卡尔本茨制造出汽油发动机汽车
1908 年	美国人福特生产出经济实用的 T 型车。使美国成为“轮子上的国家”。并带动钢铁、有色金属、机械、橡胶、石油、公路建设、汽车修理、保险等行业的发展。
1903 年	美国人莱特兄弟成功试飞自己制造的飞机

(1) 依据材料说出第二次工业开始的主要标志是什么？(1分)在第二次工业革命的技术竞争中那两个国家走在了世界的前列？(2分)





1896年雅典第一届奥运会短跑比赛



1913年，亨利·福特开办的制造福特T型汽车的流水线

现代工业提供了物美价廉的商品，人们的文化素质得到提高，妇女也获得很多的受教育机会。1787年，伦敦大学准许妇女获得学位，1910年，美国大学里已有很多女生。

1800年，世界人口超过百万的人口城市很少。1900年，这样的城市已有十几个。1914年，英国、美国、德国、比利时等国的大多数人口已经生活在城市里。

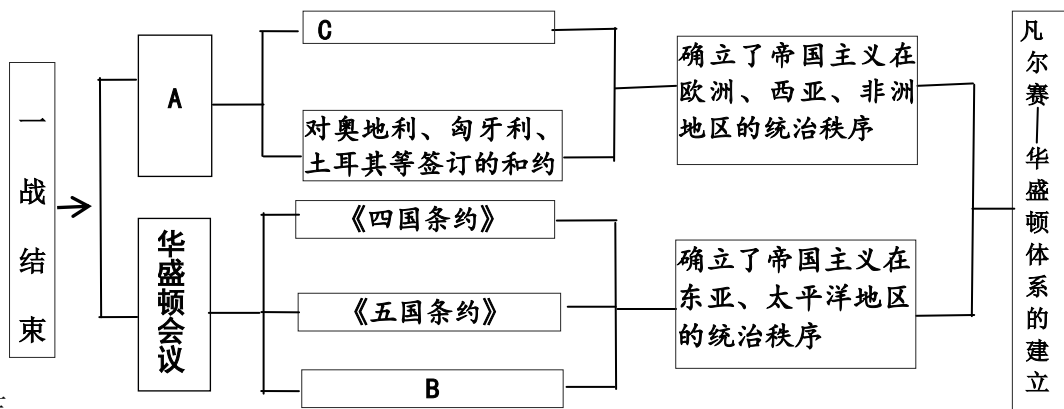
城市里工人住宅区的条件十分恶劣，贫穷、污染、疾病和犯罪等问题长期得不到解决。

19世纪晚期，主要工业化国家为争夺原料、市场和资本输

1896年雅典第一届奥运会短跑比赛

(2) 依据材料二并结合所学谈一谈第二次工业革命的影响(2分)

【政治上的较量】



材料三

(3) 上面是某同学制作的有关“一战后的新秩序”的知识结构示意图。请你帮助他完成未填写的内容(3分)

- A.
- B.
- C.



【军事上的较量】


材料四：

	<p><b>史实：</b></p> <p>1937年9月，国民党公布了《中国共产党为公布国共合作宣言》</p> <p>1942年1月，美、英、苏、中等26国在华盛顿签署《联合国国家宣言》</p> <p>1943年冬，英美中举行开罗会议，签署了《开罗宣言》</p> <p>1943年11月，美、英、苏举行德黑兰会议</p>
<p>日本投降签字仪式</p> 	
<p>苏军占领德国国会大厦</p>	

(4) 依据材料概括史实与图片之间的内在联系 (2分)

【合作共赢】

材料五：



(5) 上面是当今四个国际组织，请你依照示例从中选择一个进行介绍 (2分)

示例： D 亚太经济合作组织，该组织的成立，推动了亚太区域贸易和经济技术合作，促进了亚太各国经济发展。

