


初三第一学期期中学业水平调研

历史

2018.11

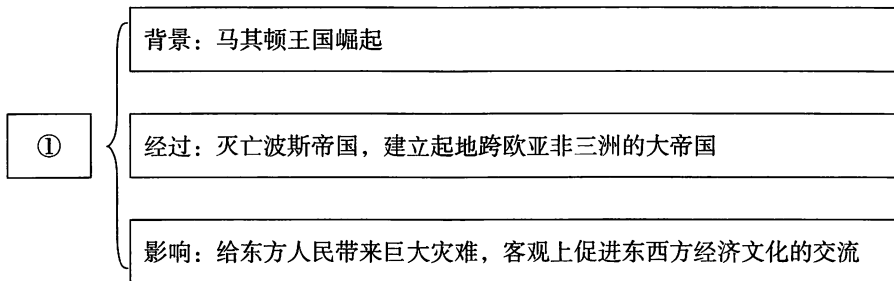
学校 _____ 姓名 _____ 准考证号 _____

注 意 事 项	<p>1. 本调研卷共 10 页，满分 90 分。考试时间 90 分钟。</p> <p>2. 在调研卷和答题纸上准确填写学校名称、姓名和准考证号。</p> <p>3. 调研卷答案一律填涂或书写在答题纸上，在调研卷上作答无效。</p> <p>4. 在答题纸上，选择题用 2B 铅笔作答，其他题用黑色字迹签字笔作答。</p> <p>5. 调研结束，将本调研卷和答题纸一并交回。</p>	 微信扫一扫，快速关注
------------------	--	---

第一部分 选择题（每小题1.5分，共45分）

在下列各题的四个选项中，只有一项是符合题意的。本部分共 30 小题，每小题 1.5 分。

- 不同地区的古代文明各有特色。“法老、木乃伊、象形文字、太阳历”所代表的文明成就产生于古代
 - 巴比伦
 - 埃及
 - 印度
 - 中国
- 上古亚非四大文明古国的共同特征描述准确的是
 - 地处大河流域
 - 文明同时兴起
 - 注重法制建设
 - 文明传承至今
- 某同学制作了如下知识结构图，下列选项能与结构图中①标号相对应的是

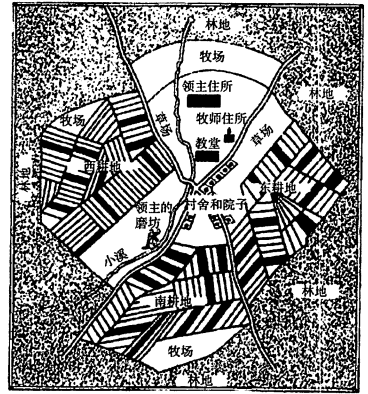


- 亚历山大帝国
 - 罗马帝国
 - 查理曼帝国
 - 拜占庭帝国
- 执政官伯里克利在公民大会上为自己花钱的计划辩解，并反问全体公民他是否太过浪费了，他们回答说“太浪费了”。直到伯里克利给出满意的答复后，全体公民才准许他可以动用公库的财产。这是因为雅典城邦
 - 执政官可以独断专行
 - 公民大会是最高权力机关
 - 具有小国寡民的特点
 - 居民的政治权利一律平等

10. 右图为西欧庄园结构示意图。对西欧庄园制度描述正确的是

- ①农奴可自由离开庄园外出谋生
- ②领主拥有庄园并对庄园实施管理
- ③农奴对庄园内耕地拥有所有权
- ④庄园是自给自足的自然经济体

- A. ①②
- B. ③④
- C. ①③
- D. ②④



庄园平面图

11. 1108年法国琅城市民曾经用金钱从城市领主——琅城主教

手里买得自治权。不久，主教出尔反尔，撤销城市自治的权力。琅城市民发动武装起义，处死主教，迫使法国国王再次颁发了城市自治特许状。以上现象说明

- A. 城市依靠教会和封建主的支持才得以发展
- B. 自由城市形成是与封建主不断斗争的结果
- C. 武装斗争才是赢得城市自治的唯一途径
- D. 新航路开辟为中世纪城市发展创造了条件

12. 有一位英国历史学家评论道：一个欧洲人可以不相信_____信念的真实性，然而他的言谈举止却逃不出_____文化的传统，并且依赖于那种文化才有意义……如果_____消灭了，我们的整个文化也将消灭。文中划横线处应填写

- A. 佛教
- B. 基督教
- C. 伊斯兰教
- D. 婆罗门教

13. 13世纪开始，在意大利许多自治城市里，商人投资开办作坊，雇佣手工业者进行毛纺织业生产。生产过程分成梳毛、纺线、染色、织布、平整等多道工序，由专门的手工业作坊完成，产品由商人直接销往海外。材料反映出，中世纪晚期的欧洲

- A. 手工工场已经建立
- B. 庄园制度已经瓦解
- C. 封建制度已经结束
- D. 工业革命已经开始

14. 若对右侧作品介绍加以完善。画横线处需填写

- A. 人文主义
- B. 现实主义
- C. 封建主义
- D. 古典主义

该作品的作者运用诗歌描述自己梦中幻游地狱、炼狱和天堂的经历，揭露了现实生活中的各种弊端和丑恶，特别是揭露了教会的腐败和堕落，并表达了对于人生的感悟，对于意大利国家和民族命运的关注，以及追求真理、追求“至善”的信心。该作品具有_____色彩。

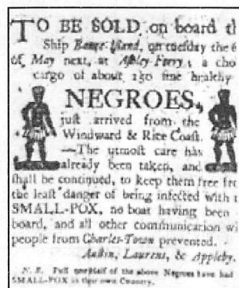
15. 2018年一场题为“致敬_____”的全球光影艺术体验展在北京举行。展览展出了500年前某历史人物所创作的16幅油画作品，还以5D电影的形式讲述了他创作《蒙娜丽莎》的奇妙故事。横线处应填写

- A. 但丁
- B. 达·芬奇
- C. 莎士比亚
- D. 梵·高

16. 西班牙和葡萄牙把从美洲和非洲掠夺来的金银大量运回西欧，使西欧贵金属突然剧增，引起金银大幅度贬值，导致通货膨胀、物价飞涨，史称“价格革命”。以上材料可以用来分析

- A. 新航路开辟的原因
- B. 新航路开辟的条件
- C. 新航路开辟的过程
- D. 新航路开辟的影响

17. 右图是一则广告，反映了1700年左右奴隶贩子在美国波士顿贩卖奴隶的现象。图中“NEGROES”中文翻译是“黑奴”。该广告作为一手历史资料可以研究



- A. 新航路开辟
- B. 早期殖民侵略
- C. 美国独立战争
- D. 拉美殖民地独立运动

18. 1688年的英国以互相妥协的方式解决了国王与议会的矛盾，赶走了不得人心的老国王，树立了愿意妥协、服从议会的新国王。这一历史事件是

- A. 苏格兰人民起义
- B. 英国内战
- C. 斯图亚特王朝复辟
- D. 光荣革命

19. 右图所示历史事件意味着美国独立战争



来克星顿的冲突

- A. 正在酝酿
- B. 从此开始
- C. 出现转折
- D. 胜利结束

20. “律师、美国总统、解放黑人奴隶、维护国家统一、刺杀案件”，这些关键词勾勒出的历史人物是

- A. 华盛顿
- B. 杰斐逊
- C. 林肯
- D. 玻利瓦尔

21. 1863年11月19日，美国总统在宾夕法尼亚州面对烈士的陵墓发表了著名的《葛底斯堡演说》，他说“现在正在进行一场伟大的内战，以考验这个国家……是否能够长久坚持下去。”这场内战

- A. 起因是英国的殖民压迫
- B. 彻底摧毁了封建专制制度
- C. 为美国独立奠定了基础
- D. 为资本主义发展扫清障碍

22. 詹姆斯·瓦特的商业合伙人马修·博尔顿在1776年曾经说过一句话“先生，我这里出售的是全世界都想要的东西——动力。”博尔顿出售的“动力”实际是

- A. 珍妮机
- B. 蒸汽机
- C. 发电机
- D. 内燃机

23. 老照片具有时代感。以下老照片出现于




图1 电灯照耀下的柏林街景

图2 福特与他发明的汽车

- A. 新航路开辟时期
- B. 第一次工业革命时期
- C. 法国大革命时期
- D. 第二次工业革命时期

24. 1870 年，洛克菲勒创办美孚石油公司，并逐步建立起自己的石油帝国，洛克菲勒成为著名的石油大王。依据材料可知，洛克菲勒的商业成功得益于
- A. 通过倒卖军火赚取了高额利润
B. 注重科技发明获得许多专利权
C. 政府鼎力支持形成了垄断企业
D. 抓住了第二次工业革命的机遇
25. 不仅在 19 世纪，而且直到今天，他都是美国拥有发明项目最多的发明家。他开创了至少 3 种行业——电气、电影和音乐娱乐（每种行业产值都是几十亿美元）。他是
- A. 爱迪生 B. 戴姆勒 C. 亨利·福特 D. 奥维尔·莱特
26. 年表记叙了历史人物所经历的大事。右侧年表可以补充的史实是
- A. 处死国王查理一世，结束国内战争
B. 打败英国殖民者，赢得了民族独立
C. 制定《拿破仑法典》，打败反法同盟
D. 打败西班牙殖民者，解放了南美各国
- 1769 年，出生于科西嘉岛的阿雅克肖城
1784 年，进入巴黎军官学校，专攻炮兵学。
1793 年，获得土伦战役的胜利，升任准将
1799 年，发动雾月政变，成为第一执政。
1804 年，改法兰西共和国为帝国，自任皇帝
1815 年，滑铁卢战役失利，被流放大西洋圣赫勒拿岛。
27. 关于章西女王，我们可以称她为
- A. 发现新世界的探险家 B. 学习西方文化的改革者
C. 反封建制度的革命者 D. 抗击殖民侵略的爱国者
28. 《共产党宣言》揭示了人类社会最终走向共产主义的必然趋势，奠定了共产党人坚定理想信念、坚守精神家园的理论基础。《共产党宣言》的发表
- A. 标志着科学社会主义的诞生 B. 揭示了资本家剥削工人的秘密
C. 意味着欧洲工人阶级的觉醒 D. 推动着近代自然科学迅速发展
29. 鹿鸣馆是明治维新后在东京建的一所类似沙龙的会馆，专供当时西化的达官贵人在其中聚会。“黄色皮肤的脸面，佩戴着羽毛装饰，束细腰，手拿西式小饰物的日本女性，和着西洋音乐，踏着斯拉夫舞步。这是日本人为了看上去像西洋人而做出的滑稽而悲哀的努力。”以上景象的出现是因为明治政府
- A. 提出废藩置县 B. 推行殖产兴业 C. 倡导文明开化 D. 主张对外扩张
30. 下列选项中，历史现象与历史结论对应正确的一项是




	历史现象	历史结论
A	阿拉伯医学家拉齐斯所著《医学集成》	阿拉伯人的扩张促进了伊斯兰教传播，改变了中东文明格局
B	俄国彼得一世改革	为俄国近代工业发展提供了自由劳动力，使俄国走上了发展资本主义的道路
C	法国巴黎市民攻占巴士底狱	法国资产阶级革命开始
D	贝多芬创作《英雄交响曲》	他的作品是 19 世纪上半叶现实主义文学的代表，被誉为法国社会的“百科全书”

第二部分 非选择题（每小题15分，共45分）

31. 在历史发展过程中出现了很多的历史奇迹。阅读材料，回答问题。（15分）

【建筑奇迹】（1）以下建筑奇迹为古代文明的见证。阅读材料，完成下表。（4分）



①胡夫金字塔（最早见于公元前580年） ②罗马竞技场（始建于公元前27年） ③君士坦丁堡圣索菲亚大教堂（建成于公元537年） ④巴黎圣母院（建成于1345年）

时期	上古时期建筑（填写序号） _____、_____	中古（从西罗马帝国灭亡公元476年开始）时期建筑（填写序号） _____、_____
所选建筑奇迹简介	所选建筑序号：_____	
	所选建筑简介（包括建筑的时代背景、作用及特点等）：	

【航海奇迹】哥伦布航海创造了人类探索世界的奇迹。以下材料出自哥伦布航海日记。

10月16日，星期二 [1492年]
此岛地势平坦，树木葱茏，土壤膏腴。吾获悉，全年都可种植和收获玉米以及其它作物。吾看见当地长着吾国相异的树木，其树枝独特，且同一树上长着不同形状的树枝，此乃世界之最大奇迹……
不知彼等是否信仰什么宗教，但吾相信，凭其聪慧之天资，很快就能皈依基督教。
真是奇怪之极，此岛海面之鱼亦与我们的不同，公鸡的羽毛可谓集人间色彩之大成，蓝、黄、红，各种颜色均有，有时，一只鸡就五彩缤纷，花团锦簇，其色彩之斑斓无人不为之惊叹，无人不为此驻足观赏，流连忘返。

3月15日，星期五 [1493年]
通过这次航行，吾这一理解已奇迹般地得到证实，日记所记录的很多奇迹充分证明了这一点。臣在陛下宫中长期效力，一直与宫中众多权贵显要见解相悖，彼等始终与臣作对，将西行之举贬为荒诞不经。臣素寄希望于上帝，希望航行终将给基督教事业带来最大荣誉，而此荣誉绝非轻而易举，唾手可得。

(2) 依据材料,对以下表述做出判断:直接从材料得出的,在括号内划“√”;违背材料所表达意思的,在括号内划“×”;材料没有涉及的,在括号内划“○”。(5分)

- ①哥伦布等人惊讶于登陆岛屿的物产和物种的奇特。()
- ②哥伦布认为当地人信仰基督教。()
- ③玉米是从美洲传入欧洲和亚洲等地的。()
- ④哥伦布的航行获得了西班牙上下一致的支持。()
- ⑤哥伦布认为他的远航和所见所闻都是他所在时代的奇迹。()

【科学奇迹】 牛顿生平大事年表

时间	生平
1643年	牛顿出生于英格兰林肯郡乡下的一个农夫家庭,自小和外祖母生活在一起,外祖母对于牛顿提出的问题总是认真对待,还鼓励他尝试动手解决问题;
1654年后	中学和大学的牛顿学习刻苦,他酷爱读书,喜欢沉思,做科学小实验,喜欢阅读笛卡尔等现代哲学家以及伽利略、哥白尼和开普勒等天文学家先进的思想;
1665-1666年	发明了微积分(近代科学研究的数学工具)、发现万有引力定律(应用于天文学)、通过光的色散,揭示了光的本质(光学理论),被称为“奇迹岁月”;
1672年	牛顿在皇家学会刊物《哲学通讯》上发表文章《光和色的理论》后,引发了科学家们的兴趣,皇家学会会长鼓励大家发表不同见解,进行讨论;
1687年	牛顿出版《自然哲学的数学原理》,提出了力学的三大定律,从而使经典力学成为一个完整的理论体系,奠定了经典物理学和现代工程学的基础。
1727年	85岁高龄过世,被葬于西敏寺,墓志铭中写到“自然与自然的定律,都隐藏在黑暗之中;上帝说‘让牛顿来吧!’于是,一切变为光明。”

(3) 依据材料,结合所学,概括牛顿所创造的奇迹。(1分)说明牛顿创造奇迹的原因。(3分)

【思想奇迹】 思想的奇迹在于改变了人们的认识。2018年5月8日,塞勒斯·比纳在《人民日报》撰文说:“如果人们要从过去200年间寻找那些塑造我们今天思考方式、改变我们生存方式的思想家,不会有太多名字出现在脑海中。在我看来,只有三个名字可以归入这一类别——

- ①查尔斯·达尔文、②阿尔伯特·爱因斯坦、③卡尔·马克思。”

(4) 从以上三位思想家中任选一位,指出他所创立的理论学说名称并说明此种理论怎样“塑造我们今天思考方式、改变我们生存方式”的。(2分)

32. 政治制度和政治观念随着历史的发展不断变化。阅读材料，回答问题。（15分）

材料一 古典时期的国家管理

<p>汉谟拉比法典被刻在一个黑色玄武岩石柱上，由前言、正文和结语三部分组成，前言宣扬汉谟拉比受命于神，正文 282 条，包括诉讼程序、刑事判罚、经济纠纷等各方面内容，法典规定奴隶可以被买卖，转让。奴隶与自由民发生冲突，同样罪行，奴隶会受到处罚更重。</p>	<p>在雅利安人征服过程中逐步形成了等级森严的种姓制度。全体居民被划分为婆罗门等四个等级。婆罗门宣扬神用身体不同部位创造了不同等级。婆罗门掌管祭祀，是最高等级，不同等级享有不同权利，地位与生俱来，世代不变，职业世袭，不同等级不得通婚。</p>
--	---

（1）上述材料反映的是哪两个国家的管理措施？其治国措施有哪些相似之处？（3分）

材料二 西罗马帝国灭亡以后，罗马主教利用各地分裂割据、王权软弱的机会，逐步扩张权力，到 8 世纪前后形成教皇制度，成为西欧基督教会的最高首脑。罗马教皇的存在，使西欧形成一个独立的教会体系。根据西欧的惯例，世俗权力来自上帝，所有信众的精神生活归教会掌管。到 10 世纪前后，西欧各地纷纷出现了封君封臣制度……11 世纪前后，教会作了一系列努力，把它的道德上的权威扩展到每一位世俗人士身上，而不管他的社会地位的高低。

——摘编自徐鹤森《中世纪的教权与王权》

（2）阅读材料说说中世纪西欧教会与王权的关系。（2分）

材料三 《独立宣言》主张：“我们认为这些真理不言而喻：人人生而平等，造物者赋予他们若干不可剥夺的权利，其中包括生命权、自由权和追求幸福的权利。为了保障这些权利，人类才在他们之间建立政府。”《人权宣言》也宣称：“人生来就是而且始终是自由的，在权利方面一律平等。这些权利是自由、财产和安全。”

（3）概括材料三所反映的思想主张（2分）。运用所学分析这些思想主张提出的背景是什么？（2分）

材料四 下表所列大事反映了世界各地近代政治的变化。

①	1689 年	英国议会通过《权利法案》
②	1787 年	美国 13 州代表通过 1787 年宪法
③	1813 年	西蒙·玻利瓦尔领导委内瑞拉人民反抗西班牙殖民统治。
④	1857 年	印度反英民族大起义爆发
⑤	1861 年	俄国亚历山大二世推行农奴制改革
⑥	1868 年	日本开始明治维新

(4) 阅读以上表格所列大事，任选两则事件，从中提炼一个主题，结合所学相关知识对你所提炼的主题加以简单说明。(注：抄写答题示例不得分)(4分)

【答题示例】

所选事件的序号：① ②

提炼的主题：资本主义政治制度的确立

简单说明：《权利法案》的颁布限制了英王的权力，确立了议会的地位。英国确立了君主立宪制。1787年宪法表明美国实行了联邦共和制。资本主义政治制度在欧美国家逐步确立。

(5) 与古代社会相比，世界近代政治发展出现了什么新趋势?(2分)

33. 城市是人类文明的重要标志。阅读材料，回答问题。(15分)

材料一 在中世纪，城市本身的结构就明确反映出了城市同农村是分离的，每座城市都筑有完全封闭的城墙，并严格把守城门，这一方面是为了抵御外敌的入侵，另一面则是用来将它同周围的农村分离开来；中世纪的城市也是一个自治团体，这种自治同样有两个方面的含义：一方面是相对于封建领主统治的自治，另一方面则是自我管理或自我统治……而包围着它的却是一整套以束缚个人自由为特征的封建体系。

——徐亚芳《浅论中世纪西欧城市兴起的历史条件及特点》

(1) 依据材料一，概括中世纪西欧城市的主要特点。(2分)

材料二

1751—1851年英国城市人口与城市数量统计表

年份	城市人口 (万)	总人口 (万)	城市人口占 总人口比例	城市数量 (个)	大城市(万人以上) 人口占总人口比例
1751	165.7	739	22%	1005	15.7%
1801	348.8	1075.5	32%	1036	23.0%
1851	1119.4	2087.9	54%	1115	42.3%

——资料来源：赵煦《英国早期城市化研究——从18世纪后期到19世纪中叶》

(2) 依据材料二，说出1751—1851年英国城市发生的变化。(2分)并结合所学分析发生变化的原因。(2分)

材料三 早期英国的城市化来之迅猛，使得英国的“城市病”问题愈演愈重。在城市巨大发展的同时，城市的污染达到了前所未有的程度……在一个晴天里站在圣保罗大教堂顶部，居然看不到相隔不远的伦敦塔……泰晤士河变得肮脏浑浊不堪……河流受到污染直接造成的危害就是霍乱，1831年到1832年，全英国有431个城市霍乱流行，2.2万人丧生于此……由于很多来到城市里工作

的居民将生活污水和垃圾随意泼洒……恶劣的卫生状况使当时英国城市居民的健康大受影响，工业城市工人的平均寿命只有 30 多岁……城市的住房根本容不下那么多从乡村蜂拥而至的人们。只追求利润的商人们快速地在城市的狭小的空地上挤下一个又一个劣质的房屋。仅伦敦过万人聚居的贫民窟就有 20 个以上，他们使这些贫民窟成为“霍乱国王的巢穴”。

——摘编自齐爽《英国城市化发展研究》

- (3) 依据材料三，概括近代英国“城市病”问题的主要表现。(2分) 在现代城市化进程中，我们应该如何防止“城市病”，请你写出一项合理举措。(1分)

有学者指出：“历史文化是城市的灵魂，要像爱惜自己的生命一样保护好城市历史文化遗产”。保护城市文化遗产具有重要的价值：

价值 1：能为一种已消逝的文明提供独特的历史见证；

价值 2：可作为某一历史时期城市的典型范例，反映出城市发展及社会状况；

价值 3：与具有特殊意义的事件、特殊的历史人物有直接的联系……

- (4) 请从下面的城市历史文化遗产中任选一个，说明其具有上面的哪一项保护价值，并阐明理由。(注：抄写答题示例不得分)(4分)



图 1 哈拉帕城市遗址



图 2 雅典公民大会遗址



图 3 莎士比亚故居



图 4 费城独立厅

示例：价值 1 伴随着雅利安人的入侵，由达罗毗荼人在印度河流域创立的早期文明遭到毁灭。哈拉帕城市遗址的发现，为我们了解这一文明提供了独特的历史见证。

- (5) 城市文化遗产的保护需要全社会的重视与参与。请你为加强城市文化遗产保护提出一项合理建议。(2分)

初三第一学期期中学业水平调研历史试题参考答案

第一部分选择题（每小题 1.5 分，共 45 分）

1	2	3	4	5	6	7	8	9	10	11	12	13	14	15
B	A	A	B	A	C	C	C	A	D	B	B	A	A	B
16	17	18	19	20	21	22	23	24	25	26	27	28	29	30
D	B	D	B	C	D	B	D	D	A	C	D	A	C	C

第二部分 非选择题（每小题 15 分，共 45 分）

31. (15 分) (1)

时期	上古时期（填写序号）①、②	中古时期（填写序号）③、④
所选建筑奇迹简介	示例：所选建筑序号： <u>①</u> 所选建筑简介：修建于古代埃及（时代背景）；法老的坟墓；显示法老与天上神灵的联系；酷似汉字的“金”字；(功能与作用)现存最大的金字塔是胡夫金字塔；是古代世界七大奇迹之一等；古埃及文明的代表（特点或地位）	

(2) (5 分) ① (√) ② (×) ③ (○) ④ (×) ⑤ (√)

(3) 发明微积分；揭示了光的本质；发现万有引力定律；创建经典力学理论体系。(1 分)。
创造奇迹的原因 (3 分)：家人的培养和支持（家庭因素）；牛顿广泛的学习和思考，执着和勤奋的探索（个人因素）；宽松的学术氛围等（社会因素）。

(4) (3 分) ① 达尔文的生物进化论，使人们不再相信物种不变和神创造世界的学说，将生物学研究放在了科学理论的基础之上。（或推翻了“神创说”和“物种不变论”，为生物学的研究提供了理论基础。）② 爱因斯坦提出了相对论，深化了人们对物理学的认识。

（或为核能开发奠定了理论基础，开启了现代科学的新纪元。）③ 马克思创立了科学社会主义理论，使人们相信社会主义是资本主义发展之后更为进步的社会。（马克思主义理论的诞生，开辟了国际工人运动和社会主义运动的新局面。）

32. (15 分) (1) (3 分) 古代巴比伦和古代印度。(2 分) 相似之处：将社会划分成不同等级，不同等级社会地位不同；宗教在国家管理中发挥着重要作用。(1 分)

(2) (2 分) 教会势力强大；王权相对衰弱；君权神授；王权受到教权的限制。(4 分) 思想主张：天赋人权；权利平等。(2 分) 背景：分别分析 (2 分)：《独立宣言》思想主张提出的背景是美国独立战争的爆发。(1 分) 《人权宣言》思想主张提出的背景是法国大革命的爆发。(1 分) 或背景：综合分析 (2 分)：资本主义经济发展；资产阶级革命和资产阶级政治制度的确立；启蒙思想的发生等。

(4) (4 分) 【答案示例】所选事件的序号：③④

提炼的主题：反抗殖民压迫或争取民族独立

简单说明：玻利瓦尔领导的拉美人民反抗西班牙殖民统治的民族独立运动，为拉美国家赢得了民族独立。印度反英民族大起义爆发，沉重打击了英国的殖民统治。

(5) (2 分) 政治民主化；人权逐步得到保障（社会逐步趋向平等）；宗教在政治中的作用逐渐消失；

33. (15 分) (1) (2 分) 城市与农村分离；(1 分) 城市是自治团体，相对独立。(1 分)

(2) (4 分) 变化：城市人口增加；城市人口占总人口比例增加；城市数量增加；城市规模扩大。(3 分) 原因：工业革命的推动。（其他答案言之成理亦可，1 分）

(3) (2 分)：城市病表现：环境污染严重；瘟疫流行；卫生状况恶劣；住房等基础设施无法满足城市化需求等等。举措：树立可持续发展理念，加强城市环境治理；科学规划、合理控制城市化进程，有序开展城市建设；加大城市基础设施与卫生设施建设。

(4) (4 分) 【答案示例】价值 2：雅典公民大会遗址生动地反映了雅典城邦的政治体制，它

为古代社会民主政治的发展树立了一个光辉的典范。

价值 3；费城独立厅与北美独立战争有关。北美第二届大陆会议在费城独立厅展开，会上发表的《独立宣言》标志着美利坚合众国正式诞生。

价值 3；莎士比亚故居与文艺复兴时期英国文学的发展有关。莎士比亚是文艺复兴时期著名的戏剧家，他的作品代表当时文艺最高水平。他的戏剧剧情跌宕起伏，语言生动丰富，形象个性鲜明。

(5) (2分)【答案示例】充分利用“文化遗产日”、博物馆免费开放等平台，加大城市遗产保护的宣传力度；加强城市文化遗产保护立法；完善文化遗产保护的社会监督机制；将文化遗产保护纳入城市规划等。