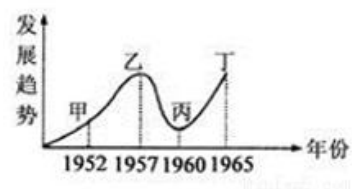
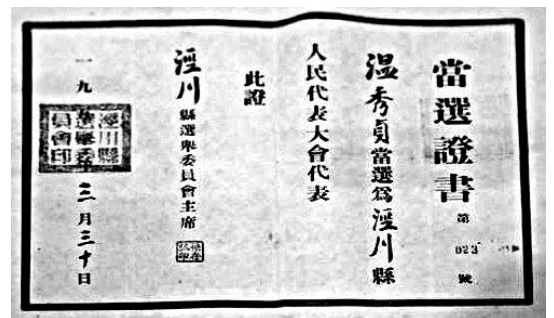




考生须知	<p>1. 本试卷共 8 页，共二部分，29 道小题，满分 100 分。考试时间：60 分钟。</p> <p>2. 在试卷和草稿纸上准确填写姓名、准考证号、考场号和座位号。</p> <p>3. 试题答案一律填涂或书写在答题卡上，在试卷上作答无效。</p> <p>4. 在答题卡上，选择题用 2B 铅笔作答，其他试题用黑色字迹签字笔作答。</p> <p>5. 考试结束，将本试卷、答案卡和草稿纸一并交回</p>
------	--

一、选择题（下列各题的四个选项中，只有一项符合题意。每小题 2 分，共 50 分）

1. 1949 年 9 月中国人民政治协商会议成功召开，这表明
- A. 初步建立了中国共产党领导的多党合作和政治协商制度
B. 建立了中华人民共和国并开始了社会主义建设与探索
C. 建立了亚洲的第一个民主共和国，开创了历史新纪元
D. 确立了中华人民共和国的最高权力机关和根本政治制度
2. 歌曲《走进新时代》歌词中：“我们唱着东方红，当家作主站起来，我们唱着春天的故事，改革开放富起来……”，中国人民“当家作主站起来”始于
- A. 中国共产党成立 B. 中华人民共和国成立
C. 三大改造的完成 D. 一五计划的完成
3. 1950 年 10 月，中国人民志愿军开赴朝鲜前线，同朝鲜军民共同抗击美国侵略者。中国人民志愿军司令员是
- A. 彭德怀 B. 朱德 C. 刘伯承 D. 邓小平
4. 与右图证书内容相关的，我国政治制度建设成就是
- A. 中国共产党领导的多党合作和政治协商制度
B. 民族区域自治制度
C. 人民代表大会制度
D. “一国两制”的基本方针
5. 三大改造是我国改变生产资料私有制的深刻社会变革，改造形式有
①直接收缴②生产合作社③公私合营④赎买
- A. ①②③ B. ①③④ C. ②③④ D. ①②④
6. 右图是《新中国在 20 世纪五六十年代的农业发展趋势示意图》。其中引起乙到丙段发展变化的主要原因是
- A. 新解放区的土地改革
B. 农业的社会主义改造
C. “一五计划”的实施





D. “大跃进”和人民公社化运动

7. 1959年至1961年，我国国民经济发生严重困难。为了克服困难，中共中央提出的八字方针是

- A. 团结、进步、发展、提高
- B. 调整、巩固、充实、提高
- C. 民主、科学、巩固、发展
- D. 开拓、进取、调整、提高

8. 20世纪60年代，王进喜、焦裕禄、雷锋等英雄模范人物作出的共同贡献是

- A. 实现了我国科技腾飞的梦想
- B. 改变了我国工业落后的面貌
- C. 推动了依法治国的理念发展
- D. 发扬了艰苦奋斗的时代精神

9. 20世纪60年代，世界政治形式复杂。因此为提高国防能力保证国家安全，我国成功研制出

- A. 原子弹和导弹
- B. 核潜艇
- C. 人造地球卫星
- D. “神舟”载人飞船

10. 下列记录在人民日报上的重大事件，按照历史进程的排序是



①



②



③



④

- A. ①②③④
- B. ①④②③
- C. ②①③④
- D. ①③②④

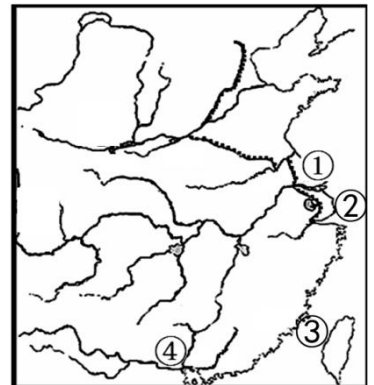
11. 下表中的数据来自安徽省凤阳县小岗村的一份档案。结合史实分析，小岗村人均口粮增加的原因是

时间	粮食产量	人均口粮	人均收入
1976年	35000斤	230斤	32元
1979年	132300斤	800斤	200元

- A. 农业的技术迅速提升
- B. 家庭联产承包责任制的实行
- C. 对外开放政策的实行
- D. 城市经济体制改革全面展开

12. 观察右图，图示标识的城市中，属于新时期对外开放最早的经济特区的是

- A. ①②
- B. ②③
- C. ③④
- D. ②④



13. 明确提出我国建立社会主义市场经济体制是在

- A. 中共十一届三中全会
- B. 中共十三大
- C. 中共十四大
- D. 中共十五大

14. 1978年，邓小平发表谈话支持和推动关于真理标准问题的讨论；1992年初，他发表了著名的“南方谈话”。这两次谈话都



- A. 完成了国家建设的拨乱反正 B. 打破了对于人们的思想束缚
C. 推动了党的工作中心的转移 D. 深化了社会主义的体制改革
15. 在 21 世纪初，为我国参与经济全球化开辟了新途径的重大事件是

- A. 建立了海南经济特区 B. 建立上海浦东开发区
C. 加入了世界贸易组织 D. 提出了“一带一路”倡议

16. 中国人民解放军是维护我国国家安全的钢铁长城。下列我国所取得的国防建设成就中，距今最近的一项是

- A. 华东军区海军建立 B. 第一艘航空母舰“辽宁舰”入列
C. 仿制成功歼-5 型歼击机 D. 组建第二炮兵部队

17. 他是中国核武器研制与发展的主要组织者、领导者，他领导众多科技人员，成功地设计了中国原子弹和氢弹，把中国国防武器引领到了世界先进水平。1999 年被追授“两弹一星功勋奖章”。他被称为“两弹元勋”。文中的“他”是

- A. 钱学森 B. 袁隆平 C. 邓稼先 D. 屠呦呦

18. 新中国的不同时期流行语的变化能够反映时代的变迁，如下表所示①处应该填的历史时期是

时期	流行语
建国初期	“保家卫国” “农民翻身”
①	“公私合营” “铁人”精神
②	“走资派” “四人帮”
③	“大包干” “特区”速度
④	“中国梦”、“一带一路”

- A. 社会主义建设探索时期 B. “文化大革命”时期
C. 改革开放时期 D. 基本实现社会主义现代化时期

19. “巴比伦是我们固有的遗产，亚述文明是我们祖先开创……”是伊拉克著名歌曲《两河间的国土》的歌词片段，从中可以看出伊拉克人的巴比伦情怀，下列各项中属于古代巴比伦文明遗产的是



①楔形文字



②太阳历



③《汉谟拉比法典》



④摩亨佐·达罗遗址

- A. ①② B. ③④ C. ①③ D. ②③

20. “首陀罗的职责只有一个，那就是顺从地服务于其它三个种姓。”材料中反映的内容属于

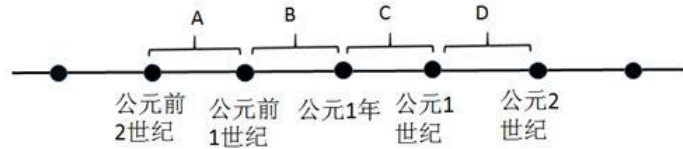
- A. 古代埃及的奴隶制度 B. 古代西亚的等级制度
C. 古代印度的种姓制度 D. 古代罗马的法律制度

21. 公元前 5 世纪后半期，雅典奴隶主民主政治达到极盛。下列说法正确的是

- A. 雅典主要以农业为主，崇尚武力 B. 城邦各级官职向雅典居民开放
C. 规定国家一切权力属于全体公民 D. 雅典法律规定外邦人可以参政

22. 公元前 27 年，罗马共和国结束，帝国建立。这一历史事件应标于右面时间轴的

- A. ① B. ②
C. ③ D. ④



23. 右图为北京某中学矗立的孔子和苏格拉底铜像。他们两人都是人类思想史上极负盛誉的人物，分别是东方与西方思想智慧的象征。孔子是春秋时期鲁国人，苏格拉底则是_____时期的思想家

- A. 罗马共和国 B. 马其顿王国
C. 古代雅典城邦 D. 亚历山大帝国



24. “亚历山大在所征服地区兴建了许多城堡，有些逐渐发展成经济文化中心，使希腊文化传播到东方，一种混合着希腊和东方因素的文明诞生。”以上材料说明亚历山大帝国的东征

- A. 客观上促进了东西方文化交流 B. 使得希腊文明逐步走向衰落
C. 促使东方文明从属于西方文明 D. 加速了古代欧洲向近代发展

25. 历史叙述和历史评价是历史学的基本要素。下列表述属于历史评价的是

- A. 公元前 450 年左右，罗马颁布《十二铜表法》
B. 斯巴达克起义沉重打击了罗马共和国的统治
C. 395 年，罗马帝国分裂为东、西两部分
D. 476 年，西罗马帝国灭亡

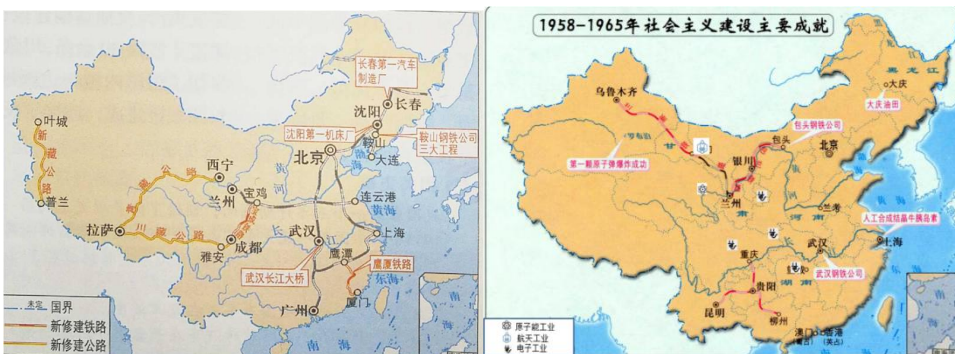
二、综合题（26 题 13 分、27 题 11 分、28 题 14 分、29 题 12 分，共 50 分）

26. （13 分）新时代 新社会 新成就

50 年代初某月某日，湖北一位兄长给弟弟寄了一封信，信文如下：

昨日接到你亲笔写的家信，并知道你在部队很好，家中人口都很平安，土改已分到了一石七斗田，田也很好，斗争中又分了几次果实，现在生活得很好，不像以前愁吃愁穿了，见于你（原文如此）在外面打美国鬼子，我们在家中受到农会和政府的优待照顾。

（1）信中提到了哪两件当时的大事？（2 分）任选其中一件并结合史实，说出其对巩固新中国政权起到的作用。（2 分）





(2) 对比观察 1953—1957 年和 1958—1965 年的建设成就图，完成下表（5 分）

	1953—1957 年	1958—1965 年
工业部门	以传统的钢铁、制造、交通等重工业为主。	传统钢铁业有发展，出现_____、 _____； 新出现_____等新兴工业。
工业布局	工业基地集中在_____地区 交通设施集中在西藏、四川等地区	

第二单元社会主义制度的建立和社会主义建设的探索

第 4 课 工业化的起步和人民代表大会制度的确立

第一个五年计划

人民代表大会制度的确立

第 5 课 三大改造

农业、手工业合作化

公私合营

(3) 以上为八年级下历史教材第二单元的课题及每课的子目，请围绕“**新中国建国前三十年，为后来的改革开放打下了基础**”这个主题，从该单元内容中选取一个角度的具体事例并予以说明。（4 分）

27. (11 分) 推进祖国统一大业

材料一 第一条澳门特别行政区是中华人民共和国不可分离的部分。

第二条中华人民共和国全国人民代表大会授权澳门特别行政区依照本法的规定实行高度自治……

第九条澳门特别行政区的行政机关、立法机关和司法机关，除使用中文外，还可使用葡文……

——《中华人民共和国澳门特别行政区基本法》

(1) 依据材料一并结合所学，解释“一国两制”的含义。（3 分）

材料二 我们澳门绝大部分民生所需的物品，包括我们的蔬菜、米、水、电，就是国家供应给我们的。1983年，澳门本地生产总值为83.7亿港元，2017年，这个数字达到了4042亿。短短34年间，澳门的生产总值翻了近50倍。

——澳门特区政府经济财政司司长 梁维特

基于历史渊源，澳门与横跨四大洲、人口超过2.6亿的葡语国家有着紧密且广泛的联系，发挥着中国与葡语国家商贸合作服务平台的作用。2016年中国与葡语国家双边贸易总额总达909亿美元，是2003年中葡论坛首次举行时的9倍。

——澳门贸易投资促进局资料

(2) 依据材料二并结合所学，谈谈澳门回归祖国的重要意义。(3分)

材料三 ①搜狐新闻 2018年6月11日电，粤港澳大湾区既有国际金融中心-香港，也有中国的“硅谷”-深圳，还有制造业基地广州、东莞等，产业体系完备，可贯穿技术研发到商品化的全过程。同时，这里共有170多所高校，集聚了一大批高水平的实验室与科研机构，也集聚了一批高层次的科研人才。

②中国新闻网 2018年9月7日电，包括花旗、汇丰等在内的共有来自9个国家和地区的26家机构踏足粤港澳大湾区，寻找新的金融合作机遇。

(3) 依据材料三，说出新时代粤港澳大湾区的建设对于对外开放政策的重要意义。(2分)

材料四 两岸关系的发展

时间	事件
1979年	全国人大常委会发表《告台湾同胞书》，提出两岸实行“三通”
1992年	两岸达成“九二共识”，即 ①
2005年	全国人大通过《反分裂国家法》
2015年	习近平同马英九在新加坡会面
2016年	来自大陆的30名青年志愿者参与了台湾宋庆龄基金会及台湾夏潮基金会主办的“两岸青年学生互访交流团”活动
2017年	台湾对大陆出口额占台湾出口总额的27.7%；台湾从大陆进口额占台湾总进口额的19.3%。

(4) 补全表格①处的内容。(1分) 结合材料一至四及所学，谈谈如何推进两岸关系进一步和平稳定的发展，实现祖国统一。(2分)

28. (14分) 大国外交之路

材料一 赔款白银4.5亿两，本息共计9.8亿两；以海关等税收作担保；清政府保证严禁人民参加任何形式的反帝活动；划定北京东交民巷为“使馆界”，允许各国派兵驻守，不准中国人居住。

——1901年《辛丑条约》

材料二 中华人民共和国外交政策的原则，为保障本国独立、自由和领土主权的完整，拥护国际的持久和平和各国人民间的友好合作，反对帝国主义的侵略政策和战争政策。



(1) 对比材料一、材料二，指出新中国成立前后中国外交政策的不同特征。(4分)



图1 恢复中华人民共和国在联合国的一切合法权利的提案通过



图2 周恩来在亚非会议上发表演讲



图3 周恩来和尼克松在机场握手



图4 周恩来访问印度

(2) 请以时间为线索，结合所学，将上述图片所反映的历史事件进行排序，将图片序号填写在横线上。(4分)

(3) 从以上四幅图中任选一幅，说说其历史意义(4分)

材料三 新时代部分外交大事记

2015年	中国首支维和步兵营前往南苏丹任务区执行任务。当前，中国是联合国安理会常任理事国中派出维和人员最多的国家，兵力涵盖步兵、工兵、警卫、运输、医疗和参谋军官等多种类型。
2017年	金砖国家领导人第九次会晤在厦门举行，重点讨论世界经济形势和全球经济治理、国家安全和发展的、深化金砖合作、开展人文交流、推进机制建设等议题。
2019年	世界环境日全球主场活动在浙江杭州举行，今年世界环境日以“大气污染防治”为主题，敦促各国政府、产业、社区和个人共同探索可再生能源和绿色技术，改善世界城市和地区的空气质量。

(4) 依据材料三和所学，任选一个角度分析中国在国际事务中发挥的作用。(2分)

29. (12分) 社会生活的发展与变迁

材料一 20世纪50年代至90年代国家发放的票证



(1) 仔细观察，找出票证上的重要信息，并写出其反映的特点。(4分)

粮票上的信息	反映的特点
示例：当月有效、过期作废	限定时间
_____	规定种类
_____	_____
壹市斤，每券壹架	_____

材料二 20世纪70年代，科学家袁隆平经过多年反复试验，成功培育出籼型杂交水稻。袁隆平和他的杂交水稻，为解决我国这样一个人口大国的吃饭问题和保障我国的粮食安全，做出了巨大贡献。袁隆平著于1985年的《杂交水稻简明教程》，经联合国粮农组织出版后，发行到40多个国家，成为全世界杂交水稻研究和生产的指导用书。中国的杂交水稻被推广到印度、越南、菲律宾等许多国家和地区，增产效果十分明显。1997年，袁隆平开始“中国超级杂交水稻”的研究。2017-2018年，袁隆平团队完成“海水稻”和沙漠水稻实验，这是全球首次在热带沙漠实验种植水稻取得成功。

(2) 依据材料二，对以下表述做出判断：符合材料所表达意思的，在括号内画“√”；违背材料所表达意思的，在括号内画“×”；材料没有涉及的，在括号内画“○”。(4分)

- ① 杂交水稻技术为解决中国以及众多发展中国家的粮食问题做出了巨大贡献。()
- ② 中国对杂交水稻技术执行严格的保密和封锁。()
- ③ 袁隆平获得我国首届最高科学技术奖，并享有较高的国际声望。()
- ④ 袁隆平不断突破自我，始终走在杂交水稻技术的发展前沿。()

材料三 20世纪80年代，西装日渐普及。“西服热”也带动了夹克衫、风衣等其他西式服装的流行。女性们穿上了西装套裙，连衣裙、健美裤深得广大女性喜爱。服饰已经不仅仅是满足御寒等需要的工具。

20世纪90年代，国际时尚登陆中国市场越来越迅捷。男性西装逐渐跟上了国际潮流，更加合体。一步裙、超短裙等女装很快流行。1991年(人口11.6亿)我国服装产量跃为55亿件，人均新衣近5件。与此同时，中国服装界出现了寻找和恢复本民族服饰文化的意识，新旧世纪之交悄然兴起“唐装”热，掀起了中国传统服饰时尚的盖头。

——摘编自胡月等《百年衣裳：中国20世纪服装演变》

(3) 依据材料三并结合所学，概括20世纪80年代以来，我国居民服装潮流的特点及形成原因。(4分)

2019 北京市西城区初二（下）期末历史参考答案



一、选择题（每小题 2 分，共 50 分）

1	2	3	4	5	6	7	8	9	10
A	B	A	C	C	D	B	D	A	A
11	12	13	14	15	16	17	18	19	20
B	C	C	B	C	B	C	A	C	C
21	22	23	24	25					
C	B	C	A	B					

二、综合题（26 题 13 分、27 题 11 分、28 题 14 分、29 题 12 分，共 50 分）

26. (1) (4 分)

事件：土地改革，抗美援朝。(2 分)

作用：土地改革使农民得到了土地，巩固了人民政权；

抗美援朝为我国赢得了相对稳定的和平环境，提高了国际地位（任选一个事件即可，2 分）

(2) (5 分) (每空 1 分)

- ① 包头钢铁公司
- ② 武汉钢铁公司（①②顺序可以互换）
- ③ 东北
- ④ 内地（或边疆地区）
- ⑤ 西北、西南地区

(3) (4 分) 事例：可以从政治、经济、经验教训等角度进行自由选择；

要求：事例选择恰当，史实表述准确，能够与主题相结合；

评分标准：选择事例及史实表述准确，得 2 分；论述与主题对应结合，得 2 分；选择事例及史实表述较为准确，得 1 分；论述与主题基本对应结合，得 1 分。

27. (1) (3 分)

认识：“一国两制”政策的前提是一个中国，澳门基本法是依据宪法制定的。(1 分) “两种制度”是指祖国大陆主体实行社会主义制度，港澳台实行资本主义制度和原有的生活方式长期不变。(2 分)

(2) (3 分) **意义：**祖国内地给澳门地区提供大量的生活物资支持；遇到困难时候，澳门有祖国作为坚强的后盾；澳门成为国家对外开放，推进一带一路政策的重要桥梁。（应该从祖国是澳门发展的推动与保障，以及澳门繁荣稳定对于祖国经济政治建设的促进作用这两个角度，只有一个角度，最多得 2 分）

(3) (2分) **作用**: 更充分的吸引外资、进一步引进先进技术、发挥科研人才作用、发展经济推进经济体制改革, 有力的推动了新时代中国特色社会主义建设, 是推动“一国两制”事业发展的新实践。(能够结合材料, 言之成理即可)

(4) (3分) 补全表格①即海峡两岸均坚持一个中国的原则。(1分)

坚持“和平统一, 一国两制”的方针, 坚持“九二共识”; 互惠互利, 加强经济、文化、科技、青少年等方面的交流; 加强领导人对话和两岸人员往来, 通过沟通交流, 减少两岸的隔阂; 坚决反对“台独”分裂活动; 加快大陆经济文化科技的发展, 让祖国国力更加强盛。(上述内容中任答两点即可, 言之成理可酌情给分; 2分)

28. (1) (4分) 材料一 反映出新中国成立前实行屈辱外交, 签订了丧权辱国的不平等条约; 材料二反映出新中国奉行独立自主的和平外交。(每个角度2分)

(2) (4分)

图4 \longleftrightarrow 图2 \longleftrightarrow 图1 \longleftrightarrow 图3

(说明: 序号顺序必须对应准确, 每序号1分)

(3) (4分)

图1: 1971年, 第26届联合国大会通过决议, 恢复中华人民共和国在联合国的一切合法权利。这是中国外交的重大胜利, 中国积极参与国际事务, 发挥了重要作用。

图2: 1955年, 周恩来率中国代表团参加亚非会议, 针对帝国主义破坏会议的阴谋和各国间的矛盾、分歧, 周恩来提出了“求同存异”的方针。中国代表团积极开展会外交往, 加强了同亚非各国的团结与合作。

图3: 1972年, 美国总统尼克松访华, 国家领导人毛泽东和周恩来与尼克松举行了会谈, 中美正式签署并发表了《联合国公报》, 中美两国关系开始走向正常化。

图4: 1954年, 周恩来访问印度, 中国和印度发表声明, 一致同意以和平共处五项原则作为指导中印两国关系的基本原则。在中国、印度和缅甸的倡导下, 和平共处五项原则被世界上越来越多的国家接受, 成为处理国与国关系的基本准则。

(说明: 选图并说明1分; 历史意义的表述3分)

(4) (2分)

作用: 中国积极履行国际责任和义务, 参与维和部队, 为维护世界和平与发展而努力; 中国积极参与多边合作, 共同商讨世界经济等发展中的问题, 推动世界稳步发展; 中国积极参与国际事务, 在环境等全球性问题上发挥重要作用, 促进世界发展。(任选一个角度作答即可给分)

29. (1) (4分)

- ① 面票、缝纫机券
- ② 北京市、上海市
- ③ 限定地域
- ④ 限定数量

(说明: 信息每点1分, 反映特点每点1分; ③④两点表达基本准确即可)

(2) (4分) \checkmark 、 \times 、 \bigcirc 、 \checkmark

(3) (4分)

特点: 款式(或样式)多样; 着装追求美观、个性; 紧跟国际潮流, 与国际接轨; 传统服饰文化的回归。(任意两点得2分)

原因：改革开放的不断深入；外来时尚的引入；人民生活水平提高；对民族传统文化的重视。（任意两点得 2 分）

