











初一历史

第一部分 (单项选择题 共 60 分)

本部分共 30 小题, 每小题 2 分, 共 60 分。在每小题列出的四个选项中, 选出最符合题目要求的一项。

1. 化石和遗址是研究远古人类历史最有力的证据。下面图片和文字资料, 是历史学者根据北京周口店考古情况进行的整理。依据材料, 可以推测出北京人生活的环境

		北京人生活的时代早期偏冷, 中、晚期较温暖。由于发掘出鸵鸟和巨副鸵等动物化石, 证实这里有过干旱的时期。出现过草原甚至沙漠。而水獭、居氏巨河狸、河狸等水陆动物的发现, 又表明这里也曾出现过大面积的水域。
		
		
		

- A. 北京人生活环境险恶
B. 北京人应迁徙到别的地方
C. 北京人昼伏夜出活动
D. 北京人生活环境优越轻松

2. 考古工作者制作完成“北京人头骨复原像”(见右图)的主要依据是


- A. 周口店的自然环境
B. 遗址中的打制石器
C. 北京人头盖骨化石
D. 北京人生活想象图



3. 对于久远的历史, 考古发现为我们的研究提供了可靠的依据。考古工作者从北京人遗址发掘了大量人工打制的石器和烧骨、灰岩, 最厚的灰岩达 6 米之多。据此你能得出的结论是: 北京人

- ①会制造和使用石器 ②能控制和使用火 ③能驯养牲畜 ④会制作陶器
A. ①② B. ③④ C. ①③ D. ②④

4. 以下是一位同学制作的朝代更替示意图, 其中 ? 处依次应填



- A. 夏、商 B. 商、春秋 C. 春秋、西汉 D. 西汉、东汉

5. 2000 年 11 月 9 日夏商周断代工程正式公布了《夏商周年表》。《夏商周年表》定夏朝开始于约公元前 2070 年。夏朝距今多少年

- A. 4085 年 B. 4086 年 C. 4087 年 D. 4088 年

6. 目前, 世界上最早的人工栽培稻、粟和黍均发现于

- A. 中国 B. 南非 C. 埃及 D. 印度

7. 根据目前的考古学成果, 能够较典型地反映我国原始农耕生活的是

- ①北京人 ②山顶洞人 ③河姆渡原始居民 ④半坡原始居民

- A. ①② B. ②③ C. ①③ D. ③④

8. 农耕时期的原始居民已经会建造房屋。依据以下图片判断, 居住干栏式房屋的是



- A. 北京人 B. 河姆渡原始居民 C. 半坡原始居民 D. 大汶口原始居民

9. 与“黄河流域”“粟”“半地穴式房屋”三个关键词都有关的原始居民是

- A. 元谋人 B. 北京人 C. 河姆渡居民 D. 半坡居民

10. 2019 年 4 月 7 日, 农历三月初三, 中华儿女共同关注的壬辰年黄帝故里拜祖大典在新郑市隆重举行。与黄帝一起被尊奉为中华民族人文初祖的是

- A. 炎帝 B. 蚩尤 C. 尧 D. 舜

11. 考古工作者在洛阳发掘出一座都城遗址——二里头遗址, 发掘出土了:

- ①宫殿建筑群 ②大型墓葬和手工业作坊 ③平民生活区和墓葬群

通过对上述遗址发掘材料的推断, 你认为能够反映出夏朝


- A. 禹建立夏王朝 B. 王位世袭制代替禅让制
C. 夏朝制定了历法 D. 夏朝出现阶级分化和等级界线

12. 把商都迁至殷, 使王权得到加强的商王是

- A. 成汤 B. 武王 C. 平王 D. 盘庚

13. 同学们在博物馆中看到右图中的两件文物, 它们代表了中国古代某一王朝的灿烂文明。这一朝代是

- A. 夏 B. 商 C. 西周 D. 春秋



14. 右图是我国一项出土文物的拓本, 该文物出土于河南省安阳市殷墟, 材质是龟甲, 其中的文字被认为是现存中国最古老的一种成熟文字。该文字是

- A. 甲骨文 B. 金文 C. 小篆 D. 隶书






15. 春秋时期, 社会经济有了很大发展, 下列史实不能佐证这一观点的是

- A. 农业上使用铁器和牛耕
- B. 手工业规模扩大
- C. 商业活动逐渐活跃
- D. 海外贸易得到发展

16. 为了提高复习效率, 小张同学绘制了一张知识结构图, 空白处应填入



- A. 原始农耕的出现
- B. 王室衰微, 列国纷争和变法
- C. 第一个统一多民族国家的建立
- D. 各地爆发大规模的农民起义

17. 春秋时期, 诸侯争霸, 其中第一个称霸中原的是

- A. 晋文公
- B. 齐桓公
- C. 楚庄王
- D. 越王勾践

18. “七雄戈戟乱如麻, 四海无人得坐家。”这句唐诗描述的现象发生在

- A. 夏朝
- B. 商朝
- C. 春秋
- D. 战国

19. 右图是战国形势图, 在战国时期, 曾经一度落后于其他诸侯国, 通过变法, 最后兼并六国的诸侯国是



- A. ①
- B. ②
- C. ③
- D. ④

20. 下列事件中, 增强了秦国实力, 为秦统一奠定了基础的是

- A. 管仲改革
- B. 城濮之战
- C. 商鞅变法
- D. 赤壁之战

21. 右图所示水利工程, 是修建于战国时期秦国的一座综合性水利枢纽, 至今还在发挥作用。这项水利工程是



- A. 郑国渠
- B. 都江堰
- C. 灵渠
- D. 大运河

22. 如果想了解老子的思想主张, 你最应该翻阅的古代文化典籍是

- A. 《道德经》
- B. 《论语》
- C. 《易经》
- D. 《中庸》

23. 春秋以来“学在官府”的局面被打破, 原来由贵族垄断的文化学术开始向社会下层扩散, 下移于民间。春秋时期首先创办私学, 并在招收弟子时, 不区分弟子的出身与国籍。这位教育家及他在招收弟子时体现的教育原则是

- A. 老子、顺应自然
- B. 孔子、有教无类
- C. 墨子、兼爱非攻
- D. 韩非子、提倡法治

24. 春秋战国时期是历史上的大变革时代, “百家争鸣”这一历史现象是哪一领域的变革:

- A. 政治领域
- B. 经济领域
- C. 思想文化领域
- D. 军事领域

25. 据史书记载, 西周初年有 800 个诸侯国, 春秋初年还到 170 多个, 战国初期还有十几个诸侯国, 到公元前 221 年, 实现了“四海一”。这一历史现象反映了我国历史发展的趋势是

- A. 经济发展
- B. 政治变革
- C. 国家由分裂走向统一
- D. 民族交融

26. 我国自古就有“三皇五帝”的传说, 后来皇帝成为了封建国家最高统治者的称谓, 请问它的出现与谁有直接关系

- A. 秦始皇嬴政
- B. 汉高祖刘邦
- C. 隋文帝杨坚
- D. 宋太祖赵匡胤

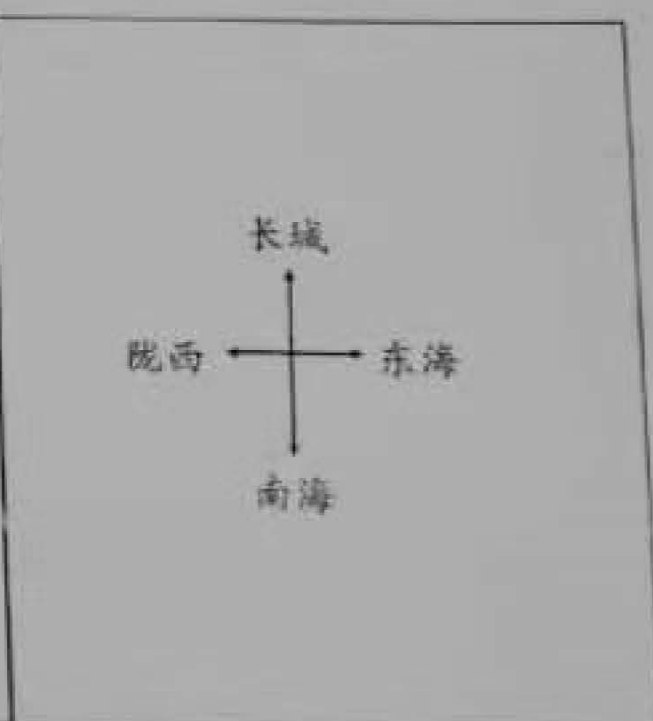
27. 秦统一后建立了中央集权制度, 在地方实行

- A. 世袭制
- B. 分封制
- C. 郡县制
- D. 行省制

《史记·秦始皇本纪》中记载: “一法度衡石丈尺, 车同轨, 书同文。”材料中包含秦巩固统一的措施为①统一度量衡②统一服饰③统一车轨④统一文字

- A. ①②③
- B. ①②④
- C. ①③④
- D. ②③④

29. 充分利用历史地图, 可以帮助同学们形成明确的历史空间概念, 下面是某同学在学习历史的过程中, 依据疆域图绘制的示意图, 依据疆域图和示意图判断, 这个朝代是



- A. 夏朝
- B. 商朝
- C. 秦朝
- D. 西汉

30. 我国历史上第一次大规模农民起义——大泽乡起义的领导者是

- A. 管仲、商鞅
- B. 陈胜、吴广
- C. 刘邦、项羽
- D. 张角、张宝



第二部分 (材料分析题 共40分)

31. (14分) 西周时期制度创新发展, 阅读材料, 回答问题。

材料一 (西周) 将……分封为地方诸侯, 作为保护周王室的屏障, 从周初的政治形势而言, 还必须加意防止被征服者的反叛, 因此也只能采取分土而治的政策, 以保持“天下共主”的地位, 这是形势使然。——摘编整理自周振鹤《中国地方行政制度史》

(1) 依据材料一, 说出西周实行的政治制度。(2分) 依据材料内容结合所学知识, 归纳西周初期实行这一制度的目的。(4分)

材料二: 周初分封略表

主要封国	受封对象	分封目的
鲁	姬姓贵族	封建亲戚, 以藩屏周。
卫	姬姓贵族	
晋	姬姓贵族	
燕	姬姓贵族	
齐	功臣	武王灭商后, 分封了对周人比较温和并在周朝人中有影响的殷子后, 以此来统治商的遗民。
宋	先代贵族	

(2) 依据材料二, 归纳周王分封的对象主要包括哪几类人?(4分)

材料三: 西周王朝通过对四土, 四国之地的大批封建, ……使得西周王朝的千里邦畿和辽阔之地已紧密地联为一体, ……一统于周天子的统治之下。

——《从早期国家结构的基本形式看秦汉大一统政治的社会基础》

(3) 据材料三并结合所学, 归纳西周实行的政治制度的作用。(4分)

32. (13分) 改革是社会发展的动力, 每一个国家, 每一个民族要发展进步, 就必须与时俱进, 敢于改革。


材料一: 公元前356年, 商鞅在秦孝公支持下开始变法, 变法内容: 废除井田制, 允许土地买卖,

奖励耕织, 生产粮食布帛多的人, 可免除徭役, 根据军功大小授予爵位和田宅, 废除没有军功的旧贵族的特权, 建立县制, 由国君直接派官吏治理, 改革户籍制度, 编定户口。

(1) 依据材料一中商鞅变法的内容, 填写表格。(填写变法内容时, 只写序号)(4分)

措施	变法内容(只写序号)
经济	①、_____
政治	_____, _____
_____	③

材料二:

<p>A</p>  <p>注解: 该文物为商鞅方升, 商鞅变法时颁布的量器, 现藏于上海博物馆。</p>	<p>B</p> <p>公元前350年, 在商鞅主持下又颁布第二次变法令……其主要内容包括: ……统一度量衡以便利收税与商业经营。</p> <p>——张帆《中国古代简史》</p>
---	---

(2) 依据材料二, 其中A在史料上属于_____; B在史料上属于_____。(2分)

①文物史料 ②文字史料

(3) 商鞅变法对秦国不同阶层的人产生了不同的影响, 请你从旧贵族、新兴地主阶级、平民等身份中, 任意选择一种, 说一说你是否支持商鞅变法? 结合商鞅变法的内容说出理由。(4分)

材料三: 及秦孝公用商君, 坏井田, 开阡陌, 急耕战之赏……倾邻国而雄诸侯……至于始皇, 遂并天下。

——《汉书·食货志》

33. (13分) 十九大报告强调: 文化自信是一个国家, 一个民族发展中更基本、更深沉、更持久的力量。

材料一: 《论语》是记载孔子及其弟子言行的记录体著作。“仁者爱人, ”“泛爱众, 而亲(接近)仁”, “己所不欲, 勿施于人”, “道之以德, 齐之以礼”等, 意蕴深刻。

(1) 依据材料一, 概括孔子的核心思想。(2分) 结合所学, 说说我们可以从孔子的思想中汲取哪些智慧。(3分)

材料二: 东周社会经历了巨大的变化, 东周列国纷争形成的无政府状态, 是中国人感到政治和社会问题格外突出和迫切。中国早期哲学家中的一些人, 往往周游各国, 如果得到某一国君的赏识, 便为之出谋划策, 各种学术流派形成, 这些思想家的一言一行经过他们的弟子加工补充后, 逐渐成为诸子百家的经典。——摘编自费正清《中国: 传统与变迁》

(2) 依据材料二并结合所学, 概括战国时期“百家争鸣”局面出现的历史背景。(2分) 并选择其中最欣赏的一家学派, 写出该学派名称、代表人物和他的治国主张。(3分)

材料三: 世界上一些有识之士认为, 包括儒家思想在内的中国优秀传统文化中蕴藏着解决当代人类面临的难题的重要启示, 比如, 关于道法自然、天人合一的思想, ……关于以民为本、安民富民乐民的思想, 关于为政以德、政者正也的思想, 关于苟日新日日新又日新、革故鼎新、与时俱进的思想, ……关于俭约自守、力戒奢华的思想, ……等等。中国优秀传统文化, 可以为人们认识和改造世界提供有益启迪, 可以为治国理政提供有益启示, 也可以为道德建设提供有益启发。

——2014年9月24日, 习近平在纪念孔子诞辰2565周年国际学术研讨会上的讲话

(3) 依据材料三并结合所学, 从春秋战国时期诸子百家中任选其中一家学派的观点, 说一说对我们今天有哪些借鉴意义。(3分)