



## 历史试卷

2023.06

考生须知

1. 本试卷共 8 页, 满分 70 分。考试时间 70 分钟。
2. 在试卷和答题卡上认真填写学校名称、班级、姓名和考号。
3. 试题答案一律填涂或书写在答题卡上, 在试卷上作答无效。
4. 选择题用 2B 铅笔作答, 其他试题用黑色字迹签字笔作答。
5. 考试结束, 将本试卷和答题卡一并交回。

## 第一部分


本部分共 20 小题, 每小题 1.5 分, 共 30 分。在每小题列出的四个选项中, 选出最符合题目要求的一项。

1. 习近平主席在一封贺信中指出, \_\_\_是迄今为止中国发现的年代最早的成熟文字系统, 是汉字的源头和中华优秀传统文化的根脉, 值得倍加珍视、更好传承发展。\_\_\_处应填
- A. 甲骨文      B. 小篆      C. 隶书      D. 楷书

2. 右图是商鞅方升, 其周身刻有两组铭文。第一组交代了商鞅在变法期间为统一度量衡造此量器; 第二组是加刻的秦始皇诏书, 将商鞅制定的标准推行至全国。此文物见证了



- A. 铁器的普遍性      B. 西周的建立
- C. 秦量的延续性      D. 秦朝的暴政
3. 对下图所示两种货币的解释, 正确的是

|   |  |
|---|--|
|  |  |
| 汉初, 允许私人和王国铸钱, 钱币形制杂乱导致市场混乱, 故汉武帝统铸五铢钱  | 唐初, 因隋末战乱, 货币大幅贬值, 百姓生活困苦, 故唐高祖改铸开元通宝  |

- ①形制体现出继承与发展      ②促成了开放的社会风气
- ③创建了思想统一的局面      ④有利于巩固国家的统治
- A. ①②      B. ②③      C. ①④      D. ③④

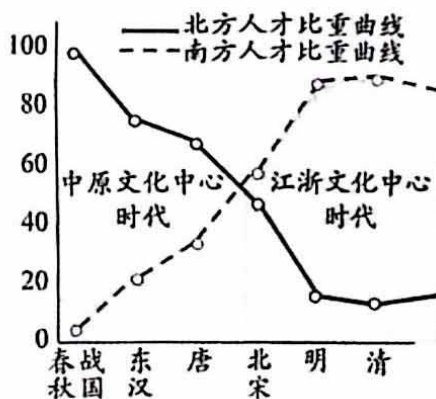


4. 时人追忆北魏洛阳城说：“自晋宋以来，号洛阳为荒土……昨至洛阳，始知衣冠士族，并在中原。礼仪富盛，人物殷阜……”这种变化得益于

- A. 统一多民族国家创立
- B. 文景之治局面出现
- C. 海上丝绸之路的开通
- D. 孝文帝改革的实施

5. 右图显示中国古代南北方人才比重的变化，形成这种变化的根源是

- A. 民族政权并立
- B. 人口快速增长
- C. 经济重心南移
- D. 重文轻武政策

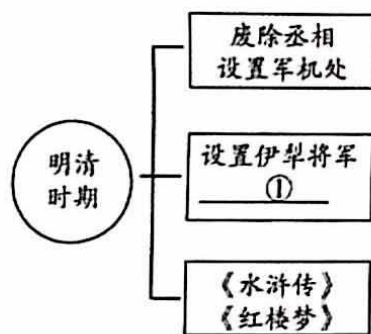


6. “自封建变郡县，有天下者，汉、隋、唐、宋为盛，然幅员之广，咸不逮（都不如）元……立中书省一，行中书省十有一。”以上材料能说明

- A. 四通八达的中外交通
- B. 地方管理制度的发展
- C. 各朝都重视边疆治理
- D. 古代选官方式的变化

7. 右侧是一位同学的学习笔记，其中①处应填

- A. 大的商帮出现
- B. 闭关锁国政策
- C. 实行金瓶掣签
- D. 都市生活繁荣



8. 中国同非洲的交往源远流长，以下见证了中非友好关系的是

- ①鉴真东渡      ②郑和下西洋      ③万隆会议      ④雅尔塔会议
- A. ①②      B. ②③      C. ①③      D. ②④

9. 明清时期，厦门一带的商人经常往来于江浙地区进行棉布贸易。英国在厦门开市通商后，物美价廉的洋布充斥当地，民间购买者增多，传统商路和手工纺织业开始衰落。以上材料可以用于说明

- A. 鸦片战争的影响
- B. 英法联军的罪行
- C. 甲午战争的背景
- D. 八国联军的侵略

10. 陈独秀在《青年杂志》创刊号中指出近代文明的特征是“人权说”“生物进化论”“社会主义”，中国要实现向近代文明转变，关键在青年的觉悟和观念更新。为此，该杂志积极倡导

- A. “扶清灭洋”
- B. 变法图强
- C. 三民主义
- D. 民主、科学



11. 近代中国的历史演进，与世界的变化发展有密切的联系。下表①处应为

| 世界历史事件          | 对中国的影响              |
|-----------------|---------------------|
| 1914年，第一次世界大战爆发 | 民族工业获得了迅速发展的机会      |
| 1917年，俄国十月革命胜利  | 先进的知识分子开始关注并传播马克思主义 |
| 1919年，巴黎和会召开    | ①                   |

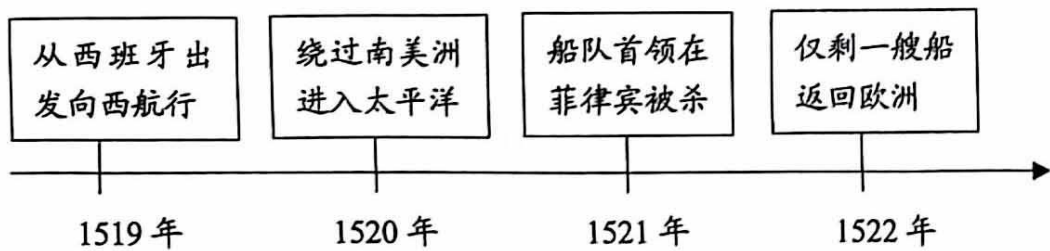
- A. 开始沦为半殖民地半封建社会                      B. 武昌起义胜利  
C. 颁布了《中华民国临时约法》                      D. 五四运动爆发
12. 大革命失败后，面对中国革命的低潮，中国共产党开始新的探索，最终开辟了一条农村包围城市、武装夺取政权的道路。对这一探索历程表述正确的是
- A. 秋收起义→《论持久战》→八七会议  
B. 南昌起义→秋收起义→井冈山革命根据地的建立  
C. 南昌起义→中共七大→八七会议  
D. 中共七大→井冈山革命根据地的建立→《论持久战》

13. 右侧照片是我国 20 世纪 50 年代经济领域重大变革的一个场景。这一变革的作用是



北京茶叶店全行业试行公私合营，人们敲锣打鼓进行庆祝

- A. 开辟了中国历史的新纪元  
B. 保卫了中国人民的和平生活  
C. 建立了社会主义公有制  
D. 形成了全方位外交布局
14. 1984 年，邓小平在考察了深圳、珠海、厦门后指出：“特区是个窗口，是技术的窗口，管理的窗口，知识的窗口，也是对外政策的窗口。”由此可见经济特区
- A. 使新生的人民共和国得到巩固                      B. 深化了对外交往  
C. 标志对外开放格局的最终形成                      D. 增强了国防实力
15. 以下是某船队一次航行的部分记录。对此解读正确的是



- A. 迪亚士到达非洲好望角                      B. 达·伽马到达印度西海岸  
C. 哥伦布发现美洲新大陆                      D. 麦哲伦船队完成环球航行



16. 有学者指出：“西班牙人征服美洲大部分地区时，为之雀跃的东西是美洲的金、银。随着其他欧洲人跟进来到美洲后，其焦点转向烟草、可可等这些珍奇的农产品的出口。”这段材料体现了

- A. 西欧庄园经济的发展
- B. 殖民侵略对美洲经济的掠夺
- C. 英西两国的殖民争霸
- D. 欧洲文化对殖民地产生影响

17. 以下内容的共同作用是

|    |              |              |        |            |             |
|----|--------------|--------------|--------|------------|-------------|
| 时间 | 1689年        | 1776年        | 1787年  | 1789年      | 1804年       |
| 史实 | 英国议会通过《权利法案》 | 大陆会议通过《独立宣言》 | 美国制定宪法 | 法国颁布《人权宣言》 | 《拿破仑法典》颁布实施 |

- A. 巩固了资产阶级革命成果
- B. 推动国际工人运动的开展
- C. 加快了欧洲一体化的进程
- D. 积极维护国际和平与安全

18. 1959年，赫鲁晓夫评论说：“国际紧张局势的情况就像一棵卷心菜。如果你把菜叶一片一片地剥去，就会看到菜心，而国际紧张局势的核心就是美苏关系。”这说明

- A. 世界格局向多极化方向发展
- B. 亚非拉国家的新发展
- C. 冷战时期美苏主导国际秩序
- D. 社会保障制度的建立

19. 右图是创作于1942年名为《绞死希特勒》的漫画。该漫画创作的历史背景是

- A. 反法西斯联盟的建立
- B. 斯大林格勒战役胜利
- C. 欧洲第二战场开辟
- D. 不结盟运动的兴起



20. 史论结合是历史学习的基本方法。下列史实与结论对应正确的是

| 序号 | 史实       | 结论                     |
|----|----------|------------------------|
| A  | 俄国的农奴制改革 | 由落后的农业国变成了强大的工业国       |
| B  | 非暴力不合作运动 | 打击了英国的殖民统治，增强了埃及的民族自尊心 |
| C  | 罗斯福新政    | 导致了资本主义经济大危机的爆发        |
| D  | 世界贸易组织成立 | 促进了全球贸易和世界经济的发展        |

## 第二部分

本部分共4题，共40分。

21. (9分) 变革·进步

材料一 春秋战国时期部分学派的主张

| 学派 | 主张                        | 核心思想 |
|----|---------------------------|------|
| ①  | 为政以德，譬如北辰，居其所而众星共之。——《论语》 | 以德治国 |
| 法家 | 奉法者强，则国强。奉法者弱，则国弱。——《韩非子》 | ②    |

(1) 依据材料一并结合所学，将表格中的①②处补充完整。(2分) 指出这些主张的积极意义。(1分)



## 材料二

### 洋务运动大事记（部分）

- 1862年，洋务派兴办第一所新式学校——京师同文馆
- | 19世纪60年代起，洋务派创办了江南机器制造总局、福州船政局等一批近代军事工业 |
- 19世纪70年代起，洋务派开办了轮船招商局、汉阳铁厂等一批近代民用企业
- | 19世纪80年代，洋务派筹建了南洋、北洋和福建等近代海军 |

### A 大事记（部分）

- 1868年，倒幕派推翻了幕府统治，改年号为“明治”
- | 19世纪70年代起，日本建立了富冈纺纱厂、三菱造船厂、九州铁路公司等一批近代化企业；| 建立新式学校，普及义务教育；改用西洋历等
- | 1873年，日本颁布《征兵令》，之后建立起新式海陆军 |
- 1889年，日本颁布《大日本帝国宪法》确立近代君主立宪制的天皇制度

- (2) 依据材料二并结合所学，填写A处历史事件的名称，（1分）说明两个历史事件的异同。（2分）

## 材料三 以下是我国关于现行宪法四次修正案的部分内容概述


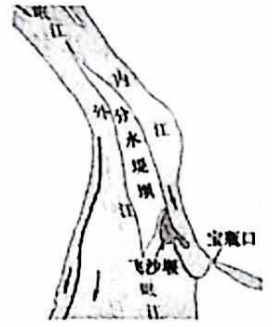

- 1988年 ● 国家允许私营经济在法律规定的范围内存在和发展；土地使用权可以依照法律转让。
- 1993年 ● 把家庭联产承包责任制作为农村集体经济组织的基本形式确定下来；国家实行社会主义市场经济。
- 1999年 ● 国家实行依法治国，建设社会主义法治国家。
- 2004年 ● 公民的合法的私有财产不受侵犯，国家依照法律规定保护公民的私有财产权和继承权；规定国家尊重和保障人权。

- (3) 依据材料三，指出这四次宪法修改的背景，（1分）并分析宪法修改的意义。（2分）



22. (10分)/工程建设与社会发展

材料一

| ①   | ②   | ③  |
|---|---|--|
|  |  |  |
| <p>长城沿线设有卫所，驻守军队，开展屯田，进行生产。同时还设有茶马互市，与蒙古、女真各族进行贸易活动</p>                           | <p>都江堰修建在成都附近的岷江上，是一座综合性水利工程</p>  | <p>大运河是在已有的天然河道和古运河基础上开凿的，是世界上里程最长、工程最大的古代运河</p>                                   |

(1) 将材料一中的三个工程按建成的历史时期排序。(2分。写序号) 任选一项工程，说明其作用。(2分)

材料二 19世纪60年代，美国进入“铁路时代”，先后成功地铺设了五条横贯北美大陆的铁路。内战后百废待兴，美国政府为了增加就业，改善经济，通过赠送土地、减免税收等措施，大力推动了铁路的发展。这一时期各项技术发明纷纷问世，钢轨取代铁轨提高了路轨的耐久性和载重量，空气制动阀和连续信号系统等一系列新技术的使用，提高了铁路运行的安全系数。

——摘编自张敏《美国横贯大陆铁路的铺设及影响》

(2) 依据材料二并结合所学，分析这一时期美国铁路大发展的原因。(2分)

材料三 20世纪50年代初期，我国西部地区经济落后。第一个五年计划期间，正式启动了新中国成立后的第一次西部建设。苏联资助的“156项工程”中安排了40个项目在内蒙古包头、新疆克拉玛依、宁夏、云南等多个少数民族集中地区，涉及的工业有钢铁、机械、电力、油田等。与此同时为了发挥这些工业企业的最大效益，配套修建了宝成、兰新铁路和康藏、青藏公路。

——摘编自胡小舰《新中国成立后西部建设历史进程及其经验研究》

(3) 依据材料三，概括我国第一次西部建设的特点。(2分) 结合所学，分析我国第一次西部建设的影响。(2分)



23. (10分) 休闲文化是社会文化活动的重要组成部分。

材料一 宋词是宋代士大夫文人与市井人家共享的娱乐性文艺。宋代文人能够在优越和悠闲的环境中进行创作。据统计,宋词可考词人中有50%是参加科举考试取得进士的。随着瓦子勾栏的发展,宋词借助乐舞在这些场所广泛传播。作为新兴的最能代表其时代特质的文体,宋词刻本热销市场。书贾们为了营利,抓住一切机会,源源不断地收购词集、印刷出版。

——摘编自谢珊珊《休闲文化与唐宋词》等

(1) 依据材料一,分析宋词兴盛的背景。(3分)

材料二 14、15世纪以后,意大利的人们越来越注重居家的消遣环境,力求房间装饰舒适、高雅和多样。早期的家具造型装饰以神话、宗教等为主,后来古希腊、古罗马的细致雕刻装饰形式更多地运用到家具上。为彰显身份与地位,名门望族和新兴商人雇佣艺术家创作油画装饰居所,古代贤哲、贵族商人等各种人物走进了画面,甚至宗教题材人物,也被描绘出了人的气息和情感。

——摘编自马善程《论晚期中世纪室内装饰画表现要素的嬗变》等

(2) 依据材料二,概括14、15世纪意大利室内装饰的变化。(2分)结合所学,指出推动这一变化的因素。(2分)

(3) 研学活动是一种将探究学习与旅游休闲合二为一的新兴游学形式。某学校开展了“重走红色线路,传承革命文化”的研学活动。请你为以下任意一条线路推荐一个研学城市,并撰写推荐语。推荐语包括与该研学线路相关的历史事件及其历史意义。(3分)

- ① “中共一大”研学线路
- ② “红军长征”研学线路
- ③ “解放战争”研学线路
- ④ “抗日战争”研学线路

24. (11分) 食物背后的历史。

材料一 随着英国工业革命的发展,生活节奏的加快,大规模、流水线生产的食品工厂建立起来,脱水食品、罐头食品、冷冻食品等工业化产品成为烹饪的重要组成部分。19世纪六七十年代,自发面粉、瓶装果冻粉等产品进入家庭,简化了烹饪程序,家庭主妇花更少的时间和金钱,能做出堪比大厨的甜点。19世纪下半叶,逐渐完善的铁路交通连接本就发达的海运,澳大利亚牛肉、中国茶叶、美国小麦甚至热带水果,涌入了寻常人家。

——摘编自徐文婷《英国维多利亚时代饮食文化发展态势研究》等

(1) 依据材料一,概括工业革命后英国饮食方面的特点。(2分)



材料二 下表是关于中国农业发展的部分史实

| 序号 | 时期          | 史实  |
|----|-------------|---|
| ①  | 距今约 7000 年  | 浙江余姚河姆渡人种植水稻，使用骨耜等工具                                      |
| ②  | 距今约 6000 年  | 陕西西安半坡居民使用骨器、角器开垦土地，种植粟                                   |
| ③  | 西汉          | <u>    A    </u> ，核桃、葡萄、石榴等逐渐传入中原                         |
| ④  | 东汉          | 渔阳太守张堪在今北京顺义一带引种南方水稻，鼓励百姓种植                               |
| ⑤  | 北朝          | 贾思勰任太守时，亲自参与耕作，广泛收集前人文献，强调改进生产技术和工具，撰写了《齐民要术》一书           |
| ⑥  | 唐朝          | 江南地区劳动人民在长期生产实践中创造出曲辕犁，政府还征发江南工匠造水车并加以推广                  |
| ⑦  | 明朝末年        | 徐光启编写 <u>    B    </u> ，全面总结了我国古代农业生产经验、技术革新和他关于农学的创新研究成果 |
| ⑧  | 清朝前期        | 政府推广原产于美洲的玉米、甘薯等高产作物，改进种植技术，改良新品种                         |
| ⑨  | 抗日战争时期      | 中国共产党在根据地实行“地主减租减息、农民交租交息”的土地政策，开展大生产运动                   |
| ⑩  | 解放战争时期      | 中国共产党颁布 <u>    C    </u> ，在解放区废除封建剥削土地制度，实行耕者有其田的土地政策     |
| ⑪  | 20 世纪 70 年代 | 袁隆平经过反复试验，成功培育出籼型杂交水稻，比常规水稻增产 20% 左右                      |

(2) 选取以下合适内容分别填写到 A、B、C 处。(3 分。多选、错选不得分)

《农政全书》；《中国土地法大纲》；张骞通西域；玄奘西行

(3) 选择材料二中至少两项相关内容，结合所学自定一个观点，并加以说明。

(6 分。要求：观点正确，史论结合，条理清楚)