

2018 北京昌平区初三（上）期末 历史



2018. 1

考 生 须 知	<ol style="list-style-type: none"> 1. 本试卷共 10 页，二道大题，34 个小题，满分 90 分。考试时间 90 分钟。 2. 请在试卷上准确填写学校名称、姓名和考试编号。 3. 试题答案一律填涂或书写在答题卡上，在试卷上作答无效。 4. 在答题卡上，选择题、作图题用 2B 铅笔作答，其他试题用黑色字迹签字笔作答。 5. 考试结束后，请交回答题卡、试卷和草稿纸。
----------------------------	--

一、单项选择题（每小题 1.5 分，共 45 分）

1. 某同学计划前往某国参加游学活动，该国文明发源于尼罗河畔。他需要准备哪种货币？



A



B



C



D

2. 假如你乘上“时光穿梭机”，来到了伯里克利时期的雅典城邦，你将能够看到

- A. 雅典女子在公民大会上发言，竞选执政官
- B. 外邦奴隶依据陶片放逐法，放逐危害城邦的人
- C. 雅典男孩从 7 岁起就过集体生活，受严格的军事训练
- D. 雅典公民通过抽签成为国家机关的公职人员

3. 有史学家说：“_____不是罗马一城的历史，也不是意大利的历史，而是当时地中海地区史。”横线处应填入

- A. 罗马城邦
- B. 罗马共和国
- C. 罗马帝国
- D. 西罗马帝国

4. 谚语为历史研究提供了珍贵的资料。下列谚语中，能较好地反映欧洲封建制度的是

- A. “以眼还眼”“以牙还牙”
- B. “条条大路通罗马”
- C. “我的附庸的附庸，不是我的附庸”
- D. “罗马不是一日建成的”

5. 下列历史事件发生的先后顺序是

- ①穆罕默德兵临麦加城下
 - ②穆罕默德病逝
 - ③穆罕默德带领信徒出走麦地那
 - ④穆罕默德创立了伊斯兰教
- A. ④③①② B. ④③②① C. ③①④② D. ①②③④

6. 公元前 4 世纪，大败希腊联军，扫荡了小亚细亚，攻入埃及、两河流域，灭掉波斯，远驰印度，定都于巴比伦，并把自己的名字永久留在埃及的人是

- A. 凯撒
- B. 屋大维
- C. 亚历山大大帝
- D. 查理大帝

7. 《全球通史》中提到：“6 世纪起，中国文明大规模传入日本……那些游历‘天朝’的日本人，作为热情的皈依者，回国后所起的作用更为重大。”这里的“作用重大”指的是

- ①建立了君主立宪制度
- ②建立中央集权的天皇制度
- ③促使日本由封建社会进入资本主义社会
- ④促使日本由奴隶社会进入封建社会



- A. ①② B. ②③ C. ①③ D. ②④

8. 公元 8 世纪，中国的造纸术、印度的数字均由某帝国传播到欧洲，该帝国是
A. 波斯帝国 B. 罗马帝国 C. 法兰克王国 D. 阿拉伯帝国

9. 某同学对欧洲大学的起源非常感兴趣，他整理了如下资料卡片：

校名：巴黎大学
建立时间：12 世纪中期
发展：由原巴黎圣母院大教堂学校发展而来，主要研习神学。1198 年教皇西勒士丁三世赐给巴黎大学许多特权。1231 年，罗马教皇以谕令肯定该大学的自决权。

校名：牛津大学
建立时间：11 世纪晚期
发展：牛津大学以“主为我的明灯”为校训。早在 11 世纪末 12 世纪初，牛津就已经成为一个培养牧师、探讨学问的中心。校园内的圣玛丽教堂已经有近千年历史。

资料反映了

- A. 基督教会占有大量土地 B. 基督教影响中世纪文化教育
C. 教皇权力凌驾于国王之上 D. 中世纪大学脱离教会控制

10. 中古西欧城市的兴起，不仅表现为经济上的繁荣，更重要的是政治权利的获得。这里的“政治权利”是指
A. 土地所有权 B. 投票选举权 C. 城市自治权 D. 自由贸易权

11. 拜占庭帝国陶醉于已有的辉煌成就，无视西欧城市出现后悄然兴起的文明新因素，更不屑于学习和吸纳其他文明的优点和长处……最后，盛极一时的拜占庭帝国湮灭于_____的扩张之中。

- A. 波斯帝国 B. 亚历山大帝国 C. 法兰克王国 D. 奥斯曼土耳其

12. 某同学希望了解古代希腊文化，你为他推荐的书籍是




①



②



③



④

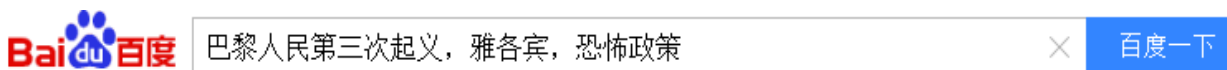
- A. ①② B. ②③ C. ①③ D. ②④

13. 右图是某部法律文献内容的摘录。据此判断，该部法律文献是

- A. 《民法典》 B. 《独立宣言》
C. 《人权宣言》 D. 《权利法案》

凡未经议会同意，以国王权威停止法律或停止法律实施之僭越权力，为非法权利。

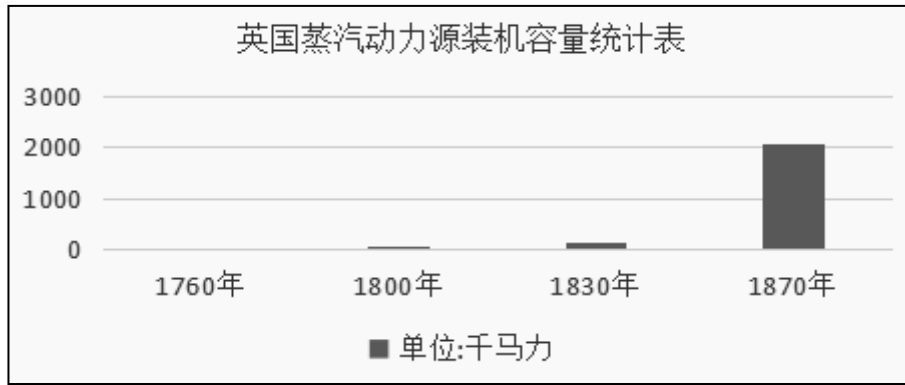
14. 某同学利用网络进行自主学习，他在搜索引擎输入如下关键词：



最有可能出现的历史人物是

- A. 查理一世 B. 罗伯斯庇尔 C. 伊达尔戈 D. 卢维杜尔

15. 观察《英国蒸汽动力源装机容量统计表》变化趋势



导致这一变化的最主要原因是

- A. 新航路开辟 B. 英国资产阶级革命 C. 工业革命 D. 第二次工业革命

16. 《剑桥欧洲经济史》写道：“机器都在执行着一种新的规律，纺工不再像过去那样在家里无拘无束地摇车纺纱了，织工也不能像过去那样在家里自由自在地投梭织布了。现在，他们必须在工厂中按照没有生命疲倦的机器设备所确定的速度工作。”材料反映了

- A. 工业化带来了严重的环境污染 B. 工业革命改变了生产方式
C. 工业化改变了传统家庭结构 D. 工业革命提高了人们的生活水平

17. 某校的“历史名人墙”上有一位历史人物的简介（如右图）。

这位人物是

- A. 罗伯斯庇尔
B. 卡尔·本茨
C. 卡尔·马克思
D. 欧仁·鲍狄埃

_____简介

德国人，他在中学毕业考试的作文中写道：
如果我们选择了最能为人类福利而劳动的职业，
我们就不会为它的负担所压倒……

1848年，他和恩格斯起草的《共产党宣言》
发表。从此，国际工人运动有了科学理论的指导。

18. “工人革命的第一步就是使无产阶级上升为统治阶级，争取民主。”对这一理论观点进行第一次伟大尝试的是

- A. 宪章运动 B. 光荣革命 C. 巴黎公社 D. 印度民族大起义


19. 林肯在信中写道：“50,000名武装且受训的黑人士兵出现在密西西比河岸上，将能够立刻终结叛乱。”这封信写于

- A. 大陆军反抗英国殖民统治时期 B. 林肯竞选总统时期
C. 南方叛军挑起内战初期 D. 《解放黑人奴隶宣言》签署后

20. 《日本帝国的兴亡》一书中指出：“（明治）政府投资兵库造船所 81 万日元，出售价格 18 万元；政府投资釜石铁矿 237 万元，出售价格仅 1 万多元。”明治政府这么做的原因是


- A. 发展资本主义工商业 B. 严重赤字，被迫低价抛售
C. 大力发展教育 D. 发展军备，积极备战

21. 依靠强大的科技实力，美国在 19 世纪末 20 世纪初迅速赶上并超过在过去两个世纪里一直走在前面的欧洲强国。这一时期美国的科技成就包括



- A. ①② B. ③④ C. ①③ D. ②④

22. 下图体现哪一科学理论



- A. 相对论 B. 神创论 C. 万有引力定律 D. 生物进化论

23. 1929-1933 年，许多国家都生了一场“大病”。结合所学知识判断，下列说法不正确的是

- A. 1929 年首先发病的是美国，随后病毒迅速蔓延到整个资本主义世界
 B. 面对“病人”美国，“主治医生”罗斯福开出的药方是“新政”
 C. “新政”的药方，彻底治愈了美国的病症，类似病症在美国不再复发
 D. 面对“病人”德国，“医生”希特勒的“药方”是建立独裁统治，对外侵略扩张

24. 历史漫画往往能够生动地反映历史。右图漫画中形象地反映了苏台德地区被割占的情况，做出了这个决定的会议是

- A. 华盛顿会议
 B. 慕尼黑会议
 C. 雅尔塔会议
 D. 万隆会议



25. 《马骏细解二战谜中谜》中写道：“（1940 年）5 月 24 日，古德里安上将集结好进攻用的坦克群，准备给英法联军最后一击，但是，中午 12 时 37 分，他突然接到了希特勒的命令：就地停止前进，撤回先头部队……48 小时的时间，让几十万英法联军有了绝好的逃生机会。”书中描述的历史事件是

- A. 闪击波兰 B. 敦刻尔克撤退 C. 不列颠战役 D. 诺曼底登陆

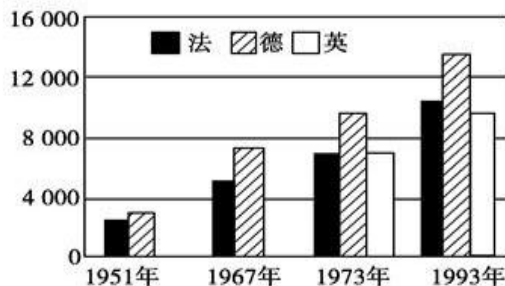
26. 右图是 1942 年的海报《绞死希特勒》，海报中的三只手代表着当时对德作战的三个主要国家，它们是

- A. 美国、英国、法国
 B. 英国、法国、苏联
 C. 美国、英国、苏联
 D. 美国、法国、苏联



27. 导致出现下图这种趋势的主要原因是

二战后欧洲主要国家 GDP 增长情况图（单位：亿美元）



- A. 经济全球化的发展 B. 马歇尔计划的扶持
 C. 战后世界秩序的和平稳定 D. 西欧实现政治经济一体化

28. 某班历史兴趣小组准备举办“二战后亚非拉国家的独立和振兴”历史图片展，下列图片中应该选用的是



委内瑞拉纸币上的玻利瓦尔

①



印度章西女王塑像

②



2010年《非洲独立50周年》纪念邮票

③



巴拿马运河主权交接仪式

④

A. ①②

B. ①③

C. ②③

D. ③④

29. 苹果手机背面的英文“Designed by Apple in California Assembled in China”翻译过来是“加利福尼亚（美国）苹果公司设计，在中国组装”。这反映了

- A. 世界经济区域化
- B. 世界政治多极化
- C. 世界经济全球化
- D. 世界文化多元化

30. 2017年11月8日，美国总统特朗普访华。中国国际问题研究院院长苏格说：“中美两国合作虽然不能解决世界上的所有问题，但对解决重大世界性问题必不可少。”这说明

- A. 解决世界面临的共同问题需要各国的合作
- B. 美国与中国合作对解决当今世界重大问题成效不大
- C. 政治多极化趋势不利于解决当今世界的重大问题
- D. 经济全球化必然会导致中美关系恶化

二、非选择题（共45分）

31. 法国人有句谚语：没有参观过凡尔赛宫，就不算真正到过法国。凡尔赛宫就像一部活生生的历史教科书，见证了法国历史的变迁。下面让我们走进凡尔赛宫，感受其中浓浓的历史气息。（共17分）

场景一：凡尔赛花园中的雕像

走进凡尔赛宫大门，我们来到了一座美丽的花园，花园中最引人注目的，就是那些精美绝伦的雕塑作品（图一），这些雕塑是18世纪初凡尔赛宫建成之时，受到欧洲某思想文化运动影响而出现的。

（1）这种崇尚古希腊罗马的美学观，强调人体之美的思想文化运动指的是什么？它的思想核心是什么？请写出一位该运动的代表人物及其作品。（4分）



图一

场景二：凡尔赛宫中的画像

走入凡尔赛宫，在大厅的墙壁上挂着这样一幅画像（图二）。他曾经是凡尔赛宫第三位主人——法国的国王。在他的日记中写道：“14日，星期二，无事。”这是他对1789年7月14日的描述。但是，第二天早晨他发现宫内大臣们一片慌乱。他困惑地问：“怎么，造反啦？”大臣却回答说：“不，陛下，是一场革命。”

（2）这位国王是谁？他经历的“一场革命”是指什么革命？这场革命开始的标志是什么？（3分）



图二

二

场景三：一把有“N”字的椅子

来到凡尔赛宫的国王大厅，我们看到了法兰西第一帝国皇帝加冕的油画，在油画前边摆放着一把装饰华丽的座椅（图三），据说这是油画中皇帝的座椅，椅子上的“N”字是其典型标志。

同行的小伙伴说：“这位皇帝就是克伦威尔，他带领法国人民镇压了王党叛乱，打退了反法联军的入侵，并加冕称帝。他颁布的《人权宣言》成为了欧洲其他国家制定相应法律的蓝本。他一生取得了无数辉煌的战绩，最终却在1812年入侵英国的战争中惨败，帝国由极盛走向毁灭。”



图三


（3）这位小伙伴的介绍词中，有3处错误，请帮助他改正过来。（3分）

改正1 _____

改正2 _____

改正3 _____

场景四：凡尔赛宫最奢华的大厅——镜厅（图四）



图四



图五

材料一 在镜厅签署了影响世界的文件

会议签署的文件规定：

阿尔萨斯和洛林归还法国；

莱茵河东岸50千米以内，德国不能设防；

禁止德国实行普遍义务兵役制，陆军总数不得超过10万人；

德国的全部海外殖民地由一些主要战胜国瓜分；

德国须对协约国支付大量赔款。

材料二 法国元帅福煦在看到上述文件后说：“这不是和平，这是 20 年的休战！”

(4) 20 世纪初在这座大厅中，曾经召开了一次规模空前的国际会议（图五），请你结合所学知识介绍一下这次会议的情况。（要求写出会议具体时间，会议名称，主导会议的国家，会议签署的文件名称。）（4 分）

(5) 根据材料一、二并结合所学知识回答：20 年后的战争是指什么？请你说说为什么福煦元帅会认为 20 年后会爆发新的战争？（3 分）

32. 阅读材料，完成下列要求。（共 8 分）

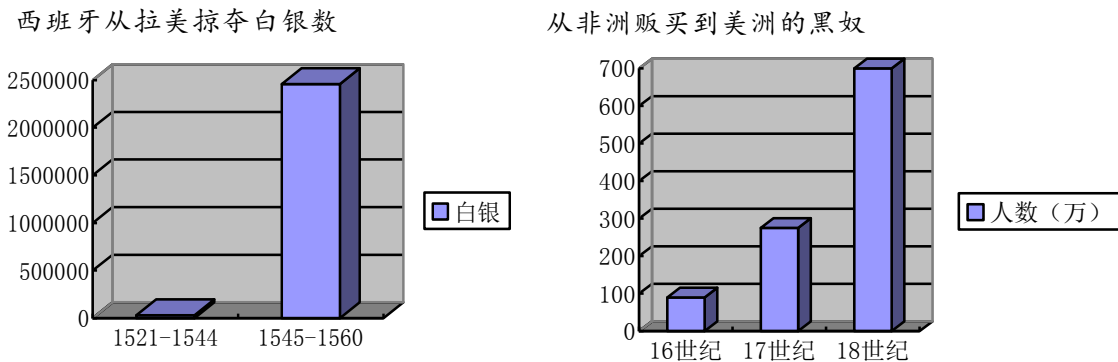
材料一 新航路的开辟

时间	航海家	到达地点
1487 年	迪亚士	到达非洲最南端的好望角
1492 年	哥伦布	
1497 年	达·伽马	横渡印度洋，到达印度
1519 年		客死菲律宾；其船队完成环球航行

(1) 请结合所学，将材料一中的表格补充完整（2 分）。

材料二 16 世纪以后，世界商业贸易中心由地中海转移到大西洋，曾经位于文明边缘的民族，突然发现自己处于世界文明变化的中心，因而更加发奋图强。

材料三



(2) 根据材料二、三，分析新航路开辟带来了哪些影响。（3 分）

材料四 从 17 世纪初开始，英国先后在北美东海岸建立起 13 个殖民地。此后，越来越多的欧洲人来到北美，北美殖民地发展起来。然而英国殖民当局却竭力遏制殖民地经济的自由发展，压迫当地人民。一声枪响揭开了美国独立战争的序幕，一位领袖领导大陆军与英军展开了艰苦卓绝的战斗，一纸宣言向世界宣告了美国的诞生。

(3) 材料四中的“一声枪响”“一位领袖”“一纸宣言”分别指的是什么？（3 分）

33. 大国兴衰是历史研究的一个经久不衰的课题。20 世纪苏俄（苏联）一直是历史舞台的主角。它独具特色的发展道路启迪着我们的今天，也影响着我们的未来。（共 10 分）

材料一



图一 “阿芙乐尔”号巡洋舰



图二 攻占冬宫



(1) 材料一的两幅图反映了哪一历史事件？它的领导者是谁？这一事件之后，在俄国建立了一个什么性质的政权？（3分）

材料二 1920年，战火平息后，农民开始不满战时共产主义政策，暴动时有发生。因此，苏俄实行了更灵活的政策代替战时共产主义政策。包括：

1. 废除余粮收集政策，实施粮食税。
2. 停止配给制度，允许商品买卖。
3. 放松贸易限制。
4. 在一定范围内允许个体私营经济的存在。

(2) 材料二中“更灵活的政策”指的是什么？该政策取得了什么效果？（3分）

材料三 1928-1937年苏联工业总产值及重要工业产品在欧洲和世界所占的地位

	1928年	1937年	
	世界	世界	欧洲
工业总产值	5	2	1
机械制造业	4	2	1
电力	10	3	2
煤	6	4	3
钢	5	3	3

(3) 观察上表，结合所学，说明1928-1937年苏联取得工业化成就的主要原因。（2分）

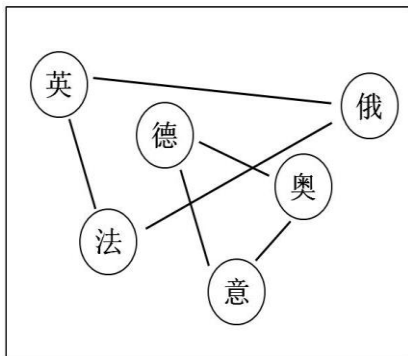
材料四 当苏联政府每年国民收入的三分之一用作再投资时，这也就意味着低工资和消费品短缺。一个苏联工人的反应很典型：“他们假装给我们工资，于是我们也假装在工作。”

——《全球通史》

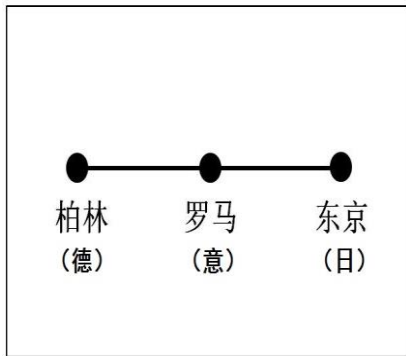
(4) 结合材料四和所学知识，指出苏联在取得工业化成就的同时，存在哪些问题？（2分）

34. 以下材料反映了不同时期的世界形势。观察下列材料，回答问题。（共 10 分）

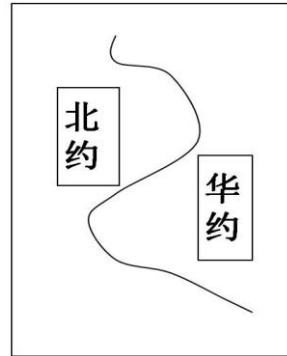
材料一




材料二



材料三



- (1) 材料一反映的是哪场战争前剑拔弩张的气氛？（1分）
- (2) 材料二反映了哪一反动势力的猖獗？请以其中一国为例，结合具体史实，列举其残暴行径的表现。（2分）
- (3) 材料三反映了哪一时期的世界形势？这种对峙局面结束的标志是什么？（2分）
- (4) 这三则材料反映出影响世界和平的重要因素是什么？（2分）
- (5) 参考三则材料并结合所学知识绘制一张当今世界格局的示意图。（3分）
(设计要求：主题突出，图文表达清晰，所含信息完整。)



历史试题答案



一、单项选择题（共 45 分）

01. A 02. D 03. C 04. C 05. A 06. C 07. D 08. D 09. B 10. C
11. D 12. B 13. D 14. B 15. C 16. B 17. C 18. C 19. D 20. A
21. B 22. D 23. C 24. B 25. B 26. C 27. D 28. D 29. C 30. A

二、非选择题（共 45 分）

31.（共 17 分）

（1）（共 4 分）

文艺复兴。（1 分）

人文主义/反对以神为中心，主张以人为中心。（1 分）

（2 分）【代表人物和作品举一例即可】

但丁，《神曲》

达芬奇，《蒙娜丽莎》/《最后的晚餐》

莎士比亚，《哈姆雷特》/《罗密欧与朱丽叶》/《威尼斯商人》等

（2）（共 3 分）

路易十六。（1 分）

法国大革命。（1 分）

巴黎人民攻占巴士底狱。（1 分）

（3）（共 3 分）

这位皇帝是拿破仑。（1 分）

他颁布的《拿破仑法典》/《法国民法典》。（1 分）

入侵俄国。（1 分）

（4）（共 4 分）

1919 年（1 分）

召开巴黎和会（1 分）

会议由英、法、美主导（1 分）

会议签署了《凡尔赛和约》（1 分）

（5）（共 3 分）

第二次世界大战（1 分）

没有消除帝国主义之间的矛盾。压迫必然激起德国人民的愤怒。（言之有理即可 2 分）

32.（共 8 分）

（1）（共 2 分）

到达美洲/发现“新大陆”。（1 分）麦哲伦（1 分）

（2）（共 3 分）

世界商贸中心转移到大西洋/地中海贸易衰落。（1 分）

英、西、葡崛起/促进欧洲经济发展（1 分）

给非洲/亚非拉地区带来灾难（1 分）

（3）（共 3 分）

来克星顿的枪声（1 分）华盛顿（1 分）《独立宣言》（1 分）

33.（共 10 分）

（1）（共 3 分）

十月革命（1 分）列宁（1 分）社会主义（1 分）

(2) (共 3 分)

新经济政策 (1 分)

效果: 农民生产性提高。

国家经济恢复。

社会稳定。

人民生活改善。

【每条 1 分, 任写两条即可 2 分】

(3) (每条 1 分, 写出 2 条即可得 2 分)

两个五年计划/优先发展重工业/高度集中的计划经济体制/斯大林模式

(4) (每条 1 分, 写出 2 条即可得 2 分)

农、轻、重比例不平衡。

无视工人生活水平/工人积极性下降。

忽视经济发展规律。

高度集中的计划经济体制。



34. (共 10 分)

(1) 第一次世界大战 (1 分)

(2) (共 2 分)

法西斯 (1 分)

举例: 德国, 屠杀犹太人。

意大利, 入侵埃塞俄比亚。

日本, 南京大屠杀/731 部队。

【任举 1 例即可 1 分】

(3) (每条 1 分, 共 2 分)

冷战/美苏争霸/两极格局 (1 分) 苏联解体 (1 分)

(4) (答出一条即可得 2 分)

大国结盟; 结成军事集团; 瓜分世界; 争夺世界霸权等

(5) 示意图:

美国 (1 分)

中国、欧盟、日本、俄罗斯 (写出其中 3 个, 1 分)

示意图能表现出“一超多强”的国际格局 (1 分)

例:

