

2022 北京北师大附中初一（下）期中

历史



一、单项选择（本大题共 25 小题，每小题 2 分，共 50 分）

1. 589 年，结束了长期分裂的局面，使我国南北再次实现统一的朝代是

- A. 秦朝
- B. 隋朝
- C. 唐朝
- D. 元朝

2. “在唐之民，不胜其利也……北通涿郡之渔商，南运江都之转输，其为利也博哉！”据此，大运河在唐朝发挥的作用有

- ①沟通了南北的交通
- ②促进南北经济交流
- ③加强对全国的统治
- ④推动造船业的发展

- A. ①②
- B. ①③
- C. ②④
- D. ③④

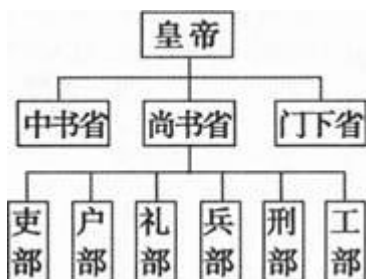
3. 某班历史小组对隋朝的历史进行研究后，针对隋朝灭亡的原因进行总结。下列结论中恰当的一项是（ ）

- A. 大运河的开凿
- B. 农民起义的爆发
- C. 隋炀帝的暴政
- D. 灾荒连年

4. 开元年间唐朝进入全盛时期，史称“开元盛世”。当时执政的皇帝是（ ）

- A. 唐太宗
- B. 唐高宗
- C. 武则天
- D. 唐玄宗

5. 某同学利用下侧的行政系统框图进行研究性学习。据此判断，他研究的主题是（ ）



- A. 唐朝创新科举制
- B. 唐朝强化监察制度
- C. 唐朝完善中央官制
- D. 唐朝加强地方管理

6. 发明和推广先进的生产工具能促进经济的发展。下图是唐朝的曲辕犁和筒车，它们分别用于



- A. 耕作, 灌溉
- B. 耕作, 纺织
- C. 运输, 冶铁
- D. 运输, 灌溉

7. 某校学生研究唐朝历史, 内容涉及: 繁荣的经济、和睦的民族关系、多彩的文学艺术、开放的社会风气等。他们研究的主题是

- A. 民族交融
- B. 经济繁荣
- C. 文化昌盛
- D. 盛唐气象

8. 唐朝政府实行开放 对外政策, 当时先进的经济文化有巨大的吸引力, 中外交往出现了空前盛况的局面。

其中, 从贞观年间开始的 200 多年内, 先后十多次派出遣唐使, 使团庞大, 居各国之首的国家是 ()

- A. 大食
- B. 天竺
- C. 日本
- D. 新罗

9. 唐朝由盛转衰的标志性历史事件是 ()

- A. 开元盛世
- B. 黄巢起义
- C. 藩镇割据
- D. 安史之乱

10. 下列表格所深刻反映的历史现象是 ()

政权	开国君主	即位前的官职
后梁	朱温	宣武节度使
后唐	李克用	行营节度使
后晋	石敬瑭	河东节度使
后汉	刘知远	河东节度使

- A. 唐朝后期藩镇割据的延续
- B. 中国正在走向统一
- C. 五代时期国家陷于四分五裂
- D. 原有朝代再次复兴

11. 下列与“陈桥兵变, 黄袍加身”的历史故事相关的人物是

- A. 李渊
- B. 赵匡胤
- C. 朱元璋
- D. 皇太极

12. 京剧《澶渊之盟》是一出历史剧, 其中歌词“将舟船暂驻中流, 寡人要一观黄河夜景”中的“寡人”是指历史上的哪位皇帝 ()

- A. 宋太宗
- B. 宋真宗
- C. 宋高宗
- D. 宋太祖

13. 郭靖与杨康是金庸先生脍炙人口的小说《射雕英雄传》中的两个重要人物。请分析他们名字中的



“靖”、“康”与下列哪一历史事件有直接联系？

- A. 西夏的建立
- B. 澶渊之盟
- C. 金灭北宋
- D. 元朝建立

14. 《宋史》记载：“国家根本，仰给东南”，民间谚语称“苏湖熟，天下足”。两者共同反映了

- A. 政治中心的东移
- B. 商业的繁荣兴旺
- C. 社会生活的丰富
- D. 经济重心的南移

15. 学生们进行研究性学习时搜集了以下论文。由此可知，他们研究的主题是

- ①《泉州湾宋代海船发掘与研究》
- ②《宋代瓷器五大名窑艺术审美研究》
- ③《略论宋代茶叶的生产与流通》
- ④《宋代农作物品种发展研究》

- A. 精巧的手工艺
- B. 繁荣的宋代经济
- C. 繁盛的商品贸易
- D. 发达的农业生产

16. 世界上最早的纸币出现在

- A. 隋朝
- B. 北宋
- C. 南宋
- D. 元朝

17. 斯塔夫里阿诺斯说：“由于蒙古帝国的兴起，陆上贸易发生了一场大变革。历史上第一次也是唯一一次，一个政权横跨欧亚大陆，从波罗的海到太平洋，从西伯利亚到波斯湾。”开创蒙古帝国基业的是

- A. 秦始皇
- B. 汉武帝
- C. 忽必烈
- D. 铁木真

18. 我国历史上第一个由少数民族贵族为主建立的全国性的统一王朝是（ ）

- A. 秦朝
- B. 隋朝
- C. 西夏
- D. 元朝

19. 位于北京府学胡同的文天祥祠，曾是元朝囚禁文天祥的土牢。文天祥的名句是



- A. 冲天香阵透长安，满城尽带黄金甲
- B. 人生自古谁无死，留取丹心照汗青
- C. 三十功名尘与土，八千里路云和月
- D. 封侯非我意，但愿海波平

20. 元朝人汪大渊的《岛夷志略》中说：“至元间，立巡检司。”这里的巡检司，在当时主要管理的是（ ）

- A. 西藏地区
- B. 澎湖和琉球
- C. 辽东半岛
- D. 新疆地区

21. 《三字经》：“嬴秦氏，始兼并……迨至隋，一土宇……元灭金，绝宋世。”材料所反映的从长期分裂



走向统一的朝代有（ ）

- A. 秦隋宋
- B. 秦隋元
- C. 秦元明
- D. 隋元明

22. 店铺林立，买卖昼夜不绝。瓦舍勾栏，终日喧嚣不已。这种热闹的城市生活场景最有可能出现在（ ）

- A. 南朝
- B. 隋朝
- C. 唐朝
- D. 宋朝

23. “元旦那天，盛行燃放鞭炮，穿新衣，往来拜年……”这是宋代人在过哪一节日



- A. 清明
- B. 中秋节
- C. 春节
- D. 元宵节

24. 沈括在《梦溪笔谈》中写道：“若止印二三张，未为简易；若印数十百千本，则极为神速。”这主要得益于（ ）

- A. 雕版印刷术的推广
- B. 活字印刷术的发明
- C. 造纸术的改进
- D. 书籍销售的扩大

25. 小夏在查阅宋代航海的史书中看到这样的记载：“舟师识地理，夜则观星，昼则观日，阴晦则观□□□。”□□□为缺漏的内容，你判断这部分内容应是

- A. 象限仪
- B. 经纬仪
- C. 指南针
- D. 航海图

二、材料题（本大题共4道题，共计50分。第26题12分，第27题13分，第28题12分，第29题13分）

26. 制度创新，促进社会进步。

【选官制度】

材料一 《北宋前期科举次数与录取进士人数统计表》

时期	科举次数	录取进士人数	平均每榜录取进士人数
宋太祖	15	188	13
宋太宗	8	1487	186
宋真宗	12	1760	147
宋仁宗	13	4561	351

——摘编自李兵、刘海峰《科举：不只是考试》

(1) 根据材料一，写出表格中的数据所反映的趋势。

材料二 《神童诗》——（北宋）汪洙

朝为田舍郎，暮登天子堂；将相本无种，男儿当自强。学乃身之室，儒为席上珍；君看为宰相，必用



读书人。

科举制度在中国整整实行了一千三百年之久，从隋唐到宋元到明清，一直紧紧地伴随着中华文明史。科举的直接结果，是选拔出了十万名以上的进士，百万名以上的举人……就整体而言，却是中国历代官僚的基本队伍，其中包括着一大批极为出色的、有着高度文化素养的政治家和行政管理专家。没有他们，也就没有了中国历史中最重要的一些部位。

——余秋雨《山居笔记·十万进士》


中国学术思想之发展，先秦诸子而外，当以宋为最。……其所以然者，殆由人主之奖进；而奖进之工具，即科举也。

——邓嗣禹《中国考试制度史》

(2) 依据材料二，概括科举制的作用。

【中央集权】

材料三 中央政府架构的基本原则是中央对地方“如身使臂，如臂使指”。宋太祖为了加强对地方的控制，采取了一系列措施。有人将这些措施图示如下：



(3) 依据材料三和所学知识，说明宋太祖是如何加强中央对地方的控制的？

材料四 元朝变革地方行政制度，设立行省。行省官员常以“藩大臣”和封疆大吏自居，替中央镇守地方；凡行政号令和公文申禀，“不敢专决大政，咨（询）中书（省）而后行”。

——摘编自白寿彝总主编《中国通史》等

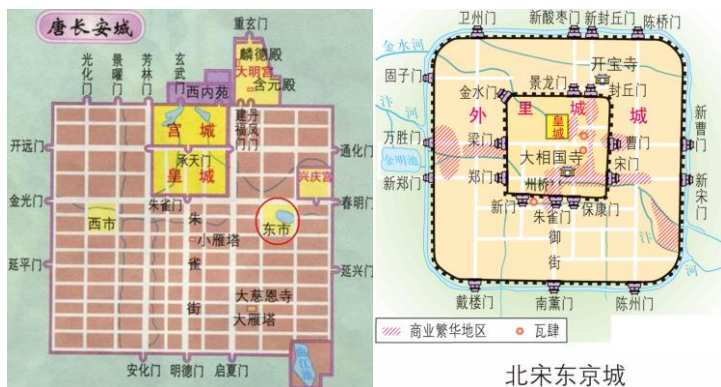
(4) 依据材料四，结合所学，评价元朝中央政权对地方的治理措施。概括从宋至元，中央对地方管理的发展趋势。

27. 城市与市民生活：繁荣、开放与多姿多彩

材料一 ①韩愈：“长安百万家，出门无所之。”②白居易：“百千家似围棋局，十二街如种菜畦。”③白居易：“胡麻饼样学京都，面脆油香新出炉。”

(1) 以上诗句描述了唐都长安的风貌，其中反映布局规整的是_____；反映人口众多的是_____；反映民族文化交融的是_____。（将以上诗句序号分别填写在横线上）

材料二



(2) 依据材料二，说出长安城和东京城商业活动的特点。

材料三 “宋代饮食文化蓬勃发展，形成了自己独有的特色。①据记载，当时汴京有大酒楼 72 家，宾朋满座，气势不凡，小型的饭馆酒家不计其数，多为特色经营。②特色饭馆中著名的有：王楼包子、曹婆婆肉饼、梅家鹅鸭、张家乳酪、万家馒头等等。③《武林旧事》一书在“果子”一项中介绍了玉屑糕、琥珀蜜等 42 种食品，在“菜蔬”一项中介绍了脂麻辣菜等 21 种，在“粥”一项介绍了七宝素粥、五味粥等 8 种。④“元宵”这种食品名称，据说出现于宋代，正月十五又叫“上元节”，上元之夜是新年中第一个十五月圆之夜，天上一轮圆月朗照，人间则聚食形如满月的元宵，表达了人们合家团圆幸福的心情。”

——摘编自侯彦喜《宋代饮食文化初探》

(3) 依据材料三，把符合下列主题的内容序号填写在对应横线上。

酒楼众多 _____


食品种类多种多样 _____

饮食 文化内涵丰富 _____

材料四 (南宋) 在人民日常生活方面，艺术、娱乐、制度、工艺技术各方面，中国是当时世界上首屈一指的国家，其自豪足以认为世界其他地区皆为“化外之邦”。

——(法) 谢和耐《南宋社会生活史》

材料五

<p>(瓦子) 奇术异能，歌舞百戏，鳞鳞相切，乐声嘈杂十数里。</p> <p>——(宋) 吴自牧《梦粱录》</p>	<p>《纸鸢》(风筝)</p> <p>弄假如真舞碧空，吹嘘全在一丝风。唯惭尺五天将近，犹在儿童掌握中。</p> <p>——(宋) 宋伯仁</p>	 <p>宋蹴鞠纹铜镜 (摹本)</p>
---	--	---

(4) 依据材料四、材料五概括宋代社会生活的特点。

28. 某校“民族关系”学习小组通过多种方式来研究唐朝以来与西藏地区关系的发展。

材料一 唐太宗说：“自古皆贵中华，贱夷狄，朕独爱之如一，故其种落皆依朕如父母。”

(1) 唐太宗的话体现了怎样的民族政策？结果如何？

材料二 首都博物馆的“天路文华——西藏历史文化展”备受瞩目。在第四单元“和同一家”展出了著名的历史画卷——唐代画家阎立本的作品《步辇图》。



(2) 结合所学，说明展品《步辇图》(上图)与展览单元主题“和同一家”的关系。(提示：可从文物反映的事件及其影响两个角度叙述)

材料三 元朝时“西藏正式成为中央直接管辖下的一个地方行政区域”。

(3) 为了论证这个观点，同学们搜集了以下资料。请将它们与各自佐证的结论进行连线。

资料	结论
《经世大典·站赤》：“乌思藏等除小站七所勿论，其大站二十八处。”	元朝设立了宣政院直接管理西藏。
《元史·百官志》：“宣政院，掌释教僧徒及吐蕃之境而隶治之。”	元朝 西藏建立起各级地方政府机构。
《汉藏史集》记载，纳里速古鲁孙和乌思藏四茹共有户口 36453 帐，其中纳里速和藏地为 15690 帐，乌思为 20763 帐。	元朝 西藏建立了驿站制度。
《萨加世系史》：“每二十五小户为一大户，每两个大户为一个马头。每两个马头为一个百户。每十个百户为一个千户。每十个千户为一个万户。每十个万户为一个路。每十个路为一个省。”	元朝对西藏户口进行了清查和统计。

29. 我国古代对外交往频繁，中外友好交往促进了人类社会的进步。

材料一



玄奘西行与鉴真东渡图



(1) 观察《玄奘西行与鉴真东渡图》，参照范例并结合所学，完成你对玄奘西行的简介。

【范例】唐朝高僧鉴真排除千难万险东渡日本弘扬佛法，传播中国的医药和书法等，为中日文化交流作出卓越贡献。

(2) 结合所学，比较玄奘西行和鉴真东渡的相同点和不同点。

材料二



(3) 判断材料二中地图反映的是哪个朝代的海外贸易状况？说明判断依据。依据材料，结合所学，分析这一时期海外贸易繁荣的原因。



参考答案

一、单项选择（本大题共 25 小题，每小题 2 分，共 50 分）

1. 【答案】B

【解析】

【详解】结合所学知识可知，581 年，北周外戚杨坚代周称帝，改国号为隋，年号开皇，定都长安。杨坚即是隋文帝。589 年，他派杨广率大军攻入建康灭陈，统一南北。隋的统一，结束了长期分裂的局面，顺应了统一多民族国家的历史发展大趋势。选项 B 符合题意；秦朝是公元前 221 年建立；618 年唐朝建立；1271 年元朝建立；因此选项 ACD 不符合题意，故选 B。

2. 【答案】A

【解析】

【详解】根据所学可知，“……唐……涿郡之渔商……江都之转输……利也博哉”，这是在说大运河的交通和经济交流，故①②符合题意，③④不符合题意。故 A 符合题意，BCD 均不符合题意。故选 A。

【点睛】题干以古文为切入点，考查唐代大运河的作用。抓住“……唐……涿郡之渔商……江都之转输……利也博哉”这些关键词即可。

3. 【答案】C

【解析】

【详解】根据所学可知，隋炀帝执政时，劳役、兵役、徭役多而沉重，这种暴政激起了农民的反抗，隋朝最终灭亡，C 项正确；大运河的开凿加重了人民的负担，农民起义的爆发是直接原因，灾荒连年激化的人民的反抗，排除 ABD 三项。故选 C 项。

4. 【答案】D

【解析】

【详解】根据所学可知唐玄宗统治前期，政治清明，开元年间唐朝进入全盛时期，史称“开元盛世”，D 项正确；唐太宗统治时期是贞观之治，排除 A 项；BC 项没有以“开元”为年号，排。故选 D 项。

5. 【答案】C

【解析】

【详解】根据材料的图表内容并结合所学可知，中书省、尚书省和门下省是三省，尚书省下设六部，改机构的职责主掌管中央政令和政策的制定、审核和贯彻执行，因此表现的是唐朝完善中央官制，C 项正确；示意图与科举制、监察制度和地方管理无关，排除 ABD 项。故选 C 项。

6. 【答案】A

【解析】

【详解】结合所学知识可知，唐朝改进的曲辕犁是耕作工具，唐朝农民发明的筒车是用于灌溉的工具。故 A 符合题意；筒车是灌溉工具，故 BC 不符合题意；曲辕犁是耕作工具，故 D 不符合题意。故选 A。

7. 【答案】D

【解析】



【详解】材料“繁荣的经济”体现了经济繁荣，“和睦的民族关系”体现了民族交融，“多彩的文学艺术”体现了文化昌盛，“开放的社会风气”体现了唐代的社会状况，这些均反映了历史上空前强大的唐帝国文治武功极盛的盛唐气象，故 D 符合题意；ABC 的描述并不全面，排除。故选 D。

8. 【答案】C

【解析】

【详解】试题分析：本题考查学生的识记能力。从贞观年间开始的 200 多年内，先后十多次派出遣唐使的国家是日本。故选 C。

9. 【答案】D

【解析】

【详解】根据所学可知 755—763 年安禄山和他的部将史思明发动的安史之乱，是唐朝由盛转衰的标志性历史事件，D 项正确；开元盛世是唐玄宗统治前期的政治清明时期，排除 A 项；黄巢起义给唐朝统治以致命打击，排除 B 项；藩镇割据是安史之乱后逐渐形成的局面，排除 C 项。故选 D 项。

10. 【答案】A

【解析】

【详解】根据材料并结合所学可知，唐朝安史之乱后，节度使势力逐渐扩大，不受中央节制，形成藩镇割据，国家处于四分五裂局面。中央与藩镇战争不断，藩镇间也连年攻占，割据局面延续到五代十国时期，后梁、后唐、后晋、后汉的开国君主在即位前的官职都是节度使，这说明五代时期国家仍处于四分五裂状态，故 A 项正确；“中国正在走向统一”与史实不符，故 B 项错误；“五代时期国家陷于四分五裂”的深层原因是唐朝后期藩镇割据的延续，故 C 项错误；“原有朝代再次复兴”说法错误，故 D 项错误。

11. 【答案】B

【解析】

【详解】依据所学知识可知，960 年，后周大将赵匡胤在陈桥驿发动兵变，黄袍加身，夺取后周政权，改国号为宋，定都开封，史称北宋，赵匡胤就是宋太祖。B 项符合题意；ACD 与题干历史故事不符，故此题选 B。

【点睛】解答此题需要了解“陈桥兵变，黄袍加身”的历史故事，认识赵匡胤坐上皇帝宝座的方式是发动兵变。

12. 【答案】B

【解析】

【详解】依据所学知识可知，北宋建立后，对辽用兵失败，只好采取防御政策。宋真宗时，辽军大举攻宋，一直打到黄河岸边的澶州城下，威胁东京，北宋朝廷一片恐慌，宰相寇准力劝皇帝亲征，宋真宗勉强来到澶州城。宋军士气大振，打退辽军。辽宋议和，辽朝撤兵，宋朝给辽岁币，史称澶渊之盟。因此歌词“将舟船暂驻中流，寡人要一观黄河夜景”中的“寡人”是指历史上宋真宗，故选 B。

13. 【答案】C

【解析】

【详解】依据所学可知，1127 年，金灭北宋，宋徽宗和宋钦宗被金军掳走，因宋钦宗 年号是靖康，史称



靖康之变。故“靖”、“康”与金灭北宋有直接联系，所以 C 项符合题意；A 项是党项族首领元昊在 1038 年建立，B 项是发生于 1004 年北宋与辽国之间，D 项是蒙古族忽必烈于 1271 年建立。由此分析 ABD 三项均不符合题意，排除，故选 C。

14. 【答案】D

【解析】

【详解】依据所学可知，从魏晋南北朝时期，江南的开发为经济重心的南移奠定基础，唐朝中期，经济重心开始南移，到南宋时期经济重心南移最后完成。材料中“仰给东南”说明国家财政依赖于江南。“苏湖熟，天下足”体现出南方经济发展对于国家重要性。材料反映的是经济重心的南移。故 D 符合题意；古代的政治中心依然在北方，排除 A；材料体现的是经济重心的南移不是商业的兴旺，也不是社会生活的丰富，排除 B 和 C。故选 D。

15. 【答案】B

【解析】

【详解】《泉州湾宋代海船发掘与研究》反映的是宋代的造船业和对外贸易，《宋代瓷器五大名窑艺术审美研究》反映的是宋代的制瓷业，《略论宋代茶叶的生产与流通》反映的是宋代的茶叶的发展，《宋代农作物品种发展研究》反映的是宋代农业经济的发展，因此体现的是繁荣的宋代经济，B 正确，ACD 排除。故选 B。

16. 【答案】B

【解析】

【详解】依据所学知识可知，交子是中国历史上最早出现的纸币，出现在北宋真宗景德年间的四川地区，当时的金、银等货币过于沉重，而四川的成都为繁华的商业性城市，货币的需求量因商业的发展而增加，于是 16 家经济势力雄厚的成都富商联合发行了交子，它主要免除了人们特别是商人肩挑车载铁钱到处奔波之苦，便利了商品的交换，B 项符合题意；隋朝时期没有纸币，A 项不符合题意；南宋时期和元朝时期不是最早出现纸币的朝代，CD 项不符合题意；故选 B。

【点睛】解题的关键是学生对历史知识的认识，“交子”的出现，便利了商业往来，弥补了现钱的不足，是我国货币史上的一大业绩。此外，“交子”作为我国乃至世界上发行最早的纸币，在印刷史、版画史上也占有重要的地位，对研究我国古代纸币印刷技术有着重要意义。

17. 【答案】D

【解析】

【详解】依据所学可知，铁木真完成蒙古统一大业，结束了蒙古草原长期混战的局面，1206 年，蒙古贵族在斡难河源召开大会，推举铁木真为蒙古族的最高首领，尊称为“成吉思汗”。开创蒙古帝国基业的是铁木真，故 D 符合题意；秦始皇、汉武帝、忽必烈与题干开创蒙古帝国基业无关，故 ABC 不合题意。故此题选 D。

18. 【答案】D

【解析】

【详解】结合所学知识可知，忽必烈继位之后，于 1271 年定国号为元，次年定都大都，忽必烈就是元世祖，



元朝是我国历史上第一个由少数民族贵族为主建立的全国性的统一王朝，ABC 不符合题意，所以答案选 D。

19. 【答案】B

【解析】

【详解】依据所学可知，1276 年，元灭南宋。抗战派大臣文天祥继续抗元，不久兵败被俘。宁死不屈，最后被杀，留下了“人生自古谁无死，留取丹心照汗青”的著名诗句，所以 B 项符合题意；A 项与黄巢有关，排除；C 项与岳飞有关，排除；D 项与戚继光有关，排除。故选 B。

20. 【答案】B

【解析】

【详解】结合所学知识可知，元朝设澎湖巡检司管辖澎湖和琉球，这是中央政权首次在台湾设置管辖今台湾地区的机构，B 项正确；元朝在中央设置宣政院管辖西藏地区，排除 A 项；元朝时设辽阳行省管理包括辽东半岛在内的东北地区，排除 C 项；元朝设被北庭都元帅府管理新疆地区，排除 D 项。故选 B 项。

21. 【答案】B

【解析】

【详解】试题分析：本题主要考查从长期分裂走向统一的朝代的相关史实，依据已学知识可知，公元前 221 年，秦灭六国，结束了春秋战国的分裂，完成统一。1279 年元朝统一全国，结束了辽宋夏金的分裂时期。581 年杨坚篡北周，建立隋朝，并于 589 年灭南朝陈，统一中国，长达四百年的魏晋南北朝时期结束，隋朝时期开始。宋没有统一全国，明朝材料没涉及到，因此 ACD 不符合题意。故选 B。

【考点定位】人教新课标七年级下册·经济重心的南移和民族关系的发展·蒙古的兴起和元朝的建立；人教新课标七年级下册·繁荣与开放的社会·繁盛一时的隋朝；人教版七年级上·统一国家的建立·秦王扫六合

22. 【答案】D

【解析】

【详解】随着市民阶层扩大，宋代东京城内有许多娱乐兼商业的场所叫做“瓦子”。瓦子里专供演出的圈子叫“勾栏”，故 D 项正确，ABC 不符合题意，排除，故选 D。

23. 【答案】C

【解析】

【详解】依据所学知识可知，今天的传统节日，像春节、元宵节、端午节、中秋节等在宋代都有了。宋代称春节为元旦，最受重视，元旦前几天人民就洒扫庭户，准备过节，除夕夜，百姓要祭祀祖先，迎神供佛，挂年画贴“桃符”。合家围炉而坐，饮酒唱歌，直到天明称为“守岁”。元旦那天盛行燃放鞭炮，穿新衣，往来拜年，大街上搭彩棚，摆满各色货物，歌馆、舞场挤满了人，连妇女也出来游乐。因此本题正确的选项是 C。

24. 【答案】B

【解析】

【详解】根据题干和所学可知，北宋时期活字印刷术的发明，大大提高了印刷速度，B 项正确；雕版印刷术与材料无关，排除 A 项；造纸术在东汉时由蔡伦改进，排除 C 项；书籍销售与材料无关，排除 D 项。故选 B 项。



25. 【答案】C

【解析】

【详解】材料“□□□”当为指示方位的仪器。结合所学，宋代航海已经装备有指南针，故C符合题意；象限仪是主要用于测定天体在地平上的或天顶距的天文仪器，排除A；经纬仪是一种根据测角原理设计的测量水平角和竖直角度的测量仪器，排除B；航海图是用于舰船航线设计、定位导航和系泊，保证航行安全的海图，排除D。故选C。

二、材料题（本大题共4道题，共计50分。第26题12分，第27题13分，第28题12分，第29题13分）

26. 【答案】（1）趋势：科举取士的名额大幅度增加。

（2）扩大了官吏选拔的范围；促进了社会各阶层流动；提高了官僚队伍的整体水平；促进了思想文化的发展。

（3）地方官员之间互相牵制；派文臣做知州，并在各州府设通判分知州的权力；设转运使，把地方财赋收归中央。

（4）开创了行省制度；行省权力受中央节制。巩固了中央集权，大大加强了对边疆地区的管辖，促进了统一多民族国家的发展。趋势：中央集权不断加强。

【解析】

【小问1 详解】

根据材料一“《北宋前期科举次数与录取进士人数统计表》”可以看出从宋太祖到宋仁宗时期平均每榜录取人数是逐步增加。即反映的趋势是科举取士的名额大幅度增加。

【小问2 详解】

根据材料二“朝为田舍郎，暮登天子堂；将相本无种，男儿当自强”可知科举制扩大了官吏选拔的范围；促进了社会各阶层流动；根据材料二“科举的直接结果，是选拔出了十万名以上的进士，百万名以上的举人……就整体而言，却是中国历代官员的基本队伍，其中包括着一大批极为出色的、有着高度文化素养的政治家和行政管理专家”可知提高了官僚队伍的整体水平；根据材料二“中国学术思想之发展，先秦诸子而外，当以宋为最。……其所以然者，殆由人主之奖进；而奖进之工具，即科举也。”可知科举制促进了思想文化的发展。

【小问3 详解】

根据材料三可以看出在各路官员众多，并且他们之间互相牵制；结合所学还可从派文臣做知州，并在各州府设通判分知州的权力；设转运使，把地方财赋收归中央来回答宋太祖加强中央对地方的控制的。

【小问4 详解】

根据材料四“元朝变革地方行政制度，设立行省。行省官员常以“藩大臣”和封疆大吏自居，替中央镇守地方”结合所学可从元朝开创了行省制度；行省权力受中央节制。巩固了中央集权，大大加强了对边疆地区的管辖，促进了统一多民族国家的发展来评价元朝中央政权对地方的治理措施。趋势：根据材料结合所学可知从宋到元中央对地方管理的趋势是中央集权不断加强。

27. 【答案】（1） ①. ② ②. ① ③. ③



(2) 唐有专门的商业区：东市、西市；宋朝商业活动打破坊、市界限

(3) ① ① ②. ②③ ③. ④

(4) 市民生活丰富多彩，文体娱乐形式多样，生活品质较高。

【解析】

【小问 1 详解】

根据材料白居易诗句意思是家家户户像围棋盘，街道像菜畦，都是说长安布局规整的，所以第一空填②；韩愈的“长安百万家”反映人口众多，第二空填①；根据白居易的“胡麻饼样学京都”反映民族文化交融，第三空填③。

【小问 2 详解】

根据材料二可以看出唐朝有东市、西市，宋朝有夜市、晓市可见是打破时间限制，同时不再设固定地点，打破空间限制，即打破坊、市界限。

【小问 3 详解】

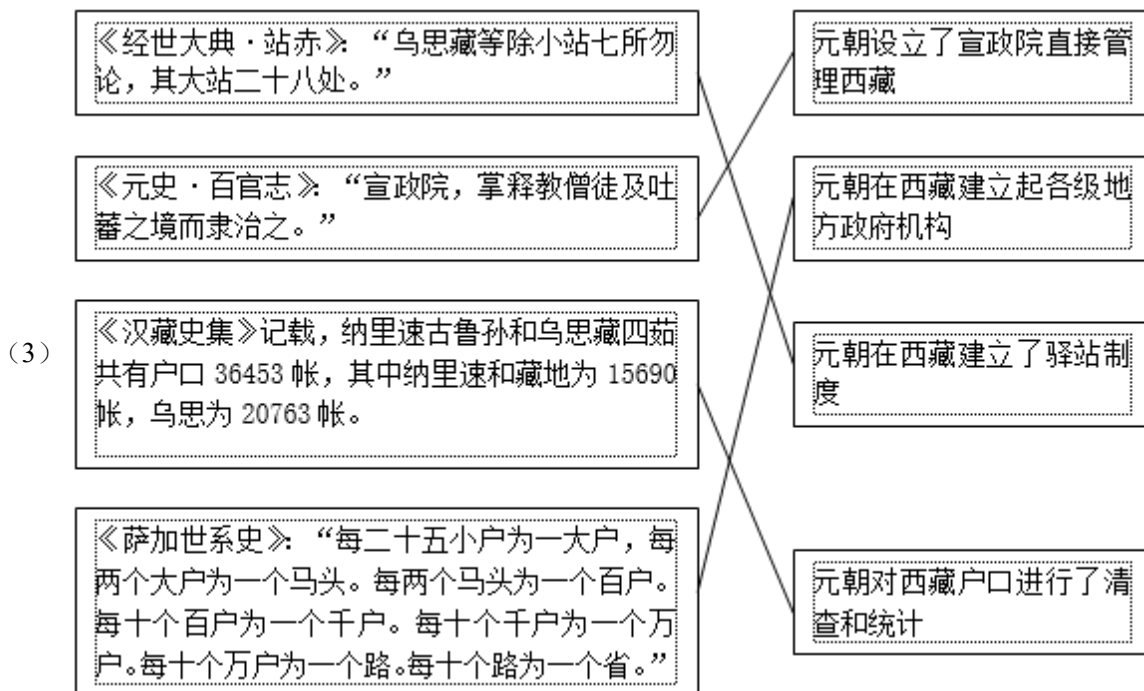
根据材料“①据记载，当时汴京有大酒楼 72 家，宾朋满座，气势不凡，小型的饭馆酒家不计其数，多为特色经营”可知是说东京城酒楼多；根据材料二“②特色饭馆中著名的有：王楼包子、曹婆婆肉饼、梅家鹅鸭、张家乳酪、万家馒头等等。③《武林旧事》一书在‘果子’一项中介绍了玉屑糕、琥珀蜜等 42 种食品，……”可知食品种类多种多样；根据材料“④‘元宵’这种食品名称，据说出现于宋代，正月十五又叫‘上元节’，上元之夜是新年中第一个十五月圆之夜，天上一轮圆月朗照，人间则聚食形如满月的元宵，表达了人们合家团圆幸福的心情。”可知饮食文化内涵丰富。根据分析得出答案。

【小问 4 详解】

根据材料四“（南宋）在人民日常生活方面，艺术、娱乐、制度、工艺技术各方面，中国是当时世界上首屈一指的国家”、根据材料五“（瓦子）奇术异能，歌舞百戏，鳞鳞相切，乐声嘈杂十数里。”以及放风筝的诗句、带有蹴鞠图的铜镜，可以从市民生活丰富多彩，文体娱乐形式多样，生活品质较高来概括宋代社会生活的特点。

28. 【答案】(1) 开明的民族政策；被尊为“天可汗”。

(2) 《步辇图》反映了吐蕃（今西藏）赞普松赞干布迎娶文成公主入藏的历史事件。唐蕃和亲促进了吐蕃经济和社会的发展，这幅画作是汉藏民族友好情谊的历史见证。



【解析】

【小问 1 详解】

依据材料一信息：“自古皆贵中华，贱夷狄，朕独爱之如一，故其种落皆依朕如父母”可知，唐太宗实行开明的民族政策，被各族首领共同拥戴为“天可汗”。

【小问 2 详解】

结合所学知识可知，《步辇图》反映了吐蕃（今西藏）赞普松赞干布迎娶文成公主入藏的历史事件。唐蕃和亲促进了吐蕃经济和社会的发展，这幅画作是汉藏民族友好情谊的历史见证。

【小问 3 详解】

依据《经世大典·站赤》信息：“乌思藏等除小站七所勿论，其大站二十八处”可知，元朝在西藏地区建立数量不少的驿站，结合所学知识可知，元朝在西藏建立了驿站制度。依据《元史·百官志》信息：“宣政院，掌释教僧徒及吐蕃之境而隶治之”可知，元朝设立了宣政院直接管理西藏。依据《汉藏史集》信息：“纳里速古鲁孙和乌思藏四站共有户口 36453 帐，其中纳里速和藏地为 15690 帐，乌思为 20763 帐”可知，元朝对西藏户口进行了清查和统计。依据《萨加世系史》信息：“每二十五小户为一大户，每两个大户为一个马头。每两个马头为一个百户。每十个百户为一个千户。每十个千户为一个万户。每十个万户为一个路。每十个路为一个省”可知，元朝在地方行省下有路、基层行政设施，说明元朝在西藏建立起各级地方政府机构。

29. **【答案】**（1）唐朝高僧玄奘不畏艰险前往天竺求取佛经，回到长安后主持译经工作，为中国佛教的发展作出重大贡献。或：唐朝高僧玄奘不畏艰险前往天竺求取佛经，回到长安后口授而成《大唐西域记》一书，成为研究中外文化交流的珍贵文献。

（2）相同点：都促进了佛教的发展；都体现出坚持不懈的品质；都为中外文化交流做出贡献。不同点：玄奘是西行学习佛法，鉴真是东渡弘扬佛法；玄奘是吸收外来文化，鉴真是向外传播文化。

（3）朝代：宋代（南宋）；依据：临安是南宋的都城；原因：政府鼓励海外贸易；宋代在主要港口设立市舶



司，管理对外贸易；宋代商品经济繁荣；宋代造船业、航海技术发达；海上丝绸之路畅通或宋金对峙，陆上丝绸之路受阻。（写出三点）

【解析】

【小问 1 详解】

根据范例要求，写出玄奘的事迹和影响即可。如唐朝高僧玄奘不畏艰险前往天竺求取佛经，回到长安后口授而成《大唐西域记》一书，成为研究中外文化交流的珍贵文献。

【小问 2 详解】

对比鉴真和玄奘的相同点主要从二人的品质和贡献来分析，不同点主要从出行的地点和对外交流的方式。结合所学他们的相同点可从都促进了佛教的发展；都体现出坚持不懈的品质；都为中外文化交流做出贡献进行回答。他们的不同点可从玄奘是西行学习佛法，鉴真是东渡弘扬佛法；玄奘是吸收外来文化，鉴真是向外传播文化等方面进行回答。

【小问 3 详解】

朝代：根据图中临安可知是南宋 都城，所以是南宋；原因：根据材料二的航线联系所学可从宋朝科技发展如指南针使用、造船技术；政府的支持、经济的繁荣等方面进行分析回答。如：根据材料结合所学可从政府鼓励海外贸易；宋代在主要港口设立市舶司，管理对外贸易。宋代商品经济繁荣；宋代造船业、航海技术发达等方面来回答宋朝海外贸易繁荣的原因。