



# 2021 北京西城初三（上）期末

## 历史

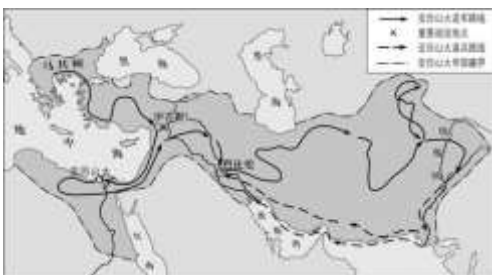
2021.1

考生须知	<p>1. 本试卷共 12 页，共 4 道大题，30 道小题。满分 100 分。考试时间 90 分钟。</p> <p>2. 在试卷和答题卡上准确填写学校、班级、姓名和学号。</p> <p>3. 试题答案一律填写在答题卡上，在试卷上作答无效。</p> <p>4. 在答题卡上，选择题须用 2B 铅笔将选中项涂黑涂满，其他试题用黑色字迹签字笔作答。</p> <p>5. 考试结束时，将本试卷、答题卡一并交回。</p>
------	--

### 第一部分（选择题共 45 分）

本部分共 30 小题，每小题 1.5 分，共 45 分。在每小题列出的四个选项中，选出最符合题目要求的一项。

- 有一首诗中是这样称颂尼罗河的：“万岁，尼罗河！……无论何时，当人们饮水，一切眼睛都充满谢意，因他的赐予。”尼罗河流域诞生了
  - 古埃及文明
  - 古巴比伦文明
  - 古希腊文明
  - 古印度文明
- 下列有关雅典民主政治的说法中，指出了其局限性的是
  - 津贴制度有助于保证贫穷公民正常参政议政
  - 伯里克利执政时期雅典民主政治发展到极盛
  - 公民大会体现了城邦一切权力属于雅典公民
  - 占人口多数的外邦人、奴隶、妇女没有政治权利
- 如下图所示，亚历山大帝国的疆域“地跨欧亚非三大洲”，下列选项中，同样具有这一特点的古代国家是

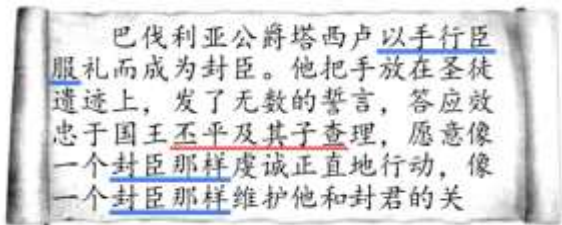


- 2 世纪的罗马帝国
- 5 世纪的法兰克王国
- 7 世纪的日本国
- 8 世纪的中国唐朝

4. “公元前 450~前 449 年的\_\_\_\_\_是最早的罗马成文法，它体现了当时平民对贵族斗争的一次巨大胜利。因为在此以前，立法和司法权力基本上由贵族垄断，而且法律也主要是不成文的习惯法，这就更便于贵族的专横。”这段话中，适合填入横线的内容是

- A. 《汉谟拉比法典》      B. 《查士丁尼法典》      C. 《十二铜表法》      D. 《拿破仑法典》

5. 右侧出示的这则材料，能够佐证的是



- A. 幕府统治建立  
B. 教会权力高于王权  
C. 城市实现自由自治  
D. 西欧封建制度

6. 下列文明成果中，能够了解到古代阿拉伯文化的有

- ①《荷马史诗》 ②《医学集成》 ③帕特农神庙 ④《天方夜谭》

- A. ②④      B. ①②      C. ①④      D. ②③

7. 历史课上，某同学介绍右图“这是英国著名画家达·芬奇的代表作《最后的晚餐》，它以现实人物为主题，展现生命的活力，充分地体现了人文主义精神。”该同学对这幅名画的介绍正确的是



- ①作者的国籍 ②画的作者 ③画的名称 ④体现的核心思想

- A. ①②      B. ①③      C. ②③      D. ②④

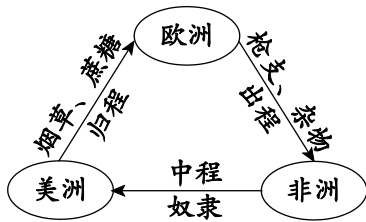
8. 下侧材料说明了新航路开辟后，欧洲的航运和贸易中心发生了转移，这种转移是

地理大发现之后，欧洲商人的贸易范围空前扩大……意大利各城市的商业地位逐渐被葡萄牙的里斯本、西班牙的塞维利亚、尼德兰的安特卫普所排挤。

- A. 由阿拉伯半岛转移到欧洲西部  
B. 由地中海沿岸转移到大西洋沿岸

- C. 由欧洲西部转移到欧洲南部
- D. 由大西洋沿岸转移到地中海沿岸

9. 一集历史纪录片播放的内容中，多次出现右图图示，本集纪录片合理的主题是



- A. 欧洲的文艺复兴
- B. 进步的工人运动
- C. 血泪的三角贸易
- D. 民主的政治历程

10. 在早期殖民活动中，荷兰一度控制着波罗的海、印度及美洲的全部贸易，被称为

- A. 殖民大帝国
- B. 海上马车夫
- C. “日不落帝国”
- D. 无敌舰队

11. 下表是某同学整理出的部分欧洲重要历史人物的资料，其中正确的一组是

选项	人物	身份	贡献
A	牛顿	近代自然科学的奠基人之一	他提出进化论的观点，指出：物种都处于不断变化之中，经历了由低级到高级、从简单到复杂的演变过程
B	米开朗琪罗	文艺复兴时期艺术家	他与拉斐尔、达·芬奇并称为文艺复兴“美术三杰”
C	罗伯斯庇尔	英国革命时期领导人	他率领议会军队打败国王军队，在英国成立了共和国
D	莎士比亚	文艺复兴时期戏剧家	他的作品再现英国现代社会的时代风貌和社会本质

12. 下图是一位教师关于英国革命的教学板书，从中得出的结论是

- A. 资本主义发展是革命爆发的根本原因
- B. 君主立宪制在英国得以确立
- C. 《权利法案》是革命结束的标志
- D. 英国革命具有曲折性

1640年议会重新召开，革命序幕拉开  
 1649年处死国王，成立共和国  
 1653年克伦威尔实行护国主政体  
 1660年斯图亚特王朝复辟  
 1688年光荣革命

13. 有史学家评论“拿破仑在其所有征服地区贯彻法国革命的一些基本原则。他废除封建制度和农奴制，承认所有公民的平等，实施著名的法典。这些改革意味着进步，或至少意味着维新。”对于这段话，解读正确的有

- ①“基本原则”包括自由、平等、民主
- ②著名“法典”指的是《拿破仑法典》
- ③这段话认为拿破仑促进了欧洲的进步
- ④作者否认拿破仑对外战争的侵略性

- A. ①②④
- B. ②③④
- C. ①②③
- D. ①③④

14. 以下历史人物都曾经在其本国的历史发展中做出过突出贡献，受到后人长久的缅怀。下列有关说法，符合史实的是



图 1 华盛顿



图 2 玻利瓦尔




图 3 拿破仑



图 4 章西女王



- A. 四人均带领本国民众进行过反对外国殖民主义的斗争
  - B. 图 1 和图 4 中的人物都反抗过西班牙的殖民统治
  - C. 图 2 中的人物被誉为南美的“解放者”
  - D. 图 3 中的人物推翻了法国的君主制度
15. 如果以“殖民地半殖民地人民争取民族独立”为主题开展研究性学习,则拉丁美洲独立运动具有的鲜明特点是
- A. 南北联合,协同作战
  - B. 由封建王公领导
  - C. 废除了种族隔离制度
  - D. 建立了统一的国家
16. 19 世纪中期俄国的一名农奴,在本国的改革中获准得到一块份地,只需现金支付 20%—25% 的赎金,其余部分由政府以有息债务的形式支付。关于这场改革的说法正确是
- A. 使沙俄夺取了波罗的海的出海口
  - B. 开启了俄国近代化的进程
  - C. 提倡人们学习西方的生活方式
  - D. 推动俄国走上资本主义道路
17. 1871 年的 10 月 1 日,日本越前藩的藩主召集数百名世袭家臣,命令他们将藩主的忠诚转换为忠于天皇和国家,他敦促家臣们要多考虑国家的利益。这一做法顺应了当时日本中央政府所推行措施中的
- A. 废藩置县
  - B. 实行征兵
  - C. 殖产兴业
  - D. 文明开化
18. 19 世纪 60 年代开始美国经济快速增长,到 20 世纪初大约占世界国民生产总值的 33%,取代英国成为世界第一工业大国。这说明美国内战
- A. 使美国获得独立
  - B. 废除了黑人奴隶制度
  - C. 使南北矛盾发展
  - D. 清除了经济发展障碍
19. 19 世纪以来,欧洲百万人以上的大城市不断出现,到 1851 年,伦敦人口 236 万,巴黎人口 100 万以上。出现这一现象的主要原因是
- A. 殖民主义的扩张
  - B. 市场需求的增加
  - C. 工业革命的影响
  - D. 社会制度的转变
20. 科技创新给人们生活带来了新变化。以下成果属于第二次工业革命的是



①珍妮机                      ②计算机                      ③飞机                      ④电话

- A. ①③                      B. ②③                      C. ②④                      D. ③④

21. 下图是某同学提炼出的部分学习内容要点，适合的学习主题是

- 教育的大众化
- 妇女社会地位提升

- A. 西欧封建社会的演变  
B. 资产阶级革命的爆发  
C. 欧洲资本主义的萌芽  
D. 工业化国家社会变化



22. 恩格斯曾说：“当革命的风暴横扫整个法国的时候，英国正在进行一场比较平静的但是威力并不因此就显得缺乏力量的变革。”上文中法国的“革命”与英国的“变革”分别是指

- A. 法国大革命 第二次工业革命                      B. 巴黎公社 工业革命  
C. 法国大革命 工业革命                      D. 巴黎公社 第二次工业革命

23. 下图材料主要可用于说明十月革命的

- A. 原因  
B. 背景  
C. 经过  
D. 影响

十月革命一声炮响，给我们送来了马克思列宁主义。十月革命帮助了全世界的也帮助了中国的先进分子，用无产阶级的宇宙观作为观察国家命运的工具，重新考虑自己的问题。

24. 某历史公众号中推送了以下资料。由此可知，该期推送的主题是

论著	《缔造和平：1919 巴黎和会及其开启的战后世界》
文件	《九国公约》
照片	巴黎和会三巨头
纪录片	《话说世界历史·IV》（内容：第一章 俄国十月社会主义革命……）

- A. 巴黎和会                      B. 凡尔赛体系  
C. 华盛顿会议                      D. 凡尔赛-华盛顿体系



- A. 雅尔塔会议的召开
- B. 意大利宣布无条件投降
- C. 《联合国宣言》的签署
- D. 盟军开辟欧洲第二战场

第二部分（非选择题共 55 分）

本部分共 4 大题，共 55 分。请用黑色字迹签字笔在答题卡上各题的答题区域内作答，在试卷上作答无效。

31. （14 分）“人的发现”和“世界的发现”

材料一

- ①人是一件多么了不起的杰作！（人是）宇宙的精华！万物的灵长！
- ②美洲金银产地的发现，土著居民被剿灭、被奴役和被埋葬于矿井。
- ③中世纪晚期，领主不再参与生产管理，一些富裕农民通过承租、购买土地等方式建立租地农场。
- ④我不想变成上帝，或者居住在永恒中……属于人的那种光荣对我就够了……我自己是凡人，我只要求凡人的幸福。
- ⑤14 世纪中叶以后，手工业者逐渐脱离农业，生产组织越来越集中，雇工分工合作。
- ⑥在欧洲以外直接靠掠夺、奴役和杀人越货而夺得的财宝，源源流入宗主国，在这里转化为资本。

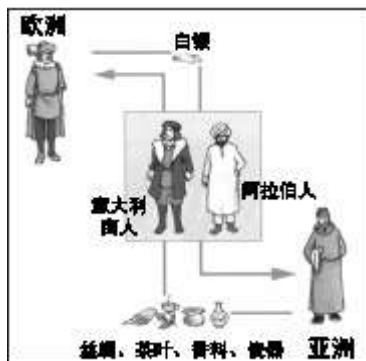
（1）将材料一的史实与以下观点相对应。（3 分。填序号，每空多选、少选、错选均不得分）

中世纪晚期西欧社会经济发生重要变化：

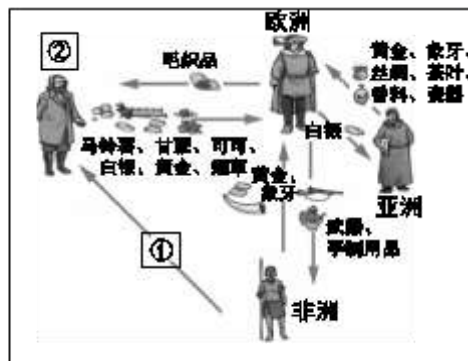
文艺复兴时期人们思想得到解放：

资本原始积累具有野蛮性和残酷性：

材料二



新航路开辟前的亚欧贸易



新航路开辟后的全球贸易

（2）依据材料二示意图，填写①②处对应的内容（2 分）。根据图示，概括新航路开辟的影响（2 分）。

材料三 某班同学进行“走向近代”的历史主题研究活动，找到了如下的书籍及图片：



		
①书籍《神曲》	②台湾赤崁楼图片	③哥伦布航海日记手稿图片

(3) 请从材料三的材料中任选其一（②赤崁楼除外），仿照示例，说明其可以作为“走向近代”主题研究的理由。（3分）

示例：我选择②赤崁楼；其见证了荷兰强占中国台湾的历史，可作为“早期殖民掠夺”的研究材料。

材料四 某小组对“文艺复兴运动与新航路开辟的关系”进行了更为深入的研究，在图书馆检索到以下书籍及期刊信息：

<p>①在文艺复兴人文主义精神的鼓舞下，航海家们乐观进取和积极冒险的精神，驱使他们远渡重洋……追求现实生活中的幸福。 ——《近代西欧国家现代化与文艺复兴关系探析》</p>	<p>②（地理大发现）结束了意大利在东西方贸易中的垄断地位……文艺复兴的经济基础不复存在，意大利的文艺复兴运动也随之走向衰落。 ——《全球通史：从史前史到21世纪（下册）》</p>	<p>③文艺复兴时期，地理学、天文学、制图学的复兴还直接为地理大发现提供了技术支持。 ——《论地理大发现的文化背景》</p>
---	--	--

(4) 依据材料四，简析文艺复兴运动与新航路开辟的关系。（2分）

(5) 15、16世纪以来，人们通常使用“哥伦布发现美洲”的提法，在欧洲“发现了”美洲的语境里，欧洲人是发现者，美洲是被发现地。后有学者提议用“美洲发现——两个文明汇合”（站在全球的角度看待各种文明）更为确切，选出上述两种说法更有合理性的一种，谈谈你的认识。（2分）





32. (13分) 近代以来,世界性大国相继崛起,探究其兴盛背后的原因,给我们带来了诸多启示。阅读下列材料,回答问题。

美国的首都华盛顿同北京一样,有一条蕴含本国历史的“中轴线”。请走进这条“中轴线”,关注美国的历史之路

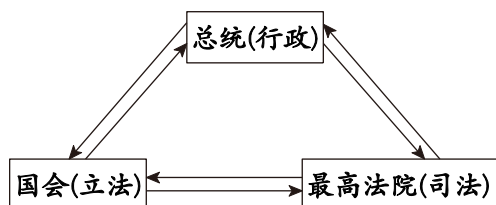


材料一

华盛顿大事年表	林肯大事年表
1756-1763年作为军官,参加英法七年战争(英国一方),积累了军事指挥经验	1860年当选为美国第十六届总统
1775-1783年任大陆军总司令,领导独立战争	1861年领导美国南北战争
1787年主持制宪会议,制定了1787年宪法	1863年林肯政府颁布《解放黑人奴隶宣言》
1789年成为美国第一任总统	1864年再次当选为美国总统
1796年发表告别词,离开政坛	1865年取得美国南北战争的胜利
	1865年遇刺身亡

(1) 美国之所以在“中轴线”上修建林肯纪念堂和华盛顿纪念碑是因为二人都对美国历史产生了深远影响。阅读材料一,华盛顿、林肯的大事年表,简析两位历史人物的经历有何相似之处。(2分)

材料二



(2) 国会是美国联邦政府三大机构之一,请根据材料二图示并结合所学,概括美国国家权力构成所体现的核心原则。(1分)

材料三 如图 1、图 2 所示，并据相关史料记载，发生在俄国 18 世纪初的一次重要改革中，统治者曾要求朝臣剃掉代表传统的大胡子，留西式短须；日本明治维新时期代表人物之一的木户孝允，在时代的潮流中，较早的脱下日本传统服装，穿上西式礼服。



图 1 俄国颁布剃须令



图 2 木户孝允（1833-1877）



(3) 说出与图 1 内容相关的改革。（1 分）简析其与图 2 人物所经历改革措施的共同特点。（1 分）

材料四

1871 年 3 月 18 日，巴黎的无产阶级和人民群众举行武装起义，推翻了资产阶级反动统治，3 月 28 日建立了世界上第一个无产阶级政权。5 月 28 日，资产阶级反动政府勾结普军联合反扑，公社失败。




图 3 马克思与恩格斯

(4) 说出材料四文字部分描述的历史事件。（1 分）指出图 3 中两位人物创立的理论与此历史事件的联系。（2 分）


(5) 回看英法俄美等国的历史，法制的不断完善是崛起的重要因素。请将右侧相关图片序号，对应填写到近现代部分国家法制建设线索时间轴上的 A、B 处（填序号）。（2 分）除了法制保障以外，依据上述材料并结合所学，说说影响大国崛起的因素。（3 分）



① 《人权宣言》



② 《权利法案》



33. (14分) 交通在近代经济社会发展中发挥了重要作用。

材料一

英国轨道交通发展概况

时间	大事记
1775年	英国人约翰·乌特兰发明有轨马车，靠马匹牵引车辆，车轮在钢制轨道上滚动行驶
1825年	蒸汽机车“旅行者号”试行成功，加快行进速度达每小时15英里
1830年	从利物浦到曼彻斯特的第一条公共铁路线开通，长32英里
1835年	议会共批准了54条铁路修筑计划
1845年	伦敦-西北铁路上最快的列车速度是每小时37英里
1847年	576家铁路公司被批准成立，筑路8731英里



(1) 依据材料一并结合所学，概括英国近代交通运输在动力方面的变化及其主要原因。(3分) 说出英国铁路发展的特点。(3分)

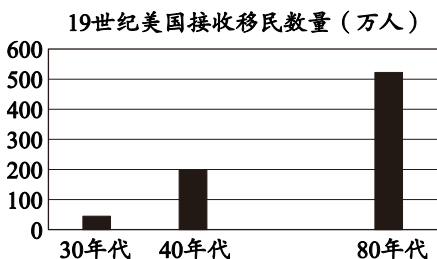
材料二 南北战争之前，铁路的竞争并未导致汽船总运量下降，但是战争期间对内河水系的破坏，加上战争中和战后铁路的大规模建设，最终给马克·吐温等人热烈赞誉的汽船辉煌时代画上了句号。铁路全年都可提供服务，而主要的运河却要在寒冬时面临冰封期。而且，铁路提供了更多的接触点，因此减少了马车运输、货物装卸、重装的成本。所以尽管在从生产者到消费者的整个线路上，铁路的每吨英里价格不如水运，然而铁路降低了装运成本。

——摘编自休斯《美国经济史》

(2) 依据材料二，概括美国铁路运输代替水运的原因。(3分)

材料三 在19世纪之前，世界各地根据日出日落来决定自己的作息时间，然而铁路的问世使得继续保持这种自然时间不再可能。铁路运输时刻表变得极为复杂，1852年，英国在格林尼治的皇家天文台设立一套电报系统向全国报时；1884年在美国召开的国际子午线会议上，格林尼治标准时间成为划分全球时区序列的基础。交通运输的发展，使得文化交流比以往更快更复杂，部分原因在于人们能够比以往更快捷更频繁地旅行了。世界上第

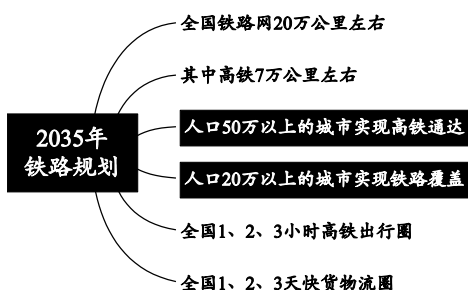
一个旅游代理商，托马斯·库克旅游公司 1841 年在英国成立；到了 1900 年，库克旅游公司每年经营的旅游业务达 300 万人次。与此同时，便捷低廉的长途运输手段，使得史无前例的移民规模成为可能。



——摘编自菲利普·费尔南德兹《世界：一部历史》

(3) 依据材料三，简析交通运输业发展的重要作用。(3分)

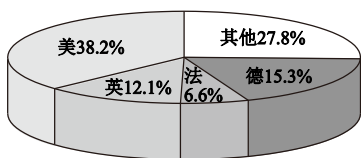
材料四 2020年8月13日，《新时代交通强国铁路先行规划纲要》出台，明确了中国铁路的发展蓝图。



(4) 交通运输是社会经济发展的重要环节。综合上述材料及所学，请对新时代如何建设交通强国，提出建议。(2分)

34. (14分) 20世纪上半期，发生了两次世界大战，对世界影响深远。

材料一 1914年英、法、德、美殖民地的比较 1913年英、法、德、美工业生产占世界工业比重



国别	英国	法国	德国	美国
殖民地				
面积 (万平方千米)	3350	1060	290	30
人口 (万人)	39350	5550	1230	970

德国过去曾有那样的时期，把土地让给一个邻国，把海洋让给另一个邻国，而自己只剩下纯粹在理论上主宰着天空，可是这种时期已经一去不复返了。……我们也要为自己要求阳光下的地盘。

——德国外交大臣皮洛夫在 1897 年 12 月的一次演说

(1) 依据上述材料，指出 20 世纪初列强发展不平衡性的表现。(2 分) 简析皮洛夫的话反映了德国怎样的诉求。(1 分)

(2) 法国元帅福煦在听到《凡尔赛条约》签字的消息后说：“这不是和平，这是 20 年的休战！”谈谈如何认识这一说法。(2 分) 除此之外，简析二战爆发的主要原因。(2 分)



(3) 仿照示例，从示例外的其他三幅图片中任选一幅，说明相关历史事件及其影响。(3 分)

**【示例】** 图 4 “密苏里号”上的日本投降仪式：1945 年 9 月 2 日，日本在美国军舰“密苏里号”上正式签署了投降书。第二次世界大战结束。

### 材料二

- ①在一战中，参战各国的死伤人数高达 3000 多万，战争造成的经济损失约 3300 多亿美元。
- ②一战后诞生了德意志、奥地利、匈牙利、土耳其等资产阶级共和国，俄国建立起人类历史上第一个社会主义国家。
- ③61 个国家和地区卷入二战，军民共伤亡 9000 余万，直接军费开支 1.1 万亿美元。
- ④一战期间，英国失去了 1/4 的对外投资，法国失去了 1/3 的对外投资，德国失去了全部对外投资。二战后初期，美国成为资本主义世界的头号强国，苏联是这一时期唯一能与美国抗衡的国家。
- ⑤1919 年，中国爆发五四运动、埃及爆发华夫脱运动。1920-1922 年，印度人民开展非暴力不合作运动。1960 年，非洲有 17 个国家独立。

(4) 依据材料二，将史实和结论正确搭配，并将下表填写完整。(4 分)

史实	结论
( ) ( )	战争给人类带来深重的灾难
④	( )
( )	战争促进了世界殖民体系的瓦解



# 2021 北京西城初三（上）期末历史



## 参考答案

### 一、选择题（本题共 45 分，每小题 1.5 分）

题号	1	2	3	4	5	6	7	8	9	10
答案	A	D	A	C	D	A	D	B	C	B
题号	11	12	13	14	15	16	17	18	19	20
答案	B	D	C	C	A	D	A	D	C	D
题号	21	22	23	24	25	26	27	28	29	30
答案	D	C	D	D	C	B	A	C	D	C

### 二、非选择题（共 55 分）

#### 31. (14 分)

(1) 中世纪晚期西欧社会经济发生重要变化：③⑤

文艺复兴时期人们思想得到解放：①④

资本原始积累具有野蛮性和残酷性：②⑥（3 分。每空 1 分，多答、少答、错答均不得分）

(2) ①黑奴（奴隶）②美洲（2 分）

影响：世界开始连为一个整体；促进了物种（或人种）的交流和传播；欧洲与亚洲、非洲、美洲之间建立直接的商业联系。（2 分。任意两点及其他言之成理即可）

(3) 我选择①书籍《神曲》；（1 分）《神曲》抨击教会的贪婪腐化，促进了人们的思想解放，可作为“文艺复兴”的研究材料。（2 分）

我选择③哥伦布航海日记手稿；（1 分）其航海细节有助于我们了解哥伦布发现美洲的经过，可作为“新航路开辟”的研究材料。（2 分）

(4) ①文艺复兴运动在思想、文化、精神等多方面影响到新航路的开辟，在人文主义精神的鼓舞下，航海家富有乐观进取和积极冒险的精神，追求现实生活中的幸福；②在技术支持上，文艺复兴运动中地理学、天文学、制图学的复兴为新航路的开辟创造条件；③新航路的开辟是意大利地区文艺复兴运动衰落的原因之一。

（2 分。任意两点即可）

(5) “两个文明汇合”更为合理；“哥伦布发现美洲”的提法是以欧洲为中心提出的，应站在全球的角度看待各种文明，尊重、平等对待各种文明。（2 分）

#### 32. (13 分)

(1) 都曾担任美国总统；都通过制定法律推动本国社会进步；都经历过战争的考验。（2 分。任意两点即可）

(2) 三权分立（分权制衡）原则。（1分）

(3) 彼得一世改革；（1分）向西方学习，社会生活西化。（1分）

(4) 巴黎公社；（1分）马克思和恩格斯发表《共产党宣言》，创立马克思主义；马克思主义理论指导了巴黎公社。（2分）

(5) A: ② B: ①（2分）

制度创新；民族独立，国家统一；从国情出发，向发达国家学习；思想文化、科学理论的指导；科技的推动等（3分。任意三点即可）

33.（14分）

(1) 变化：从使用畜力（自然力），到以蒸汽机为动力。（2分）

原因：英国进行工业革命。（1分）

特点：发展速度快；运营里程长；列车提速快；全国形成铁路网。（3分。任意三点即可）

(2) 原因：南北战争破坏了内河水系；铁路的大规模建设；铁路运输不受季节限制；铁路装运成本低。（3分。任意三点即可）

(3) 作用：改变了时间观念；确定了全球时区划分；促进了全球文化交流；推动了旅游业发展；移民规模扩大。（3分。任意三点即可）

(4) 重视科学技术在交通运输发展中的作用；构建现代高效的高速铁路网；通过交通运输带动经济发展等。（2分。言之成理即可）

34.（14分）

(1) 美国、德国经济实力已经赶上并超过英国，但是其占有的殖民地远远低于英国、法国。（2分）德国经济迅速增长，要求按照新的实力对比重新瓜分世界。（1分）

(2) 《凡尔赛和约》是建立在强权基础上的，是战胜国对于一战后世界的安排，德国对此深感不满，因此埋下了复仇主义的种子。（2分。其他言之成理即可）1929-1933年的经济危机加速德日法西斯专政的建立和欧亚战争策源地的形成、英法美等大国的绥靖政策、苏联中立自保、世界各国人民局部反法西斯战争没有配合起来。（2分。任意两点即可）

(3) 图1 斐迪南大公夫妇离开萨拉热窝市政厅：1914年6月28日，斐迪南大公夫妇在萨拉热窝被塞尔维亚族青年普林西普刺杀。（2分）该事件成为第一次世界大战的导火索。（1分）

图2 遭到炮轰后的凡尔登：1916年，德、法两国军队在凡尔登展开了一场历时约10个月的阵地战，双方损失近百万人。（2分）凡尔登战役有“绞肉机”“地狱”“屠场”之称。（1分）

图3 雅尔塔会议三巨头：1945年2月，美、苏、英三国首脑罗斯福、丘吉尔、斯大林在雅尔塔召开会议，做出了战后德国由美、苏、英等国实行分区占领、成立联合国等决定。（2分）雅尔塔会议加速了世界反法西斯战争的胜利进程，对战后世界格局的形成产生了深远影响。（1分）

(4)（4分。史实中每空1分，结论1分）



史实	结论
(1) (3)	
	(战争改变了世界大国的地位)
(5)	

