

2018 北京四中初一（下）期中

历史



本试卷共两部分，29 道小题。满分 100 分。考试时间 60 分钟。

第一部分 选择题

本部分共 25 小题，每小题 2 分，共 50 分。在每小题列出的四个选项中，选出最符合题目要求的一项。

1. 在我国历史上，有这样一位皇帝。他在位时开通大运河、创立进士科，造福后世；他好大喜功，役民过度，结果落了个万世唾骂的恶名。这位皇帝是

- A. 秦始皇 B. 汉武帝 C. 隋文帝 D. 隋炀帝

2. 隋朝大运河是古代世界上最长的运河，其南北两端分别是

- A. 洛阳、涿郡 B. 余杭、长安
C. 洛阳、长安 D. 余杭、涿郡

3. 下列关于隋朝灭亡的主要原因，表述最准确的是

- A. 统治者贪图享乐 B. 隋炀帝的暴政
C. 大兴土木工程 D. 连年的对外征战

4. 某同学整理了两则读书摘要，请你依据摘要内容判断它们与下列哪位皇帝相关

摘要 1：吸取隋朝灭亡教训，任用贤才，虚心纳谏

摘要 2：统治期间，国力强盛，历史上称为“贞观之治”

- A. 唐高祖
B. 唐太宗
C. 武则天
D. 唐玄宗

5. 某历史兴趣小组同学在探究“贞观之治”“开元盛世”出现的共同原因时提出以下意见，其中正确的是

- ①都出现在国家统一、社会安定时 ②都重视发展生产
③都在思想文化上实行高压政策 ④都重视任用贤才


- A. ①③④ B. ①②③④ C. ①②④ D. ②③④

6. 发明和推广先进的生产工具能促进经济的发展。下图是唐朝的曲辕犁和筒车，它们分别用于



- A. 耕作，灌溉

- B. 耕作，纺织
 C. 运输，冶铁
 D. 运输，灌溉
7. “草堂留后世，诗圣著千秋”，这副对联称颂的诗人是
 A. 李白 B. 杜甫 C. 白居易 D. 苏轼
8. 下列图片中反映隋唐时期文学艺术的是



- ① 吴道子《天王送子图》 ② 阎立本《步辇图》 ③ 王羲之《二谢帖》 ④ 颜真卿《多宝塔碑》

- A. ①③④ B. ①②③④
 C. ①②④ D. ②③④
9. 某剧团要编演一部反映唐朝与吐蕃友好关系的话剧，这部话剧可以取材于下列哪个史实
 A. 张骞出使西域 B. 玄奘西游
 C. 文成公主入藏 D. 昭君出塞
10. 要研究古代中亚、印度半岛以及我国新疆地区的历史地理，下列典籍首选的是
 A. 《徐霞客游记》 B. 《西游记》 C. 《大唐西域记》 D. 《史记》
11. 对比下面的两枚古钱币，得出的结论正确的是



唐朝的开元通宝 日本的和同开珎

- ①二者都是圆形方孔钱
 ②钱币上都有汉字
 ③唐文化对日本影响巨大
 ④日本曾经隶属于唐朝
- A. ①②③ B. ②③④
 C. ①③④ D. ①②③④
12. 成语“金榜题名”“三元及第”“独占鳌头”所反映的制度是
 A. 禅让制 B. 分封制
 C. 九品中正制 D. 科举制
13. 后晋成德节度使说：“天子宁有种耶？兵强马壮者为之耳。”这反映当时怎样的历史现象

①五代十国是唐末宦官专权的延续

②这一时期的开国皇帝都是掌握兵权的武将

③节度使拥兵自重，藩镇割据局面延续

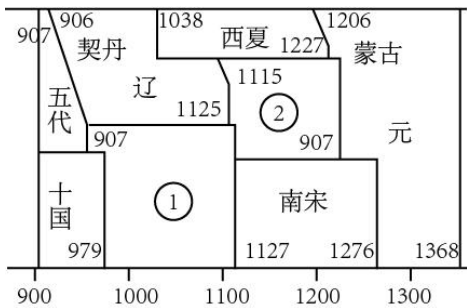
④北方政局动荡

- A. ①②③
- B. ②③④
- C. ①③④
- D. ①②③④

14. 著名学者王立群曾这样描述一位历史人物：“烽火燃，五十年，陈桥驿站披旒冕。披旒冕，定江山，杯酒之间削兵权。”这位人物是

- A. 刘邦
- B. 司马炎
- C. 李世民
- D. 赵匡胤

15. 下面是《中国历史纪年表》(部分)，表中的①②③④分别代表某个政权的名称。其中，与辽政权订立澶渊之盟的是



- A. ①
- B. ②
- C. ③
- D. ④

16. 宋朝时，任用文官担任中央和地方的要职，甚至主持军务，地位和待遇高于武将。这体现出宋朝

- A. 重本抑末
- B. 重武轻文
- C. 重文轻武
- D. 重农抑商

17. 下列少数民族政权与其建立者对应正确的是

- A. 契丹——耶律阿保机
- B. 金——元昊
- C. 辽——完颜阿骨打
- D. 西夏——铁木真

18. 京剧《澶渊之盟》是一出历史故事剧，其中唱词“将舟船暂驻中流，寡人要一观黄河夜景”中的“寡人”是指历史上的

- A. 宋太祖
- B. 宋太宗
- C. 宋真宗
- D. 宋徽宗

19. 契丹与西夏国力不断增强的共同原因是

- A. 创制自己的文字
- B. 学习中原文化，发展生产
- C. 强大的武力支撑
- D. 汉人大量迁入，编练军队

20. 他是南宋著名的抗金将领，“精忠报国”的故事千古流传。他

- A. 统帅军队在郾城大败金军主力
- B. 以“莫须有”的罪名被撤职

C. 率领的军队称为“模范军” D. 扭转了宋金对峙的局面

21. 陆游《书愤》中有“楼船夜雪瓜洲渡，铁马秋风大散关”的诗句，这里的“大散关”是哪两个政权的分界线中的一端

A. 北宋与西夏 B. 北宋与辽 C. 南宋与辽 D. 南宋与金

22. “山外青山楼外楼，西湖歌舞几时休？暖风熏得游人醉，直把杭州作汴州。”这首诗反映的时代背景是

A. 宋夏和议 B. 宋辽盟约 C. 宋金对峙 D. 宋元对抗

23. 纸币的出现给货币的流通带来更多的便捷，世界上最早的纸币出现于

A. 唐朝 B. 北宋 C. 南宋 D. 元朝

24. 北宋元祐二年（1087年），朝廷设立福建市舶司于泉州。市舶司是

A. 管理造船业的机构 B. 提供住宿的机构
C. 印刷纸币的机构 D. 管理海外贸易的机构

25. 中国古代经济重心南移最终完成于

A. 唐朝 B. 北宋 C. 南宋 D. 明朝


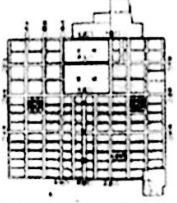




第二部分 非选择题

本部分共4小题，第26题14分，第27题14分，第28题12分，第29题10分，共50分。

26. 解读盛唐气象

唐朝前期呈现一派繁荣景象，让我们一起来进行解读。

(1) 图片展现盛唐

| | | |
|---|---|---|
|  |  |  |
| A. 曲辕犁 | B. 唐长安城 | C. 筒车 |
|  |  |  |
| D. 开元通宝 | E. 蜀锦 | F. 三彩俑 |

唐朝前期，经济发展迅速，上述图片资料中

能够体现农业发展的是：_____、_____；

能够体现手工业水平的是：_____、_____；

能够体现商业活动的是：_____、_____。（填写图片下的字母）

(2) 诗歌描绘盛唐

唐诗是唐朝人对生活的描述，请将以下诗歌与其反映的盛唐气象连线。

稻米流脂粟米白，
公私仓廩俱丰实。

三月三日天气新，
长安水边多丽人。

自从贵主和亲后，
一半胡风似汉家。

李杜文章在
光焰万丈长

民族和睦

经济繁荣

文化灿烂

社会开放



(3) 文物考证盛唐

以下考古发现，从不同方面印证盛唐气象。请参照范例，从材料1、材料2、材料3中任选两个，结合所学，完成你的考证。



章怀太子墓壁画《礼宾图》

【范例】《礼宾图》呈现的是唐朝鸿胪寺官员接待东罗马帝国、高丽等使者的情景，见证了唐朝的博大开放。



材料1

三彩狩猎仕女俑



材料2

带帷帽女子骑马俑



材料3

唐蕃会盟碑

27. 聚焦隋唐中外交流

隋唐时期中外交往比较活跃，中外交流进一步发展。阅读下列材料，回答问题。

材料一 唐朝处于我国封建经济繁荣上升阶段，对外经济文化交流也大大发展。例如，唐朝时期，遣唐使有十多批。日本的吉备真备年轻时，随遣唐使来长安留学，研习儒家经典、天文历算、军事等。由阿拉伯商人撰写的《中国印度见闻录》记载了唐朝出口的丝绸质量很高，唐朝海船坚固庞大，可以从事远海航行。唐朝允许外商长期在中国居住，和中国人通婚，在中国任官。唐朝的对外交往极大地影响了日本等周边国家。

——张岂之《中国历史》

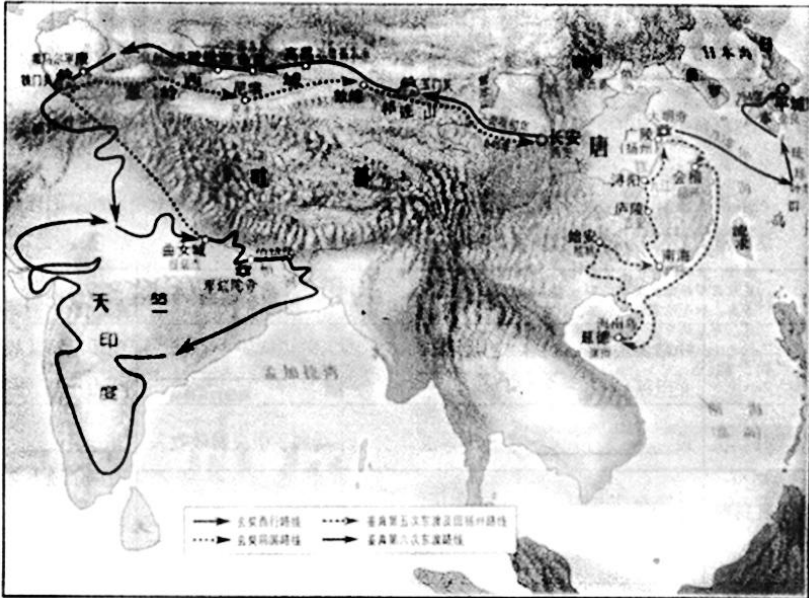
材料二 (玄奘)发现各宗派对经论的考察存在或显或隐的不同之处，众说纷纭，不知道该信哪一个。所以发誓去西方寻求佛法以解疑惑。

——译自(唐)慧立、彦棕《大慈恩寺三藏法师传》

材料三 大和上(同“尚”)在扬州大明寺为众(僧)讲律，荣睿、普照(日本僧人)至大明寺……曰：“佛法东流至日本国，虽有其法，而无传法人。……愿和上东游兴化。”

——《唐大和上东征传》

材料四 玄奘西行与鉴真东渡图



(1) 依据材料一，对以下表述做出判断：直接从材料得出的，在括号内划“√”；违背材料所表达意思的，在括号内划“×”；材料没有涉及的，在括号内划“○”。

- ①唐朝处于我国古代经济繁荣上升阶段，对日本社会产生了深远影响。 ()
- ②唐朝时期，满载丝绸等商品的驼队，将商品运送到阿拉伯等国家和地区。 ()
- ③作为唐朝派出的使者，遣唐使的主要目的是传播唐文化，促进了中日交流。()
- ④唐政府鼓励各国商人到中国贸易，允许他们长期居住。 ()
- ⑤唐朝奉行闭关锁国的外交政策。 ()
- ⑥唐朝的对外交往对新罗、大食、东罗马等国家产生了较大影响。 ()

(2) 玄奘和鉴真是唐朝对外交往的典型代表。阅读材料二、三，分别概括玄奘、鉴真远行的原因。

(3) 依据材料二、三、四，结合所学，比较玄奘西行和鉴真东渡的主要不同之处。

(4) 玄奘和鉴真有哪些优秀品质值得我们学习？

28. 分析治国方略

治大国如烹小鲜。阅读下列材料，回答问题。

本朝鉴五代藩镇之弊，遂尽夺藩镇之权。兵也收了，财也收了，赏罚刑政，一切收了，州郡遂日就困弱。

——（宋）朱熹《朱子语类》

(1) 上述材料中所说的“藩镇之弊”始于唐朝哪位皇帝？当时爆发的典型事件是什么？

(2) 为解决“藩镇之弊”，宋朝采取了一系列措施。老师设计了以下表格来帮助同学们理解这些治国方略，请你结合所学，完成下表。

| 目的 | 治国方略 | 积极影响 | 消极影响 |
|-------|--------------------|-------|----------|
| 收“兵”权 | 经常调换军队将领，定期换防；文臣统兵 | _____ | 削弱了军队战斗力 |

| | | | |
|----------|--------------------------------|-----------|--------------|
| 收“财”权 | 设_____收地方财赋 | 增加了中央财政收入 | 造成了地方官僚机构的臃肿 |
| 收“赏罚刑政”权 | 分派文官担任地方长官并实行轮换制；设_____分割知州的权力 | _____ | |

29. 解析宋代经济

宋代的发展具有鲜明的时代特征，对中国古代经济影响深远。

材料一

谚曰：“苏湖熟，天下足。”

——（南宋）范成大《吴郡志》

语曰：“苏常熟，天下足。”

——（南宋）陆游《渭南文集》

（1）材料一是宋代谚语，在南宋文人笔下反复出现。这些谚语的流行可以佐证我国农业重心发生了什么变化？

材料二 凡市，以日中击鼓三百响，而众以会；日入前七刻，击钲三百声，而众以散。

——《唐六典》卷二十

材料三 临安大街买卖昼夜不绝，夜交三四鼓，游人始稀，五更钟鸣，卖早市者又开店矣。

——（南宋）吴自牧《梦梁录》

（2）结合材料二、三及所学知识，对比唐宋时期城市商业活动发生了哪些重大变化？

材料四 （临江城）自大街及诸坊巷，大小铺席，连门俱是，即无虚空之屋。万物所聚。诸行百市，自和宁门杈子外自观桥下，无一家不买卖者。自融和坊北，至市南坊，谓之珠子（珠宝）市，如遇买卖，动以万数。

——（南宋）吴自牧《梦梁录》

（3）阅读材料四，概括南宋临江城商业贸易繁荣的表现。



历史试题答案



1.

【答案】D

【解析】结合所学知识可知，为了加强南北交通，巩固隋王朝对全国的统治，隋炀帝从605年开始开通了一条纵贯南北的大运河。隋炀帝创立进士科，标志着科举制的诞生。故D符合题意；秦始皇、汉武帝和隋文帝与开通大运河、创立进士科无关。故ABC不符合题意。故选D。

点睛：抓住题干的“开通大运河、创立进士科”，结合所学，隋炀帝开通纵贯南北的大运河，隋炀帝创立进士科，标志着科举制诞生，可以选择正确答案。

2.

【答案】D

【解析】为了加强南北交通，巩固隋王朝对全国的统治，隋炀帝从605年开始开通了一条纵贯南北的大运河。大运河以洛阳为中心，北达涿郡，南至余杭，全长两千余公里，是古代世界最长的运河。ABC不符合题意，故答案选择D。

3.

【答案】B

【解析】结合所学知识可知，隋炀帝贪图享乐，好大喜功，役民过度，他的暴政引发了农民起义，最终隋朝被推翻。故B符合题意；统治者贪图享乐、大兴土木工程、连年的对外征战都属于隋炀帝暴政的表现，故ACD表述不是最准确的。故ACD不符合题意，故选B。

4.

【答案】B

【解析】依据题干的摘要“吸取隋朝灭亡教训，任用贤才，虚心纳谏”和“贞观之治”结合所学知识可知，唐太宗吸取隋亡的教训，轻徭薄赋，减轻百姓的负担。唐太宗的年号贞观，他在位时政治比较清明，经济发展快速，国力逐步强盛，历史上称其统治为“贞观之治”。故B符合题意；唐高祖、武则天和“贞观之治”无关，故AC不符合题意；唐玄宗的统治称为“开元盛世”，故D不符合题意。故选B。

5.

【答案】C

【解析】结合所学知识可知，“贞观之治”和“开元盛世”都出现在唐朝，都出现在国家统一、社会安定时。故①符合题意；唐太宗和唐玄宗都重视发展生产，都重视任用贤才，促成了“贞观之治”和“开元盛世”。故②④符合题意；都在思想文化上实行高压政策的说法错误，因为唐太宗统治时期和唐玄宗统治前期政治清明。故③不符合题意。①②④符合题意，排除ABD，故选C。

6.

【答案】A

【解析】结合所学知识可知，唐朝改进的曲辕犁是耕作工具，唐朝农民发明的筒车是用于灌溉的工具。故 A 符合题意；筒车是灌溉工具，故 BC 不符合题意；曲辕犁是耕作工具，故 D 不符合题意。故选 A。

7.

【答案】B

【解析】结合所学知识可知，杜甫的诗语言精炼凝重，艺术技巧高超，被后人称为“诗圣”。故“草堂留后世，诗圣著千秋”，这副对联称颂的诗人是杜甫。故 B 符合题意；李白人称“诗仙”，故 A 不符合题意；白居易不是“诗圣”，故 C 不符合题意；苏轼是北宋著名词人，故 D 不符合题意。故选 B。

8.

【答案】C

【解析】结合所学知识可知，吴道子和阎立本是唐朝的著名画家，故①②符合题意；王羲之是东晋的书法家，故③不符合题意；颜真卿是唐朝的书法家，故④符合题意。①②④符合题意，排除 ABD，故选 C。

9.

【答案】C

【解析】结合所学知识可知，张骞出使西域发生在西汉，与唐朝无关，故 A 不符合题意；玄奘西游天竺取经，与吐蕃无关，故 B 不符合题意；文成公主入藏发生在唐太宗统治时期，促进了唐朝与吐蕃的经济文化交流。故 C 符合题意；昭君出塞发生在西汉，与唐朝无关。故 D 不符合题意。故选 C。

10.

【答案】C

【解析】结合所学知识可知，唐朝时，中国与天竺交往频繁，玄奘西游天竺著有《大唐西域记》一书，是中印文化交流史上最杰出的使者。《大唐西域记》成为研究古代中亚、印度半岛以及我国新疆地区的历史地理的重要典籍。故 C 符合题意；《徐霞客游记》与题干材料无关，故 A 不符合题意；《西游记》是长篇神话小说，不能作为研究古代中亚、印度半岛以及我国新疆地区的历史地理的首选典籍。故 B 不符合题意；《史记》是史学著作，记载了黄帝到汉武帝时期的历史，不能作为研究古代中亚、印度半岛以及我国新疆地区的历史地理的首选典籍。故 D 不符合题意。故选 C。

11.

【答案】A

【解析】观察题干的唐朝的“开元通宝”和日本的“和同开珎”，可以看出两枚古钱币都是圆形方孔钱，故①符合题意；唐朝的“开元通宝”和日本的“和同开珎”上面都有汉字，故②符合题意；日本的“和同开珎”与唐朝的货币形状相同，钱币上有汉字，说明唐文化对日本影响巨大。故③符合题意；日本曾经隶属于唐朝的说法错误，因为唐朝与日本交往密切，但不属于唐朝管辖。故④不符合题意；排除 BCD，故选 A。

12.

【答案】D

【解析】结合所学知识可知，“金榜题名”指科举得中。“三元及第”指科举时代从乡试到殿试都考中第一名。“独占鳌头”在科举时代指点状元。故成语“金榜题名”“三元及第”“独占鳌头”所反映的制度是科举制。故 D 符合题意；禅让制是尧舜禹时期更替首领位置的方法，与科举制无关。故 A 不符合题意；分封制是西周的政治制度，与题干成语无关。故 B 不符合题意；九品中正制是魏晋南北朝时期重要的选官制度，主要看门第出身，与题干成语无关。故 C 不符合题意。故选 D。

13.

【答案】B

【解析】结合所学知识可知，后晋是五代的第三个政权。五代十国是唐末藩镇割据的延续和扩大，故①说法错误，不符合题意；五代十国的开国皇帝都是掌握兵权的武将，故②说法正确，符合题意；后晋成德节度使的话反映出地方节度使拥兵自重，藩镇割据局面延续。故③说法正确，符合题意；五代的政权更替造成了北方政局动荡，故④说法正确，符合题意。②③④符合题意，排除 ACD，故选 B。

14.

【答案】D

【解析】结合所学知识可知，960年，后周大将赵匡胤在陈桥驿发动兵变，黄袍加身，坐上了皇帝，建立北宋。为了加强中央集权，赵匡胤采用“杯酒释兵权”的办法，解除了禁军将领的兵权。故 D 符合题意；刘邦、司马炎、李世民与题干的“陈桥驿站披旒冕。杯酒之间削兵权。”无关。故 ABC 不符合题意，故选 D。

点睛：紧扣题干的关键词“陈桥驿”、“杯酒”进行分析，认识陈桥兵变、杯酒释兵权都与赵匡胤有关，即可解答。

15.

【答案】C

【解析】试题分析：本题考查檀渊之盟的有关知识。结合所学知识可知，1、2、3、4 分别代表西夏、金、北宋和南宋。与辽政权订立檀渊之盟的是北宋，3 是北宋，故符合题意。ABD 不符合题意，综上所述，本题正确答案为 C。

【考点定位】人教新课标七年级下册•经济重心的南移和民族关系的发展•民族政权并立的时代

16.

【答案】C

【解析】结合所学知识可知，宋朝实行重文轻武政策。宋朝任用文官担任中央和地方的要职，甚至主持军务。宋朝文官的地位和待遇高于武将。因此，题干现象体现出宋朝实行的重文轻武政策。故 C 符合题意；重本抑末指的是重视农业，故 A 不符合题意；重武轻文对题意理解错误，故 B 不符合题意；重农抑商在题干中不能体现，故 D 不符合题意。故选 C。

17.

【答案】A

【解析】结合所学知识可知，契丹的耶律阿保机建立了契丹国，故 A 对应正确，符合题意；元昊建立的是西夏，金的建立者是阿骨打。故 B 对应错误，不符合题意；完颜阿骨打建立的是金，辽的建立者是阿保机。故 C 对应错误，

不符合题意；元昊建立的是西夏，铁木真建立的是蒙古国。故 D 对应错误，不符合题意。故选 A。

18.

【答案】C

【解析】结合所学知识可知，宋真宗统治时期，辽大举进攻北宋，宋真宗御驾亲征，大败辽军。宋辽议和，签订澶渊之盟。故“寡人”是指历史上的宋真宗。故 C 符合题意；宋太祖、宋太宗和宋徽宗与澶渊之盟无关，故 ABD 不符合题意，故选 C。

19.

【答案】B

【解析】结合所学知识可知，契丹与西夏都创制了自己的文字，但不是国力不断增强的原因。故 A 不符合题意；契丹与西夏都与汉族交往密切，学习中原文化，发展生产，使国力不断增强。故 B 符合题意；强大的武力支撑不是契丹与西夏国力不断增强的共同原因，故 C 不符合题意；汉人大量迁入，编练军队与契丹与西夏国力不断增强无关。故 D 不符合题意。故选 B。

20.

【答案】A

【解析】南宋著名的抗金将领，“精忠报国”的故事和南宋抗金英雄岳飞有关。岳飞在郾城大败金军主力，乘机收复许多失地。故 A 符合题意；岳飞以“莫须有”的罪名被秦桧杀害，故 B 说法错误，不符合题意；岳飞的军队称“岳家军”，故 C 与岳飞无关，不符合题意；宋金对峙的局面是在岳飞被害后形成，故 D 不符合题意。故选 A。
点睛：认识南宋著名的抗金将领，“精忠报国”的故事和南宋抗金英雄岳飞有关，是解题的关键。分析选项，选择与岳飞有关的史实，得出答案。

21.

【答案】D

【解析】试题分析：本题考查学生对宋金议和的认识，根据所学知识，正当抗金战场上捷报频传，金兵节节败退之时，宋高宗与宰相秦桧在 1141 年和金达成和约：宋向金称臣；划定疆界，东以淮河中流为界，西以大散关（陕西宝鸡西南）为界，以南属宋，以北属金，绍兴和议确定了宋金之间政治上的不平等关系，结束了长达 10 余年的战争状态，形成了南北对峙的局面。因此陆游诗中的大散关是南宋与辽的分界线，本题选 D。

考点：宋金和议

点评：本题难度较小，考查学生对历史知识的识记能力，该题要从两方面看，对于南宋来说，和约是不平等的，但却维持了长久的和平，有利于双方经济文化的交流和发展，再次说明了，民族关系中，和是主流，战是次流，民族间的友好合作是主题。

22.

【答案】C

【解析】结合所学知识可知，北宋灭亡后，赵构建立南宋，定都临安，就是今天的杭州。“山外青山楼外楼，西湖

歌舞几时休?暖风熏得游人醉，直把杭州作汴州。”反映出宋金对峙时期，南宋偏安江南的情景。故 C 符合题意；宋夏和议、宋辽盟约都与北宋有关，北宋的都城在开封，与题干的杭州无关。故 AB 不符合题意；宋元对抗时期不会出现题干的情景，故 D 不符合题意。故选 C。

点睛：正确解读题干的“山外青山楼外楼，西湖歌舞几时休?暖风熏得游人醉，直把杭州作汴州。”，认识这首诗写于南宋，反映的时代背景是宋金对峙局面下，南宋偏安江南的情景。

23.

【答案】B

【解析】结合所学知识可知，随着商业的繁荣，北宋前期的四川地区，出现了世界上最早的纸币——交子。故 B 符合题意；唐朝还未出现纸币，故 A 不符合题意；南宋和元朝出现在北宋之后，北宋出现了交子。故 CD 不符合题意。故选 B。

24.

【答案】D

【解析】结合所学知识可知，宋朝海外贸易发达。宋朝鼓励海外贸易，在主要港口设立市舶司，管理海外贸易。故市舶司是管理海外贸易的机构，故 D 符合题意；造船业、住宿、印刷纸币和市舶司无关，故 ABC 不符合题意。故选 D。

25.

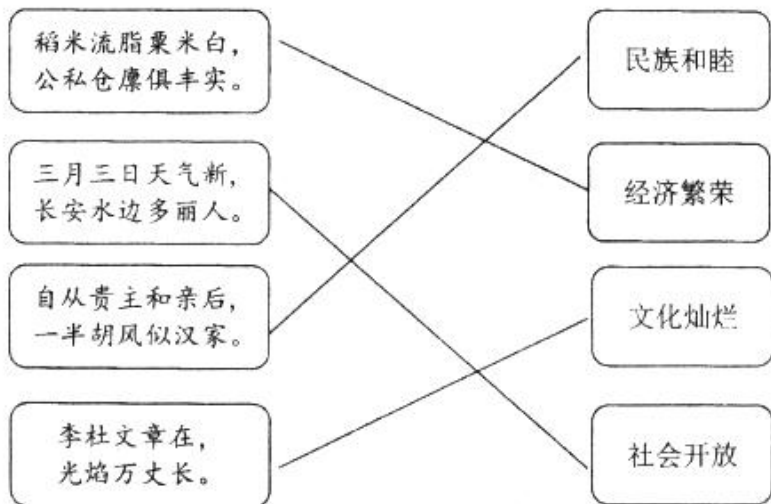
【答案】C

【解析】结合所学知识可知，魏晋南北朝时期，为经济重心南移奠定基础。从唐朝中后期开始的经济重心南移，在南宋最后完成。故 C 符合题意；中国古代经济重心南移最终完成于南宋，唐朝、北宋时，经济重心南移还未完成。故 AB 不符合题意；明朝出现在南宋之后，故 D 不符合题意。故选 C。

26.

【答案】(1) 农业：A，C； 手工业：E，F； 商业：B，D。

(2)



(3) 三彩狩猎仕女俑展现的是女子骑马狩猎的场景。唐朝女子骑马狩猎等活动比较普遍，女子社会地位有提高，

见证了唐朝的社会风气开放。

戴帷帽女子骑马俑呈现的是一位戴着帷帽骑马的女子形象。原属胡装的帷帽成为唐朝流行的帽饰，见证了唐朝的兼容并蓄。

唐蕃会盟碑展现的是唐朝和吐蕃订立的友好盟约。见证唐和吐蕃的友好交往，体现了唐朝时期民族间的交往和和睦。

【解析】(1) 结合所学知识可知，唐朝农民改进了犁的构造，制成了曲辕犁，还发明了新的灌溉工具筒车。蜀锦反映出唐朝丝织业的发达，三彩俑反映出唐朝陶瓷业的发达。唐长安城商业繁荣，是各民族交往的中心，也是一座国际性的大都会。开元通宝是唐朝的货币，反映出商业的繁荣。故答案为：农业：A，C；手工业：E，F；商业：B，D。

(2) 结合所学知识可知，杜甫的“稻米流脂粟米白，公私仓廩俱丰实”反映出唐玄宗统治前期经济繁荣的景象。“自从贵主和亲后。一半胡风似汉家”反映出文成公主入藏后，唐朝与吐蕃民族和睦的情景。“李杜文章在，光焰万丈长”反映的是唐诗的繁荣，唐朝文化的灿烂。“三月三日天气新，长安水边多丽人”反映的是唐朝社会风气开放，女子出来游玩的情景。

(3) 结合所学知识可知，材料 1 的三彩狩猎仕女俑展现的是女子骑马狩猎的场景。在唐朝，女子骑马狩猎等活动比较普遍，女子社会地位有提高，见证了唐朝的社会风气开放。材料 2 的戴帷帽女子骑马俑呈现的是一位戴着帷帽骑马的女子形象。原属胡装的帷帽成为唐朝流行的帽饰，见证了唐朝的兼容并蓄的社会风气。材料 3 的唐蕃会盟碑展现的是唐朝和吐蕃订立的友好盟约。唐蕃会盟碑见证唐和吐蕃的友好交往，体现了唐朝时期民族间的交往和和睦。

27.

【答案】(1) √；○；×；√；×；○

(2) 玄奘西行原因：唐朝佛法教义阐释众说纷纭，玄奘准备去天竺求取佛经。鉴真东渡原因：受日本僧人邀请，前往日本弘扬佛法。

(3) 玄奘是西行，引入外国文化；鉴真是东渡，向外国传播文化。

(4) 不畏艰险、坚忍不拔等。

【解析】(1) ①依据材料一的“唐朝处于我国封建经济繁荣上升阶段，对外经济文化交流也大大发展。唐朝的对外交往极大地影响了日本等周边国家。”可以得出“唐朝处于我国古代经济繁荣上升阶段，对日本社会产生了深远影响。”的结论，故划√。

②材料一的“由阿拉伯商人撰写的《中国印度见闻录》记载了唐朝出口的丝绸质量很高，唐朝海船坚固庞大，可以从事远海航行。”未涉及本题的“唐朝时期，满载丝绸等商品的驼队，将商品运送到阿拉伯等国家和地区。”故划○。

③分析材料一的“日本的吉备真备年轻时，随遣唐使来长安留学，研习儒家经典、天文历算、军事等。”可见遣唐使是日本派出的来中国学习先进文化的使者。故本题“作为唐朝派出的使者，遣唐使的主要目的是传播唐文化，促进了中日交流。”违背了材料表达的意思，故划×。

④依据材料一的“唐朝允许外商长期在中国居住，和中国人通婚，在中国任官。”可以得出“唐政府鼓励各国商人到中国贸易，允许他们长期居住”的结论，故划√。

⑤分析材料一的“唐朝处于我国封建经济繁荣上升阶段，对外经济文化交流也大大发展。”可见唐朝实行对外开放政策。故本题“唐朝奉行闭关锁国的外交政策。”违背了材料表达的意思，故划×。

⑥材料一的“唐朝时期，遣唐使有十多批。唐朝的对外交往极大地影响了日本等周边国家。”未涉及本题的“唐朝的对外交往对新罗、大食、东罗马等国家产生了较大影响。”故划○。

(2) 分析材料二的“发现各宗派对经论的考察存在或显或隐的不同之处，众说纷纭，不知道该信哪一个。所以发誓去西方寻求佛法以解疑惑。”可以概括出玄奘西行原因：唐朝佛法教义阐释众说纷纭，玄奘准备去天竺求取佛经。分析材料三的“佛法东流至日本国，虽有其法，而无传法人。……愿和上东游兴化。”可以概括出鉴真东渡原因：受日本僧人邀请，前往日本弘扬佛法。

(3) 依据材料二和材料三，分析材料四的“玄奘西行与鉴真东渡图”可以看出玄奘西行与鉴真东渡的不同点是：玄奘是西行，是引入外国文化；鉴真是东渡，是向外国传播文化。

(4) 结合所学知识可知，玄奘与鉴真都为完成自己的使命出生入死，不畏艰险，都具有坚忍不拔的毅力，这些都值得我们学习。

28.

【答案】(1) 唐玄宗；安史之乱。

(2)

| | |
|------|---------------|
| 治国方略 | 积极影响 |
| | 防范将领拥兵，兵权集于君主 |
| 转运使 | |
| 通判 | 防范地方割据，加强中央集权 |

【解析】(1) 结合所学知识可知，唐玄宗统治后期，爆发了安史之乱。安史之乱使唐朝国势由盛转衰，中央权力衰微，安史旧将和内地节度使的权势加大，逐渐形成藩镇割据的局面。因此，材料中所说的“藩镇之弊”始于唐朝唐玄宗，当时爆发的典型事件是安史之乱。

(2) 结合所学知识可知，为了防止武将专权，加强中央集权。宋太祖首先收回兵权，经常调换军队将领，定期换防，后来形成文臣统兵的格局。这些措施可以防范将领拥兵，兵权集于君主一人手中。为了加强对地方的控制，宋朝设转运使，将地方财赋收归中央，增加了中央财政收入。宋朝分派文官担任地方长官并实行轮换制，还设通判分知州的权力。这些措施可以防范地方割据，加强了中央集权。故答案为：

| | |
|------|---------------|
| 治国方略 | 积极影响 |
| | 防范将领拥兵，兵权集于君主 |
| 转运使 | |

点睛：解答第一问的关键是认识“藩镇之弊”指的是藩镇割据，结合安史之乱的影响回答即可。解答第二问需要熟记宋朝加强中央集权的措施和影响。

29.

【答案】(1) 农业重心南移

(2) 相比唐代，宋代经商的空间和时间不受限制。

(3) 街道住宅店铺林立；商业门类众多；(珠宝) 贸易量很大。(答出两点即可)

【解析】(1) 材料一的“苏湖熟，天下足。”表明长江流域和太湖流域成为重要的粮仓。因此，“苏湖熟，天下足。”等这些谚语的流行可以佐证我国农业重心发生了的变化是：农业重心南移。

(2) 分析材料二的“凡市，以日中击鼓三百响，而众以会；日入前七刻，击钲三百声，而众以散。”和材料三的“临安大街买卖昼夜不绝，夜交三四鼓，游人始稀，五更钟鸣，卖早市者又开店矣。”可以看出唐朝的商业活动受时间的限制，宋代商业活动不再受时间和空间的限制。因此，唐宋时期城市商业活动发生的重大变化是：相比唐代，宋代经商的空间和时间不受限制。

(3) 分析材料四的“自大街及诸坊巷，大小铺席，连门俱是，即无虚空之屋。万物所聚。诸行百市，自和宁门杈子外自观桥下，无一家不买卖者。如遇买卖，动以万数。”可以概括出南宋临安城商业贸易繁荣的表现有：街道住宅店铺林立；商业门类众多；(珠宝) 贸易量很大。

点睛：解答本题的关键是分析概括材料。理解材料一的“苏湖熟，天下足。”的含义，说明农业重心南移已经完成。材料二的“市”指的是唐朝商业活动，材料三的“买卖、市”指的是宋朝的商业活动。材料四的“自大街及诸坊巷，大小铺席，连门俱是，即无虚空之屋。”说明南宋临安城街道住宅店铺林立；材料四的“万物所聚。诸行百市，自和宁门杈子外自观桥下，无一家不买卖者。”说明南宋临安城商业门类众多；材料四的“如遇买卖，动以万数。”说明南宋临安城贸易量很大。

