

初一历史试卷 2019.11



考试时间 60 分钟 满分 100 分 班级 _____ 姓名 _____

第一卷 (共 50 分)

请将每题正确选项的字母填涂在答题卡上 (共 25 题, 每题 2 分)

1. 若以“我国境内著名的原始人类”为题开展研究性学习, 主要的证据来源应该是
- A. 神话传说 B. 史书记载 C. 学者推断 D. 考古发掘
2. 考古学家在一处洞穴发现了以下遗存。这些遗存反映了



打制的砍砸器



被烤过的兽骨



被烧裂的石头

- A. 北京人的生活
C. 半坡居民的生活

- B. 河姆渡居民的生活
D. 炎帝和黄帝的传说

3. 考古学家说: 河姆渡遗址的发现使人耳目一新, 过去谁会想到远在距今 7000~5000 年前, 长江下游会存在着如此灿烂的文化。下列能够证明此观点的是



①半地穴式房屋复原图



②稻谷化石



③干栏式房屋复原图



④骨耜

- A. ①②③

- B. ②③④

- C. ①②④

- D. ①③④

4. 被尊奉为中华民族人文初祖的是

A. 黄帝和炎帝

B. 炎帝和女娲

C. 黄帝和蚩尤

D. 尧和舜

5. 史实是被考古资料证实已经发生的历史。下列属于史实的是

A. 盘古开天

B. 后羿射日

C. 大禹治水

D. 商王迁都

6. 据记载, 我国最早建立军队、制定刑法、设置监狱是在夏朝, 这标志



- A. 夏朝战争频繁
- B. 夏朝违法事件频繁
- C. 夏朝实行暴政
- D. 中国出现了早期国家

7. 古代中国的“天子”将土地分给亲属或功臣，所封之地称为“诸侯国”、“封国”或“藩国”等。这种政治制度是

- A. 禅让制
- B. 分封制
- C. 郡县制
- D. 世袭制

8. “封建亲戚，以藩屏周。”材料说明西周时期实行分封制的主要目的是

- A. 分割诸侯的势力
- B. 保证国家的兵源
- C. 巩固周王的统治
- D. 保证国家财政收入

9. 要系统地了解商朝人留下的文字记录，应选的史料是



A. 殷墟甲骨



B. 四羊方尊

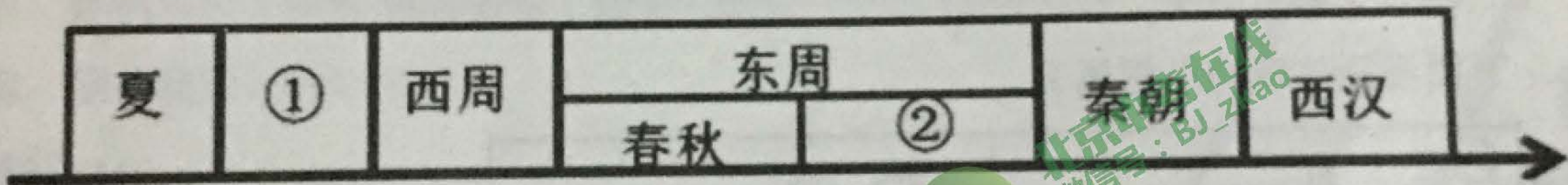


C. 妇好鸛尊



D. 后母戊鼎

10. 下图是某同学绘制的中国历史朝代(时期)更替的示意图(局部)，其中①②处分别是



- A. 商朝、战国
- B. 东汉、三国
- C. 西晋、东汉
- D. 隋朝、唐朝

11. 退避三舍、卧薪尝胆、纸上谈兵等历史典故出自

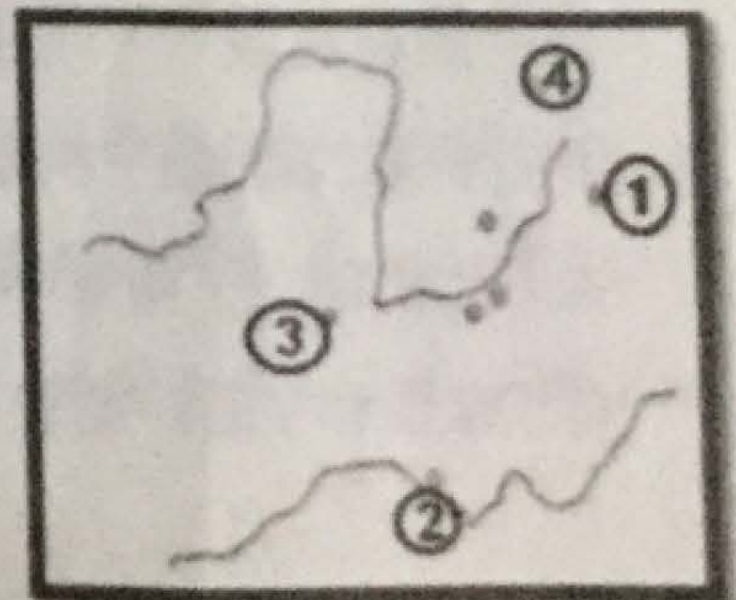
- A. 夏商时期
- B. 西周时期
- C. 春秋战国时期
- D. 秦汉时期

12. 战国时期诸侯纷争，大规模的兼并战争时有发生，其中使赵国再也无力抵抗秦国的重要战役是

- A. 牧野之战
- B. 桂陵之战
- C. 马陵之战
- D. 长平之战

13. 读右图，①②③④是战国七雄中的4个诸侯国，按顺序它们分别是

- A. 秦国、燕国、齐国、楚国
- B. 齐国、秦国、燕国、楚国
- C. 秦国、楚国、韩国、赵国
- D. 齐国、楚国、秦国、燕国





14. 七年级1班同学在学习“商鞅变法”时，排练历史剧。

- 下面是四位同学的部分台词，其中不符合史实的一项是
- A. 甲说：“我要努力开垦荒地，因为国家承认土地属于私有，还可以自由买卖。”
 - B. 己说：“我家要努力生产粮食和布帛，这样我就可以免除徭役。”
 - C. 丙说：“我出身贵族，不需上战场，因为爵位保持世袭。”
 - D. 丁说：“我要上战场勇猛杀敌，有了军功我就可以被授予爵位和田宅。”

15. 以下商鞅变法前后的战国形势图直接反映出变法对秦国的影响是



战国前期



公元前 260 年战国形势

- A. 扩大了疆域范围
- B. 开垦了大量荒地
- C. 推行了郡县制度
- D. 废除了贵族特权

16. 下图漫画体现的思想属于



- A. 儒家学派
- B. 道家学派
- C. 墨家学派
- D. 法家学派

17. 史料记载 孔子朝罢归来 家人报告“马厩失火”，孔子听后问“伤人乎？”，这则故事体现出孔子倡导

- A. “因材施教”
- B. “仁”
- C. “兼爱、非攻”
- D. “无为而治”

18. 历史学家钱穆说：中国“学术思想最灿烂的时期是秦以前”。这是指秦以前

- A. 孔子创立了儒家学派
- B. 出现“百家争鸣”局面
- C. 铁器和牛耕广泛使用
- D. 各诸侯国纷纷变法



19. 以下主张体现春秋战国时期儒家思想的是

A. 仁者爱人，民贵君轻

B. 祸兮福之所倚，福兮祸之所伏

C. 兼爱非攻，节用尚俭

D. 法不阿贵，以法治国

20. 以下是石征同学整理的关于“百家争鸣”的笔记，其中错误的一项是

A. 时间

A. 时间：战国时期

B. 主要学派

B. 主要学派：儒家、墨家、道家、法家等

C. 内容

C. 内容：各学派纷纷宣传自己的政治思想和学术主张

D. 影响

D. 影响：由于各学派互相辩驳，不利于思想学术的发展

21. 修筑于战国时期，使成都平原“水旱从人，不知饥馑”的水利工程是

A. 灵渠

B. 都江堰

C. 长城

D. 大运河

22. “秦王扫六合，虎视何雄哉！挥剑决浮云，诸侯尽西来”诗中赞颂秦王的历史功绩是

A. 开发灵渠

B. 统一文字

C. 秦灭六国

D. 变法图强

23. 中国银行行徽的外观设计灵感来源于我国古代的一种钱币。这种形状的钱币最早在全国统一使用是在

A. 周朝

B. 西晋

C. 西汉

D. 秦朝



中国银行

24. 右图是秦朝疆域图。观察地图，从中获得的信息正确的是

①秦朝完成了国家统一

②秦朝的疆域东到陇西

③秦朝在地方推行郡县制

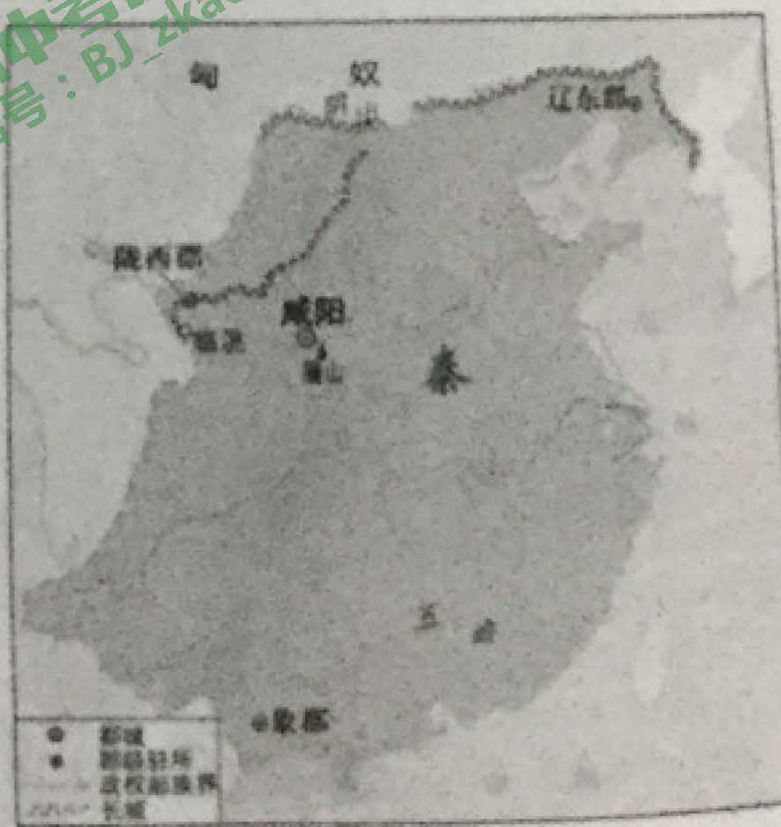
④秦朝修建了万里长城

A. ①②③

B. ①②④

C. ①③④

D. ②③④



25. 右图纪念币上的文字为“陈胜、吴广”、“公元前3世纪”，几位同学对这枚纪念币进行了讨论，其中说法错误的是

A. 纪念秦末农民大起义

B. 起义源于秦的暴政

C. 陈胜、吴广起义推翻了秦朝统治

D. 成语“揭竿而起”出自这次起义





第二卷（共 50 分）

请将所有答案写在答题卡上!!!

26. 中国青铜器代表着中国 4000 多年青铜发展的高超技术与文化。阅读材料，回答问题。

（18 分）

材料一

盘庚迁殷后，商朝农业经济显著进步，对农具需求增强，出下了各种青铜农具。商代君主好田猎武功，促进了青铜兵器的发展。商人崇尚祭祀，需要精致祭器。各种青铜礼器（古代贵族在举行祭祀、宴会、征伐及丧葬等礼仪活动中使用的器物）和生活用具大盛。中华大地盛开以商为中心的青铜文明之花。

（1）依据材料，商朝青铜器可分为哪几类？（4 分）

材料二：司母戊鼎

司母戊鼎，因鼎腹内壁上铸有“司母戊”三字得名，是商王为祭祀其母戊所制，是商周时期青铜文化的代表作，现藏于中国国家博物馆。

司母戊鼎是用陶范法铸造而成的，铸造工艺十分复杂。根据铸痕观察，鼎身与四足为整体铸造。鼎身共使用 8 块陶范，每个鼎足各使用 3 块陶范，器底及器内各使用 4 块陶范。鼎耳则是在鼎身铸成之后再装范浇铸而成。铸造此鼎，所需金属原料超过 1000 千克，同时必须配备大型熔炉，大约二三百名工匠的密切配合下完成，制作规模庞大。

司母戊鼎纹饰美观庄重，工艺精巧。鼎身四周铸有精巧的盘龙纹和饕餮纹，增加了文物本身的威武凝重之感。耳廓纹饰俗称虎咬人头纹，耳的上面还有两尾鱼形。足上铸的蝉纹，图案表现蝉体，线条清晰。

司母戊鼎重 832.84 公斤，高 133 厘米，口长 110 厘米，宽 78 厘米，是迄今世界上出土最大、最重的青铜礼器，享有“镇国之宝”的美誉。





(2) 依据材料二，完成下表。(8分)

司母戊鼎的铸造工艺特点(概括)	依据(摘抄原文)
特点1	
特点2	

材料三：大孟鼎铭文

右图大孟鼎，1849年出土于陕西郿县礼村，现藏于中国国家博物馆。器内壁铸铭文19行291字，记述了周康王二十三年九月册命贵族孟之事。



部分铭文：王说：“孟，你要辅助我主管军队，勤勉而及时地处理赏罚狱讼案件，从早到晚都应辅佐我治理四方，协助我遵行先王的制度治民治疆土。”

(3) 依据材料三，大孟鼎铭文反映了西周贵族与周天子之间怎样的关系？(4分)


(4) 材料三反映了青铜铭文具有什么功能？(2分)

27. 春秋战国时期是社会发展的大变革时期。阅读以下图文内容，回答问题。(共18分)

材料一：

河南辉县魏国墓出土铁器160多件，其中铁农具58件。

河北兴隆燕国冶铁遗址出土制作铁农具的铁范51件，其中双镰铁范做工精良，一次可以浇铸两把镰刀。



战国时代的铁制农具

(1) 阅读材料一，你能获取战国时期农业方面的哪些历史信息？(至少两条4分)

材料二：

当前考古学界认为，中国开始使用铁的时间不会晚于公元前6世纪，或者甚至不会晚于公元前7世纪。从战国时代的墓葬中发掘出来的兵器、农具和器皿都是铁制的，许多学者认为这几个世纪农业产量已经增加，正在发展的冶铁技术很可能是一个因素。其他因素大概是，日益扩大地采用了灌溉和排水的技术和肥料，特别是耕种大片新的土地。



(2) 阅读材料二，说出春秋战国时期农业经济发展的具体表现。(至少两条 4分)

材料三：

春秋时期，孔子有个学生姓司马名耕，字子牛；另一个学生叫冉耕，字伯牛。晋国有个大力士名叫牛子耕。

(3) 春秋时期，人名字的特点和牛鼻子套铁环，说明了什么 (2分)



春秋牺尊 (鼻子上套铁环)

(4) 综合以上材料和所学知识，说出春秋战国时期农业经济发展的原因。(至少两条 4分)

材料四：

春秋时期，周天子的权威一落千丈。一些较大的诸侯国，为了争夺土地、人口、不断进行争霸战争。

(5) 依据材料四并结合所学，概括春秋时期的社会特点。(至少两点 4分)

28. 秦朝是中国历史上第一个统一的封建王朝，它对后世历史的发展具有重要的意义。阅读材料回答问题。(14分)

材料一：

卫鞅，又称公孙鞅，后封于商，后人称之为商鞅。应秦孝公求贤令入秦，说服秦孝公变法图强。变法措施有：①废除井田制，允许土地自由买卖；②鼓励耕织，生产粮食、布帛多的人可免除徭役；③确立县制，由国君直接派官吏治理；④奖励军功，对有军功者授予爵位并赏赐土地。……孝公死后，被贵族诬害，车裂而死。商鞅执政十九年，秦国大治，史称商鞅变法。

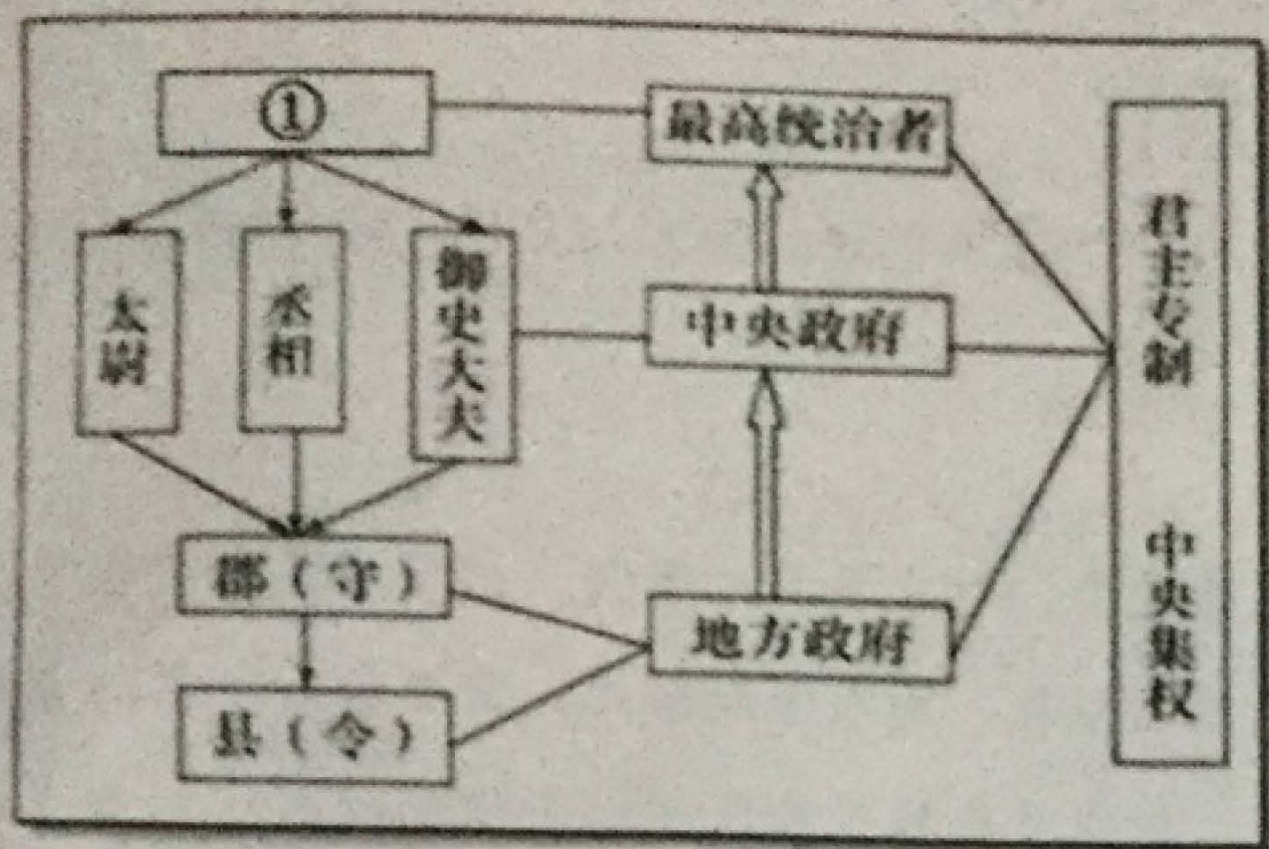
(1) 从材料一商鞅变法的措施中找出能证明以下观点的内容(写序号，多选、错选不得分)

商鞅变法使中央权力加强：_____ (1分)

商鞅变法促进秦国经济的发展：_____ (2分)

商鞅变法使秦国的战斗力提高：_____ (1分)

材料二：秦朝行政机构示意图



2) 上图①处空缺的内容是什么？图中看出秦朝在地方推行哪种制度？（4分）

材料三：

战国时有个秦国人在国内做了一条长裙，她去齐国旅游时又叫齐国的裁缝做同样尺寸的裙子，取货时发现竟然是超短裙！付款时裁缝又拒收她的圆形货币而要她付刀币。

(3) 秦统一后采取什么措施来解决材料中出现的问题？（2分）

材料四：

公元前221年秦始皇下令“书同文”，“罢其不与秦文合者”，使“小篆”作为标准文字通行于天下，后来又整理出更为简明易行的“隶书”作为日用文字在全国范围推广。先秦古字经过这次整理之后，字样结构得以定型，这对贯彻法令、传播文化起了重大作用。秦汉以后，中国版图大致确定，后来历史上又多次出现分裂割据的局面，但是最终没有分裂，其根本原因在于中华民族有共同的文化。而文字的统一，成为维系中华民族历史发展进步的一条生动鲜明的脉络。

——摘编自《汉字对中国统一的重要意义》

4) 依据材料四，说出秦朝统一文字的影响。（至少两条 4分）